

ST-2061 RRB CLERK (MAINS) 2020

Passage for Question 1, 2, 3, 4, 5 (ST-2061RRBCLERKMAINS(1-5R)2020-NP)

eng/eng Passage

Study the information and answer the following questions.

In a certain code language

“logic strong method exclude” is coded as '14XN 19TG 4WM 23VU'

“skill need and solve” is coded as "10OG 4WL 13WY 14VG"

“select system high desk” is coded as "4GG 24NG 8SR 4PV"

निम्नलिखित जानकारी का अध्ययन करें और दिये गये प्रश्नों का उत्तर दें।

एक निश्चित कोड भाषा में

“logic strong method exclude” को '14XN 19TG 4WM 23VU' के रूप में कोडित है।

“skill need and solve” को "10OG 4WL 13WY 14VG" के रूप में कोडित है।

“select system high desk” को "4GG 24NG 8SR 4PV" के रूप में कोडित है।

eng hin Passage

Study the information and answer the following questions.

In a certain code language

“logic strong method exclude” is coded as '14XN 19TG 4WM 23VU'

“skill need and solve” is coded as "10OG 4WL 13WY 14VG"

“select system high desk” is coded as "4GG 24NG 8SR 4PV"

निम्नलिखित जानकारी का अध्ययन करें और दिये गये प्रश्नों का उत्तर दें।

एक निश्चित कोड भाषा में

“logic strong method exclude” को '14XN 19TG 4WM 23VU' के रूप में कोडित है।

“skill need and solve” को "10OG 4WL 13WY 14VG" के रूप में कोडित है।

“select system high desk” को "4GG 24NG 8SR 4PV" के रूप में कोडित है।

Q-1 What is the code for 'result' in the given code language?

eng/eng दिए गए कोड भाषा में 'result' के लिए कोड क्या है?

- | | |
|-------------------|---------|
| 01. 14GH | 02. 4GI |
| 03. 4MH | 04. 4GH |
| 05. None of these | |
| इनमें से कोई नहीं | |

Q-1 What is the code for 'result' in the given code language?

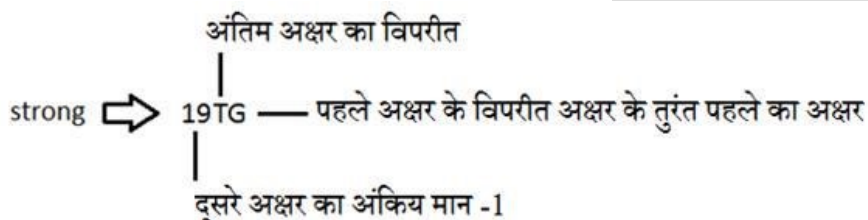
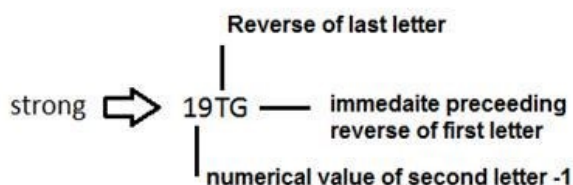
eng hin दिए गए कोड भाषा में 'result' के लिए कोड क्या है?

- | | |
|-------------------|---------|
| 01. 14GH | 02. 4GI |
| 03. 4MH | 04. 4GH |
| 05. None of these | |
| इनमें से कोई नहीं | |

Solution for Question 1

Ans Key: 4

eng/eng



eng hin

Reverse of last letter

Reverse of last letter
 strong → 19TG — immedaite preceeding reverse of first letter
 |
 numerical value of second letter -1

अंतिम अक्षर का विपरीत
 strong → 19TG — पहले अक्षर के विपरीत अक्षर के तुरंत पहले का अक्षर
 |
 दूसरे अक्षर का अंकिय मान -1

Q-2 What is the code for 'bottle' in the given code language?
 दिए गए कोड भाषा में 'bottle' के लिए कोड क्या है?

eng/eng

- | | |
|--|----------|
| 01. 14VV | 02. 4VX |
| 03. 14VX | 04. 14VA |
| 05. None of these
इनमें से कोई नहीं | |

Q-2 What is the code for 'bottle' in the given code language?
 दिए गए कोड भाषा में 'bottle' के लिए कोड क्या है?

eng/hin

- | | |
|--|----------|
| 01. 14VV | 02. 4VX |
| 03. 14VX | 04. 14VA |
| 05. None of these
इनमें से कोई नहीं | |

Solution for Question 2

Ans Key: 3

eng/eng

Reverse of last letter
 strong → 19TG — immedaite preceeding reverse of first letter
 |
 numerical value of second letter -1

अंतिम अक्षर का विपरीत
 strong → 19TG — पहले अक्षर के विपरीत अक्षर के तुरंत पहले का अक्षर
 |
 दूसरे अक्षर का अंकिय मान -1

eng/hin

Reverse of last letter
 strong → 19TG — immedaite preceeding reverse of first letter
 |
 numerical value of second letter -1

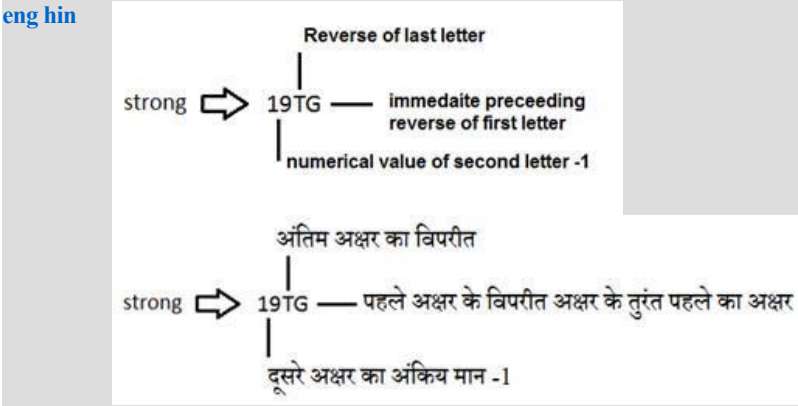
अंतिम अक्षर का विपरीत
 strong → 19TG — पहले अक्षर के विपरीत अक्षर के तुरंत पहले का अक्षर
 |
 दूसरे अक्षर का अंकिय मान -1

Q-3 What is the code for 'computer' in the given code language?
 दिए गए कोड भाषा में 'computer' के लिए कोड क्या है?

eng/eng

- | | |
|----------|----------|
| 01. 14IW | 02. 4IW |
| 03. 1IW | 04. 14IV |

eng hin



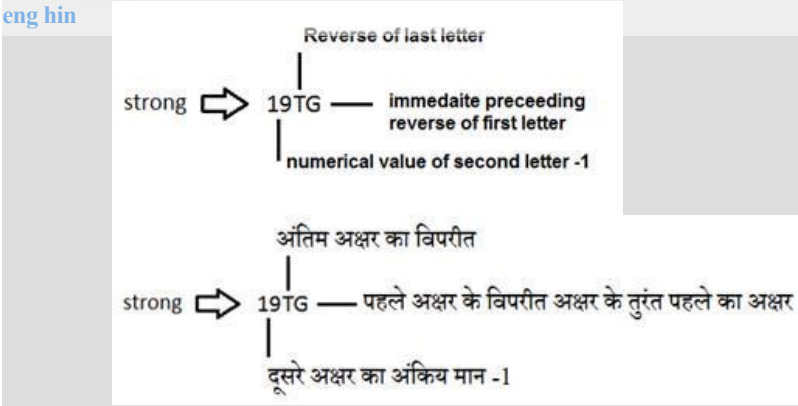
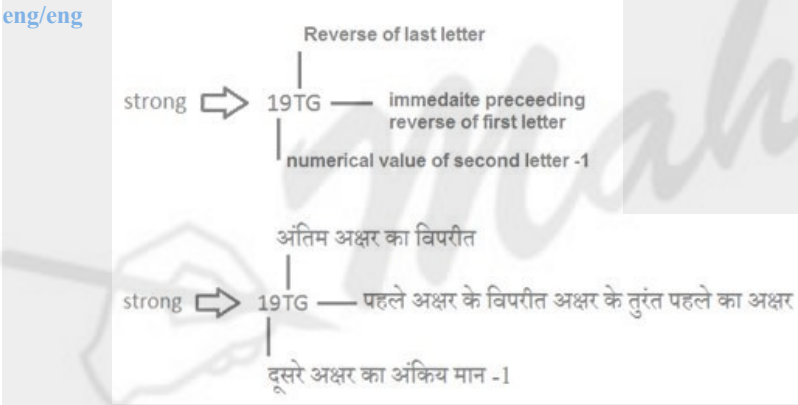
Q-5 What is the code for 'Examination' in the given code language?
eng/eng दिए गए कोड भाषा में 'Examination' के लिए कोड क्या है?

01. 2MU
02. 3MU
03. 23NU
04. 23MU
05. None of these
इनमें से कोई नहीं

Q-5 What is the code for 'Examination' in the given code language?
eng/hin दिए गए कोड भाषा में 'Examination' के लिए कोड क्या है?

01. 2MU
02. 3MU
03. 23NU
04. 23MU
05. None of these
इनमें से कोई नहीं

Solution for Question 5 Ans Key: 4



Passage for Question 6, 7, 8, 9, 10 (ST-2061RRBCLERKMAINS(6-10R)2020-NP)
eng/eng Passage

Study the following information carefully and answer the questions.
Six General Manager i.e. A, B, C, D, F and G belongs to six different nationalized Banks i.e. Indian Bank, Union Bank of India, Bank of India, Allahabad Bank, UCO bank and Dena Bank were going to attend a seminar on Basel III norms in Switzerland. They all stays in different hotels i.e. U, V, Z, W, X and Y. Each of them is a specialist in different fields Civil, Chemical, Electrical, Electronics, Computer Science and Mechanical.
G stays in U and he is from Union Bank of India but he is neither Chemical nor Electrical specialist. A is from Indian Bank and has her specialization in Civil. The one who stays in W has his specialization in Electronics and he is not the manager of Dena bank or Allahabad bank. D is the Manager of Bank of India and has her specialization in Electrical. The one who has his specialization in Mechanical stays in Y. Neither B nor F stays in Y Hotel. F does not stays in W or X and he is not

the manager of Allahabad Bank nor the UCO Bank. The one who has her specialization in Civil Engineering stays in V.

निम्नलिखित सूचना का ध्यानपूर्वक अध्ययन कीजिए और नीचे दिए गए प्रश्नों के उत्तर दीजिए।

छः महाप्रबंधक अर्थात् A, B, C, D, F और G छः अलग-अलग राष्ट्रीयकृत बैंक अर्थात् इंडियन बैंक, यूनियन बैंक ऑफ़ इंडिया, बैंक ऑफ़ इंडिया, इलाहाबाद बैंक, यूको बैंक और देना बैंक से सम्बंधित हैं, वे सभी स्विट्ज़रलैंड में बेसल III नोर्म्स पर आयोजित एक सेमिनार में भाग लेने जा रहे हैं। वे सभी अलग-अलग होटल ; अर्थात् U, V, Z, W, X और Y में ठहरते हैं। उनमें से प्रत्येक भिन्न क्षेत्र; सिविल, केमिकल, इलेक्ट्रिकल, इलेक्ट्रॉनिक्स, कंप्यूटर साइंस और मैकेनिकल में विशेषज्ञ है। G, U में ठहरता है और वह यूनियन बैंक ऑफ़ इंडिया से है परन्तु वह न तो केमिकल और न ही इलेक्ट्रिकल विशेषज्ञ है। A इंडियन बैंक से सम्बंधित है और वह सिविल में विशेषज्ञ महिला है। W में ठहरने वाला व्यक्ति इलेक्ट्रॉनिक्स में विशेषज्ञ है और वह देना बैंक या इलाहाबाद बैंक का प्रबंधक नहीं है। D बैंक ऑफ़ इंडिया की प्रबंधक है और वह इलेक्ट्रिकल में विशेषज्ञ है। वह व्यक्ति जो मैकेनिकल में विशेषज्ञ है, Y में ठहरता है। न तो B और न ही F Y होटल में ठहरता है। F, W या X में नहीं ठहरता है और वह न तो इलाहाबाद बैंक न ही यूको बैंक का प्रबंधक है। वह व्यक्ति जो सिविल इंजीनियरिंग में विशेषज्ञ है, V में ठहरती है।

eng hin Passage

Study the following information carefully and answer the questions.

Six General Manager i.e. A, B, C, D, F and G belongs to six different nationalized Banks i.e. Indian Bank, Union Bank of India, Bank of India, Allahabad Bank, UCO bank and Dena Bank were going to attend a seminar on Basel III norms in Switzerland. They all stays in different hotels i.e. U, V, Z, W, X and Y. Each of them is a specialist in different fields Civil, Chemical, Electrical, Electronics, Computer Science and Mechanical. G stays in U and he is from Union Bank of India but he is neither Chemical nor Electrical specialist. A is from Indian Bank and has her specialization in Civil. The one who stays in W has his specialization in Electronics and he is not the manager of Dena bank or Allahabad bank. D is the Manager of Bank of India and has her specialization in Electrical. The one who has his specialization in Mechanical stays in Y. Neither B nor F stays in Y Hotel. F does not stays in W or X and he is not the manager of Allahabad Bank nor the UCO Bank. The one who has her specialization in Civil Engineering stays in V.

निम्नलिखित सूचना का ध्यानपूर्वक अध्ययन कीजिए और नीचे दिए गए प्रश्नों के उत्तर दीजिए।

छः महाप्रबंधक अर्थात् A, B, C, D, F और G छः अलग-अलग राष्ट्रीयकृत बैंक अर्थात् इंडियन बैंक, यूनियन बैंक ऑफ़ इंडिया, बैंक ऑफ़ इंडिया, इलाहाबाद बैंक, यूको बैंक और देना बैंक से सम्बंधित हैं, वे सभी स्विट्ज़रलैंड में बेसल III नोर्म्स पर आयोजित एक सेमिनार में भाग लेने जा रहे हैं। वे सभी अलग-अलग होटल ; अर्थात् U, V, Z, W, X और Y में ठहरते हैं। उनमें से प्रत्येक भिन्न क्षेत्र; सिविल, केमिकल, इलेक्ट्रिकल, इलेक्ट्रॉनिक्स, कंप्यूटर साइंस और मैकेनिकल में विशेषज्ञ है। G, U में ठहरता है और वह यूनियन बैंक ऑफ़ इंडिया से है परन्तु वह न तो केमिकल और न ही इलेक्ट्रिकल विशेषज्ञ है। A इंडियन बैंक से सम्बंधित है और वह सिविल में विशेषज्ञ महिला है। W में ठहरने वाला व्यक्ति इलेक्ट्रॉनिक्स में विशेषज्ञ है और वह देना बैंक या इलाहाबाद बैंक का प्रबंधक नहीं है। D बैंक ऑफ़ इंडिया की प्रबंधक है और वह इलेक्ट्रिकल में विशेषज्ञ है। वह व्यक्ति जो मैकेनिकल में विशेषज्ञ है, Y में ठहरता है। न तो B और न ही F Y होटल में ठहरता है। F, W या X में नहीं ठहरता है और वह न तो इलाहाबाद बैंक न ही यूको बैंक का प्रबंधक है। वह व्यक्ति जो सिविल इंजीनियरिंग में विशेषज्ञ है, V में ठहरती है।

Q-6 Who among the following has his/her specialization in Computer Science?

eng/eng निम्नलिखित में से कौन कंप्यूटर साइंस में विशेषज्ञ है?

- | | |
|-------|-------|
| 01. A | 02. D |
| 03. B | 04. C |
| 05. G | |

Q-6 Who among the following has his/her specialization in Computer Science?

eng hin निम्नलिखित में से कौन कंप्यूटर साइंस में विशेषज्ञ है?

- | | |
|-------|-------|
| 01. A | 02. D |
| 03. B | 04. C |
| 05. G | |

Solution for Question 6

Ans Key: 5

eng/eng	Manager	Specialization	Hotel	Bank
	G+	Computer Science	U	UBI
	A-	Civil	V	INDIAN BANK
	B+	Electronic	W	UCO BANK
	D-	Electrical	X	BOI
	C+	Mechanical	Y	ALLAHABAD BANK
	F+	Chemical	Z	DENA BANK
	प्रबंधक	विशेषज्ञता	होटल	बैंक
	G+	कंप्यूटर साइंस	U	यूनियन बैंक ऑफ़
	A-	सिविल	V	इंडियन बैंक
	B+	इलेक्ट्रॉनिक्स	W	यूको बैंक इंडिया
	D-	इलेक्ट्रिकल	X	बैंक ऑफ़ इंडिया
	C+	मैकेनिकल	Y	इलाहाबाद बैंक
	F+	केमिकल	Z	देना बैंक

eng hin	Manager	Specialization	Hotel	Bank
	G+	Computer Science	U	UBI

A-	Civil	V	INDIAN BANK
B+	Electronic	W	UCO BANK
D-	Electrical	X	BOI
C+	Mechanical	Y	ALLAHABAD BANK
F+	Chemical	Z	DENA BANK

Q-7 Who among the following stays in Hotel Z?
eng/eng निम्नलिखित में से कौन Z होटल में ठहरता है?

01. A
03. F
05. None of these
इनमें से कोई नहीं

Q-7 Who among the following stays in Hotel Z?
eng hin निम्नलिखित में से कौन Z होटल में ठहरता है?

01. A
03. F
05. None of these
इनमें से कोई नहीं

Solution for Question 7

Manager	Specialization	Hotel	Bank
G+	Computer Science	U	UBI
A-	Civil	V	INDIAN BANK
B+	Electronic	W	UCO BANK
D-	Electrical	X	BOI
C+	Mechanical	Y	ALLAHABAD BANK
F+	Chemical	Z	DENA BANK

प्रबंधक	विशेषज्ञता	होटल	बैंक
G+	कंप्यूटर साइंस	U	यूनियन बैंक ऑफ़
A-	सिबिल	V	इंडियन बैंक
B+	इलेक्ट्रॉनिक्स	W	यूको बैंक इंडिया
D-	इलेक्ट्रिकल	X	बैंक ऑफ़ इंडिया
C+	मेकेनिकल	Y	इलाहाबाद बैंक
F+	केमिकल	Z	देना बैंक

Manager	Specialization	Hotel	Bank
G+	Computer Science	U	UBI
A-	Civil	V	INDIAN BANK
B+	Electronic	W	UCO BANK
D-	Electrical	X	BOI
C+	Mechanical	Y	ALLAHABAD BANK
F+	Chemical	Z	DENA BANK

प्रबंधक	विशेषज्ञता	होटल	बैंक
G+	कंप्यूटर साईंस	U	यूनियन बैंक ऑफ़
A-	सिबिल	V	इंडियन बैंक
B+	इलेक्ट्रॉनिक्स	W	यूको बैंक इंडिया
D-	इलेक्ट्रिकल	X	बैंक ऑफ़ इंडिया
C+	मेकेनिकल	Y	इलाहाबाद बैंक
F+	केमिकल	Z	देना बैंक

Q-8 Which of the following combination of Hotel- specialization-Bank is correctly matched?
eng/eng निम्नलिखित संयोजनों में से होटल-विशेषज्ञ-बैंक का कौन-सा संयोजन सही सुमेलित है?

01. Y-Chemical-Dena Bank
Y-केमिकल-देना बैंक
02. U-Union Bank of India- Civil
U-यूनियन बैंक ऑफ़ इंडिया-सिविल
03. X-Bank of India-Mechanical
X-बैंक ऑफ़ इंडिया-मैकेनिकल
04. Z- Chemical-Allahabad Bank
Z-केमिकल-इलाहाबाद बैंक
05. W-Electronics-UCO Bank
W-इलेक्ट्रॉनिक्स-यूको बैंक

Q-8 Which of the following combination of Hotel- specialization-Bank is correctly matched?
eng hin निम्नलिखित संयोजनों में से होटल-विशेषज्ञ-बैंक का कौन-सा संयोजन सही सुमेलित है?

01. Y-Chemical-Dena Bank
Y-केमिकल-देना बैंक
02. U-Union Bank of India- Civil
U-यूनियन बैंक ऑफ़ इंडिया-सिविल
03. X-Bank of India-Mechanical
X-बैंक ऑफ़ इंडिया-मैकेनिकल
04. Z- Chemical-Allahabad Bank
Z-केमिकल-इलाहाबाद बैंक
05. W-Electronics-UCO Bank
W-इलेक्ट्रॉनिक्स-यूको बैंक

Solution for Question 8 Ans Key: 5

eng/eng	Manager	Specialization	Hotel	Bank
	G+	Computer Science	U	UBI
	A-	Civil	V	INDIAN BANK
	B+	Electronic	W	UCO BANK
	D-	Electrical	X	BOI
	C+	Mechanical	Y	ALLAHABAD BANK
	F+	Chemical	Z	DENA BANK
	प्रबंधक	विशेषज्ञता	होटल	बैंक
	G+	कंप्यूटर साइंस	U	यूनियन बैंक ऑफ़
	A-	सिविल	V	इंडियन बैंक
	B+	इलेक्ट्रॉनिक्स	W	यूको बैंक इंडिया
	D-	इलेक्ट्रिकल	X	बैंक ऑफ़ इंडिया
	C+	मैकेनिकल	Y	इलाहाबाद बैंक
	F+	केमिकल	Z	देना बैंक

eng hin	Manager	Specialization	Hotel	Bank
	G+	Computer Science	U	UBI
	A-	Civil	V	INDIAN BANK
	B+	Electronic	W	UCO BANK
	D-	Electrical	X	BOI
	C+	Mechanical	Y	ALLAHABAD BANK
	F+	Chemical	Z	DENA BANK
	प्रबंधक	विशेषज्ञता	होटल	बैंक
	G+	कंप्यूटर साइंस	U	यूनियन बैंक ऑफ़
	A-	सिविल	V	इंडियन बैंक
	B+	इलेक्ट्रॉनिक्स	W	यूको बैंक इंडिया
	D-	इलेक्ट्रिकल	X	बैंक ऑफ़ इंडिया
	C+	मैकेनिकल	Y	इलाहाबाद बैंक
	F+	केमिकल	Z	देना बैंक

Q-9 Who is a manager in Dena bank?
eng/eng देना बैंक में प्रबंधक कौन है?

01. F
02. D
03. B
04. A
05. G

Q-9 Who is a manager in Dena bank?
eng hin देना बैंक में प्रबंधक कौन है?

01.

F
02.

D
03.

B
04.

A
05.

G

Solution for Question 9 Ans Key: 1

eng/eng	Manager	Specialization	Hotel	Bank
	G+	Computer Science	U	UBI
	A-	Civil	V	INDIAN BANK
	B+	Electronic	W	UCO BANK
	D-	Electrical	X	BOI
	C+	Mechanical	Y	ALLAHABAD BANK
	F+	Chemical	Z	DENA BANK
	प्रबंधक	विशेषज्ञता	होटल	बैंक
	G+	कंप्यूटर साइंस	U	यूनियन बैंक ऑफ़
	A-	सिविल	V	इंडियन बैंक
	B+	इलेक्ट्रॉनिक्स	W	यूको बैंक इंडिया
	D-	इलेक्ट्रिकल	X	बैंक ऑफ़ इंडिया
	C+	मेकेनिकल	Y	इलाहाबाद बैंक
	F+	केमिकल	Z	देना बैंक

eng hin	Manager	Specialization	Hotel	Bank
	G+	Computer Science	U	UBI
	A-	Civil	V	INDIAN BANK
	B+	Electronic	W	UCO BANK
	D-	Electrical	X	BOI
	C+	Mechanical	Y	ALLAHABAD BANK
	F+	Chemical	Z	DENA BANK
	प्रबंधक	विशेषज्ञता	होटल	बैंक
	G+	कंप्यूटर साइंस	U	यूनियन बैंक ऑफ़
	A-	सिविल	V	इंडियन बैंक
	B+	इलेक्ट्रॉनिक्स	W	यूको बैंक इंडिया
	D-	इलेक्ट्रिकल	X	बैंक ऑफ़ इंडिया
	C+	मेकेनिकल	Y	इलाहाबाद बैंक
	F+	केमिकल	Z	देना बैंक

Q-10 Who amongst the following are the two female managers?
eng hin निम्नलिखित में से, कौन सी दो महिला प्रबंधक हैं?

01.

G and D
G और D
02.

B and A
B और A
03.

C and D
C और D
04.

A and D
A और D
05.

F and B
F और B

Q-10 Who amongst the following are the two female managers?
eng hin निम्नलिखित में से, कौन सी दो महिला प्रबंधक हैं?

01.

G and D
G और D
02.

B and A
B और A
03.

C and D
C और D
04.

A and D
A और D
05.

F and B
F और B

Solution for Question 10 Ans Key: 4

eng/eng	Manager	Specialization	Hotel	Bank
---------	---------	----------------	-------	------

G+	Computer Science	U	UBI
A-	Civil	V	INDIAN BANK
B+	Electronic	W	UCO BANK
D-	Electrical	X	BOI
C+	Mechanical	Y	ALLAHABAD BANK
F+	Chemical	Z	DENA BANK

प्रबंधक	विशेषज्ञता	होटल	बैंक
G+	कंप्यूटर साइंस	U	यूनिन बैंक ऑफ़
A-	सिविल	V	इंडियन बैंक
B+	इलेक्ट्रॉनिक्स	W	यूको बैंक इंडिया
D-	इलेक्ट्रिकल	X	बैंक ऑफ़ इंडिया
C+	मेकेनिकल	Y	इलाहाबाद बैंक
F+	केमिकल	Z	देना बैंक

eng hin	Manager	Specialization	Hotel	Bank
	G+	Computer Science	U	UBI
	A-	Civil	V	INDIAN BANK
	B+	Electronic	W	UCO BANK
	D-	Electrical	X	BOI
	C+	Mechanical	Y	ALLAHABAD BANK
	F+	Chemical	Z	DENA BANK

प्रबंधक	विशेषज्ञता	होटल	बैंक
G+	कंप्यूटर साइंस	U	यूनिन बैंक ऑफ़
A-	सिविल	V	इंडियन बैंक
B+	इलेक्ट्रॉनिक्स	W	यूको बैंक इंडिया
D-	इलेक्ट्रिकल	X	बैंक ऑफ़ इंडिया
C+	मेकेनिकल	Y	इलाहाबाद बैंक
F+	केमिकल	Z	देना बैंक

Passage for Question 11, 12, 13, 14, 15 (ST-2061RRBCLERKMAINS(11-15R)2020-NP)

eng/eng Passage

Study the following information carefully and answer the questions given below.

There are seven members i.e. A, B, C, D, E, F and G in the family having three generations. They all are sitting in a row facing north directions. There are only two females in the family.

D is the son-in-law of E and sits 2nd to the right of his mother-in-law. A and E have only two children's, but they are not married to each other. C is the unmarried brother of A and is sitting on the immediate left of his father. F is the brother of G, who sits 3rd to the left of his mother. Father of F sits immediate right of G. G is the grandson of B, who is the mother of C. A is the mother of G and sits 2nd to the left of her father. B sits at the end of the row.

निम्नलिखित सूचना का ध्यानपूर्वक अध्ययन कीजिए और नीचे दिए गए प्रश्नों के उत्तर दीजिए।

तीन पीढ़ियों के एक परिवार में सात सदस्य अर्थात् A, B, C, D, E, F और G हैं। वे सभी एक पंक्ति में उत्तर की ओर उन्मुख होकर बैठे हैं। परिवार में केवल दो महिलाएं हैं। D, E का दामाद है और अपनी सास के दाएं से दूसरे स्थान पर बैठा है। A और E की केवल दो संतान हैं, लेकिन वे एक-दूसरे से विवाहित नहीं हैं। C, A का अविवाहित भाई है और वह अपने पिता के ठीक बाएं बैठा है। F, G का भाई है, जो उसकी माँ के बाएं तीसरे स्थान पर बैठा है। F का पिता G के ठीक दाएं बैठा है। G, B का ग्रैंडसन है, जो कि C की माँ है। A, G की माँ है और अपने पिता के बाएं दूसरे स्थान पर बैठी है। B, पंक्ति के एक अंतिम छोर पर बैठा है।

eng hin Passage

Study the following information carefully and answer the questions given below.

There are seven members i.e. A, B, C, D, E, F and G in the family having three generations. They all are sitting in a row facing north directions. There are only two females in the family.

D is the son-in-law of E and sits 2nd to the right of his mother-in-law. A and E have only two children's, but they are not married to each other. C is the unmarried brother of A and is sitting on the immediate left of his father. F is the brother of G, who sits 3rd to the left of his mother. Father of F sits immediate right of G. G is the grandson of B, who is the mother of C. A is the mother of G and sits 2nd to the left of her father. B sits at the end of the row.

निम्नलिखित सूचना का ध्यानपूर्वक अध्ययन कीजिए और नीचे दिए गए प्रश्नों के उत्तर दीजिए।

तीन पीढ़ियों के एक परिवार में सात सदस्य अर्थात् A, B, C, D, E, F और G हैं। वे सभी एक पंक्ति में उत्तर की ओर उन्मुख होकर बैठे हैं। परिवार में केवल दो महिलाएं हैं। D, E का दामाद है और अपनी सास के दाएं से दूसरे स्थान पर बैठा है। A और E की केवल दो संतान हैं, लेकिन वे एक-दूसरे से विवाहित नहीं हैं। C, A का अविवाहित भाई है और वह अपने पिता के ठीक बाएं बैठा है। F, G का भाई है, जो उसकी माँ के बाएं तीसरे स्थान पर बैठा है। F का पिता G के ठीक दाएं बैठा है। G, B का ग्रैंडसन है, जो कि C की माँ है। A, G की माँ है और अपने पिता के बाएं दूसरे स्थान पर बैठी है। B, पंक्ति के एक अंतिम छोर पर बैठा है।

Q-11 How is D related to G?

eng/eng D, G से किस प्रकार संबंधित है?

01. Grandfather

02. Mother

दादा

03. Sister|
बहन

05. Can't be determined
निर्धारित नहीं किया जा सकता

माँ

04. Father
पिता

Q-11
eng hin

How is D related to G?
D, G से किस प्रकार संबंधित है?

01. Grandfather
दादा

03. Sister|
बहन

05. Can't be determined
निर्धारित नहीं किया जा सकता

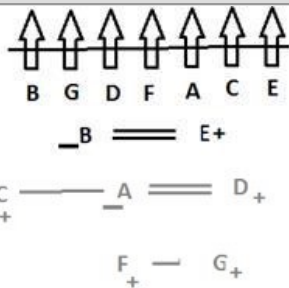
02. Mother
माँ

04. Father
पिता

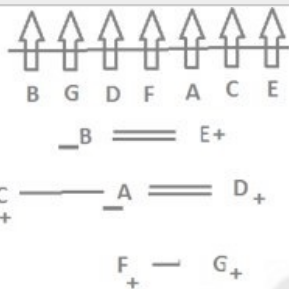
Solution for Question 11

Ans Key: 4

eng/eng



eng hin



Q-12
eng/eng

Who is sitting third to the left of brother of G?
G के भाई के बाएँ तीसरे स्थान पर कौन बैठा है?

01. G's maternal Grandmother
G का नानी

03. G's Father
G का पिता

05. G's Uncle
G का अंकल

02. G's Grandfather
G का दादा

04. G's Mother
G की माँ

Q-12
eng hin

Who is sitting third to the left of brother of G?
G के भाई के बाएँ तीसरे स्थान पर कौन बैठा है?

01. G's maternal Grandmother
G का नानी

03. G's Father
G का पिता

05. G's Uncle
G का अंकल

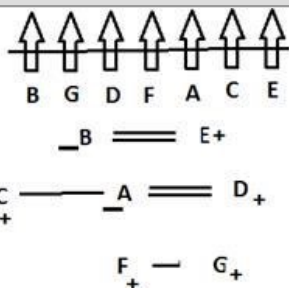
02. G's Grandfather
G का दादा

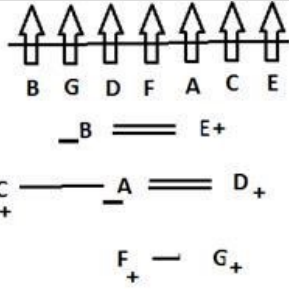
04. G's Mother
G की माँ

Solution for Question 12

Ans Key: 1

eng/eng





Q-13 If all the persons are allowed to sit in alphabetical order from left to right, then how many persons remain unchanged?
 यदि सभी व्यक्तियों को वर्णमाला के क्रमानुसार बाएँ से दाएँ बैठने की अनुमिति दी जाती है, तो कितने व्यक्तियों का स्थान अपरिवर्तित रहेगा?

- | | |
|----------------------|-----------------|
| 01. One
एक | 02. Two
दो |
| 03. Three
तीन | 04. Four
चार |
| 05. None
कोई नहीं | |

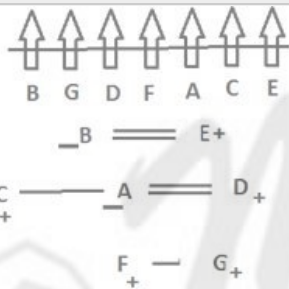
Q-13 If all the persons are allowed to sit in alphabetical order from left to right, then how many persons remain unchanged?
 यदि सभी व्यक्तियों को वर्णमाला के क्रमानुसार बाएँ से दाएँ बैठने की अनुमिति दी जाती है, तो कितने व्यक्तियों का स्थान अपरिवर्तित रहेगा?

- | | |
|----------------------|-----------------|
| 01. One
एक | 02. Two
दो |
| 03. Three
तीन | 04. Four
चार |
| 05. None
कोई नहीं | |

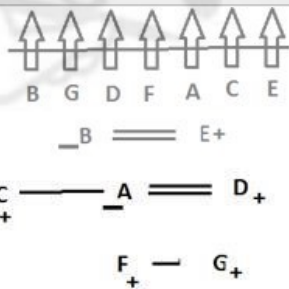
Solution for Question 13

Ans Key: 5

eng/eng



eng hin



Q-14 How many persons are sitting between G and his maternal grandfather?
 G और उसके नाना के मध्य कितने व्यक्ति बैठे हैं?

- | | |
|------------------|-----------------|
| 01. Three
तीन | 02. Four
चार |
| 03. Five
पांच | 04. Two
दो |
| 05. One
एक | |

Q-14 How many persons are sitting between G and his maternal grandfather?
 G और उसके नाना के मध्य कितने व्यक्ति बैठे हैं?

- | | |
|------------------|-----------------|
| 01. Three
तीन | 02. Four
चार |
|------------------|-----------------|

03. Five
पांच

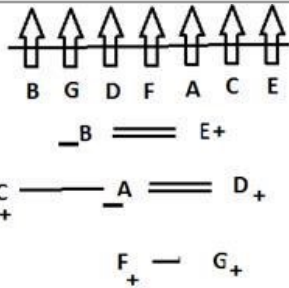
04. Two
दो

05. One
एक

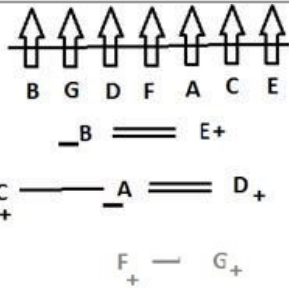
Ans Key: 2

Solution for Question 14

eng/eng



eng hin



Q-15

eng/eng

Who is sitting 2nd to the right of A's son F?
A के पुत्र F के दाएं दूसरे स्थान पर कौन बैठा है?

01. A's Father
A के पिता

02. A's husband
A का पति

03. A

04. C

05. None of these
इनमें से कोई नहीं

Q-15

eng hin

Who is sitting 2nd to the right of A's son F?
A के पुत्र F के दाएं दूसरे स्थान पर कौन बैठा है?

01. A's Father
A के पिता

02. A's husband
A का पति

03. A

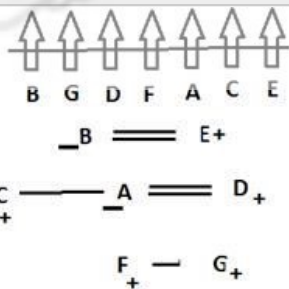
04. C

05. None of these
इनमें से कोई नहीं

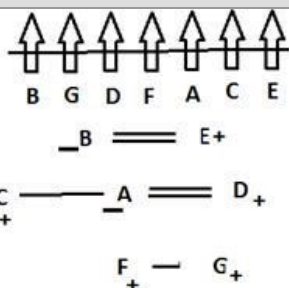
Solution for Question 15

Ans Key: 4

eng/eng



eng hin



Passage for Question 16, 17 (ST-2061RRBCLERKMAINS(16-17R)2020-NP)

eng/eng Passage

Study the information carefully and answer the questions given below.

Ram and Shyam are two cyclists who started from point A and P respectively at the speed of 10 km per hour. Ram started moving towards the north direction and

after travelling 2 km, he reached a point B which lies on the circumference of a circular track with radius 5km. From there he kept on moving along the circular track and after travelling half the circumference of the track, he reached point C where he found himself facing towards the east direction. He then stopped there to wait for Shyam. Shyam started moving towards West direction and after travelling 5km he reached point Q. From Q he turned 45 degrees towards his right and travelled $10\sqrt{2}$ km to meet Ram at point C.

निम्नलिखित सूचना का ध्यानपूर्वक अध्ययन कर नीचे दिए प्रश्नों के उत्तर दीजिये।

राम और स्याम दो साइकिलिस्ट हैं, जो क्रमशः बिंदु A और P से 10 किमी प्रति घंटा की गति से चलना शुरू करते हैं। राम उत्तर दिशा की ओर चलना शुरू करता है और 2 किमी की यात्रा के बाद वह बिंदु B पर पहुँचता है, जो एक 5 किमी की त्रिज्या वाले एक वृत्ताकार ट्रैक की परिधि पर स्थित है। वहाँ से वह वृत्ताकार ट्रैक के साथ आगे बढ़ता है और ट्रैक की आधी परिधि की यात्रा के बाद वह बिंदु C पर पहुँचता है, जहाँ उसने स्वयं को उत्तर की ओर उन्मुख पाया। फिर वह स्याम की प्रतीक्षा के लिए वहाँ रुकता है। स्याम पश्चिम दिशा की ओर चलना शुरू करता है और 5 किमी की यात्रा करने के बाद वह बिंदु Q पर पहुँचता है। Q से वह अपने दाईं ओर 45° घूमता है और बिंदु C पर राम से मिलने के लिए $10\sqrt{2}$ किमी की यात्रा करता है।

eng hin Passage

Study the information carefully and answer the questions given below.

Ram and Shyam are two cyclists who started from point A and P respectively at the speed of 10 km per hour. Ram started moving towards the north direction and after travelling 2 km, he reached a point B which lies on the circumference of a circular track with radius 5km. From there he kept on moving along the circular track and after travelling half the circumference of the track, he reached point C where he found himself facing towards the east direction. He then stopped there to wait for Shyam. Shyam started moving towards West direction and after travelling 5km he reached point Q. From Q he turned 45 degrees towards his right and travelled $10\sqrt{2}$ km to meet Ram at point C.

निम्नलिखित सूचना का ध्यानपूर्वक अध्ययन कर नीचे दिए प्रश्नों के उत्तर दीजिये।

राम और स्याम दो साइकिलिस्ट हैं, जो क्रमशः बिंदु A और P से 10 किमी प्रति घंटा की गति से चलना शुरू करते हैं। राम उत्तर दिशा की ओर चलना शुरू करता है और 2 किमी की यात्रा के बाद वह बिंदु B पर पहुँचता है, जो एक 5 किमी की त्रिज्या वाले एक वृत्ताकार ट्रैक की परिधि पर स्थित है। वहाँ से वह वृत्ताकार ट्रैक के साथ आगे बढ़ता है और ट्रैक की आधी परिधि की यात्रा के बाद वह बिंदु C पर पहुँचता है, जहाँ उसने स्वयं को उत्तर की ओर उन्मुख पाया। फिर वह स्याम की प्रतीक्षा के लिए वहाँ रुकता है। स्याम पश्चिम दिशा की ओर चलना शुरू करता है और 5 किमी की यात्रा करने के बाद वह बिंदु Q पर पहुँचता है। Q से वह अपने दाईं ओर 45° घूमता है और बिंदु C पर राम से मिलने के लिए $10\sqrt{2}$ किमी की यात्रा करता है।

Q-16 What is the shortest distance between point Q and B?

eng/eng बिंदु Q और B के मध्य न्यूनतम दूरी कितनी है?

- | | |
|---|----------------------|
| 01. More than 12 km
12 किमी से अधिक | 02. 8 km
8 किमी |
| 03. 10 km
10 किमी | 04. 12 km
12 किमी |
| 05. Cannot be determined
निर्धारित नहीं किया जा सकता | |

Q-16 What is the shortest distance between point Q and B?

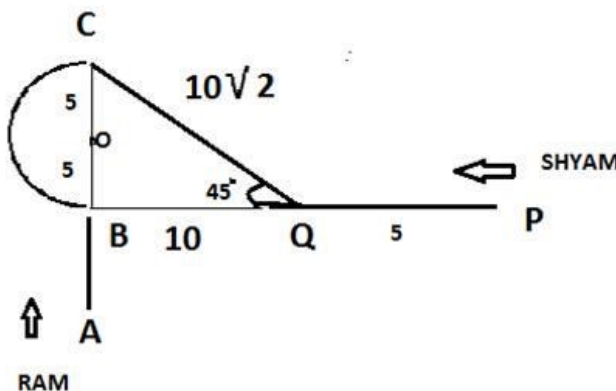
eng/hin बिंदु Q और B के मध्य न्यूनतम दूरी कितनी है?

- | | |
|---|----------------------|
| 01. More than 12 km
12 किमी से अधिक | 02. 8 km
8 किमी |
| 03. 10 km
10 किमी | 04. 12 km
12 किमी |
| 05. Cannot be determined
निर्धारित नहीं किया जा सकता | |

Solution for Question 16

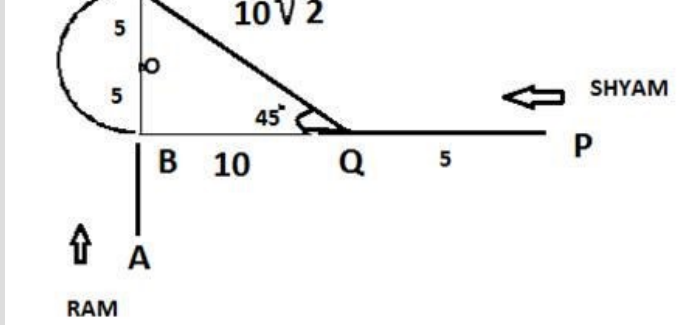
Ans Key: 3

eng/eng



eng/hin





Q-17 What is the shortest distance between the centre of the circle and point Q?
 वृत्त के केंद्र और बिंदु Q के मध्य न्यूनतम दूरी कितनी है?

eng/eng

- | | |
|--|----------------------|
| 01. $\sqrt{75}$ km
$\sqrt{75}$ किमी | 02. 10 km
10 किमी |
| 03. $5\sqrt{5}$ km
$5\sqrt{5}$ किमी | 04. 20 km
20 किमी |
| 05. None of these
इनमें से कोई नहीं | |

Q-17 What is the shortest distance between the centre of the circle and point Q?
 वृत्त के केंद्र और बिंदु Q के मध्य न्यूनतम दूरी कितनी है?

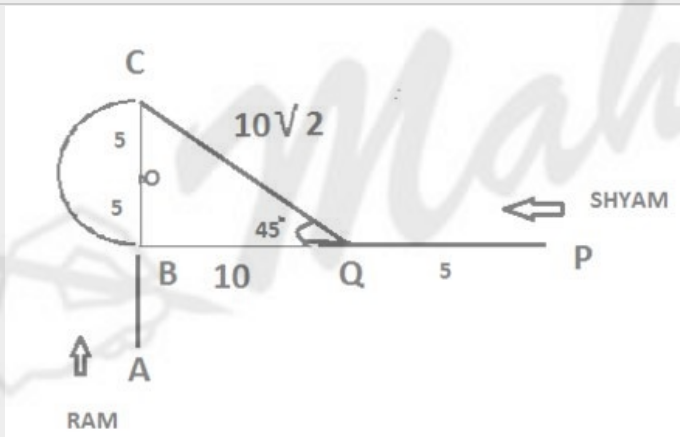
eng/hin

- | | |
|--|----------------------|
| 01. $\sqrt{75}$ km
$\sqrt{75}$ किमी | 02. 10 km
10 किमी |
| 03. $5\sqrt{5}$ km
$5\sqrt{5}$ किमी | 04. 20 km
20 किमी |
| 05. None of these
इनमें से कोई नहीं | |

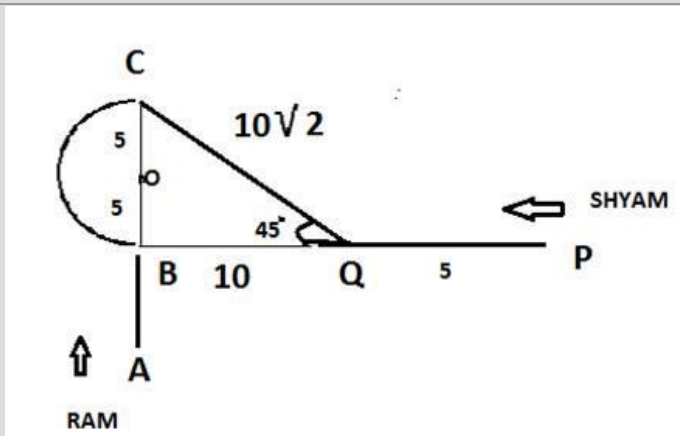
Solution for Question 17

Ans Key: 3

eng/eng



eng/hin



Passage for Question 18, 19, 20, 21, 22 (ST-2061RRBCLERKMAINS(18-22R)2020-NP)

eng/eng Passage

Study the following information carefully and answer the question given below.

A, B, C, D, E, F, G, and H are seated around a circular table. Some of them are facing to the centre and some are facing outside the centre. They all like different colours Pink, Maroon, Yellow, Blue, Red, Green, Black, and White (not necessarily in the same order).

E likes blue and sits 2nd to the left of A. One of the immediate neighbours of A faces the same direction as A faces. D likes white and is not an immediate neighbour

of both G and A. The one who likes maroon sits exactly between D and the one who likes pink. Both the immediate neighbours of E face opposite direction with respect to E. B sits 2nd to the right of F, who is not an immediate neighbour of E and G. C likes red and sits 2nd to the left of B. B and G don't like yellow. A faces opposite to the centre and the one who likes green is not an immediate neighbour of D. G sits 2nd to the left of E. Immediate neighbours of G face the opposite direction of G. D and G face the opposite direction of each other. G doesn't like pink.

निम्नलिखित जानकारी का ध्यानपूर्वक अध्ययन करें और नीचे दिए गए प्रश्न का उत्तर दें।

A, B, C, D, E, F, G, और H एक वृत्ताकार मेज़ के चारों ओर बैठे हैं। उनमें से कुछ का मुख केंद्र की ओर है और कुछ का मुख केंद्र से बाहर की ओर है। उन सभी को भिन्न रंग गुलाबी, मरून, पीला, नीला, लाल, हरा, काला और सफ़ेद पसंद है (आवश्यक नहीं कि समान क्रम में हो)। E को नीला रंग पसंद है और A के बाएं दूसरे स्थान पर बैठा है। A के निकटतम पड़ोसियों में से एक का मुख A के समान दिशा की ओर है। D को सफ़ेद रंग पसंद है और वह G और A दोनों का निकटतम पड़ोसी नहीं है। जिस व्यक्ति को मरून पसंद है, वह D और गुलाबी रंग पसंद करने वाले व्यक्ति के ठीक मध्य में बैठा है। E के दोनों निकटतम पड़ोसियों का मुख, E के सन्दर्भ में विपरीत दिशाओं में है। B, F के दाएं दूसरे स्थान पर बैठा है, जो E और G का निकटतम पड़ोसी नहीं है। C को लाल रंग पसंद है और वह B के बाएं दूसरे स्थान पर बैठा है। B और G को पीला रंग नहीं पसंद है। A का मुख केंद्र से विपरीत दिशा की ओर है और हरा रंग पसंद करने वाला व्यक्ति D का निकटतम पड़ोसी नहीं है। G, E के बाएं दूसरे स्थान पर बैठा है। G के निकटतम पड़ोसी का मुख G के विपरीत दिशा की ओर है। D और G का मुख एक दूसरे के विपरीत दिशा में है। G को गुलाबी रंग नहीं पसंद है।

eng hin Passage

Study the following information carefully and answer the question given below.

A, B, C, D, E, F, G, and H are seated around a circular table. Some of them are facing to the centre and some are facing outside the centre. They all like different colours Pink, Maroon, Yellow, Blue, Red, Green, Black, and White (not necessarily in the same order). E likes blue and sits 2nd to the left of A. One of the immediate neighbours of A faces the same direction as A faces. D likes white and is not an immediate neighbour of both G and A. The one who likes maroon sits exactly between D and the one who likes pink. Both the immediate neighbours of E face opposite direction with respect to E. B sits 2nd to the right of F, who is not an immediate neighbour of E and G. C likes red and sits 2nd to the left of B. B and G don't like yellow. A faces opposite to the centre and the one who likes green is not an immediate neighbour of D. G sits 2nd to the left of E. Immediate neighbours of G face the opposite direction of G. D and G face the opposite direction of each other. G doesn't like pink.

निम्नलिखित जानकारी का ध्यानपूर्वक अध्ययन करें और नीचे दिए गए प्रश्न का उत्तर दें।

A, B, C, D, E, F, G, और H एक वृत्ताकार मेज़ के चारों ओर बैठे हैं। उनमें से कुछ का मुख केंद्र की ओर है और कुछ का मुख केंद्र से बाहर की ओर है। उन सभी को भिन्न रंग गुलाबी, मरून, पीला, नीला, लाल, हरा, काला और सफ़ेद पसंद है (आवश्यक नहीं कि समान क्रम में हो)। E को नीला रंग पसंद है और A के बाएं दूसरे स्थान पर बैठा है। A के निकटतम पड़ोसियों में से एक का मुख A के समान दिशा की ओर है। D को सफ़ेद रंग पसंद है और वह G और A दोनों का निकटतम पड़ोसी नहीं है। जिस व्यक्ति को मरून पसंद है, वह D और गुलाबी रंग पसंद करने वाले व्यक्ति के ठीक मध्य में बैठा है। E के दोनों निकटतम पड़ोसियों का मुख, E के सन्दर्भ में विपरीत दिशाओं में है। B, F के दाएं दूसरे स्थान पर बैठा है, जो E और G का निकटतम पड़ोसी नहीं है। C को लाल रंग पसंद है और वह B के बाएं दूसरे स्थान पर बैठा है। B और G को पीला रंग नहीं पसंद है। A का मुख केंद्र से विपरीत दिशा की ओर है और हरा रंग पसंद करने वाला व्यक्ति D का निकटतम पड़ोसी नहीं है। G, E के बाएं दूसरे स्थान पर बैठा है। G के निकटतम पड़ोसी का मुख G के विपरीत दिशा की ओर है। D और G का मुख एक दूसरे के विपरीत दिशा में है। G को गुलाबी रंग नहीं पसंद है।

Q-18 Who among the following likes pink colour?
eng/eng निम्नलिखित में से किसे गुलाबी रंग पसंद है?

- | | |
|--|-------|
| 01. B | 02. A |
| 03. E | 04. H |
| 05. None of these
इनमें से कोई नहीं | |

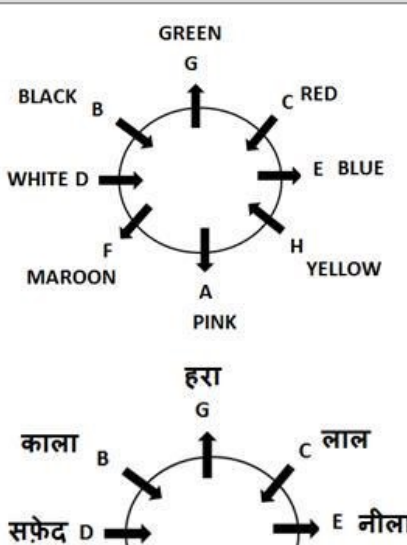
Q-18 Who among the following likes pink colour?
eng hin निम्नलिखित में से किसे गुलाबी रंग पसंद है?

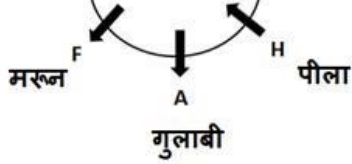
- | | |
|--|-------|
| 01. B | 02. A |
| 03. E | 04. H |
| 05. None of these
इनमें से कोई नहीं | |

Solution for Question 18

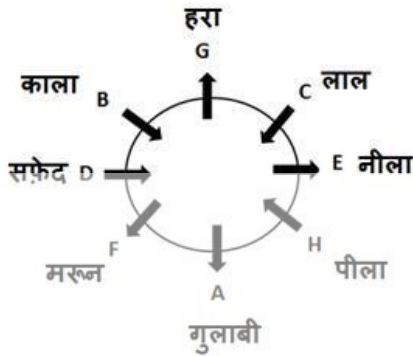
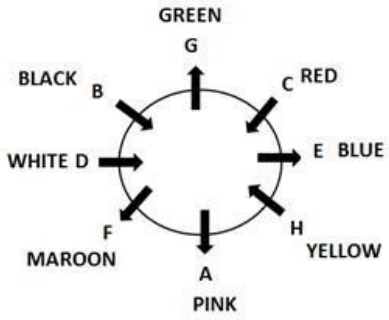
Ans Key: 2

eng/eng





eng hin



Q-19 G likes which of the following colour?
निम्नलिखित में से कौन-सा रंग G को पसंद है?

eng/eng

01. Green
हरा
02. Yellow
पीला
03. White
सफ़ेद
04. Black
काला
05. None of these
इनमें से कोई नहीं

Q-19 G likes which of the following colour?
निम्नलिखित में से कौन-सा रंग G को पसंद है?

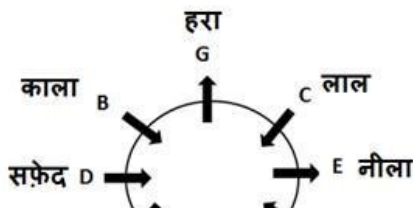
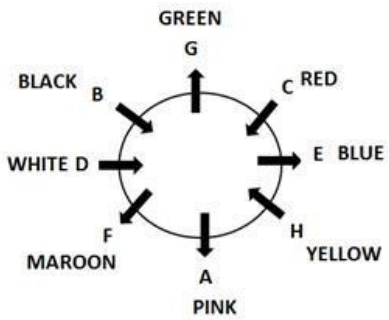
eng hin

01. Green
हरा
02. Yellow
पीला
03. White
सफ़ेद
04. Black
काला
05. None of these
इनमें से कोई नहीं

Solution for Question 19

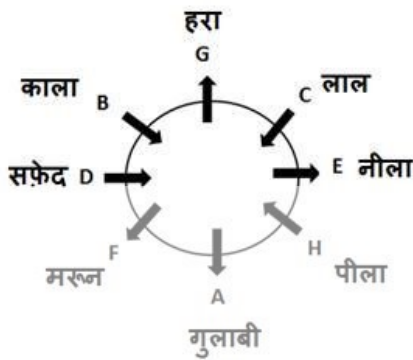
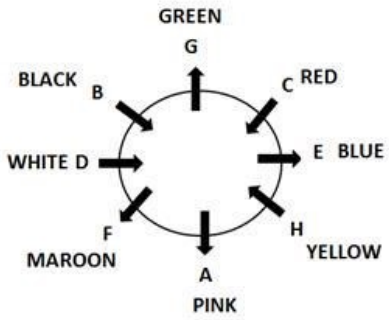
Ans Key: 1

eng/eng





eng hin



Q-20 Who among the following sits opposite to G?
eng/eng निम्नलिखित में से कौन G के विपरीत बैठा है?

01. B
02. A
03. The one who likes pink colour
वह व्यक्ति जिसे गुलाबी रंग पसंद है
04. Both (2) and (3)
(2) और (3) दोनों
05. None of these
इनमें से कोई नहीं

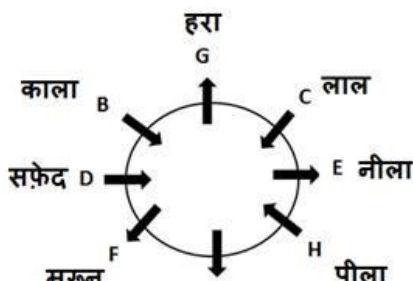
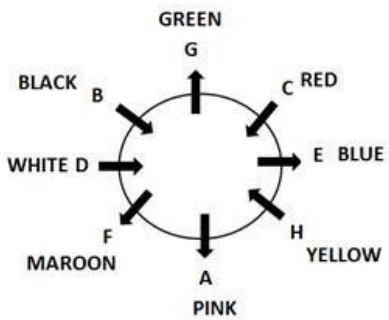
Q-20 Who among the following sits opposite to G?
eng hin निम्नलिखित में से कौन G के विपरीत बैठा है?

01. B
02. A
03. The one who likes pink colour
वह व्यक्ति जिसे गुलाबी रंग पसंद है
04. Both (2) and (3)
(2) और (3) दोनों
05. None of these
इनमें से कोई नहीं

Solution for Question 20

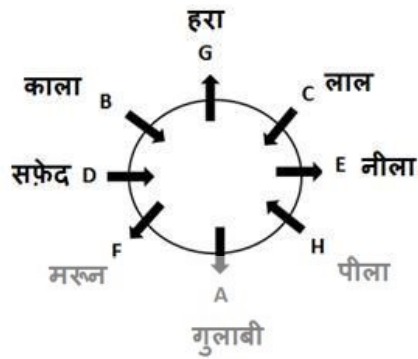
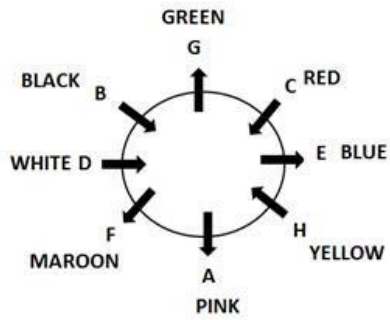
Ans Key: 4

eng/eng



गुलाबी

eng hin



Q-21 Who among the followings likes maroon colour?
निम्नलिखित में से कौन मरून रंग पसंद करता है?

- | | |
|--|-------|
| 01. G | 02. B |
| 03. A | 04. F |
| 05. None of these
इनमें से कोई नहीं | |

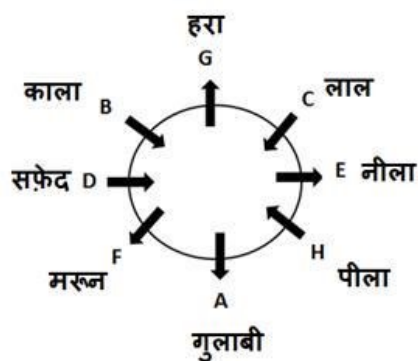
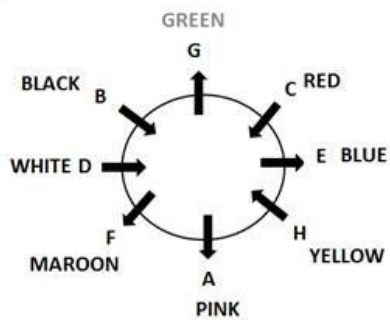
Q-21 Who among the followings likes maroon colour?
निम्नलिखित में से कौन मरून रंग पसंद करता है?

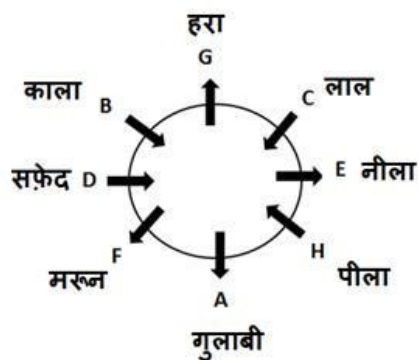
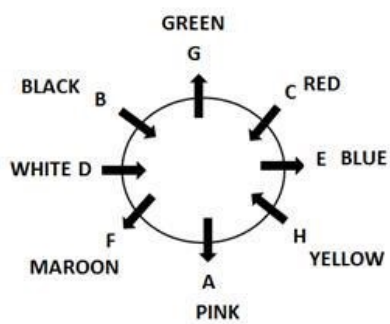
- | | |
|--|-------|
| 01. G | 02. B |
| 03. A | 04. F |
| 05. None of these
इनमें से कोई नहीं | |

Solution for Question 21

Ans Key: 4

eng/eng





Q-22 Who among the following sits immediate left of the one who likes white colour?
निम्नलिखित में से कौन सफ़ेद रंग पसंद करने वाले व्यक्ति के ठीक बाएं बैठा है?

- | | |
|--|-------|
| 01. B | 02. A |
| 03. G | 04. C |
| 05. None of these
इनमें से कोई नहीं | |

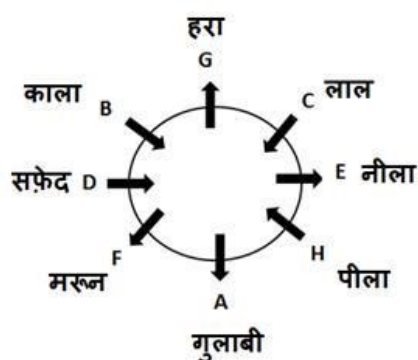
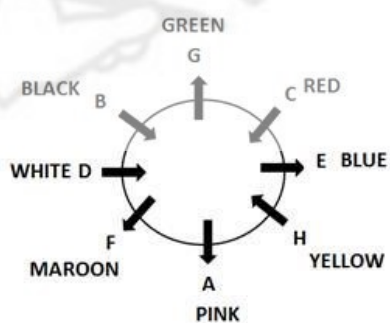
Q-22 Who among the following sits immediate left of the one who likes white colour?
निम्नलिखित में से कौन सफ़ेद रंग पसंद करने वाले व्यक्ति के ठीक बाएं बैठा है?

- | | |
|--|-------|
| 01. B | 02. A |
| 03. G | 04. C |
| 05. None of these
इनमें से कोई नहीं | |

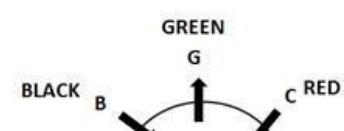
Solution for Question 22

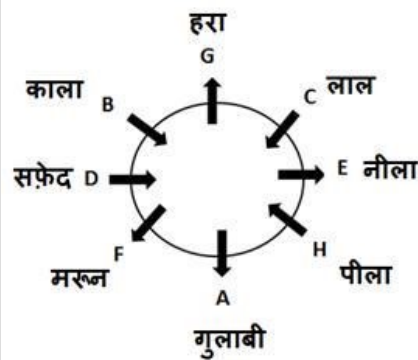
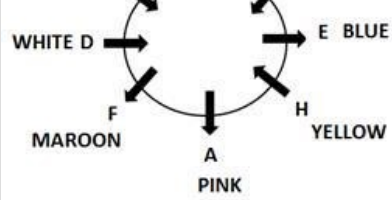
Ans Key: 1

eng/eng



eng hin





Passage for Question 23, 24, 25, 26, 27 (ST-2061RRBCLERKMAINS(23-27R)2020-NP)

eng/eng Passage

Study the following information carefully and answer the given questions.

Seven people A, B, C, D, E, F and G live on different floors of a 7-floors building. The ground floor is numbered 1, the first floor is numbered 2 and so on until the topmost floor is numbered 7. Each one likes different colours i.e. Brown, Yellow, Peach, White, Green, Red, and Blue but not necessarily in the same order. C lives on the 4th floor and likes Peach. G doesn't like red. The one who likes brown colour lives one of the floors below the one who likes red colour. A likes green. The one who likes blue lives on the 6th floor. More than three people live between the one who likes blue and G. The one who lives on the topmost floor doesn't like red and brown. F lives on an even-numbered floor and likes yellow. The one, who likes white, lives below C's floor but not on the 1st floor. B lives on an even-numbered floor. D lives above the one who likes white.

निम्नलिखित सूचना का ध्यानपूर्वक अध्ययन कीजिये और प्रश्नों के उत्तर दीजिये।

सात व्यक्ति A, B, C, D, E, F और G एक सात मंजिला इमारत की अलग-अलग मंजिलों पर रहत हैं। निचली मंजिल की संख्या 1 है, उससे ऊपर की मंजिल की संख्या 2 है और आगे इसी प्रकार ऊपरी मंजिल की संख्या 7 है। उनमें से प्रत्येक को भिन्न रंग अर्थात् भूरा, पीला, पीच, सफ़ेद, हरा, लाल और नीला पसंद है; लेकिन आवश्यक नहीं की इसी ही क्रम में हो।

C चौथी मंजिल पर रहता है और पीच रंग पसंद करता है। G को लाल रंग पसंद नहीं है। जिस व्यक्ति को भूरा रंग पसंद है, वह लाल रंग पसंद करने वाले व्यक्ति के नीचे की मंजिलों में से एक पर रहता है। A को हरा रंग पसंद है। जिस व्यक्ति को नीला रंग पसंद है, वह छठी मंजिल पर रहता है। नीला रंग पसंद करने वाले व्यक्ति और G के मध्य तीन से अधिक व्यक्ति रहते हैं। वह व्यक्ति जो सबसे ऊपरी मंजिल पर रहता है, उसे लाल और भूरा रंग पसंद नहीं है। F एक सम संख्या वाली मंजिल पर रहता है और पीला रंग पसंद करता है। वह व्यक्ति जो सफ़ेद रंग पसंद करता है, C की मंजिल के नीचे रहता है लेकिन पहली मंजिल पर नहीं। B सम संख्या वाली मंजिल पर रहता है। D सफ़ेद रंग पसंद करने वाले व्यक्ति के ऊपर रहता है।

eng hin Passage

Study the following information carefully and answer the given questions.

Seven people A, B, C, D, E, F and G live on different floors of a 7-floors building. The ground floor is numbered 1, the first floor is numbered 2 and so on until the topmost floor is numbered 7. Each one likes different colours i.e. Brown, Yellow, Peach, White, Green, Red, and Blue but not necessarily in the same order. C lives on the 4th floor and likes Peach. G doesn't like red. The one who likes brown colour lives one of the floors below the one who likes red colour. A likes green. The one who likes blue lives on the 6th floor. More than three people live between the one who likes blue and G. The one who lives on the topmost floor doesn't like red and brown. F lives on an even-numbered floor and likes yellow. The one, who likes white, lives below C's floor but not on the 1st floor. B lives on an even-numbered floor. D lives above the one who likes white.

निम्नलिखित सूचना का ध्यानपूर्वक अध्ययन कीजिये और प्रश्नों के उत्तर दीजिये।

सात व्यक्ति A, B, C, D, E, F और G एक सात मंजिला इमारत की अलग-अलग मंजिलों पर रहत हैं। निचली मंजिल की संख्या 1 है, उससे ऊपर की मंजिल की संख्या 2 है और आगे इसी प्रकार ऊपरी मंजिल की संख्या 7 है। उनमें से प्रत्येक को भिन्न रंग अर्थात् भूरा, पीला, पीच, सफ़ेद, हरा, लाल और नीला पसंद है; लेकिन आवश्यक नहीं की इसी ही क्रम में हो।

C चौथी मंजिल पर रहता है और पीच रंग पसंद करता है। G को लाल रंग पसंद नहीं है। जिस व्यक्ति को भूरा रंग पसंद है, वह लाल रंग पसंद करने वाले व्यक्ति के नीचे की मंजिलों में से एक पर रहता है। A को हरा रंग पसंद है। जिस व्यक्ति को नीला रंग पसंद है, वह छठी मंजिल पर रहता है। नीला रंग पसंद करने वाले व्यक्ति और G के मध्य तीन से अधिक व्यक्ति रहते हैं। वह व्यक्ति जो सबसे ऊपरी मंजिल पर रहता है, उसे लाल और भूरा रंग पसंद नहीं है। F एक सम संख्या वाली मंजिल पर रहता है और पीला रंग पसंद करता है। वह व्यक्ति जो सफ़ेद रंग पसंद करता है, C की मंजिल के नीचे रहता है लेकिन पहली मंजिल पर नहीं। B सम संख्या वाली मंजिल पर रहता है। D सफ़ेद रंग पसंद करने वाले व्यक्ति के ऊपर रहता है।

Q-23 Which of the following is true with respect to F as per the given information?

eng/eng दी गई सूचना के आधार पर F के सन्दर्भ में, निम्न में से कौन-सा सत्य है?

01. The one, who lives immediately below F, likes brown color.
F के ठीक नीचे रहने वाले व्यक्ति को भूरा रंग पसंद है।
02. F lives on floor no. 7.
F मंजिल संख्या 7 पर रहता है।
03. F lives immediately below C.
04. F lives on the lowermost floor.

F, C के ठीक नीचे रहता है।

F निचली मंजिल पर रहता है।

05. None of these
इनमें से कोई नहीं

Q-23
eng hin Which of the following is true with respect to F as per the given information?
दी गई सूचना के आधार पर अंशुल के सन्दर्भ में, निम्न में से कौन-सा सत्य है?

01. The one, who lives immediately below F, likes brown color.
F के ठीक नीचे रहने वाले व्यक्ति को भूरा रंग पसंद है।
02. F lives on floor no. 7.
F मंजिल संख्या 7 पर रहता है।
03. F lives immediately below C.
F, C के ठीक नीचे रहता है।
04. F lives on the lowermost floor.
F निचली मंजिल पर रहता है।
05. None of these
इनमें से कोई नहीं

Solution for Question 23

Ans Key: 1

eng/eng

FLOOR	COLOR	PERSON
7	GREEN	A
6	BLUE	B
5	RED	D
4	PEACH	C
3	WHITE	E
2	YELLOW	F
1	BROWN	G

मंजिल	रंग	व्यक्ति
7	हरा	A
6	नीला	B
5	लाल	D
4	पीच	C
3	सफ़ेद	E
2	पीला	F
1	भूरा	G

eng hin

FLOOR	COLOR	PERSON
7	GREEN	A
6	BLUE	B
5	RED	D
4	PEACH	C
3	WHITE	E
2	YELLOW	F
1	BROWN	G

मंजिल	रंग	व्यक्ति
7	हरा	A
6	नीला	B
5	लाल	D
4	पीच	C
3	सफ़ेद	E
2	पीला	F
1	भूरा	G

Who amongst the following lives on floor number 3?
निम्नलिखित में से कौन मंजिल संख्या 3 पर रहता है?

01. The one who likes blue color
जिसे नीला रंग पसंद है
02. The one who likes green color
जिसे हरा रंग पसंद है
03. None of these
इनमें से कोई नहीं
04. E
05. F

Who amongst the following lives on floor number 3?
निम्नलिखित में से कौन मंजिल संख्या 3 पर रहता है?

01. The one who likes blue color
जिसे नीला रंग पसंद है
02. The one who likes green color
जिसे हरा रंग पसंद है
03. None of these
इनमें से कोई नहीं
04. E
05. F

Solution for Question 24

Ans Key: 4

FLOOR	COLOR	PERSON
7	GREEN	A
6	BLUE	B
5	RED	D
4	PEACH	C
3	WHITE	E
2	YELLOW	F
1	BROWN	G

मंजिल	रंग	व्यक्ति
7	हरा	A
6	नीला	B
5	लाल	D
4	पीच	C
3	सफ़ेद	E
2	पीला	F
1	भूरा	G

FLOOR	COLOR	PERSON
7	GREEN	A
6	BLUE	B
5	RED	D
4	PEACH	C
3	WHITE	E
2	YELLOW	F
1	BROWN	G

मंजिल	रंग	व्यक्ति
7	हरा	A
6	नीला	B
5	लाल	D
4	पीच	C
3	सफ़ेद	E
2	पीला	F
1	भूरा	G

- Q-25

eng/eng

Who lives on the floor which is immediately above D?
D के ठीक ऊपर की मंजिल पर कौन रहता है?
01. G

02. F

03. B

04. None of these
इनमें से कोई नहीं

05. None
कोई नहीं

- Q-25

eng/hin

Who lives on the floor which is immediately above D?
D के ठीक ऊपर की मंजिल पर कौन रहता है?
01. G

02. F

03. B

04. None of these
इनमें से कोई नहीं

05. None
कोई नहीं

Solution for Question 25

Ans Key: 3

eng/eng

FLOOR	COLOR	PERSON
7	GREEN	A
6	BLUE	B
5	RED	D
4	PEACH	C
3	WHITE	E
2	YELLOW	F
1	BROWN	G

मंजिल	रंग	व्यक्ति
7	हरा	A
6	नीला	B
5	लाल	D
4	पीच	C
3	सफ़ेद	E
2	पीला	F
1	भूरा	G

eng/hin

FLOOR	COLOR	PERSON
7	GREEN	A
6	BLUE	B
5	RED	D
4	PEACH	C
3	WHITE	E
2	YELLOW	F
1	BROWN	G

मंजिल	रंग	व्यक्ति
7	हरा	A
6	नीला	B
5	लाल	D
4	पीच	C
3	सफ़ेद	E
2	पीला	F
1	भूरा	G

2	पीला	F
1	भूरा	G

Q-26 Which of the following color G likes?
eng/eng निम्नलिखित में से कौन-सा रंग G को पसंद है?

- 01.** Peach
पीच
- 02.** Yellow
पीला
- 03.** None of these
इनमें से कोई नहीं
- 04.** Brown
भूरा
- 05.** Green
हरा

Q-26 Which of the following color G likes?
eng/hin निम्नलिखित में से कौन-सा रंग G को पसंद है?

- 01.** Peach
पीच
- 02.** Yellow
पीला
- 03.** None of these
इनमें से कोई नहीं
- 04.** Brown
भूरा
- 05.** Green
हरा

Solution for Question 26

Ans Key: 4

eng/eng

FLOOR COLOR PERSON

7	GREEN	A
6	BLUE	B
5	RED	D
4	PEACH	C
3	WHITE	E
2	YELLOW	F
1	BROWN	G

मंजिल रंग व्यक्ति

7	हरा	A
6	नीला	B
5	लाल	D
4	पीच	C
3	सफ़ेद	E
2	पीला	F
1	भूरा	G

eng/hin

FLOOR COLOR PERSON

7	GREEN	A
6	BLUE	B
5	RED	D
4	PEACH	C
3	WHITE	E
2	YELLOW	F
1	BROWN	G

मंजिल रंग व्यक्ति

7	हरा	A
6	नीला	B
5	लाल	D

4	पीच	C
3	सफ़ेद	E
2	पीला	F
1	भूरा	G

Q-27 How many people live between the floors on which E and B live?
eng/hin जिन मंजिलों पर E और B रहते हैं, उनके बीच कितने व्यक्ति रहते हैं?

01. None
कोई नहीं

03. One
एक

05. Three
तीन
02. Two
दो

04. More than three
तीन से अधिक

Q-27 How many people live between the floors on which E and B live?
eng/hin जिन मंजिलों पर E और B रहते हैं, उनके बीच कितने व्यक्ति रहते हैं?

01. None
कोई नहीं

03. One
एक

05. Three
तीन
02. Two
दो

04. More than three
तीन से अधिक

Solution for Question 27 Ans Key: 2

eng/eng

FLOOR	COLOR	PERSON
7	GREEN	A
6	BLUE	B
5	RED	D
4	PEACH	C
3	WHITE	E
2	YELLOW	F
1	BROWN	G

मंजिल	रंग	व्यक्ति
7	हरा	A
6	नीला	B
5	लाल	D
4	पीच	C
3	सफ़ेद	E
2	पीला	F
1	भूरा	G

eng/hin

FLOOR	COLOR	PERSON
7	GREEN	A
6	BLUE	B
5	RED	D
4	PEACH	C
3	WHITE	E
2	YELLOW	F
1	BROWN	G

मंजिल	रंग	व्यक्ति

7	हरा	A
6	नीला	B
5	लाल	D
4	पीच	C
3	सफ़ेद	E
2	पीला	F
1	भूरा	G

Passage for Question 28, 29, 30, 31, 32 (ST-2061RRBCLERKMAINS(28-32R)2020-NP)

eng/eng Passage

Each of the questions below consists of a question and three statements numbered I, II and III given below it. You have to decide whether the data provided in the statements are sufficient to answer the question. Read all the three statements and Give answer:

नीचे दिए गए प्रत्येक प्रश्न में, एक प्रश्न दिया है और उसके नीचे तीन कथन दिए गए हैं, जिनका क्रमांक I, II और III है। आपको यह निर्धारित करना है कि क्या प्रश्नों का उत्तर देने के लिए कथनों में दिए गए आंकड़े पर्याप्त हैं। तीनों कथनों को पढ़िए और उत्तर दीजिए।

eng hin Passage

Each of the questions below consists of a question and three statements numbered I, II and III given below it. You have to decide whether the data provided in the statements are sufficient to answer the question. Read all the three statements and Give answer:

नीचे दिए गए प्रत्येक प्रश्न में, एक प्रश्न दिया है और उसके नीचे तीन कथन दिए गए हैं, जिनका क्रमांक I, II और III है। आपको यह निर्धारित करना है कि क्या प्रश्नों का उत्तर देने के लिए कथनों में दिए गए आंकड़े पर्याप्त हैं। तीनों कथनों को पढ़िए और उत्तर दीजिए।

Q-28 Who among A, B, C, D and E is driving the four wheeler?
eng/eng A, B, C, D और E में से, चार पहिये की गाड़ी कौन चला रहा है?

- (i) B and C are drunk.
- (ii) D does not have the driving license.
- (iii) D and C are sitting together.
- (i) B और C नशे में हैं।
- (ii) D के पास ड्राइविंग लाइसेंस नहीं है।
- (iii) D और C एक साथ बैठे हैं।

01. If the data in Statement I and II are sufficient to answer the question while the data in Statement III is not required to answer the question
यदि कथन I और II में दिए गए डेटा प्रश्न का उत्तर देने के लिए पर्याप्त हैं, जबकि कथन III में दिए गए डेटा प्रश्न का उत्तर देने के लिए आवश्यक नहीं हैं।
02. If the data in Statement I and III are sufficient to answer the question, while the data in Statement II is not required to answer the question
यदि कथन I और III में दिए गए डेटा प्रश्न का उत्तर देने के लिए पर्याप्त हैं, जबकि कथन II में दिए गए डेटा प्रश्न का उत्तर देने के लिए आवश्यक नहीं हैं।
03. If the data in Statement II and III are sufficient to answer the question, while the data in Statement I is not required to answer the question
यदि कथन II और III में दिए गए डेटा प्रश्न का उत्तर देने के लिए पर्याप्त हैं, जबकि कथन I में दिए गए डेटा प्रश्न का उत्तर देने के लिए आवश्यक नहीं हैं।
04. If even the data in Statement I, II and III together are not sufficient to answer the question.
यदि कथन I, II और III में दिए गए डेटा मिलाकर भी प्रश्न का उत्तर देने के लिए पर्याप्त नहीं हैं।
05. If the data in all the Statement I, II and III together are necessary to answer the question.
यदि कथन I, II और III में दिए गए डेटा मिलाकर प्रश्न का उत्तर देने के लिए आवश्यक हैं।

Q-28 Who among A, B, C, D and E is driving the four wheeler?
eng hin A, B, C, D और E में से, चार पहिये की गाड़ी कौन चला रहा है?

- (i) B and C are drunk.
- (ii) D does not have the driving license.
- (iii) D and C are sitting together.

- (i) B और C नशे में है।
(ii) D के पास ड्राइविंग लाइसेंस नहीं है।
(iii) D और C एक साथ बैठे हैं।

- 01.** If the data in Statement I and II are sufficient to answer the question while the data in Statement III is not required to answer the question
यदि कथन I और II में दिए गए डेटा प्रश्न का उत्तर देने के लिए पर्याप्त हैं, जबकि कथन III में दिए गए डेटा प्रश्न का उत्तर देने के लिए आवश्यक नहीं हैं।
- 02.** If the data in Statement I and III are sufficient to answer the question, while the data in Statement II is not required to answer the question
यदि कथन I और III में दिए गए डेटा प्रश्न का उत्तर देने के लिए पर्याप्त हैं, जबकि कथन II में दिए गए डेटा प्रश्न का उत्तर देने के लिए आवश्यक नहीं हैं।
- 03.** If the data in Statement II and III are sufficient to answer the question, while the data in Statement I is not required to answer the question
यदि कथन II और III में दिए गए डेटा प्रश्न का उत्तर देने के लिए पर्याप्त हैं, जबकि कथन I में दिए गए डेटा प्रश्न का उत्तर देने के लिए आवश्यक नहीं हैं।
- 04.** If even the data in Statement I, II and III together are not sufficient to answer the question.
यदि कथन I, II और III में दिए गए डेटा मिलाकर भी प्रश्न का उत्तर देने के लिए पर्याप्त नहीं हैं।
- 05.** If the data in all the Statement I, II and III together are necessary to answer the question.
यदि कथन I, II और III में दिए गए डेटा मिलाकर प्रश्न का उत्तर देने के लिए आवश्यक हैं।

Solution for Question 28

Ans Key: 4

eng/eng None is sufficient as the person can be drunk or not have driving liscence but still be driving the vehicle.

eng hin None is sufficient as the person can be drunk or not have driving liscence but still be driving the vehicle.

Q-29 Who is the tallest among A, B, C, D and E?

eng/eng A, B, C, D और E में से सबसे लंबा कौन है?

- (i) E is heavier than D and B. Neither D nor B is the shortest.
(ii) A is taller than B. Neither B nor C is the shortest.
(iii) C is shorter than B but lighter than B.
(i) E, D और B से भारी है। न तो D न ही B सबसे छोटा है।
(ii) A, B से लंबा है। न तो B न ही C सबसे छोटा है।
(iii) C, B से छोटा है लेकिन B से हल्का है।

- 01.** If the data in Statement I and II are sufficient to answer the question while the data in Statement III is not required to answer the question
यदि कथन I और II में दिए गए डेटा प्रश्न का उत्तर देने के लिए पर्याप्त हैं, जबकि कथन III में दिए गए डेटा प्रश्न का उत्तर देने के लिए आवश्यक नहीं हैं।
- 02.** If the data in Statement I and III are sufficient to answer the question, while the data in Statement II is not required to answer the question
यदि कथन I और III में दिए गए डेटा प्रश्न का उत्तर देने के लिए पर्याप्त हैं, जबकि कथन II में दिए गए डेटा प्रश्न का उत्तर देने के लिए आवश्यक नहीं हैं।
- 03.** If the data in Statement II and III are sufficient to answer the question, while the data in Statement I is not required to answer the question
यदि कथन II और III में दिए गए डेटा प्रश्न का उत्तर देने के लिए पर्याप्त हैं, जबकि कथन I में दिए गए डेटा प्रश्न का उत्तर देने के लिए आवश्यक नहीं हैं।
- 04.** If even the data in Statement I, II and III together are not sufficient to answer the question.
यदि कथन I, II और III में दिए गए डेटा मिलाकर भी प्रश्न का उत्तर देने के लिए पर्याप्त नहीं हैं।
- 05.** If the data in all the Statement I, II and III together are necessary to answer the question.
यदि कथन I, II और III में दिए गए डेटा मिलाकर प्रश्न का उत्तर देने के लिए आवश्यक हैं।

Q-29 Who is the tallest among A, B, C, D and E?

eng hin A, B, C, D और E में से सबसे लंबा कौन है?

- (i) E is heavier than D and B. Neither D nor B is the shortest.
(ii) A is taller than B. Neither B nor C is the shortest.

- (iii) C is shorter than B but lighter than B.
 (i) E, D और B से भारी है। न तो D न ही B सबसे छोटा है।
 (ii) A, B से लंबा है। न तो B न ही C सबसे छोटा है।
 (iii) C, B से छोटा है लेकिन B से हल्का है।

01. If the data in Statement I and II are sufficient to answer the question while the data in Statement III is not required to answer the question
 यदि कथन I और II में दिए गए डेटा प्रश्न का उत्तर देने के लिए पर्याप्त हैं, जबकि कथन III में दिए गए डेटा प्रश्न का उत्तर देने के लिए आवश्यक नहीं हैं।
02. If the data in Statement I and III are sufficient to answer the question, while the data in Statement II is not required to answer the question
 यदि कथन I और III में दिए गए डेटा प्रश्न का उत्तर देने के लिए पर्याप्त हैं, जबकि कथन II में दिए गए डेटा प्रश्न का उत्तर देने के लिए आवश्यक नहीं हैं।
03. If the data in Statement II and III are sufficient to answer the question, while the data in Statement I is not required to answer the question
 यदि कथन II और III में दिए गए डेटा प्रश्न का उत्तर देने के लिए पर्याप्त हैं, जबकि कथन I में दिए गए डेटा प्रश्न का उत्तर देने के लिए आवश्यक नहीं हैं।
04. If even the data in Statement I, II and III together are not sufficient to answer the question.
 यदि कथन I, II और III में दिए गए डेटा मिलाकर भी प्रश्न का उत्तर देने के लिए पर्याप्त नहीं हैं।
05. If the data in all the Statement I, II and III together are necessary to answer the question.
 यदि कथन I, II और III में दिए गए डेटा मिलाकर प्रश्न का उत्तर देने के लिए आवश्यक हैं।

Solution for Question 29

Ans Key: 1

eng/eng From (i) and (ii) we can say that A is the tallest.
 (I) और (ii) से हम कह सकते हैं कि A सबसे लंबा है।

eng hin From (i) and (ii) we can say that A is the tallest.
 (I) और (ii) से हम कह सकते हैं कि A सबसे लंबा है।

Q-30 Which of the following persons is B married to amongst A, C, D and E who all belong to the same family?
 निम्नलिखित एक ही परिवार के व्यक्तियों A, C, D और E में से कौन सा व्यक्ति, B से विवाह करता है?

- (i) No one among B, C or E is the oldest member of the family. D is the father of A.
 (ii) C is the daughter of D. E is the youngest member.
 (iii) D has only two children and one of them is a mother. A is unmarried.
 (i) B, C या E में से कोई भी आयु में परिवार का सबसे बड़ा सदस्य नहीं है। D, A का पिता है।
 (ii) C, D की पुत्री है। E सबसे छोटा सदस्य है।
 (iii) D के केवल दो बच्चे हैं और उनमें से एक माँ है। A अविवाहित है।

01. If the data in Statement I and II are sufficient to answer the question while the data in Statement III is not required to answer the question
 यदि कथन I और II में दिए गए डेटा प्रश्न का उत्तर देने के लिए पर्याप्त हैं, जबकि कथन III में दिए गए डेटा प्रश्न का उत्तर देने के लिए आवश्यक नहीं हैं।
02. If the data in Statement I and III are sufficient to answer the question, while the data in Statement II is not required to answer the question
 यदि कथन I और III में दिए गए डेटा प्रश्न का उत्तर देने के लिए पर्याप्त हैं, जबकि कथन II में दिए गए डेटा प्रश्न का उत्तर देने के लिए आवश्यक नहीं हैं।
03. If the data in Statement II and III are sufficient to answer the question, while the data in Statement I is not required to answer the question
 यदि कथन II और III में दिए गए डेटा प्रश्न का उत्तर देने के लिए पर्याप्त हैं, जबकि कथन I में दिए गए डेटा प्रश्न का उत्तर देने के लिए आवश्यक नहीं हैं।
04. If even the data in Statement I, II and III together are not sufficient to answer the question.
 यदि कथन I, II और III में दिए गए डेटा मिलाकर भी प्रश्न का उत्तर देने के लिए पर्याप्त नहीं हैं।
05. If the data in all the Statement I, II and III together are necessary to answer the question.
 यदि कथन I, II और III में दिए गए डेटा मिलाकर प्रश्न का उत्तर देने के लिए आवश्यक हैं।

Q-30 Which of the following persons is B married to amongst A, C, D and E who all belong to the same family?
 निम्नलिखित एक ही परिवार के व्यक्तियों A, C, D और E में से कौन सा व्यक्ति, B से विवाह करता है?

(i) No one among B, C or E is the oldest member of the family. D is the father of A.

(ii) C is the daughter of D. E is the youngest member.

(iii) D has only two children and one of them is a mother. A is unmarried.

(i) B, C या E में से कोई भी आयु में परिवार का सबसे बड़ा सदस्य नहीं है। D, A का पिता है।

(ii) C, D की पुत्री है। E सबसे छोटा सदस्य है।

(iii) D के केवल दो बच्चे हैं और उनमें से एक माँ है। A अविवाहित है।

01. If the data in Statement I and II are sufficient to answer the question while the data in Statement III is not required to answer the question

यदि कथन I और II में दिए गए डेटा प्रश्न का उत्तर देने के लिए पर्याप्त हैं, जबकि कथन III में दिए गए डेटा प्रश्न का उत्तर देने के लिए आवश्यक नहीं हैं।

03. If the data in Statement II and III are sufficient to answer the question, while the data in Statement I is not required to answer the question

यदि कथन II और III में दिए गए डेटा प्रश्न का उत्तर देने के लिए पर्याप्त हैं, जबकि कथन I में दिए गए डेटा प्रश्न का उत्तर देने के लिए आवश्यक नहीं हैं।

05. If the data in all the Statement I, II and III together are necessary to answer the question.

यदि कथन I, II और III में दिए गए डेटा मिलाकर प्रश्न का उत्तर देने के लिए आवश्यक हैं।

02. If the data in Statement I and III are sufficient to answer the question, while the data in Statement II is not required to answer the question

यदि कथन I और III में दिए गए डेटा प्रश्न का उत्तर देने के लिए पर्याप्त हैं, जबकि कथन II में दिए गए डेटा प्रश्न का उत्तर देने के लिए आवश्यक नहीं हैं।

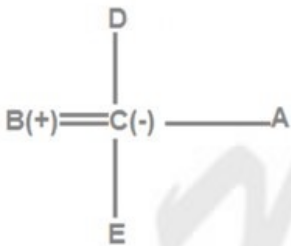
04. If even the data in Statement I, II and III together are not sufficient to answer the question.

यदि कथन I, II और III में दिए गए डेटा मिलाकर भी प्रश्न का उत्तर देने के लिए पर्याप्त नहीं हैं।

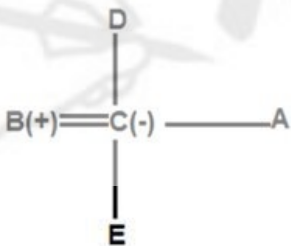
Solution for Question 30

Ans Key: 5

eng/eng



eng/hin



Q-31 Who among A, B, C and D was the first to reach the office?

eng/eng

A, B, C और D में से कौन सबसे पहले कार्यालय पहुँचता है?

(i) B was struck in a traffic jam therefore he reached late. C reached before D but none of them was the first to reach.

(ii) A reached right on the closing time of the office,

(iii) B was not among the last two persons to reach the office.

(i) B ट्रैफिक जाम में फँस गया था, इस कारण वह देरी से पहुँचा। C, D से पहले पहुँचा लेकिन उनमें से कोई भी सबसे पहले नहीं पहुँचा।

(ii) A कार्यालय के बंद होने के समय पहुँचा

(iii) B कार्यालय पहुँचने वाले अंतिम दो व्यक्तियों में से एक नहीं था।

01. If the data in Statement I and II are sufficient to answer the question while the data in Statement III is not required to answer the question

यदि कथन I और II में दिए गए डेटा प्रश्न का उत्तर देने के लिए पर्याप्त हैं, जबकि कथन III में दिए गए डेटा प्रश्न का उत्तर देने के लिए

02. If the data in Statement I and III are sufficient to answer the question, while the data in Statement II is not required to answer the question

यदि कथन I और III में दिए गए डेटा प्रश्न का उत्तर देने के लिए पर्याप्त हैं, जबकि कथन II में दिए गए डेटा प्रश्न का उत्तर देने के लिए आवश्यक नहीं हैं।

आवश्यक नहीं हैं।

03. If the data in Statement II and III are sufficient to answer the question, while the data in Statement I is not required to answer the question
यदि कथन II और III में दिए गए डेटा प्रश्न का उत्तर देने के लिए पर्याप्त हैं, जबकि कथन I में दिए गए डेटा प्रश्न का उत्तर देने के लिए आवश्यक नहीं हैं।

05. If the data in all the Statement I, II and III together are necessary to answer the question.
यदि कथन I, II और III में दिए गए डेटा मिलाकर प्रश्न का उत्तर देने के लिए आवश्यक हैं।

04. If even the data in Statement I, II and III together are not sufficient to answer the question.
यदि कथन I, II और III में दिए गए डेटा मिलाकर भी प्रश्न का उत्तर देने के लिए पर्याप्त नहीं हैं।

Q-31
eng hin

Who among A, B, C and D was the first to reach the office?
A, B, C और D में से कौन सबसे पहले कार्यालय पहुँचता है?

- (i) B was struck in a traffic jam therefore he reached late. C reached before D but none of them was the first to reach.
(ii) A reached right on the closing time of the office,
(iii) B was not among the last two persons to reach the office.
(i) B ट्रैफिक जाम में फँस गया था, इस कारण वह देरी से पहुँचा। C, D से पहले पहुँचा लेकिन उनमें से कोई भी सबसे पहले नहीं पहुँचा।
(ii) A कार्यालय के बंद होने के समय पहुँचा
(iii) B कार्यालय पहुँचने वाले अंतिम दो व्यक्तियों में से एक नहीं था।

01. If the data in Statement I and II are sufficient to answer the question while the data in Statement III is not required to answer the question
यदि कथन I और II में दिए गए डेटा प्रश्न का उत्तर देने के लिए पर्याप्त हैं, जबकि कथन III में दिए गए डेटा प्रश्न का उत्तर देने के लिए आवश्यक नहीं हैं।

03. If the data in Statement II and III are sufficient to answer the question, while the data in Statement I is not required to answer the question
यदि कथन II और III में दिए गए डेटा प्रश्न का उत्तर देने के लिए पर्याप्त हैं, जबकि कथन I में दिए गए डेटा प्रश्न का उत्तर देने के लिए आवश्यक नहीं हैं।

05. If the data in all the Statement I, II and III together are necessary to answer the question.
यदि कथन I, II और III में दिए गए डेटा मिलाकर प्रश्न का उत्तर देने के लिए आवश्यक हैं।

02. If the data in Statement I and III are sufficient to answer the question, while the data in Statement II is not required to answer the question
यदि कथन I और III में दिए गए डेटा प्रश्न का उत्तर देने के लिए पर्याप्त हैं, जबकि कथन II में दिए गए डेटा प्रश्न का उत्तर देने के लिए आवश्यक नहीं हैं।

04. If even the data in Statement I, II and III together are not sufficient to answer the question.
यदि कथन I, II और III में दिए गए डेटा मिलाकर भी प्रश्न का उत्तर देने के लिए पर्याप्त नहीं हैं।

Solution for Question 31

Ans Key: 2

eng/eng

I-
A C D B
A C B D
A B C D

I + III-
A B C D

eng hin

I-
A C D B
A C B D
A B C D

I + III-
A B C D

Q-32
eng/eng

Question: How many children are there between P and Q in a row of children?
बच्चों की एक पंक्ति में P और Q के बीच कितने बच्चे हैं?

Statements:

- (i) P is fifteenth from the left in the row.

- (ii) Q is exactly in the middle.
 (iii) There are ten children towards right of Q.
 (i) P पंक्ति में बाईं ओर से पंद्रहवां है।
 (ii) Q बिल्कुल बीच में है।
 (iii) Q के दाईं ओर दस बच्चे हैं।

01. If the data in Statement I and II are sufficient to answer the question while the data in Statement III is not required to answer the question
 यदि कथन I और II में दिए गए डेटा प्रश्न का उत्तर देने के लिए पर्याप्त हैं, जबकि कथन III में दिए गए डेटा प्रश्न का उत्तर देने के लिए आवश्यक नहीं हैं।
02. If the data in Statement I and III are sufficient to answer the question, while the data in Statement II is not required to answer the question
 यदि कथन I और III में दिए गए डेटा प्रश्न का उत्तर देने के लिए पर्याप्त हैं, जबकि कथन II में दिए गए डेटा प्रश्न का उत्तर देने के लिए आवश्यक नहीं हैं।
03. If the data in Statement II and III are sufficient to answer the question, while the data in Statement I is not required to answer the question
 यदि कथन II और III में दिए गए डेटा प्रश्न का उत्तर देने के लिए पर्याप्त हैं, जबकि कथन I में दिए गए डेटा प्रश्न का उत्तर देने के लिए आवश्यक नहीं हैं।
04. If even the data in Statement I, II and III together are not sufficient to answer the question.
 यदि कथन I, II और III में दिए गए डेटा मिलाकर भी प्रश्न का उत्तर देने के लिए पर्याप्त नहीं हैं।
05. If the data in all the Statement I, II and III together are necessary to answer the question.
 यदि कथन I, II और III में दिए गए डेटा मिलाकर प्रश्न का उत्तर देने के लिए आवश्यक हैं।

Q-32 Question: How many children are there between P and Q in a row of children?
eng hin बच्चों की एक पंक्ति में P और Q के बीच कितने बच्चे हैं?

Statements:

- (i) P is fifteenth from the left in the row.
 (ii) Q is exactly in the middle.
 (iii) There are ten children towards right of Q.
 (i) P पंक्ति में बाईं ओर से पंद्रहवां है।
 (ii) Q बिल्कुल बीच में है।
 (iii) Q के दाईं ओर दस बच्चे हैं।

01. If the data in Statement I and II are sufficient to answer the question while the data in Statement III is not required to answer the question
 यदि कथन I और II में दिए गए डेटा प्रश्न का उत्तर देने के लिए पर्याप्त हैं, जबकि कथन III में दिए गए डेटा प्रश्न का उत्तर देने के लिए आवश्यक नहीं हैं।
02. If the data in Statement I and III are sufficient to answer the question, while the data in Statement II is not required to answer the question
 यदि कथन I और III में दिए गए डेटा प्रश्न का उत्तर देने के लिए पर्याप्त हैं, जबकि कथन II में दिए गए डेटा प्रश्न का उत्तर देने के लिए आवश्यक नहीं हैं।
03. If the data in Statement II and III are sufficient to answer the question, while the data in Statement I is not required to answer the question
 यदि कथन II और III में दिए गए डेटा प्रश्न का उत्तर देने के लिए पर्याप्त हैं, जबकि कथन I में दिए गए डेटा प्रश्न का उत्तर देने के लिए आवश्यक नहीं हैं।
04. If even the data in Statement I, II and III together are not sufficient to answer the question.
 यदि कथन I, II और III में दिए गए डेटा मिलाकर भी प्रश्न का उत्तर देने के लिए पर्याप्त नहीं हैं।
05. If the data in all the Statement I, II and III together are necessary to answer the question.
 यदि कथन I, II और III में दिए गए डेटा मिलाकर प्रश्न का उत्तर देने के लिए आवश्यक हैं।

Q-33 Three assumptions are given after a statement. Read the statement and decide which of the following assumptions is/are implicit in the statement.
eng/eng

Statement: Delhi people were spellbound and got mad when they saw the famous Bollywood singer Arjit Singh hi-tech megawatt performance.

Assumptions:

- I. When a show is accompanied by the latest technology, it has a magical effect.
 II. Delhi people were never impressed with performances by Indian musicians.
 III. Arjit Singh is a super singer.

एक कथन के बाद तीन पूर्वधारणाएं दी गई हैं। कथन पढ़ें और निर्णय लें कि निम्नलिखित में से कौन-सी पूर्वधारणाएं कथन में अन्तर्निहित हैं/हैं।

कथन: जब दिल्ली के मशहूर गायक अरिजीत सिंह हाई-टेक मेगावट का प्रदर्शन देख रहे थे तो दिल्ली के लोग मंत्रमुग्ध और पागल हो गए।

पूर्वधारणाएं-

I. जब कोई शो लेटेस्ट टेक्नोलॉजी के साथ होता है तो इसका एक जादुई असर होता है।

II. भारतीय संगीतकारों के प्रदर्शन से दिल्ली के लोग कभी प्रभावित नहीं हुए।

III. अरिजीत सिंह एक सुपर सिंगर हैं।

01. Only I is implicit
केवल I अंतर्निहित

02. Only II is implicit
केवल II अंतर्निहित

03. Only I and III are implicit
केवल I और III अंतर्निहित

04. Either II or III is implicit
या तो II या III अंतर्निहित

05. Only II and III are implicit
केवल II और III अंतर्निहित हैं

Q-33
eng hin

Three assumptions are given after a statement. Read the statement and decide which of the following assumptions is/are implicit in the statement.

Statement: Delhi people were spellbound and got mad when they saw the famous Bollywood singer Arjit Singh hi-tech megawatt performance.

Assumptions:

I. When a show is accompanied by the latest technology, it has a magical effect.

II. Delhi people were never impressed with performances by Indian musicians.

III. Arjit Singh is a super singer.

एक कथन के बाद तीन पूर्वधारणाएं दी गई हैं। कथन पढ़ें और निर्णय लें कि निम्नलिखित में से कौन-सी पूर्वधारणाएं कथन में अन्तर्निहित हैं/हैं।

कथन: जब दिल्ली के मशहूर गायक अरिजीत सिंह हाई-टेक मेगावट का प्रदर्शन देख रहे थे तो दिल्ली के लोग मंत्रमुग्ध और पागल हो गए।

पूर्वधारणाएं-

I. जब कोई शो लेटेस्ट टेक्नोलॉजी के साथ होता है तो इसका एक जादुई असर होता है।

II. भारतीय संगीतकारों के प्रदर्शन से दिल्ली के लोग कभी प्रभावित नहीं हुए।

III. अरिजीत सिंह एक सुपर सिंगर हैं।

01. Only I is implicit
केवल I अंतर्निहित

02. Only II is implicit
केवल II अंतर्निहित

03. Only I and III are implicit
केवल I और III अंतर्निहित

04. Either II or III is implicit
या तो II या III अंतर्निहित

05. Only II and III are implicit
केवल II और III अंतर्निहित हैं

Q-34
eng/eng

Three courses of action are given after a statement. Read the statement and decide which of the following courses of action should be taken to improve the situation in the statement.

Statement:

The district magistrate of Delhi city has proposed to install a plant of mineral water and to supply citizen's mineral water bottles at Rs. 11 per litre as against Rs. 15 per litre being sold by local private companies.

Courses of action:

I. The local private companies of Delhi city will have to close their operation.

II. The corporation of Delhi city will have to provide for losses in this project in its budget.

III. The tap water schemes of Delhi city will have to be stopped.

IV. The local private companies should also sell the bottles at Rs. 11 per bottle to stay in the market.

एक कथन के बाद तीन कार्यवाही दी गई हैं। कथन पढ़ें और निर्णय लें कि कथन में स्थिति को बेहतर बनाने के लिए निम्नलिखित में से कौन-सी कार्यवाही लिया जाना चाहिए।

कथन :

दिल्ली शहर के जिलाधिकारी ने मिनरल वाटर का प्लांट लगाने और स्थानीय निजी कंपनियों द्वारा बेचे जा रहे 15 रुपये प्रति लीटर के मुकाबले 11 रुपये प्रति लीटर के हिसाब से सिटीजन मिनरल वाटर की बोतलों की आपूर्ति करने का प्रस्ताव दिया है।

कार्यवाही :

I. दिल्ली शहर की स्थानीय निजी कंपनियों को अपना ऑपरेशन बंद करना होगा।

II. दिल्ली शहर के निगम को अपने बजट में इस प्रोजेक्ट में घाटे का प्रावधान करना होगा।

III. दिल्ली शहर की नल जल योजनाओं को रोकना होगा।

IV. स्थानीय निजी कंपनियों को भी बाजार में रहने के लिए बोतलों को 11 रुपये प्रति बोतल के हिसाब से बेचना चाहिए।

01. Only I and II follow
केवल I और II

02. Only II and III follow
केवल II और III

03. Only I and III follow
केवल I और III

04. All follow
सभी अनुसरण करते हैं

05. None of these.
इनमें से कोई नहीं

Q-34
eng hin

Three courses of action are given after a statement. Read the statement and decide which of the following courses of action should be taken to improve the situation in the statement.

Statement:

The district magistrate of Delhi city has proposed to install a plant of mineral water and to supply citizen's mineral water bottles at Rs. 11 per litre as against

Rs. 15 per litre being sold by local private companies.

Courses of action:

- I. The local private companies of Delhi city will have to close their operation.
- II. The corporation of Delhi city will have to provide for losses in this project in its budget.
- III. The tap water schemes of Delhi city will have to be stopped.
- IV. The local private companies should also sell the bottles at Rs. 11 per bottle to stay in the market.

एक कथन के बाद तीन कार्रवाई दी गई हैं। कथन पढ़ें और निर्णय लें कि कथन में स्थिति को बेहतर बनाने के लिए निम्नलिखित में से कौन-सी कार्रवाई लिया जाना चाहिए।

कथन :

दिल्ली शहर के जिलाधिकारी ने मिनरल वाटर का प्लांट लगाने और स्थानीय निजी कंपनियों द्वारा बेचे जा रहे 15 रुपये प्रति लीटर के मुकाबले 11 रुपये प्रति लीटर के हिसाब से सिटीजन मिनरल वाटर की बोतलों की आपूर्ति करने का प्रस्ताव दिया है।

कार्यवाही :

- I. दिल्ली शहर की स्थानीय निजी कंपनियों को अपना ऑपरेशन बंद करना होगा।
- II. दिल्ली शहर के निगम को अपने बजट में इस प्रोजेक्ट में घाटे का प्रावधान करना होगा।
- III- दिल्ली शहर की नल जल योजनाओं को रोकना होगा।
- IV- स्थानीय निजी कंपनियों को भी बाजार में रहने के लिए बोतलों को 11 रुपये प्रति बोतल के हिसाब से बेचना चाहिए।

- | | |
|---|---|
| 01. Only I and II follow
केवल I और II | 02. Only II and III follow
केवल II और III |
| 03. Only I and III follow
केवल I और III | 04. All follow
सभी अनुसरण करते हैं |
| 05. None of these.
इनमें से कोई नहीं | |

Solution for Question 34

Ans Key: 5

eng/eng	None of the actions is justified. The option available for local private companies is to cut down on their unnecessary expenditure and maintain the quality of water rather than closing down their operations or reducing the price of bottles to Rs. 8 per bottle. कोई भी कार्य उचित नहीं है। स्थानीय निजी कंपनियों के लिए उपलब्ध विकल्प उनके अनावश्यक खर्च में कटौती करना और उनके संचालन को बंद करने या बोतलों की कीमत को प्रति बोतल 8 रु कम करने के बजाय पानी की गुणवत्ता को बनाए रखना है।
eng hin	None of the actions is justified. The option available for local private companies is to cut down on their unnecessary expenditure and maintain the quality of water rather than closing down their operations or reducing the price of bottles to Rs. 8 per bottle. कोई भी कार्य उचित नहीं है। स्थानीय निजी कंपनियों के लिए उपलब्ध विकल्प उनके अनावश्यक खर्च में कटौती करना और उनके संचालन को बंद करने या बोतलों की कीमत को प्रति बोतल 8 रु कम करने के बजाय पानी की गुणवत्ता को बनाए रखना है।

Q-35
eng/eng Four courses of action are given after a statement. Read the statement and decide which of the following courses of action should be taken to improve the situation in the statement.

Statement:

In city bareilly a large number of students studying go in government school could not pass the 12th standard Board examination causing frustration among the students and their parents.

Courses of action:

- I. The government authority of city should immediately review the position and initiate measures to improve the situation.
- II. The government authority of city should immediately fill up the teachers vacancies in the government school.
- III. The government authority of city should close down some of their schools and concentrate their attention on remaining schools to improve the conditions.
- IV. The government authority of city should not conduct exams and based upon the attendance grade the students.

एक कथन के बाद चार कार्रवाई दी गई हैं। कथन पढ़ें और निर्णय लें कि कथन में स्थिति को बेहतर बनाने के लिए निम्नलिखित में से कौन-सी कार्रवाई लिया जाना चाहिए।

कथन:

शहर के बरेली में सरकारी स्कूल में पढ़ने वाले बड़ी संख्या में छात्र 12वीं कक्षा की बोर्ड परीक्षा पास नहीं कर सके जिससे छात्रों और उनके अभिभावकों में हताशा पैदा हो गई।

कार्यवाही:

- I. शहर के सरकारी प्राधिकरण को तुरंत स्थिति की समीक्षा करनी चाहिए और स्थिति में सुधार के उपाय शुरू करने चाहिए
- II. शहर के सरकारी प्राधिकरण को तुरंत सरकारी स्कूल में शिक्षकों के रिक्त पदों को भरना चाहिए।
- III. शहर के सरकारी प्राधिकरण को अपने कुछ स्कूलों को बंद करना चाहिए और स्थिति में सुधार के लिए शेष स्कूलों पर अपना ध्यान केंद्रित करना चाहिए।
- IV. शहर के सरकारी प्राधिकरण को परीक्षा आयोजित नहीं करनी चाहिए और छात्रों की उपस्थिति ग्रेड के आधार पर।

- | | |
|--|--|
| 01. Only I & II follow केवल I और II अनुसरण करते हैं | 02. Only II & III follow केवल II और III अनुसरण करते हैं |
| 03. Only I follows केवल I अनुसरण करता है | 04. All follow सभी अनुसरण करते हैं |
| 05. None of these इनमें से कोई नहीं | |

Q-35
eng hin Four courses of action are given after a statement. Read the statement and decide which of the following courses of action should be taken to improve the situation in the statement.

Statement:

In city bareilly a large number of students studying go in government school could not pass the 12th standard Board examination causing frustration among the students and their parents.

Courses of action:

- I. The government authority of city should immediately review the position and initiate measures to improve the situation.
- II. The government authority of city should immediately fill up the teachers vacancies in the government school.

III. The government authority of city should close down some of their schools and concentrate their attention on remaining schools to improve the conditions.

IV. The government authority of city should not conduct exams and based upon the attendance grade the students.

एक कथन के बाद चार कार्रवाई दी गई हैं। कथन पढ़ें और निर्णय लें कि कथन में स्थिति को बेहतर बनाने के लिए निम्नलिखित में से कौन-सी कार्रवाई लिया जाना चाहिए।

कथन:

शहर के बरेली में सरकारी स्कूल में पढ़ने वाले बड़ी संख्या में छात्र 12वीं कक्षा की बोर्ड परीक्षा पास नहीं कर सके जिससे छात्रों और उनके अभिभावकों में हताशा पैदा हो गई।

कार्यवाही:

I. शहर के सरकारी प्राधिकरण को तुरंत स्थिति की समीक्षा करनी चाहिए और स्थिति में सुधार के उपाय शुरू करने चाहिए

II. शहर के सरकारी प्राधिकरण को तुरंत सरकारी स्कूल में शिक्षकों के रिक्त पदों को भरना चाहिए।

III. शहर के सरकारी प्राधिकरण को अपने कुछ स्कूलों को बंद करना चाहिए और स्थिति में सुधार के लिए शेष स्कूलों पर अपना ध्यान केंद्रित करना चाहिए।

IV. शहर के सरकारी प्राधिकरण को परीक्षा आयोजित नहीं करनी चाहिए और छात्रों की उपस्थिति ग्रेड के आधार पर।

01. Only I & II follow केवल I और II अनुसरण करते हैं

02. Only II & III follow केवल I और III अनुसरण करते हैं

03. Only I follows केवल I अनुसरण करता है

04. All follow सभी अनुसरण करते हैं

05. None of these इनमें से कोई नहीं

Solution for Question 35

Ans Key: 3

eng/eng It is not clear whether the new teachers appointed are competent to teach the students so, II is not justified. Closing down of some of the schools is also not a wise decision as then the students of the area will not get an opportunity to study. Also, they may not be in a position to travel to school located at far of places. So, III is not justified. Also to grade the students based on their attendance does not look logical, as attending school is no way related to gaining knowledge. So, IV does not follow. But option I looks logical.

यह स्पष्ट नहीं है कि नियुक्त किए गए नए शिक्षक छात्रों को पढ़ाने के लिए सक्षम हैं या नहीं, II उचित नहीं है। कुछ विद्यालयों को बंद करना भी एक बुद्धिमान निर्णय नहीं है क्योंकि तब क्षेत्र के छात्रों को अध्ययन करने का अवसर नहीं मिलेगा। इसके अलावा, वे कई स्थानों पर स्थित स्कूल की यात्रा करने की स्थिति में नहीं हो सकते हैं। तो, III उचित नहीं है। अपनी उपस्थिति के आधार पर छात्रों को ग्रेड देना भी तर्कसंगत नहीं लगता है, क्योंकि स्कूल जाना ज्ञान प्राप्त करने से संबंधित नहीं है। तो, IV अनुसरण नहीं करता है। लेकिन विकल्प I तार्किक लगता है।

eng hin It is not clear whether the new teachers appointed are competent to teach the students so, II is not justified. Closing down of some of the schools is also not a wise decision as then the students of the area will not get an opportunity to study. Also, they may not be in a position to travel to school located at far of places. So, III is not justified. Also to grade the students based on their attendance does not look logical, as attending school is no way related to gaining knowledge. So, IV does not follow. But option I looks logical.

यह स्पष्ट नहीं है कि नियुक्त किए गए नए शिक्षक छात्रों को पढ़ाने के लिए सक्षम हैं या नहीं, II उचित नहीं है। कुछ विद्यालयों को बंद करना भी एक बुद्धिमान निर्णय नहीं है क्योंकि तब क्षेत्र के छात्रों को अध्ययन करने का अवसर नहीं मिलेगा। इसके अलावा, वे कई स्थानों पर स्थित स्कूल की यात्रा करने की स्थिति में नहीं हो सकते हैं। तो, III उचित नहीं है। अपनी उपस्थिति के आधार पर छात्रों को ग्रेड देना भी तर्कसंगत नहीं लगता है, क्योंकि स्कूल जाना ज्ञान प्राप्त करने से संबंधित नहीं है। तो, IV अनुसरण नहीं करता है। लेकिन विकल्प I तार्किक लगता है।

Passage for Question 36, 37, 38, 39, 40 (ST-2061RRBCLERKMAINS(36-40R)2020-NP)

eng/eng Passage

In each question below are given some statements followed by some conclusions. You have to take the given statements to be true even if they seem to be at variance with commonly known facts. Read all the conclusions and then decide which of the given conclusions logically follows from the given statements, disregarding commonly known facts.

नीचे दिए गए प्रत्येक प्रश्न में कुछ कथनों के बाद कुछ निष्कर्ष दिए गए हैं। आपको दिए गए कथनों को सत्य मानना है, भले ही वे सामान्यतः ज्ञात तथ्यों के साथ विचरण करते हों। सभी निष्कर्षों को पढ़ें और फिर तय करें कि दिए गए कथनों में से कौन सा निष्कर्ष दिए गए कथनों से तार्किक रूप से अनुसरण करता है, सामान्यतः ज्ञात तथ्यों की अवहेलना करता है।

eng hin Passage

In each question below are given some statements followed by some conclusions. You have to take the given statements to be true even if they seem to be at variance with commonly known facts. Read all the conclusions and then decide which of the given conclusions logically follows from the given statements, disregarding commonly known facts.

नीचे दिए गए प्रत्येक प्रश्न में कुछ कथनों के बाद कुछ निष्कर्ष दिए गए हैं। आपको दिए गए कथनों को सत्य मानना है, भले ही वे सामान्यतः ज्ञात तथ्यों के साथ विचरण करते हों। सभी निष्कर्षों को पढ़ें और फिर तय करें कि दिए गए कथनों में से कौन सा निष्कर्ष दिए गए कथनों से तार्किक रूप से अनुसरण करता है, सामान्यतः ज्ञात तथ्यों की अवहेलना करता है।

Q-36

Statements:

Some B are T.

No T is a C.

Some C are W.

Conclusions:

I. Some B are not C.

II. Some T are W.

eng/eng

III. No C is a T.

कथन:

कुछ B, T हैं।

कोई T, C नहीं हैं।

कुछ C, W हैं।

निष्कर्ष:

I. कुछ B, C नहीं हैं।

II. कुछ T, W हैं।

III. कोई C, T नहीं हैं।

01. Only I follows
केवल I अनुसरण करता है

03. Only III follows
केवल III अनुसरण करता है

05. None of these
इनमें से कोई नहीं

02. Both I and III follow
I और III दोनों अनुसरण करते हैं

04. All follow
सभी अनुसरण करते हैं

Q-36
eng hin

Statements:

Some B are T.

No T is a C.

Some C are W.

Conclusions:

I. Some B are not C.

II. Some T are W.

III. No C is a T.

कथन:

कुछ B, T हैं।

कोई T, C नहीं हैं।

कुछ C, W हैं।

निष्कर्ष:

I. कुछ B, C नहीं हैं।

II. कुछ T, W हैं।

III. कोई C, T नहीं हैं।

01. Only I follows
केवल I अनुसरण करता है

03. Only III follows
केवल III अनुसरण करता है

05. None of these
इनमें से कोई नहीं

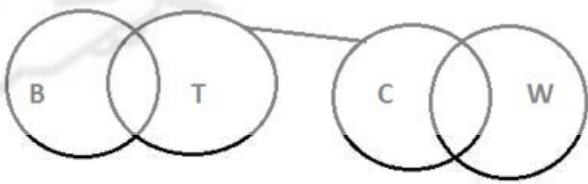
02. Both I and III follow
I और III दोनों अनुसरण करते हैं

04. All follow
सभी अनुसरण करते हैं

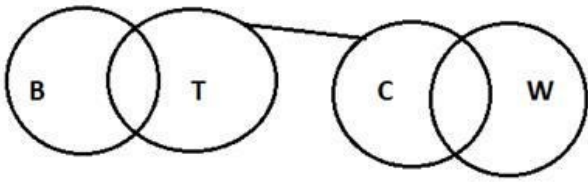
Solution for Question 36

Ans Key: 2

eng/eng



eng hin



Q-37
eng/eng

Statements:

Some A are D.

Some D are R.

All R are C.

Conclusions:

I. Some D are C.

II. All C are A.

III. All A are R.

कुछ A, D हैं।

कुछ D, R हैं।

सभी R, C हैं।

निष्कर्ष:

- I. कुछ D, C हैं।
II. सभी C, A हैं।
III. सभी A, R हैं।

01. Only I follows
केवल I अनुसरण करता है
03. Only III follows
केवल III अनुसरण करता है
05. None follows
कोई अनुसरण नहीं करता है

02. Only I and II follow
केवल I और II अनुसरण करते हैं
04. All follow
सभी अनुसरण करते हैं

Q-37
eng hin

Statements:

Some A are D.
Some D are R.
All R are C.

Conclusions:

- I. Some D are C.
II. All C are A.
III. All A are R.

कुछ A, D हैं।
कुछ D, R हैं।
सभी R, C हैं।

निष्कर्ष:

- I. कुछ D, C हैं।
II. सभी C, A हैं।
III. सभी A, R हैं।

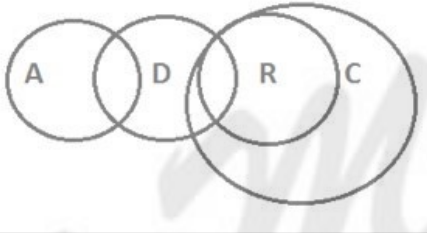
01. Only I follows
केवल I अनुसरण करता है
03. Only III follows
केवल III अनुसरण करता है
05. None follows
कोई अनुसरण नहीं करता है

02. Only I and II follow
केवल I और II अनुसरण करते हैं
04. All follow
सभी अनुसरण करते हैं

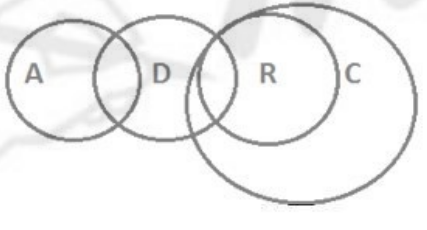
Solution for Question 37

Ans Key: 1

eng/eng



eng hin



Q-38
eng/eng

Statements:

Some S are P.
All P are Q.
No Q is C.

Conclusions:

- I. Some S are C.
II. Some S are Q.
III. Some P are C.

कथन:

कुछ S, P हैं।
सभी P, Q हैं।
कोई Q, C नहीं हैं।

निष्कर्ष:

- I. कुछ S, C हैं।
II. कुछ S, Q हैं।
III. कुछ P, C हैं।

01. Only II follows
केवल II अनुसरण करता है

02. Both I and III follow
I और III दोनों अनुसरण करते हैं

03. Only II and III follow
केवल II और III अनुसरण करते हैं

05. None follows
कोई अनुसरण नहीं करता है

04. All I, II and III follow
I, II और III सभी अनुसरण करते हैं

Q-38
eng hin

Statements:

Some S are P.

All P are Q.

No Q is C.

Conclusions:

I. Some S are C.

II. Some S are Q.

III. Some P are C.

कथन:

कुछ S, P हैं।

सभी P, Q हैं।

कोई Q, C नहीं हैं।

निष्कर्ष:

I. कुछ S, C हैं।

II. कुछ S, Q हैं।

III. कुछ P, C हैं।

01. Only II follows
केवल II अनुसरण करता है

03. Only II and III follow
केवल II और III अनुसरण करते हैं

05. None follows
कोई अनुसरण नहीं करता है

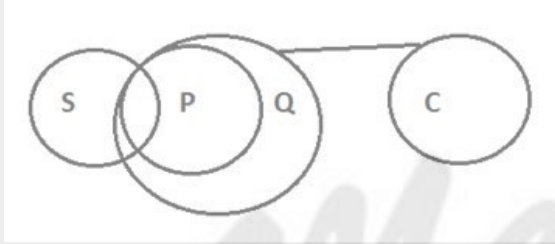
02. Both I and III follow
I और III दोनों अनुसरण करते हैं

04. All I, II and III follow
I, II और III सभी अनुसरण करते हैं

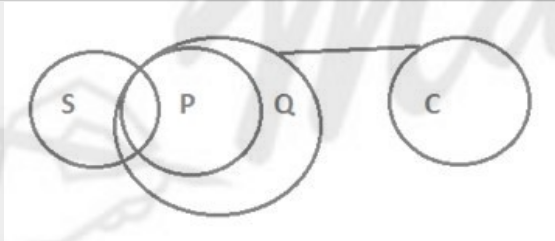
Solution for Question 38

Ans Key: 1

eng/eng



eng hin



Q-39
eng/eng

Statements:

All C are D.

Some D are E.

All E are G.

Conclusions:

I. Some G are C.

II. Some E are C.

III. All G is C.

कथन:

सभी C, D हैं।

कुछ D, E हैं।

सभी E, G हैं।

निष्कर्ष:

I. कुछ G, C हैं।

II. कुछ E, C हैं।

III. सभी G, C हैं।

01. Only I and II follow
केवल I और II अनुसरण करते हैं

03. Only II and III follow
केवल II और III अनुसरण करते हैं

05. None of these

02. None follows
कोई अनुसरण नहीं करता है

04. Only II follows
केवल II अनुसरण करता है

इनमें से कोई नहीं

Q-39
eng hin

Statements:

All C are D.
Some D are E.
All E are G.

Conclusions:

I. Some G are C.
II. Some E are C.
III. All G is C.

कथन:

सभी C, D हैं।
कुछ D, E हैं।
सभी E, G हैं।

निष्कर्ष:

I. कुछ G, C हैं।
II. कुछ E, C हैं।
III. सभी G, C हैं।

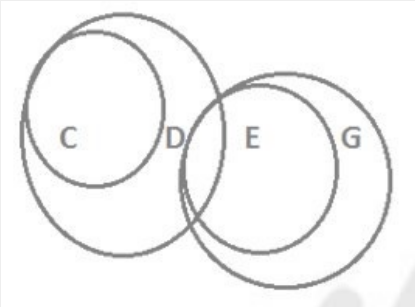
01. Only I and II follow
केवल I और II अनुसरण करते हैं
03. Only II and III follow
केवल II और III अनुसरण करते हैं
05. None of these
इनमें से कोई नहीं

02. None follows
कोई अनुसरण नहीं करता है
04. Only II follows
केवल II अनुसरण करता है

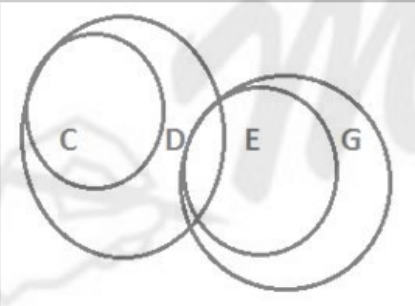
Solution for Question 39

Ans Key: 2

eng/eng



eng hin



Q-40
eng/eng

Statements:

All B are P.
Some P are R.
All R are Y.

Conclusions:

I. All B are Y.
II. Some P are Y.
III. Some P are B.

कथन:

सभी B, P हैं।
कुछ P, R हैं।
सभी R, Y हैं।

निष्कर्ष:

I. सभी B, Y हैं।
II. कुछ P, Y हैं।
III. कुछ P, B हैं।

01. All follow
सभी अनुसरण करते हैं
03. Only I and III follow
केवल I और III अनुसरण करते हैं

02. Only II and III follow
केवल II और III अनुसरण करते हैं
04. None follows
कोई अनुसरण नहीं करता है

05. None of these
इनमें से कोई नहीं

Q-40
eng hin

Statements:

All B are P.
Some P are R.
All R are Y.

Conclusions:

- I. All B are Y.
II. Some P are Y.
III. Some P are B.

कथन:

सभी B, P हैं।
कुछ P, R हैं।
सभी R, Y हैं।

निष्कर्ष:

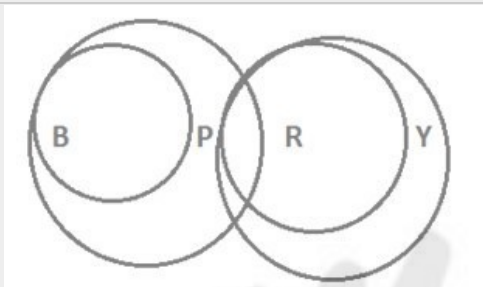
- I. सभी B, Y हैं।
II. कुछ P, Y हैं।
III. कुछ P, B हैं।

01. All follow
सभी अनुसरण करते हैं
02. Only II and III follow
केवल II और III अनुसरण करते हैं
03. Only I and III follow
केवल I और III अनुसरण करते हैं
04. None follows
कोई अनुसरण नहीं करता है
05. None of these
इनमें से कोई नहीं

Solution for Question 40

Ans Key: 2

eng/eng



eng hin



Q-41 Find the value of both quantities and state the correct relationship.

eng/eng

दोनों मात्राओं का मान ज्ञात कीजिये और सही संबंध स्थापित कीजिये।

Quantity I: Age of father, if age of Abhinav is $\frac{1}{3}$ th of his father's and 10 years after Abhinav's age becomes half of his father's age.

Quantity II: Age of father, if 5 years ago age of A's father was three times the age of A and 5 years hence his age will be double A's age.

मात्रा I: पिता की उम्र, यदि अभिनव की उम्र उसके पिता का $\frac{1}{3}$ वां भाग है और 10 वर्ष बाद अभिनव की उम्र उसके पिता की आयु का आधा हो जाती है।

मात्रा II: पिता की उम्र, यदि 5 वर्ष पहले A के पिता की आयु A की उम्र का तीन गुना थी और 5 वर्ष बाद A की उम्र का दोगुना हो जाएगी।

01. Quantity I > Quantity II
मात्रा I > मात्रा II
02. Quantity I \geq Quantity II
मात्रा I \geq मात्रा II
03. Quantity II > Quantity I
मात्रा II > मात्रा I
04. Quantity II \geq Quantity I
मात्रा II \geq मात्रा I
05. Quantity I = Quantity II or Relation cannot be established
मात्रा I = मात्रा II या संबंध स्थापित नहीं किया जा सकता है

Q-41 Find the value of both quantities and state the correct relationship.

eng hin

दोनों मात्राओं का मान ज्ञात कीजिये और सही संबंध स्थापित कीजिये।

Quantity I: Age of father, if age of Abhinav is $\frac{1}{3}$ th of his father's and 10 years after Abhinav's age becomes half of his father's age.

Quantity II: Age of father, if 5 years ago age of A's father was three times the age of A and 5 years hence his age will be double A's age.

मात्रा I: पिता की उम्र, यदि अभिनव की उम्र उसके पिता का $\frac{1}{3}$ वां भाग है और 10 वर्ष बाद अभिनव की उम्र उसके पिता की आयु का आधा हो जाती है।

मात्रा II: पिता की उम्र, यदि 5 वर्ष पहले A के पिता की आयु A की उम्र का तीन गुना थी और 5 वर्ष बाद A की उम्र का दोगुना हो जाएगी।

- | | |
|---|---|
| <p>01. Quantity I > Quantity II
मात्रा I > मात्रा II</p> <p>03. Quantity II > Quantity I
मात्रा II > मात्रा I</p> <p>05. Quantity I = Quantity II or Relation cannot be established
मात्रा I = मात्रा II या संबंध स्थापित नहीं किया जा सकता है</p> | <p>02. Quantity I \geq Quantity II
मात्रा I \geq मात्रा II</p> <p>04. Quantity II \geq Quantity I
मात्रा II \geq मात्रा I</p> |
|---|---|

Solution for Question 41

Ans Key: 3

eng/eng I: Abhinav Father

Present 1 3

10 years after 1 2) $\times 2$

Now 4-3=1=10

So 3=30 years

II: A A's father

5 years ago 1 3

5 years hence 1 2) $\times 2$

So 4-3 = 1

1 = 5+5=10

3 = 30

So present age=30+5 = 35

II>I

I: अभिनव पिता

वर्तमान 1 3

10 वर्ष पश्चात 1 2) $\times 2$

अब 4-3=1=10

अतः 3=30 years

II: A A के पिता

5 वर्ष पूर्व 1 3

5 वर्ष पश्चात 1 2) $\times 2$

So 4-3 = 1

1 = 5+5=10

3 = 30

अतः वर्तमान आयु=30+5 = 35

II>I

eng hin I: Abhinav Father

Present 1 3

10 years after 1 2) $\times 2$

Now 4-3=1=10

So 3=30 years

II: A A's father

5 years ago 1 3

5 years hence 1 2) $\times 2$

So 4-3 = 1

1 = 5+5=10

3 = 30

So present age=30+5 = 35

II>I

I: अभिनव पिता

वर्तमान 1 3

10 वर्ष पश्चात 1 2) $\times 2$

अब 4-3=1=10

अतः 3=30 years

II: A A के पिता

5 वर्ष पूर्व 1 3

5 वर्ष पश्चात 1 2) $\times 2$

So 4-3 = 1

1 = 5+5=10

3 = 30

अतः वर्तमान आयु=30+5 = 35

II>I

Q-42 Find the value of both quantities and state the correct relationship.

eng/eng दोनों मात्राओं का मान ज्ञात कीजिये और सही संबंध स्थापित कीजिये।

Quantity I: Find amount after 4 years, if rate of interest is 20% and the principal amount is Rs 8000

Quantity II: Find the amount after 4 years, if Rs 10,000 becomes Rs 12,000 in 2 years at compound interest.

मात्रा I: 4 वर्ष के बाद धनराशि ज्ञात कीजिये, यदि ब्याज दर 20% है और मूलधन 8000 रुपये है।
मात्रा II: 4 वर्ष के बाद धनराशि ज्ञात कीजिये, यदि चक्रवृद्धि ब्याज पर 2 वर्ष में 10,000 रुपये 12,000 रुपये हो जाते हैं।

- | | |
|--|---|
| <p>01. Quantity I > Quantity II
मात्रा I > मात्रा II</p> <p>03. Quantity II > Quantity I
मात्रा II > मात्रा I</p> <p>05. Quantity I = Quantity II or Relation cannot be established
मात्रा I = मात्रा II या संबंध स्थापित नहीं किया जा सकता है</p> | <p>02. Quantity I ≥ Quantity II
मात्रा I ≥ मात्रा II</p> <p>04. Quantity II ≥ Quantity I
मात्रा II ≥ मात्रा I</p> |
|--|---|

Q-42 Find the value of both quantities and state the correct relationship.
eng hin दोनों मात्राओं का मान ज्ञात कीजिये और सही संबंध स्थापित कीजिये।

Quantity I: Find amount after 4 years, if rate of interest is 20% and the principal amount is Rs 8000
Quantity II: Find the amount after 4 years, if Rs 10,000 becomes Rs 12,000 in 2 years at compound interest.
मात्रा I: 4 वर्ष के बाद धनराशि ज्ञात कीजिये, यदि ब्याज दर 20% है और मूलधन 8000 रुपये है।
मात्रा II: 4 वर्ष के बाद धनराशि ज्ञात कीजिये, यदि चक्रवृद्धि ब्याज पर 2 वर्ष में 10,000 रुपये 12,000 रुपये हो जाते हैं।

- | | |
|--|---|
| <p>01. Quantity I > Quantity II
मात्रा I > मात्रा II</p> <p>03. Quantity II > Quantity I
मात्रा II > मात्रा I</p> <p>05. Quantity I = Quantity II or Relation cannot be established
मात्रा I = मात्रा II या संबंध स्थापित नहीं किया जा सकता है</p> | <p>02. Quantity I ≥ Quantity II
मात्रा I ≥ मात्रा II</p> <p>04. Quantity II ≥ Quantity I
मात्रा II ≥ मात्रा I</p> |
|--|---|

Solution for Question 42

Ans Key: 5

eng/eng I: SI = $20 \times 4 = 80\%$
 $100\% = 8000$
 $180\% = \text{Rs } 14400$
 II.
 $10000 : 12000 :: 12000 : x$
 $x = 12000 \times 12000 / 10000 = \text{Rs } 14400$
 I = II

eng hin I: SI = $20 \times 4 = 80\%$
 $100\% = 8000$
 $180\% = \text{Rs } 14400$
 II.
 $10000 : 12000 :: 12000 : x$
 $x = 12000 \times 12000 / 10000 = \text{Rs } 14400$
 I = II

Q-43 Find the value of both quantities and state the correct relationship.
eng/eng दोनों मात्राओं का मान ज्ञात कीजिये और सही संबंध स्थापित कीजिये।

Quantity I: Marks of new student, if the average marks of 25 students is 55 and after the marks of new student also taken into consideration, average increases by 2 marks
Quantity II: Marks of new student, if the average marks of 20 students is 80 and after the marks of new student also taken into consideration, average increases by 1.5 marks
मात्रा I: नए छात्र के अंक, यदि 25 छात्रों के औसत अंक 55 हैं और और यदि नए छात्र के अंक भी सम्मिलित किये जाते हैं, तो औसत 2 अंक बढ़ जाता है।
मात्रा II: नए छात्र के अंक, यदि 20 छात्रों के औसत अंक 80 हैं और यदि नए छात्र के अंक भी सम्मिलित किये जाते हैं, तो औसत 1.5 अंक बढ़ जाता है।

- | | |
|--|---|
| <p>01. Quantity I > Quantity II
मात्रा I > मात्रा II</p> <p>03. Quantity II > Quantity I
मात्रा II > मात्रा I</p> <p>05. Quantity I = Quantity II or Relation cannot be established
मात्रा I = मात्रा II या संबंध स्थापित नहीं किया जा सकता है</p> | <p>02. Quantity I ≥ Quantity II
मात्रा I ≥ मात्रा II</p> <p>04. Quantity II ≥ Quantity I
मात्रा II ≥ मात्रा I</p> |
|--|---|

Q-43 Find the value of both quantities and state the correct relationship.
eng hin दोनों मात्राओं का मान ज्ञात कीजिये और सही संबंध स्थापित कीजिये।

Quantity I: Marks of new student, if the average marks of 25 students is 55 and after the marks of new student also taken into consideration, average

increases by 2 marks

Quantity II: Marks of new student, if the average marks of 20 students is 80 and after the marks of new student also taken into consideration, average increases by 1.5 marks

मात्रा I: नए छात्र के अंक, यदि 25 छात्रों के औसत अंक 55 हैं और और यदि नए छात्र के अंक भी सम्मिलित किये जाते हैं, तो औसत 2 अंक बढ़ जाता है।

मात्रा II: नए छात्र के अंक, यदि 20 छात्रों के औसत अंक 80 हैं और यदि नए छात्र के अंक भी सम्मिलित किये जाते हैं, तो औसत 1.5 अंक बढ़ जाता है।

01. Quantity I > Quantity II

मात्रा I > मात्रा II

02. Quantity I ≥ Quantity II

मात्रा I ≥ मात्रा II

03. Quantity II > Quantity I

मात्रा II > मात्रा I

04. Quantity II ≥ Quantity I

मात्रा II ≥ मात्रा I

05. Quantity I = Quantity II or Relation cannot be established

मात्रा I = मात्रा II या संबंध स्थापित नहीं किया जा सकता है

Solution for Question 43

Ans Key: 3

eng/eng I: $57 + 2 \times 25 = 107$

II: $81.5 + 1.5 \times 20 = 111.5$

II > I

eng hin I: $57 + 2 \times 25 = 107$

II: $81.5 + 1.5 \times 20 = 111.5$

II > I

Q-44 Find the value of both quantities and state the correct relationship.

eng/eng दोनों मात्राओं का मान ज्ञात कीजिये और सही संबंध स्थापित कीजिये।

Quantity I: Days in which B can complete work alone, if A and B can complete work in 40 days, B and C in 20 days and C and A in 30 days.

Quantity II: Days in which B can complete work alone, if A and B can complete work in 24 days and A is 50% more efficient than B.

मात्रा I: दिन जिसमें B अकेले काम को पूरा कर सकता है, यदि A और B मिलकर 40 दिनों में, B और C मिलकर 20 दिनों में और C और A मिलकर 30 दिनों में काम पूरा कर सकते हैं।

मात्रा II: दिन जिसमें B अकेले काम को पूरा कर सकता है, यदि A और B मिलकर 24 दिनों में काम पूरा कर सकते हैं और A, B से 50% अधिक कुशल है।

01. Quantity I > Quantity II

मात्रा I > मात्रा II

02. Quantity I ≥ Quantity II

मात्रा I ≥ मात्रा II

03. Quantity II > Quantity I

मात्रा II > मात्रा I

04. Quantity II ≥ Quantity I

मात्रा II ≥ मात्रा I

05. Quantity I = Quantity II or Relation cannot be established

मात्रा I = मात्रा II या संबंध स्थापित नहीं किया जा सकता है

Q-44 Find the value of both quantities and state the correct relationship.

eng/eng दोनों मात्राओं का मान ज्ञात कीजिये और सही संबंध स्थापित कीजिये।

Quantity I: Days in which B can complete work alone, if A and B can complete work in 40 days, B and C in 20 days and C and A in 30 days.

Quantity II: Days in which B can complete work alone, if A and B can complete work in 24 days and A is 50% more efficient than B.

मात्रा I: दिन जिसमें B अकेले काम को पूरा कर सकता है, यदि A और B मिलकर 40 दिनों में, B और C मिलकर 20 दिनों में और C और A मिलकर 30 दिनों में काम पूरा कर सकते हैं।

मात्रा II: दिन जिसमें B अकेले काम को पूरा कर सकता है, यदि A और B मिलकर 24 दिनों में काम पूरा कर सकते हैं और A, B से 50% अधिक कुशल है।

01. Quantity I > Quantity II

मात्रा I > मात्रा II

02. Quantity I ≥ Quantity II

मात्रा I ≥ मात्रा II

03. Quantity II > Quantity I

मात्रा II > मात्रा I

04. Quantity II ≥ Quantity I

मात्रा II ≥ मात्रा I

05. Quantity I = Quantity II or Relation cannot be established

मात्रा I = मात्रा II या संबंध स्थापित नहीं किया जा सकता है

Solution for Question 44

Ans Key: 3

eng/eng • I:

$A + B = 40 \dots\dots 3$

$B + C = 20 \dots\dots 6 \dots\dots (\text{LCM} = 120)$

$C + A = 30 \dots\dots 4$

Total = $2(A+B+C) = 3+6+4 = 13$

So $A+B+C = 13/2$

$(A+B+C) - (A+C) = 13/2 - 4 = 5/2$

So B can complete work in $120/(5/2) = 48$ days

II: Efficiency A : B = 3 : 2

So days = 2 3

LCM of 2 and 3 is 6

A = $2 \times 6/2 = 3$

B = $3 \times 6/3 = 2$

Total A+B = 3+2 = 5

So $6/5 = 24$

So 1 = 20

So 3 = 60

So II > I

I:

A + B = 40.....3

B + C = 20.....6(ल.स.प. = 120)

C + A = 30.....4

कुल = 2 (A+B+C) = 3+6+4 = 13

अतः A+B+C = 13/2

(A+B+C) - (A+C) = 13/2 - 4 = 5/2

अतः B कार्य को पूरा कर सकता है $120/(5/2) = 48$ दिन

II: क्षमता A : B = 3 : 2

दिन = 2 3

2 और 3 का ल.स.प. 6

A = $2 \times 6/2 = 3$

B = $3 \times 6/3 = 2$

कुल A+B = 3+2 = 5

अतः $6/5 = 24$

अतः 1 = 20

अतः 3 = 60

अतः II > I

eng hin

• I:

A + B = 40.....3

B + C = 20.....6(LCM = 120)

C + A = 30.....4

Total = 2 (A+B+C) = 3+6+4 = 13

So A+B+C = 13/2

(A+B+C) - (A+C) = 13/2 - 4 = 5/2

So B can complete work in $120/(5/2) = 48$ days

II: Efficiency A : B = 3 : 2

So days = 2 3

LCM of 2 and 3 is 6

A = $2 \times 6/2 = 3$

B = $3 \times 6/3 = 2$

Total A+B = 3+2 = 5

So $6/5 = 24$

So 1 = 20

So 3 = 60

So II > I

I:

A + B = 40.....3

B + C = 20.....6(ल.स.प. = 120)

C + A = 30.....4

कुल = 2 (A+B+C) = 3+6+4 = 13

अतः A+B+C = 13/2

(A+B+C) - (A+C) = 13/2 - 4 = 5/2

अतः B कार्य को पूरा कर सकता है $120/(5/2) = 48$ दिन

II: क्षमता A : B = 3 : 2

दिन = 2 3

2 और 3 का ल.स.प. 6

A = $2 \times 6/2 = 3$

B = $3 \times 6/3 = 2$

कुल A+B = 3+2 = 5

अतः $6/5 = 24$

अतः 1 = 20

अतः 3 = 60

अतः II > I

Passage for Question 45, 46, 47, 48, 49 (ST-2061RRBCLERKMAINS(76-80M)2020-NP)

eng/eng Passage

Following bar-graph shows the population of seven countries (in lakh) and the table shows the percentage of literate population in these countries.

Total population (in lakhs)

Total population (in lakhs)



Country	Percentage literacy (in 2015)	Percentage literacy (in 2016)
Australia	57.8	62.3
China	63.1	68.6
Germany	59.2	66.4
India	64.5	73.2
Japan	67.7	71
Russia	65.8	74.5
USA	68.9	73.3

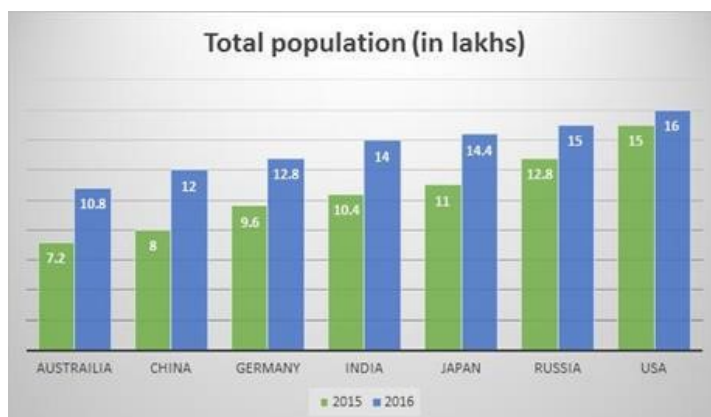
निम्नलिखित बार-ग्राफ सात देशों की आबादी (लाखों में) दिखाता है और तालिका इन देशों में साक्षर आबादी का प्रतिशत दिखाती है।



देश	साक्षरता प्रतिशत (2015 में)	साक्षरता प्रतिशत (2016 में)
ऑस्ट्रेलिया	57.8	62.3
चीन	63.1	68.6
जर्मनी	59.2	66.4
भारत	64.5	73.2
जापान	67.7	71
रूस	65.8	74.5
यू एस ए	68.9	73.3

eng hin Passage

Following bar-graph shows the population of seven countries (in lakh) and the table shows the percentage of literate population in these countries.



01. 11.32 02. 10.89
03. 12.4 04. 12.28
05. 9.44

Q-46 What is the total literate population of Australia in the year 2015 and 2016 together (in lakh)?
eng hin वर्ष 2015 और 2016 में ऑस्ट्रेलिया की कुल साक्षर आबादी (लाखों में) क्या है?

01. 11.32 02. 10.89
03. 12.4 04. 12.28
05. 9.44

Solution for Question 46

Ans Key: 2

eng/eng Literate in Australia 2015 = $7.2 \times 57.8/100$
= 4.1616 lakh
Literate in Australia 2016 = $10.8 \times 62.3/100$
= 6.7284 lakh
Total = 4.1616 + 6.7284
= 10.89 lakh
2015 में ऑस्ट्रेलिया में साक्षरों की संख्या = $7.2 \times 57.8/100$
= 4.1616 lakh
2016 में ऑस्ट्रेलिया में साक्षरों की संख्या = $10.8 \times 62.3/100$
= 6.7284 lakh
कुल = 4.1616 + 6.7284
= 10.89 लाख

eng hin Literate in Australia 2015 = $7.2 \times 57.8/100$
= 4.1616 lakh
Literate in Australia 2016 = $10.8 \times 62.3/100$
= 6.7284 lakh
Total = 4.1616 + 6.7284
= 10.89 lakh
2015 में ऑस्ट्रेलिया में साक्षरों की संख्या = $7.2 \times 57.8/100$
= 4.1616 lakh
2016 में ऑस्ट्रेलिया में साक्षरों की संख्या = $10.8 \times 62.3/100$
= 6.7284 lakh
कुल = 4.1616 + 6.7284
= 10.89 लाख

Q-47 What is the difference between the total illiterate population of USA and Russia in the year 2015?
eng/eng 2015 में संयुक्त राज्य अमेरिका और रूस की कुल अशिक्षित आबादी के बीच क्या अंतर है?

01. 28740 02. 32900
03. 37800 04. 21600
05. 19420

Q-47 What is the difference between the total illiterate population of USA and Russia in the year 2015?
eng hin 2015 में संयुक्त राज्य अमेरिका और रूस की कुल अशिक्षित आबादी के बीच क्या अंतर है?

01. 28740 02. 32900
03. 37800 04. 21600
05. 19420

Solution for Question 47

Ans Key: 1

eng/eng Illiterate in USA – Illiterate in Russia
= $15 \times (100 - 68.9)/100 - 12.8 \times (100 - 65.8)/100$
Difference = 4.665 – 4.3776
= 0.2874 lakh
संयुक्त राज्य अमेरिका में निरक्षर-रूस में निरक्षर = $15 \times (100 - 68.9)/100 - 12.8 \times (100 - 65.8)/100$
अन्तर = 4.665 – 4.3776
= 0.2874 लाख

eng hin Illiterate in USA – Illiterate in Russia
= $15 \times (100 - 68.9)/100 - 12.8 \times (100 - 65.8)/100$
Difference = 4.665 – 4.3776
= 0.2874 lakh
संयुक्त राज्य अमेरिका में निरक्षर-रूस में निरक्षर = $15 \times (100 - 68.9)/100 - 12.8 \times (100 - 65.8)/100$
अन्तर = 4.665 – 4.3776

Q-50 What approximate should come at place of question mark (?) in the following questions?
eng/eng निम्नलिखित प्रश्नों में प्रश्नचिन्ह (?) के स्थान पर लगभग क्या मान आएगा?

$\sqrt{290} \times 2.07 + 11.1 = ?$

01. 2

03. 5

05. 4
02. 3

04. 6

Q-50 What approximate should come at place of question mark (?) in the following questions?
eng hin निम्नलिखित प्रश्नों में प्रश्नचिन्ह (?) के स्थान पर लगभग क्या मान आएगा?

$\sqrt{290} \times 2.07 + 11.1 = ?$

01. 2

03. 5

05. 4
02. 3

04. 6

Solution for Question 50 Ans Key: 2

eng/eng $? = \frac{17 \times 2}{11} \approx 3$

eng hin $? = \frac{17 \times 2}{11} \approx 3$

Q-51 What approximate should come at place of question mark (?) in the following questions?
eng/eng निम्नलिखित प्रश्नों में प्रश्नचिन्ह (?) के स्थान पर लगभग क्या मान आएगा

$68\% \text{ of } 1288 + 26\% \text{ of } 734 - 215 = ?$

01. 800

03. 850

05. 950
02. 900

04. 750

Q-51 What approximate should come at place of question mark (?) in the following questions?
eng hin निम्नलिखित प्रश्नों में प्रश्नचिन्ह (?) के स्थान पर लगभग क्या मान आएगा

$68\% \text{ of } 1288 + 26\% \text{ of } 734 - 215 = ?$

01. 800

03. 850

05. 950
02. 900

04. 750

Solution for Question 51 Ans Key: 3

eng/eng $68\% \text{ of } 1288 + 26\% \text{ of } 734 - 215 = x$ $875.84 + 190.84 - 215 = 852=850$ (approx)
 $68\% \text{ of } 1288 + 26\% \text{ of } 734 - 215 = x$ $875.84 + 190.84 - 215 = 852=850$ (लगभग)

eng hin $68\% \text{ of } 1288 + 26\% \text{ of } 734 - 215 = x$ $875.84 + 190.84 - 215 = 852=850$ (approx)
 $68\% \text{ of } 1288 + 26\% \text{ of } 734 - 215 = x$ $875.84 + 190.84 - 215 = 852=850$ (लगभग)

Q-52 What approximate should come at place of question mark (?) in the following questions?
eng/eng निम्नलिखित प्रश्नों में प्रश्नचिन्ह (?) के स्थान पर लगभग क्या मान आएगा?

$(42.03\% \text{ of } 495.04 + 58.02\% \text{ of } 1200) = 9 \times ?$

01. 100

03. 275

05. 75
02. 250

04. 150

Q-52 What approximate should come at place of question mark (?) in the following questions?
eng hin निम्नलिखित प्रश्नों में प्रश्नचिन्ह (?) के स्थान पर लगभग क्या मान आएगा?

$(42.03\% \text{ of } 495.04 + 58.02\% \text{ of } 1200) = 9 \times ?$

$$? = 45^2 = 2025$$

eng hin

$$\sqrt{7} + 36 \times 24 - 14 = 895$$

$$\sqrt{7} + 850 = 895$$

$$\sqrt{7} = 45$$

$$? = 45^2 = 2025$$

Passage for Question 55, 56, 57, 58, 59 (ST-2061RRBCLERKMAINS(46-50M)2020-NP)

eng/eng Passage

Study the given chart carefully and answer the questions asked-

Following data is given about two trains A and B.

Train A

Station	Arrival time	Departure time	Distance from origin (in km)	Number of passengers boarding at each station	Fare (in Rs.)
Kanpur	Starting	5:00 pm	--	400	--
Lucknow	6:30 pm	6:35 pm	100	100	50
Allahabad	8:50 pm	9:00 pm	250	90	120
Patna	4:00 am	4:10 am	800	300	400
Bhagalpur	7:30 am	7:45 am	1050	150	500
Kolkata	10:20 am	Terminates	1280	--	620

Train B

Station	Arrival time	Departure time	Distance from origin	Number of passengers boarding at each station	Fare (in Rs.)
Kolkata	Starting	6:00 pm	--	300	--
Bhagalpur	7:40 pm	7:45 pm	230	150	120
Patna	9:30 pm	9:35 pm	480	270	220
Allahabad	5:40 am	5:55 am	1030	50	500
Lucknow	9:00 am	9:10 am	1180	100	570
Kanpur	12:00 noon	Terminates	1280	--	620

पूछे गए प्रश्नों का उत्तर देने के लिए दी गयी जानकारी का ध्यानपूर्वक अध्ययन कीजिये। निम्नलिखित आंकड़े दो ट्रेनों A और B के बारे में दिए गए हैं।

ट्रेन A

स्टेशन	आगमन समय	प्रस्थान समय	उद्गम से दूरी (किलोमीटर में)	प्रत्येक स्टेशन पर चढ़ने वाले यात्रियों की संख्या	किराया (रुपये में)
कानपुर	प्रारम्भ	5:00 pm	--	400	--
लखनऊ	6:30 pm	6:35 pm	100	100	50
इलाहाबाद	8:50 pm	9:00 pm	250	90	120
पटना	4:00 am	4:10 am	800	300	400
भागलपुर	7:30 am	7:45 am	1050	150	500
कोलकाता	10:20 am	निरस्त	1280	--	620

ट्रेन B

स्टेशन	आगमन समय	प्रस्थान समय	उद्गम से दूरी (किलोमीटर में)	प्रत्येक स्टेशन पर चढ़ने वाले यात्रियों की संख्या	किराया (रुपये में)
कोलकाता	प्रारम्भ	6:00 pm	--	300	--
भागलपुर	7:40 pm	7:45 pm	230	150	120
पटना	9:30 pm	9:35 pm	480	270	220
इलाहाबाद	5:40 am	5:55 am	1030	50	500
लखनऊ	9:00 am	9:10 am	1180	100	570
कानपुर	12:00 noon	निस्त	1280	--	620

eng hin Passage

Study the given chart carefully and answer the questions asked-

Following data is given about two trains A and B.

Train A

Station	Arrival time	Departure time	Distance from origin (in km)	Number of passengers boarding at each station	Fare (in Rs.)
Kanpur	Starting	5:00 pm	--	400	--
Lucknow	6:30 pm	6:35 pm	100	100	50
Allahabad	8:50 pm	9:00 pm	250	90	120
Patna	4:00 am	4:10 am	800	300	400
Bhagalpur	7:30 am	7:45 am	1050	150	500
Kolkata	10:20 am	Terminates	1280	--	620

Train B

Station	Arrival time	Departure time	Distance from origin	Number of passengers boarding at each station	Fare (in Rs.)
Kolkata	Starting	6:00 pm	--	300	--
Bhagalpur	7:40 pm	7:45 pm	230	150	120
Patna	9:30 pm	9:35 pm	480	270	220
Allahabad	5:40 am	5:55 am	1030	50	500
Lucknow	9:00 am	9:10 am	1180	100	570
Kanpur	12:00 noon	Terminates	1280	--	620

पूछे गए प्रश्नों का उत्तर देने के लिए दी गयी जानकारी का ध्यानपूर्वक अध्ययन कीजिये। निम्नलिखित आंकड़े दो ट्रेनों A और B के बारे में दिए गए हैं।

ट्रेन A

स्टेशन	आगमन समय	प्रस्थान समय	उद्गम से दूरी (किलोमीटर में)	प्रत्येक स्टेशन पर चढ़ने वाले यात्रियों की संख्या	किराया (रुपये में)
कानपुर	प्रारम्भ	5:00 pm	--	400	--

- 2.73 किमी./घं 2.97 किमी./घं
03. 2.6 kmph 04. 3.42 kmph
2.97 किमी./घं 3.42 किमी./घं
05. 3.72 kmph
3.72 किमी./घं

Solution for Question 56

Ans Key: 1

eng/eng Speed of Train A = $1280 / 10:20 \text{ am} - 5:00 \text{ pm} = 73.84 \text{ kmph}$
Speed of train B = $1280 / 12:00 \text{ noon} - 6:00 \text{ pm} = 71.11 \text{ kmph}$
So required difference = $73.84 - 71.11 = 2.73 \text{ kmph}$
ट्रेन A की गति = $1280 / 10:20 \text{ am} - 5:00 \text{ pm} = 73.84 \text{ किमी./घं}$
ट्रेन B की गति = $1280 / 12:00 \text{ noon} - 6:00 \text{ pm} = 71.11 \text{ किमी./घं}$
अतः अभीष्ट अंतर = $73.84 - 71.11 = 2.73 \text{ किमी./घं}$

eng hin Speed of Train A = $1280 / 10:20 \text{ am} - 5:00 \text{ pm} = 73.84 \text{ kmph}$
Speed of train B = $1280 / 12:00 \text{ noon} - 6:00 \text{ pm} = 71.11 \text{ kmph}$
So required difference = $73.84 - 71.11 = 2.73 \text{ kmph}$
ट्रेन A की गति = $1280 / 10:20 \text{ am} - 5:00 \text{ pm} = 73.84 \text{ किमी./घं}$
ट्रेन B की गति = $1280 / 12:00 \text{ noon} - 6:00 \text{ pm} = 71.11 \text{ किमी./घं}$
अतः अभीष्ट अंतर = $73.84 - 71.11 = 2.73 \text{ किमी./घं}$

Q-57 What is the ratio of the total passengers of Train A to that of Train B?

eng/eng ट्रेन A और ट्रेन B के कुल यात्रियों की संख्या का अनुपात क्या है?

01. 110 : 79 02. 113 : 87
03. 102 : 79 04. 104 : 87
05. 103 : 87

Q-57 What is the ratio of the total passengers of Train A to that of Train B?

eng hin ट्रेन A और ट्रेन B के कुल यात्रियों की संख्या का अनुपात क्या है?

01. 110 : 79 02. 113 : 87
03. 102 : 79 04. 104 : 87
05. 103 : 87

Solution for Question 57

Ans Key: 4

eng/eng Total passengers in train A = $400 + 100 + 90 + 300 + 150 = 1040$
Total passengers in train B = $300 + 150 + 270 + 50 + 100 = 870$
So, required ratio = $1040 : 870 = 104 : 87$
ट्रेन A में यात्रियों की संख्या = $400 + 100 + 90 + 300 + 150 = 1040$
ट्रेन B में यात्रियों की संख्या = $300 + 150 + 270 + 50 + 100 = 870$
अतः अभीष्ट अनुपात = $1040 : 870 = 104 : 87$

eng hin Total passengers in train A = $400 + 100 + 90 + 300 + 150 = 1040$
Total passengers in train B = $300 + 150 + 270 + 50 + 100 = 870$
So, required ratio = $1040 : 870 = 104 : 87$
ट्रेन A में यात्रियों की संख्या = $400 + 100 + 90 + 300 + 150 = 1040$
ट्रेन B में यात्रियों की संख्या = $300 + 150 + 270 + 50 + 100 = 870$
अतः अभीष्ट अनुपात = $1040 : 870 = 104 : 87$

Q-58 The total income of Train A is what percent of the total income of Train B?

eng/eng ट्रेन A की कुल आय ट्रेन B की कुल आय का कितना प्रतिशत है?

01. 180% 02. 159.51%
03. 125% 04. 127.64%
05. 123.29%

Q-58 The total income of Train A is what percent of the total income of Train B?

eng hin ट्रेन A की कुल आय ट्रेन B की कुल आय का कितना प्रतिशत है?

01. 180% 02. 159.51%
03. 125% 04. 127.64%
05. 123.29%

Solution for Question 58

Ans Key: 4

eng/eng Total income of train A = $(400 \times 50) + (500 \times 70) + (590 \times 280) + (890 \times 100) + (1040 \times 120) = \text{Rs.}434000$
Total income of train B = $(300 \times 120) + (450 \times 100) + (620 \times 280) + (670 \times 70) + (770 \times 50) = \text{Rs.}340000$

So, required % = $434000 \times 100 / 340000$

= 127.64%

ट्रेन A की कुल आय = $(400 \times 50) + (500 \times 70) + (590 \times 280) + (890 \times 100) + (1040 \times 120) = \text{Rs.}434000$

ट्रेन B की कुल आय = $(300 \times 120) + (450 \times 100) + (620 \times 280) + (670 \times 70) + (770 \times 50) = \text{Rs.}340000$

अतः अभीष्ट % = $434000 \times 100 / 340000$

= 127.64%

eng hin	Total income of train A = $(400 \times 50) + (500 \times 70) + (590 \times 280) + (890 \times 100) + (1040 \times 120) = \text{Rs.}434000$ Total income of train B = $(300 \times 120) + (450 \times 100) + (620 \times 280) + (670 \times 70) + (770 \times 50) = \text{Rs.}340000$ So, required % = $434000 \times 100 / 340000$ = 127.64% ट्रेन A की कुल आय = $(400 \times 50) + (500 \times 70) + (590 \times 280) + (890 \times 100) + (1040 \times 120) = \text{Rs.}434000$ ट्रेन B की कुल आय = $(300 \times 120) + (450 \times 100) + (620 \times 280) + (670 \times 70) + (770 \times 50) = \text{Rs.}340000$ अतः अभीष्ट % = $434000 \times 100 / 340000$ = 127.64%
---------	--

Q-59 If the average speed of Train A increases by 10% then when will it reach to its destination?
eng/eng यदि ट्रेन A की औसत गति 10% बढ़ जाती है तो यह अपने गंतव्य पर कब पहुंचेगी?

- | | |
|--------------|--------------|
| 01. 7:45 am | 02. 9:45 am |
| 03. 8:45 am | 04. 10:45 am |
| 05. 11:45 am | |

Q-59 If the average speed of Train A increases by 10% then when will it reach to its destination?
eng hin यदि ट्रेन A की औसत गति 10% बढ़ जाती है तो यह अपने गंतव्य पर कब पहुंचेगी?

- | | |
|--------------|--------------|
| 01. 7:45 am | 02. 9:45 am |
| 03. 8:45 am | 04. 10:45 am |
| 05. 11:45 am | |

Solution for Question 59

Ans Key: 3

eng/eng New speed of train A = $73.84 \times 110/100$
= 81.22 kmph
Time taken by train A during the journey = $1280/81.22 = 15.75$ hours = 15 hours 45 minutes
Required answer = 5 pm + 15:45 = 8:45 am
ट्रेन A की नयी चाल = $73.84 \times 110/100$
= 81.22 किमी/घं
ट्रेन A द्वारा दूरी तय करने में लगा समय = $1280/81.22 = 15.75$ घंटे = 15 घंटे 45 मिनट
अभीष्ट उत्तर = 5 pm + 15 :45 = 8:45 am

eng hin New speed of train A = $73.84 \times 110/100$
= 81.22 kmph
Time taken by train A during the journey = $1280/81.22 = 15.75$ hours = 15 hours 45 minutes
Required answer = 5 pm + 15:45 = 8:45 am
ट्रेन A की नयी चाल = $73.84 \times 110/100$
= 81.22 किमी/घं
ट्रेन A द्वारा दूरी तय करने में लगा समय = $1280/81.22 = 15.75$ घंटे = 15 घंटे 45 मिनट
अभीष्ट उत्तर = 5 pm + 15 :45 = 8:45 am

Q-60 A blacksmith has to make an iron box, he takes the dimension of the box 16 feet, 12 feet and 10 feet, but the box he formed is half of the required capacity. If he takes the height of the box correctly and has to increase the length and the breadth equally to get the required capacity. Find the approx. percentage change in the area of the base of the box?

eng/eng एक लोहार को एक लोहे का बक्सा बनाना है, वह इस बक्से की विमाये 16 फीट × 12 फीट × 10 फीट लेता है, परन्तु इस प्रकार बने बक्से की क्षमता अभीष्ट क्षमता की आधी है। यदि उसने बक्से की ऊँचाई सही ली थी और उससे अब इसकी लम्बाई और चौड़ाई में समान वृद्धि करनी है ताकि अभीष्ट क्षमता प्राप्त हो सके। ज्ञात कीजिये की आधार के क्षेत्रफल में लगभग कितने प्रतिशत की वृद्धि होगी ?

- | | |
|----------|----------|
| 01. 50% | 02. 75% |
| 03. 100% | 04. 125% |
| 05. 150% | |

Q-60 A blacksmith has to make an iron box, he takes the dimension of the box 16 feet, 12 feet and 10 feet, but the box he formed is half of the required capacity. If he takes the height of the box correctly and has to increase the length and the breadth equally to get the required capacity. Find the approx. percentage change in the area of the base of the box?

eng hin एक लोहार को एक लोहे का बक्सा बनाना है, वह इस बक्से की विमाये 16 फीट × 12 फीट × 10 फीट लेता है, परन्तु इस प्रकार बने बक्से की क्षमता अभीष्ट क्षमता की आधी है। यदि उसने बक्से की ऊँचाई सही ली थी और उससे अब इसकी लम्बाई और चौड़ाई में समान वृद्धि करनी है ताकि अभीष्ट क्षमता प्राप्त हो सके। ज्ञात कीजिये की आधार के क्षेत्रफल में लगभग कितने प्रतिशत की वृद्धि होगी ?

- | | |
|---------|---------|
| 01. 50% | 02. 75% |
|---------|---------|

03. 100%

04. 125%

05. 150%

Ans Key: 3

Solution for Question 60

eng/eng Since the height did not change, the capacity is less due to the incorrect length and breadth.
So the change in area of base will be used to match the capacity.
Required area of base = 100%
Actual area of base = 50%
To obtain an iron box of required capacity the area of the base should be increased by =
$$\frac{100-50}{50} \times 100 = 100\%$$

क्योंकि ऊँचाई सही है, तो क्षमता में कमी लम्बाई और चौड़ाई की वजह से है
इसीलिए आधार में वृद्धि का प्रयोग होगा अभिस्ट क्षमता पाने के लिए
अभीष्ट आधार का क्षेत्रफल = 100%
वास्तविक आधार का क्षेत्रफल = 50%

अभिस्ट क्षमता के लोहे का बक्सा प्राप्त करने के लिए आधार क्षेत्रफल में प्रतिशत वृद्धि =
$$\frac{100-50}{50} \times 100 = 100\%$$

eng hin Since the height did not change, the capacity is less due to the incorrect length and breadth.
So the change in area of base will be used to match the capacity.
Required area of base = 100%
Actual area of base = 50%
To obtain an iron box of required capacity the area of the base should be increased by =
$$\frac{100-50}{50} \times 100 = 100\%$$

क्योंकि ऊँचाई सही है, तो क्षमता में कमी लम्बाई और चौड़ाई की वजह से है
इसीलिए आधार में वृद्धि का प्रयोग होगा अभिस्ट क्षमता पाने के लिए
अभीष्ट आधार का क्षेत्रफल = 100%
वास्तविक आधार का क्षेत्रफल = 50%

अभिस्ट क्षमता के लोहे का बक्सा प्राप्त करने के लिए आधार क्षेत्रफल में प्रतिशत वृद्धि =
$$\frac{100-50}{50} \times 100 = 100\%$$

Q-61 Time taken by Naimish to travel a distance upstream is 7 times of the time which he takes to travel the same distance downstream. If the distance between the destinations is 60 Km which he can travel in 5 hours in still water, then find the rate of the stream.
eng/eng नैमिष द्वारा धारा के विरुद्ध एक दूरी को तय करने में लिया गया समय, उसी दूरी को धारा के अनुकूल तय करने में लिए गए समय का 7 गुना है। यदि तय दूरी 60 किमी है जो वह शांत जल में 5 घंटे में तय कर सकता है .तो धरा की चाल ज्ञात कीजिये?

- | | |
|--------------------------------|---------------------------------|
| 01. 9 Km/hr.
9 किमी./घंटा. | 02. 11 Km/hr.
11 किमी./घंटा. |
| 03. 7 km/hr
7 किमी./घंटा. | 04. 5 km/hr
5 किमी./घंटा. |
| 05. 13 km/hr
13 किमी./घंटा. | |

Q-61 Time taken by Naimish to travel a distance upstream is 7 times of the time which he takes to travel the same distance downstream. If the distance between the destinations is 60 Km which he can travel in 5 hours in still water, then find the rate of the stream.
eng/hin नैमिष द्वारा धारा के विरुद्ध एक दूरी को तय करने में लिया गया समय, उसी दूरी को धारा के अनुकूल तय करने में लिए गए समय का 7 गुना है। यदि तय दूरी 60 किमी है जो वह शांत जल में 5 घंटे में तय कर सकता है .तो धरा की चाल ज्ञात कीजिये?

- | | |
|--------------------------------|---------------------------------|
| 01. 9 Km/hr.
9 किमी./घंटा. | 02. 11 Km/hr.
11 किमी./घंटा. |
| 03. 7 km/hr
7 किमी./घंटा. | 04. 5 km/hr
5 किमी./घंटा. |
| 05. 13 km/hr
13 किमी./घंटा. | |

Solution for Question 61

Ans Key: 1

eng/eng

$$\frac{S_1}{S_2} = \frac{T_2}{T_1}$$

$$B = \frac{60}{5} = 12$$

$$\frac{12+S}{12-S} = \frac{7}{1}$$

$$S = 9$$

eng hin

$$\frac{S_1}{S_2} = \frac{T_2}{T_1}$$

$$B = \frac{60}{5} = 12$$

$$\frac{12+S}{12-S} = \frac{7}{1}$$

$$S = 9$$

Q-62

eng/eng

Captain of Titanic was informed about a damage at the bottom of the ship, 77km away from shore. The damage part allows 2.25 tonnes of water in 330 sec. Captain ask to run the pump which can reduce 0.2 tonnes of water in ship every minute. If 92 tonnes of water is sufficient to sink the ship, then find the speed at which captain should sail in order to reach the shore?

टाइटैनिक जहाज के कप्तान को किनारे से 77 किमी की दूरी पर जानकारी प्राप्त हुई की जहाज के तल में क्षति हुई है। क्षतिग्रस्त भाग से 2.25 टन पानी प्रत्येक 330 से. में भर रहा है, कप्तान पम्प चलाने का आदेश देता है जो 0.2 टन पानी प्रत्येक घंटे में खाली कर सकता है। यदि 92 टन पानी जहाज में भर जाए तो जहाज डूब जायेगा। ज्ञात कीजिये कप्तान किस चाल से जहाज को चालाये ताकि वो किनारे तक पहुँच जाये?

01. 9.05 Km./hr.

9.05 किमी/घ.

02. 9.75 Km./hr.

9.75 किमी/घ.

03. 10.25 Km./hr.

10.25 किमी/घ.

04. 10.5 Km./hr.

10.50 किमी/घ.

05. 11.65 Km./hr.

11.65 किमी/घ.

Q-62

eng/hin

Captain of Titanic was informed about a damage at the bottom of the ship, 77km away from shore. The damage part allows 2.25 tonnes of water in 330 sec. Captain ask to run the pump which can reduce 0.2 tonnes of water in ship every minute. If 92 tonnes of water is sufficient to sink the ship, then find the speed at which captain should sail in order to reach the shore?

टाइटैनिक जहाज के कप्तान को किनारे से 77 किमी की दूरी पर जानकारी प्राप्त हुई की जहाज के तल में क्षति हुई है। क्षतिग्रस्त भाग से 2.25 टन पानी प्रत्येक 330 से. में भर रहा है, कप्तान पम्प चलाने का आदेश देता है जो 0.2 टन पानी प्रत्येक घंटे में खाली कर सकता है। यदि 92 टन पानी जहाज में भर जाए तो जहाज डूब जायेगा। ज्ञात कीजिये कप्तान किस चाल से जहाज को चालाये ताकि वो किनारे तक पहुँच जाये?

01. 9.05 Km./hr.

9.05 किमी/घ.

02. 9.75 Km./hr.

9.75 किमी/घ.

03. 10.25 Km./hr.

10.25 किमी/घ.

04. 10.5 Km./hr.

10.50 किमी/घ.

05. 11.65 Km./hr.

11.65 किमी/घ.

Solution for Question 62

Ans Key: 4

eng/eng

$$\text{Rate of water entrance} = \frac{2.25}{330} \times 60 \times 60 = \frac{270}{11} \text{ tonnes/hr.}$$

$$\text{Rate of water discharge} = 0.2 \times 60 = 12 \text{ tonnes/hr.}$$

$$\text{Net rate of water in ship} = \frac{270}{11} - 12 = \frac{138}{11}$$

$$\text{Time left to sink} = \frac{92}{\frac{138}{11}} \times 11 = \frac{1012}{138}$$

$$\text{Speed} = \frac{77 \times 138}{1012} = 10.5 \text{ Km. / hr.}$$

$$\text{पानी भरने की दर} = \frac{2.25}{330} \times 60 \times 60 = \frac{270}{11} \text{ टन/घंटा.}$$

$$\text{पानी निकासी की दर} = 0.2 \times 60 = 12 \text{ टन/घंटा.}$$

$$\text{पानी के प्रवेश की कुल दर} = \frac{270}{11} - 12 = \frac{138}{11}$$

$$\text{डूबने के लिए बचा समय} = \frac{92}{\frac{138}{11}} \times 11 = \frac{1012}{138}$$

$$\text{चाल} = \frac{77 \times 138}{1012} = 10.5 \text{ किमी./घंटा}$$

eng/hin

$$\text{Rate of water entrance} = \frac{2.25}{330} \times 60 \times 60 = \frac{270}{11} \text{ tonnes/hr.}$$

$$\text{Rate of water discharge} = 0.2 \times 60 = 12 \text{ tonnes/hr.}$$

$$\text{Net rate of water in ship} = \frac{270}{11} - 12 = \frac{138}{11}$$

$$\text{Time left to sink} = \frac{92}{\frac{138}{11}} \times 11 = \frac{1012}{138}$$

$$\text{Speed} = \frac{77 \times 138}{1012} = 10.5 \text{ Km. / hr.}$$

$$\text{पानी भरने की दर} = \frac{2.25}{330} \times 60 \times 60 = \frac{270}{11} \text{ टन/घंटा}.$$

$$\text{पानी निकासी की दर} = 0.2 \times 60 = 12 \text{ टन/घंटा}.$$

$$\text{पानी के प्रवेश की कुल दर} = \frac{270}{11} - 12 = \frac{138}{11}$$

$$\text{डूबने के लिए बचा समय} = \frac{92}{138} \times 11 = \frac{1012}{138}$$

$$\text{चाल} = \frac{77 \times 138}{1012} = 10.5 \text{ किमी./घंटा}$$

Q-63
eng/eng

Rahul gave 1500 Rs to Arun for 5 years. Arun return him the money with a simple interest at a rate of 14% per annum. Rahul invested this amount with his saving in a bank for 2 years which gives him 20% rate of interest per annum at compound interest. If after 2 years he receive an interest of Rs. 1408. Find the savings which Rahul add in the amount?

राहुल ने अरुण को 1500 ₹ 5 वर्ष के लिए दिए। अरुण ये धनराशि और इस पर 14% प्रतिवर्ष की दर से साधारण ब्याज मिलाकर वापस करता है। राहुल प्राप्त धनराशि में अपनी कुछ बचत मिलाकर 2 वर्षों के लिए बैंक में जमा करता है जो 20% कि ब्याज दर से चक्रवृद्धि ब्याज देता है। यदि 2 वर्ष के अंत में राहुल को 1408 ₹ ब्याज प्राप्त होता है तो राहुल के द्वारा निवेश में मिलायी गयी बचत धनराशि ज्ञात कीजिये?

01. 650

02. 625

03. 675

04. 700

05. 600

Q-63
eng/hin

Rahul gave 1500 Rs to Arun for 5 years. Arun return him the money with a simple interest at a rate of 14% per annum. Rahul invested this amount with his saving in a bank for 2 years which gives him 20% rate of interest per annum at compound interest. If after 2 years he receive an interest of Rs. 1408. Find the savings which Rahul add in the amount?

राहुल ने अरुण को 1500 ₹ 5 वर्ष के लिए दिए। अरुण ये धनराशि और इस पर 14% प्रतिवर्ष की दर से साधारण ब्याज मिलाकर वापस करता है। राहुल प्राप्त धनराशि में अपनी कुछ बचत मिलाकर 2 वर्षों के लिए बैंक में जमा करता है जो 20% कि ब्याज दर से चक्रवृद्धि ब्याज देता है। यदि 2 वर्ष के अंत में राहुल को 1408 ₹ ब्याज प्राप्त होता है तो राहुल के द्वारा निवेश में मिलायी गयी बचत धनराशि ज्ञात कीजिये?

01. 650

02. 625

03. 675

04. 700

05. 600

Solution for Question 63

Ans Key: 1

eng/eng

$$A = 1500 \left(1 + \frac{14 \times 5}{100} \right) = 2550$$

$$CI\% = 2r + \frac{r^2}{100} = 44\%$$

$$\frac{1408}{44} \times 100 = 3200$$

$$S = 3200 - 2550 = 650$$

eng/hin

$$A = 1500 \left(1 + \frac{14 \times 5}{100} \right) = 2550$$

$$CI\% = 2r + \frac{r^2}{100} = 44\%$$

$$\frac{1408}{44} \times 100 = 3200$$

$$S = 3200 - 2550 = 650$$

Q-64
eng/eng

Deepak has Rs.12615 a part of which he gave to Puneet for 6 years and remaining to Shashank for 8 years, at 5% rate of interest compounded annually. If both Puneet and Shashank gave him same amount at the end of their duration. Find the share of Shashank and Puneet respectively.

दीपक के पास 12615 ₹ हैं जिसका कुछ भाग वह पुनीत को 6 वर्षों के लिए और शेष भाग शशांक को 8 वर्षों के लिए 5% चक्रवृद्धि ब्याज की वार्षिक दर पर देता है। यदि पुनीत और शशांक समय अवधि पूरी होने पर सामान धनराशि वापस करते हैं तो शशांक और पुनीत का क्रमशः हिस्सा ज्ञात कीजिये?

01. 6615,6000

02. 6200,6415

03. 6400,6215

04. 6415,6200

05. 6000,6615

Q-64
eng/hin

Deepak has Rs.12615 a part of which he gave to Puneet for 6 years and remaining to Shashank for 8 years, at 5% rate of interest compounded annually. If both Puneet and Shashank gave him same amount at the end of their duration. Find the share of Shashank and Puneet respectively.

दीपक के पास 12615 ₹ हैं जिसका कुछ भाग वह पुनीत को 6 वर्षों के लिए और शेष भाग शशांक को 8 वर्षों के लिए 5% चक्रवृद्धि ब्याज की वार्षिक दर पर देता है। यदि पुनीत और शशांक समय अवधि पूरी होने पर सामान धनराशि वापस करते हैं तो शशांक और पुनीत का क्रमशः हिस्सा ज्ञात कीजिये?

01. 6615,6000

02. 6200,6415

03. 6400,6215

04. 6415,6200

05. 6000,6615

Ans Key: 5

Solution for Question 64

eng/eng

$$x\left(1+\frac{5}{100}\right)^8 = y\left(1+\frac{5}{100}\right)^8$$

$$\frac{x}{y} = \left(\frac{21}{20}\right)^8 = \frac{441}{400}$$

$$x:y = 441:400$$

$$x = \frac{12615}{841} \times 441 = 6615$$

$$y = 12615 - 6615 = 6000$$

eng hin

$$x\left(1+\frac{5}{100}\right)^8 = y\left(1+\frac{5}{100}\right)^8$$

$$\frac{x}{y} = \left(\frac{21}{20}\right)^8 = \frac{441}{400}$$

$$x:y = 441:400$$

$$x = \frac{12615}{841} \times 441 = 6615$$

$$y = 12615 - 6615 = 6000$$

Passage for Question 65, 66, 67, 68, 69 (ST-2061RRBCLERKMAINS(56-60M)2020-NP)

eng/eng Passage

Read the following information carefully to answer the questions asked-**पूछे गए प्रश्नों का उत्तर देने के लिए दी गयी जानकारी का ध्यानपूर्वक अध्ययन कीजिये-**

In a hospital there are 60 Doctors and 400 nurses. 33.33 % of number of Doctors are Dentist and remaining are cardiologist. 9/20 of total number of nurses are female. 25% of number of female can speak only Hindi and the remaining female can speak both Hindi and English. 33.33% of the number of male can speak only Hindi and remaining can speak both Hindi and English. 40% of the number of Dentist are male. 2/5 of the number of the cardiologist are female.

एक अस्पताल में 60 डॉक्टर और 400 नर्स हैं। डॉक्टरों की संख्या का 33.33% दंत चिकित्सक हैं और शेष कार्डियोलॉजिस्ट हैं। नर्सों की कुल संख्या का 9/20 भाग महिलाएं हैं। 25% महिलाएं केवल हिंदी बोल सकती हैं और शेष महिला हिंदी और अंग्रेजी दोनों भाषाएँ बोल सकती हैं। पुरुषों की संख्या का 33.33% केवल हिंदी बोल सकते हैं और शेष हिंदी और अंग्रेजी दोनों भाषाएँ बोल सकते हैं। दंत चिकित्सक की संख्या का 40% पुरुष हैं। कार्डियोलॉजिस्ट की संख्या में 2/5 महिलाएं हैं।

eng hin Passage

Read the following information carefully to answer the questions asked-**पूछे गए प्रश्नों का उत्तर देने के लिए दी गयी जानकारी का ध्यानपूर्वक अध्ययन कीजिये-**

In a hospital there are 60 Doctors and 400 nurses. 33.33 % of number of Doctors are Dentist and remaining are cardiologist. 9/20 of total number of nurses are female. 25% of number of female can speak only Hindi and the remaining female can speak both Hindi and English. 33.33% of the number of male can speak only Hindi and remaining can speak both Hindi and English. 40% of the number of Dentist are male. 2/5 of the number of the cardiologist are female.

एक अस्पताल में 60 डॉक्टर और 400 नर्स हैं। डॉक्टरों की संख्या का 33.33% दंत चिकित्सक हैं और शेष कार्डियोलॉजिस्ट हैं। नर्सों की कुल संख्या का 9/20 भाग महिलाएं हैं। 25% महिलाएं केवल हिंदी बोल सकती हैं और शेष महिला हिंदी और अंग्रेजी दोनों भाषाएँ बोल सकती हैं। पुरुषों की संख्या का 33.33% केवल हिंदी बोल सकते हैं और शेष हिंदी और अंग्रेजी दोनों भाषाएँ बोल सकते हैं। दंत चिकित्सक की संख्या का 40% पुरुष हैं। कार्डियोलॉजिस्ट की संख्या में 2/5 महिलाएं हैं।

Q-65 By how much percent female member are less or more to the male member?

eng/eng

पुरुष सदस्यों से महिला सदस्य कितनी प्रतिशत कम या अधिक हैं?

01. 18.33%

02. 17.46%

03. 19.21%

04. 17.12%

05. 18.94%

Q-65 By how much percent female member are less or more to the male member?

eng hin

पुरुष सदस्यों से महिला सदस्य कितनी प्रतिशत कम या अधिक हैं?

01. 18.33%

02. 17.46%

03. 19.21%

04. 17.12%

हिंदी बोलने वाली महिलाओं की संख्या = 52
हिंदी बोलने वाले पुरुषों की संख्या = 84
अनुपात = 52:84 = 13:21

eng hin number of female who speak Hindi = 52
number of male who speak Hindi = 84
ratio = 52:84 = 13:21
हिंदी बोलने वाली महिलाओं की संख्या = 52
हिंदी बोलने वाले पुरुषों की संख्या = 84
अनुपात = 52:84 = 13:21

Q-68 If we increase 20 male nurses, what will be the percent of cardiologist male Doctors to the male nurses?
eng/eng यदि हम 20 पुरुष नर्सों को बढ़ाते हैं, तो कार्डियोलॉजिस्ट पुरुष डॉक्टर कुल पुरुष नर्स का कितना प्रतिशत होंगे?

- 01.** 7.5% **02.** 12.5%
03. 15% **04.** 10%
05. None of these
इनमें से कोई नहीं

Q-68 If we increase 20 male nurses, what will be the percent of cardiologist male Doctors to the male nurses?
eng hin यदि हम 20 पुरुष नर्सों को बढ़ाते हैं, तो कार्डियोलॉजिस्ट पुरुष डॉक्टर कुल पुरुष नर्स का कितना प्रतिशत होंगे?

- 01.** 7.5% **02.** 12.5%
03. 15% **04.** 10%
05. None of these
इनमें से कोई नहीं

Solution for Question 68

Ans Key: 4

eng/eng Total number male nurse = (220+20) = 240
Cardiologist male Doctor = 24
Percent = $24 \times 100 / 240 = 10\%$

कुल पुरुष नर्सों की संख्या = (220 + 20) = 240
कार्डियोलॉजिस्ट पुरुष डॉक्टर = 24
प्रतिशत = $24 \times 100 / 240 = 10\%$

eng hin Total number male nurse = (220+20) = 240
Cardiologist male Doctor = 24
Percent = $24 \times 100 / 240 = 10\%$

कुल पुरुष नर्सों की संख्या = (220 + 20) = 240
कार्डियोलॉजिस्ट पुरुष डॉक्टर = 24
प्रतिशत = $24 \times 100 / 240 = 10\%$

Q-69 What is difference between female nurse and male dentist together and male nurse?
eng/eng महिला नर्स और पुरुष दंत चिकित्सक एक साथ तथा पुरुष नर्स के बीच क्या अंतर है?

- 01.** 10 **02.** 22
03. 17 **04.** 15
05. None of these
इनमें से कोई नहीं

Q-69 What is difference between female nurse and male dentist together and male nurse?
eng hin महिला नर्स और पुरुष दंत चिकित्सक एक साथ तथा पुरुष नर्स के बीच क्या अंतर है?

- 01.** 10 **02.** 22
03. 17 **04.** 15
05. None of these
इनमें से कोई नहीं

Solution for Question 69

Ans Key: 5

eng/eng Female nurse + male dentist = 180+8 = 188
Male nurse = 220
Difference = 220-180 = 40
महिला नर्स + पुरुष दंत चिकित्सक = 180 + 8 = 188
पुरुष नर्स = 220
अंतर = 220-180 = 40

eng hin Female nurse + male dentist = 180+8 = 188
 Male nurse = 220
 Difference = 220-180 = 12
 महिला नर्स + पुरुष दंत चिकित्सक = 180 + 8 = 188
 पुरुष नर्स = 220
 अंतर = 220-180 = 12

Q-70 The question given below contain two statements giving certain data. You have to decide whether the data given in the statements are sufficient for answering the question ?
 नीचे दिए गए प्रश्नों में दो कथनों के माध्यम से कुछ जानकारियां दी गई हैं आपको यह निर्णय करना है कि क्या कथनों में दी गई जानकारी उत्तर देने के लिए पर्याप्त है।

What is the value of x and y ?

x और y का मान क्या है ?

(I) $3x + 4y = 25$ and $xy = 12$

(II) $12x + y = 40$ and $\sqrt{x} = 4\sqrt{\frac{3}{y}}$

(I) $3x + 4y = 25$ और $xy = 12$

(II) $12x + y = 40$ और $\sqrt{x} = 4\sqrt{\frac{3}{y}}$

01. If statement I alone is sufficient but statement II alone is not sufficient.
 यदि केवल कथन I ही पर्याप्त है लेकिन केवल कथन II नहीं

02. If statement II alone is sufficient but statement I alone is not sufficient.
 यदि केवल कथन II ही पर्याप्त है लेकिन केवल कथन I नहीं

03. If each statement alone (either I or II) is sufficient.
 यदि या केवल I या केवल II पर्याप्त हैं।

04. If statement I and II together are not sufficient.
 यदि I व II दोनों अपर्याप्त हैं।

05. both statement together are sufficient, but neither statement alone is sufficient.
 यदि दोनों कथन I व II एक साथ पर्याप्त हैं लेकिन अलग-अलग नहीं

Q-70 The question given below contain two statements giving certain data. You have to decide whether the data given in the statements are sufficient for answering the question ?
 नीचे दिए गए प्रश्नों में दो कथनों के माध्यम से कुछ जानकारियां दी गई हैं आपको यह निर्णय करना है कि क्या कथनों में दी गई जानकारी उत्तर देने के लिए पर्याप्त है।

What is the value of x and y ?

x और y का मान क्या है ?

(I) $3x + 4y = 25$ and $xy = 12$

(II) $12x + y = 40$ and $\sqrt{x} = 4\sqrt{\frac{3}{y}}$

(I) $3x + 4y = 25$ और $xy = 12$

(II) $12x + y = 40$ और $\sqrt{x} = 4\sqrt{\frac{3}{y}}$

01. If statement I alone is sufficient but statement II alone is not sufficient.
 यदि केवल कथन I ही पर्याप्त है लेकिन केवल कथन II नहीं

02. If statement II alone is sufficient but statement I alone is not sufficient.
 यदि केवल कथन II ही पर्याप्त है लेकिन केवल कथन I नहीं

03. If each statement alone (either I or II) is sufficient.
 यदि या केवल I या केवल II पर्याप्त हैं।

04. If statement I and II together are not sufficient.
 यदि I व II दोनों अपर्याप्त हैं।

05. both statement together are sufficient, but neither statement alone is sufficient.
 यदि दोनों कथन I व II एक साथ पर्याप्त हैं लेकिन अलग-अलग नहीं

Solution for Question 70

Ans Key: 3

eng/eng From (I)
 $x = \frac{12}{y}$, $3 \times \frac{12}{y} + 4y = 25$
 $36 + 4y^2 = 25y$
 From (II)
 $x = \frac{16 \times 3}{y} = \frac{48}{y}$

$$\frac{576}{y} + y = 40$$

$$576 + y^2 = 40y$$

So, any one statement is necessary

कथन (I) से

$$x = \frac{12}{y}, \quad 3 \times \frac{12}{y} + 4y = 25$$

$$36 + 4y^2 = 25y$$

कथन (II) से

$$x = \frac{16 \times 3}{y} = \frac{48}{y}, \quad \frac{576}{y} + y = 40$$

$$576 + y^2 = 40y$$

अतः कोई एक कथन आवश्यक है।

eng hin

From (I)

$$x = \frac{12}{y}, \quad 3 \times \frac{12}{y} + 4y = 25$$

$$36 + 4y^2 = 25y$$

From (II)

$$x = \frac{16 \times 3}{y} = \frac{48}{y}$$

$$\frac{576}{y} + y = 40$$

$$576 + y^2 = 40y$$

So, any one statement is necessary

कथन (I) से

$$x = \frac{12}{y}, \quad 3 \times \frac{12}{y} + 4y = 25$$

$$36 + 4y^2 = 25y$$

कथन (II) से

$$x = \frac{16 \times 3}{y} = \frac{48}{y}, \quad \frac{576}{y} + y = 40$$

$$576 + y^2 = 40y$$

अतः कोई एक कथन आवश्यक है।

Q-71

eng/eng

The question given below contain two statements giving certain data. You have to decide whether the data given in the statements are sufficient for answering the question ?

नीचे दिए गए प्रश्नों में दो कथनों के माध्यम से कुछ जानकारियां दी गई हैं आपको यह निर्णय करना है कि क्या कथनों में दी गई जानकारी उत्तर देने के लिए पर्याप्त हैं।

The breadth of a rectangle is 5 cm. What is its length ?

एक आयत की चौड़ाई 5 सेमी है। आयत की लम्बाई क्या है ?

(I) The area of a circle is 154 cm² and $\frac{4}{5}$ of the area of the rectangle.

(II) The circumference of the circle is 44 cm which is 14 cm less than the perimeter of the rectangle.

I. एक वृत्त का क्षेत्रफल 154 सेमी² है और आयत के क्षेत्रफल का $\frac{4}{5}$ है।

II. वृत्त की परिधि 44 सेमी है जो आयत के परिमाण से 14 सेमी कम है।

01. If statement I alone is sufficient but statement II alone is not sufficient.

यदि केवल कथन I ही पर्याप्त है लेकिन केवल कथन II नहीं

02. If statement II alone is sufficient but statement I alone is not sufficient.

यदि केवल कथन II ही पर्याप्त है लेकिन केवल कथन I नहीं

03. If each statement alone (either I or II) is sufficient.

यदि या केवल I या केवल II पर्याप्त हैं।

04. If statement I and II together are not sufficient.

यदि I व II दोनों अपर्याप्त हैं।

05. If both statement together are sufficient, but

neither statement alone is sufficient.
यदि दोनों कथन I व II एक साथ पर्याप्त हैं
लेकिन अलग-अलग नहीं

Q-71
eng hin

The question given below contain two statements giving certain data. You have to decide whether the data given in the statements are sufficient for answering the question ?

नीचे दिए गए प्रश्नों में दो कथनों के माध्यम से कुछ जानकारियां दी गई हैं आपको यह निर्णय करना है कि क्या कथनों में दी गई जानकारी उत्तर देने के लिए पर्याप्त है।

The breadth of a rectangle is 5 cm. What is its length ?
एक आयत की चौड़ाई 5 सेमी है। आयत की लम्बाई क्या है ?

- (I) The area of a circle is 154 cm² and $\frac{4}{5}$ of the area of the rectangle.
(II) The circumference of the circle is 44 cm which is 14 cm less than the perimeter of the rectangle.
I. एक वृत्त का क्षेत्रफल 154 सेमी² है और आयत के क्षेत्रफल का $\frac{4}{5}$ है।
II. वृत्त की परिधि 44 सेमी है जो आयत के परिमाण से 14 सेमी कम है।

01. If statement I alone is sufficient but statement II alone is not sufficient.
यदि केवल कथन I ही पर्याप्त है लेकिन केवल कथन II नहीं
02. If statement II alone is sufficient but statement I alone is not sufficient.
यदि केवल कथन II ही पर्याप्त है लेकिन केवल कथन I नहीं
03. If each statement alone (either I or II) is sufficient.
यदि या केवल I या केवल II पर्याप्त हैं।
04. If statement I and II together are not sufficient.
यदि I व II दोनों अपर्याप्त हैं।
05. If both statement together are sufficient, but neither statement alone is sufficient.
यदि दोनों कथन I व II एक साथ पर्याप्त हैं लेकिन अलग-अलग नहीं

Solution for Question 71

Ans Key: 3

eng/eng

From I

$$154 = \frac{4}{5} (l \times b), = \frac{4}{5} (5 l)$$

$$l = 38.5 \text{ cm}$$

from II

$$44 = 2(l + b) - 14$$

$$58 = 2(l + 5)$$

$$l = 24 \text{ cm}$$

So any one statement is necessary

कथन I से

$$154 = \frac{4}{5} (l \times b), = \frac{4}{5} (5 l)$$

$$l = 38.5 \text{ सेमी}$$

कथन II से

$$44 = 2(l + b) - 14$$

$$58 = 2(l + 5)$$

$$l = 24 \text{ सेमी}$$

अतः कोई एक कथन आवश्यक है।

eng hin

From I

$$154 = \frac{4}{5} (l \times b), = \frac{4}{5} (5 l)$$

$$l = 38.5 \text{ cm}$$

from II

$$44 = 2(l + b) - 14$$

$$58 = 2(l + 5)$$

$$l = 24 \text{ cm}$$

So any one statement is necessary

कथन I से

$$154 = \frac{4}{5} (l \times b), = \frac{4}{5} (5l)$$

$$l = 38.5 \text{ सेमी}$$

कथन II से

$$44 = 2(l + b) - 14$$

$$58 = 2(l + 5)$$

$$l = 24 \text{ सेमी}$$

अतः कोई एक कथन आवश्यक है।

Q-72 Each of these questions consists of a question followed by informations in two statements. You have to study the question and the statements and decide that information in which of the statement(s) is/are necessary to answer the question.

eng/eng

What is the area of quadrilateral ABCD ?

चतुर्भुज ABCD का क्षेत्रफल क्या है ?

I. Quadrilateral ABCD is a rectangle and its perimeter is 56 cm.

II. Diagonal AC of rectangle ABCD is $4\sqrt{29}$ cm.

I. चतुर्भुज ABCD एक आयत है और इसका परिमाप 56 सेमी है।

II. चतुर्भुज ABCD के विकर्ण AC $4\sqrt{29}$ सेमी. है।

01. I alone is sufficient while II alone is not sufficient.

अकेले I पर्याप्त है, जबकि II पर्याप्त नहीं है।

02. II alone is sufficient while I alone is not sufficient.

अकेले II पर्याप्त है जबकि I पर्याप्त नहीं है।

03. Either I or II is sufficient.

या तो I या II पर्याप्त है।

04. Neither I nor II is sufficient.

न तो I और न ही II पर्याप्त है।

05. Both I and II together are sufficient.

I और II दोनों एक साथ पर्याप्त हैं।

Q-72 Each of these questions consists of a question followed by informations in two statements. You have to study the question and the statements and decide that information in which of the statement(s) is/are necessary to answer the question.

eng/hin

What is the area of quadrilateral ABCD ?

चतुर्भुज ABCD का क्षेत्रफल क्या है ?

I. Quadrilateral ABCD is a rectangle and its perimeter is 56 cm.

II. Diagonal AC of rectangle ABCD is $4\sqrt{29}$ cm.

I. चतुर्भुज ABCD एक आयत है और इसका परिमाप 56 सेमी है।

II. चतुर्भुज ABCD के विकर्ण AC $4\sqrt{29}$ सेमी. है।

01. I alone is sufficient while II alone is not sufficient.

अकेले I पर्याप्त है, जबकि II पर्याप्त नहीं है।

02. II alone is sufficient while I alone is not sufficient.

अकेले II पर्याप्त है जबकि I पर्याप्त नहीं है।

03. Either I or II is sufficient.

या तो I या II पर्याप्त है।

04. Neither I nor II is sufficient.

न तो I और न ही II पर्याप्त है।

05. Both I and II together are sufficient.

I और II दोनों एक साथ पर्याप्त हैं।

Solution for Question 72

Ans Key: 5

eng/eng

Both I and II together are sufficient.

$$2(l+b)=56$$

$$l^2+b^2=464$$

I और II दोनों एक साथ पर्याप्त हैं।

$$2(l+b)=56$$

$$l^2+b^2=464$$

eng/hin

Both I and II together are sufficient.

$$2(l+b)=56$$

$$l^2+b^2=464$$

I और II दोनों एक साथ पर्याप्त हैं।

$$2(l+b)=56$$

$$l^2+b^2=464$$

Q-73 Each of these questions consists of a question followed by information in two statements. You have to study the question and the statements and decide that information in which of the statement(s) is/are necessary to answer the question.

eng/eng

नीचे प्रत्येक प्रश्न में, एक प्रश्न और उसके बाद दो कथनों में जानकारी दी गई है आप प्रश्न और कथनों का अध्ययन कीजिए और यह तय कीजिये कि कौनसा/से कथनों में दी गई जानकारी प्रश्न का उत्तर देने के लिए आवश्यक है/हैं।

What is profit share of Sohan out of total profit?

कुल लाभ में से सोहन के लाभ का हिस्सा कितना है?

I. Sohan invests 20% more than Mohan and Mohan invests 20% less than Rohan. Mohan gets a profit share of Rs. 45000 at the end of one year.

II. Sohan and Mohan starts business with capital of Rs. 45000 and Rs. 72000 and Rohan joins at the end of 6 months with capital of Rs. 90000. At end of one year, Mohan gets Rs. 45820 less than Rohan.

I. सोहन, मोहन से 20% अधिक निवेश करता है और मोहन, रोहन से 20% कम निवेश करता है। एक वर्ष के अंत में मोहन के लाभ का हिस्सा 45000 रुपये है।

II. सोहन और मोहन क्रमशः 45000 रुपये और 72000 रुपये की पूँजी के साथ एक व्यापार शुरू करते हैं। और रोहन 6 महीने बाद 90000 रुपये की पूँजी के साथ शामिल हो जाता है। एक वर्ष के अंत में सोहन, रोहन से 45820 रुपये कम प्राप्त करता है।

01. I alone is sufficient while II alone is not sufficient.

अकेले I पर्याप्त है, जबकि II पर्याप्त नहीं है।

02. II alone is sufficient while I alone is not sufficient.

अकेले II पर्याप्त है जबकि I पर्याप्त नहीं है।

03. Either I or II is sufficient.

या तो I या II पर्याप्त है।

04. Neither I nor II is sufficient.

न तो I और न ही II पर्याप्त है।

05. Both I and II together are sufficient

I और II दोनों एक साथ पर्याप्त हैं।

Q-73 Each of these questions consists of a question followed by information in two statements. You have to study the question and the statements and decide that information in which of the statement(s) is/are necessary to answer the question.

eng hin

नीचे प्रत्येक प्रश्न में, एक प्रश्न और उसके बाद दो कथनों में जानकारी दी गई है आप प्रश्न और कथनों का अध्ययन कीजिए और यह तय कीजिये कि कौनसा/से कथनों में दी गई जानकारी प्रश्न का उत्तर देने के लिए आवश्यक है/हैं।

What is profit share of Sohan out of total profit?

कुल लाभ में से सोहन के लाभ का हिस्सा कितना है?

I. Sohan invests 20% more than Mohan and Mohan invests 20% less than Rohan. Mohan gets a profit share of Rs. 45000 at the end of one year.

II. Sohan and Mohan starts business with capital of Rs. 45000 and Rs. 72000 and Rohan joins at the end of 6 months with capital of Rs. 90000. At end of one year, Mohan gets Rs. 45820 less than Rohan.

I. सोहन, मोहन से 20% अधिक निवेश करता है और मोहन, रोहन से 20% कम निवेश करता है। एक वर्ष के अंत में मोहन के लाभ का हिस्सा 45000 रुपये है।

II. सोहन और मोहन क्रमशः 45000 रुपये और 72000 रुपये की पूँजी के साथ एक व्यापार शुरू करते हैं। और रोहन 6 महीने बाद 90000 रुपये की पूँजी के साथ शामिल हो जाता है। एक वर्ष के अंत में सोहन, रोहन से 45820 रुपये कम प्राप्त करता है।

01. I alone is sufficient while II alone is not sufficient.

अकेले I पर्याप्त है, जबकि II पर्याप्त नहीं है।

02. II alone is sufficient while I alone is not sufficient.

अकेले II पर्याप्त है जबकि I पर्याप्त नहीं है।

03. Either I or II is sufficient.

या तो I या II पर्याप्त है।

04. Neither I nor II is sufficient.

न तो I और न ही II पर्याप्त है।

05. Both I and II together are sufficient

I और II दोनों एक साथ पर्याप्त हैं।

Solution for Question 73

Ans Key: 3

eng/eng

Either I or II is sufficient.

data given in any data is independently sufficient.

या तो I या II पर्याप्त है।

यहाँ कोई भी जानकारी अकेले पर्याप्त है।

eng hin

Either I or II is sufficient.

data given in any data is independently sufficient.

या तो I या II पर्याप्त है।

यहाँ कोई भी जानकारी अकेले पर्याप्त है।

Q-74 Each of these questions consists of a question followed by information in two statements. You have to study the question and the statements and decide that information in which of the statement(s) is/are necessary to answer the question.

eng/eng

नीचे प्रत्येक प्रश्न में, एक प्रश्न और उसके बाद दो कथनों में जानकारी दी गई है आप प्रश्न और कथनों का अध्ययन कीजिए और यह तय कीजिये कि कौनसा/से कथनों में दी गई जानकारी प्रश्न का उत्तर देने के लिए आवश्यक है/हैं।

A container contains balls of three colors- red, blue and green. How many red balls are there in the container?

एक बर्तन में तीन रंग की गेंदें हैं - लाल, नीली और हरी। बर्तन में लाल रंग की कितनी गेंदें हैं?

I - If one ball is picked out from the given container then, probability of ball being red is $\frac{5}{6}$ times the probability of ball being green and ratio of no. of blue balls to no. of green balls is 6:11.

II - The total no. of balls in the container are 20 less than four times the no. of green balls.

I - यदि इस बर्तन में से एक गेंद को चुना जाये, तो गेंद के लाल होने की प्रायिकता गेंद की हरे होने की होने की प्रायिकता से $\frac{5}{6}$ गुना है तथा नीली गेंदों तथा हरी गेंदों की संख्या का अनुपात 6: 11 है।

II - बर्तन में गेंदों की कुल संख्या हरी गेंदों के 4 गुना से 20 कम हैं।

01. I alone is sufficient while II alone is not sufficient.

अकेले I पर्याप्त है, जबकि II पर्याप्त नहीं है।

02. II alone is sufficient while I alone is not sufficient.

अकेले II पर्याप्त है जबकि I पर्याप्त नहीं है।

03. Either I or II is sufficient.
या तो I या II पर्याप्त है।

04. Neither I nor II is sufficient.
न तो I और न ही II पर्याप्त है।

05. Both I and II together are sufficient.
I और II दोनों एक साथ पर्याप्त हैं।

Q-74
eng hin

Each of these questions consists of a question followed by information in two statements. You have to study the question and the statements and decide that information in which of the statement(s) is/are necessary to answer the question.

नीचे प्रत्येक प्रश्न में, एक प्रश्न और उसके बाद दो कथनों में जानकारी दी गई है आप प्रश्नों और कथनों का अध्ययन कीजिए और यह तय कीजिये कि कौनसा/से कथनों में दी गई जानकारी प्रश्न का उत्तर देने के लिए आवश्यक है/हैं।

A container contains balls of three colors- red, blue and green. How many red balls are there in the container?

एक बर्तन में तीन रंग की गेंदें हैं - लाल, नीली और हरी। बर्तन में लाल रंग की कितनी गेंदें हैं?

I - If one ball is picked out from the given container then, probability of ball being red is $\frac{5}{6}$ times the probability of ball being green and ratio of no. of blue balls to no. of green balls is 6:11.

II - The total no. of balls in the container are 20 less than four times the no. of green balls.

I - यदि इस बर्तन में से एक गेंद को चुना जाये, तो गेंद के लाल होने की प्रायिकता गेंद की हरे होने की होने की प्रायिकता से $\frac{5}{6}$ गुना है तथा नीली गेंदों तथा हरी गेंदों की संख्या का अनुपात 6: 11 है।

II - बर्तन में गेंदों की कुल संख्या हरी गेंदों के 4 गुना से 20 कम हैं।

01. I alone is sufficient while II alone is not sufficient.

अकेले I पर्याप्त है, जबकि II पर्याप्त नहीं है।

02. II alone is sufficient while I alone is not sufficient.

अकेले II पर्याप्त है जबकि I पर्याप्त नहीं है।

03. Either I or II is sufficient.
या तो I या II पर्याप्त है।

04. Neither I nor II is sufficient.
न तो I और न ही II पर्याप्त है।

05. Both I and II together are sufficient.
I और II दोनों एक साथ पर्याप्त हैं।

Solution for Question 74

Ans Key: 5

eng/eng

Both I and II together are sufficient.

From I- $R:G:B=5:6:11$

and in data II relation is given

I और II दोनों एक साथ पर्याप्त हैं।

I से- $R:G:B=5:6:11$

और जानकारी II में सम्बन्ध दिया गया है

eng hin

Both I and II together are sufficient.

From I- $R:G:B=5:6:11$

and in data II relation is given

I और II दोनों एक साथ पर्याप्त हैं।

I से- $R:G:B=5:6:11$

और जानकारी II में सम्बन्ध दिया गया है

Q-75

eng/eng

In how many different ways can the letters of the word 'EUROPEAN' be arranged so that R and N never come together ?

शब्द 'EUROPEAN' के अक्षरों को कितने तरीके से व्यवस्थित कर सकते हैं कि R और N एकसाथ न आयें ?

01. 10080

02. 40320

03. 35280

04. 5040

05. None of these
इनमें से कोई नहीं

Q-75

eng hin

In how many different ways can the letters of the word 'EUROPEAN' be arranged so that R and N never come together ?

शब्द 'EUROPEAN' के अक्षरों को कितने तरीके से व्यवस्थित कर सकते हैं कि R और N एकसाथ न आयें ?

01. 10080

02. 40320

03. 35280

04. 5040

05. None of these
इनमें से कोई नहीं

Solution for Question 75

Ans Key: 5

eng/eng

Required answer = $8! - \frac{7! \times 2!}{2!} = 7!(4-1) = 5040 \times 3 = 15120$

अभीष्ट उत्तर = $8! - \frac{7! \times 2!}{2!} = 7!(4-1) = 5040 \times 3 = 15120$

eng hin

Required answer = $8! - \frac{7! \times 2!}{2!} = 7!(4-1) = 5040 \times 3 = 15120$

अभीष्ट उत्तर = $8! - \frac{7! \times 2!}{2!} = 7!(4-1) = 5040 \times 3 = 15120$

Q-76

eng/eng

Kamal's present age is three years less than twice his age 12 years ago, also the ratio of Kamlesh's present age to Kamal's present age is 4:9. What will be Kamlesh's age after 4 years?

कमल की वर्तमान आयु 12 वर्ष पहले उसकी आयु के दुगुने से 3 वर्ष कम है तथा कमलेश तथा कमल की वर्तमान आयु के बीच अनुपात 4 : 9 है तो 4 वर्ष बाद कमलेश की आयु बताओ?

- | | |
|--|--|
| 01. 16 years
16 वर्ष | 02. 17 years
17 वर्ष |
| 03. 18 years
18 वर्ष | 04. Can not be determined
तय नहीं कर सकते |
| 05. None of these
इनमें से कोई नहीं | |

Q-76

eng/hin

Kamal's present age is three years less than twice his age 12 years ago, also the ratio of Kamlesh's present age to Kamal's present age is 4:9. What will be Kamlesh's age after 4 years?

कमल की वर्तमान आयु 12 वर्ष पहले उसकी आयु के दुगुने से 3 वर्ष कम है तथा कमलेश तथा कमल की वर्तमान आयु के बीच अनुपात 4 : 9 है तो 4 वर्ष बाद कमलेश की आयु बताओ?

- | | |
|--|--|
| 01. 16 years
16 वर्ष | 02. 17 years
17 वर्ष |
| 03. 18 years
18 वर्ष | 04. Can not be determined
तय नहीं कर सकते |
| 05. None of these
इनमें से कोई नहीं | |

Solution for Question 76

Ans Key: 1

eng/eng

let the present age of Kamal & Kamlesh 4x & 9x

According to question,

$$x = 2(x-12)-3$$

$$x = 2x-24-3$$

$$x = 27$$

$$= 12 + 4$$

$$= 16 \text{ years}$$

माना कमल और कमलेश की आयु क्रमशः

4x और 9x

प्रश्नानुसार,

$$x = 2(x-12)-3$$

$$x = 2x-24-3$$

$$x = 27$$

$$= 12 + 4$$

$$= 16 \text{ वर्ष}$$

eng hin

let the present age of Kamal & Kamlesh 4x & 9x

According to question,

$$x = 2(x-12)-3$$

$$x = 2x-24-3$$

$$x = 27$$

$$= 12 + 4$$

$$= 16 \text{ years}$$

माना कमल और कमलेश की आयु क्रमशः

4x और 9x

प्रश्नानुसार,

$$x = 2(x-12)-3$$

$$x = 2x-24-3$$

$$x = 27$$

$$= 12 + 4$$

$$= 16 \text{ वर्ष}$$

Q-77
eng/eng

Two trains started travelling towards each other at the same time from Dehradun and Bhopal. Their respective speed are 60 kmph and 90 kmph. When they meet one train covers 56 km more than other train. Find the distance between second train and Station ?
दो रेलगाड़ी एक समय में देहरादून और भोपाल से एक दूसरे की ओर चलना शुरू करती हैं। उनकी चाल क्रमशः 60 किमी/घं और 90 किमी/घं है। जब ये आपस में मिलती हैं तो एक रेलगाड़ी दूसरी रेलगाड़ी से 56 किमी. अधिक जा चुकी होती है। दूसरी रेलगाड़ी स्टेशन के बीच की दूरी ज्ञात कीजिए?

01. 300
02. 550
03. 280
04. 650
05. 400

Q-77
eng/hin

Two trains started travelling towards each other at the same time from Dehradun and Bhopal. Their respective speed are 60 kmph and 90 kmph. When they meet one train covers 56 km more than other train. Find the distance between second train and Station ?
दो रेलगाड़ी एक समय में देहरादून और भोपाल से एक दूसरे की ओर चलना शुरू करती हैं। उनकी चाल क्रमशः 60 किमी/घं और 90 किमी/घं है। जब ये आपस में मिलती हैं तो एक रेलगाड़ी दूसरी रेलगाड़ी से 56 किमी. अधिक जा चुकी होती है। दूसरी रेलगाड़ी स्टेशन के बीच की दूरी ज्ञात कीजिए?

01. 300
02. 550
03. 280
04. 650
05. 400

Solution for Question 77

Ans Key: 3

eng/eng

When they meet; the amount of time taken by them would be equal.

Therefore

$$\frac{x}{60} = \frac{x+56}{90}$$

$$x = 112 \text{ km}$$

$$\text{Total Distance} = 2 \times 112 + 56 \text{ km.} = 280 \text{ Km.}$$

जब दोनों आपस में मिलती है, तो दोनों द्वारा लिया गया समय बराबर होगा

$$\frac{x}{60} = \frac{x+56}{90}$$

$$x = 112 \text{ किमी.}$$

$$\text{कुल दूरी} = 2 \times 112 + 56 \\ = 280 \text{ किमी}$$

eng/hin

When they meet; the amount of time taken by them would be equal.

Therefore

$$\frac{x}{60} = \frac{x+56}{90}$$

$$x = 112 \text{ km}$$

$$\text{Total Distance} = 2 \times 112 + 56 \text{ km.} = 280 \text{ Km.}$$

जब दोनों आपस में मिलती है, तो दोनों द्वारा लिया गया समय बराबर होगा

$$\frac{x}{60} = \frac{x+56}{90}$$

$$x = 112 \text{ किमी.}$$

$$\text{कुल दूरी} = 2 \times 112 + 56 \\ = 280 \text{ किमी}$$

Q-78
eng/eng

A man gave 50% of his saving of Rs. 84100 to his wife and divided the remaining sum among his two sons A and B of 15 years 13 years of age respectively. he divided it in such a way that each of his sons, when they attain the age of 18 years would receive the same amount at 5% compound interest per annum. The Share of B was :
एक आदमी अपनी आय 84100 का 50 % अपनी पत्नी को देता है और शेष अपने दो पुत्र में बाँट देता है 15 वर्षों के लिए और 13 वर्षों के लिए क्रमशः वह इस तरह से विभाजित करता है की 18 वर्ष बाद 5 वर्ष के चक्रवृद्धि ब्याज से उन दोनों को समान राशि मिलती है ?

01. 20000
02. 20050
03. 22000
04. 22050
05. 25000

Q-78
eng/hin

A man gave 50% of his saving of Rs. 84100 to his wife and divided the remaining sum among his two sons A and B of 15 years 13 years of age respectively. he divided it in such a way that each of his sons, when they attain the age of 18 years would receive the same amount at 5% compound interest per annum. The Share of B was :
एक आदमी अपनी आय 84100 का 50 % अपनी पत्नी को देता है और शेष अपने दो पुत्र में बाँट देता है 15 वर्षों के लिए और 13 वर्षों के लिए क्रमशः वह इस तरह से विभाजित करता है की 18 वर्ष बाद 5 वर्ष के चक्रवृद्धि ब्याज से उन दोनों को समान राशि मिलती है ?

01. 20000
02. 20050

03. 22000

04. 22050

05. 25000

Ans Key: 1

Solution for Question 78

eng/eng

share of wife = 50% of 84100 = 42050

share of A and B is = 42050

let the A get = x and B get = 42050 - x

so according to question,

$$x \left(1 + \frac{5}{100}\right)^{13} = (42050 - x) \left(1 + \frac{5}{100}\right)^{15}$$

$$x = (42050 - x) \left(\frac{21}{20}\right)^2$$

$$x = \frac{441 \times 42050}{841}$$

$$x = 22050$$

so the share of B = 42050 - 22050 = 20000

पत्नी का हिस्सा = 84100 का 50% = 42050

A और B का हिस्सा है = 42050

माना A प्राप्त करता है = x और B प्राप्त करता है = 42050 - x

अतः, प्रश्नानुसार

$$x \left(1 + \frac{5}{100}\right)^{13} = (42050 - x) \left(1 + \frac{5}{100}\right)^{15}$$

$$x = (42050 - x) \left(\frac{21}{20}\right)^2$$

$$x = \frac{441 \times 42050}{841}$$

$$x = 22050$$

अतः B का हिस्सा है = 42050 - 22050 = 20000

eng hin

share of wife = 50% of 84100 = 42050

share of A and B is = 42050

let the A get = x and B get = 42050 - x

so according to question,

$$x \left(1 + \frac{5}{100}\right)^{13} = (42050 - x) \left(1 + \frac{5}{100}\right)^{15}$$

$$x = (42050 - x) \left(\frac{21}{20}\right)^2$$

$$x = \frac{441 \times 42050}{841}$$

$$x = 22050$$

so the share of B = 42050 - 22050 = 20000

पत्नी का हिस्सा = 84100 का 50% = 42050

A और B का हिस्सा है = 42050

माना A प्राप्त करता है = x और B प्राप्त करता है = 42050 - x

अतः, प्रश्नानुसार

$$x \left(1 + \frac{5}{100}\right)^{13} = (42050 - x) \left(1 + \frac{5}{100}\right)^{15}$$

$$x = (42050 - x) \left(\frac{21}{20}\right)^2$$

$$x = \frac{441 \times 42050}{841}$$

$$x = 22050$$

अतः B का हिस्सा है = 42050 - 22050 = 20000

Q-79

eng/eng

There are two alloys consisting of zinc, copper and tin. The first alloy contains 25% zinc and the second alloy contains 50% copper. The percentage of tin in the first alloy is twice that in the second alloy. 200 kg of the first alloy and 300 kg of the second are melted together. The new alloy contains 28% tin. How many kg of copper are there in the new alloy?

दो मिश्रधातुएं जस्ता, तांबा और टिन से मिलकर बने हैं। पहली मिश्र धातु में 25% जस्ता है और दूसरा मिश्र धातु 50% तांबे शामिल हैं। पहली मिश्र धातु में टिन का प्रतिशत दूसरे मिश्र धातु का दुगुना है। पहली मिश्र धातु से 200 किलो और दूसरे का 300 किलो एक साथ पिघल जाता है। और नई मिश्र धातु 28% टिन में शामिल हो

जाता है तो नई मिश्र धातु में तम्बा कितने किलोग्राम हैं?

- | | |
|--|------------------------------------|
| 01. 220 kg
220 किलोग्राम | 02. 110 kg
110 किलोग्राम |
| 03. 70 kg
70 किलोग्राम | 04. 150 kg
150 किलोग्राम |
| 05. Can't be determined
तय नहीं कर सकते हैं। | |

Q-79
eng hin

There are two alloys consisting of zinc, copper and tin. The first alloy contains 25% zinc and the second alloy contains 50% copper. The percentage of tin in the first alloy is twice that in the second alloy. 200 kg of the first alloy and 300 kg of the second are melted together. The new alloy contains 28% tin. How many kg of copper are there in the new alloy?

दो मिश्रधातुएं जस्ता, तांबा और टिन से मिलकर बने हैं। पहली मिश्र धातु में 25% जस्ता है और दूसरा मिश्र धातु 50% तांबे शामिल हैं। पहली मिश्र धातु में टिन का प्रतिशत दूसरे मिश्र धातु का दुगुना है। पहली मिश्र धातु से 200 किलो और दूसरे का 300 किलो एक साथ पिघल जाता है। और नई मिश्र धातु 28% टिन में शामिल हो जाता है तो नई मिश्र धातु में तम्बा कितने किलोग्राम हैं?

- | | |
|--|------------------------------------|
| 01. 220 kg
220 किलोग्राम | 02. 110 kg
110 किलोग्राम |
| 03. 70 kg
70 किलोग्राम | 04. 150 kg
150 किलोग्राम |
| 05. Can't be determined
तय नहीं कर सकते हैं। | |

Solution for Question 79

Ans Key: 1

eng/eng

Let percentage of tin in first and second alloy be $2x\%$ and $x\%$

$2x \times$

28

$28-x \times 2x-28$

$28-x \times 2x-28=200 \times 28-x \times 2x-28=200 \times 300$

Percentage of tin in first alloy= $2 \times 20=40\%$

Percentage of copper in first alloy= $100-25-40=35\%$

Required quantity of copper= 35% of $200+50\%$ of $300=220$ Kg

माना पहले और दूसरे मिश्रधातु में टिन का प्रतिशत क्रमशः $2x\%$ तथा $x\%$ है

$2x \times$

28

$28-x \times 2x-28$

$28-x \times 2x-28=200 \times 28-x \times 2x-28=200 \times 300$

पहले मिश्रधातु में टिन का प्रतिशत= $2 \times 20=40\%$

पहले मिश्रधातु में तांबे का प्रतिशत= $100-25-40=35\%$

तांबे की अभीष्ट मात्रा= 35% of $200+50\%$ of $300=220$ किग्रा.

eng hin

Let percentage of tin in first and second alloy be $2x\%$ and $x\%$

$2x \times$

28

$28-x \times 2x-28$

$28-x \times 2x-28=200 \times 28-x \times 2x-28=200 \times 300$

Percentage of tin in first alloy= $2 \times 20=40\%$

Percentage of copper in first alloy= $100-25-40=35\%$

Required quantity of copper= 35% of $200+50\%$ of $300=220$ Kg

माना पहले और दूसरे मिश्रधातु में टिन का प्रतिशत क्रमशः $2x\%$ तथा $x\%$ है

$2x \times$

28

$28-x \times 2x-28$

$28-x \times 2x-28=200 \times 28-x \times 2x-28=200 \times 300$

पहले मिश्रधातु में टिन का प्रतिशत= $2 \times 20=40\%$

पहले मिश्रधातु में तांबे का प्रतिशत= $100-25-40=35\%$

तांबे की अभीष्ट मात्रा= 35% of $200+50\%$ of $300=220$ किग्रा.

Q-80

eng/eng

Find the value of both quantities and state the correct relationship.

दोनों मात्राओं का मान ज्ञात कीजिये और सही संबंध स्थापित कीजिये।

Quantity I: speed of swimmer in still water, if he can swim downstream at 14 km/hr and upstream at 6 km/hr.

Quantity II: speed of swimmer in still water, if he swims a distance of 36 km downstream in 6 hours and a distance of 40 km upstream in 8 hours.

मात्रा I: स्थिर जल में तैराक की गति, यदि वह अनुप्रवाह में 14 किमी/घंटा की चाल से और ऊर्ध्वप्रवाह में 6 किमी/घंटा से तैर सकता है।

मात्रा II: स्थिर जल में तैराक की गति, यदि वह 36 किमी अनुप्रवाह की दूरी 6 घंटे में और 40 किमी ऊर्ध्वप्रवाह की दूरी 8 घंटे में तैरता है।

- | | |
|---|---|
| 01. Quantity I > Quantity II
मात्रा I > मात्रा II | 02. Quantity I \geq Quantity II
मात्रा I \geq मात्रा II |
|---|---|

03. Quantity II > Quantity I
मात्रा II > मात्रा I
04. Quantity II ≥ Quantity I
मात्रा II ≥ मात्रा I

05. Quantity I = Quantity II or Relation cannot be established
मात्रा I = मात्रा II या संबंध स्थापित नहीं किया जा सकता है

Q-80
eng hin Find the value of both quantities and state the correct relationship.
दोनों मात्राओं का मान ज्ञात कीजिये और सही संबंध स्थापित कीजिये।

Quantity I: speed of swimmer in still water, if he can swim downstream at 14 km/hr and upstream at 6 km/hr.

Quantity II: speed of swimmer in still water, if he swims a distance of 36 km downstream in 6 hours and a distance of 40 km upstream in 8 hours.

मात्रा I: स्थिर जल में तैराक की गति, यदि वह अनुप्रवाह में 14 किमी/घंटा की चाल से और ऊर्ध्वप्रवाह में 6 किमी/घंटा से तैर सकता है।

मात्रा II: स्थिर जल में तैराक की गति, यदि वह 36 किमी अनुप्रवाह की दूरी 6 घंटे में और 40 किमी ऊर्ध्वप्रवाह की दूरी 8 घंटे में तैरता है।

01. Quantity I > Quantity II
मात्रा I > मात्रा II
02. Quantity I ≥ Quantity II
मात्रा I ≥ मात्रा II
03. Quantity II > Quantity I
मात्रा II > मात्रा I
04. Quantity II ≥ Quantity I
मात्रा II ≥ मात्रा I
05. Quantity I = Quantity II or Relation cannot be established
मात्रा I = मात्रा II या संबंध स्थापित नहीं किया जा सकता है

Solution for Question 80

Ans Key: 1

eng/eng

• I:

$$1/2 (D+U) = \frac{14+6}{2} = 10 \text{ km/hr}$$

• II:

Speed downstream = 36/6 = 6 km/hr

Speed upstream = 40/8 = 5 km/hr

$$\text{in still water} = \frac{6+5}{2} = 5.5 \text{ km/r}$$

I > II

I:

$$1/2 (D+U) = \frac{14+6}{2} = 10 \text{ किमी/घंटा}$$

II:

अनुप्रवाह गति = 36/6 = 6 किमी/घंटा

ऊर्ध्वप्रवाह गति = 40/8 = 5 किमी/घंटा

$$\text{शांत जल में} = \frac{6+5}{2} = 5.5 \text{ किमी/घंटा}$$

I > II

eng hin

• I:

$$1/2 (D+U) = \frac{14+6}{2} = 10 \text{ km/hr}$$

• II:

Speed downstream = 36/6 = 6 km/hr

Speed upstream = 40/8 = 5 km/hr

$$\text{in still water} = \frac{6+5}{2} = 5.5 \text{ km/r}$$

I > II

I:

$$1/2 (D+U) = \frac{14+6}{2} = 10 \text{ किमी/घंटा}$$

II:

अनुप्रवाह गति = 36/6 = 6 किमी/घंटा

ऊर्ध्वप्रवाह गति = 40/8 = 5 किमी/घंटा

$$\text{शांत जल में} = \frac{6+5}{2} = 5.5 \text{ किमी/घंटा}$$

I > II

Q-81

eng/eng

World Bank is also called as -

विश्व बैंक को भी कहा जाता है -

01. International Bank for Reconstruction and Development
पुनर्निर्माण के लिए अंतर्राष्ट्रीय बैंक और विकास
02. International, rehabilitation and development bank
अंतर्राष्ट्रीय, पुनर्वसन और विकास बैंक
03. International rehabilitated and development bank
अंतर्राष्ट्रीय पुनर्वासित और विकास बैंक
04. All of the above
उपरोक्त सभी
05. None of these.
इनमें से कोई नहीं।

Q-81
eng hin World Bank is also called as -
विश्व बैंक को भी कहा जाता है -

01. International Bank for Reconstruction and Development
पुनर्निर्माण के लिए अंतर्राष्ट्रीय बैंक और विकास
02. International, rehabilitation and development bank
अंतर्राष्ट्रीय, पुनर्वसन और विकास बैंक
03. International rehabilitated and development bank
अंतर्राष्ट्रीय पुनर्वासित और विकास बैंक
04. All of the above
उपरोक्त सभी
05. None of these.
इनमें से कोई नहीं।

Solution for Question 81

Ans Key: 1

eng/eng	The World Bank is a composite form of 5 organizations, its second name is International Bank for Reconstruction and Development. It was founded in 1944 during the Bretton Woods Conference in New Hampshire, USA. वर्ल्ड बैंक कुल 5 संस्थाओं का मिला हुआ स्वरूप है इसका दूसरा नाम पुनर्निर्माण के लिए अंतर्राष्ट्रीय बैंक और विकास। इसकी स्थापना वर्ष 1944 में अमेरिका के न्यू हैम्पशायर में ब्रेटन वुड्स सम्मेलन (Bretton Woods Conference) के दौरान हुई थी।
eng hin	The World Bank is a composite form of 5 organizations, its second name is International Bank for Reconstruction and Development. It was founded in 1944 during the Bretton Woods Conference in New Hampshire, USA. वर्ल्ड बैंक कुल 5 संस्थाओं का मिला हुआ स्वरूप है इसका दूसरा नाम पुनर्निर्माण के लिए अंतर्राष्ट्रीय बैंक और विकास। इसकी स्थापना वर्ष 1944 में अमेरिका के न्यू हैम्पशायर में ब्रेटन वुड्स सम्मेलन (Bretton Woods Conference) के दौरान हुई थी।

Q-82
eng/eng Who manages the Foreign Exchange control in India?
भारत में विदेशी मुद्रा नियंत्रण का प्रबंधन कौन करता है?

01. RBI
भारतीय रिजर्व बैंक
02. SEBI
सेबी
03. NABARD
नाबार्ड
04. Central Government
केन्द्रीय सरकार
05. None of these
इनमें से कोई नहीं

Q-82
eng hin Who manages the Foreign Exchange control in India?
भारत में विदेशी मुद्रा नियंत्रण का प्रबंधन कौन करता है?

01. RBI
भारतीय रिजर्व बैंक
02. SEBI
सेबी
03. NABARD
नाबार्ड
04. Central Government
केन्द्रीय सरकार
05. None of these
इनमें से कोई नहीं

Solution for Question 82

Ans Key: 1

eng/eng	RBI i.e. Reserve Bank of India has an important role in regulating & managing Foreign Exchange of the country. It manages forex and gold reserves of the nation. The RBI's Financial Markets Department (FMD) participates in the foreign exchange market by undertaking sales / purchases of foreign currency. भारतीय रिजर्व बैंक यानी भारतीय रिजर्व बैंक की देश के विदेशी मुद्रा के विनियमन और प्रबंधन में महत्वपूर्ण भूमिका है। यह राष्ट्र के विदेशी मुद्रा और सोने के भंडार का प्रबंधन करता है। RBI का वित्तीय बाजार विभाग (FMD) विदेशी मुद्रा की बिक्री / खरीद का कार्य करके विदेशी मुद्रा बाजार में भाग लेता है।
eng hin	RBI i.e. Reserve Bank of India has an important role in regulating & managing Foreign Exchange of the country. It manages forex and gold reserves of the nation. The RBI's Financial Markets Department (FMD) participates in the foreign exchange market by undertaking sales / purchases of foreign currency. भारतीय रिजर्व बैंक यानी भारतीय रिजर्व बैंक की देश के विदेशी मुद्रा के विनियमन और प्रबंधन में महत्वपूर्ण भूमिका है। यह राष्ट्र के विदेशी मुद्रा और सोने के भंडार का प्रबंधन करता है। RBI का वित्तीय बाजार विभाग (FMD) विदेशी मुद्रा की बिक्री / खरीद का कार्य करके विदेशी मुद्रा बाजार में भाग लेता है।

Q-83 Who launched Doorstep Banking Services by Public Sector Banks (PSBs)?
eng/eng सार्वजनिक क्षेत्र के बैंकों (PSB) द्वारा डोरस्टेप बैंकिंग सेवा का शुभारंभ किसने किया?

- | | |
|--|--|
| 01. Shaktikanta Das
शक्तिकांता दास | 02. Venkaiah Naidu
वेंकैया नायडू |
| 03. Narendra Modi
नरेंद्र मोदी | 04. Nirmala Sitharaman
निर्मला सीतारमण |
| 05. Amit Shah
अमित शाह | |

Q-83 Who launched Doorstep Banking Services by Public Sector Banks (PSBs)?
eng/hin सार्वजनिक क्षेत्र के बैंकों (PSB) द्वारा डोरस्टेप बैंकिंग सेवा का शुभारंभ किसने किया?

- | | |
|--|--|
| 01. Shaktikanta Das
शक्तिकांता दास | 02. Venkaiah Naidu
वेंकैया नायडू |
| 03. Narendra Modi
नरेंद्र मोदी | 04. Nirmala Sitharaman
निर्मला सीतारमण |
| 05. Amit Shah
अमित शाह | |

Solution for Question 83 Ans Key: 4

eng/eng Union Finance Minister Nirmala Sitharaman launched Doorstep Banking Services by Public Sector Banks (PSBs) on September 9, 2020. The services aim to provide customers with the convenience of banking services at their doorsteps.
केंद्रीय वित्त मंत्री निर्मला सीतारमण ने 9 सितंबर, 2020 को सार्वजनिक क्षेत्र के बैंकों (PSB) द्वारा डोरस्टेप बैंकिंग सेवाओं का शुभारंभ किया। इस सेवा का उद्देश्य ग्राहकों को उनके द्वार पर बैंकिंग सेवाओं की सुविधा प्रदान करना है।

eng/hin Union Finance Minister Nirmala Sitharaman launched Doorstep Banking Services by Public Sector Banks (PSBs) on September 9, 2020. The services aim to provide customers with the convenience of banking services at their doorsteps.
केंद्रीय वित्त मंत्री निर्मला सीतारमण ने 9 सितंबर, 2020 को सार्वजनिक क्षेत्र के बैंकों (PSB) द्वारा डोरस्टेप बैंकिंग सेवाओं का शुभारंभ किया। इस सेवा का उद्देश्य ग्राहकों को उनके द्वार पर बैंकिंग सेवाओं की सुविधा प्रदान करना है।

Q-84 Who has been nominated for the Noble Peace Prize 2021?
eng/eng नोबल शांति पुरस्कार 2021 के लिए किसे नामित किया गया है?

- | | |
|---|---------------------------------------|
| 01. Narendra Modi
नरेंद्र मोदी | 02. Imran Khan
इमरान खान |
| 03. Donald Trump
डोनाल्ड ट्रम्प | 04. Boris Jonson
बोरिस जॉसन |
| 05. None of these
इनमें से कोई नहीं | |

Q-84 Who has been nominated for the Noble Peace Prize 2021?
eng/hin नोबल शांति पुरस्कार 2021 के लिए किसे नामित किया गया है?

- | | |
|---|---------------------------------------|
| 01. Narendra Modi
नरेंद्र मोदी | 02. Imran Khan
इमरान खान |
| 03. Donald Trump
डोनाल्ड ट्रम्प | 04. Boris Jonson
बोरिस जॉसन |
| 05. None of these
इनमें से कोई नहीं | |

Solution for Question 84 Ans Key: 3

eng/eng A week after his mediation between Israel and UAE US President Donald Trump has been nominated for the Noble Peace Prize 2021. The nomination was submitted by a right-wing Norwegian politician and parliamentarian Christian Tybring Gjedde.
इजरायल और यूएई के बीच मध्यस्थता के एक हफ्ते बाद, अमेरिकी राष्ट्रपति डोनाल्ड ट्रम्प को नोबल शांति पुरस्कार 2021 के लिए नामित किया गया है। नामांकन एक दक्षिणपंथी नॉर्वेजियन राजनेता और सांसद क्रिश्चियन टाइब्रिंग गेजेड द्वारा प्रस्तुत किया गया था।

eng/hin A week after his mediation between Israel and UAE US President Donald Trump has been nominated for the Noble Peace Prize 2021. The nomination was submitted by a right-wing Norwegian politician and parliamentarian Christian Tybring Gjedde.
इजरायल और यूएई के बीच मध्यस्थता के एक हफ्ते बाद, अमेरिकी राष्ट्रपति डोनाल्ड ट्रम्प को नोबल शांति पुरस्कार 2021 के लिए नामित किया गया है। नामांकन एक दक्षिणपंथी नॉर्वेजियन राजनेता और सांसद क्रिश्चियन टाइब्रिंग गेजेड द्वारा प्रस्तुत किया गया था।

Q-85 Who has been appointed the new Prime Minister of Lebanon?
eng/eng लेबनान के नए प्रधानमंत्री किसे नियुक्त किया गया है?

01. Hassan Diab
हसन दीब
03. Saad Hariri
साद हरीरी
05. None of these
इनमें से कोई नहीं
02. Mustafa Adib
मुस्तफा अदीब
04. Michel Aoun
मिशेल एऑन

Q-85 Who has been appointed the new Prime Minister of Lebanon?
लेबनान के नए प्रधानमंत्री किसे नियुक्त किया गया है?

01. Hassan Diab
हसन दीब
03. Saad Hariri
साद हरीरी
05. None of these
इनमें से कोई नहीं
02. Mustafa Adib
मुस्तफा अदीब
04. Michel Aoun
मिशेल एऑन

Solution for Question 85

Ans Key: 2

eng/eng Lebanese Ambassador to Germany Mustafa Adeeb was named the country's new Prime Minister. Prime Minister Hasan Diab resigned along with his entire cabinet due to the blast on August 4 in Lebanon's capital, Beirut
जर्मनी में लेबनान के राजदूत मुस्तफा अदीब को देश का नया प्रधानमंत्री नामित किया गया। लेबनान की राजधानी बेरुत में 4 अगस्त को हुए धमाके के चलते प्रधानमंत्री हसन दियाब ने अपनी पूरी कैबिनेट के साथ इस्तीफा दे दिया

eng hin Lebanese Ambassador to Germany Mustafa Adeeb was named the country's new Prime Minister. Prime Minister Hasan Diab resigned along with his entire cabinet due to the blast on August 4 in Lebanon's capital, Beirut
जर्मनी में लेबनान के राजदूत मुस्तफा अदीब को देश का नया प्रधानमंत्री नामित किया गया। लेबनान की राजधानी बेरुत में 4 अगस्त को हुए धमाके के चलते प्रधानमंत्री हसन दियाब ने अपनी पूरी कैबिनेट के साथ इस्तीफा दे दिया

Q-86 Who defeated Victoria Azarenka of Belarus to clinch the Women's Singles title in the 2020 US Open Tennis tournament?
किसने बेलारूस के विक्टोरिया अजारेंका को हराकर 2020 यूएस ओपन टेनिस टूर्नामेंट में महिला एकल खिताब जीता?

01. Ashleigh Barty
एशले बार्टी
03. Serena Williams
सेरेना विलियम्स
05. Sania Mirza
सानिया मिर्जा
02. Simona Halep
सिमोना हालेप
04. Naomi Osaka
नाओमी ओसाका

Q-86 Who defeated Victoria Azarenka of Belarus to clinch the Women's Singles title in the 2020 US Open Tennis tournament?
किसने बेलारूस के विक्टोरिया अजारेंका को हराकर 2020 यूएस ओपन टेनिस टूर्नामेंट में महिला एकल खिताब जीता?

01. Ashleigh Barty
एशले बार्टी
03. Serena Williams
सेरेना विलियम्स
05. Sania Mirza
सानिया मिर्जा
02. Simona Halep
सिमोना हालेप
04. Naomi Osaka
नाओमी ओसाका

Solution for Question 86

Ans Key: 4

eng/eng Japan's Naomi Osaka defeated Victoria Azarenka of Belarus to clinch the Women's Singles title in the 2020 US Open Tennis tournament.
जापान के नाओमी ओसाका ने 2020 यूएस ओपन टेनिस टूर्नामेंट में महिला एकल खिताब जीतने के लिए बेलारूस के विक्टोरिया अजारेंका को हराया।

eng hin Japan's Naomi Osaka defeated Victoria Azarenka of Belarus to clinch the Women's Singles title in the 2020 US Open Tennis tournament.
जापान के नाओमी ओसाका ने 2020 यूएस ओपन टेनिस टूर्नामेंट में महिला एकल खिताब जीतने के लिए बेलारूस के विक्टोरिया अजारेंका को हराया।

Q-87 Who appointed as an advocate of UNICEF in India?
भारत में यूनिसेफ के अधिवक्ता के रूप में किसे नियुक्त किया गया?

01. Akshaya Kumar
अक्षय कुमार
03. Diya Mirza
दीया मिर्जा
05. None of these
इनमें से कोई नहीं
02. Ayushmann Khurana
आयुष्मान खुराना
04. Priyanka Chopra
प्रियंका चोपड़ा

Q-87 Who appointed as an advocate of UNICEF in India?
भारत में यूनिसेफ के अधिवक्ता के रूप में किसे नियुक्त किया गया?

01. Akshaya Kumar
अक्षय कुमार
03. Diya Mirza
दीया मिर्ज़ा
05. None of these
इनमें से कोई नहीं

02. Ayushmann Khurana
आयुष्मान खुराना
04. Priyanka Chopra
प्रियंका चोपड़ा

Solution for Question 87

Ans Key: 2

eng/eng In a recent, UNICEF (United Nations International Children Education Fund) appointed Ayushmann Khurana as its celebrity advocate for promoting and supporting its work around ending violence against children.
हाल ही में, यूनिसेफ (संयुक्त राष्ट्र अंतर्राष्ट्रीय बाल शिक्षा कोष) ने आयुष्मान खुराना को बच्चों के खिलाफ हिंसा को समाप्त करने के लिए अपने काम को बढ़ावा देने और समर्थन करने के लिए अपने सेलिब्रिटी वकील के रूप में नियुक्त किया।

eng hin In a recent, UNICEF (United Nations International Children Education Fund) appointed Ayushmann Khurana as its celebrity advocate for promoting and supporting its work around ending violence against children.
हाल ही में, यूनिसेफ (संयुक्त राष्ट्र अंतर्राष्ट्रीय बाल शिक्षा कोष) ने आयुष्मान खुराना को बच्चों के खिलाफ हिंसा को समाप्त करने के लिए अपने काम को बढ़ावा देने और समर्थन करने के लिए अपने सेलिब्रिटी वकील के रूप में नियुक्त किया।

Q-88 Which of the following statements is not true about the GEMINI device?

eng/eng GEMINI डिवाइस के बारे में निम्नलिखित में से कौन सा कथन सही नहीं है?

01. GEMINI is a portable receiver that is linked to ISRO-satellites.
GEMINI एक पोर्टेबल रिसीवर है जो इसरो-उपग्रहों से जुड़ा हुआ है।
02. It is developed by the Indian Space Research Organization (ISRO).
यह भारतीय अंतरिक्ष अनुसंधान संगठन (ISRO) द्वारा विकसित किया गया है।
03. The drawback of this device is that it only allows one-way communication.
इस उपकरण की खामी यह है कि यह केवल एकतरफा संचार की अनुमति देता है।
04. The device is developed for the dissemination of emergency information on Ocean States Forecast and mapping of Potential Fishing Zones (PFZ) to fishermen.
उपकरण मछुआरों को महासागर राज्यों के पूर्वानुमान और संभावित मत्स्य पालन क्षेत्र (PFZ) के मानचित्रण पर आपातकालीन सूचना के प्रसार के लिए विकसित किया गया है।
05. None of these
इनमें से कोई नहीं

Q-88 Which of the following statements is not true about the GEMINI device?

eng hin GEMINI डिवाइस के बारे में निम्नलिखित में से कौन सा कथन सही नहीं है?

01. GEMINI is a portable receiver that is linked to ISRO-satellites.
GEMINI एक पोर्टेबल रिसीवर है जो इसरो-उपग्रहों से जुड़ा हुआ है।
02. It is developed by the Indian Space Research Organization (ISRO).
यह भारतीय अंतरिक्ष अनुसंधान संगठन (ISRO) द्वारा विकसित किया गया है।
03. The drawback of this device is that it only allows one-way communication.
इस उपकरण की खामी यह है कि यह केवल एकतरफा संचार की अनुमति देता है।
04. The device is developed for the dissemination of emergency information on Ocean States Forecast and mapping of Potential Fishing Zones (PFZ) to fishermen.
उपकरण मछुआरों को महासागर राज्यों के पूर्वानुमान और संभावित मत्स्य पालन क्षेत्र (PFZ) के मानचित्रण पर आपातकालीन सूचना के प्रसार के लिए विकसित किया गया है।
05. None of these
इनमें से कोई नहीं

Solution for Question 88

Ans Key: 2

eng/eng Indian National Centre for Ocean Information Services (INCOIS) in collaboration with the Airports Authority of India (AAI) utilized the GAGAN (GPS Aided Geo Augmented Navigation) satellite while developing the GEMINI device.
भारतीय राष्ट्रीय सूचना विज्ञान केंद्र (INCOIS) ने भारतीय विमानपत्तन प्राधिकरण (AAI) के साथ मिलकर GEMINI डिवाइस को विकसित करते हुए GAGAN (GPS Aided Geo संवर्धित नेविगेशन) उपग्रह का उपयोग किया।

eng hin Indian National Centre for Ocean Information Services (INCOIS) in collaboration with the Airports Authority of India (AAI) utilized the GAGAN (GPS Aided Geo Augmented Navigation) satellite while developing the GEMINI device.
भारतीय राष्ट्रीय सूचना विज्ञान केंद्र (INCOIS) ने भारतीय विमानपत्तन प्राधिकरण (AAI) के साथ मिलकर GEMINI डिवाइस को विकसित करते हुए GAGAN (GPS Aided Geo संवर्धित नेविगेशन) उपग्रह का उपयोग किया।

Q-89 Which metro launched India's 1st indigenous signalling technology 'i-ATS (Artificial Train Supervision) under Make in India?

eng/eng मेक इन इंडिया के तहत किस मेट्रो ने भारत की पहली स्वदेशी सिग्नलिंग तकनीक i-ATS (कृत्रिम ट्रेन पर्यवेक्षण) का शुभारंभ किया?

01. Kolkata
कोलकाता
02. Kochi
कोच्चि
03. Chennai
चेन्नई
04. Delhi
दिल्ली
05. Mumbai
मुंबई

Q-89 Which metro launched India's 1st indigenous signalling technology 'i-ATS(Artificial Train Supervision) under Make in India ?
eng hin मेक इन इंडिया के तहत किस मेट्रो ने भारत की पहली स्वदेशी सिग्नलिंग तकनीक i-ATS (कृत्रिम ट्रेन पर्यवेक्षण) का शुभारंभ किया ?

01. Kolkata
कोलकाता

02. Kochi
कोच्चि
03. Chennai
चेन्नई

04. Delhi
दिल्ली
05. Mumbai
मुंबई

Solution for Question 89 Ans Key: 4

eng/eng It is a signalling system for the development of CBTC (Communication Based Train Control) for automatically detecting trains on a corridor.
कॉरिडोर पर ट्रेनों का स्वतः पता लगाने के लिए CBTC (कम्युनिकेशन बेस्ड ट्रेन कंट्रोल) के विकास के लिए इसका इस्तेमाल सिग्नलिंग सिस्टम के लिए किया जाता है।

eng hin It is a signalling system for the development of CBTC (Communication Based Train Control) for automatically detecting trains on a corridor.
कॉरिडोर पर ट्रेनों का स्वतः पता लगाने के लिए CBTC (कम्युनिकेशन बेस्ड ट्रेन कंट्रोल) के विकास के लिए इसका इस्तेमाल सिग्नलिंग सिस्टम के लिए किया जाता है।

Q-90 Which Indian company has become the world's 40th most valuable firm?
eng/eng कौन सी भारतीय कंपनी दुनिया की 40 वीं सबसे मूल्यवान कंपनी बन गई है?

01. Reliance Industries
रिलायंस इंडस्ट्रीज

02. Larsen & Toubro
लार्सन एंड टुब्रो
03. Coal India
कोल इंडिया

04. Tata Steel
टाटा इस्पात
05. Infosys
इनफोसिस

Q-90 Which Indian company has become the world's 40th most valuable firm?
eng hin कौन सी भारतीय कंपनी दुनिया की 40 वीं सबसे मूल्यवान कंपनी बन गई है?

01. Reliance Industries
रिलायंस इंडस्ट्रीज

02. Larsen & Toubro
लार्सन एंड टुब्रो
03. Coal India
कोल इंडिया

04. Tata Steel
टाटा इस्पात
05. Infosys
इनफोसिस

Solution for Question 90 Ans Key: 1

eng/eng Mukesh Ambani-led Reliance Industries Limited (RIL) has become the world's 40th most valuable firm after it became the first Indian company to cross USD 210 billion in market capitalisation intra-day.
मुकेश अंबानी की अगुवाई वाली रिलायंस इंडस्ट्रीज लिमिटेड (RIL) दुनिया की 40 वीं सबसे मूल्यवान कंपनी बन गई है, जो बाजार पूंजीकरण इंट्रा-डे में USD 210 बिलियन पार करने वाली पहली भारतीय कंपनी बन गई है।

eng hin Mukesh Ambani-led Reliance Industries Limited (RIL) has become the world's 40th most valuable firm after it became the first Indian company to cross USD 210 billion in market capitalisation intra-day.
मुकेश अंबानी की अगुवाई वाली रिलायंस इंडस्ट्रीज लिमिटेड (RIL) दुनिया की 40 वीं सबसे मूल्यवान कंपनी बन गई है, जो बाजार पूंजीकरण इंट्रा-डे में USD 210 बिलियन पार करने वाली पहली भारतीय कंपनी बन गई है।

Q-91 Which Indian city hosted the 15th East Asia Summit, 2020?
eng/eng कौन सा भारतीय शहर 15 वें पूर्वी एशिया शिखर सम्मेलन, 2020 की मेजबानी किस शहर ने किया ?

01. New Delhi
नई दिल्ली

02. Lucknow
लखनऊ
03. Chennai
चेन्नई

04. Ahmedabad
अहमदाबाद
05. None of these
इनमें से कोई नहीं

Q-91 Which Indian city hosted the 15th East Asia Summit, 2020?
eng hin कौन सा भारतीय शहर 15 वें पूर्वी एशिया शिखर सम्मेलन, 2020 की मेजबानी किस शहर ने किया ?

01. New Delhi
नई दिल्ली

02. Lucknow
लखनऊ
03. Chennai
चेन्नई

04. Ahmedabad
अहमदाबाद

05. None of these
इनमें से कोई नहीं

Solution for Question 91

Ans Key: 3

eng/eng	India has hosted an East Asia Summit conference in Chennai to focus on maritime security cooperation and address challenges in the maritime sector. भारत समुद्री सुरक्षा सहयोग पर ध्यान केंद्रित करने और समुद्री क्षेत्र में चुनौतियों से निपटने के लिए चेन्नई में एक पूर्व एशिया शिखर सम्मेलन सम्मेलन की मेजबानी किया है।
eng hin	India has hosted an East Asia Summit conference in Chennai to focus on maritime security cooperation and address challenges in the maritime sector. भारत समुद्री सुरक्षा सहयोग पर ध्यान केंद्रित करने और समुद्री क्षेत्र में चुनौतियों से निपटने के लिए चेन्नई में एक पूर्व एशिया शिखर सम्मेलन सम्मेलन की मेजबानी किया है।

- Q-92** Which country plays host to the military exercise 'Kavkaz 2020', that was seen in news recently?
eng/eng हाल ही में किस देश ने सैन्य अभ्यास 'कवकाज़ 2020' की मेजबानी की, जो हाल ही में समाचारों में देखा गया था?

- | | |
|--|------------------------------|
| 01. China
चीन | 02. Russia
रूस |
| 03. India
भारत | 04. Australia
ऑस्ट्रेलिया |
| 05. None of the above
उपरोक्त में से कोई नहीं | |

- Q-92** Which country plays host to the military exercise 'Kavkaz 2020', that was seen in news recently?
eng hin हाल ही में किस देश ने सैन्य अभ्यास 'कवकाज़ 2020' की मेजबानी की, जो हाल ही में समाचारों में देखा गया था?

- | | |
|--|------------------------------|
| 01. China
चीन | 02. Russia
रूस |
| 03. India
भारत | 04. Australia
ऑस्ट्रेलिया |
| 05. None of the above
उपरोक्त में से कोई नहीं | |

Solution for Question 92

Ans Key: 2

eng/eng	Russia is to host a multilateral tri-services military exercise named 'Kavkaz 2020' from September 15 to September 27. Recently, Ministry of Defence of India announced that India is not sending its contingent to the exercise due to the Covid-19 Pandemic and its resultant difficulties. China, Members of SCO, Turkey and Iran will be participating in the exercise. रूस को 15 सितंबर से 27 सितंबर तक एक बहुपक्षीय त्रि-सेवा सैन्य अभ्यास का नाम दिया गया है जिसका नाम av कवकाज़ 2020 'है। हाल ही में, भारत के रक्षा मंत्रालय ने घोषणा की कि भारत कोविड -19 महामारी और इसके परिणामी कठिनाइयों के कारण अपनी टुकड़ी को अभ्यास के लिए नहीं भेज रहा है। चीन, एससीओ, तुर्की और ईरान के सदस्य अभ्यास में भाग लेंगे।
eng hin	Russia is to host a multilateral tri-services military exercise named 'Kavkaz 2020' from September 15 to September 27. Recently, Ministry of Defence of India announced that India is not sending its contingent to the exercise due to the Covid-19 Pandemic and its resultant difficulties. China, Members of SCO, Turkey and Iran will be participating in the exercise. रूस को 15 सितंबर से 27 सितंबर तक एक बहुपक्षीय त्रि-सेवा सैन्य अभ्यास का नाम दिया गया है जिसका नाम av कवकाज़ 2020 'है। हाल ही में, भारत के रक्षा मंत्रालय ने घोषणा की कि भारत कोविड -19 महामारी और इसके परिणामी कठिनाइयों के कारण अपनी टुकड़ी को अभ्यास के लिए नहीं भेज रहा है। चीन, एससीओ, तुर्की और ईरान के सदस्य अभ्यास में भाग लेंगे।

- Q-93** Which among the following religious places was recently granted Foreign Contribution Regulation Act (FCRA) registration?
eng/eng निम्नलिखित धार्मिक स्थलों में से किसको हाल ही में विदेशी अंशदान विनियमन अधिनियम (FCRA) पंजीकरण प्रदान किया गया था?

- | | |
|---|---------------------------------------|
| 01. Badrinath Temple
बद्रीनाथ मंदिर | 02. Golden Temple
स्वर्ण मंदिर |
| 03. Rameshwaram Temple
रामेश्वरम मंदिर | 04. Jagannath Temple
जगन्नाथ मंदिर |
| 05. Kedarnath Temple
केदारनाथ मंदिर | |

- Q-93** Which among the following religious places was recently granted Foreign Contribution Regulation Act (FCRA) registration?
eng hin निम्नलिखित धार्मिक स्थलों में से किसको हाल ही में विदेशी अंशदान विनियमन अधिनियम (FCRA) पंजीकरण प्रदान किया गया था?

- | | |
|---|---------------------------------------|
| 01. Badrinath Temple
बद्रीनाथ मंदिर | 02. Golden Temple
स्वर्ण मंदिर |
| 03. Rameshwaram Temple
रामेश्वरम मंदिर | 04. Jagannath Temple
जगन्नाथ मंदिर |
| 05. Kedarnath Temple | |

Solution for Question 93

Ans Key: 2

eng/eng	The Union Home Ministry recently granted Foreign Contribution Regulation Act (FCRA) registration to Gurdwara Harmandir Sahib, or the Golden Temple, in Amritsar. It will now enable the Golden Temple to receive foreign donations. The foreign contribution can be used by the temple to provide financial and medical assistance to the needy. केंद्रीय गृह मंत्रालय ने हाल ही में अमृतसर में गुरुद्वारा हरमंदिर साहिब या स्वर्ण मंदिर में विदेशी योगदान विनियमन अधिनियम (FCRA) पंजीकरण की अनुमति दी। अब यह स्वर्ण मंदिर को विदेशी दान प्राप्त करने में सक्षम बनाएगा। विदेशी योगदान का उपयोग मंदिर द्वारा जरूरतमंदों को वित्तीय और चिकित्सीय सहायता प्रदान करने के लिए किया जा सकता है।
eng hin	The Union Home Ministry recently granted Foreign Contribution Regulation Act (FCRA) registration to Gurdwara Harmandir Sahib, or the Golden Temple, in Amritsar. It will now enable the Golden Temple to receive foreign donations. The foreign contribution can be used by the temple to provide financial and medical assistance to the needy. केंद्रीय गृह मंत्रालय ने हाल ही में अमृतसर में गुरुद्वारा हरमंदिर साहिब या स्वर्ण मंदिर में विदेशी योगदान विनियमन अधिनियम (FCRA) पंजीकरण की अनुमति दी। अब यह स्वर्ण मंदिर को विदेशी दान प्राप्त करने में सक्षम बनाएगा। विदेशी योगदान का उपयोग मंदिर द्वारा जरूरतमंदों को वित्तीय और चिकित्सीय सहायता प्रदान करने के लिए किया जा सकता है।

Q-94 Where did India host the 72nd session of the WHO South East Asia Region?

eng/eng भारत ने डब्ल्यूएचओ दक्षिण पूर्व एशिया क्षेत्र के 72 वें सत्र की मेजबानी कहाँ की?

- | | |
|-----------------------------------|-------------------------------|
| 01. Hyderabad
हैदराबाद | 02. Kolkata
कोलकाता |
| 03. New Delhi
नई दिल्ली | 04. Mumbai
मुंबई |
| 05. Bengaluru
बेंगलुरु | |

Q-94 Where did India host the 72nd session of the WHO South East Asia Region?

eng hin भारत ने डब्ल्यूएचओ दक्षिण पूर्व एशिया क्षेत्र के 72 वें सत्र की मेजबानी कहाँ की?

- | | |
|-----------------------------------|-------------------------------|
| 01. Hyderabad
हैदराबाद | 02. Kolkata
कोलकाता |
| 03. New Delhi
नई दिल्ली | 04. Mumbai
मुंबई |
| 05. Bengaluru
बेंगलुरु | |

Solution for Question 94

Ans Key: 3

eng/eng	India hosted the 72nd session of WHO South East Asia Region at New Delhi. Dr. Harsh Vardhan Chaired the 72nd session. भारत ने WHO दक्षिण पूर्व एशिया क्षेत्र के 72 वें सत्र की नई दिल्ली में मेजबानी की। डॉ। हर्षवर्धन ने 72 वें सत्र की अध्यक्षता की।
eng hin	India hosted the 72nd session of WHO South East Asia Region at New Delhi. Dr. Harsh Vardhan Chaired the 72nd session. भारत ने WHO दक्षिण पूर्व एशिया क्षेत्र के 72 वें सत्र की नई दिल्ली में मेजबानी की। डॉ। हर्षवर्धन ने 72 वें सत्र की अध्यक्षता की।

Q-95 When was the first World Suicide Prevention Day (WSPD) observed?

eng/eng प्रथम विश्व आत्महत्या रोकथाम दिवस (WSPD) कब मनाया गया था?

- | | |
|-----------------|-----------------|
| 01. 2003 | 02. 1998 |
| 03. 2000 | 04. 1995 |
| 05. 2007 | |

Q-95 When was the first World Suicide Prevention Day (WSPD) observed?

eng hin

- | | |
|-----------------|-----------------|
| 01. 2003 | 02. 1998 |
| 03. 2000 | 04. 1995 |
| 05. 2007 | |

Solution for Question 95

Ans Key: 1

eng/eng	World Suicide Prevention Day was initiated by the International Association for Suicide Prevention (IASP) along with the World Health Organization (WHO) and the World Federation for Mental Health (WFMH). World Suicide Prevention Day is being observed since 2003. World Suicide Prevention Day (WSPD) is observed on 10 September. The Day aims to create awareness about suicide prevention and help the loved ones to fight suicidal thoughts. The day aims to raise awareness of the risks of suicide and to fund suicide prevention activities. World Suicide Prevention Day 2020 is celebrated virtually this year by spreading information about suicide prevention via social media platforms. विश्व आत्महत्या रोकथाम दिवस की शुरुआत विश्व स्वास्थ्य संगठन (डब्ल्यूएचओ) और वर्ल्ड फेडरेशन फॉर मेंटल हेल्थ (डब्ल्यूएफएमएच) के साथ-साथ इंटरनेशनल एसोसिएशन फॉर सुसाइड प्रिवेंशन (आईएसपी) द्वारा की गई थी। विश्व आत्महत्या रोकथाम दिवस 2003 से मनाया जा रहा है। विश्व आत्महत्या रोकथाम दिवस (WSPD) 10 सितंबर को मनाया जाता है। द डे का उद्देश्य आत्महत्या की रोकथाम के बारे में जागरूकता पैदा करना और प्रियजनों को आत्मघाती विचारों से लड़ने में मदद करना है। इस दिन का उद्देश्य आत्महत्या के जोखिमों के बारे में जागरूकता बढ़ाना और आत्महत्या की रोकथाम गतिविधियों का वित्तपोषण करना है। विश्व आत्महत्या रोकथाम दिवस 2020 को वस्तुतः इस वर्ष सोशल मीडिया प्लेटफॉर्मों के माध्यम से आत्महत्या की रोकथाम के बारे में जानकारी फैलाकर मनाया जाता है।
eng hin	World Suicide Prevention Day was initiated by the International Association for Suicide Prevention (IASP) along with the World Health

Organization (WHO) and the World Federation for Mental Health (WFMH). World Suicide Prevention Day is being observed since 2003. World Suicide Prevention Day (WSPD) is observed on 10 September. The Day aims to create awareness about suicide prevention and help the loved ones to fight suicidal thoughts. The day aims to raise awareness of the risks of suicide and to fund suicide prevention activities. World Suicide Prevention Day 2020 is celebrated virtually this year by spreading information about suicide prevention via social media platforms. विश्व आत्महत्या रोकथाम दिवस की शुरुआत विश्व स्वास्थ्य संगठन (डब्ल्यूएचओ) और वर्ल्ड फेडरेशन फॉर मेंटल हेल्थ (डब्ल्यूएफएमएच) के साथ-साथ इंटरनेशनल एसोसिएशन फॉर सुसाइड प्रिवेंशन (आईएसपी) द्वारा की गई थी। विश्व आत्महत्या रोकथाम दिवस 2003 से मनाया जा रहा है। विश्व आत्महत्या रोकथाम दिवस (WSPD) 10 सितंबर को मनाया जाता है। द डे का उद्देश्य आत्महत्या की रोकथाम के बारे में जागरूकता पैदा करना और प्रियजनों को आत्मघाती विचारों से लड़ने में मदद करना है। इस दिन का उद्देश्य आत्महत्या के जोखिमों के बारे में जागरूकता बढ़ाना और आत्महत्या की रोकथाम गतिविधियों का वित्तपोषण करना है। विश्व आत्महत्या रोकथाम दिवस 2020 को वस्तुतः इस वर्ष सोशल मीडिया प्लेटफॉर्मों के माध्यम से आत्महत्या की रोकथाम के बारे में जानकारी फैलाकर मनाया जाता है।

Q-96 What is the rank of India in Global Economic Freedom Index 2020 report?
eng/eng वैश्विक आर्थिक स्वतंत्रता सूचकांक 2020 की रिपोर्ट में भारत का रैंक क्या है?

- | | |
|------------------------------|------------------------------|
| 01. 105 th | 02. 115 th |
| 03. 120 th | 04. 136 th |
| 05. 140 th | |

Q-96 What is the rank of India in Global Economic Freedom Index 2020 report?
eng hin वैश्विक आर्थिक स्वतंत्रता सूचकांक 2020 की रिपोर्ट में भारत का रैंक क्या है?

- | | |
|------------------------------|------------------------------|
| 01. 105 th | 02. 115 th |
| 03. 120 th | 04. 136 th |
| 05. 140 th | |

Solution for Question 96 Ans Key: 1

eng/eng Global Economic Freedom Index 2020 report India witnessed a sharp fall of 26 spots and landed to the 105th position. As per the last year ranking the country was at the 79th spot. ग्लोबल इकोनॉमिक फ्रीडम इंडेक्स 2020 की रिपोर्ट में भारत में 26 स्थानों की तेज गिरावट देखी गई और यह 105 वें स्थान पर आ गया। पिछले वर्ष के अनुसार देश 79 वें स्थान पर था।

eng hin Global Economic Freedom Index 2020 report India witnessed a sharp fall of 26 spots and landed to the 105th position. As per the last year ranking the country was at the 79th spot. ग्लोबल इकोनॉमिक फ्रीडम इंडेक्स 2020 की रिपोर्ट में भारत में 26 स्थानों की तेज गिरावट देखी गई और यह 105 वें स्थान पर आ गया। पिछले वर्ष के अनुसार देश 79 वें स्थान पर था।

Q-97 What is the name of Star chef who has authored a book titled “Kitchens of Gratitude” in which he has written about his Feed India initiative?
eng/eng स्टार शेफ का नाम क्या है जिन्होंने "किचन ऑफ ग्रेटिट्यूड" नामक पुस्तक लिखी है जिसमें उन्होंने अपनी फीड इंडिया पहल के बारे में लिखा है?

- | | |
|---|--|
| 01. Pankaj Bhadauriya
पंकज भदौरिया | 02. Vikas Khanna
विकास खन्ना |
| 03. Sanjeev Kapoor
संजीव कपूर | 04. Vinod Mehra
विनोद मेहरा |
| 05. Kishor Malhotra
किशोर मल्होत्रा | |

Q-97 What is the name of Star chef who has authored a book titled “Kitchens of Gratitude” in which he has written about his Feed India initiative?
eng hin स्टार शेफ का नाम क्या है जिन्होंने "किचन ऑफ ग्रेटिट्यूड" नामक पुस्तक लिखी है जिसमें उन्होंने अपनी फीड इंडिया पहल के बारे में लिखा है?

- | | |
|---|--|
| 01. Pankaj Bhadauriya
पंकज भदौरिया | 02. Vikas Khanna
विकास खन्ना |
| 03. Sanjeev Kapoor
संजीव कपूर | 04. Vinod Mehra
विनोद मेहरा |
| 05. Kishor Malhotra
किशोर मल्होत्रा | |

Solution for Question 97 Ans Key: 2

eng/eng Star chef Vikas Khanna has authored a book titled “Kitchens of Gratitude” in which he has written about his Feed India initiative. स्टार शेफ विकास खन्ना ने "किचन ऑफ ग्रेटिट्यूड" नामक एक पुस्तक लिखी है जिसमें उन्होंने अपनी फीडिंग पहल के बारे में लिखा है।

eng hin Star chef Vikas Khanna has authored a book titled “Kitchens of Gratitude” in which he has written about his Feed India initiative. स्टार शेफ विकास खन्ना ने "किचन ऑफ ग्रेटिट्यूड" नामक एक पुस्तक लिखी है जिसमें उन्होंने अपनी फीडिंग पहल के बारे में लिखा है।

Q-98 What is the estimated expenditure of Chandrayaan-3 project, as per ISRO?
eng/eng ISRO के अनुसार, Chandrayaan-3 परियोजना का अनुमानित खर्च क्या है ?

01. 900 Crore

02. 800 Crore

03. 700 Crore

04. 600 Crore

05. 500 Crore
- Q-98** What is the estimated expenditure of Chandrayaan-3 project, as per ISRO?
eng hin ISRO के अनुसार, Chandrayaan-3 परियोजना का अनुमानित खर्च क्या है ?

01. 900 Crore

02. 800 Crore

03. 700 Crore

04. 600 Crore

05. 500 Crore

Solution for Question 98 Ans Key: 4

eng/eng ISRO Chairman K Sivan announced recently the project would be more than 600 Crore and expected to be launched in 2021.
ISRO के अध्यक्ष के सिवन ने घोषणा की कि हाल ही में परियोजना 600 करोड़ से अधिक होगी और 2021 में लॉन्च होने की उम्मीद है

eng hin ISRO Chairman K Sivan announced recently the project would be more than 600 Crore and expected to be launched in 2021.
ISRO के अध्यक्ष के सिवन ने घोषणा की कि हाल ही में परियोजना 600 करोड़ से अधिक होगी और 2021 में लॉन्च होने की उम्मीद है

Q-99 What is tagline of Bank of Baroda?
eng/eng बैंक ऑफ बड़ौदा की टैगलाइन क्या है?

01. Your own bank
आपका अपना बैंक

02. One family, one bank
एक परिवार, एक बैंक

03. Good people to grow with
अच्छे लोगों के साथ बढ़ने के लिए

04. Your trusted bank
आपका विश्वसनीय बैंक

05. India's International Bank
भारत का अंतर्राष्ट्रीय बैंक

Q-99 What is tagline of Bank of Baroda?
eng hin बैंक ऑफ बड़ौदा की टैगलाइन क्या है?

01. Your own bank
आपका अपना बैंक

02. One family, one bank
एक परिवार, एक बैंक

03. Good people to grow with
अच्छे लोगों के साथ बढ़ने के लिए

04. Your trusted bank
आपका विश्वसनीय बैंक

05. India's International Bank
भारत का अंतर्राष्ट्रीय बैंक

Solution for Question 99 Ans Key: 5

eng/eng The tagline of Bank of Baroda is "India's International Bank". Bank of Baroda (BOB) is an Indian multinational, public sector banking and financial services company. It is the third largest public sector bank in India, The government of India announced the merger of Bank of Baroda, Vijaya Bank and Dena Bank on September 17, 2018.
बैंक ऑफ बड़ौदा की टैगलाइन "भारत का अंतर्राष्ट्रीय बैंक" है। बैंक ऑफ बड़ौदा (BOB) एक भारतीय बहुराष्ट्रीय, सार्वजनिक क्षेत्र की बैंकिंग और वित्तीय सेवा कंपनी है। यह भारत में तीसरा सबसे बड़ा सार्वजनिक क्षेत्र का बैंक है, भारत सरकार ने 17 सितंबर, 2018 को बैंक ऑफ बड़ौदा, विजया बैंक और देना बैंक के विलय की घोषणा की।

eng hin The tagline of Bank of Baroda is "India's International Bank". Bank of Baroda (BOB) is an Indian multinational, public sector banking and financial services company. It is the third largest public sector bank in India, The government of India announced the merger of Bank of Baroda, Vijaya Bank and Dena Bank on September 17, 2018.
बैंक ऑफ बड़ौदा की टैगलाइन "भारत का अंतर्राष्ट्रीय बैंक" है। बैंक ऑफ बड़ौदा (BOB) एक भारतीय बहुराष्ट्रीय, सार्वजनिक क्षेत्र की बैंकिंग और वित्तीय सेवा कंपनी है। यह भारत में तीसरा सबसे बड़ा सार्वजनिक क्षेत्र का बैंक है, भारत सरकार ने 17 सितंबर, 2018 को बैंक ऑफ बड़ौदा, विजया बैंक और देना बैंक के विलय की घोषणा की।

Q-100 Union Youth Affairs and Sports Minister Kiren Rijiju has laid foundation stones for various sports facilities at the cost of over 12 crore rupees in which city?
eng/eng केंद्रीय युवा मामलों और खेल मंत्री किरन रिजिजू ने किस शहर में 12 करोड़ रुपये से अधिक की लागत से विभिन्न खेल सुविधाओं के लिए आधारशिला रखी है?

01. Shimla
शिमला

02. Leh
लेह

03. Guwahati
गुवाहाटी

04. Dehradun
देहरादून

05. Noida
नोएडा

Q-100 Union Youth Affairs and Sports Minister Kiren Rijiju has laid foundation stones for various sports facilities at the cost of over 12 crore rupees in which city?
eng hin केंद्रीय युवा मामलों और खेल मंत्री किरन रिजिजू ने किस शहर में 12 करोड़ रुपये से अधिक की लागत से विभिन्न खेल सुविधाओं के लिए आधारशिला रखी है?

01. Shimla
शिमला
03. Guwahati
गुवाहाटी
05. Noida
नोएडा

02. Leh
लेह
04. Dehradun
देहरादून

Solution for Question 100

Ans Key: 2

eng/eng	Union Youth Youth Kalyan and Sports Minister Kiren Rijiju laid the foundation stone for various sports facilities to be built in Leh at a cost of over Rs 12 crore. केन्द्रीय युवा कल्याण और खेल मंत्री किरेन रिजिजू ने लेह में 12 करोड़ रुपये से अधिक की लागत से बनने वाली विभिन्न खेलों की सुविधाओं की आधारशिला रखी।
eng hin	Union Youth Youth Kalyan and Sports Minister Kiren Rijiju laid the foundation stone for various sports facilities to be built in Leh at a cost of over Rs 12 crore. केन्द्रीय युवा कल्याण और खेल मंत्री किरेन रिजिजू ने लेह में 12 करोड़ रुपये से अधिक की लागत से बनने वाली विभिन्न खेलों की सुविधाओं की आधारशिला रखी।

Q-101 Renowned music composer, Bibhuranjan Choudhury has passed away, he was related to which state?
जाने-माने संगीतकार, बिबुरंजन चौधरी का निधन हो गया है, वह किस राज्य से संबंधित थे?

- | | |
|---------------------|-------------------------------|
| 01. Kerala
केरल | 02. Maharashtra
महाराष्ट्र |
| 03. Punjab
पंजाब | 04. Assam
असम |
| 05. Odisha
ओडिशा | |

Q-101 Renowned music composer, Bibhuranjan Choudhury has passed away, he was related to which state?
जाने-माने संगीतकार, बिबुरंजन चौधरी का निधन हो गया है, वह किस राज्य से संबंधित थे?

- | | |
|---------------------|-------------------------------|
| 01. Kerala
केरल | 02. Maharashtra
महाराष्ट्र |
| 03. Punjab
पंजाब | 04. Assam
असम |
| 05. Odisha
ओडिशा | |

Solution for Question 101

Ans Key: 4

eng/eng	Renowned Assam music composer, Bibhuranjan Choudhury has passed away. जाने-माने असम के संगीतकार बिबुरंजन चौधरी का निधन हो गया है।
eng hin	Renowned Assam music composer, Bibhuranjan Choudhury has passed away. जाने-माने असम के संगीतकार बिबुरंजन चौधरी का निधन हो गया है।

Q-102 Recently who has chaired 'Aarogya Manthan' 2.0 celebrating the 2nd Anniversary of Ayushman Bharat- Pradhan Mantri Jan Aarogya Yojana?
हाल ही में आयुष्मान भारत प्रधानमंत्री जन आरोग्य योजना की दूसरी वर्षगांठ मनाने वाले अरोग्य मंथन 2.0 की अध्यक्षता किसने की?

- | | |
|---|-----------------------------------|
| 01. Dr Harsh Wardhan
डॉ हर्ष वर्धन | 02. Narendra Modi
नरेंद्र मोदी |
| 03. Piyush Goyal
पीयूष गोयल | 04. Amit Shah
अमित शाह |
| 05. Ramesh Pokhriyal Nishank
रमेश पोखरियाल निशंक | |

Q-102 Recently who has chaired 'Aarogya Manthan' 2.0 celebrating the 2nd Anniversary of Ayushman Bharat- Pradhan Mantri Jan Aarogya Yojana?
हाल ही में आयुष्मान भारत प्रधानमंत्री जन आरोग्य योजना की दूसरी वर्षगांठ मनाने वाले अरोग्य मंथन 2.0 की अध्यक्षता किसने की?

- | | |
|---|-----------------------------------|
| 01. Dr Harsh Wardhan
डॉ हर्ष वर्धन | 02. Narendra Modi
नरेंद्र मोदी |
| 03. Piyush Goyal
पीयूष गोयल | 04. Amit Shah
अमित शाह |
| 05. Ramesh Pokhriyal Nishank
रमेश पोखरियाल निशंक | |

Solution for Question 102

Ans Key: 1

eng/eng	Dr Harsh Vardhan, Union Minister for Health and Family Welfare chaired 'Aarogya Manthan' 2.0 celebrating the 2nd Anniversary of Ayushman Bharat- Pradhan Mantri Jan Aarogya Yojana. केंद्रीय स्वास्थ्य और परिवार कल्याण मंत्री डॉ। हर्षवर्धन ने आयुष्मान भारत की दूसरी वर्षगांठ मनाते हुए आरोग्य मंथन 2.0 की अध्यक्षता की- प्रधानमंत्री जन सेवा योजना।
eng hin	Dr Harsh Vardhan, Union Minister for Health and Family Welfare chaired 'Aarogya Manthan' 2.0 celebrating the 2nd Anniversary of Ayushman Bharat- Pradhan Mantri Jan Aarogya Yojana. केंद्रीय स्वास्थ्य और परिवार कल्याण मंत्री डॉ। हर्षवर्धन ने आयुष्मान भारत की दूसरी वर्षगांठ मनाते हुए आरोग्य मंथन 2.0 की अध्यक्षता की- प्रधानमंत्री जन सेवा योजना।

Q-103 Recently the successful flight test of ABHYAS - High-speed Expendable Aerial Target was conducted by which organization?
eng/eng हाल ही में ABHYAS का सफल उड़ान परीक्षण - हाई-स्पीड एक्सपेंडेबल एरियल टारगेट किस संगठन द्वारा आयोजित किया गया था?

- | | |
|---|--|
| 01. ISRO
इसरो | 02. NASA
नासा |
| 03. DRDO
डीआरडीओ | 04. Indian Institute of Science
भारतीय विज्ञान संस्थान |
| 05. None of the above
उपरोक्त में से कोई नहीं | |

Q-103 Recently the successful flight test of ABHYAS - High-speed Expendable Aerial Target was conducted by which organization?
eng hin हाल ही में ABHYAS का सफल उड़ान परीक्षण - हाई-स्पीड एक्सपेंडेबल एरियल टारगेट किस संगठन द्वारा आयोजित किया गया था?

- | | |
|---|--|
| 01. ISRO
इसरो | 02. NASA
नासा |
| 03. DRDO
डीआरडीओ | 04. Indian Institute of Science
भारतीय विज्ञान संस्थान |
| 05. None of the above
उपरोक्त में से कोई नहीं | |

Solution for Question 103

Ans Key: 3

eng/eng	The successful flight test of ABHYAS - High-speed Expendable Aerial Target was conducted by Defence Research and Development Organisation, DRDO from the Interim Test Range, Balasore in Odisha. ABHYAS - हाई-स्पीड एक्सपेंडेबल एरियल टारगेट का सफल उड़ान परीक्षण रक्षा अनुसंधान एवं विकास संगठन, DRDO द्वारा इंटरिम टेस्ट रेंज, बालासोर से ओडिशा में किया गया था।
eng hin	The successful flight test of ABHYAS - High-speed Expendable Aerial Target was conducted by Defence Research and Development Organisation, DRDO from the Interim Test Range, Balasore in Odisha. ABHYAS - हाई-स्पीड एक्सपेंडेबल एरियल टारगेट का सफल उड़ान परीक्षण रक्षा अनुसंधान एवं विकास संगठन, DRDO द्वारा इंटरिम टेस्ट रेंज, बालासोर से ओडिशा में किया गया था।

Q-104 Recently the National Generic Document Registration System was launched in which union territory?
eng/eng हाल ही में राष्ट्रीय सामान्य दस्तावेज़ पंजीकरण प्रणाली किस केंद्र शासित प्रदेश में शुरू की गई थी?

- | | |
|---|-----------------------------|
| 01. Jammu & Kashmir
जम्मू और कश्मीर | 02. Delhi
दिल्ली |
| 03. Chandigarh
चंडीगढ़ | 04. Ladakh
लद्दाख |
| 05. Puducherry
पुडुचेरी | |

Q-104 Recently the National Generic Document Registration System was launched in which union territory?
eng hin हाल ही में राष्ट्रीय सामान्य दस्तावेज़ पंजीकरण प्रणाली किस केंद्र शासित प्रदेश में शुरू की गई थी?

- | | |
|---|-----------------------------|
| 01. Jammu & Kashmir
जम्मू और कश्मीर | 02. Delhi
दिल्ली |
| 03. Chandigarh
चंडीगढ़ | 04. Ladakh
लद्दाख |
| 05. Puducherry
पुडुचेरी | |

Solution for Question 104

Ans Key: 1

eng/eng	Lieutenant Governor of Jammu and Kashmir, Manoj Sinha launched the National Generic Document Registration System for the union territory. जम्मू-कश्मीर के लेफ्टिनेंट गवर्नर, मनोज सिन्हा ने केंद्र शासित प्रदेश के लिए नेशनल जेनरिक डॉक्यूमेंट रजिस्ट्रेशन सिस्टम लॉन्च किया।
eng hin	Lieutenant Governor of Jammu and Kashmir, Manoj Sinha launched the National Generic Document Registration System for the union territory. जम्मू-कश्मीर के लेफ्टिनेंट गवर्नर, मनोज सिन्हा ने केंद्र शासित प्रदेश के लिए नेशनल जेनरिक डॉक्यूमेंट रजिस्ट्रेशन सिस्टम लॉन्च किया।

Q-105 Recently Rajesh Khullar has been appointed as Executive Director of which organization?
eng/eng हाल ही में राजेश खुल्लर को किस संगठन का कार्यकारी निदेशक नियुक्त किया गया है?

01. World Bank
विश्व बैंक
03. WTO
विश्व व्यापार संगठन
05. ADB
एडीबी

02. IMF
आईएमएफ
04. WHO
डब्ल्यूएचओ

Q-105 Recently Rajesh Khullar has been appointed as Executive Director of which organization?
eng hin हाल ही में राजेश खुल्लर को किस संगठन का कार्यकारी निदेशक नियुक्त किया गया है?

01. World Bank
विश्व बैंक
03. WTO
विश्व व्यापार संगठन
05. ADB
एडीबी

02. IMF
आईएमएफ
04. WHO
डब्ल्यूएचओ

Solution for Question 105

Ans Key: 1

eng/eng A 1988 batch IAS officer, Rajesh Khullar has been appointed as Executive Director at World Bank in Washington DC. The Appointment Committee of the Cabinet has approved the appointment of Rajesh Khulla for a tenure of three years from the date of assumption of charge or till the date of his superannuation (August 23, 2023).

1988 बैच के आईएएस अधिकारी, राजेश खुल्लर को वाशिंगटन डीसी में विश्व बैंक में कार्यकारी निदेशक के रूप में नियुक्त किया गया है। मंत्रिमंडल की नियुक्ति समिति ने राजेश खुल्ला को पदभार ग्रहण करने की तारीख से तीन साल के कार्यकाल के लिए या उनके पद से मुक्त होने की तारीख (23 अगस्त, 2023) तक की मंजूरी दे दी है।

eng hin A 1988 batch IAS officer, Rajesh Khullar has been appointed as Executive Director at World Bank in Washington DC. The Appointment Committee of the Cabinet has approved the appointment of Rajesh Khulla for a tenure of three years from the date of assumption of charge or till the date of his superannuation (August 23, 2023).

1988 बैच के आईएएस अधिकारी, राजेश खुल्लर को वाशिंगटन डीसी में विश्व बैंक में कार्यकारी निदेशक के रूप में नियुक्त किया गया है। मंत्रिमंडल की नियुक्ति समिति ने राजेश खुल्ला को पदभार ग्रहण करने की तारीख से तीन साल के कार्यकाल के लिए या उनके पद से मुक्त होने की तारीख (23 अगस्त, 2023) तक की मंजूरी दे दी है।

Q-106 Recently Harivansh Narayan Singh has been re-elected as the Deputy Chairman of Rajya Sabha, he is associated with which political party?
eng/eng हाल ही में हरिवंश नारायण सिंह को राज्यसभा के उपाध्यक्ष के रूप में फिर से चुना गया है, वह किस राजनीतिक दल से जुड़े हैं?

01. Rashtriya Janata Dal
राष्ट्रीय जनता दल
03. Aam Aadmi Party
आम आदमी पार्टी
05. Janata Dal (United)
जनता दल (यूनाइटेड)
02. Indian National Congress
भारतीय राष्ट्रीय कांग्रेस
04. Samata Party
समता पार्टी

Q-106 Recently Harivansh Narayan Singh has been re-elected as the Deputy Chairman of Rajya Sabha, he is associated with which political party?
eng hin हाल ही में हरिवंश नारायण सिंह को राज्यसभा के उपाध्यक्ष के रूप में फिर से चुना गया है, वह किस राजनीतिक दल से जुड़े हैं?

01. Rashtriya Janata Dal
राष्ट्रीय जनता दल
03. Aam Aadmi Party
आम आदमी पार्टी
05. Janata Dal (United)
जनता दल (यूनाइटेड)
02. Indian National Congress
भारतीय राष्ट्रीय कांग्रेस
04. Samata Party
समता पार्टी

Solution for Question 106

Ans Key: 5

eng/eng Janata Dal (United) parliamentary Harivansh Narayan Singh has been re-elected as the Deputy Chairman of Rajya Sabha. जनता दल (यूनाइटेड) के सांसद हरिवंश नारायण सिंह को राज्यसभा के उपाध्यक्ष के रूप में फिर से चुना गया है।

eng hin Janata Dal (United) parliamentary Harivansh Narayan Singh has been re-elected as the Deputy Chairman of Rajya Sabha. जनता दल (यूनाइटेड) के सांसद हरिवंश नारायण सिंह को राज्यसभा के उपाध्यक्ष के रूप में फिर से चुना गया है।

Q-107 Recently Former _____ Ash Barty has won the Golf Club Championship.
eng/eng हाल ही में पूर्व _____ ऐश बार्टी ने गोल्फ क्लब चैम्पियनशिप जीती है।

01. Footballer
फुटबॉलर
03. Actress
02. Cricketer
क्रिकेटर
04. Squash Player

अभिनेत्री

स्क़ैश प्लेयर

05. Hockey Player
हॉकी प्लेयर

Q-107 Recently Former _____ Ash Barty has won the Golf Club Championship.
eng hin हाल ही में पूर्व _____ ऐश बार्टी ने गोल्फ क्लब चैम्पियनशिप जीती है।

01. Footballer
फुटबॉलर

02. Cricketer
क्रिकेटर

03. Actress
अभिनेत्री

04. Squash Player
स्क़ैश प्लेयर

05. Hockey Player
हॉकी प्लेयर

Solution for Question 107

Ans Key: 2

eng/eng The top-ranked Women's Tennis Association (WTA) player in the world and a former professional cricket player, Ashleigh Barty has now added another feat in her sporting list by winning Brookwater Golf Club women's championship.
विश्व में शीर्ष क्रम की महिला टेनिस संघ (डब्ल्यूटीए) की खिलाड़ी और पूर्व पेशेवर क्रिकेट खिलाड़ी, एशलीघ बार्टी ने अब ब्रुकवाटर गोल्फ क्लब महिलाओं की चैम्पियनशिप जीतकर अपनी खेल सूची में एक और उपलब्धि जोड़ ली है।

eng hin The top-ranked Women's Tennis Association (WTA) player in the world and a former professional cricket player, Ashleigh Barty has now added another feat in her sporting list by winning Brookwater Golf Club women's championship.
विश्व में शीर्ष क्रम की महिला टेनिस संघ (डब्ल्यूटीए) की खिलाड़ी और पूर्व पेशेवर क्रिकेट खिलाड़ी, एशलीघ बार्टी ने अब ब्रुकवाटर गोल्फ क्लब महिलाओं की चैम्पियनशिप जीतकर अपनी खेल सूची में एक और उपलब्धि जोड़ ली है।

Q-108 Private sector general insurer ICICI Lombard General Insurance Company Ltd has entered into a bancassurance tie-up with which private sector bank for selling its insurance products recently?
eng/eng निजी क्षेत्र के सामान्य बीमाकर्ता आईसीआईसीआई लोम्बार्ड जनरल इंश्योरेंस कंपनी लिमिटेड ने हाल ही में अपने बीमा उत्पादों को बेचने के लिए किस निजी क्षेत्र के बैंक के साथ गठजोड़ किया है?

01. HDFC Bank
एचडीएफसी बैंक

02. Axis Bank
एक्सिस बैंक

03. Bandhan Bank
बंघन बैंक

04. Yes Bank
यस बैंक

05. ICICI Bank
आईसीआईसीआई बैंक

Q-108 Private sector general insurer ICICI Lombard General Insurance Company Ltd has entered into a bancassurance tie-up with which private sector bank for selling its insurance products recently?
eng/hin निजी क्षेत्र के सामान्य बीमाकर्ता आईसीआईसीआई लोम्बार्ड जनरल इंश्योरेंस कंपनी लिमिटेड ने हाल ही में अपने बीमा उत्पादों को बेचने के लिए किस निजी क्षेत्र के बैंक के साथ गठजोड़ किया है?

01. HDFC Bank
एचडीएफसी बैंक

02. Axis Bank
एक्सिस बैंक

03. Bandhan Bank
बंघन बैंक

04. Yes Bank
यस बैंक

05. ICICI Bank
आईसीआईसीआई बैंक

Solution for Question 108

Ans Key: 4

eng/eng Private sector general insurance ICICI Lombard General Insurance has entered into a bancassurance agreement with Yes Bank for the sale of its insurance products.
निजी क्षेत्र की साधारण बीमा आईसीआईसीआई लोम्बार्ड जनरल इंश्योरेंस ने अपने बीमा उत्पादों की बिक्री के लिए यस बैंक के साथ बैंकएश्योरेंस करार किया है।

eng hin Private sector general insurance ICICI Lombard General Insurance has entered into a bancassurance agreement with Yes Bank for the sale of its insurance products.
निजी क्षेत्र की साधारण बीमा आईसीआईसीआई लोम्बार्ड जनरल इंश्योरेंस ने अपने बीमा उत्पादों की बिक्री के लिए यस बैंक के साथ बैंकएश्योरेंस करार किया है।

Q-109 Name the Indian teenager who has been named in the 2020 Class of 17 Young Leaders for the Sustainable Development Goals?
eng/eng उन भारतीय किशोरी/ किशोर का नाम बताइए, जिन्हें 2020 में 17 युवा नेताओं के सतत विकास लक्ष्यों के लिए नामित किया गया है?

01. Udit Singhal
उदित सिंघल

02. Prakhar Chaturvedi
प्रखर चतुर्वेदी

03. Akash Arora
आकाश अरोड़ा

04. Aditi Sharma
अदिति शर्मा

05. Shraddha Singhaniya
श्रद्धा सिंघानिया

Q-109 Name the Indian teenager who has been named in the 2020 Class of 17 Young Leaders for the Sustainable Development Goals?
eng hin उन भारतीय किशोरी/ किशोर का नाम बताइए, जिन्हें 2020 में 17 युवा नेताओं के सतत विकास लक्ष्यों के लिए नामित किया गया है?

- | | |
|---|--|
| 01. Udit Singhal
उदित सिंघल | 02. Prakhar Chaturvedi
प्रखर चतुर्वेदी |
| 03. Akash Arora
आकाश अरोड़ा | 04. Aditi Sharma
अदिति शर्मा |
| 05. Shraddha Singhaniya
श्रद्धा सिंघानिया | |

Solution for Question 109 Ans Key: 1

eng/eng Indian teenager Udit Singhal has been named in the 2020 Class of 17 Young Leaders for the Sustainable Development Goals (SDGs). He has been named in the 2020 list of young leaders who promote sustainable development goals.
 भारतीय किशोर उदित सिंघल को 2020 के 17 युवा नेताओं की सतत विकास लक्ष्यों (एसडीजी) के लिए नामित किया गया है। उन्हें 2020 में युवा नेताओं की सूची में रखा गया है जो सतत विकास लक्ष्यों को बढ़ावा देते हैं।

eng hin Indian teenager Udit Singhal has been named in the 2020 Class of 17 Young Leaders for the Sustainable Development Goals (SDGs). He has been named in the 2020 list of young leaders who promote sustainable development goals.
 भारतीय किशोर उदित सिंघल को 2020 के 17 युवा नेताओं की सतत विकास लक्ष्यों (एसडीजी) के लिए नामित किया गया है। उन्हें 2020 में युवा नेताओं की सूची में रखा गया है जो सतत विकास लक्ष्यों को बढ़ावा देते हैं।

Q-110 MoRTH(Ministry of Road Transport & Highways) conducted 2 days orientation & training programme on iRAD(Integrated Road Accident Database).
eng/eng Who developed this app?
 MoRTH (सड़क परिवहन और राजमार्ग मंत्रालय) ने iRAD (इंटीग्रेटेड रोड एक्सीडेंट डेटाबेस) पर 2 दिनों का उन्मुखीकरण और प्रशिक्षण कार्यक्रम चलाया। इस ऐप को किसने विकसित किया?

- | | |
|---|--|
| 01. IIT Delhi
आईआईटी दिल्ली | 02. IIT Kanpur
आईआईटी कानपुर |
| 03. IIT Roorkee
आईआईटी रुड़की | 04. IIT Guwahati
आईआईटी गुवाहाटी |
| 05. IIT Madras
आईआईटी मद्रास | |

Q-110 MoRTH(Ministry of Road Transport & Highways) conducted 2 days orientation & training programme on iRAD(Integrated Road Accident Database).
eng hin Who developed this app?
 MoRTH (सड़क परिवहन और राजमार्ग मंत्रालय) ने iRAD (इंटीग्रेटेड रोड एक्सीडेंट डेटाबेस) पर 2 दिनों का उन्मुखीकरण और प्रशिक्षण कार्यक्रम चलाया। इस ऐप को किसने विकसित किया?

- | | |
|---|--|
| 01. IIT Delhi
आईआईटी दिल्ली | 02. IIT Kanpur
आईआईटी कानपुर |
| 03. IIT Roorkee
आईआईटी रुड़की | 04. IIT Guwahati
आईआईटी गुवाहाटी |
| 05. IIT Madras
आईआईटी मद्रास | |

Solution for Question 110 Ans Key: 5

eng/eng The app had used in some districts of Kanpur & Uttar Pradesh.
 ऐप का इस्तेमाल कानपुर और उत्तर प्रदेश के कुछ जिलों में किया गया था।

eng hin The app had used in some districts of Kanpur & Uttar Pradesh.
 ऐप का इस्तेमाल कानपुर और उत्तर प्रदेश के कुछ जिलों में किया गया था।

Q-111 In which state was the biennial global pulses conference called 'The Pulses Conclave 2020'?
eng/eng द्विवार्षिक वैश्विक दलहन सम्मेलन 'द पल्सेस कॉन्क्लेव 2020' नामक किस राज्य में आयोजित किया गया था ?

- | | |
|---|--------------------------------------|
| 01. Karnataka
कर्नाटक | 02. Maharashtra
महाराष्ट्र |
| 03. Tamil Nadu
तमिलनाडु | 04. Kerala
केरल |
| 05. None of these
इनमें से कोई नहीं | |

Q-111 In which state was the biennial global pulses conference called 'The Pulses Conclave 2020'?
eng hin द्विवार्षिक वैश्विक दलहन सम्मेलन 'द पल्सेस कॉन्क्लेव 2020' नामक किस राज्य में आयोजित किया गया था ?

- | | |
|----------------------|------------------------|
| 01. Karnataka | 02. Maharashtra |
|----------------------|------------------------|

कर्नाटक

03. Tamil Nadu
तमिलनाडु

05. None of these
इनमें से कोई नहीं

महाराष्ट्र

04. Kerala
केरल

Solution for Question 111

Ans Key: 2

eng/eng The apex body of India's pulses and cereals industry and trade, India Pulses and Grain Association (IPG) from 5th February to 12th February 2020 at Lonavala, Pune, 5th edition of the biennial global pulses conference called 'The Pulse Conclave 2020' in Mumbai. Was held?
भारत के दालों और अनाज उद्योग और व्यापार का शीर्ष निकाय, इंडिया पल्सेस एंड ग्रेन एसोसिएशन (IPG) 12 फरवरी से 12 फरवरी, 2020 तक लोनावला, पुणे में 'द पल्स कॉनक्लेव 2020' नामक द्विवार्षिक वैश्विक दाल सम्मेलन के 5 वें संस्करण का मुंबई में आयोजित किया गया ?

eng hin The apex body of India's pulses and cereals industry and trade, India Pulses and Grain Association (IPG) from 5th February to 12th February 2020 at Lonavala, Pune, 5th edition of the biennial global pulses conference called 'The Pulse Conclave 2020' in Mumbai. Was held?
भारत के दालों और अनाज उद्योग और व्यापार का शीर्ष निकाय, इंडिया पल्सेस एंड ग्रेन एसोसिएशन (IPG) 12 फरवरी से 12 फरवरी, 2020 तक लोनावला, पुणे में 'द पल्स कॉनक्लेव 2020' नामक द्विवार्षिक वैश्विक दाल सम्मेलन के 5 वें संस्करण का मुंबई में आयोजित किया गया ?

Q-112 IMF was established to meet which of the following Objectives.

eng/eng IMF किस उद्देश्य से बनाया गया था?

- | | |
|--|--|
| 01. Promoting International Monetary Cooperation
अंतर्राष्ट्रीय मुद्रा सहयोग को बढ़ावा देना | 02. Expanding International Trade
अंतर्राष्ट्रीय व्यापार का विस्तार |
| 03. Avoiding competitive exchange depreciations.
प्रतिस्पर्धी विनिमय मूल्यहास से बचना। | 04. All of these
ये सभी |
| 05. None of these
इनमें से कोई नहीं | |

Q-112 IMF was established to meet which of the following Objectives.

eng hin IMF किस उद्देश्य से बनाया गया था?

- | | |
|--|--|
| 01. Promoting International Monetary Cooperation
अंतर्राष्ट्रीय मुद्रा सहयोग को बढ़ावा देना | 02. Expanding International Trade
अंतर्राष्ट्रीय व्यापार का विस्तार |
| 03. Avoiding competitive exchange depreciations.
प्रतिस्पर्धी विनिमय मूल्यहास से बचना। | 04. All of these
ये सभी |
| 05. None of these
इनमें से कोई नहीं | |

Solution for Question 112

Ans Key: 4

eng/eng The International Monetary Fund gives loans only for policy reform programs and the resources of the International Monetary Fund can be used by poor nations as well as rich countries.
अंतर्राष्ट्रीय मुद्रा कोष केवल नीति सुधार कार्यक्रमों के लिये ही ऋण देता है और अंतर्राष्ट्रीय मुद्रा कोष के संसाधनों का इस्तेमाल निर्धन राष्ट्रों के साथ-साथ धनी देश भी कर सकते हैं।

eng hin The International Monetary Fund gives loans only for policy reform programs and the resources of the International Monetary Fund can be used by poor nations as well as rich countries.
अंतर्राष्ट्रीय मुद्रा कोष केवल नीति सुधार कार्यक्रमों के लिये ही ऋण देता है और अंतर्राष्ट्रीय मुद्रा कोष के संसाधनों का इस्तेमाल निर्धन राष्ट्रों के साथ-साथ धनी देश भी कर सकते हैं।

Q-113 Global gender gap index released by which of the following?

eng/eng वैश्विक लिंग अंतर सूचकांक निम्नलिखित में से किसके द्वारा जारी किया गया है?

- | | |
|---|--|
| 01. FAO
एफएओ | 02. UNDP
यूएनडीपी |
| 03. United Nations-women
संयुक्त राष्ट्र-महिला | 04. World Economic Forum
विश्व आर्थिक मंच |
| 05. None of these
इनमें से कोई नहीं | |

Q-113 Global gender gap index released by which of the following?

eng hin वैश्विक लिंग अंतर सूचकांक निम्नलिखित में से किसके द्वारा जारी किया गया है?

- | | |
|---|--|
| 01. FAO
एफएओ | 02. UNDP
यूएनडीपी |
| 03. United Nations-women
संयुक्त राष्ट्र-महिला | 04. World Economic Forum
विश्व आर्थिक मंच |

Q-116 eng/eng	Dachigam National Park- where it is located in India? दाचीगाम राष्ट्रीय उद्यान- यह भारत में कहाँ स्थित है?
01. Bihar बिहार	02. Assam असम
03. Himachal Pradesh हिमाचल प्रदेश	04. Sikkim सिक्किम
05. None of these इनमें से कोई नहीं	

Q-116 eng hin	Dachigam National Park- where it is located in India? दाचीगाम राष्ट्रीय उद्यान- यह भारत में कहाँ स्थित है?
01. Bihar बिहार	02. Assam असम
03. Himachal Pradesh हिमाचल प्रदेश	04. Sikkim सिक्किम
05. None of these इनमें से कोई नहीं	

Solution for Question 116

Ans Key: 5

eng/eng	Dachigam National Park is located 22 kilometers from Srinagar, Jammu and Kashmir. It covers an area of 141 km². The name of the park literally stands for "ten villages" which could be in memory of the ten villages that were relocated for its formation. दाचीगाम राष्ट्रीय उद्यान श्रीनगर, जम्मू और कश्मीर से 22 किलोमीटर की दूरी पर स्थित है। इसमें 141 वर्ग किमी का क्षेत्र शामिल है। पार्क का नाम सचमुच "दस गांवों" के लिए है, जो उन दस गांवों की याद में हो सकता है जिन्हें इसके गठन के लिए स्थानांतरित किया गया था।
eng hin	Dachigam National Park is located 22 kilometers from Srinagar, Jammu and Kashmir. It covers an area of 141 km². The name of the park literally stands for "ten villages" which could be in memory of the ten villages that were relocated for its formation. दाचीगाम राष्ट्रीय उद्यान श्रीनगर, जम्मू और कश्मीर से 22 किलोमीटर की दूरी पर स्थित है। इसमें 141 वर्ग किमी का क्षेत्र शामिल है। पार्क का नाम सचमुच "दस गांवों" के लिए है, जो उन दस गांवों की याद में हो सकता है जिन्हें इसके गठन के लिए स्थानांतरित किया गया था।

Q-117 eng/eng	Among the following which one is the name of the National Park located in Bihar? निम्नलिखित में से किसके नाम पर बिहार में राष्ट्रीय उद्यान का नाम रखा गया है?
01. Nameri National Park नामेरी नेशनल पार्क	02. Gir Forest National Park गिर वन राष्ट्रीय उद्यान
03. Sultanpur National Park सुल्तानपुर नेशनल पार्क	04. Valmiki National Park वाल्मीकि राष्ट्रीय उद्यान
05. None of these इनमें से कोई नहीं	

Q-117 eng hin	Among the following which one is the name of the National Park located in Bihar? निम्नलिखित में से किसके नाम पर बिहार में राष्ट्रीय उद्यान का नाम रखा गया है?
01. Nameri National Park नामेरी नेशनल पार्क	02. Gir Forest National Park गिर वन राष्ट्रीय उद्यान
03. Sultanpur National Park सुल्तानपुर नेशनल पार्क	04. Valmiki National Park वाल्मीकि राष्ट्रीय उद्यान
05. None of these इनमें से कोई नहीं	

Solution for Question 117

Ans Key: 4

eng/eng	Valmiki National Park, Tiger Reserve and Wildlife Sanctuary is located at the India-Nepal border in the West Champaran district of Bihar, India on the bank of river Gandak. It is the only National park in Bihar वाल्मीकि राष्ट्रीय उद्यान, टाइगर रिजर्व और वन्यजीव अभयारण्य, बिहार के पश्चिम चंपारण जिले में भारत-नेपाल सीमा पर, भारत में गंडक नदी के किनारे स्थित है। यह बिहार का एकमात्र राष्ट्रीय उद्यान है।
eng hin	Valmiki National Park, Tiger Reserve and Wildlife Sanctuary is located at the India-Nepal border in the West Champaran district of Bihar, India on the bank of river Gandak. It is the only National park in Bihar वाल्मीकि राष्ट्रीय उद्यान, टाइगर रिजर्व और वन्यजीव अभयारण्य, बिहार के पश्चिम चंपारण जिले में भारत-नेपाल सीमा पर, भारत में गंडक नदी के किनारे स्थित है। यह बिहार का एकमात्र राष्ट्रीय उद्यान है।

Q-118 eng/eng	Among the following National Park which one is located in Assam? निम्नलिखित राष्ट्रीय उद्यान में से एक जो असाम में स्थित है।
-------------------------	---

- | | |
|---|--|
| 01. Indravati National Park
इंद्रावती राष्ट्रीय उद्यान | 02. Vansda National Park
वंसदा नेशनल पार्क |
| 03. Kalesar National park
कलेसर राष्ट्रीय उद्यान | 04. Nameri National Park
नामेरी नेशनल पार्क |
| 05. None of these
इनमें से कोई नहीं | |

Q-118 Among the following National Park which one is located in Assam?
निम्नलिखित राष्ट्रीय उद्यान में से एक जो असम में स्थित है।

- | | |
|---|--|
| 01. Indravati National Park
इंद्रावती राष्ट्रीय उद्यान | 02. Vansda National Park
वंसदा नेशनल पार्क |
| 03. Kalesar National park
कलेसर राष्ट्रीय उद्यान | 04. Nameri National Park
नामेरी नेशनल पार्क |
| 05. None of these
इनमें से कोई नहीं | |

Solution for Question 118 Ans Key: 4

eng/eng Nameri National Park is a national park in the foothills of the eastern Himalayas in the Sonitpur District of Assam, India, about 35 km from Tezpur. Nameri is about 9 km from Chariduar, the nearest village.
नामेरी राष्ट्रीय उद्यान भारत के असम के सोनितपुर जिले में पूर्वी हिमालय की तलहटी में एक राष्ट्रीय उद्यान है, जो तेजपुर से लगभग 35 किमी दूर है। नामेरी, निकटतम गांव चारिदुआर से लगभग 9 किमी दूर है।

eng hin Nameri National Park is a national park in the foothills of the eastern Himalayas in the Sonitpur District of Assam, India, about 35 km from Tezpur. Nameri is about 9 km from Chariduar, the nearest village.
नामेरी राष्ट्रीय उद्यान भारत के असम के सोनितपुर जिले में पूर्वी हिमालय की तलहटी में एक राष्ट्रीय उद्यान है, जो तेजपुर से लगभग 35 किमी दूर है। नामेरी, निकटतम गांव चारिदुआर से लगभग 9 किमी दूर है।

Q-119 Actress Ashalata Wabgaonkar has passed away, she was associated with which film industry?
eng/eng अभिनेत्री आशालता वाबगांवकर का निधन हो गया है, वह किस फिल्म उद्योग से जुड़ी थीं?

- | | |
|-------------------------|----------------------|
| 01. Tamil
तमिल | 02. Telugu
तेलुगु |
| 03. Kannada
कन्नड़ | 04. Marathi
मराठी |
| 05. Malayalam
मलयालम | |

Q-119 Actress Ashalata Wabgaonkar has passed away, she was associated with which film industry?
eng hin अभिनेत्री आशालता वाबगांवकर का निधन हो गया है, वह किस फिल्म उद्योग से जुड़ी थीं?

- | | |
|-------------------------|----------------------|
| 01. Tamil
तमिल | 02. Telugu
तेलुगु |
| 03. Kannada
कन्नड़ | 04. Marathi
मराठी |
| 05. Malayalam
मलयालम | |

Solution for Question 119 Ans Key: 4

eng/eng Noted Marathi actress and Bollywood's veteran character artist Ashalata Wabgaonkar has passed away.
जानी-मानी मराठी अभिनेत्री और बॉलीवुड की अनुभवी चरित्र कलाकार आशालता वाबगांवकर का निधन हो गया है।

eng hin Noted Marathi actress and Bollywood's veteran character artist Ashalata Wabgaonkar has passed away.
जानी-मानी मराठी अभिनेत्री और बॉलीवुड की अनुभवी चरित्र कलाकार आशालता वाबगांवकर का निधन हो गया है।

Q-120 According to a new study, Coronavirus may be capable of directly invading which among the following organs?
eng/eng एक नए अध्ययन के अनुसार, कोरोनावायरस सीधे आक्रमण करने में सक्षम हो सकता है जो निम्नलिखित अंगों में से है?

- | | |
|----------------------|-----------------------|
| 01. Brain
दिमाग | 02. Kidney
गुर्दा |
| 03. Heart
दिल | 04. Intestines
आंत |
| 05. Spleen
तिल्ली | |

Q-120 According to a new study, Coronavirus may be capable of directly invading which among the following organs?
eng hin एक नए अध्ययन के अनुसार, कोरोनावायरस सीधे आक्रमण करने में सक्षम हो सकता है जो निम्नलिखित अंगों में से है?

02. Kidney
गुर्दा
04. Intestines
आंत

Ans Key: 1

Coronavirus may be capable of directly invading the brain, claims a new study published on September 9, 2020. The study noted that headaches, confusion and delirium experienced by some of the COVID-19 patients may be a result of the same.

कोरोनावायरस मस्तिष्क पर सीधे हमला करने में सक्षम हो सकता है, 9 सितंबर, 2020 को प्रकाशित एक नए अध्ययन का दावा करता है। इस अध्ययन में कहा गया है कि COVID-19 के कुछ रोगियों द्वारा अनुभव किए गए सिरदर्द, भ्रम और प्रलाप का परिणाम हो सकता है।

eng/eng Passage

(A) In a robot and were given a brief review on advanced robots.
(B) Students of many schools attended a two-day workshop on "robotics".
(C) Robotic kits to assemble wireless robots under the guidance of IIT faculty.
(D) On the first day, the participants were told about electronic components used
(E) The selected students will go on to participate in a national competition.
(F) The second day of the workshop was particularly exciting for the participants as they were given

नीचे (A), (B), (C), (D), (E) और (F) को इस तरह व्यवस्थित कीजिए कि लुहों कथनों का एक अर्थपूर्ण परिच्छेद बन जाये।

- (A) इसके बाद शासन के अधिकारियों को विवि की मांगों से संबंधित जापन सौंपा जाएगा।
(B) फिर भी मांगें पूरी न हुई तो तीन अगस्त से आंदोलन होगा।
(C) 23 जुलाई को वह कुलपति प्रो. मनोज कुमार मिश्रा को जापन सौंपकर मांगें पूरी करने के लिए 10 दिन का समय देंगे।
(D) लखनऊ विश्वविद्यालय में कर्मचारी शनिवार को हड़ताल पर रहेंगे। मांगें पूरी न होने के कारण कर्मचारी यह हड़ताल चेतावनी के रूप में कर रहे हैं।
(E) महामंत्री संजय शुक्ला ने कहा कि तीन अगस्त को कुलाधिपति और
(F) शुक्रवार को लविवि कर्मचारी परिषद के आह्वान पर हुई आमसभा में बरसात के बावजूद बड़ी संख्या में कर्मचारी शामिल हुए।

eng/eng

- 02.** D
04. F

eng hin

02. D
04. F

Ans Key: 4

eng hin सही अनुक्रम 'FDEACB' है।

eng/eng Passage

The sluggishness in the demand for residential housing in leading markets like Mumbai and Delhi has become visible, with several listed real estate companies

reporting higher levels of inventory. The commensurate drop in the value of the housing portfolio of the leading financiers for the sector indicates that the pace of buying houses is not expected to build up for the next two quarters. For the first time, possibly, despite a rising population, India's real estate sector is facing a **full-fledged** downturn. Against this backdrop, the ministry of housing and poverty alleviation's move to push up the ceiling for low-cost housing might be a useful measure to get some demand built into the market. Access to housing means a rise in the net worth of a family. The security provided by it leads to a rise in demand for other goods and services too. From the banking sector's perspective, the exposure to the housing sector accounts for 10 per cent of non-food credit, so any slowdown here has a cascading effect.

As a recent report by real estate analyst firm CB Richard Ellis points out, the bulk of the expected demand for fresh housing stock will remain concentrated in the middle segment and low-cost housing this year. Some buoyancy had come in from the one per cent interest rate subvention offered by the Union budget this year. But for this segment to **take off**, home prices have to come down drastically. While the ministry, by raising the threshold for the definition of low-cost housing to include families with an annual income of Rs 1 lakh, up from the current Rs 60,000, has taken the right step; a house can be made affordable for this income group only if it is priced around Rs 5,00,000, that is, 60 times their monthly income. That sort of housing stock is **scarcely** present with any of the real estate companies. It is unlikely to materialise in the near future unless the government takes measures to cut the value of land from the pricing for this housing segment. This would, however, need a full-fledged regulator to be up and running in the sector to monitor the efficient use of the land. Till that happens, the demand is likely to remain **muted**, all the more so as the impact of the cut back in growth rates of the economy plays out here too.

eng hin Passage

निम्नलिखित गद्यांश को ध्यानपूर्वक पढ़िये एवं पूछे गए प्रश्नों के सही विकल्प चुनकर लिखिए-

पर्यावरण मंत्रालय की मंजूरी के अभाव में 550 से अधिक सड़क परियोजनाएं जिस तरह लटकी हुई हैं उससे यही पता चलता है कि समस्याओं के समाधान का तरीका खोजने के लिए सही ढंग से प्रयास नहीं हो रहे हैं। अब तो यह भी लगता है कि हर केंद्रीय मंत्रालय अपने ढंग से काम करना चाहता है और उनके बीच आपसी समन्वय का अभाव बढ़ता जा रहा है। पर्यावरण मंत्रालय की आपत्तियों के चलते केवल भूतल परिवहन मंत्रालय को ही समस्याओं का सामना नहीं करना पड़ रहा है, बल्कि ऐसी ही समस्याओं से बिजली, कोयला और कुछ अन्य मंत्रालय भी दो चार हैं। इसके अतिरिक्त अनेक राज्य सरकारों को भी यह शिकायत है कि वन एवं पर्यावरण मंत्रालय उसकी तमाम परियोजनाओं में बाधक बना हुआ है। पर्यावरण मंत्रालय की आपत्तियों को अनुचित नहीं कहा जा सकता, क्योंकि पर्यावरण और पारिस्थितिकी तंत्र की रक्षा करना उसका दायित्व है। अनुचित यह है कि पर्यावरण एवं विकास में संतुलन कायम करने की कोई कोशिश नहीं हो रही है। समस्याएं इसलिए बढ़ती चली जा रही हैं, क्योंकि उन वैकल्पिक उपायों पर गंभीरतापूर्वक विचार नहीं हो रहा है जिनकी सहायता को लेकर पर्यावरण की रक्षा के नाम पर विकास योजनाओं को ठप नहीं किया जा सकता है। इसी तरह विकास के नाम पर पर्यावरण की अनदेखी भी नहीं की जा सकती है। यह समझना कठिन है कि पर्यावरण मंत्रालय की आपत्तियों पर केंद्रीय-मंत्रालय अथवा राज्य सरकारें उसके साथ विचार-विमर्श कर बीच का रास्ता निकालने में कामयाब क्यों नहीं हो पा रही हैं? यह सवाल इसलिए क्योंकि एक लंबित सड़क परियोजना के संदर्भ में यह सामने आ रहा है कि उसे तीन दशक से अधिक समय बीतने के बावजूद मंजूरी नहीं मिल सकी है। यह तो विलंब की पराकाष्ठा है। बेहतर हो कि केंद्रीय सत्ता और राज्य सरकारें लंबित योजनाओं-परियोजनाओं को आगे बढ़ाने के मामले में सक्रियता का परिचय दें और ऐसे उपाय करें जिनसे उन्हें पर्यावरण मंजूरी के साथ जल्द से जल्द पूरा किया जा सके।

Q-122 What is meant by 'leading markets' as mentioned in the passage?

eng/eng

01. Where a lot of buying and selling of houses takes place
02. Where most of the people who trade are leaders
03. Markets which lead the economy
04. Where there has been considerable revenue generation
05. None of these

Q-122 केन्द्र सरकार और राज्य सरकारों को लंबित पड़ी परियोजनाओं के लिए क्या करना चाहिए?

eng hin

01. पर्यावरण मंजूरी के साथ उन्हें शीघ्र पूरा किया जाना चाहिए।
02. उन्हें आर्थिक सहायता देनी चाहिए।
03. उन्हें बंद करवा देना चाहिए।
04. उन्हें निजी हाथों में सौंप देना चाहिए।
05. उन्हें विदेशी हाथों में सौंप देना चाहिए।

Solution for Question 122

Ans Key: 1

eng/eng

The answer lies in the beginning of the passage.

Q-123 Which of the following is **TRUE** according to the passage?

eng/eng

01. To afford a house a family need to have an increased income level
02. India's real estate sector is flourishing like forever
03. The demand for housing has gone down in Mumbai and Delhi
04. CB Richard Ellis is a real estate analyst firm
05. The exposure to the housing sector accounts for 10 per cent of non-food credit

Q-123 सड़क परियोजनाओं के विषय में सरकार क्या कर रही है?

eng hin

01. समस्याओं के समाधान का तरीका खोजने के लिए सही
02. समस्याओं के समाधान के लिए सही
03. समस्याओं के समाधान के लिए राज्य सरकारें केन्द्र सरकार से अनुदान मांग कर रही है।
04. समस्याओं के समाधान के लिए आर्थिक सहायता दे रही है।

05. इनमें से कोई नहीं

Solution for Question 123

Ans Key: 2

eng/eng The answer lies in the beginning of the passage.

Q-124 By how much has the threshold for the low-cost housing been increased?

eng/eng

- | | |
|---------------|---------------|
| 01. Rs 30,000 | 02. Rs 1 Lakh |
| 03. Rs 50,000 | 04. Rs 60,000 |
| 05. Rs 40,000 | |

Q-124 केन्द्रीय मंत्रालायों की क्या स्थिति है?

eng hin

- | | |
|--|---|
| 01. उनमें आपसी सामंजस्य की कमी है। | 02. वे अपने ढंग से काम नहीं करना चाहते हैं। |
| 03. वे एक दूसरे की निन्दा करते हैं। | 04. वे अपने ढंग से काम करना चाहती हैं। |
| 05. केन्द्रीय मंत्रालायों में भ्रष्टाचार व्याप्त है। | |

Solution for Question 124

Ans Key: 5

eng/eng The answer lies in the mid of the second paragraph.

Q-125 Why does ministry of housing and poverty alleviation's want to push up the ceiling for low-cost housing?

eng/eng

- | | |
|---|--|
| 01. To make money from the real estate sector | 02. So that ,everyone has the opportunity to own a house |
| 03. More people are driven to buy affordable houses | 04. Because people are not ready to buy houses at a higher price |
| 05. Not mentioned in the passage | |

Q-125 पर्यावरण मंत्रालय के कारण किसको समस्याओं का सामना करना पड़ रहा है ?

eng hin

- | | |
|--|-----------------------------------|
| 01. कोई भी मंत्रालय इससे अछूता नहीं है। | 02. केवल भूतल परिवहन मंत्रालय को |
| 03. भूतल मंत्रालय के साथ-साथ बिजली कोयला और कुछ अन्य मंत्रालय भी दो चार हैं। | 04. अन्य मंत्रालय इससे मुक्त हैं। |
| 05. इनमें से कोई नहीं | |

Solution for Question 125

Ans Key: 3

eng/eng The answer can be inferred from the first paragraph.

Q-126 Why, according to the author, is it unlikely to provide low-cost housing after the raised threshold?

eng/eng

- | | |
|---|---|
| 01. Most of such houses will be bought by government officials only | 02. The land prices are expected to go up in near future |
| 03. It will take some time to construct such cheap houses | 04. Most of real estate companies do not offer such low-priced houses |
| 05. All of these | |

Q-126 क्यों पर्यावरण मंत्रालय की आपत्तियों को अनुचित नहीं कहा जाता है?

eng hin

- | | |
|--|---|
| 01. वृक्ष और पौधे मनुष्य को आक्सीजन प्रदान करते हैं। | 02. वृक्ष और पौधे मनुष्य को आक्सीजन प्रदान करते हैं। |
| 03. वह सुचारू रूप से कार्य करता है। | 04. पर्यावरण और परिस्थितिक तंत्र की रक्षा करना उसका दायित्व है। |
| 05. पर्यावरण मंत्रालय सब मंत्रालयों में उच्च है। | |

Solution for Question 126

Ans Key: 4

eng/eng The answer can be inferred from the first paragraph.

Q-127 According to the author to which of the following should be there to monitor the efficient use of the land?

eng/eng

- | | |
|-------------------------|------------------------------|
| 01. A financial analyst | 02. A full-fledged regulator |
| 03. A real estate firm | 04. The government |
| 05. The Parliament | |

Q-127 पर्यावरण की रक्षा के लिए विकास योजनाओं का क्या करना चाहिए?

eng hin

01. विकास योजनाओं को कुछ समय के लिए बंद कर देना चाहिए। 02. विकास योजनाओं को बंद न करके पर्यावरण के साथ सामंजस्य बैठाना चाहिए।
03. विकास योजनाओं को बंद नहीं करना चाहिए। 04. विकास योजनाओं को बंद कर देना चाहिए।
05. इनमें से कोई नहीं

Solution for Question 127

Ans Key: 2

eng/eng

The answer can be inferred from the third paragraph.

Q-128

eng/eng

Choose the word which is most nearly the **SAME** in meaning as the word printed in bold as used in the passage.

Muted

01. Silence 02. Shut
03. Animated 04. Low
05. Swift

Q-128

eng hin

एक लंबित सड़क के विकास में क्या सत्य है ?

01. सरकार लंबित सड़क को पूरा करने का पूर्ण प्रयास कर रही है। 02. सरकार ने लंबित सड़क के लिए एक योजना बनवाई है।
03. केंद्र सरकार ने लंबित सड़क के निर्माण को राज्य सरकारों को सौंप दिया है। 04. उसे तीन दशक से अधिक समय बीतने के बावजूद मंजूरी नहीं मिल सकी।
05. सरकार इस विषय में कुछ भी नहीं कर रही है।

Solution for Question 128

Ans Key: 4

eng/eng

Low

For other options:

Shut (v)- close

Animated (v)- activated

Swift (adj)- quick

Q-129

eng/eng

Choose the word which is most nearly the **SAME** in meaning as the word printed in bold as used in the passage.

Take off

01. Mock 02. Grow
03. Originate 04. Occur
05. End

Q-129

eng hin

550 से अधिक सड़क परियोजनाओं क्यों पूर्ण नहीं हो पायी हैं?

01. केन्द्र सरकार की मंजूरी के अभाव में 02. पर्यावरण मंत्रालय की मंजूरी के अभाव में
03. आर्थिक कमी के कारण 04. राज्य सरकारों की मंजूरी के अभाव में
05. जनता के विरोध के कारण

Solution for Question 129

Ans Key: 2

eng/eng

Grow

For other options:

Mock (v)- copy

Occur (v)- happen

Q-130

eng/eng

Choose the word which is most nearly the **OPPOSITE** in meaning as the word given in bold as used in the passage.

Full-fledged

01. Complete 02. Skilled
03. Partial 04. Genuine
05. Inexperienced

Q-130

eng hin

किसकी सहायता लेकर पर्यावरण को होने वाले नुकसान को सीमित किया जा सकता है?

01. बैकल्पिक उपायों पर गंभीरतापूर्वक विचार करके
02. कार्बन डाई आक्साइड उत्सर्जन वाले उद्योगों को बन्द करके
03. सी.एफ.सी का प्रयोग करके
04. वृक्षों की कटाई पर रोक लगा करके
05. उद्योगों को बंद करवा करके

Solution for Question 130

Ans Key: 3

eng/eng Full-fledged (adj.)- completely developed or established; fully fledged.
Partial (adj.)- existing only in part; incomplete.

Q-131 Choose the word which is most nearly the **OPPOSITE** in meaning as the word given in bold as used in the passage.

eng/eng Scarcely

01. Adequately
02. Nearly
03. Approximately
04. Carefully
05. Always

Q-131 लेखक ने संपूर्ण गद्यांश में किस बात पर जोर दिया है?

eng hin

01. केन्द्र सरकार को पर्यावरण बचाव के लिए राज्य सरकारों को अनुदान प्रदान करना।
02. पर्यावरण मंत्रालय को समाप्त करके इसे निजी हाथों में प्रदान करना।
03. पर्यावरण का कार्य ग्रामीण क्षेत्रों को सौंप देना चाहिए।
04. पर्यावरण मंत्रालय को अनुदान प्रदान करना।
05. पर्यावरण और विकास में संतुलन पैदा किया जाना है।

Solution for Question 131

Ans Key: 5

eng/eng Scarcely (adv.)- only just; almost not.
For other options-
Adequately (adv.)- to a satisfactory or acceptable extent.

Q-132 In the following question, a sentence with a blank space is given. Below it five words have been denoted by numbers (1), (2), (3), (4) and (5). Find out which word can be filled up in the blank to make the sentence meaningfully complete.

The lake's water-level has been declining -----because of silt accumulation

01. continuously
02. suddenly
03. occasionally
04. separately
05. serially

Q-132 'बाधक' का विलोम क्या है ?

eng hin

01. सहयोगी
02. समर्थन
03. प्रतियोगी
04. असहयोगी
05. निरर्थक

Solution for Question 132

Ans Key: 1

eng/eng Continuously
For other options:
Occasionally (adv)- sometimes
Serially (adv)- in a serial

Q-133 In the following question, a sentence with a blank space is given. Below it five words have been denoted by numbers (1), (2), (3), (4) and (5). Find out which word can be filled up in the blank to make the sentence meaningfully complete.

eng/eng

No sympathy can be given to any individual or group -----for terror attacks

01. engaged
02. responsible
03. gifted
04. capable
05. experienced

Q-133 'वैकल्पिक' का विलोम क्या है ?

eng hin

01. अस्थायी
02. अनिवार्य

03. काल्पनिक

04. स्थाई

05. गोचर

Solution for Question 133

Ans Key: 2

eng/eng Responsible
For other options:
Engaged (v)- occupied

Q-134 In the following question, a sentence with a blank space is given. Below it five words have been denoted by numbers (1), (2), (3), (4) and (5).
eng/eng Find out which word can be filled up in the blank to make the sentence meaningfully complete.

The haphazard location of several trees on roads heightens the risk of -----

- | | |
|-----------------|----------------|
| 01. environment | 02. intention |
| 03. accidents | 04. phenomenon |
| 05. emergency | |

Q-134 'सहायता' का विलोम क्या है ?

eng hin

- | | |
|-----------------------|-----------------|
| 01. सहायक | 02. प्रतियोगिता |
| 03. असहायता | 04. सहयोगी |
| 05. इनमें से कोई नहीं | |

Solution for Question 134

Ans Key: 3

eng/eng Accidents
For other options:
Phenomenon (n)- concept

Q-135 In the following question, a sentence with a blank space is given. Below it five words have been denoted by numbers (1), (2), (3), (4) and (5).
eng/eng Find out which word can be filled up in the blank to make the sentence meaningfully complete.

Strict -----of laws may not be possible because most of illegal pasting and writing on the walls are done by political parties

- | | |
|--------------------|--------------|
| 01. fulfillment | 02. delivery |
| 03. performance | 04. reality |
| 05. implementation | |

Q-135 'स्थिर' का कौन सा पर्यायवाची नहीं है ?

eng hin

- | | |
|-----------|----------|
| 01. अटल | 02. अचल |
| 03. अदृढ़ | 04. दृढ़ |
| 05. अडिग | |

Solution for Question 135

Ans Key: 5

eng/eng Implementation
For other options:
Fulfillment (n)- completion

Q-136 In the following question, a sentence with a blank space is given. Below it five words have been denoted by numbers (1), (2), (3), (4) and (5).
eng/eng Find out which word can be filled up in the blank to make the sentence meaningfully complete.

We should make the younger generation -----of the importance of heritage

- | | |
|----------------|-----------------|
| 01. interested | 02. unconscious |
| 03. fascinated | 04. aware |
| 05. assured | |

Q-136 'अतीत' का कौन सा पर्यायवाची नहीं है ?

eng hin

- | | |
|--------------|------------|
| 01. प्रतीत | 02. गत |
| 03. विगत | 04. भूतकाल |
| 05. पूर्वकाल | |

Solution for Question 136

Ans Key: 4

eng/eng	Aware For other options: Unconscious (adj)- not in senses Assured (v)- given assurance
---------	---

Q-137 Read the sentence to find out if there is any error in it. The error, if any, will be in one part of the sentence. The number of that part is the answer. If there is no error, the answer is (5).

The RBI tweaked norms for exchange of (1)/ mutilated notes following the introduction (2)/ of ₹2,000, ₹200 and other lower (3)/ denomination in currencies. (4)/ No error (5)

- | | |
|-------|-------|
| 01. 1 | 02. 2 |
| 03. 3 | 04. 4 |
| 05. 5 | |

Q-137 नीचे दिया गया प्रत्येक वाक्य चार भागों में बांटा गया है। जिन्हें (1), (2), (3) और (4) क्रमांक दिए गए हैं। आपको यह देखना है कि वाक्य के किसी भाग में व्याकरण, भाषा, वर्तनी, शब्दों को गलत प्रयोग या इसी तरह की कोई त्रुटि अगर होगी तो वाक्य के किसी एक भाग में ही होगी। उस भाग का क्रमांक ही उत्तर है। अगर वाक्य सभी उचित हैं तो उत्तर (5) अर्थात् 'कोई अशुद्धि नहीं है' दीजिए।

गुलाब का फूल आनंद की वस्तु होती है। कोई अशुद्धि नहीं है

- | | |
|-------------------------|--------------|
| 01. गुलाब का | 02. फूल आनंद |
| 03. की वस्तु | 04. होती है। |
| 05. कोई अशुद्धि नहीं है | |

Solution for Question 137 Ans Key: 4

eng/eng remove 'in' between 'denomination' and 'currencies', then it will become 'denomination currencies'.
The RBI tweaked norms for exchange of mutilated notes following the introduction of ₹2,000, ₹200 and other lower denomination currencies.

Q-138 Read the sentence to find out if there is any error in it. The error, if any, will be in one part of the sentence. The number of that part is the answer. If there is no error, the answer is (5).

Addition forces have been deployed (1)/ in the area (2)/and the situation (3)/is under control (4)/ No error (5)

- | | |
|-------|-------|
| 01. 1 | 02. 2 |
| 03. 3 | 04. 4 |
| 05. 5 | |

Q-138 नीचे दिया गया प्रत्येक वाक्य चार भागों में बांटा गया है। जिन्हें (1), (2), (3) और (4) क्रमांक दिए गए हैं। आपको यह देखना है कि वाक्य के किसी भाग में व्याकरण, भाषा, वर्तनी, शब्दों को गलत प्रयोग या इसी तरह की कोई त्रुटि अगर होगी तो वाक्य के किसी एक भाग में ही होगी। उस भाग का क्रमांक ही उत्तर है। अगर वाक्य सभी उचित हैं तो उत्तर (5) अर्थात् 'कोई अशुद्धि नहीं है' दीजिए।

हिन्दू और मुसलमानों को मिलकर रहना चाहिए। कोई अशुद्धि नहीं है

- | | |
|-------------------------|-----------------|
| 01. हिन्दू और | 02. मुसलमानों |
| 03. को मिलकर | 04. रहना चाहिए। |
| 05. कोई अशुद्धि नहीं है | |

Solution for Question 138 Ans Key: 1

eng/eng 'Additional' should be used - an adjective is required at this place.

Q-139 Read the sentence to find out if there is any error in it. The error, if any, will be in one part of the sentence. The number of that part is the answer. If there is no error, the answer is (5).

With CISMOA, Indian armed forces (1)/ will get to fully exploit the capability (2)/ of the military platforms procure (3)/ from the US. (4)/ No error (5)

- | | |
|-------|-------|
| 01. 1 | 02. 2 |
| 03. 3 | 04. 4 |
| 05. 5 | |

Q-139 नीचे दिया गया प्रत्येक वाक्य चार भागों में बांटा गया है। जिन्हें (1), (2), (3), और (4) क्रमांक दिए गए हैं। आपको यह देखना है कि वाक्य के किसी भाग में व्याकरण, भाषा, वर्तनी, शब्दों को गलत प्रयोग या इसी तरह की कोई त्रुटि अगर होगी तो वाक्य के किसी एक भाग में ही होगी। उस भाग का क्रमांक ही उत्तर है। अगर वाक्य सभी उचित हैं तो उत्तर (5) अर्थात् 'कोई अशुद्धि नहीं है' दीजिए।

कुछ प्रकाशक लेखकों को निराशा देते हैं। कोई अशुद्धि नहीं है

01. कुछ प्रकाशक
02. लेखकों को
03. निराशा
04. देते हैं।
05. कोई अशुद्धि नहीं है

Solution for Question 139

Ans Key: 3

eng/eng military platforms procured, use 'procured' because they have already been procured from the US.

Q-140 Read the sentence to find out if there is any error in it. The error, if any, will be in one part of the sentence. The number of that part is the answer. If there is no error, the answer is (5).

eng/eng

Science is one of the greatest gifts (1)/ to mankind as it brings about equal (2)/since all scientific laws remain (3)/the same regardless of region (4)/ No error (5)

01. 1
02. 2
03. 3
04. 4
05. 5

Q-140 नीचे दिया गया प्रत्येक वाक्य चार भागों में बांटा गया है। जिन्हें (1), (2), (3) और (4) क्रमांक दिए गए हैं। आपको यह देखना है कि वाक्य के किसी भाग में व्याकरण, भाषा, वर्तनी, शब्दों को गलत प्रयोग या इसी तरह की कोई त्रुटि अगर होगी तो वाक्य के किसी एक भाग में ही होगी। उस भाग का क्रमांक ही उत्तर है। अगर वाक्य सभी उचित हैं तो उत्तर (5) अर्थात् 'कोई अशुद्धि नहीं है' दीजिए।

eng hin

आपस में उनका परस्पर सहयोग नहीं है। कोई अशुद्धि नहीं है

01. आपस में
02. उनका परस्पर
03. सहयोग
04. नहीं है।
05. कोई अशुद्धि नहीं है

Solution for Question 140

Ans Key: 2

eng/eng 'Equality' should replace 'equal'- a noun is to be used at the given place

Q-141 Read the sentence to find out if there is any error in it. The error, if any, will be in one part of the sentence. The number of that part is the answer. If there is no error, the answer is (5).

eng/eng

The event at the school educated the parents (1)/about graceful method off (2)/ upbringing children with an aim (3)/ to make them successful citizens (4)/ No error (5)

01. 1
02. 2
03. 3
04. 4
05. 5

Q-141 नीचे दिया गया प्रत्येक वाक्य चार भागों में बांटा गया है। जिन्हें (1), (2), (3) और (4) क्रमांक दिए गए हैं। आपको यह देखना है कि वाक्य के किसी भाग में व्याकरण, भाषा, वर्तनी, शब्दों को गलत प्रयोग या इसी तरह की कोई त्रुटि अगर होगी तो वाक्य के किसी एक भाग में ही होगी। उस भाग का क्रमांक ही उत्तर है। अगर वाक्य सभी उचित हैं तो उत्तर (5) अर्थात् 'कोई अशुद्धि नहीं है' दीजिए।

eng hin

मेरे आगे कोई नहीं ठहर सकता। कोई अशुद्धि नहीं है

01. मेरे
02. आगे
03. कोई नहीं
04. ठहर सकता।
05. कोई अशुद्धि नहीं है

Solution for Question 141

Ans Key: 2

eng/eng 'of' should replace 'off'

Q-142 In the following question, a sentence with four words given in bold type is given. These are numbered (1), (2), (3) and (4). One of these four words given in bold may be either wrongly spelt or inappropriate in context of the sentence. Find out the word which is wrongly spelt or inappropriate if any. The number of that word is your answer. If all the words given in bold are correctly spelt & also appropriate in the context of the sentence, mark (5) "All correct" as your answer.

eng/eng

The **circulation** of the warm air from the city with cooler air **kurrents** from less **urbanized** areas can cause **extreme** weather conditions. All correct

01. circulation
02. kurrents
03. urbanized
04. extreme
05. All correct

Q-142 निम्नलिखित प्रश्नों में दिये गये पांच विकल्पों में से शुद्ध वर्तनी वाला शब्द पहचानिए-

eng hin

- | | |
|------------|------------|
| 01. नियती | 02. नियति |
| 03. नीयति | 04. नियुति |
| 05. नियिति | |

Solution for Question 142

Ans Key: 2

eng/eng 'Currents' is the correct spelling

Q-143 In the following question, a sentence with four words given in bold type is given. These are numbered (1), (2), (3) and (4). One of these four words given in bold may be either wrongly spelt or inappropriate in context of the sentence. Find out the word which is wrongly spelt or inappropriate if any. The number of that word is your answer. If all the words given in bold are correctly spelt & also appropriate in the context of the sentence, mark (5) "All correct" as your answer.

eng hin

Fancy dress **competitions** and **seminars** on the life of Jawaharlal Nehru were **conducted** in **different** schools on children's day **All correct**

- | | |
|------------------|---------------|
| 01. competitions | 02. seminars |
| 03. conducted | 04. different |
| 05. All correct | |

Q-143 निम्नलिखित प्रश्नों में दिये गये पांच विकल्पों में से शुद्ध वर्तनी वाला शब्द पहचानिए-

eng hin

- | | |
|------------|------------|
| 01. भीष्मा | 02. भीस्मी |
| 03. भीश्मि | 04. भीश्म |
| 05. भीष्म | |

Solution for Question 143

Ans Key: 5

eng/eng All correct.

Q-144 In the following question, a sentence with four words given in bold type is given. These are numbered (1), (2), (3) and (4). One of these four words given in bold may be either wrongly spelt or inappropriate in context of the sentence. Find out the word which is wrongly spelt or inappropriate if any. The number of that word is your answer. If all the words given in bold are correctly spelt & also appropriate in the context of the sentence, mark (5) "All correct" as your answer.

eng hin

The kind of **lifestyle** people in India are **lead** is **enough** to give them **diseases** such as diabetes **All correct**

- | | |
|-----------------|--------------|
| 01. lifestyle | 02. lead |
| 03. enough | 04. diseases |
| 05. All correct | |

Q-144 निम्नलिखित प्रश्नों में दिये गये पांच विकल्पों में से शुद्ध वर्तनी वाला शब्द पहचानिए-

eng hin

- | | |
|-----------|-----------|
| 01. अली | 02. अल्ला |
| 03. आल्वा | 04. अला |
| 05. अल्ली | |

Solution for Question 144

Ans Key: 2

eng/eng 'Are leading' should be used - present continuous form of verb is to be used

Q-145 In the following question, a sentence with four words given in bold type is given. These are numbered (1), (2), (3) and (4). One of these four words given in bold may be either wrongly spelt or inappropriate in context of the sentence. Find out the word which is wrongly spelt or inappropriate if any. The number of that word is your answer. If all the words given in bold are correctly spelt & also appropriate in the context of the sentence, mark (5) "All correct" as your answer.

eng hin

Dog squad and **fingerprint** experts were called to get some **clu** about the **thieves** **All correct**

- | | |
|-----------------|-----------------|
| 01. Dog squad | 02. fingerprint |
| 03. clu | 04. thieves |
| 05. All correct | |

Q-145 निम्नलिखित प्रश्नों में दिये गये पांच विकल्पों में से शुद्ध वर्तनी वाला शब्द पहचानिए-

eng hin

- | | |
|----------|-----------|
| 01. कच्च | 02. कच्ची |
|----------|-----------|

03. कच्चा

04. कच्चा

05. कच्चा

Solution for Question 145

Ans Key: 3

eng/eng 'Clue' is the correct spelling

Q-146 In the following question, a sentence with four words given in bold type is given. These are numbered (1), (2), (3) and (4). One of these four words given in bold may be either wrongly spelt or inappropriate in context of the sentence. Find out the word which is wrongly spelt or inappropriate if any. The number of that word is your answer. If all the words given in bold are correctly spelt & also appropriate in the context of the sentence, mark (5) "All correct" as your answer.

eng/eng

India has made a lot of **progressive** in **breaking** gender **barriers** and **empowering** women **All correct**

01. progressive

02. breaking

03. barriers

04. empowering

05. All correct

Q-146 निम्नलिखित प्रश्नों में दिये गये पाँच विकल्पों में से शुद्ध वर्तनी वाला शब्द पहचानिए-

eng hin

01. कन्हैया

02. कन्हैया

03. कन्हिया

04. कन्हया

05. इनमें से कोई नहीं

Solution for Question 146

Ans Key: 1

eng/eng 'Progress' should be used - a noun is required here

Passage for Question 147, 148, 149, 150, 151, 152, 153, 154, 155, 156 (ST-2061RRBCLMAINS(16-25EH)2020-NP)

eng/eng Passage

In the following passage there are blanks each of which has been numbered. These numbers are given below the passage and against each five words have been suggested, one of which fits the blanks appropriately. Find out the appropriate word in each case.

Success is usually thought to mean (A) wealth and social status. But are these really good enough? As Albert Einstein said, we should be men with values rather than be merely successful. A sense of values, good relationships and noble work should get our top (B)

A successful man is one who does his (C) at work, fulfils his responsibility towards his family and strives to grow as a person. One has to be (D) in one's own eyes and do the best one is capable of.

We have to strive for some goal that involves the welfare of others in addition to our own. We also need to set and try to (E) individual targets like, 'Am I able to control anger and lust?' 'Am I regular with my efforts for a better world around?'

The criterion for success prevalent in our (F) can be misleading. An ill-paid teacher or social worker may be considered a failure though he makes a (G) to society; but a well-off criminal may enjoy social prestige.

While selecting our goals, we should see that they incorporate the well-being of others too. If we consider the fact that in our society, film stars and cricketers enjoy more (H) than intellectuals and scientists, we will realize the need for deciding our own goals and not going by social attitudes.

We need to make a correct assessment of ourselves. And if one fails after trying hard several times, there may be a (I) to change the direction. (J) failure suggests that our efforts could perhaps be better placed in some other task.

eng hin Passage

नीचे दिए गए परिच्छेद में कुछ रिक्त स्थान छोड़ दिए गए हैं तथा उन्हें प्रश्न संख्या से दर्शाया गया है। ये संख्याएं परिच्छेद के नीचे मुद्रित हैं, और प्रत्येक के सामने (1), (2), (3), (4) और (5) विकल्प दिए गए हैं। इन पाँचों में से कोई एक इस रिक्त स्थान को पूरे परिच्छेद के संदर्भ में उपयुक्त ढंग से पूरा कर देता है आपको वह विकल्प ज्ञात करना है, और उसका क्रमांक ही उत्तर के रूप में दर्शाना है। आपको दिए गए विकल्पों में से सबसे उपयुक्त का चयन करना है।

नौकरी सरकारी या निजी। काम के बोझ और प्रतिस्पर्धा के बीच तनाव, अवसाद और ब्लडप्रेशर समेत कई (A) होना आम है। ऐसे में (B) चिकित्सा बेहतर (C) साबित हो सकता है। शुक्रवार को 'हिन्दुस्तान' कार्यालय में नेचुरोपैथी के विशेषज्ञ डॉ. एसके उमराव ने (D) जीवनशैली के बीच बेहतर (E) के उपाय सुझाए। डॉ. उमराव ने हर छोटी बड़ी बीमारी पर (F) दवा लेने की मनाही की। उन्होंने कहा कि शरीर हर बीमारी से लड़ने में खुद ही समर्थ होता है। जरूरत है बस मन और मस्तिष्क को (G) रखने की। सुबह उठने से लेकर रात सोने तक की प्रक्रिया को (H) करना ही योग है। स्वस्थ और थकानरहित तरीके से काम करने के टिप्स दिए। कहा कि सुबह (I) थोड़ी देर खुद से बात करें। बिस्तर से उठकर थोड़ा (J) और नींबू पानी पीकर फ्रेश हों।

Q-147 Choose the correct option for (A)

eng/eng

01. doing

02. having

03. trying

04. functioning

05. pushing

Q-147 (A) के लिए सही उत्तर का चयन करें।

eng hin

- | | |
|------------|---------------|
| 01. विकृति | 02. बीमारियाँ |
| 03. रोग | 04. अपवाद |
| 05. अवशदी | |

Solution for Question 147

Ans Key: 2

eng/eng Having
For other options:
 Functioning (v)- working
 Pushing (v)- applying pressure

Q-148 Choose the correct option for (B)

eng/eng

- | | |
|---------------|---------------|
| 01. supremacy | 02. intensity |
| 03. fancy | 04. priority |
| 05. relevance | |

Q-148 (B) के लिए सही उत्तर का चयन करें।

eng hin

- | | |
|----------------|---------------|
| 01. अप्राकृतिक | 02. कृत्रिम |
| 03. बनावटी | 04. प्राकृतिक |
| 05. आयुर्वेद | |

Solution for Question 148

Ans Key: 4

eng/eng Priority
For other options:
 Supremacy (n)- authority
 Fancy (n)- imagination
 Relevance (n)- importance

Q-149 Choose the correct option for (C)

eng/eng

- | | |
|-----------------|-------------|
| 01. outstanding | 02. highest |
| 03. worst | 04. best |
| 05. greatest | |

Q-149 (C) के लिए सही उत्तर का चयन करें।

eng hin

- | | |
|---------------|------------|
| 01. अनिवार्य | 02. उपचार |
| 03. कल्प | 04. विकल्प |
| 05. स्वास्थ्य | |

Solution for Question 149

Ans Key: 4

eng/eng Best
For other options:
 Outstanding (adj)- excellent

Q-150 Choose the correct option for (D)

eng/eng

- | | |
|----------------|-----------------|
| 01. successful | 02. acknowledge |
| 03. blossoming | 04. qualified |
| 05. legal | |

Q-150 (D) के लिए सही उत्तर का चयन करें।

eng hin

- | | |
|--------------|-------------|
| 01. व्यस्त | 02. परतंत्र |
| 03. स्वतंत्र | 04. उद्यमी |
| 05. व्यर्थ | |

Solution for Question 150

Ans Key: 1

eng/eng	Successful For other options: Blossoming (v)- making progress Legal (adj)- permissible
---------	--

Q-151 Choose the correct option for (E)

eng/eng

- | | |
|---------------|---------------|
| 01. acquire | 02. conclude |
| 03. achieve | 04. surrender |
| 05. negotiate | |

Q-151 (E) के लिए सही उत्तर का चयन करें।

eng hin

- | | |
|-----------------------|---------------|
| 01. अस्वस्थता | 02. बीमारियों |
| 03. स्वास्थ्य | 04. रोगों |
| 05. इनमें से कोई नहीं | |

Solution for Question 151

Ans Key: 3

eng/eng Achieve
For other options:
Surrender (v)- give up resistance
Negotiate (v)- adjust
Acquire (v)- achieve/get

Q-152 Choose the correct option for (F)

eng/eng

- | | |
|-----------------|---------------|
| 01. society | 02. influence |
| 03. ambience | 04. humanity |
| 05. partnership | |

Q-152 (F) के लिए सही उत्तर का चयन करें।

eng hin

- | | |
|---------------|----------------|
| 01. एलोपैथ | 02. आयुर्वेदिक |
| 03. होम्योपैथ | 04. सर्जरी |
| 05. साधारण | |

Solution for Question 152

Ans Key: 1

eng/eng Society
For other options:
Ambience (n)- surrounding
Partnership (n)-alliance
Humanity (n)- mankind

Q-153 Choose the correct option for (G)

eng/eng

- | | |
|-----------------|------------------|
| 01. donation | 02. contribution |
| 03. coronation | 04. offering |
| 05. improvement | |

Q-153 (G) के लिए सही उत्तर का चयन करें।

eng hin

- | | |
|-------------|----------|
| 01. उग्र | 02. शांत |
| 03. मंद | 04. चंचल |
| 05. उत्तेजक | |

Solution for Question 153

Ans Key: 2

eng/eng Contribution
For other options:
Donation (n)- aid
Coronation (n)- crowning

Q-154 Choose the correct option for (H)

eng/eng

01. wisdom
03. humiliation
05. practice

02. luster
04. popularity

Q-154 (H) के लिए सही उत्तर का चयन करें।
eng hin

01. अनुशासनच्युत
03. स्व अनुशासन
05. शांत

02. झगड़ालू
04. अनुशासित

Solution for Question 154

Ans Key: 4

eng/eng Popularity
For other options:
Luster (n)- shine
Humiliation (n)- insult

Q-155 Choose the correct option for (I)
eng/eng

01. use
03. necessary
05. need

02. urgency
04. sufficient

Q-155 (I) के लिए सही उत्तर का चयन करें।
eng hin

01. बैठकर
03. सोचकर
05. उठकर

02. खड़े होकर
04. लेटकर

Solution for Question 155

Ans Key: 5

eng/eng Need
For other options:
Urgency (n)- seriousness

Q-156 Choose the correct option for (J)
eng/eng

01. Duplicate
03. Repeated
05. Retold

02. Reiterate
04. Returned

Q-156 (J) के लिए सही उत्तर का चयन करें।
eng hin

01. दौड़
03. टहल
05. व्यायाम

02. आराम
04. दूध

Solution for Question 156

Ans Key: 3

eng/eng Repeated
For other options:
Reiterate (v)- repeat
Retold (v)- told again

Passage for Question 121, 157, 158, 159, 160 (ST-2061RRBBCLMAINS(26-30EH)2020-NP)

eng/eng Passage

Rearrange the following sentences (A), (B), (C), (D), (E) and (F) in the proper sequence to form a meaningful paragraph, then answer the questions given below them.

- (A) In a robot and were given a brief review on advanced robots.
(B) Students of many schools attended a two-day workshop on "robotics".
(C) Robotic kits to assemble wireless robots under the guidance of IIT faculty.
(D) On the first day, the participants were told about electronic components used
(E) The selected students will go on to participate in a national competition.
(F) The second day of the workshop was particularly exciting for the participants as they were given

नीचे (A), (B), (C), (D), (E) और (F) को इस तरह व्यवस्थित कीजिए कि छहों कथनों का एक अर्थपूर्ण परिच्छेद बन जाये।

- (A) इसके बाद शासन के अधिकारियों को विवि की मांगों से संबंधित जापन सौंपा जाएगा।
(B) फिर भी मांगें पूरी न हुई तो तीन अगस्त से आंदोलन होगा।
(C) 23 जुलाई को वह कुलपति प्रो. मनोज कुमार मिश्रा को जापन सौंपकर मांगें पूरी करने के लिए 10 दिन का समय देंगे।
(D) लखनऊ विश्वविद्यालय में कर्मचारी शनिवार को हड़ताल पर रहेंगे। मांगें पूरी न होने के कारण कर्मचारी यह हड़ताल चेतावनी के रूप में कर रहे हैं।
(E) महामंत्री संजय शुक्ला ने कहा कि तीन अगस्त को कुलाधिपति और
(F) शुक्रवार को लविवि कर्मचारी परिषद के आह्वान पर हुई आमसभा में बरसात के बावजूद बड़ी संख्या में कर्मचारी शामिल हुए।

Q-157 Which of the following is the **LAST** statement after arrangement?
eng/eng

01. B
02. F
03. C
04. D
05. E

Q-157 गद्यांश का तीसरा वाक्य कौन सा होगा?
eng hin

01. B
02. F
03. C
04. D
05. E

Solution for Question 157		Ans Key: 5
eng/eng	The correct sequence of the passage is 'BDAFCE'.	
eng hin	सही अनुक्रम 'FDEACB' है।	

Q-158 Which of the following is the **FIRST** statement after arrangement?
eng/eng

01. B
02. F
03. C
04. D
05. A

Q-158 गद्यांश का अंतिम वाक्य कौन सा होगा?
eng hin

01. B
02. F
03. C
04. D
05. A

Solution for Question 158		Ans Key: 1
eng/eng	The correct sequence of the passage is 'BDAFCE'.	
eng hin	सही अनुक्रम 'FDEACB' है।	

Q-159 Which of the following is the **FOURTH** statement after arrangement?
eng/eng

01. B
02. F
03. C
04. D
05. A

Q-159 गद्यांश का चौथा वाक्य कौन सा होगा?
eng hin

01. E
02. A
03. D
04. F
05. C

Solution for Question 159		Ans Key: 2
eng/eng	The correct sequence of the passage is 'BDAFCE'.	
eng hin	सही अनुक्रम 'FDEACB' है।	

Q-160 Which of the following is the **FIFTH** statement after arrangement?

01. B

02. F

03. C

04. D

05. A

Q-160 गद्यांश का पांचवां वाक्य कौन सा होगा?

eng hin

01. D

02. B

03. C

04. A

05. F

Solution for Question 160

Ans Key: 3

eng/eng The correct sequence of the passage is 'BDAFCE'.

eng hin सही अनुक्रम 'FDEACB' है।

Q-161 Which port doesn't exist in computer?

eng/eng कौन सा पोर्ट कंप्यूटर में मौजूद नहीं होता है?

01. Computer port
कंप्यूटर पोर्ट02. USB port
यूएसबी पोर्ट03. Printer port
प्रिंटर पोर्ट04. Parallel port
समानांतर पोर्ट05. None of these
इनमें से कोई नहीं**Q-161** Which port doesn't exist in computer?

eng hin कौन सा पोर्ट कंप्यूटर में मौजूद नहीं होता है?

01. Computer port
कंप्यूटर पोर्ट02. USB port
यूएसबी पोर्ट03. Printer port
प्रिंटर पोर्ट04. Parallel port
समानांतर पोर्ट05. None of these
इनमें से कोई नहीं**Solution for Question 161**

Ans Key: 1

eng/eng Computer has three kinds of port – USB port, printer port and parallel port while it does not contain computer port.
कम्प्यूटर में तीन प्रकार के पोर्ट होते हैं-यूएसबी पोर्ट, प्रिंटर पोर्ट, और समानांतर पोर्ट जबकि इसमें कम्प्यूटर पोर्ट नहीं होता है।eng hin Computer has three kinds of port – USB port, printer port and parallel port while it does not contain computer port.
कम्प्यूटर में तीन प्रकार के पोर्ट होते हैं-यूएसबी पोर्ट, प्रिंटर पोर्ट, और समानांतर पोर्ट जबकि इसमें कम्प्यूटर पोर्ट नहीं होता है।**Q-162** Which of the following is true about URL?

eng/eng निम्न में से कौन सा URL के बारे में सत्य है?

01. It is a web browser
यह एक वेब ब्राउजर है02. It is a messenger
यह एक मैसेंजर है03. It is a mail service
यह एक मेल सर्विस है04. It is a global address of documents and other resources on World Wide Web
यह वर्ल्ड वाइड वेब पर डॉक्यूमेंट और अन्य रिसोर्सेज का एक ग्लोबल एड्रेस है05. It is same as internet
यह इंटरनेट जैसा ही है**Q-162** Which of the following is true about URL?

eng hin निम्न में से कौन सा URL के बारे में सत्य है?

01. It is a web browser
यह एक वेब ब्राउजर है02. It is a messenger
यह एक मैसेंजर है03. It is a mail service
यह एक मेल सर्विस है04. It is a global address of documents and other resources on World Wide Web
यह वर्ल्ड वाइड वेब पर डॉक्यूमेंट और अन्य रिसोर्सेज का एक ग्लोबल एड्रेस है05. It is same as internet
यह इंटरनेट जैसा ही है**Solution for Question 162**

Ans Key: 4

eng/eng	URL is a web address. URL एक वेब एड्रेस है।
eng hin	URL is a web address. URL एक वेब एड्रेस है।

Q-163 Which of the following is the full form of LSI?
निम्न में से कौन सा LSI का पूर्ण रूप है?

- | | |
|-----------------------------|-----------------------------|
| 01. Low Scale Information | 02. Large Scale Information |
| 03. Low Scale Integration | 04. Large Scale Integration |
| 05. Local Scale Integration | |

Q-163 Which of the following is the full form of LSI?
निम्न में से कौन सा LSI का पूर्ण रूप है?

- | | |
|-----------------------------|-----------------------------|
| 01. Low Scale Information | 02. Large Scale Information |
| 03. Low Scale Integration | 04. Large Scale Integration |
| 05. Local Scale Integration | |

Solution for Question 163 Ans Key: 4

eng/eng	LSI = Large Scale Integration
eng hin	LSI = Large Scale Integration

Q-164 Which of the following Computer languages is used for Artificial Intelligence?
निम्नलिखित कंप्यूटर भाषाओं में से कौन सी आर्टिफिशियल इंटेलिजेंस के लिए प्रयोग की जाती है ?

- | | |
|--|-----------------------|
| 01. FORTRAN
फोरट्रान | 02. PROLOG
प्रोलॉग |
| 03. C
सी | 04. COBOL
कोबोल |
| 05. None of these
इनमें से कोई नहीं | |

Q-164 Which of the following Computer languages is used for Artificial Intelligence?
निम्नलिखित कंप्यूटर भाषाओं में से कौन सी आर्टिफिशियल इंटेलिजेंस के लिए प्रयोग की जाती है ?

- | | |
|--|-----------------------|
| 01. FORTRAN
फोरट्रान | 02. PROLOG
प्रोलॉग |
| 03. C
सी | 04. COBOL
कोबोल |
| 05. None of these
इनमें से कोई नहीं | |

Solution for Question 164 Ans Key: 2

eng/eng	PROLOG is an Artificial Intelligence Language PROLOG एक आर्टिफिशियल इंटेलिजेंस भाषा है।
eng hin	PROLOG is an Artificial Intelligence Language PROLOG एक आर्टिफिशियल इंटेलिजेंस भाषा है।

Q-165 The type of software that can, store, update, manipulate, and retrieve data is called-
सॉफ्टवेयर का एक प्रकार, जो डाटा के स्टोर, अपडेट, मैनिपुलेट, और रिट्रीव कर सकता है-----कहा जाता है।

- | | |
|--|-------------------------------|
| 01. database management
डेटाबेस प्रबंधन | 02. spreadsheet
स्प्रेडशीट |
| 03. desktop publishing
डेस्कटॉप पब्लिशिंग | 04. graphics
ग्राफिक्स |
| 05. none of these
इनमें से कोई नहीं | |

Q-165 The type of software that can, store, update, manipulate, and retrieve data is called-
सॉफ्टवेयर का एक प्रकार, जो डाटा के स्टोर, अपडेट, मैनिपुलेट, और रिट्रीव कर सकता है-----कहा जाता है।

- | | |
|---|---|
| <p>01. database management
डेटाबेस प्रबंधन</p> <p>03. desktop publishing
डेस्कटॉप पब्लिशिंग</p> <p>05. none of these
इनमें से कोई नहीं</p> | <p>02. spreadsheet
स्प्रेडशीट</p> <p>04. graphics
ग्राफिक्स</p> |
|---|---|

Solution for Question 165

Ans Key: 1

eng/eng	Database management software can store update, manipulate and receive the data. डेटाबेस साफ्टवेयर प्रबंधन डेटा को स्टोर करने, अपडेट करने, मैनीपुलेट करने के लिए प्रयोग किया जाता है।
eng hin	Database management software can store update, manipulate and receive the data. डेटाबेस साफ्टवेयर प्रबंधन डेटा को स्टोर करने, अपडेट करने, मैनीपुलेट करने के लिए प्रयोग किया जाता है।

- Q-166** 'Find' option is available under which of the following menu?
eng/eng 'फाइंड' ऑप्शन निम्नलिखित में से किस मेनू के तहत उपलब्ध होता है?

- | | |
|---|---|
| <p>01. Tools
टूल्स</p> <p>03. File
फाइल</p> <p>05. None of these
इनमें से कोई नहीं</p> | <p>02. View
व्यू</p> <p>04. Edit
एडिट</p> |
|---|---|

- Q-166** 'Find' option is available under which of the following menu?
eng hin 'फाइंड' ऑप्शन निम्नलिखित में से किस मेनू के तहत उपलब्ध होता है?

- | | |
|---|---|
| <p>01. Tools
टूल्स</p> <p>03. File
फाइल</p> <p>05. None of these
इनमें से कोई नहीं</p> | <p>02. View
व्यू</p> <p>04. Edit
एडिट</p> |
|---|---|

Solution for Question 166

Ans Key: 4

eng/eng	Find option is available on Edit menu. 'फाइंड' ऑप्शन 'एडिट मीनू' पर उपलब्ध होता है।
eng hin	Find option is available on Edit menu. 'फाइंड' ऑप्शन 'एडिट मीनू' पर उपलब्ध होता है।

- Q-167** A DVD-RAM is similar to a except it has storage capacities up to 5.2 GB.
eng/eng एक डीवीडी-रैम एक के----- समान है इसके अतिरिक्त इसमें 5.2 जीबी तक स्टोरेज क्षमता होती है।

- | | |
|---|--|
| <p>01. CD-R
सीडी-आर</p> <p>03. CD-RW
सीडी-आरडब्ल्यू</p> <p>05. None of these
इनमें से कोई नहीं</p> | <p>02. floppy disk
फ्लॉपी डिस्क</p> <p>04. hard disk
हार्ड डिस्क</p> |
|---|--|

- Q-167** A DVD-RAM is similar to a except it has storage capacities up to 5.2 GB.
eng hin एक डीवीडी-रैम एक के----- समान है इसके अतिरिक्त इसमें 5.2 जीबी तक स्टोरेज क्षमता होती है।

- | | |
|---|--|
| <p>01. CD-R
सीडी-आर</p> <p>03. CD-RW
सीडी-आरडब्ल्यू</p> <p>05. None of these
इनमें से कोई नहीं</p> | <p>02. floppy disk
फ्लॉपी डिस्क</p> <p>04. hard disk
हार्ड डिस्क</p> |
|---|--|

Solution for Question 167

Ans Key: 3

eng/eng	A DVD - RAM similar to CD - RW DVD . रैमCD-RW के समान होता है।
eng hin	A DVD - RAM similar to CD - RW DVD . रैमCD-RW के समान होता है।

Q-168

eng/eng

Which of the following is a general-purpose programming language, designed by Sun Microsystems, and well suited for use on the Web?
निम्न में से कौन सा, सन माइक्रोसिस्टम्स द्वारा बनाया गया एक सामान्य प्रयोजन प्रोग्रामिंग भाषा है, और वेब पर उपयोग के लिए अच्छी तरह से अनुकूलित है?

01. VB Script

वीबी स्क्रिप्ट

02. Java Script

जावा स्क्रिप्ट

03. CSS

सीएसएस

04. Java

जावा

05. None of these

इनमें से कोई नहीं

Q-168

eng hin

Which of the following is a general-purpose programming language, designed by Sun Microsystems, and well suited for use on the Web?
निम्न में से कौन सा, सन माइक्रोसिस्टम्स द्वारा बनाया गया एक सामान्य प्रयोजन प्रोग्रामिंग भाषा है, और वेब पर उपयोग के लिए अच्छी तरह से अनुकूलित है?

01. VB Script

वीबी स्क्रिप्ट

02. Java Script

जावा स्क्रिप्ट

03. CSS

सीएसएस

04. Java

जावा

05. None of these

इनमें से कोई नहीं

Solution for Question 168

Ans Key: 4

eng/eng	Java is general purpose programming language developed by sun micro system. जावा सनमाइक्रोसिस्टम्स द्वारा बनाई गयी एक सामान्य प्रयोजन प्रोग्रामिंग भाषा है।
eng hin	Java is general purpose programming language developed by sun micro system. जावा सनमाइक्रोसिस्टम्स द्वारा बनाई गयी एक सामान्य प्रयोजन प्रोग्रामिंग भाषा है।

Q-169

eng/eng

For sound recording, what is necessary?
साउन्ड रिकॉर्डिंग के लिए, क्या जरूरी होता है?

01. Speaker

स्पीकर

02. Microphone

माइक्रोफोन

03. Talker

टॉकर

04. Mouse

माउस

05. Telephone

टेलीफोन

Q-169

eng hin

For sound recording, what is necessary?
साउन्ड रिकॉर्डिंग के लिए, क्या जरूरी होता है?

01. Speaker

स्पीकर

02. Microphone

माइक्रोफोन

03. Talker

टॉकर

04. Mouse

माउस

05. Telephone

टेलीफोन

Solution for Question 169

Ans Key: 2

eng/eng	Microphone is used for sound recording. साउन्ड रिकॉर्डिंग के लिए माइक्रोफोन का प्रयोग किया जाता है।
eng hin	Microphone is used for sound recording. साउन्ड रिकॉर्डिंग के लिए माइक्रोफोन का प्रयोग किया जाता है।

Q-170

eng/hin

Which of the following is true about Secondary Storage?
निम्न में से कौन सा सेकंडरी स्टोरेज के बारे में सत्य है?

01. Does not require constant power

लगातार पॉवर की आवश्यकता नहीं होती है

02. Does not use magnetic media

चुंबकीय मीडिया का उपयोग नहीं करता है

03. Consists of four main types of devices

इसमें चार मुख्य प्रकार के उपकरण होते हैं

04. Does not store information for later retrieval

बाद में पुनः प्राप्ति के लिए इन्फॉर्मेशन स्टोर नहीं करता है

05. None of these

इनमें से कोई नहीं

Q-170

eng hin

Which of the following is true about Secondary Storage?
निम्न में से कौन सा सेकंडरी स्टोरेज के बारे में सत्य है?

01. Does not require constant power
लगातार पॉवर की आवश्यकता नहीं होती है
02. Does not use magnetic media
चुंबकीय मीडिया का उपयोग नहीं करता है
03. Consists of four main types of devices
इसमें चार मुख्य प्रकार के उपकरण होते हैं
04. Does not store information for later retrieval
बाद में पुनः प्राप्ति के लिए इन्फॉर्मेशन स्टोर नहीं करता है
05. None of these
इनमें से कोई नहीं

Solution for Question 170

Ans Key: 1

eng/eng Secondary storage does not require constant power.
सेकेण्डरी स्टोरेज को लगातार पॉवर की जरूरत नहीं होती है।

eng hin Secondary storage does not require constant power.
सेकेण्डरी स्टोरेज को लगातार पॉवर की जरूरत नहीं होती है।

Q-171 Which of the following identifies a specific web page and its computer on the Web?
eng/eng निम्न में से कौन सा वेब पर एक विशेष वेब पेज और इसके कंप्यूटर को पहचानता है?

01. Web site
वेब साइट
02. Web site address
वेब साइट पता
03. URL
यूआरएल
04. Domain Name
डोमेन नाम
05. None of these
इनमें से कोई नहीं

Q-171 Which of the following identifies a specific web page and its computer on the Web?
eng hin निम्न में से कौन सा वेब पर एक विशेष वेब पेज और इसके कंप्यूटर को पहचानता है?

01. Web site
वेब साइट
02. Web site address
वेब साइट पता
03. URL
यूआरएल
04. Domain Name
डोमेन नाम
05. None of these
इनमें से कोई नहीं

Solution for Question 171

Ans Key: 3

eng/eng URL identifies a unique web page and its computer on web or internet.
वेब या इंटरनेट पर यूआरएल एक विशेष वेब पेज और इसके कंप्यूटर को पहचानता है।

eng hin URL identifies a unique web page and its computer on web or internet.
वेब या इंटरनेट पर यूआरएल एक विशेष वेब पेज और इसके कंप्यूटर को पहचानता है।

Q-172 Voice mail-
eng/eng वॉयस मेल-

01. is the exchange of text messages and computer files transmitted via a communications network such as a local area network or the Internet
लोकल एरिया नेटवर्क या इंटरनेट की तरह के संचार नेटवर्क के माध्यम से प्रेषित पाठ संदेश और कंप्यूटर फाइलों का विनिमय है।
02. functions much like an answering machine, allowing callers to leave a voice message for the called party
काफी हद तक आंसरिंग मशीन की तरह काम करता है, कॉल करने वालों को कॉल की गयी पार्टी के लिए एक ध्वनि संदेश छोड़ने की अनुमति देता है।
03. involves using video and computer technology to conduct a meeting between participants at geographically separate locations
भौगोलिक दृष्टि से अलग-अलग स्थानों पर प्रतिभागियों के बीच एक बैठक के संचालन के लिए वीडियो और कंप्यूटर प्रौद्योगिकी का उपयोग शामिल है।
04. permits users to converse in real time with each other via the computer while connected to the Internet
इंटरनेट से जुड़ा होने पर, यूजर को कंप्यूटर के माध्यम से एक दूसरे से वास्तविक समय में बातचीत करने की अनुमति देता है।
05. None of these
इनमें से कोई नहीं

Q-172 Voice mail-
eng hin वॉयस मेल-

Solution for Question 174

eng/eng	E-mail address consists of two part, of which the first-part is called user name while the second part is called domain name for example in xyz123@gmail.com xyz123 is user name and gmail.com is domain name. ईमेल एड्रेस के दो भाग होते हैं जिसमें से पहले को यूजर नेम और दूसरे को डोमेन नेम कहा जाता है। <u>उदाहरण</u> xyz123@gmail.com में xyz123 यूजर नेम है और जीमेल डोमेन नेम है।
eng hin	E-mail address consists of two part, of which the first-part is called user name while the second part is called domain name for example in xyz123@gmail.com xyz123 is user name and gmail.com is domain name. ईमेल एड्रेस के दो भाग होते हैं जिसमें से पहले को यूजर नेम और दूसरे को डोमेन नेम कहा जाता है। <u>उदाहरण</u> xyz123@gmail.com में xyz123 यूजर नेम है और जीमेल डोमेन नेम है।

Q-175 Workgroup means-
eng/eng वर्कग्रुप का अर्थ है-

- | | |
|---|--|
| 01. Individual computer
व्यक्तिगत कंप्यूटर | 02. Individual user
व्यक्तिगत उपयोगकर्ता |
| 03. Computers in network
नेटवर्क में कंप्यूटर | 04. All of the above
उपरोक्त सभी |
| 05. None of the above
उपरोक्त में से कोई नहीं | |

Q-175 Workgroup means-
eng hin वर्कग्रुप का अर्थ है-

- | | |
|---|--|
| 01. Individual computer
व्यक्तिगत कंप्यूटर | 02. Individual user
व्यक्तिगत उपयोगकर्ता |
| 03. Computers in network
नेटवर्क में कंप्यूटर | 04. All of the above
उपरोक्त सभी |
| 05. None of the above
उपरोक्त में से कोई नहीं | |

Solution for Question 175

Ans Key: 3

eng/eng	Workgroup consists of all computers in a network. वर्कग्रुप मे एक नेटवर्क के सभी कम्प्यूटर शामिल होते हैं।
eng hin	Workgroup consists of all computers in a network. वर्कग्रुप मे एक नेटवर्क के सभी कम्प्यूटर शामिल होते हैं।

Q-176 Which of the following functions is not performed by servers?
eng/eng निम्नलिखित कार्यों में से कौन सा सर्वर द्वारा नहीं किया जाता है?

- | | |
|---|--|
| 01. Processing Websites
वेबसाइटों की प्रोसेसिंग | 02. Database Sharing
डेटाबेस शेयरिंग |
| 03. Storage
स्टोरेज | 04. Word Processing
वर्ड प्रासेसिंग |
| 05. Email Processing
ईमेल प्रोसेसिंग | |

Q-176 Which of the following functions is not performed by servers?
eng hin निम्नलिखित कार्यों में से कौन सा सर्वर द्वारा नहीं किया जाता है?

- | | |
|---|--|
| 01. Processing Websites
वेबसाइटों की प्रोसेसिंग | 02. Database Sharing
डेटाबेस शेयरिंग |
| 03. Storage
स्टोरेज | 04. Word Processing
वर्ड प्रासेसिंग |
| 05. Email Processing
ईमेल प्रोसेसिंग | |

Solution for Question 176

Ans Key: 4

eng/eng	Work processing function is not performed by servers. सेकेण्डरी स्टोरेज को लगातार पॉवर की जरूरत नहीं होती है।
eng hin	Work processing function is not performed by servers. सेकेण्डरी स्टोरेज को लगातार पॉवर की जरूरत नहीं होती है।

Q-177 Which of the following is the short-cut key to close an active tab of a browser
eng/eng निम्न में से कौन सी एक ब्राउजर के एक एक्टिव टैब को बंद करने के लिए शॉर्ट-कट 'की' है?

01. Alt + F4
02. Ctrl + C
03. Ctrl + F4
04. Shift + C
05. Ctrl + W

Q-177 Which of the following is the short-cut key to close an active tab of a browser
निम्न में से कौन सी एक ब्राउजर के एक एक्टिव टैब को बंद करने के लिए शॉर्ट-कट 'की' है?

01. Alt + F4
02. Ctrl + C
03. Ctrl + F4
04. Shift + C
05. Ctrl + W

Solution for Question 177		Ans Key: 5
eng/eng	Ctrl + W close an active tab Ctrl+W एक्टिव टैब को बंद करता है	
eng hin	Ctrl + W close an active tab Ctrl+W एक्टिव टैब को बंद करता है	

Q-178 Which below IP address would be used for a local network?
एक लोकल नेटवर्क के लिए निम्न में से कौन सा आईपी एड्रेस इस्तेमाल किया जाएगा?

01. 74.125.127.100
02. 69.72.169.241
03. 192.168.1.100
04. 209.131.36.100
05. 255.0.0.0.

Q-178 Which below IP address would be used for a local network?
एक लोकल नेटवर्क के लिए निम्न में से कौन सा आईपी एड्रेस इस्तेमाल किया जाएगा?

01. 74.125.127.100
02. 69.72.169.241
03. 192.168.1.100
04. 209.131.36.100
05. 255.0.0.0.

Solution for Question 178		Ans Key: 3
eng/eng	192.168.1.100 is an IP address most likely to be assigned to a computer or networking device in a local network. 192-168-1-100 एक लोकल नेटवर्क में एक कंप्यूटर या नेटवर्किंग डिवाइस को आवंटित किया जाने वाला आई पी एड्रेस है।	
eng hin	192.168.1.100 is an IP address most likely to be assigned to a computer or networking device in a local network. 192-168-1-100 एक लोकल नेटवर्क में एक कंप्यूटर या नेटवर्किंग डिवाइस को आवंटित किया जाने वाला आई पी एड्रेस है।	

Q-179 BMP extension usually refers to what kind of file?
बीएमपी एक्सटेंशन सामान्यतयः किस प्रकार की फाइल को संदर्भित करता है?

01. Compressed Archive file
कॉम्प्रेस्ड आर्काइव फाइल
02. Hypertext related file
हाइपरटेक्स्ट रिलेटेड फाइल
03. Audio file
ऑडियो फाइल
04. Image file
इमेज फाइल
05. Text file
टेक्स्ट फाइल

Q-179 BMP extension usually refers to what kind of file?
बीएमपी एक्सटेंशन सामान्यतयः किस प्रकार की फाइल को संदर्भित करता है?

01. Compressed Archive file
कॉम्प्रेस्ड आर्काइव फाइल
02. Hypertext related file
हाइपरटेक्स्ट रिलेटेड फाइल
03. Audio file
ऑडियो फाइल
04. Image file
इमेज फाइल
05. Text file
टेक्स्ट फाइल

Q-180 What is a cookie?
कुकी क्या है?

01. Cooking software
कुकिंग सॉफ्टवेयर
02. Web site
वेब साइट

03. Internet information file
इंटरनेट इन्फॉर्मेशन फाइल

05. Favourite file
फेवरिट फाइल

04. Hacker file
हैकर फाइल

Q-180
eng hin What is a cookie?
कुकी क्या है?

01. Cooking software
कुकिंग सॉफ्टवेयर

03. Internet information file
इंटरनेट इन्फॉर्मेशन फाइल

05. Favourite file
फेवरिट फाइल

02. Web site
वेब साइट

04. Hacker file
हैकर फाइल

Solution for Question 180

Ans Key: 3

eng/eng Cookie is an HTTP header that consists of a text-only string that gets entered into the memory of your browser.
कुकी एक HTTP हेडर है जो केवल टेक्स्ट स्ट्रिंग रखता है जो आपके ब्राउजर की मेमोरी में प्रवेश की जाती है।

eng hin Cookie is an HTTP header that consists of a text-only string that gets entered into the memory of your browser.
कुकी एक HTTP हेडर है जो केवल टेक्स्ट स्ट्रिंग रखता है जो आपके ब्राउजर की मेमोरी में प्रवेश की जाती है।

Q-181
eng/eng A Computer Virus cannot be contracted by.

एक कंप्यूटर वायरस ----- से संक्रमित नहीं किया जा सकता है।

01. Floppy diskette
फ्लॉपी डिस्कट

03. Scanner
स्कैनर

05. Internet images
इंटरनेट छवियों

02. E-mail
ई-मेल

04. Internet Downloads
इंटरनेट डाउनलोड

Q-181
eng hin A Computer Virus cannot be contracted by.

एक कंप्यूटर वायरस ----- से संक्रमित नहीं किया जा सकता है।

01. Floppy diskette
फ्लॉपी डिस्कट

03. Scanner
स्कैनर

05. Internet images
इंटरनेट छवियों

02. E-mail
ई-मेल

04. Internet Downloads
इंटरनेट डाउनलोड

Solution for Question 181

Ans Key: 3

eng/eng Computer Viruses cannot be contracted through a computer scanner
कंप्यूटर वायरस, कंप्यूटर स्कैनर के माध्यम से संक्रमित नहीं किया जा सकता है।

eng hin Computer Viruses cannot be contracted through a computer scanner
कंप्यूटर वायरस, कंप्यूटर स्कैनर के माध्यम से संक्रमित नहीं किया जा सकता है।

Q-182
eng/eng What character is used in an OR operator?

एक OR ऑपरेटर में कौन सा कैरेक्टर प्रयोग किया जाता है

01. Ampersand
एम्परसेंड

03. Colon
कोलन

05. Function
फंक्शन

02. Bracket
ब्रैकेट

04. Pipe
पाइप

Q-182
eng hin What character is used in an OR operator?

एक OR ऑपरेटर में कौन सा कैरेक्टर प्रयोग किया जाता है

01. Ampersand
एम्परसेंड

03. Colon
कोलन

02. Bracket
ब्रैकेट

04. Pipe
पाइप

05. Function
फंक्शन

Solution for Question 182

Ans Key: 4

eng/eng The pipe character (|) is used as an OR operator.
पाइप वर्ण (|) एक OR ऑपरेटर के रूप में प्रयोग किया जाता है।

eng hin The pipe character (|) is used as an OR operator.
पाइप वर्ण (|) एक OR ऑपरेटर के रूप में प्रयोग किया जाता है।

Q-183 What cable connects a cable modem to a wireless router?
eng/eng कौन सी केबल एक वायरलेस राउटर को एक केबल मॉडेम से जोड़ती है?

01. CAT5 cable
CAT5 केबल

03. RJ-11 cable
RJ-11 केबल

05. RJ-45 cable
RJ-45 केबल
02. Coaxial cable
को-एक्सियल केबल

04. No wire
कोई तार नहीं होता है

Q-183 What cable connects a cable modem to a wireless router?
eng hin कौन सी केबल एक वायरलेस राउटर को एक केबल मॉडेम से जोड़ती है?

01. CAT5 cable
CAT5 केबल

03. RJ-11 cable
RJ-11 केबल

05. RJ-45 cable
RJ-45 केबल
02. Coaxial cable
को-एक्सियल केबल

04. No wire
कोई तार नहीं होता है

Solution for Question 183

Ans Key: 1

eng/eng A CAT5 cable or standard network cable is what connects a cable modem to a wireless router.
एक CAT5 केबल या स्टैंडर्ड नेटवर्क केबल एक वायरलेस राउटर को केबल मॉडेम से जोड़ती है।

eng hin A CAT5 cable or standard network cable is what connects a cable modem to a wireless router.
एक CAT5 केबल या स्टैंडर्ड नेटवर्क केबल एक वायरलेस राउटर को केबल मॉडेम से जोड़ती है।

Q-184 How many devices can SCSI support?
eng/eng SCSI कितनी डिवाइसों को सपोर्ट कर सकता है?

01. 7

03. 9

05. 4
02. 8

04. 10

Q-184 How many devices can SCSI support?
eng hin SCSI कितनी डिवाइसों को सपोर्ट कर सकता है?

01. 7

03. 9

05. 4
02. 8

04. 10

Solution for Question 184

Ans Key: 2

eng/eng The traditional SCSI interface can support up to eight different drives and up to 16 devices with Wide-SCSI.
पारंपरिक SCSI इंटरफेस आठ अलग-अलग ड्राइव को और वाइड SCSI के साथ 16 डिवाइसों को सपोर्ट कर सकता है।

eng hin The traditional SCSI interface can support up to eight different drives and up to 16 devices with Wide-SCSI.
पारंपरिक SCSI इंटरफेस आठ अलग-अलग ड्राइव को और वाइड SCSI के साथ 16 डिवाइसों को सपोर्ट कर सकता है।

Q-185 Compiler is the -----.
eng/eng कम्पाइलर ----- है।

01. Name given to the computer operator
कंप्यूटर ऑपरेटर को दिया गया नाम

03. Translator of source program to object
सोर्स प्रोग्राम का ऑब्जेक्ट में अनुवादक
02. Part of the digital machine to store the information
कंप्यूटर ऑपरेटर को दिया गया नाम

04. Part of arithmetic logic unit
अंकगणितीय लॉजिक यूनिट का पार्ट

05. None of these
इनमें से कोई नहीं
Q-185 Compiler is the -----.
कम्पाइलर ----- है।

- | | |
|---|---|
| 01. Name given to the computer operator
कंप्यूटर ऑपरेटर को दिया गया नाम | 02. Part of the digital machine to store the information
कंप्यूटर ऑपरेटर को दिया गया नाम |
| 03. Translator of source program to object
सोर्स प्रोग्राम का ऑब्जेक्ट में अनुवादक | 04. Part of arithmetic logic unit
अंकगणितीय लॉजिक यूनिट का पार्ट |
| 05. None of these
इनमें से कोई नहीं | |

Solution for Question 185		Ans Key: 3
eng/eng	Compiler is the translator of source program to object. कम्पाइलर, स्रोत प्रोग्राम का ऑब्जेक्ट में अनुवादक है।	
eng hin	Compiler is the translator of source program to object. कम्पाइलर, स्रोत प्रोग्राम का ऑब्जेक्ट में अनुवादक है।	

Q-186 Main memory is -----.
मेन मेमोरी ----- होती है।

- | | |
|--|---|
| 01. Random Access Memory
रैंडम एक्सेस मेमोरी | 02. Read only Memory
रीड ओन्ली मेमोरी |
| 03. Serial Access Memory
सीरियल एक्सेस मेमोरी | 04. Sequential Access Memory
सीक्वेंशियल एक्सेस मेमोरी |
| 05. None of these
इनमें से कोई नहीं | |

Q-186 Main memory is -----.
मेन मेमोरी ----- होती है।

- | | |
|--|---|
| 01. Random Access Memory
रैंडम एक्सेस मेमोरी | 02. Read only Memory
रीड ओन्ली मेमोरी |
| 03. Serial Access Memory
सीरियल एक्सेस मेमोरी | 04. Sequential Access Memory
सीक्वेंशियल एक्सेस मेमोरी |
| 05. None of these
इनमें से कोई नहीं | |

Solution for Question 186		Ans Key: 1
eng/eng	Random Access Memory is a main memory. रैंडम एक्सेस मेमोरी एक मेन मेमोरी है।	
eng hin	Random Access Memory is a main memory. रैंडम एक्सेस मेमोरी एक मेन मेमोरी है।	

Q-187 Which of the following is the smallest and fastest computer imitating brain working?
निम्न में से कौन सा, सबसे छोटा और सबसे तेज कंप्यूटर है जो मस्तिष्क की कार्य प्रणाली की नकल करता है?

- | | |
|--|--|
| 01. Supercomputer
सुपर कम्प्यूटर | 02. Quantum Computer
क्वांटम कंप्यूटर |
| 03. Param-10,000
परम-10,000 | 04. IBM chips
आईबीएम चिप्स |
| 05. None of these
इनमें से कोई नहीं | |

Q-187 Which of the following is the smallest and fastest computer imitating brain working?
निम्न में से कौन सा, सबसे छोटा और सबसे तेज कंप्यूटर है जो मस्तिष्क की कार्य प्रणाली की नकल करता है?

- | | |
|--|--|
| 01. Supercomputer
सुपर कम्प्यूटर | 02. Quantum Computer
क्वांटम कंप्यूटर |
| 03. Param-10,000
परम-10,000 | 04. IBM chips
आईबीएम चिप्स |
| 05. None of these
इनमें से कोई नहीं | |

Solution for Question 187

eng/eng	Quantum Computer is the smallest and fastest computer imitating brain working. क्वांटम कंप्यूटर सबसे छोटा और सबसे तेज कंप्यूटर है जो मस्तिष्क की कार्य प्रणाली की नकल करता है।
eng hin	Quantum Computer is the smallest and fastest computer imitating brain working. क्वांटम कंप्यूटर सबसे छोटा और सबसे तेज कंप्यूटर है जो मस्तिष्क की कार्य प्रणाली की नकल करता है।

Q-188 A compact disc (CD) is a data storage of the type-----.
eng/eng एक कॉम्पैक्ट डिस्क (सीडी) ----- प्रकार का एक डाटा स्टोरेज है।

- | | |
|--------------------------------------|--|
| 01. Magnetic
मैग्नेटिक | 02. Optical
ऑप्टिकल |
| 03. Electrical
इलेक्ट्रिकल | 04. Electromechanical
इलेक्ट्रो मेकेनिकल |
| 05. Mechanical
मेकेनिकल | |

Q-188 A compact disc (CD) is a data storage of the type-----.
eng hin एक कॉम्पैक्ट डिस्क (सीडी) ----- प्रकार का एक डाटा स्टोरेज है।

- | | |
|--------------------------------------|--|
| 01. Magnetic
मैग्नेटिक | 02. Optical
ऑप्टिकल |
| 03. Electrical
इलेक्ट्रिकल | 04. Electromechanical
इलेक्ट्रो मेकेनिकल |
| 05. Mechanical
मेकेनिकल | |

Solution for Question 188

Ans Key: 1

eng/eng	A compact disc (CD) is a data storage of the type magnetic. एक कॉम्पैक्ट डिस्क (सीडी) चुंबकीय प्रकार का डाटा स्टोरेज है।
eng hin	A compact disc (CD) is a data storage of the type magnetic. एक कॉम्पैक्ट डिस्क (सीडी) चुंबकीय प्रकार का डाटा स्टोरेज है।

Q-189 Which of the following is not as language for computer programming?
eng/eng निम्न में से कौन सी कंप्यूटर प्रोग्रामिंग की भाषा नहीं है?

- | | |
|--|-----------------------------|
| 01. WINDOWS
विंडोज | 02. PASCAL
पास्कल |
| 03. BASIC
बेसिक | 04. COBOL
कोबोल |
| 05. All of these
उपरोक्त सभी | |

Q-189 Which of the following is not as language for computer programming?
eng hin निम्न में से कौन सी कंप्यूटर प्रोग्रामिंग की भाषा नहीं है?

- | | |
|--|-----------------------------|
| 01. WINDOWS
विंडोज | 02. PASCAL
पास्कल |
| 03. BASIC
बेसिक | 04. COBOL
कोबोल |
| 05. All of these
उपरोक्त सभी | |

Solution for Question 189

Ans Key: 1

eng/eng	Window is not a language for computer programming. विंडोज कंप्यूटर प्रोग्रामिंग की भाषा नहीं है।
eng hin	Window is not a language for computer programming. विंडोज कंप्यूटर प्रोग्रामिंग की भाषा नहीं है।

Q-190 The term gigabyte refers to _____.
eng/eng टर्म गीगाबाइट ----- को संदर्भित करता है।

- | | |
|-----------------------|---------------------------|
| 01. 1024 bytes | 02. 1024 kilobytes |
|-----------------------|---------------------------|

1024 बाइट्स

03. 1024 megabytes
1024 मेगाबाइट

05. None of these
इनमें से कोई नहीं

1024 किलोबाइट

04. 1024 gigabytes
1024 गीगाबाइट

Q-190

eng hin

The term gigabyte refers to _____.
टर्म गीगाबाइट ----- को संदर्भित करता है।

01. 1024 bytes
1024 बाइट्स

03. 1024 megabytes
1024 मेगाबाइट

05. None of these
इनमें से कोई नहीं

02. 1024 kilobytes
1024 किलोबाइट

04. 1024 gigabytes
1024 गीगाबाइट

Solution for Question 190

Ans Key: 3

eng/eng

The term gigabyte refers to 1024 megabytes.
शब्द गीगाबाइट 1024 मेगाबाइट दर्शाता है।

eng hin

The term gigabyte refers to 1024 megabytes.
शब्द गीगाबाइट 1024 मेगाबाइट दर्शाता है।

Q-191

eng/eng

To locate a data items for storage is
स्टोरेज के लिए एक डेटा आइटम लोकेट करना ----होता है।

01. Field
फील्ड

03. Database
डाटाबेस

05. None of these
इनमें से कोई नहीं

02. Feed
फीड

04. Fetch
फेच

Q-191

eng hin

To locate a data items for storage is
स्टोरेज के लिए एक डेटा आइटम लोकेट करना ----होता है।

01. Field
फील्ड

03. Database
डाटाबेस

05. None of these
इनमें से कोई नहीं

02. Feed
फीड

04. Fetch
फेच

Solution for Question 191

Ans Key: 4

eng/eng

To locate a data items for storage is called fetch.
स्टोरेज के लिए एक डेटा आइटम लोकेट करना फेच कहलाता है।

eng hin

To locate a data items for storage is called fetch.
स्टोरेज के लिए एक डेटा आइटम लोकेट करना फेच कहलाता है।

Q-192

eng/eng

The _____ printer sprays ink onto the page.
----- प्रिंटर पेज पर इंक स्प्रे करता है।

01. laser
लेजर

03. non-impact
नॉन इम्पैक्ट

05. Page
पेज

02. dot-matrix
डॉट मैट्रिक्स

04. ink jet
इंक जेट

Q-192

eng hin

The _____ printer sprays ink onto the page.
----- प्रिंटर पेज पर इंक स्प्रे करता है।

01. laser
लेजर

03. non-impact

02. dot-matrix
डॉट मैट्रिक्स

04. ink jet

05. Page
पेज

Ans Key: 4

Solution for Question 192

eng/eng	Ink jet printer sprays ink onto the page. इंक जेट प्रिंटर पेज पर इंक स्प्रे करता है।
eng hin	Ink jet printer sprays ink onto the page. इंक जेट प्रिंटर पेज पर इंक स्प्रे करता है।

Q-193 An organization that needs to produce hundreds or thousands of pages a day, the _____ is the most logical choice.
eng/eng एक संगठन जिसमें एक दिन में सैकड़ों या हजारों पृष्ठ निकालने की जरूरत होती है, इसके लिये ----- सबसे उचित विकल्प है।

- | | |
|--|--------------------------------|
| 01. dot-matrix
डॉट मैट्रिक्स | 02. laser
लेजर |
| 03. ink jet
इंक जेट | 04. thermal-wax
थर्मल वैक्स |
| 05. None of these
इनमें से कोई नहीं | |

Q-193 An organization that needs to produce hundreds or thousands of pages a day, the _____ is the most logical choice.
eng hin एक संगठन जिसमें एक दिन में सैकड़ों या हजारों पृष्ठ निकालने की जरूरत होती है, इसके लिये ----- सबसे उचित विकल्प है।

- | | |
|--|--------------------------------|
| 01. dot-matrix
डॉट मैट्रिक्स | 02. laser
लेजर |
| 03. ink jet
इंक जेट | 04. thermal-wax
थर्मल वैक्स |
| 05. None of these
इनमें से कोई नहीं | |

Solution for Question 193

Ans Key: 2

eng/eng	An organization that needs to produce hundreds or thousands of pages a day, the laser is the most logical choice. एक संगठन जिसमें एक दिन में सैकड़ों या हजारों पृष्ठ निकालने की जरूरत है, के लिये लेजर प्रिंटर सबसे उचित विकल्प है।
eng hin	An organization that needs to produce hundreds or thousands of pages a day, the laser is the most logical choice. एक संगठन जिसमें एक दिन में सैकड़ों या हजारों पृष्ठ निकालने की जरूरत है, के लिये लेजर प्रिंटर सबसे उचित विकल्प है।

Q-194 URL extension refers usually to what kind of file?D
eng/eng यूआरएल एक्सटेंशन आम तौर पर किस तरह की फाइल को संदर्भित करता है?

- | | |
|---|--|
| 01. Internet location
इंटरनेट लोकेशन | 02. Image file
इमेज फाइल |
| 03. Animation/movie file
एनिमेशन/मूवी फाइल | 04. Programming/scripting related file
प्रोग्रामिंग/स्क्रिप्टिंग संबंधित फाइल |
| 05. None of these
इनमें से कोई नहीं | |

Q-194 URL extension refers usually to what kind of file?D
eng hin यूआरएल एक्सटेंशन आम तौर पर किस तरह की फाइल को संदर्भित करता है?

- | | |
|---|--|
| 01. Internet location
इंटरनेट लोकेशन | 02. Image file
इमेज फाइल |
| 03. Animation/movie file
एनिमेशन/मूवी फाइल | 04. Programming/scripting related file
प्रोग्रामिंग/स्क्रिप्टिंग संबंधित फाइल |
| 05. None of these
इनमें से कोई नहीं | |

Q-195 Which of the following is the slowest Internet connection?
eng/eng निम्न में से कौन सा सबसे धीमा इंटरनेट कनेक्शन है?

- | | |
|--|-------------------------------|
| 01. Digital Subscriber Line
डिजिटल सब्सक्राइबर लाइन | 02. T1
टी 1 |
| 03. Cable Modem
केबल मॉडेम | 04. Leased Line
लीज्ड लाइन |

05. Dial-Up
डायल अप

Q-195 Which of the following is the slowest Internet connection?
eng hin निम्न में से कौन सा सबसे धीमा इंटरनेट कनेक्शन है?

- | | |
|--|-------------------------------|
| 01. Digital Subscriber Line
डिजिटल सब्सक्राइबर लाइन | 02. T1
टी 1 |
| 03. Cable Modem
केबल मॉडेम | 04. Leased Line
लीज्ड लाइन |
| 05. Dial-Up
डायल अप | |

Solution for Question 195 Ans Key: 5

eng/eng Dial up is the slowest internet connection
डायल अप सबसे धीमा कनेक्शन होता है।

eng hin Dial up is the slowest internet connection
डायल अप सबसे धीमा कनेक्शन होता है।

Q-196 What is downloading?
eng/eng डाउनलोडिंग क्या है?

- | | |
|---|---|
| 01. Sending a file on the Internet
इंटरनेट पर एक फाइल भेजना | 02. Retrieving a file on the Internet
इंटरनेट पर एक फाइल पुनः प्राप्त करना |
| 03. Moving a file from a floppy
फ्लॉपी से एक फाइल स्थानांतरित करना | 04. Scanning a picture
एक तस्वीर स्कैन करना |
| 05. None of these
इनमें से कोई नहीं | |

Q-196 What is downloading?
eng hin डाउनलोडिंग क्या है?

- | | |
|---|---|
| 01. Sending a file on the Internet
इंटरनेट पर एक फाइल भेजना | 02. Retrieving a file on the Internet
इंटरनेट पर एक फाइल पुनः प्राप्त करना |
| 03. Moving a file from a floppy
फ्लॉपी से एक फाइल स्थानांतरित करना | 04. Scanning a picture
एक तस्वीर स्कैन करना |
| 05. None of these
इनमें से कोई नहीं | |

Solution for Question 196 Ans Key: 2

eng/eng Downloading is the method of getting a file from another computer.
डाउनलोडिंग अन्य कंप्यूटर से एक फाइल प्राप्त करने की विधि है।

eng hin Downloading is the method of getting a file from another computer.
डाउनलोडिंग अन्य कंप्यूटर से एक फाइल प्राप्त करने की विधि है।

Q-197 What does the term IRQ stand for?
eng/eng पद IRQ का क्या अर्थ होता है?

- | | |
|--|---------------------------|
| 01. Input Request Que | 02. Interrupt Request Que |
| 03. Interaction Request | 04. Input Request |
| 05. None of these
इनमें से कोई नहीं | |

Q-197 What does the term IRQ stand for?
eng hin पद IRQ का क्या अर्थ होता है?

- | | |
|--|---------------------------|
| 01. Input Request Que | 02. Interrupt Request Que |
| 03. Interaction Request | 04. Input Request |
| 05. None of these
इनमें से कोई नहीं | |

Solution for Question 197 Ans Key: 3

eng/eng IRQ stands for Interaction Request.
IRQ का पूर्ण रूप Interaction Request है।

eng hin	IRQ stands for Interaction Request. IRQ का पूर्ण रूप Interaction Request है।
----------------	---

Q-198 Where is the BIOS stored?
eng/eng BIOS कहाँ स्टोर किया जाता है?

- | | |
|--|---|
| 01. On the hard drive
हार्ड ड्राइव पर | 02. On a diskette
एक डिस्कट पर |
| 03. On a USB drive
एक यूएसबी ड्राइव पर | 04. On a flash memory chip
एक फ्लैश मेमोरी चिप पर |
| 05. On CD drive
सीडी ड्राइव पर | |

Q-198 Where is the BIOS stored?
eng hin BIOS कहाँ स्टोर किया जाता है?

- | | |
|--|---|
| 01. On the hard drive
हार्ड ड्राइव पर | 02. On a diskette
एक डिस्कट पर |
| 03. On a USB drive
एक यूएसबी ड्राइव पर | 04. On a flash memory chip
एक फ्लैश मेमोरी चिप पर |
| 05. On CD drive
सीडी ड्राइव पर | |

Solution for Question 198 Ans Key: 4

eng/eng	The Basic Input/Output System or BIOS is stored on a flash memory chip found on the computer motherboard. बेसिक इनपुट/आउटपुट सिस्टम या BIOS कंप्यूटर मदरबोर्ड पर स्थित एक फ्लैश मेमोरी चिप पर स्टोर किया जाता है।
eng hin	The Basic Input/Output System or BIOS is stored on a flash memory chip found on the computer motherboard. बेसिक इनपुट/आउटपुट सिस्टम या BIOS कंप्यूटर मदरबोर्ड पर स्थित एक फ्लैश मेमोरी चिप पर स्टोर किया जाता है।

Q-199 What is the purpose of providing a Drafts folder in an email system?
eng/eng ई-मेल सिस्टम में एक ड्राफ्ट फोल्डर प्रदान करने का उद्देश्य क्या है?

- | | |
|--|--|
| 01. to save unsent emails
न भेजे गए ईमेल को सेव करने के लिए | 02. to store spam emails
स्पैम ई-मेल स्टोर करने के लिए |
| 03. to save a copy of sent emails
भेजे गए ईमेल की एक प्रतिलिपि सेव करने के लिए | 04. to store deleted emails
डिलीट किये गए ई-मेल को स्टोर करने के लिए |
| 05. None of these
इनमें से कोई नहीं | |

Q-199 What is the purpose of providing a Drafts folder in an email system?
eng hin ई-मेल सिस्टम में एक ड्राफ्ट फोल्डर प्रदान करने का उद्देश्य क्या है?

- | | |
|--|--|
| 01. to save unsent emails
न भेजे गए ईमेल को सेव करने के लिए | 02. to store spam emails
स्पैम ई-मेल स्टोर करने के लिए |
| 03. to save a copy of sent emails
भेजे गए ईमेल की एक प्रतिलिपि सेव करने के लिए | 04. to store deleted emails
डिलीट किये गए ई-मेल को स्टोर करने के लिए |
| 05. None of these
इनमें से कोई नहीं | |

Solution for Question 199 Ans Key: 1

eng/eng	To save unsent E-mails. न भेजे गये ई-मेल को सुरक्षित रखता है।
eng hin	To save unsent E-mails. न भेजे गये ई-मेल को सुरक्षित रखता है।

Q-200 What is the full form of USB?
eng/eng USB का पूर्ण रूप क्या है?.

- | | |
|-------------------------------------|-----------------------------------|
| 01. Universal Security Block | 02. Universal Security Bus |
| 03. Under Security Block | 04. Universal Serial Bus |
| 05. None of these | |

इनमें से कोई नहीं

Q-200

eng hin

What is the full form of USB?

USB का पूर्ण रूप क्या है?.

01.

Universal Security Block
02.

Universal Security Bus
03.

Under Security Block
04.

Universal Serial Bus
05.

None of these
- इनमें से कोई नहीं

Solution for Question 200

Ans Key: 4

eng/eng

USB = Universal Serial Bus

eng hin

USB = Universal Serial Bus

