

# ST-2091 RRB CLERK (MAINS) 2020

Passage for Question 1, 2, 4, 5 (ST-2069RRBPOMAINS(34-37R)2020-NP)

eng/eng Passage

Study the following information to answer the given questions:

दिए गए प्रश्नों के उत्तर देने के लिए निम्न जानकारी का अध्ययन करें:

In a certain code language,

'speed whose request affair' is written as 'R1& H5\$ H15@ V5\*',

'special shop test effect' is written as 'L8@ X5& Z9\* H5\$'

'offer been which apple' is written as 'O16\* X9@ V5\$ V6&'

'After news should aptitude' is written as 'W21\* O21@ D5\$ V20&'.

एक निश्चित कोड भाषा में,

'speed whose request affair' को 'R1& H5\$ H15@ V5\*' लिखा जाता है,

'special shop test effect' को 'L8@ X5& Z9\* H5\$' लिखा जाता है,

'offer been which apple' को 'O16\* X9@ V5\$ V6&' लिखा जाता है,

'After news should aptitude' को 'W21\* O21@ D5\$ V20&' लिखा जाता है।

eng hin Passage

Study the following information to answer the given questions:

दिए गए प्रश्नों के उत्तर देने के लिए निम्न जानकारी का अध्ययन करें:

In a certain code language,

'speed whose request affair' is written as 'R1& H5\$ H15@ V5\*',

'special shop test effect' is written as 'L8@ X5& Z9\* H5\$'

'offer been which apple' is written as 'O16\* X9@ V5\$ V6&'

'After news should aptitude' is written as 'W21\* O21@ D5\$ V20&'.

एक निश्चित कोड भाषा में,

'speed whose request affair' को 'R1& H5\$ H15@ V5\*' लिखा जाता है,

'special shop test effect' को 'L8@ X5& Z9\* H5\$' लिखा जाता है,

'offer been which apple' को 'O16\* X9@ V5\$ V6&' लिखा जाता है,

'After news should aptitude' को 'W21\* O21@ D5\$ V20&' लिखा जाता है।

Q-1 What is the code for 'seem after'?

eng/eng 'seem after' का कोड क्या है?

01. G31\$ K20\$

02. V5& S6&

03. A15@ V31\*

04. V5\$ V20&

05. W5\$ T52&

Q-1 What is the code for 'seem after'?

eng hin 'seem after' का कोड क्या है?

01. G31\$ K20\$

02. V5& S6&

03. A15@ V31\*

04. V5\$ V20&

05. W5\$ T52&

Solution for Question 1

Ans Key: 4

eng/eng For Letter – Opposite of second last letter of each word.

For Number – Position of third last letter

For Symbol – Second letter (P-\*, H-@, E-\$, F-&)

अक्षरों के लिए - प्रत्येक शब्द के अंतिम दूसरे अक्षर का विपरीत।

संख्या के लिए - प्रत्येक शब्द के तीसरे अंतिम अक्षर का स्थान

प्रतीक के लिए - दूसरा अक्षर (P- \*, H- @, E- \$, F- &)

eng hin For Letter – Opposite of second last letter of each word.

For Number – Position of third last letter

For Symbol – Second letter (P-\*, H-@, E-\$, F-&)

अक्षरों के लिए - प्रत्येक शब्द के अंतिम दूसरे अक्षर का विपरीत।

संख्या के लिए - प्रत्येक शब्द के तीसरे अंतिम अक्षर का स्थान

**Q-2** Which of the following represents 'Space short'?  
**eng/eng** निम्न में से कौन सा 'Space short' को दर्शाता है?

- |                |               |
|----------------|---------------|
| 01. X21@ D1\$  | 02. I15@ X1*  |
| 03. Q21@ F10\$ | 04. X21@ I4\$ |
| 05. I21@ D15\$ |               |

**Q-2** Which of the following represents 'Space short'?  
**eng hin** निम्न में से कौन सा 'Space short' को दर्शाता है?

- |                |               |
|----------------|---------------|
| 01. X21@ D1\$  | 02. I15@ X1*  |
| 03. Q21@ F10\$ | 04. X21@ I4\$ |
| 05. I21@ D15\$ |               |

Ans Key: 2

**Q-3** In each question below is given a statement followed by two assumptions numbered I and II. An assumption is something supposed or taken for granted. You have to consider the statement and the following assumptions and decide which of the assumptions is implicit in the statement.

नीचे दिए गए प्रत्येक प्रश्न में पहले एक कथन है फिर उसके नीचे दो पूर्वधारणायें हैं जिन्हें क्रमांक I और II दिये गये हैं। कोई पूर्वधारणा वह बात है जिसे या तो मान लिया गया हो या वह गृहीत हो। आपको दिये गये कथन और उसके नीचे दी गयी पूर्वधारणाओं पर विचार करने के बाद तय करना है कि कौन सी पूर्वधारणा कथन में अंतर्निहित है:

Statement: Traffic on Mahatma Gandhi Road, New Delhi is so intolerable that Mr Amit gets late while reaching the office mostly.  
 कथन: महात्मा गांधी रोड, नई दिल्ली पर यातायात इतना असहनीय है कि ज्यादातर श्रीमान अमित को कार्यालय पहुंचने में देर हो जाती है।

Assumption:

- I) Maybe there is no other route to reach the office for Mr. Amit.  
 II) Mr. Amit has been given a notice due to being late in office several times.

पूर्वधारणा:

- I) हो सकता है श्रीमान अमित के लिए कार्यालय तक पहुंचने के लिए कोई अन्य मार्ग नहीं है।  
 II) कार्यालय में कई बार देर से आने के कारण श्रीमान अमित को एक नोटिस दिया गया है।

- |   |   |
|---|---|
| 01. If only assumption I is implicit.<br>केवल पूर्वधारणा I अंतर्निहित है।                       | 02. If only assumption II is implicit.<br>केवल पूर्वधारणा II अंतर्निहित है।                                       |
| 03. If either assumption I or assumption II is implicit.<br>या तो पूर्वधारणा I या पूर्वधारणा II | 04. If neither assumption I nor assumption II is implicit.<br>न तो पूर्वधारणा I न ही पूर्वधारणा II अंतर्निहित है। |
| 05. If both assumptions I and II are implicit.<br>पूर्वधारणाएं I और II दोनों अंतर्निहित हैं।    |   |

**Q-3** In each question below is given a statement followed by two assumptions numbered I and II. An assumption is something supposed or taken for granted. You have to consider the statement and the following assumptions and decide which of the assumptions is implicit in the statement.

नीचे दिए गए प्रत्येक प्रश्न में पहले एक कथन है फिर उसके नीचे दो पूर्वधारणायें हैं जिन्हें क्रमांक I और II दिये गये हैं। कोई पूर्वधारणा वह बात है जिसे या तो मान लिया गया हो या वह गृहीत हो। आपको दिये गये कथन और उसके नीचे दी गयी पूर्वधारणाओं पर विचार करने के बाद तय करना है कि कौन सी पूर्वधारणा कथन में अंतर्निहित है:

Statement: Traffic on Mahatma Gandhi Road, New Delhi is so intolerable that Mr Amit gets late while reaching the office mostly.  
 कथन: महात्मा गांधी रोड, नई दिल्ली पर यातायात इतना असहनीय है कि ज्यादातर श्रीमान अमित को कार्यालय पहुंचने में देर हो जाती है।

Assumption:

- I) Maybe there is no other route to reach the office for Mr. Amit.  
 II) Mr. Amit has been given a notice due to being late in office several times.

पूर्वधारणा:

- I) हो सकता है श्रीमान अमित के लिए कार्यालय तक पहुंचने के लिए कोई अन्य मार्ग नहीं है।  
 II) कार्यालय में कई बार देर से आने के कारण श्रीमान अमित को एक नोटिस दिया गया है।

- |   |   |
|---|---|
| 01. If only assumption I is implicit.<br>केवल पूर्वधारणा I अंतर्निहित है।                       | 02. If only assumption II is implicit.<br>केवल पूर्वधारणा II अंतर्निहित है।                                       |
| 03. If either assumption I or assumption II is implicit.<br>या तो पूर्वधारणा I या पूर्वधारणा II | 04. If neither assumption I nor assumption II is implicit.<br>न तो पूर्वधारणा I न ही पूर्वधारणा II अंतर्निहित है। |
| 05. If both assumptions I and II are implicit.<br>पूर्वधारणाएं I और II दोनों अंतर्निहित हैं।    |   |

**Q-4** Which of the following may represent 'Update'?  
**eng/eng** 'Update' के लिए कोड क्या है?

- |          |         |
|----------|---------|
| 01. Z17  | 02. G1* |
| 03. X1*  | 04. Z1* |
| 05. V3\$ |         |

**Q-4** Which of the following may represent 'Update'?  
**eng hin** 'Update' के लिए कोड क्या है?

- |          |         |
|----------|---------|
| 01. Z17  | 02. G1* |
| 03. X1*  | 04. Z1* |
| 05. V3\$ |         |

Ans Key: 2

**Q-5** What does 'V20@' represent in this code?  
**eng/eng** इस कोड में 'V20@' क्या दर्शाता है?

- |             |          |
|-------------|----------|
| 01. Date    | 02. Stay |
| 03. Chapter | 04. Time |
| 05. Usual   |          |

**Q-5** What does 'V20@' represent in this code?  
**eng hin** इस कोड में 'V20@' क्या दर्शाता है?

- |             |          |
|-------------|----------|
| 01. Date    | 02. Stay |
| 03. Chapter | 04. Time |
| 05. Usual   |          |

Ans Key: 3

**Passage for Question 6, 7, 8, 9, 10 (ST-2069RRBPOMAINS(26-30)(R)2020-NP)**

**eng/eng Passage**

An arrangement machine when given an input of words/numbers rearranges them following a particular rule in each step. The following is an illustration of input and steps of rearrangement.

शब्दों/संख्याओं के इनपुट दिए जाने पर एक व्यवस्था मशीन, प्रत्येक चरण में किसी विशेष नियम के बाद उन्हें पुनर्व्यवस्थित करती है। इनपुट और पुनर्व्यवस्था के चरणों का एक उदाहरण निम्नलिखित है।

Input : and fishes 97 63 of 28 43 57 treat flows

Step I : 28 and fishes 63 of 43 57 treat flows 97

Step II : 28 and fishes 63 of 43 57 flows 97 treat

Step III : 28 and 43 fishes of 57 flows 97 treat 63

Step IV : 28 and 43 fishes 57 flows 97 treat 63 of

Step V : 28 and 43 fishes flows 97 treat 63 of 57

Step V is the last step of the arrangement. As per the rules followed in the above step, find out the steps for the given input-

Input: intended 59 69 the 91 remnant 26 in israel 13

इनपुट: and fishes 97 63 of 28 43 57 treat flows

चरण I : 28 and fishes 63 of 43 57 treat flows 97

चरण II : 28 and fishes 63 of 43 57 flows 97 treat

चरण III : 28 and 43 fishes of 57 flows 97 treat 63

चरण IV : 28 and 43 fishes 57 flows 97 treat 63 of

चरण V : 28 and 43 fishes flows 97 treat 63 of 57

चरण V व्यवस्था का अंतिम चरण है। उपर्युक्त चरण में दिए गए नियमों के अनुसार, दिए गए इनपुट के लिए चरणों को ज्ञात कीजिए।

इनपुट: intended 59 69 the 91 remnant 26 in israel 13

**eng hin Passage**

An arrangement machine when given an input of words/numbers rearranges them following a particular rule in each step. The following is an illustration of input and steps of rearrangement.

शब्दों/संख्याओं के इनपुट दिए जाने पर एक व्यवस्था मशीन, प्रत्येक चरण में किसी विशेष नियम के बाद उन्हें पुनर्व्यवस्थित करती है। इनपुट और पुनर्व्यवस्था के

चरणों का एक उदाहरण निम्नलिखित है।

Input : and fishes 97 63 of 28 43 57 treat flows  
Step I : 28 and fishes 63 of 43 57 treat flows 97  
Step II : 28 and fishes 63 of 43 57 flows 97 treat  
Step III : 28 and 43 fishes of 57 flows 97 treat 63  
Step IV : 28 and 43 fishes 57 flows 97 treat 63 of  
Step V : 28 and 43 fishes flows 97 treat 63 of 57  
Step V is the last step of the arrangement. As per the rules followed in the above step, find out the steps for the given input-

Input: intended 59 69 the 91 remnant 26 in israel 13

इनपुट: and fishes 97 63 of 28 43 57 treat flows  
चरण I : 28 and fishes 63 of 43 57 treat flows 97  
चरण II : 28 and fishes 63 of 43 57 flows 97 treat  
चरण III : 28 and 43 fishes of 57 flows 97 treat 63  
चरण IV : 28 and 43 fishes 57 flows 97 treat 63 of  
चरण V : 28 and 43 fishes flows 97 treat 63 of 57  
चरण V व्यवस्था का अंतिम चरण है। उपर्युक्त चरण में दिए गए नियमों के अनुसार, दिए गए इनपुट के लिए चरणों को ज्ञात कीजिए।  
इनपुट: intended 59 69 the 91 remnant 26 in israel 13

Q-6 In Step V, if 'remnant' related to 'intended' and '13' is related to '91' then '59' is related to?  
eng/eng चरण V में, यदि 'remnant', 'intended' से संबंधित है और '13', '91' से संबंधित है तो '59' किस से संबंधित है?

01. israel
02. remnant
03. 69
04. 26
05. None of these
- इनमें से कोई नहीं

Q-6 In Step V, if 'remnant' related to 'intended' and '13' is related to '91' then '59' is related to?  
eng hin चरण V में, यदि 'remnant', 'intended' से संबंधित है और '13', '91' से संबंधित है तो '59' किस से संबंधित है?

01. israel
02. remnant
03. 69
04. 26
05. None of these
- इनमें से कोई नहीं

Solution for Question 6 Ans Key: 1

eng/eng Input: intended 59 69 the 91 remnant 26 in israel 13  
Step I : 13 intended 59 69 the remnant 26 in israel 91  
Step II : 13 in intended 59 69 remnant 26 israel 91 the  
Step III : 13 in 26 intended 59 remnant israel 91 the 69  
Step IV : 13 in 26 intended 59 israel 91 the 69 remnant  
Step V : 13 in 26 intended israel 91 the 69 remnant 59  
In the first step- the smallest number is arranged in the left end and the highest number is arranged on the right end.  
In the second step- the word which comes first according to the dictionary is arranged on the second place from the left end and that word which comes in the last place according to the dictionary is arranged in the right end.  
In the third step – Second smallest number is arranged in third place from left and second highest number is arranged in the right end.  
In the fourth step- the word “intended” is already arranged, so the machine arranges the word “israel” on the sixth place from the left end and the word that comes in second place according to the dictionary is arranged in the right end.  
In the fifth step- the machine has arranged the third highest number in the right end.  
इनपुट: intended 59 69 the 91 remnant 26 in israel 13  
चरण I : 13 intended 59 69 the remnant 26 in israel 91  
चरण II : 13 in intended 59 69 remnant 26 israel 91 the  
चरण III : 13 in 26 intended 59 remnant israel 91 the 69  
चरण IV : 13 in 26 intended 59 israel 91 the 69 remnant  
चरण V : 13 in 26 intended israel 91 the 69 remnant 59  
पहले चरण में- सबसे छोटी संख्या को बाएं छोर में व्यवस्थित किया जाता है और उच्चतम संख्या को दाएं छोर पर व्यवस्थित किया जाता है।  
दूसरे चरण में- शब्दकोश के अनुसार जो शब्द पहले आता है, उसे बाएं से दूसरे स्थान पर व्यवस्थित किया जाता है और डिक्शनरी के अनुसार अंत में आने वाले शब्द को दाएं छोर पर व्यवस्थित किया जाता है।  
तीसरे चरण में - दूसरी सबसे छोटी संख्या को बाएं से तीसरे स्थान पर व्यवस्थित किया जाता है और दूसरी सबसे बड़ी संख्या को दाएं छोर पर व्यवस्थित किया जाता है।  
चौथे चरण में- "intended" शब्द पहले से ही व्यवस्थित है इसलिए मशीन ने "israel" शब्द को बाईं ओर से छठे स्थान पर व्यवस्थित करती है और जो शब्द शब्दकोश के अनुसार दूसरे स्थान पर आता है उसे दाएं छोर पर व्यवस्थित करती है।  
पांचवें चरण में- मशीन ने दाएं छोर पर तीसरी उच्चतम संख्या को व्यवस्था किया है।

eng hin Input: intended 59 69 the 91 remnant 26 in israel 13  
Step I : 13 intended 59 69 the remnant 26 in israel 91

Step II : 13 in intended 59 69 remnant 26 israel 91 the  
 Step III : 13 in 26 intended 59 remnant israel 91 the 69  
 Step IV : 13 in 26 intended 59 israel 91 the 69 remnant  
 Step V : 13 in 26 intended israel 91 the 69 remnant 59

In the first step- the smallest number is arranged in the left end and the highest number is arranged on the right end.

In the second step- the word which comes first according to the dictionary is arranged on the second place from the left end and that word which comes in the last place according to the dictionary is arranged in the right end.

In the third step – Second smallest number is arranged in third place from left and second highest number is arranged in the right end.

In the fourth step- the word “intended” is already arranged, so the machine arranges the word “israel” on the sixth place from the left end and the word that comes in second place according to the dictionary is arranged in the right end.

In the fifth step- the machine has arranged the third highest number in the right end.

इनपुट: intended 59 69 the 91 remnant 26 in israel 13

चरण I: 13 intended 59 69 the remnant 26 in israel 91

चरण II : 13 in intended 59 69 remnant 26 israel 91 the

चरण III : 13 in 26 intended 59 remnant israel 91 the 69

चरण IV : 13 in 26 intended 59 israel 91 the 69 remnant

चरण V : 13 in 26 intended israel 91 the 69 remnant 59

पहले चरण में- सबसे छोटी संख्या को बाएं छोर में व्यवस्थित किया जाता है और उच्चतम संख्या को दाएं छोर पर व्यवस्थित किया जाता है।

दूसरे चरण में- शब्दकोश के अनुसार जो शब्द पहले आता है, उसे बाएं से दूसरे स्थान पर व्यवस्थित किया जाता है और डिक्शनरी के अनुसार अंत में आने वाले शब्द को दायें छोर पर व्यवस्थित किया जाता है।

तीसरे चरण में - दूसरी सबसे छोटी संख्या को बाएं से तीसरे स्थान पर व्यवस्थित किया जाता है और दूसरी सबसे बड़ी संख्या को दायें छोर पर व्यवस्थित किया जाता है।

चौथे चरण में- "intended" शब्द पहले से ही व्यवस्थित है इसलिए मशीन ने "israel" शब्द को बाईं ओर से छठे स्थान पर व्यवस्थित करती है और जो शब्द शब्दकोश के अनुसार दूसरे स्थान पर आता है उसे दायें छोर पर व्यवस्थित करती है।

पांचवें चरण में- मशीन ने दायें छोर पर तीसरी उच्चतम संख्या को व्यवस्था किया है।

**Q-7** What will be the last step of the above input?

**eng/eng** उपर्युक्त इनपुट का अंतिम चरण क्या होगा?

01. VI

02. V

03. VII

04. IV

05. None of these

इनमें से कोई नहीं

**Q-7** What will be the last step of the above input?

**eng hin** उपर्युक्त इनपुट का अंतिम चरण क्या होगा?

01. VI

02. V

03. VII

04. IV

05. None of these

इनमें से कोई नहीं

**Solution for Question 7**

Ans Key: 2

**eng/eng** Input: intended 59 69 the 91 remnant 26 in israel 13

Step I: 13 intended 59 69 the remnant 26 in israel 91

Step II : 13 in intended 59 69 remnant 26 israel 91 the

Step III : 13 in 26 intended 59 remnant israel 91 the 69

Step IV : 13 in 26 intended 59 israel 91 the 69 remnant

Step V : 13 in 26 intended israel 91 the 69 remnant 59

In the first step- the smallest number is arranged in the left end and the highest number is arranged on the right end.

In the second step- the word which comes first according to the dictionary is arranged on the second place from the left end and that word which comes in the last place according to the dictionary is arranged in the right end.

In the third step – Second smallest number is arranged in third place from left and second highest number is arranged in the right end.

In the fourth step- the word “intended” is already arranged, so the machine arranges the word “israel” on the sixth place from the left end and the word that comes in second place according to the dictionary is arranged in the right end.

In the fifth step- the machine has arranged the third highest number in the right end.

इनपुट: intended 59 69 the 91 remnant 26 in israel 13

चरण I: 13 intended 59 69 the remnant 26 in israel 91

चरण II : 13 in intended 59 69 remnant 26 israel 91 the

चरण III : 13 in 26 intended 59 remnant israel 91 the 69

चरण IV : 13 in 26 intended 59 israel 91 the 69 remnant

चरण V : 13 in 26 intended israel 91 the 69 remnant 59

पहले चरण में- सबसे छोटी संख्या को बाएं छोर में व्यवस्थित किया जाता है और उच्चतम संख्या को दाएं छोर पर व्यवस्थित किया जाता है।

दूसरे चरण में- शब्दकोश के अनुसार जो शब्द पहले आता है, उसे बाएं से दूसरे स्थान पर व्यवस्थित किया जाता है और डिक्शनरी के अनुसार अंत में आने वाले शब्द को दायें छोर पर व्यवस्थित किया जाता है।

तीसरे चरण में - दूसरी सबसे छोटी संख्या को बाएं से तीसरे स्थान पर व्यवस्थित किया जाता है और दूसरी सबसे बड़ी संख्या को दायें छोर पर व्यवस्थित किया जाता है।

चौथे चरण में- "intended" शब्द पहले से ही व्यवस्थित है इसलिए मशीन ने "israel" शब्द को बाईं ओर से छठे स्थान पर व्यवस्थित करती है और जो शब्द शब्दकोश के अनुसार दूसरे स्थान पर आता है उसे दायें छोर पर व्यवस्थित करती है।

पांचवें चरण में- मशीन ने दायें छोर पर तीसरी उच्चतम संख्या को व्यवस्था किया है।

**eng hin** Input: intended 59 69 the 91 remnant 26 in israel 13



Step I : 13 intended 59 69 the remnant 26 in israel 91  
 Step II : 13 in intended 59 69 remnant 26 israel 91 the  
 Step III : 13 in 26 intended 59 remnant israel 91 the 69  
 Step IV : 13 in 26 intended 59 israel 91 the 69 remnant  
 Step V : 13 in 26 intended israel 91 the 69 remnant 59

In the first step- the smallest number is arranged in the left end and the highest number is arranged on the right end.

In the second step- the word which comes first according to the dictionary is arranged on the second place from the left end and that word which comes in the last place according to the dictionary is arranged in the right end.

In the third step – Second smallest number is arranged in third place from left and second highest number is arranged in the right end.

In the fourth step- the word “intended” is already arranged, so the machine arranges the word “israel” on the sixth place from the left end and the word that comes in second place according to the dictionary is arranged in the right end.

In the fifth step- the machine has arranged the third highest number in the right end.

इनपुट: intended 59 69 the 91 remnant 26 in israel 13

चरण I: 13 intended 59 69 the remnant 26 in israel 91

चरण II: 13 in intended 59 69 remnant 26 israel 91 the

चरण III: 13 in 26 intended 59 remnant israel 91 the 69

चरण IV: 13 in 26 intended 59 israel 91 the 69 remnant

चरण V: 13 in 26 intended israel 91 the 69 remnant 59

पहले चरण में- सबसे छोटी संख्या को बाएं छोर में व्यवस्थित किया जाता है और उच्चतम संख्या को दाएं छोर पर व्यवस्थित किया जाता है।

दूसरे चरण में- शब्दकोश के अनुसार जो शब्द पहले आता है, उसे बाएं से दूसरे स्थान पर व्यवस्थित किया जाता है और डिक्शनरी के अनुसार अंत में आने वाले शब्द को दायें छोर पर व्यवस्थित किया जाता है।

तीसरे चरण में - दूसरी सबसे छोटी संख्या को बाएं से तीसरे स्थान पर व्यवस्थित किया जाता है और दूसरी सबसे बड़ी संख्या को दायें छोर पर व्यवस्थित किया जाता है।

चौथे चरण में- "intended" शब्द पहले से ही व्यवस्थित है इसलिए मशीन ने "israel" शब्द को बाईं ओर से छठे स्थान पर व्यवस्थित करती है और जो शब्द शब्दकोश के अनुसार दूसरे स्थान पर आता है उसे दायें छोर पर व्यवस्थित करती है।

पांचवें चरण में- मशीन ने दायें छोर पर तीसरी उच्चतम संख्या को व्यवस्था किया है।

**Q-8** In which of the following step ‘israel’ is sixth from the left end?  
**eng/eng** निम्नलिखित में से कौन से चरण में 'israel' बाएं से छठा है?

01. V

02. IV

03. III

04. Both IV and V  
IV और V दोनों

05. Both III and V  
III और V दोनों

**Q-8** In which of the following step ‘israel’ is sixth from the left end?  
**eng hin** निम्नलिखित में से कौन से चरण में 'israel' बाएं से छठा है?

01. V

02. IV

03. III

04. Both IV and V  
IV और V दोनों

05. Both III and V  
III और V दोनों

## Solution for Question 8

Ans Key: 2

**eng/eng** [ Input: intended 59 69 the 91 remnant 26 in israel 13  
 Step I : 13 intended 59 69 the remnant 26 in israel 91  
 Step II : 13 in intended 59 69 remnant 26 israel 91 the  
 Step III : 13 in 26 intended 59 remnant israel 91 the 69  
 Step IV : 13 in 26 intended 59 israel 91 the 69 remnant  
 Step V : 13 in 26 intended israel 91 the 69 remnant 59  
 [इनपुट: intended 59 69 the 91 remnant 26 in israel 13]  
 चरण I: 13 intended 59 69 the remnant 26 in israel 91  
 चरण II: 13 in intended 59 69 remnant 26 israel 91 the  
 चरण III: 13 in 26 intended 59 remnant israel 91 the 69  
 चरण IV: 13 in 26 intended 59 israel 91 the 69 remnant  
 चरण V: 13 in 26 intended israel 91 the 69 remnant 59

**eng hin** [ Input: intended 59 69 the 91 remnant 26 in israel 13  
 Step I : 13 intended 59 69 the remnant 26 in israel 91  
 Step II : 13 in intended 59 69 remnant 26 israel 91 the  
 Step III : 13 in 26 intended 59 remnant israel 91 the 69  
 Step IV : 13 in 26 intended 59 israel 91 the 69 remnant  
 Step V : 13 in 26 intended israel 91 the 69 remnant 59  
 [इनपुट: intended 59 69 the 91 remnant 26 in israel 13]  
 चरण I: 13 intended 59 69 the remnant 26 in israel 91  
 चरण II: 13 in intended 59 69 remnant 26 israel 91 the  
 चरण III: 13 in 26 intended 59 remnant israel 91 the 69  
 चरण IV: 13 in 26 intended 59 israel 91 the 69 remnant  
 चरण V: 13 in 26 intended israel 91 the 69 remnant 59

Q-9 Which step would be the following output?  
eng/eng कौन सा चरण निम्नलिखित आउटपुट होगा?

13 in 26 intended israel 91 the 69 remnant 59

01. III

03. V

05. None of these  
इनमे से कोई नहीं
02. IV

04. VI

Q-9 Which step would be the following output?  
eng hin कौन सा चरण निम्नलिखित आउटपुट होगा?

13 in 26 intended israel 91 the 69 remnant 59

01. III

03. V

05. None of these  
इनमे से कोई नहीं
02. IV

04. VI

Solution for Question 9 Ans Key: 3

eng/eng [Step V: 13 in 26 intended israel 91 the 69 remnant 59]  
[चरण V: 13 in 26 intended israel 91 the 69 remnant 59 ]

eng hin [Step V: 13 in 26 intended israel 91 the 69 remnant 59]  
[चरण V: 13 in 26 intended israel 91 the 69 remnant 59 ]

Q-10 Which of the following elements will be fifth from the left end in Step IV?  
eng/eng चरण IV में बाएं छोर से निम्नलिखित में से कौन-सा तत्व पांचवां होगा?

01. 26

03. intended

05. remnant
02. 91

04. 59

Q-10 Which of the following elements will be fifth from the left end in Step IV?  
eng hin चरण IV में बाएं छोर से निम्नलिखित में से कौन-सा तत्व पांचवां होगा?

01. 26

03. intended

05. remnant
02. 91

04. 59

Solution for Question 10 Ans Key: 4

eng/eng Input: intended 59 69 the 91 remnant 26 in israel 13  
Step I: 13 intended 59 69 the remnant 26 in israel 91  
Step II: 13 in intended 59 69 remnant 26 israel 91 the  
Step III: 13 in 26 intended 59 remnant israel 91 the 69  
Step IV: 13 in 26 intended 59 israel 91 the 69 remnant  
Step V: 13 in 26 intended israel 91 the 69 remnant 59

In the first step- the smallest number is arranged in the left end and the highest number is arranged on the right end.  
In the second step- the word which comes first according to the dictionary is arranged on the second place from the left end and that word which comes in the last place according to the dictionary is arranged in the right end.  
In the third step – Second smallest number is arranged in third place from left and second highest number is arranged in the right end.  
In the fourth step- the word “intended” is already arranged, so the machine arranges the word “israel” on the sixth place from the left end and the word that comes in second place according to the dictionary is arranged in the right end.  
In the fifth step- the machine has arranged the third highest number in the right end.  
इनपुट: intended 59 69 the 91 remnant 26 in israel 13  
चरण I: 13 intended 59 69 the remnant 26 in israel 91  
चरण II: 13 in intended 59 69 remnant 26 israel 91 the  
चरण III: 13 in 26 intended 59 remnant israel 91 the 69  
चरण IV: 13 in 26 intended 59 israel 91 the 69 remnant  
चरण V: 13 in 26 intended israel 91 the 69 remnant 59  
पहले चरण में- सबसे छोटी संख्या को बाएं छोर में व्यवस्थित किया जाता है और उच्चतम संख्या को दाएं छोर पर व्यवस्थित किया जाता है।  
दूसरे चरण में- शब्दकोश के अनुसार जो शब्द पहले आता है, उसे बाएं से दूसरे स्थान पर व्यवस्थित किया जाता है और डिक्शनरी के अनुसार अंत में आने वाले शब्द को दायें छोर पर व्यवस्थित किया जाता है।  
तीसरे चरण में - दूसरी सबसे छोटी संख्या को बाएं से तीसरे स्थान पर व्यवस्थित किया जाता है और दूसरी सबसे बड़ी संख्या को दायें छोर पर व्यवस्थित किया जाता है।  
चौथे चरण में- "intended" शब्द पहले से ही व्यवस्थित है इसलिए मशीन ने "israel" शब्द को बाईं ओर से छठे स्थान पर व्यवस्थित करती है और जो शब्द शब्दकोश के अनुसार दूसरे स्थान पर आता है उसे दायें छोर पर व्यवस्थित करती है।

पांचवें चरण में- मशीन ने दायें छोर पर तीसरी उच्चतम संख्या को व्यवस्था किया है।

eng hin

Input: intended 59 69 the 91 remnant 26 in israel 13  
Step I : 13 intended 59 69 the remnant 26 in israel 91  
Step II : 13 in intended 59 69 remnant 26 israel 91 the  
Step III : 13 in 26 intended 59 remnant israel 91 the 69  
Step IV : 13 in 26 intended 59 israel 91 the 69 remnant  
Step V : 13 in 26 intended israel 91 the 69 remnant 59

In the first step- the smallest number is arranged in the left end and the highest number is arranged on the right end.

In the second step- the word which comes first according to the dictionary is arranged on the second place from the left end and that word which comes in the last place according to the dictionary is arranged in the right end.

In the third step – Second smallest number is arranged in third place from left and second highest number is arranged in the right end.

In the fourth step- the word “intended” is already arranged, so the machine arranges the word “israel” on the sixth place from the left end and the word that comes in second place according to the dictionary is arranged in the right end.

In the fifth step- the machine has arranged the third highest number in the right end.

इनपुट: intended 59 69 the 91 remnant 26 in israel 13

चरण I: 13 intended 59 69 the remnant 26 in israel 91

चरण II : 13 in intended 59 69 remnant 26 israel 91 the

चरण III : 13 in 26 intended 59 remnant israel 91 the 69

चरण IV : 13 in 26 intended 59 israel 91 the 69 remnant

चरण V : 13 in 26 intended israel 91 the 69 remnant 59

पहले चरण में- सबसे छोटी संख्या को बाएं छोर में व्यवस्थित किया जाता है और उच्चतम संख्या को दाएं छोर पर व्यवस्थित किया जाता है।

दूसरे चरण में- शब्दकोश के अनुसार जो शब्द पहले आता है, उसे बाएं से दूसरे स्थान पर व्यवस्थित किया जाता है और डिक्शनरी के अनुसार अंत में आने वाले शब्द को दायें छोर पर व्यवस्थित किया जाता है।

तीसरे चरण में - दूसरी सबसे छोटी संख्या को बाएं से तीसरे स्थान पर व्यवस्थित किया जाता है और दूसरी सबसे बड़ी संख्या को दायें छोर पर व्यवस्थित किया जाता है। चौथे चरण में- "intended" शब्द पहले से ही व्यवस्थित है इसलिए मशीन ने "israel" शब्द को बाईं ओर से छठे स्थान पर व्यवस्थित करती है और जो शब्द शब्दकोश के अनुसार दूसरे स्थान पर आता है उसे दायें छोर पर व्यवस्थित करती है।

पांचवें चरण में- मशीन ने दायें छोर पर तीसरी उच्चतम संख्या को व्यवस्था किया है।

Q-11

eng/eng

Each question below is followed by a statement and two arguments. You have to decide which of the following arguments is a strong argument and which is a weak argument. In making decisions about important questions, it is desirable to be able to distinguish between strong arguments and weak arguments so far as they relate to the question. Strong arguments are those which are both important and directly related to the question. Weak arguments are those which are of minor importance and also may not be directly related to the question.

नीचे दिए प्रत्येक प्रश्न में एक कथन व उसे बाद दो तर्क दिए गए हैं। आपको यह तय करना है कि कौन सा तर्क सशक्त है, तथा कौन सा तर्क असशक्त है। निर्णय लेते समय यह आवश्यक है कि सशक्त व कमजोर तर्कों के बीच अन्तर किया जा सके जहाँ तक कि वे प्रश्नों से सम्बन्धित हैं। सशक्त तर्क वे तर्क होते हैं जो महत्वपूर्ण होने के साथ-साथ प्रश्न से सीधे सम्बन्धित होते हैं। कमजोर तर्क वे होते हैं जो कम महत्वपूर्ण होते हैं तथा प्रश्न से सीधे सम्बन्धित भी नहीं होते।

Statements: Should there be a complete ban on hunting and trapping tigers?

कथन: क्या बाघों के शिकार और पकड़ने पर पूर्णतया प्रतिबंध होना चाहिए?

Argument:

I. Yes, because the number of tigers decreasing very quickly from the last few years.

II. No, there is a lot of demand for tiger skin in the international market, so there should not be a ban on tiger hunting.

तर्क:

I. हाँ, क्योंकि पिछले कुछ सालों से बाघों की संख्या बहुत तेज़ी से घट रही है।

II. नहीं, अंतरराष्ट्रीय बाजार में बाघ की खाल की बहुत ज्यादा मांग होती है इसीलिए बाघ के शिकार पर प्रतिबंध नहीं होना चाहिये।

01. Only I is strong.  
केवल I मजबूत तर्क है।

02. Only II is strong.  
केवल II मजबूत तर्क है।

03. Either I or II is strong.  
या तो I या II मजबूत तर्क है।

04. Both I and II are strong.  
I और II दोनों मजबूत तर्क हैं।

05. Neither I nor II are strong.  
न तो I और न ही II मजबूत तर्क हैं।

Q-11

eng hin

Each question below is followed by a statement and two arguments. You have to decide which of the following arguments is a strong argument and which is a weak argument. In making decisions about important questions, it is desirable to be able to distinguish between strong arguments and weak arguments so far as they relate to the question. Strong arguments are those which are both important and directly related to the question. Weak arguments are those which are of minor importance and also may not be directly related to the question.

नीचे दिए प्रत्येक प्रश्न में एक कथन व उसे बाद दो तर्क दिए गए हैं। आपको यह तय करना है कि कौन सा तर्क सशक्त है, तथा कौन सा तर्क असशक्त है। निर्णय लेते समय यह आवश्यक है कि सशक्त व कमजोर तर्कों के बीच अन्तर किया जा सके जहाँ तक कि वे प्रश्नों से सम्बन्धित हैं। सशक्त तर्क वे तर्क होते हैं जो महत्वपूर्ण होने के साथ-साथ प्रश्न से सीधे सम्बन्धित होते हैं। कमजोर तर्क वे होते हैं जो कम महत्वपूर्ण होते हैं तथा प्रश्न से सीधे सम्बन्धित भी नहीं होते।

Statements: Should there be a complete ban on hunting and trapping tigers?

कथन: क्या बाघों के शिकार और पकड़ने पर पूर्णतया प्रतिबंध होना चाहिए?

Argument:

I. Yes, because the number of tigers decreasing very quickly from the last few years.

II. No, there is a lot of demand for tiger skin in the international market, so there should not be a ban on tiger hunting.

तर्क:



I. हाँ, क्योंकि पिछले कुछ सालों से बाघों की संख्या बहुत तेज़ी से घट रही है।

II. नहीं, अंतरराष्ट्रीय बाज़ार में बाघ की खाल की बहुत ज्यादा मांग होती है इसीलिए बाघ के शिकार पर प्रतिबंद नहीं होना चाहिये।

- |   |  |
|---|--|
| 01. Only I is strong.<br>केवल I मजबूत तर्क है।                        | 02. Only II is strong.<br>केवल II मजबूत तर्क है।               |
| 03. Either I or II is strong.<br>या तो I या II मजबूत तर्क है।         | 04. Both I and II are strong.<br>I और II दोनों मजबूत तर्क हैं। |
| 05. Neither I nor II are strong.<br>न तो I और न ही II मजबूत तर्क हैं। |  |

Ans Key: 1

**Q-12** In each question below is given a statement followed by two assumptions numbered I and II. An assumption is something supposed or taken for granted. You have to consider the statement and the following assumptions and decide which of the assumptions is implicit in the statement.

eng/eng

नीचे दिए गए प्रत्येक प्रश्न में पहले एक कथन है फिर उसके नीचे दो पूर्वधारणायें हैं जिन्हें क्रमांक I और II दिये गये हैं। कोई पूर्वधारणा वह बात है जिसे या तो मान लिया गया हो या वह गृहीत हो। आपको दिये गये कथन और उसके नीचे दी गयी पूर्वधारणाओं पर विचार करने के बाद तय करना है कि कौन सी पूर्वधारणा कथन में अंतर्निहित है:

Statement: The tagline of the Indian Railways is 'Lifeline of the Nation'.

कथन: भारतीय रेलवे की टैगलाइन 'लाइफलाइन ऑफ द नेशन' है।

Assumptions:

I) Most people in India prefer traveling by train to travel from one place to another.

II) In India, apart from trains, other means are not very popular for traveling from one place to another.

पूर्वधारणाएं:

I) इंडिया में अधिकतम व्यक्ति एक स्थान से दूसरे स्थान की यात्रा के लिये ट्रेन द्वारा यात्रा करना अधिक पसंद करते हैं।

II) इंडिया में एक स्थान से दूसरे तक यात्रा करने के लिये ट्रेनों के अलावा दूसरे साधन ज्यादा प्रचलित नहीं हैं।

- |  |   |
|--|---|
| 01. If only assumption I is implicit.<br>केवल पूर्वधारणा I अंतर्निहित है।                                      | 02. If only assumption II is implicit.<br>केवल पूर्वधारणा II अंतर्निहित है।                                       |
| 03. If either assumption I or assumption II is implicit.<br>या तो पूर्वधारणा I या पूर्वधारणा II अंतर्निहित है। | 04. If neither assumption I nor assumption II is implicit.<br>न तो पूर्वधारणा I न ही पूर्वधारणा II अंतर्निहित है। |
| 05. If both assumptions I and II are implicit.<br>पूर्वधारणाएं I और II दोनों अंतर्निहित हैं।                   |   |

**Q-12** In each question below is given a statement followed by two assumptions numbered I and II. An assumption is something supposed or taken for granted. You have to consider the statement and the following assumptions and decide which of the assumptions is implicit in the statement.

eng/hin

नीचे दिए गए प्रत्येक प्रश्न में पहले एक कथन है फिर उसके नीचे दो पूर्वधारणायें हैं जिन्हें क्रमांक I और II दिये गये हैं। कोई पूर्वधारणा वह बात है जिसे या तो मान लिया गया हो या वह गृहीत हो। आपको दिये गये कथन और उसके नीचे दी गयी पूर्वधारणाओं पर विचार करने के बाद तय करना है कि कौन सी पूर्वधारणा कथन में अंतर्निहित है:

Statement: The tagline of the Indian Railways is 'Lifeline of the Nation'.

कथन: भारतीय रेलवे की टैगलाइन 'लाइफलाइन ऑफ द नेशन' है।

Assumptions:

I) Most people in India prefer traveling by train to travel from one place to another.

II) In India, apart from trains, other means are not very popular for traveling from one place to another.

पूर्वधारणाएं:

I) इंडिया में अधिकतम व्यक्ति एक स्थान से दूसरे स्थान की यात्रा के लिये ट्रेन द्वारा यात्रा करना अधिक पसंद करते हैं।

II) इंडिया में एक स्थान से दूसरे तक यात्रा करने के लिये ट्रेनों के अलावा दूसरे साधन ज्यादा प्रचलित नहीं हैं।

- |  |   |
|--|---|
| 01. If only assumption I is implicit.<br>केवल पूर्वधारणा I अंतर्निहित है।                                      | 02. If only assumption II is implicit.<br>केवल पूर्वधारणा II अंतर्निहित है।                                       |
| 03. If either assumption I or assumption II is implicit.<br>या तो पूर्वधारणा I या पूर्वधारणा II अंतर्निहित है। | 04. If neither assumption I nor assumption II is implicit.<br>न तो पूर्वधारणा I न ही पूर्वधारणा II अंतर्निहित है। |
| 05. If both assumptions I and II are implicit.<br>पूर्वधारणाएं I और II दोनों अंतर्निहित हैं।                   |   |

Ans Key: 1

**Q-13** In each question below is given a statement followed by two assumptions numbered I and II. An assumption is something supposed or taken for granted. You have to consider the statement and the following assumptions and decide which of the assumptions is implicit in the statement.

eng/eng

नीचे दिए गए प्रत्येक प्रश्न में पहले एक कथन है फिर उसके नीचे दो पूर्वधारणायें हैं जिन्हें क्रमांक I और II दिये गये हैं। कोई पूर्वधारणा वह बात है जिसे या तो मान लिया गया हो या वह गृहीत हो। आपको दिये गये कथन और उसके नीचे दी गयी पूर्वधारणाओं पर विचार करने के बाद तय करना है कि कौन सी पूर्वधारणा कथन में अंतर्निहित है:

Statement: Office XYZ provides an extra one day holiday to the person who doesn't take any leave on that month.  
कथन: ऑफिस XYZ उस व्यक्ति को एक दिन की छुट्टी प्रदान करता है जो उस महीने कोई छुट्टी नहीं लेता है।

Assumptions:

I) A person who takes leave for only one day will not be granted such a holiday.

II) The person who takes sick leave will also be given a day off.

पूर्वधारणाएं:

I) जो व्यक्ति केवल एक दिन के लिए छुट्टी लेता है, उसे इस प्रकार का अवकाश प्रदान नहीं किया जाएगा।

II) जो व्यक्ति बीमारी में छुट्टी लेता है उसे भी एक दिन का अवकाश दिया जाएगा।

01. If only assumption I is implicit.

केवल पूर्वधारणा I अंतर्निहित है।

02. If only assumption II is implicit.

केवल पूर्वधारणा II अंतर्निहित है।

03. If either assumption I or assumption II is implicit.

या तो पूर्वधारणा I या पूर्वधारणा II अंतर्निहित है।

04. If neither assumption I nor assumption II is implicit.

न तो पूर्वधारणा I न ही पूर्वधारणा II अंतर्निहित है।

05. If both assumptions I and II are implicit.

पूर्वधारणाएं I और II दोनों अंतर्निहित हैं।

Q-13  
eng him

In each question below is given a statement followed by two assumptions numbered I and II. An assumption is something supposed or taken for granted. You have to consider the statement and the following assumptions and decide which of the assumptions is implicit in the statement.

नीचे दिए गए प्रत्येक प्रश्न में पहले एक कथन है फिर उसके नीचे दो पूर्वधारणायें हैं जिन्हें क्रमांक I और II दिये गये हैं। कोई पूर्वधारणा वह बात है जिसे या तो मान लिया गया हो या वह गृहीत हो। आपको दिये गये कथन और उसके नीचे दी गयी पूर्वधारणाओं पर विचार करने के बाद तय करना है कि कौन सी पूर्वधारणा कथन में अंतर्निहित है:

Statement: Office XYZ provides an extra one day holiday to the person who doesn't take any leave on that month.

कथन: ऑफिस XYZ उस व्यक्ति को एक दिन की छुट्टी प्रदान करता है जो उस महीने कोई छुट्टी नहीं लेता है।

Assumptions:

I) A person who takes leave for only one day will not be granted such a holiday.

II) The person who takes sick leave will also be given a day off.

पूर्वधारणाएं:

I) जो व्यक्ति केवल एक दिन के लिए छुट्टी लेता है, उसे इस प्रकार का अवकाश प्रदान नहीं किया जाएगा।

II) जो व्यक्ति बीमारी में छुट्टी लेता है उसे भी एक दिन का अवकाश दिया जाएगा।

01. If only assumption I is implicit.

केवल पूर्वधारणा I अंतर्निहित है।

02. If only assumption II is implicit.

केवल पूर्वधारणा II अंतर्निहित है।

03. If either assumption I or assumption II is implicit.

या तो पूर्वधारणा I या पूर्वधारणा II अंतर्निहित है।

04. If neither assumption I nor assumption II is implicit.

न तो पूर्वधारणा I न ही पूर्वधारणा II अंतर्निहित है।

05. If both assumptions I and II are implicit.

पूर्वधारणाएं I और II दोनों अंतर्निहित हैं।

Ans Key: 4

Passage for Question 14, 15, 16, 17, 18 (ST-2071 RRB CLERK MAINS (11-15) 2020)

eng/eng Passage

Study the given information carefully and answer the following questions.

There are seven family members L, M, N, O, P, Q and R are living in seven different floors of a building, but not necessarily in the same order. The lowermost floor is numbered as 1 and topmost floor is numbered as 7. Each of them also likes different cars Honda, Toyota, Audi, Fiat, Renault, Maruti and Tata.

R lives on an even number but not on second floor. There are two persons living between R and son-in-law of R. R is the wife of N. M is the only Son-in-law of N.

Q is the only brother-in-law of M. N is the son of L. O is the only granddaughter of L and wife of M. P is the Mother of N. There is only one person living between M and P. P lives above M. L lives on the bottom floor. There is only one person living between L and the person who likes Audi. There are two persons living

between the person who likes Audi and the person who likes Fiat. The person who likes Renault lives on the top floor. There are three persons living between the

person who likes Tata and L. N lives on the top floor. There are two persons living between the person who likes Honda and the person who likes Renault. The

person who likes Toyota lives on the bottom floor. Q neither likes Honda nor Tata.

दिए गए सूचनाओं का ध्यानपूर्वक अध्ययन करें और निम्नलिखित प्रश्नों का उत्तर दें।

सात सदस्य L, M, N, O, P, Q और R एक इमारत में सात अलग-अलग मंजिल पर रहते हैं लेकिन ज़रूरी नहीं कि इसी क्रम में हों। सबसे निचले तल को 1 और सबसे ऊपरी तल को 7 के रूप में गिना गया है। उनमें से प्रत्येक को अलग-अलग कार होंडा, टोयोटा, ऑडी, फिएट, रेनॉल्ट, मारुति और टाटा पसंद हैं।

R सम संख्या वाली मंजिल पर रहता है लेकिन दूसरी मंजिल पर नहीं रहता है। R और R के सन-इन-लॉ के बीच दो व्यक्ति रहते हैं। R, N की पत्नी है। M, N का इकलौता सन-

इन-लॉ है। Q, M का इकलौता ब्रदर-इन-लॉ है। N, L का बेटा है। O, L की इकलौती ग्रैंडडॉटर है और M की पत्नी है। P, N की माता है। M और P के बीच केवल एक व्यक्ति रहता

है। P, M के ऊपर रहता है। L सबसे नीचे वाली मंजिल पर रहता है। L और जिसे ऑडी पसंद है उनके बीच में केवल एक व्यक्ति रहता है। जिस व्यक्ति को ऑडी पसंद है और जिस

व्यक्ति को फिएट पसंद है उनके बीच में दो व्यक्ति रहते हैं। जिस व्यक्ति को रेनॉल्ट पसंद है वह सबसे ऊपर वाली मंजिल पर रहता है। जिस व्यक्ति को टाटा पसंद है और L के बीच में

तीन व्यक्ति रहते हैं। N सबसे ऊपर वाली मंजिल पर रहता है। जिस व्यक्ति को होंडा पसंद है और जिसे रेनॉल्ट पसंद है उनके बीच में दो व्यक्ति रहते हैं। जिसे टोयोटा पसंद है वो सबसे नीचे वाली मंजिल पर रहता है। Q को न तो होंडा पसंद है और न ही टाटा पसंद है।

eng hin Passage

**Study the given information carefully and answer the following questions.**

There are seven family members L, M, N, O, P, Q and R are living in seven different floors of a building, but not necessarily in the same order. The lowermost floor is numbered as 1 and topmost floor is numbered as 7. Each of them also likes different cars Honda, Toyota, Audi, Fiat, Renault, Maruti and Tata.

R lives on an even number but not on second floor. There are two persons living between R and son-in-law of R. R is the wife of N. M is the only son-in-law of N. Q is the only brother-in-law of M. N is the son of L. O is the only granddaughter of L and wife of M. P is the mother of N. There is only one person living between M and P. P lives above M. L lives on the bottom floor. There is only one person living between L and the person who likes Audi. There are two persons living between the person who likes Audi and the person who likes Fiat. The person who likes Renault lives on the top floor. There are three persons living between the person who likes Tata and L. N lives on the top floor. There are two persons living between the person who likes Honda and the person who likes Renault. The person who likes Toyota lives on the bottom floor. Q neither likes Honda nor Tata.

**दिए गए सूचनाओं का ध्यानपूर्वक अध्ययन करें और निम्नलिखित प्रश्नों का उत्तर दें।**

सात सदस्य L, M, N, O, P, Q और R एक इमारत में सात अलग-अलग मंजिल पर रहते हैं लेकिन ज़रूरी नहीं कि इसी क्रम में हों। सबसे निचले तल को 1 और सबसे ऊपरी तल को 7 के रूप में गिना गया है। उनमें से प्रत्येक को अलग-अलग कार होंडा, टोयोटा, ऑडी, फिएट, रेनॉल्ट, मारुति और टाटा पसंद हैं। R सन-इन्-लॉ वाली मंजिल पर रहता है लेकिन दूसरी मंजिल पर नहीं रहता है। R और R के सन-इन-लॉ के बीच दो व्यक्ति रहते हैं। R, N की पत्नी है। M, N का इकलौता सन-इन-लॉ है। Q, M का इकलौता ब्रदर-इन-लॉ है। N, L का बेटा है। O, L की इकलौती ग्रेण्डडाटर है और M की पत्नी है। P, N की माता है। M और P के बीच केवल एक व्यक्ति रहता है। P, M के ऊपर रहता है। L सबसे नीचे वाली मंजिल पर रहता है। L और जिसे ऑडी पसंद है उनके बीच में केवल एक व्यक्ति रहता है। जिस व्यक्ति को ऑडी पसंद है और जिस व्यक्ति को फिएट पसंद है उनके बीच में दो व्यक्ति रहते हैं। जिस व्यक्ति को रेनॉल्ट पसंद है वह सबसे ऊपर वाली मंजिल पर रहता है। जिस व्यक्ति को टाटा पसंद है और L के बीच में तीन व्यक्ति रहते हैं। N सबसे ऊपर वाली मंजिल पर रहता है। जिस व्यक्ति को होंडा पसंद है और जिसे रेनॉल्ट पसंद है उनके बीच में दो व्यक्ति रहते हैं। जिसे टोयोटा पसंद है वो सबसे नीचे वाली मंजिल पर रहता है। Q को न तो होंडा पसंद है और न ही टाटा पसंद है।

**Q-14** Who is the grandson of L?  
eng/eng L का पोता कौन है?

01. P

02. O

03. Q

04. N

05. None of these/इनमें से कोई नहीं

**Q-14** Who is the grandson of L?  
eng hin L का पोता कौन है?

01. P

02. O

03. Q

04. N

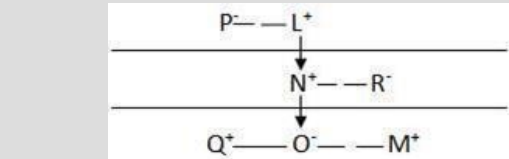
05. None of these/इनमें से कोई नहीं

**Solution for Question 14** Ans Key: 3

eng/eng

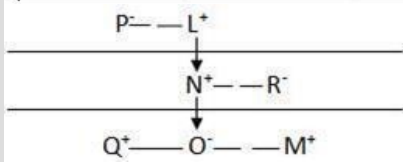
7	N	RENAULT
6	R	FIAT
5	P	TATA
4	O	HONDA
3	M	AUDI
2	Q	MARUTI
1	L	TOYOTA

7	N	रेनॉल्ट
6	R	फिएट
5	P	टाटा
4	O	होंडा
3	M	ऑडी
2	Q	मारुती
1	L	टोयोटा



eng hin

7	N	RENAULT
6	R	FIAT
5	P	TATA
4	O	HONDA
3	M	AUDI
2	Q	MARUTI
1	L	TOYOTA



7	N	रेनॉल्ट
6	R	फिएट
5	P	टाटा
4	O	होंडा
3	M	ऑडी
2	Q	मारुती
1	L	टोयोटा

**Q-15** Who likes Honda?  
**eng/eng** होंडा किसे पसंद है?

01. R
02. N
03. L
04. O
05. None of these/इनमे से कोई नहीं

**Q-15** Who likes Honda?  
**eng hin** होंडा किसे पसंद है?

01. R
02. N
03. L
04. O
05. None of these/इनमे से कोई नहीं

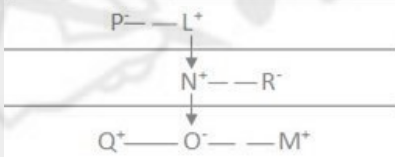
**Solution for Question 15**

Ans Key: 4

**eng/eng**

7	N	RENAULT
6	R	FIAT
5	P	TATA
4	O	HONDA
3	M	AUDI
2	Q	MARUTI
1	L	TOYOTA

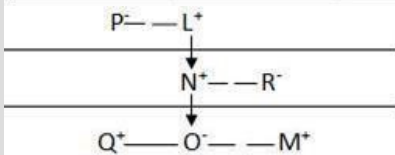
7	N	रेनॉल्ट
6	R	फिएट
5	P	टाटा
4	O	होंडा
3	M	ऑडी
2	Q	मारुती
1	L	टोयोटा



**eng hin**

7	N	RENAULT
6	R	FIAT
5	P	TATA
4	O	HONDA
3	M	AUDI
2	Q	MARUTI
1	L	TOYOTA

7	N	रेनॉल्ट
6	R	फिएट
5	P	टाटा
4	O	होंडा
3	M	ऑडी
2	Q	मारुती
1	L	टोयोटा



**Q-16** How many persons are living between N and Q?  
**eng/eng** N और Q के बीच कितने व्यक्ति बैठे हैं?

01. 3 02. 4

03. 2 04. 1

05. None of these/इनमें से कोई नहीं

**Q-16** How many persons are living between N and Q?

eng hin

N और Q के बीच कितने व्यक्ति बैठे हैं?

01. 3 02. 4

03. 2 04. 1

05. None of these/इनमें से कोई नहीं

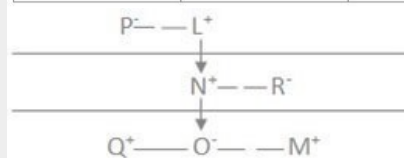
**Solution for Question 16**

Ans Key: 2

eng/eng

7	N	RENAULT
6	R	FIAT
5	P	TATA
4	O	HONDA
3	M	AUDI
2	Q	MARUTI
1	L	TOYOTA

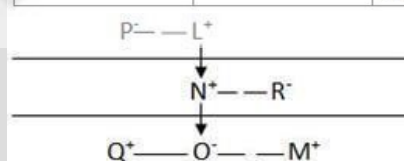
7	N	रेनॉल्ट
6	R	फिएट
5	P	टाटा
4	O	होडा
3	M	ऑडी
2	Q	मारुती
1	L	टोयोटा



eng hin

7	N	RENAULT
6	R	FIAT
5	P	TATA
4	O	HONDA
3	M	AUDI
2	Q	MARUTI
1	L	TOYOTA

7	N	रेनॉल्ट
6	R	फिएट
5	P	टाटा
4	O	होडा
3	M	ऑडी
2	Q	मारुती
1	L	टोयोटा



**Q-17** Who lives on the second floor?

eng/eng

दूसरी मंजिल पर कौन रहता है?

01. P 02. R

03. Q 04. O

05. None of these/इनमें से कोई नहीं

**Q-17** Who lives on the second floor?

eng hin

दूसरी मंजिल पर कौन रहता है?

01. P 02. R

03. Q 04. O

05. None of these/इनमें से कोई नहीं

**Solution for Question 17**

Ans Key: 3

eng/eng

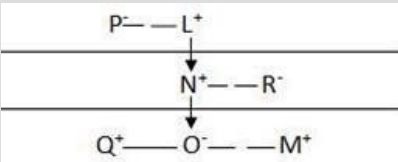
7	N	RENAULT
---	---	---------



6	R	FIAT
5	P	TATA
4	O	HONDA
3	M	AUDI
2	Q	MARUTI
1	L	TOYOTA

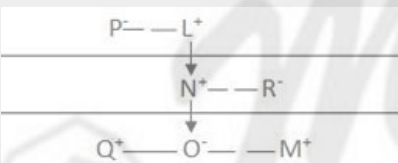
7	N	रेनॉल्ट
6	R	फिएट
5	P	टाटा
4	O	होंडा
3	M	ऑडी
2	Q	मारुती
1	L	टोयोटा



7	N	RENAULT
6	R	FIAT
5	P	TATA
4	O	HONDA
3	M	AUDI
2	Q	MARUTI
1	L	TOYOTA

7	N	रेनॉल्ट
6	R	फिएट
5	P	टाटा
4	O	होंडा
3	M	ऑडी
2	Q	मारुती
1	L	टोयोटा



Q-18 Which of the following is true regarding R as per the given arrangement?  
 दी गई व्यवस्था के अनुसार R के बारे में कौन सा सत्य है?

01. R lives on the fifth floor / R पांचवी मंजिल पर रहती है 02. R likes Fiat/R को फिएट पसंद है
03. R lives on the second floor/ R दूसरी मंजिल पर रहती है 04. R lives exactly between O and N / R, O और N के ठीक बीच में रहती है
05. None of these/इनमे से कोई नहीं

Q-18 Which of the following is true regarding R as per the given arrangement?  
 दी गई व्यवस्था के अनुसार R के बारे में कौन सा सत्य है?

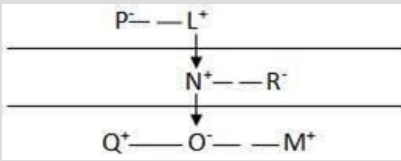
01. R lives on the fifth floor / R पांचवी मंजिल पर रहती है 02. R likes Fiat/R को फिएट पसंद है
03. R lives on the second floor/ R दूसरी मंजिल पर रहती है 04. R lives exactly between O and N / R, O और N के ठीक बीच में रहती है
05. None of these/इनमे से कोई नहीं

**Solution for Question 18**

7	N	RENAULT
6	R	FIAT
5	P	TATA
4	O	HONDA
3	M	AUDI
2	Q	MARUTI
1	L	TOYOTA

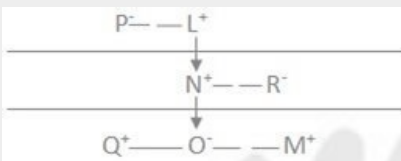
Ans Key: 2

7	L	TOYOTA
6	N	रेनॉल्ट
5	R	फिएट
4	P	टाटा
3	O	होंडा
2	M	ऑडी
1	Q	मारुती
	L	टोयोटा



7	N	RENAULT
6	R	FIAT
5	P	TATA
4	O	HONDA
3	M	AUDI
2	Q	MARUTI
1	L	TOYOTA

7	N	रेनॉल्ट
6	R	फिएट
5	P	टाटा
4	O	होंडा
3	M	ऑडी
2	Q	मारुती
1	L	टोयोटा



Passage for Question 19, 20, 21, 22, 23 (ST-2071 RRB CLERK MAINS R (26-30) 2020)

eng/eng Passage

**Study the following information carefully and answer the question given below.**

Ten persons A, B, C, D, E, N, P, Q, S and T are sitting in a straight line. Some of them are facing towards south and some of them facing north. Not less than four person facing north direction.

Both the immediate neighbour of A facing opposite direction as A who is not facing south. S is second to the left of T. T is an immediate neighbour of P. There are three persons sitting between A and C. Q and C are not immediate neighbours of each other. B is sitting fourth to the left of N. S is an immediate neighbour of A. The person sitting extreme ends facing the opposite direction. C is sitting one of the extreme ends of the line and facing the same direction as N. B does not sit any of the extreme ends of the line. Only one person is sitting between D and E, both of them facing the same direction but both of them is not an immediate neighbour of B. B and P facing the same direction as C.

**निम्नलिखित जानकारी का ध्यानपूर्वक अध्ययन करें और नीचे दिये गये प्रश्न का उत्तर दीजिए:**

दस व्यक्ति A, B, C, D, E, N, P, Q, S और T एक सीधी रेखा में बैठे हैं। इनमें से कुछ दक्षिण की ओर और कुछ उत्तर की ओर देख रहे हैं। उत्तर दिशा की ओर देखने वाले व्यक्ति चार से कम नहीं हैं।

A, जो दक्षिण की ओर नहीं देख रहा है, के दोनों तुरंत पड़ोसी A से विपरीत दिशा में देख रहे हैं। S, T के बाएं दूसरा है। T, P का तुरंत पड़ोसी है। A और C के बीच में तीन व्यक्ति बैठे हैं। Q और C एक-दूसरे के तुरंत पड़ोसी नहीं हैं। B, N के बाएं चौथा बैठा है। S, A का तुरंत पड़ोसी है। वह व्यक्ति जो पंक्ति के अंतिम छोरों पर बैठे है, विपरीत दिशाओं में देख रहे है। C पंक्ति के किसी एक अंतिम छोर पर बैठा है और N के समान दिशा में देख रहा है। B पंक्ति के किसी भी अंतिम छोर पर नहीं बैठा है। D और E के बीच में केवल एक व्यक्ति बैठा है, दोनों एक ही दिशा में देख रहे हैं, लेकिन दोनों B के तुरंत पड़ोसी नहीं हैं। B और P उसी दिशा में देख रहे है जिस दिशा में C देख रहा हैं।

eng hin Passage

**Study the following information carefully and answer the question given below.**

Ten persons A, B, C, D, E, N, P, Q, S and T are sitting in a straight line. Some of them are facing towards south and some of them facing north. Not less than four person facing north direction.

Both the immediate neighbour of A facing opposite direction as A who is not facing south. S is second to the left of T. T is an immediate neighbour of P. There are three persons sitting between A and C. Q and C are not immediate neighbours of each other. B is sitting fourth to the left of N. S is an immediate neighbour of A. The person sitting extreme ends facing the opposite direction. C is sitting one of the extreme ends of the line and facing the same direction as N. B does not sit any of the extreme ends of the line. Only one person is sitting between D and E, both of them facing the same direction but both of them is not an immediate neighbour of B. B and P facing the same direction as C.

**निम्नलिखित जानकारी का ध्यानपूर्वक अध्ययन करें और नीचे दिये गये प्रश्न का उत्तर दीजिए:**

दस व्यक्ति A, B, C, D, E, N, P, Q, S और T एक सीधी रेखा में बैठे हैं। इनमें से कुछ दक्षिण की ओर और कुछ उत्तर की ओर देख रहे हैं। उत्तर दिशा की ओर देखने वाले व्यक्ति चार से कम नहीं हैं।  
A, जो दक्षिण की ओर नहीं देख रहा है, के दोनों तुरंत पड़ोसी A से विपरीत दिशा में देख रहे हैं। S, T के बाएं दूसरा है। T, P का तुरंत पड़ोसी है। A और C के बीच में तीन व्यक्ति बैठे हैं। Q और C एक-दूसरे के तुरंत पड़ोसी नहीं हैं। B, N के बाएं चौथा बैठा है। S, A का तुरंत पड़ोसी है। वह व्यक्ति जो पंक्ति के अंतिम छोरों पर बैठे है, विपरीत दिशाओं में देख रहे हैं। C पंक्ति के किसी एक अंतिम छोर पर बैठा है और N के समान दिशा में देख रहा है। B पंक्ति के किसी भी अंतिम छोर पर नहीं बैठा है। D और E के बीच में केवल एक व्यक्ति बैठा है, दोनों एक ही दिशा में देख रहे हैं, लेकिन दोनों B के तुरंत पड़ोसी नहीं हैं। B और P उसी दिशा में देख रहे हैं जिस दिशा में C देख रहा है।

**Q-19** What is the position of N with respect to T?  
**eng/eng** T के सन्दर्भ में, N की स्थिति क्या है?

01. Fifth to the left of T. / T के बाएं पांचवाँ
02. Fourth to the left of T. / T के बाएं चौथा
03. Immediate neighbour of T / T का तुरंत पड़ोसी
04. Third to the left of T. / T के बाएं तीसरा
05. Third to the right of T / T के दाएं तीसरा

**Q-19** What is the position of N with respect to T?  
**eng hin** T के सन्दर्भ में, N की स्थिति क्या है?

01. Fifth to the left of T. / T के बाएं पांचवाँ
02. Fourth to the left of T. / T के बाएं चौथा
03. Immediate neighbour of T / T का तुरंत पड़ोसी
04. Third to the left of T. / T के बाएं तीसरा
05. Third to the right of T / T के दाएं तीसरा

**Solution for Question 19** Ans Key: 1

<b>eng/eng</b>	Q	↑ P	T	↑ B	S	↑ A	D/E	↑ N	D/E	↑ C
	↓		↓		↓		↓		↓	

<b>eng hin</b>	Q	↑ P	T	↑ B	S	↑ A	D/E	↑ N	D/E	↑ C
	↓		↓		↓		↓		↓	

**Q-20** Who are the immediate neighbours of D?  
**eng/eng** D के तुरंत पड़ोसी कौन है?

01. A, N
02. N, C
03. C, P
04. T, S
05. Cannot be determined/निर्धारित नहीं किया जा सकता

**Q-20** Who are the immediate neighbours of D?  
**eng hin** D के तुरंत पड़ोसी कौन है?

01. A, N
02. N, C
03. C, P
04. T, S
05. Cannot be determined/निर्धारित नहीं किया जा सकता

**Solution for Question 20** Ans Key: 5

<b>eng/eng</b>	Q	↑ P	T	↑ B	S	↑ A	D/E	↑ N	D/E	↑ C
	↓		↓		↓		↓		↓	

<b>eng hin</b>	Q	↑ P	T	↑ B	S	↑ A	D/E	↑ N	D/E	↑ C
	↓		↓		↓		↓		↓	

**Q-21** If B and A exchange their positions, then what is the position of P with respect to A?  
**eng/eng** यदि B और A, आपस में अपने स्थान बदल ले तो A के संबंध में P की क्या स्थिति है?

01. Third to the left/बाएं तीसरा
02. Second to the right/दाएं दूसरा
03. Immediate neighbour/तुरंत पड़ोसी
04. Second to the left/बाएं दूसरा

05. Third to the right/दाएं तीसरा

**Q-21** If B and A exchange their positions, then what is the position of P with respect to A?  
eng hin यदि B और A, आपस में अपने स्थान बदल ले तो A के संबंध में P की क्या स्थिति है?

01. Third to the left/बाएं तीसरा

02. Second to the right/दाएं दूसरा

03. Immediate neighbour/तुरंत पड़ोसी

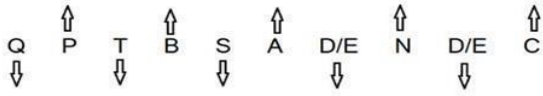
04. Second to the left/बाएं दूसरा

05. Third to the right/दाएं तीसरा


### Solution for Question 21

Ans Key: 4

eng/eng



eng hin



**Q-22** On the basis of sitting arrangement four of the following five belong to the same group. Which is the one that does not belong to that group?  
eng hin बैठने की व्यवस्था के आधार पर, निम्नलिखित पाँच में से चार, एक ही समूह से संबंधित हैं। वह कौन सा एक है जो इस समूह से संबंधित नहीं है?

01. PT

02. SB

03. NQ

04. TC

05. PA

**Q-22** On the basis of sitting arrangement four of the following five belong to the same group. Which is the one that does not belong to that group?  
eng hin बैठने की व्यवस्था के आधार पर, निम्नलिखित पाँच में से चार, एक ही समूह से संबंधित हैं। वह कौन सा एक है जो इस समूह से संबंधित नहीं है?

01. PT

02. SB

03. NQ

04. TC

05. PA


### Solution for Question 22

Ans Key: 5

eng/eng



eng hin



**Q-23** Who are the immediate neighbours of A?  
eng hin A के तुरंत पड़ोसी कौन हैं?

01. S and D / S और D

02. T and Q / T और Q

03. S and E / S और E

04. S and Either D or E / S और या तो D या E

05. Either D or E / या तो D या E

**Q-23** Who are the immediate neighbours of A?  
eng hin A के तुरंत पड़ोसी कौन हैं?

01. S and D / S और D

02. T and Q / T और Q

03. S and E / S और E


04. S and Either D or E / S और या तो D या E

05. Either D or E / या तो D या E


### Solution for Question 23

Ans Key: 4

eng/eng



eng hin



In the question given below three statements are followed by two conclusions numbered I and II. You have to take the given statements to be true (even if they seem to be at variance from the commonly known facts). Read the conclusions and decide which logically follows. Give answer -

**Statements:**

All android are ios.  
Only few android are windows.  
All windows is XP.

**Conclusions:**

- I. Some windows are not ios.  
II. Some ios are not XP.

नीचे दिए प्रश्न में तीन कथन व दो निष्कर्ष I और II दिए गए हैं। आपको दिए गए कथनों को सही मानते हुए (चाहे वे सामान्यतया सही तथ्यों से भिन्न क्यों न हों) निष्कर्षों को पढ़कर यह तय करना है कि कौन से निष्कर्ष तार्किक रूप से अनुसरण करते हैं। उत्तर दीजिये-

**कथन :**

सभी ऐन्ड्रॉइड, आई.ओ.एस. हैं।  
केवल कुछ ऐन्ड्रॉइड, विन्डोज हैं।  
सभी विन्डोज, एक्स.पी. है।

**निष्कर्ष :**

- I. कुछ विन्डोज, आई.ओ.एस. नहीं हैं।  
II. कुछ आई.ओ.एस., एक्स.पी. नहीं हैं।

01. If either conclusion I or II follows./यदि या तो निष्कर्ष I या II अनुसरण करता है।  
02. If neither conclusion I nor II follows./यदि न तो निष्कर्ष I न ही II अनुसरण करता है।  
03. If both conclusions I and II follow./यदि निष्कर्ष I और II दोनों अनुसरण करते हैं।  
04. If conclusion I follows./यदि निष्कर्ष I अनुसरण करता है।  
05. If conclusion II follows./यदि निष्कर्ष II अनुसरण करता है।

In the question given below three statements are followed by two conclusions numbered I and II. You have to take the given statements to be true (even if they seem to be at variance from the commonly known facts). Read the conclusions and decide which logically follows. Give answer -

**Statements:**

All android are ios.  
Only few android are windows.  
All windows is XP.

**Conclusions:**

- I. Some windows are not ios.  
II. Some ios are not XP.

नीचे दिए प्रश्न में तीन कथन व दो निष्कर्ष I और II दिए गए हैं। आपको दिए गए कथनों को सही मानते हुए (चाहे वे सामान्यतया सही तथ्यों से भिन्न क्यों न हों) निष्कर्षों को पढ़कर यह तय करना है कि कौन से निष्कर्ष तार्किक रूप से अनुसरण करते हैं। उत्तर दीजिये-

**कथन :**

सभी ऐन्ड्रॉइड, आई.ओ.एस. हैं।  
केवल कुछ ऐन्ड्रॉइड, विन्डोज हैं।  
सभी विन्डोज, एक्स.पी. है।

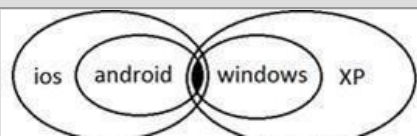
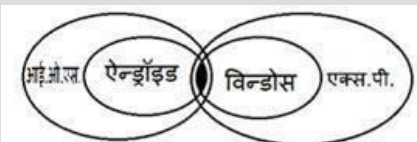
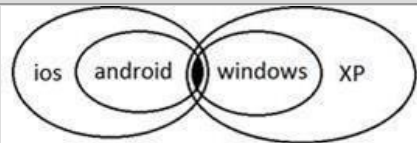
**निष्कर्ष :**

- I. कुछ विन्डोज, आई.ओ.एस. नहीं हैं।  
II. कुछ आई.ओ.एस., एक्स.पी. नहीं हैं।

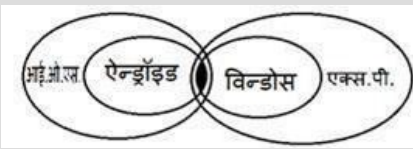
01. If either conclusion I or II follows./यदि या तो निष्कर्ष I या II अनुसरण करता है।  
02. If neither conclusion I nor II follows./यदि न तो निष्कर्ष I न ही II अनुसरण करता है।  
03. If both conclusions I and II follow./यदि निष्कर्ष I और II दोनों अनुसरण करते हैं।  
04. If conclusion I follows./यदि निष्कर्ष I अनुसरण करता है।  
05. If conclusion II follows./यदि निष्कर्ष II अनुसरण करता है।

**Solution for Question 24**

Ans Key: 2







**Q-25**  
eng/eng

In the question given below three statements are followed by two conclusions numbered I and II. You have to take the given statements to be true (even if they seem to be at variance from the commonly known facts). Read the conclusions and decide which logically follows. Give answer -

**Statements:**

- Few google are twitter.
- Only twitter are facebook.
- Only a few facebook are linkdlin.

**Conclusions:**

- I. Some facebook are google.
- II. Some twitter are not linkdlin.

नीचे दिए प्रश्न में तीन कथन व दो निष्कर्ष I और II दिए गए हैं। आपको दिए गए कथनों को सही मानते हुए (चाहे वे सामान्यतया सही तथ्यों से भिन्न क्यों न हों) निष्कर्षों को पढ़कर यह तय करना है कि कौन से निष्कर्ष तार्किक रूप से अनुसरण करते हैं। उत्तर दीजिये-

**कथन :**

- कुछ गूगल, ट्विटर हैं।
- केवल ट्विटर, फेसबुक हैं।
- केवल कुछ फेसबुक, लिंकडलिन हैं।

**निष्कर्ष :**

- I. कुछ फेसबुक, गूगल हैं।
- II. कुछ ट्विटर, लिंकडलिन नहीं हैं।

01. If conclusion I follows./यदि निष्कर्ष I अनुसरण करता है।
02. If neither conclusion I nor II follows./यदि न तो निष्कर्ष I न ही II अनुसरण करता है।
03. If either conclusion I or II follows./यदि या तो निष्कर्ष I या II अनुसरण करता है।
04. If conclusion II follows./यदि निष्कर्ष II अनुसरण करता है।
05. If both conclusions I and II follow./यदि निष्कर्ष I और II दोनों अनुसरण करते हैं।

**Q-25**  
eng/hin

In the question given below three statements are followed by two conclusions numbered I and II. You have to take the given statements to be true (even if they seem to be at variance from the commonly known facts). Read the conclusions and decide which logically follows. Give answer -

**Statements:**

- Few google are twitter.
- Only twitter are facebook.
- Only a few facebook are linkdlin.

**Conclusions:**

- I. Some facebook are google.
- II. Some twitter are not linkdlin.

नीचे दिए प्रश्न में तीन कथन व दो निष्कर्ष I और II दिए गए हैं। आपको दिए गए कथनों को सही मानते हुए (चाहे वे सामान्यतया सही तथ्यों से भिन्न क्यों न हों) निष्कर्षों को पढ़कर यह तय करना है कि कौन से निष्कर्ष तार्किक रूप से अनुसरण करते हैं। उत्तर दीजिये-

**कथन :**

- कुछ गूगल, ट्विटर हैं।
- केवल ट्विटर, फेसबुक हैं।
- केवल कुछ फेसबुक, लिंकडलिन हैं।

**निष्कर्ष :**


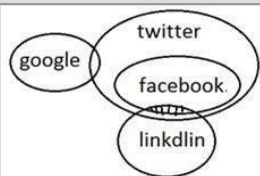
- I. कुछ फेसबुक, गूगल हैं।
- II. कुछ ट्विटर, लिंकडलिन नहीं हैं।

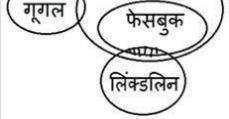
01. If conclusion I follows./यदि निष्कर्ष I अनुसरण करता है।
02. If neither conclusion I nor II follows./यदि न तो निष्कर्ष I न ही II अनुसरण करता है।
03. If either conclusion I or II follows./यदि या तो निष्कर्ष I या II अनुसरण करता है।
04. If conclusion II follows./यदि निष्कर्ष II अनुसरण करता है।
05. If both conclusions I and II follow./यदि निष्कर्ष I और II दोनों अनुसरण करते हैं।

**Solution for Question 25**

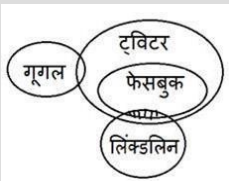
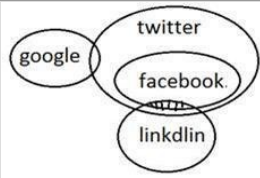
Ans Key: 4

eng/eng





eng hin



Q-26

eng/eng

In the question given below three statements are followed by two conclusions numbered I and II. You have to take the given statements to be true (even if they seem to be at variance from the commonly known facts). Read the conclusions and decide which logically follows. Give answer -

**Statements:**

Always android are ios.

Some android are windows.

None windows is XP.

**Conclusions:**

I. All ios are XP.

II. Some ios are not XP.

नीचे दिए प्रश्न में तीन कथन व दो निष्कर्ष I और II दिए गए हैं। आपको दिए गए कथनों को सही मानते हुए (चाहे वे सामान्यतया सही तथ्यों से भिन्न क्यों न हों) निष्कर्षों को पढ़कर यह तय करना है कि कौन से निष्कर्ष तार्किक रूप से अनुसरण करते हैं। उत्तर दीजिये-

**कथन :**

हमेशा ऐन्ड्रॉइड, आई.ओ.एस. हैं।

कुछ ऐन्ड्रॉइड, विन्डोस हैं।

कोई विन्डोस, एक्स.पी. नहीं है।

**निष्कर्ष :**

I. सभी आई.ओ.एस., एक्स.पी. हैं।

II. कुछ आई.ओ.एस., एक्स.पी. नहीं हैं।

01. If both conclusions I and II follow./यदि निष्कर्ष I और II दोनों अनुसरण करते हैं।

02. If conclusion II follows./यदि निष्कर्ष II अनुसरण करता है।

03. If either conclusion I or II follows./यदि या तो निष्कर्ष I या II अनुसरण करता है।

04. If neither conclusion I nor II follows./यदि न तो निष्कर्ष I न ही II अनुसरण करता है।

05. If conclusion I follows./यदि निष्कर्ष I अनुसरण करता है।

Q-26

eng hin

In the question given below three statements are followed by two conclusions numbered I and II. You have to take the given statements to be true (even if they seem to be at variance from the commonly known facts). Read the conclusions and decide which logically follows. Give answer -

**Statements:**

Always android are ios.

Some android are windows.

None windows is XP.

**Conclusions:**

I. All ios are XP.

II. Some ios are not XP.

नीचे दिए प्रश्न में तीन कथन व दो निष्कर्ष I और II दिए गए हैं। आपको दिए गए कथनों को सही मानते हुए (चाहे वे सामान्यतया सही तथ्यों से भिन्न क्यों न हों) निष्कर्षों को पढ़कर यह तय करना है कि कौन से निष्कर्ष तार्किक रूप से अनुसरण करते हैं। उत्तर दीजिये-

**कथन :**

हमेशा ऐन्ड्रॉइड, आई.ओ.एस. हैं।

कुछ ऐन्ड्रॉइड, विन्डोस हैं।

कोई विन्डोस, एक्स.पी. नहीं है।

**निष्कर्ष :**

I. सभी आई.ओ.एस., एक्स.पी. हैं।

II. कुछ आई.ओ.एस., एक्स.पी. नहीं हैं।

01. If both conclusions I and II follow./यदि निष्कर्ष I और II दोनों अनुसरण करते हैं।

02. If conclusion II follows./यदि निष्कर्ष II अनुसरण करता है।

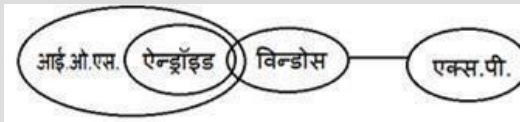
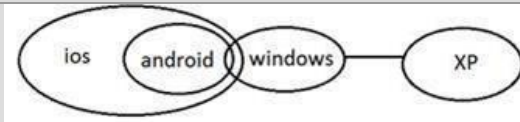
03. If either conclusion I or II follows./यदि या तो निष्कर्ष I या II अनुसरण करता है।

04. If neither conclusion I nor II follows./यदि न तो निष्कर्ष I न ही II अनुसरण करता है।

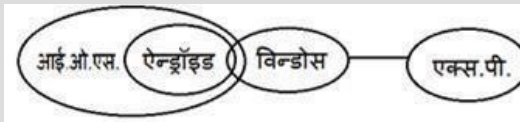
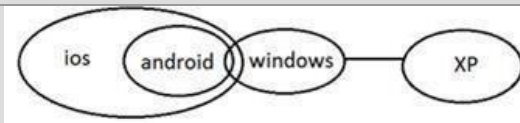
05. If conclusion I follows./यदि निष्कर्ष I अनुसरण करता है।

## Solution for Question 26

eng/eng



eng hin



**Q-27** Study the following information carefully and answer the following question given below.

eng/eng

Statement-

“The Trump administration has proposed steep cuts to the corporate tax rate (from 35% to just 15%), a significant reduction.”

- I. Donald Trump's Tax plans, promises some bold reforms to rejuvenate America's sluggish economy.
- II. Mr. Trump hopes to push them to repatriate some of this cash stock after paying a minimal one-time tax.
- III. The inflow of capital will incentivize U.S. corporations to increase investments, or simply distribute the cash to shareholders through buybacks.

Which of the following can be postulated from the above statement?

निम्नलिखित जानकारी का ध्यानपूर्वक अध्ययन करें और नीचे दिए गए निम्नलिखित प्रश्न का उत्तर दें।

कथन –

"ट्रम्प प्रशासन ने कॉर्पोरेट टैक्स दर में भारी कटौती (35% से केवल 15%) प्रस्तावित की है, जो एक भारी कमी है।"

- I. डोनाल्ड ट्रम्प की कर योजनाएं, अमेरिका की सुस्त अर्थव्यवस्था को फिर से जीवंत करने के लिए कुछ साहसिक सुधारों का वादा करती हैं।
- II. मि. ट्रम्प उन्हें कम से कम एक बार टैक्स देने के बाद इन नकद स्टॉक में से कुछ को वापस लाने के लिए आगे बढ़ाने की उम्मीद करते हैं।
- III. ट्रम्प को उम्मीद है, कि कम से कम एक बार टैक्स का भुगतान करने के बाद ये कुछ नकदी स्टॉक लौटाएंगे।
- III. पूंजी का प्रवाह, निवेशों को बढ़ाने के लिए यू.एस. निगमों को प्रोत्साहित करेगा, या शेयरधारकों को पुनर्खरीद के जरिए सामान्यतः नकदी वितरित करेगा।

निम्न में से कौन सा कथन उपर्युक्त कथन से प्राप्त किया जा सकता है?

01. All of the above / उपरोक्त सभी
02. Only II and III / केवल II और III
03. Only I and II / केवल I और II
04. Only II / केवल II
05. Only I / केवल I

**Q-27** Study the following information carefully and answer the following question given below.

eng hin

Statement-

“The Trump administration has proposed steep cuts to the corporate tax rate (from 35% to just 15%), a significant reduction.”

- I. Donald Trump's Tax plans, promises some bold reforms to rejuvenate America's sluggish economy.
- II. Mr. Trump hopes to push them to repatriate some of this cash stock after paying a minimal one-time tax.
- III. The inflow of capital will incentivize U.S. corporations to increase investments, or simply distribute the cash to shareholders through buybacks.

Which of the following can be postulated from the above statement?

निम्नलिखित जानकारी का ध्यानपूर्वक अध्ययन करें और नीचे दिए गए निम्नलिखित प्रश्न का उत्तर दें।

कथन –

"ट्रम्प प्रशासन ने कॉर्पोरेट टैक्स दर में भारी कटौती (35% से केवल 15%) प्रस्तावित की है, जो एक भारी कमी है।"

- I. डोनाल्ड ट्रम्प की कर योजनाएं, अमेरिका की सुस्त अर्थव्यवस्था को फिर से जीवंत करने के लिए कुछ साहसिक सुधारों का वादा करती हैं।
- II. मि. ट्रम्प उन्हें कम से कम एक बार टैक्स देने के बाद इन नकद स्टॉक में से कुछ को वापस लाने के लिए आगे बढ़ाने की उम्मीद करते हैं।
- III. ट्रम्प को उम्मीद है, कि कम से कम एक बार टैक्स का भुगतान करने के बाद ये कुछ नकदी स्टॉक लौटाएंगे।
- III. पूंजी का प्रवाह, निवेशों को बढ़ाने के लिए यू.एस. निगमों को प्रोत्साहित करेगा, या शेयरधारकों को पुनर्खरीद के जरिए सामान्यतः नकदी वितरित करेगा।

निम्न में से कौन सा कथन उपर्युक्त कथन से प्राप्त किया जा सकता है?

01. All of the above / उपरोक्त सभी
02. Only II and III / केवल II और III
03. Only I and II / केवल I और II
04. Only II / केवल II
05. Only I / केवल I

**Q-28** Study the following information carefully and answer the following question given below.

**Statement:**

Prime Minister Narendra Modi launched three mega flagship schemes aimed at transforming Urban India, including the much talked about Smart Cities proposal, with a whopping Rs. 4 lakh crore kitty having been lined up for the projects. He also unveiled logo of the housing mission, which has his personal touch in the finalization of its design. Speaking at the event, Modi said, “the decision to make cities smart will be taken not by governments but by the people of the city, the local administration. Let there be competition between cities in development so that smart cities come up.”

Which of the following will be an effect of the initiative taken by the government?

**निम्नलिखित जानकारी का ध्यानपूर्वक अध्ययन करें और नीचे दिए गए निम्नलिखित प्रश्न का उत्तर दें।**

**कथन :**

शहरी भारत को बदलने के उद्देश्य से प्रधानमंत्री नरेंद्र मोदी ने बहु-चर्चित स्मार्ट सिटी के प्रस्तावों सहित तीन मेगा फ्लैगशिप योजनाएं शुरू की हैं जिनके लिए 4 लाख करोड़ रुपये के बृहत् कोष को आवंटित किया गया है। उन्होंने हाउसिंग मिशन का लोगो भी लांच किया है जिसके अंतिम रूप में उनका व्यक्तिगत योगदान भी है। इस घटना के दौरान मोदी ने कहा ‘शहरों को स्मार्ट बनाने का निर्णय सरकार द्वारा नहीं लिया जायेगा बल्कि शहर के लोगों और स्थानीय प्रशासन द्वारा लिया जायेगा। शहरों के बीच विकास को लेकर प्रतिस्पर्धा होनी चाहिए ताकि शहर स्मार्ट बन सके।

निम्नलिखित में से कौन सा सरकार द्वारा की गई पहल का प्रभाव हो सकता है?

01. Ensuring water supply to each household, sewer connections, sanitation and solid waste management in rural and urban governance would be the focus under the scheme. / ग्रामीण और शहरी प्रशासन में सभी घरों को जलापूर्ति सुनिश्चित करना, सीवर कनेक्शन, स्वच्छता और ठोस अपशिष्ट प्रबंधन इस योजना का केंद्र बिंदु होगा।
02. Quality of life will improve in rural and urban areas. / ग्रामीण और शहरी क्षेत्रों में जीवन की गुणवत्ता में सुधार होगा।
03. Provision of roads and public transportation beside implementation of reforms in urban governance would be the focus under the scheme. / शहरी प्रशासन में सुधारों के कार्यान्वयन के अलावा सड़कों और सार्वजनिक परिवहन की व्यवस्था इस योजना का केंद्र बिंदु होगा।
04. Millions of jobs will be created and scarcity of houses will be removed in urban and rural areas. / दस लाख नौकरियों का निर्माण होगा और शहरी तथा ग्रामीण क्षेत्रों में घरों की कमी समाप्त हो जाएगी।
05. All of the above. / उपरोक्त सभी

**Study the following information carefully and answer the following question given below.**

**Statement:**

Prime Minister Narendra Modi launched three mega flagship schemes aimed at transforming Urban India, including the much talked about Smart Cities proposal, with a whopping Rs. 4 lakh crore kitty having been lined up for the projects. He also unveiled logo of the housing mission, which has his personal touch in the finalization of its design. Speaking at the event, Modi said, “the decision to make cities smart will be taken not by governments but by the people of the city, the local administration. Let there be competition between cities in development so that smart cities come up.”

Which of the following will be an effect of the initiative taken by the government?

**निम्नलिखित जानकारी का ध्यानपूर्वक अध्ययन करें और नीचे दिए गए निम्नलिखित प्रश्न का उत्तर दें।**

**कथन :**

शहरी भारत को बदलने के उद्देश्य से प्रधानमंत्री नरेंद्र मोदी ने बहु-चर्चित स्मार्ट सिटी के प्रस्तावों सहित तीन मेगा फ्लैगशिप योजनाएं शुरू की हैं जिनके लिए 4 लाख करोड़ रुपये के बृहत् कोष को आवंटित किया गया है। उन्होंने हाउसिंग मिशन का लोगो भी लांच किया है जिसके अंतिम रूप में उनका व्यक्तिगत योगदान भी है। इस घटना के दौरान मोदी ने कहा ‘शहरों को स्मार्ट बनाने का निर्णय सरकार द्वारा नहीं लिया जायेगा बल्कि शहर के लोगों और स्थानीय प्रशासन द्वारा लिया जायेगा। शहरों के बीच विकास को लेकर प्रतिस्पर्धा होनी चाहिए ताकि शहर स्मार्ट बन सके।

निम्नलिखित में से कौन सा सरकार द्वारा की गई पहल का प्रभाव हो सकता है?

01. Ensuring water supply to each household, sewer connections, sanitation and solid waste management in rural and urban governance would be the focus under the scheme. / ग्रामीण और शहरी प्रशासन में सभी घरों को जलापूर्ति सुनिश्चित करना, सीवर कनेक्शन, स्वच्छता और ठोस अपशिष्ट प्रबंधन इस योजना का केंद्र बिंदु होगा।
02. Quality of life will improve in rural and urban areas. / ग्रामीण और शहरी क्षेत्रों में जीवन की गुणवत्ता में सुधार होगा।
03. Provision of roads and public transportation beside implementation of reforms in urban governance would be the focus under the scheme. / शहरी प्रशासन में सुधारों के कार्यान्वयन के अलावा सड़कों और सार्वजनिक परिवहन की व्यवस्था इस योजना का केंद्र बिंदु होगा।
04. Millions of jobs will be created and scarcity of houses will be removed in urban and rural areas. / दस लाख नौकरियों का निर्माण होगा और शहरी तथा ग्रामीण क्षेत्रों में घरों की कमी समाप्त हो जाएगी।
05. All of the above. / उपरोक्त सभी

**Q-28**  
eng hin

eng/eng	Note that we are talking about Smart Cities Mission. Thus anything related to rural areas is beyond the scope. Whereas, in option (3), we focus only on urban development. Hence, option (3) will be an effect of the statement. ध्यान दें कि हम स्मार्ट सिटीज मिशन के बारे में बात कर रहे हैं। इस प्रकार ग्रामीण क्षेत्रों से संबंधित कुछ भी कार्यक्षेत्र से परे है। जबकि, विकल्प (3) में, हम केवल शहरी विकास पर ध्यान केंद्रित करते हैं। इसलिए, विकल्प (3) कथन का एक प्रभाव होगा।
eng hin	Note that we are talking about Smart Cities Mission. Thus anything related to rural areas is beyond the scope. Whereas, in option (3), we focus only on urban development. Hence, option (3) will be an effect of the statement. ध्यान दें कि हम स्मार्ट सिटीज मिशन के बारे में बात कर रहे हैं। इस प्रकार ग्रामीण क्षेत्रों से संबंधित कुछ भी कार्यक्षेत्र से परे है। जबकि, विकल्प (3) में, हम केवल शहरी विकास पर ध्यान केंद्रित करते हैं। इसलिए, विकल्प (3) कथन का एक प्रभाव होगा।

**Passage for Question 29, 30, 32, 33, 34** (ST-2074 RRB CLERK MAINS R (1-5) 2020)

eng/eng Passage

**Study the following information carefully and answer the following question given below.**

During festival eight persons A, B, C, D, E, F, G and H are going to shopping and each one purchase vehicle (car or bike). All they are sitting in a circular table some of them are facing to the centre while some of them are facing outside of the centre. Two persons who are facing outside from the centre are not immediate neighbours of each other. C facing inside the centre and immediate neighbour of G but not sits opposite to the one who purchases MARUTI. F and C are not immediate neighbours of each other. The one who purchases MARUTI sits 3rd to the right of G. A and D sits 2nd to the right of each other. D and G are immediate neighbours. D sits 2nd to the right of the one who purchases TVS STAR and also sits 3rd to the left of F. Both E and H are immediate neighbours and E sits 2nd to the left of C. H sits opposite to the one who purchases HONDA. Both B and E are facing in the same direction. A faces outside from the table. The one who purchases SCOOTY sits 3rd to the left of H. Three persons sit between the one who purchases AUDI and the one who purchase DISCOVER. A does not adjacent to the one who purchases DISCOVER. Persons who purchase SWIFT and FORD are immediate neighbours. C does not purchase SWIFT.

**निम्नलिखित जानकारी का ध्यानपूर्वक अध्ययन करें और नीचे दिए गए निम्नलिखित प्रश्न का उत्तर दें।**

त्यौहार के दौरान आठ व्यक्ति A, B, C, D, E, F, G और H खरीदारी करने जाते हैं एवं प्रत्येक व्यक्ति एक वाहन (कार या बाइक) खरीदता है। वे सभी एक वृत्ताकार मेज के आस पास बैठे हैं, उनमें से कुछ व्यक्ति केंद्र की ओर उन्मुख हैं जबकि कुछ केंद्र से बाहर की ओर उन्मुख हैं। केंद्र से बाहर की ओर उन्मुख होकर बैठे दो व्यक्ति एक दूसरे के निकटतम पड़ोसी नहीं हैं।

C केंद्र की ओर उन्मुख है और G का निकटतम पड़ोसी है, लेकिन मारुती खरीदने वाले व्यक्ति के विपरीत नहीं बैठा है। F और C एक-दूसरे के निकटतम पड़ोसी नहीं हैं। जिस एक व्यक्ति ने मारुती खरीदा है, वह G के दायीं ओर तीसरे स्थान पर बैठा है। A और D एक-दूसरे के दायें ओर से दूसरे स्थान पर बैठे हैं। D और G निकटतम पड़ोसी हैं। D, टीवीस स्टार खरीदने वाले व्यक्ति के दायें दूसरे स्थान पर बैठा है और F के बाएं तीसरे स्थान पर भी बैठा है। दोनों E और H निकटम पड़ोसी हैं एवं E, C के बाएं दूसरे स्थान पर बैठा है। H, होंडा खरीदने वाले व्यक्ति के विपरीत बैठा है। B और E दोनों समान दिशा की ओर उन्मुख हैं। A मेज के बाहर की ओर उन्मुख है। स्कूटी खरीदने वाला व्यक्ति H के बाएं तीसरे स्थान पर बैठा है। ऑडी और डिस्कोवर खरीदने वाले व्यक्तियों के मध्य तीन व्यक्ति बैठते हैं। A डिस्कोवर खरीदने वाले व्यक्ति के आसन्न नहीं बैठा है। स्विफ्ट और फोर्ड खरीदने वाले व्यक्ति निकटतम पड़ोसी हैं। C स्विफ्ट नहीं खरीदता है।

eng hin Passage

**Study the following information carefully and answer the following question given below.**

During festival eight persons A, B, C, D, E, F, G and H are going to shopping and each one purchase vehicle (car or bike). All they are sitting in a circular table some of them are facing to the centre while some of them are facing outside of the centre. Two persons who are facing outside from the centre are not immediate neighbours of each other. C facing inside the centre and immediate neighbour of G but not sits opposite to the one who purchases MARUTI. F and C are not immediate neighbours of each other. The one who purchases MARUTI sits 3rd to the right of G. A and D sits 2nd to the right of each other. D and G are immediate neighbours. D sits 2nd to the right of the one who purchases TVS STAR and also sits 3rd to the left of F. Both E and H are immediate neighbours and E sits 2nd to the left of C. H sits opposite to the one who purchases HONDA. Both B and E are facing in the same direction. A faces outside from the table. The one who purchases SCOOTY sits 3rd to the left of H. Three persons sit between the one who purchases AUDI and the one who purchase DISCOVER. A does not adjacent to the one who purchases DISCOVER. Persons who purchase SWIFT and FORD are immediate neighbours. C does not purchase SWIFT.

**निम्नलिखित जानकारी का ध्यानपूर्वक अध्ययन करें और नीचे दिए गए निम्नलिखित प्रश्न का उत्तर दें।**

त्यौहार के दौरान आठ व्यक्ति A, B, C, D, E, F, G और H खरीदारी करने जाते हैं एवं प्रत्येक व्यक्ति एक वाहन (कार या बाइक) खरीदता है। वे सभी एक वृत्ताकार मेज के आस पास बैठे हैं, उनमें से कुछ व्यक्ति केंद्र की ओर उन्मुख हैं जबकि कुछ केंद्र से बाहर की ओर उन्मुख हैं। केंद्र से बाहर की ओर उन्मुख होकर बैठे दो व्यक्ति एक दूसरे के निकटतम पड़ोसी नहीं हैं।

C केंद्र की ओर उन्मुख है और G का निकटतम पड़ोसी है, लेकिन मारुती खरीदने वाले व्यक्ति के विपरीत नहीं बैठा है। F और C एक-दूसरे के निकटतम पड़ोसी नहीं हैं। जिस एक व्यक्ति ने मारुती खरीदा है, वह G के दायीं ओर तीसरे स्थान पर बैठा है। A और D एक-दूसरे के दायें ओर से दूसरे स्थान पर बैठे हैं। D और G निकटतम पड़ोसी हैं। D, टीवीस स्टार खरीदने वाले व्यक्ति के दायें दूसरे स्थान पर बैठा है और F के बाएं तीसरे स्थान पर भी बैठा है। दोनों E और H निकटम पड़ोसी हैं एवं E, C के बाएं दूसरे स्थान पर बैठा है। H, होंडा खरीदने वाले व्यक्ति के विपरीत बैठा है। B और E दोनों समान दिशा की ओर उन्मुख हैं। A मेज के बाहर की ओर उन्मुख है। स्कूटी खरीदने वाला व्यक्ति H के बाएं तीसरे स्थान पर बैठा है। ऑडी और डिस्कोवर खरीदने वाले व्यक्तियों के मध्य तीन व्यक्ति बैठते हैं। A डिस्कोवर खरीदने वाले व्यक्ति के आसन्न नहीं बैठा है। स्विफ्ट और फोर्ड खरीदने वाले व्यक्ति निकटतम पड़ोसी हैं। C स्विफ्ट नहीं खरीदता है।

**Q-29** Four of the following five are alike in a certain way and hence they form a group. Which one of the following does not belong to that group?

eng/eng निम्नलिखित पांच में से चार एक निश्चित तरीके से समान हैं और इसलिए वे एक समूह बनाते हैं। निम्नलिखित में से कौन सा एक उस समूह से संबंधित नहीं है?

01. F

02. B

03. A

04. D

05. E

**Q-29** Four of the following five are alike in a certain way and hence they form a group. Which one of the following does not belong to that group?

eng hin निम्नलिखित पांच में से चार एक निश्चित तरीके से समान हैं और इसलिए वे एक समूह बनाते हैं। निम्नलिखित में से कौन सा एक उस समूह से संबंधित नहीं है?



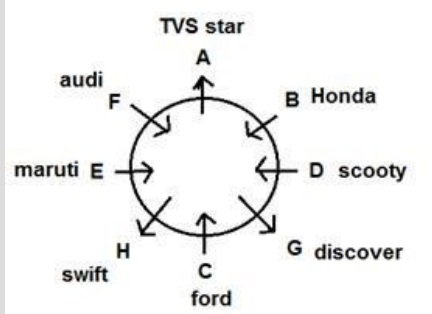
01. F
03. A
05. E

02. B
04. D

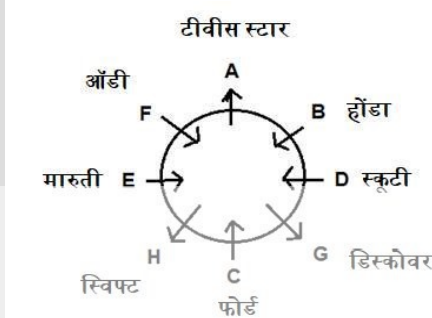
Ans Key: 3

3

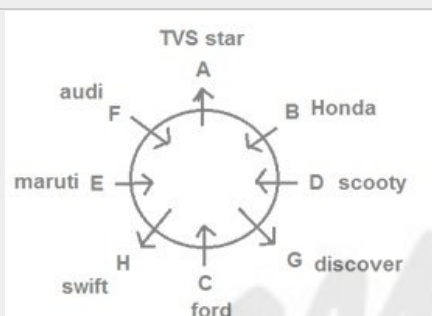
eng/eng



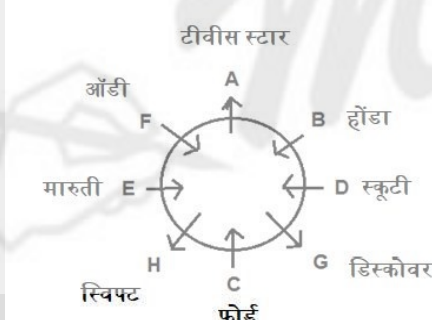
eng/hin



eng/eng



eng/hin



Q-30

eng/eng

Which of the following information is not true with regarding to G?

G के सन्दर्भ में निम्नलिखित में से कौन सी जानकारी सही नहीं है?

01. G purchases bike/ G बाइक खरीदता है
02. G sits between D and C / G, D और C के मध्य बैठता है
03. G sits opposite to F / G, F के विपरीत बैठता है
04. All are true / सभी सत्य हैं
05. None is true / कोई सत्य नहीं है

Q-30

eng/hin

Which of the following information is not true with regarding to G?

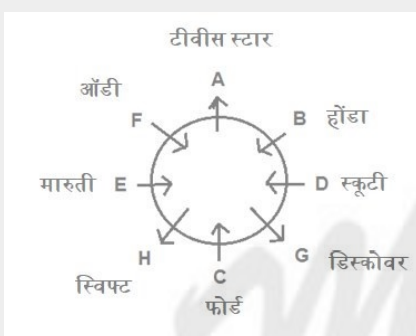
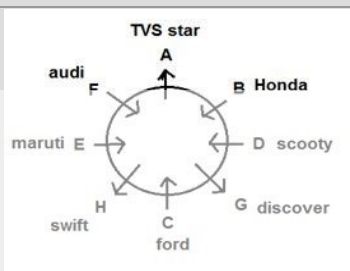
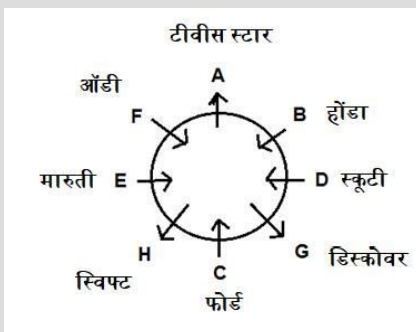
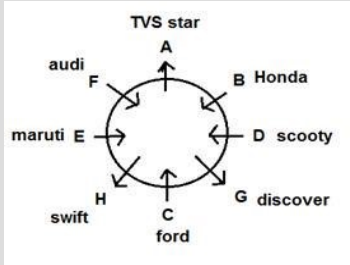
G के सन्दर्भ में निम्नलिखित में से कौन सी जानकारी सही नहीं है?

01. G purchase bike/ G बाइक खरीदता है
02. G sits between D and C / G, D और C के मध्य बैठता है
03. G sits opposite to F / G, F के विपरीत बैठता है
04. All are true / सभी सत्य हैं
05. None is true / कोई सत्य नहीं है

Solution for Question 30

Ans Key: 4

4



### Passage for Question 31 (ST-2074 RRB CLERK MAINS R (6-10) 2020)

eng/eng Passage

Study the following information carefully and answer the following question given below.

A certain number of people are sitting in a row facing south. Among them, there are seven friends and each of them likes a different colour. Only four persons sit to the right of the one who likes black colour. Only six persons sit between C and N, who likes White. Only five persons sit between N and U. One who likes Red sits 3rd to the right of U. Only six persons sit between A and H. More than four persons sit between C and the one who likes red. The one who likes Yellow is sitting at 5th position from one of the ends but is not a neighbour of U. Only two persons sit between T and the one who likes blue. The one who likes white sits immediate left of T. A likes Green and sits 3rd from the left end. Only two persons sit between H and the one who likes Pink. V sits 2nd from the right end. Only nine persons sit to the left of one who likes blue. Only four persons sit between the one who likes pink and the one who likes black. Only four persons are seated to the right of the one who likes Black.

निम्नलिखित जानकारी का ध्यानपूर्वक अध्ययन करें और नीचे दिए गए निम्नलिखित प्रश्न का उत्तर दें।

व्यक्तियों की एक निश्चित संख्या एक पंक्ति में दक्षिण की ओर उन्मुख होकर बैठी है। उनमें से सात मित्र हैं और प्रत्येक को अलग अलग रंग पसंद है। केवल चार व्यक्ति उस व्यक्ति के दाईं ओर बैठे हैं जिसे काला रंग पसंद है। C और N के बीच में केवल छह व्यक्ति बैठे हैं, जो सफ़ेद पसंद करता है। N और U के बीच में केवल पांच व्यक्ति बैठे हैं। लाल पसंद करने वाला व्यक्ति, U के दायें से तीसरे स्थान पर बैठा है। A और H के बीच में केवल छह व्यक्ति बैठे हैं। C और लाल पसंद करने वाले व्यक्ति के बीच में चार से अधिक व्यक्ति बैठे हैं। पीला पसंद करने वाला व्यक्ति किसी एक अंत से पांचवें स्थान पर बैठा है लेकिन U का पड़ोसी नहीं है। T और नीला पसंद करने वाले व्यक्ति के बीच में केवल दो व्यक्ति बैठे हैं। सफ़ेद पसंद करने वाला व्यक्ति, T के ठीक बायें बैठा है। A, हरा पसंद करता है और बायें अंत से तीसरे स्थान पर बैठा है। H और गुलाबी पसंद करने वाले व्यक्ति के बीच में केवल दो व्यक्ति बैठे हैं। V दायें अंत से दूसरे स्थान पर बैठा है। नीला पसंद करने वाले व्यक्ति के बायें केवल नौ व्यक्ति बैठे हैं। गुलाबी पसंद करने वाले व्यक्ति और काला पसंद करने वाले व्यक्ति के बीच में केवल चार व्यक्ति बैठे हैं। काला पसंद करने वाले व्यक्ति के दायें केवल चार व्यक्ति बैठे हैं।

eng hin Passage

Study the following information carefully and answer the following question given below.

A certain number of people are sitting in a row facing south. Among them, there are seven friends and each of them likes a different colour. Only four persons sit to the right of the one who likes black colour. Only six persons sit between C and N, who likes White. Only five persons sit between N and U. One who likes Red sits 3rd to the right of U. Only six persons sit between A and H. More than four persons sit between C and the one who likes red. The one

who likes Yellow is sitting at 5th position from the ends is not a neighbour of U. Only two persons sit between T and the one who likes blue. The one who likes white sits immediate left of T. A likes Green and sits 3rd from the left end. Only two persons sit between H and the one who likes Pink. V sits 2nd from the right end. Only nine persons sit to the left of one who likes blue. Only four persons sit between the one who likes pink and the one who likes black. Only four persons are seated to the right of the one who likes Black.

निम्नलिखित जानकारी का ध्यानपूर्वक अध्ययन करें और नीचे दिए गए निम्नलिखित प्रश्न का उत्तर दें।

व्यक्तियों की एक निश्चित संख्या एक पंक्ति में दक्षिण की ओर उन्मुख होकर बैठी है। उनमें से सात मित्र हैं और प्रत्येक को अलग अलग रंग पसंद है। केवल चार व्यक्ति उस व्यक्ति के दाईं ओर बैठे हैं जिसे काला रंग पसंद है। C और N के बीच में केवल छह व्यक्ति बैठे हैं, जो सफ़ेद पसंद करता है। N और U के बीच में केवल पांच व्यक्ति बैठे हैं। लाल पसंद करने वाला व्यक्ति, U के दायें से तीसरे स्थान पर बैठा है। A और H के बीच में केवल छह व्यक्ति बैठे हैं। C और लाल पसंद करने वाले व्यक्ति के बीच में चार से अधिक व्यक्ति बैठे हैं। पीला पसंद करने वाला व्यक्ति किसी एक अंत से पांचवें स्थान पर बैठा है लेकिन U का पड़ोसी नहीं है। T और नीला पसंद करने वाले व्यक्ति के बीच में केवल दो व्यक्ति बैठे हैं। सफ़ेद पसंद करने वाला व्यक्ति, T के ठीक बायें बैठा है। A, हरा पसंद करता है और बायें अंत से तीसरे स्थान पर बैठा है। H और गुलाबी पसंद करने वाले व्यक्ति के बीच में केवल दो व्यक्ति बैठे हैं। V दायें अंत से दूसरे स्थान पर बैठा है। नीला पसंद करने वाले व्यक्ति के बायें केवल नौ व्यक्ति बैठे हैं। गुलाबी पसंद करने वाले व्यक्ति और काला पसंद करने वाले व्यक्ति के बीच में केवल चार व्यक्ति बैठे हैं। काला पसंद करने वाले व्यक्ति के दायें केवल चार व्यक्ति बैठे हैं।

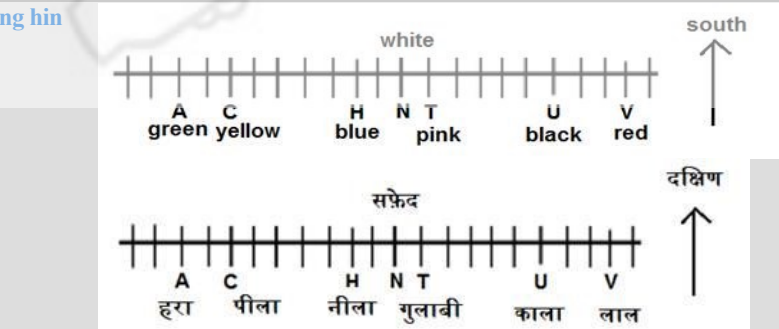
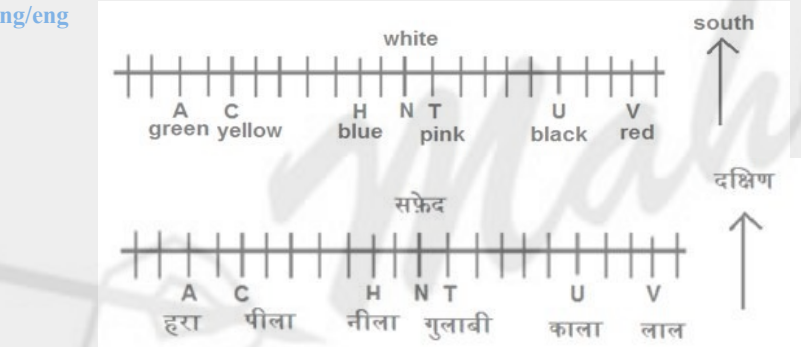
**Q-31** Who among the following likes black?  
**eng/eng** निम्नलिखित में से कौन काला पसंद करता है?

01. C
02. H
03. T
04. U
05. None of these / इनमें से कोई नहीं

**Q-31** Who among the following likes black?  
**eng hin** निम्नलिखित में से कौन काला पसंद करता है?

01. C
02. H
03. T
04. U
05. None of these / इनमें से कोई नहीं

**Solution for Question 31** Ans Key: 4



**Passage for Question 29, 30, 32, 33, 34 (ST-2074 RRB CLERK MAINS R (1-5) 2020)**  
**eng/eng** Passage

**Study the following information carefully and answer the following question given below.**

During festival eight persons A, B, C, D, E, F, G and H are going to shopping and each one purchase vehicle (car or bike). All they are sitting in a circular table some of them are facing to the centre while some of them are facing outside of the centre. Two persons who are facing outside from the centre are not immediate neighbours of each other. C facing inside the centre and immediate neighbour of G but not sits opposite to the one who purchases MARUTI. F and C are not immediate neighbours of each other. The one who purchases MARUTI sits 3rd to the right of G. A and D sits 2nd to the right of each other. D and G are immediate neighbours. D sits 2nd to the right of the one who purchases TVS STAR and also sits 3rd to the left of F. Both E and H are immediate neighbours and E sits 2nd to the left of C. H sits opposite to the one who purchases HONDA. Both B and E are facing in the same direction. A faces outside from the table. The one who purchases SCOOTY sits 3rd to the left of H. Three persons sit between the one who purchases AUDI and the one who purchase DISCOVER. A does not adjacent to the one who purchases DISCOVER. Persons who purchase SWIFT and FORD are immediate neighbours. C does not purchase SWIFT.

निम्नलिखित जानकारी का ध्यानपूर्वक अध्ययन करें और नीचे दिए गए निम्नलिखित प्रश्न का उत्तर दें।

त्यौहार के दौरान आठ व्यक्ति A, B, C, D, E, F, G और H खरीदारी करने जाते हैं एवं प्रत्येक व्यक्ति एक वाहन (कार या बाइक) खरीदता है। वे सभी एक वृत्ताकार मेज के आस पास बैठे हैं, उनमें से कुछ व्यक्ति केंद्र की ओर उन्मुख हैं जबकि कुछ केंद्र से बाहर की ओर उन्मुख हैं। केंद्र से बाहर की ओर उन्मुख होकर बैठे दो व्यक्ति एक दूसरे के निकटतम पड़ोसी नहीं हैं।

C केंद्र की ओर उन्मुख है और G का निकटतम पड़ोसी है, लेकिन मारुती खरीदने वाले व्यक्ति के विपरीत नहीं बैठता है। F और C एक-दूसरे के निकटतम पड़ोसी नहीं हैं। जिस एक व्यक्ति ने मारुती खरीदा है, वह G के दायीं ओर तीसरे स्थान पर बैठा है। A और D एक-दूसरे के दायें ओर से दूसरे स्थान पर बैठे हैं। D और G निकटतम पड़ोसी हैं। D, टीवीस स्टार खरीदने वाले व्यक्ति के दायें दूसरे स्थान पर बैठा है और F के बाएं तीसरे स्थान पर भी बैठा है। दोनों E और H निकटम पड़ोसी हैं एवं E, C के बाएं दूसरे स्थान पर बैठा है। H, होंडा खरीदने वाले व्यक्ति के विपरीत बैठा है। B और E दोनों समान दिशा की ओर उन्मुख हैं। A मेज के बाहर की ओर उन्मुख है। स्कूटी खरीदने वाला व्यक्ति H के बाएं तीसरे स्थान पर बैठा है। ऑडी और डिस्कोवर खरीदने वाले व्यक्तियों के मध्य तीन व्यक्ति बैठते हैं। A डिस्कोवर खरीदने वाले व्यक्ति के आसन्न नहीं बैठा है। स्विफ्ट और फोर्ड खरीदने वाले व्यक्ति निकटतम पड़ोसी हैं। C स्विफ्ट नहीं खरीदता है।

eng hin Passage

**Study the following information carefully and answer the following question given below.**

During festival eight persons A, B, C, D, E, F, G and H are going to shopping and each one purchase vehicle (car or bike). All they are sitting in a circular table some of them are facing to the centre while some of them are facing outside of the centre. Two persons who are facing outside from the centre are not immediate neighbours of each other. C facing inside the centre and immediate neighbour of G but not sits opposite to the one who purchases MARUTI. F and C are not immediate neighbours of each other. The one who purchases MARUTI sits 3rd to the right of G. A and D sits 2nd to the right of each other. D and G are immediate neighbours. D sits 2nd to the right of the one who purchases TVS STAR and also sits 3rd to the left of F. Both E and H are immediate neighbours and E sits 2nd to the left of C. H sits opposite to the one who purchases HONDA. Both B and E are facing in the same direction. A faces outside from the table. The one who purchases SCOOTY sits 3rd to the left of H. Three persons sit between the one who purchases AUDI and the one who purchase DISCOVER. A does not adjacent to the one who purchases DISCOVER. Persons who purchase SWIFT and FORD are immediate neighbours. C does not purchase SWIFT.

निम्नलिखित जानकारी का ध्यानपूर्वक अध्ययन करें और नीचे दिए गए निम्नलिखित प्रश्न का उत्तर दें।

त्यौहार के दौरान आठ व्यक्ति A, B, C, D, E, F, G और H खरीदारी करने जाते हैं एवं प्रत्येक व्यक्ति एक वाहन (कार या बाइक) खरीदता है। वे सभी एक वृत्ताकार मेज के आस पास बैठे हैं, उनमें से कुछ व्यक्ति केंद्र की ओर उन्मुख हैं जबकि कुछ केंद्र से बाहर की ओर उन्मुख हैं। केंद्र से बाहर की ओर उन्मुख होकर बैठे दो व्यक्ति एक दूसरे के निकटतम पड़ोसी नहीं हैं।

C केंद्र की ओर उन्मुख है और G का निकटतम पड़ोसी है, लेकिन मारुती खरीदने वाले व्यक्ति के विपरीत नहीं बैठता है। F और C एक-दूसरे के निकटतम पड़ोसी नहीं हैं। जिस एक व्यक्ति ने मारुती खरीदा है, वह G के दायीं ओर तीसरे स्थान पर बैठा है। A और D एक-दूसरे के दायें ओर से दूसरे स्थान पर बैठे हैं। D और G निकटतम पड़ोसी हैं। D, टीवीस स्टार खरीदने वाले व्यक्ति के दायें दूसरे स्थान पर बैठा है और F के बाएं तीसरे स्थान पर भी बैठा है। दोनों E और H निकटम पड़ोसी हैं एवं E, C के बाएं दूसरे स्थान पर बैठा है। H, होंडा खरीदने वाले व्यक्ति के विपरीत बैठा है। B और E दोनों समान दिशा की ओर उन्मुख हैं। A मेज के बाहर की ओर उन्मुख है। स्कूटी खरीदने वाला व्यक्ति H के बाएं तीसरे स्थान पर बैठा है। ऑडी और डिस्कोवर खरीदने वाले व्यक्तियों के मध्य तीन व्यक्ति बैठते हैं। A डिस्कोवर खरीदने वाले व्यक्ति के आसन्न नहीं बैठा है। स्विफ्ट और फोर्ड खरीदने वाले व्यक्ति निकटतम पड़ोसी हैं। C स्विफ्ट नहीं खरीदता है।

**Q-32** What is the position of F with respect to the one who purchase Swift?  
eng/eng स्विफ्ट खरीदने वाले व्यक्ति के सन्दर्भ में F का क्या स्थान है?

01. 2nd to the right / दायें दूसरा

02. 3rd to the left / बाएं तीसरा

03. Immediate right / ठीक दायें

04. 2nd to the left / बाएं दूसरा

05. Can't be determined / निर्धारित नहीं किया जा सकता

**Q-32** What is the position of F with respect to the one who purchase Swift?  
eng hin स्विफ्ट खरीदने वाले व्यक्ति के सन्दर्भ में F का क्या स्थान है?

01. 2nd to the right / दायें दूसरा

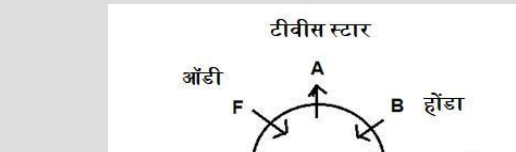
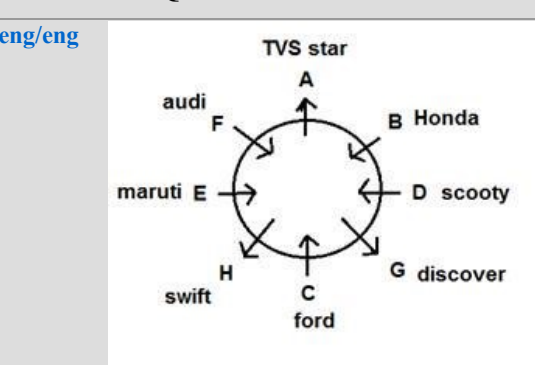
02. 3rd to the left / बाएं तीसरा

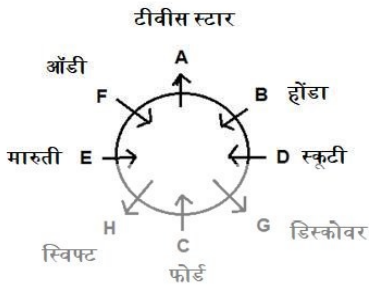
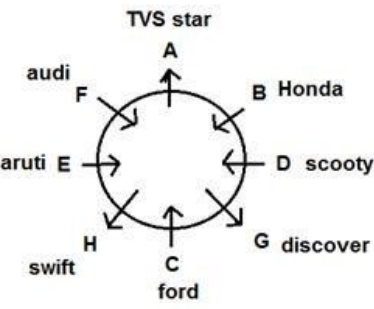
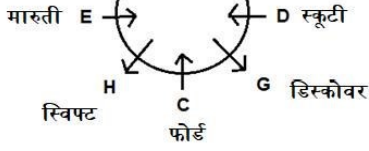
03. Immediate right / ठीक दायें

04. 2nd to the left / बाएं दूसरा

05. Can't be determined / निर्धारित नहीं किया जा सकता

**Solution for Question 32** Ans Key: 1





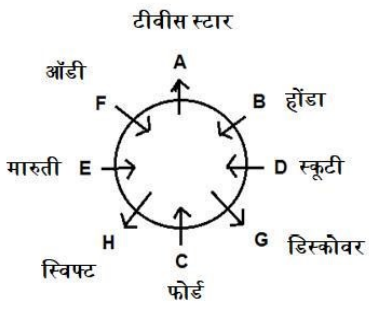
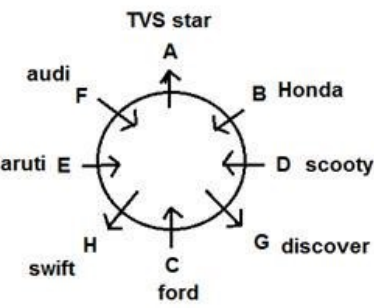
Q-33 How many people are facing outside of the table?  
कितने व्यक्ति केंद्र के बाहर की ओर उन्मुख हैं?

01. Two / दो
02. Three / तीन
03. Four / चार
04. More than four / चार से अधिक
05. Can't be determined / निर्धारित नहीं किया जा सकता

Q-33 How many people are facing outside of the table?  
कितने व्यक्ति केंद्र के बाहर की ओर उन्मुख हैं?

01. Two / दो
02. Three / तीन
03. Four / चार
04. More than four / चार से अधिक
05. Can't be determined / निर्धारित नहीं किया जा सकता

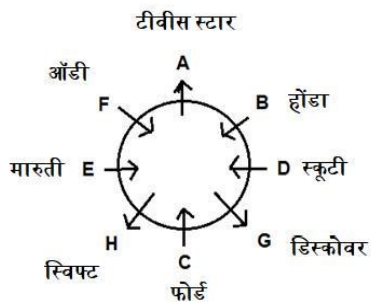
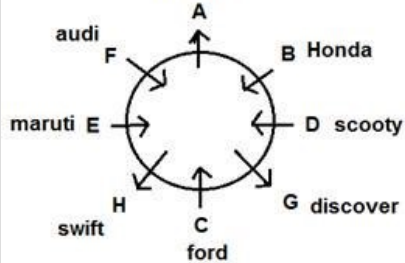
Solution for Question 33



eng/hin TVS star

Ans Key: 2





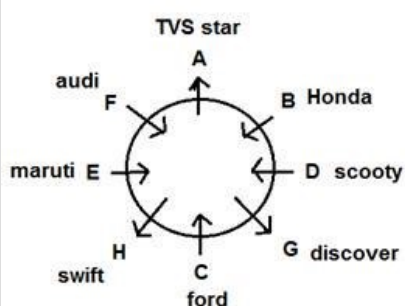
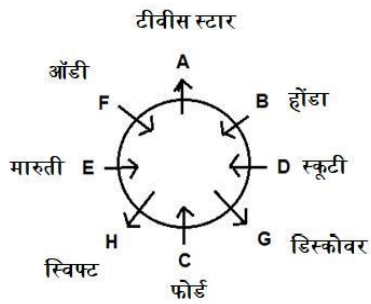
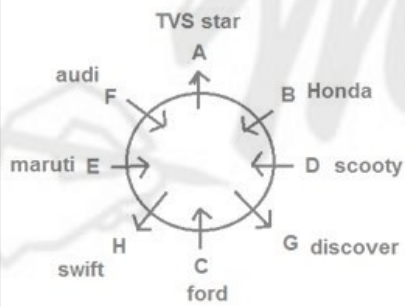
**Q-34** If B is related to C, in the same way D is related to F according to the pattern G is related to?  
 यदि B, C से सम्बंधित है, इसी प्रकार D, F से सम्बंधित है, तो पैटर्न के अनुसार G किससे सम्बंधित है?

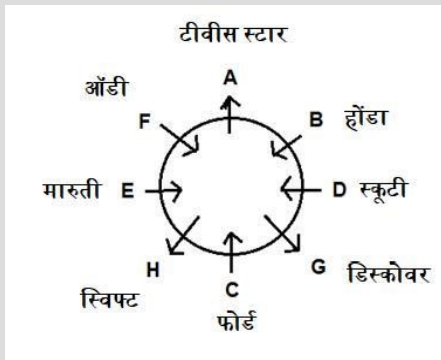
- 01. E
- 02. A
- 03. F
- 04. D
- 05. Either (1) or (2) / या तो (1) या (2)

**Q-34** If B is related to C, in the same way D is related to F according to the pattern G is related to?  
 यदि B, C से सम्बंधित है, इसी प्रकार D, F से सम्बंधित है, तो पैटर्न के अनुसार G किससे सम्बंधित है?

- 01. E
- 02. A
- 03. F
- 04. D
- 05. Either (1) or (2) / या तो (1) या (2)

**Solution for Question 34** Ans Key: 5





**Passage for Question 35, 36, 37, 38, 39 (ST-2074 RRB CLERK MAINS R (29-33) 2020)**

eng/eng Passage

Each of the questions below consists of a question and three statements numbered I, II and III given below it. You have to decide whether the data provided in the statements are sufficient to answer the question. Read all the statements and answer the following questions.

नीचे दिए गए प्रत्येक प्रश्न में, एक प्रश्न और तीन कथन दिए हैं जिनका क्रमांक I, II और III है। आपको यह निर्धारित करना है कि कथनों में दिए गए कौन से डेटा प्रश्न का उत्तर देने के लिए पर्याप्त है। सभी कथनों को पढ़िए और निम्नलिखित प्रश्नों के उत्तर दीजिए।

eng hin Passage

Each of the questions below consists of a question and three statements numbered I, II and III given below it. You have to decide whether the data provided in the statements are sufficient to answer the question. Read all the statements and answer the following questions.

नीचे दिए गए प्रत्येक प्रश्न में, एक प्रश्न और तीन कथन दिए हैं जिनका क्रमांक I, II और III है। आपको यह निर्धारित करना है कि कथनों में दिए गए कौन से डेटा प्रश्न का उत्तर देने के लिए पर्याप्त है। सभी कथनों को पढ़िए और निम्नलिखित प्रश्नों के उत्तर दीजिए।

**Q-35** Is N son of M?

eng/eng

- (I) L, the son-in-law of M, is the brother-in-law of N.  
(II) N is the brother of O.  
(III) L has no sister.

क्या N, M का पुत्र है?

- (I) L, M का दामाद, N का ब्रदर-इन-लॉ है।  
(II) N, O का भाई है।  
(III) L की कोई बहन नहीं है।

01. If the data in statement I and II are sufficient to answer the question, while the data in statement III are not sufficient to answer the question.  
यदि कथन I और II में दिए गए डेटा प्रश्न का उत्तर देने के लिए पर्याप्त हैं, जबकि कथन III में दिए गए डेटा प्रश्न का उत्तर देने के लिए पर्याप्त नहीं है।
02. If the data in statement I and III are sufficient to answer the question, while the data in statement II is not sufficient to answer the question.  
यदि कथन I और III में दिए गए डेटा प्रश्न का उत्तर देने के लिए पर्याप्त हैं, जबकि कथन II में दिए गए डेटा प्रश्न का उत्तर देने के लिए पर्याप्त नहीं है।

03. If the data in statement II and III are sufficient to answer the question, while the data in statement I is not sufficient to answer the question.  
यदि कथन II और III में दिए गए डेटा प्रश्न का उत्तर देने के लिए पर्याप्त हैं, जबकि कथन I में दिए गए डेटा प्रश्न का उत्तर देने के लिए पर्याप्त नहीं है।

04. If the data in all the statement I, II and III are necessary to answer the question  
यदि कथन I, II और III में दिए गए डेटा प्रश्न का उत्तर देने के लिए आवश्यक हैं।

05. If the data in statement I alone or in the statement II alone or in the statement III alone is sufficient to answer the question. /  
यदि अकेले कथन I में दिए गए डेटा या अकेले कथन II में दिए गए डेटा या अकेले कथन III में दिए गए डेटा प्रश्न का उत्तर देने के लिए पर्याप्त है।

**Q-35** Is N son of M?

eng hin

- (I) L, the son-in-law of M, is the brother-in-law of N.  
(II) N is the brother of O.



- I. S is to the immediate right of T
- II. Q is to the immediate left of T
- III. Q is at the extreme left end.

पाँच बच्चों P, Q, R, S और T की एक पंक्ति के मध्य में कौन खड़ा है?

- I. S, T के निकटतम दाएं खड़ा है।
- II. Q, T के निकटतम बाएं खड़ा है।
- III. Q बाएं सिरे पर खड़ा है।

01. If the data in statement I and II are sufficient to answer the question, while the data in statement III are not sufficient to answer the question.  
यदि कथन I और II में दिए गए डेटा प्रश्न का उत्तर देने के लिए पर्याप्त हैं, जबकि कथन III में दिए गए डेटा प्रश्न का उत्तर देने के लिए पर्याप्त नहीं है।
02. If the data in statement I and III are sufficient to answer the question, while the data in statement II is not sufficient to answer the question.  
यदि कथन I और III में दिए गए डेटा प्रश्न का उत्तर देने के लिए पर्याप्त हैं, जबकि कथन II में दिए गए डेटा प्रश्न का उत्तर देने के लिए पर्याप्त नहीं है।
03. If the data in statement II and III are sufficient to answer the question, while the data in statement I is not sufficient to answer the question.  
यदि कथन II और III में दिए गए डेटा प्रश्न का उत्तर देने के लिए पर्याप्त हैं, जबकि कथन I में दिए गए डेटा प्रश्न का उत्तर देने के लिए पर्याप्त नहीं है।
04. If the data in all the statement I, II and III are necessary to answer the question  
यदि कथन I, II और III में दिए गए डेटा प्रश्न का उत्तर देने के लिए आवश्यक हैं।
05. If the data in statement I alone or in the statement II alone or in the statement III alone is sufficient to answer the question./ यदि अकेले कथन I में दिए गए डेटा या अकेले कथन II में दिए गए डेटा या अकेले कथन III में दिए गए डेटा प्रश्न का उत्तर देने के लिए पर्याप्त है।

Ans Key: 4

Q-37

What is the code for 'water' in a code language?

eng/eng

- I. 'drink the water' is written as 'nik pa re' in the code language.
- II. 'water is pure' is written as 'pe da pa'
- III. 'always drink cold' is written as 'ma re ta'

एक कूट भाषा में, 'water' के लिए क्या कूट है?

- I. 'drink the water' को 'nik pa re' लिखा जाता है।
- II. 'water is pure' को 'pe da pa' लिखा जाता है।
- III. 'always drink cold' को 'ma re ta' लिखा जाता है।

01. If the data in statement I and II are sufficient to answer the question, while the data in statement III are not sufficient to answer the question.  
यदि कथन I और II में दिए गए डेटा प्रश्न का उत्तर देने के लिए पर्याप्त हैं, जबकि कथन III में दिए गए डेटा प्रश्न का उत्तर देने के लिए पर्याप्त नहीं है।
02. If the data in statement I and III are sufficient to answer the question, while the data in statement II is not sufficient to answer the question.  
यदि कथन I और III में दिए गए डेटा प्रश्न का उत्तर देने के लिए पर्याप्त हैं, जबकि कथन II में दिए गए डेटा प्रश्न का उत्तर देने के लिए पर्याप्त नहीं है।
03. If the data in statement II and III are sufficient to answer the question, while the data in statement I is not sufficient to answer the question.  
यदि कथन II और III में दिए गए डेटा प्रश्न का उत्तर देने के लिए पर्याप्त हैं, जबकि कथन I में दिए गए डेटा प्रश्न का उत्तर देने के लिए पर्याप्त नहीं है।
04. If the data in all the statement I, II and III are necessary to answer the question  
यदि कथन I, II और III में दिए गए डेटा प्रश्न का उत्तर देने के लिए आवश्यक हैं।
05. If the data in statement I alone or in the statement II alone or in the statement III alone is sufficient to answer the question. / यदि अकेले कथन I में दिए गए डेटा या अकेले कथन II में दिए गए डेटा या अकेले कथन III में

दिए गए डेटा प्रश्न का उत्तर देने के लिए पर्याप्त है।

**Q-37**  
eng hin

What is the code for 'water' in a code language?

- I. 'drink the water' is written as 'nik pa re' in the code language.
- II. 'water is pure' is written as 'pe da pa'
- III. 'always drink cold' is written as 'ma re ta'

एक कूट भाषा में, 'water' के लिए क्या कूट है?

- I. 'drink the water' को 'nik pa re' लिखा जाता है।
- II. 'water is pure' को 'pe da pa' लिखा जाता है।
- III. 'always drink cold' को 'ma re ta' लिखा जाता है।

- 01.** If the data in statement I and II are sufficient to answer the question, while the data in statement III are not sufficient to answer the question.  
यदि कथन I और II में दिए गए डेटा प्रश्न का उत्तर देने के लिए पर्याप्त हैं, जबकि कथन III में दिए गए डेटा प्रश्न का उत्तर देने के लिए पर्याप्त नहीं है।
- 02.** If the data in statement I and III are sufficient to answer the question, while the data in statement II is not sufficient to answer the question.  
यदि कथन I और III में दिए गए डेटा प्रश्न का उत्तर देने के लिए पर्याप्त हैं, जबकि कथन II में दिए गए डेटा प्रश्न का उत्तर देने के लिए पर्याप्त नहीं है।
- 03.** If the data in statement II and III are sufficient to answer the question, while the data in statement I is not sufficient to answer the question. / यदि कथन II और III में दिए गए डेटा प्रश्न का उत्तर देने के लिए पर्याप्त हैं, जबकि कथन I में दिए गए डेटा प्रश्न का उत्तर देने के लिए पर्याप्त नहीं है।
- 04.** If the data in all the statement I, II and III are necessary to answer the question  
यदि कथन I, II और III में दिए गए डेटा प्रश्न का उत्तर देने के लिए आवश्यक हैं।
- 05.** If the data in statement I alone or in the statement II alone or in the statement III alone is sufficient to answer the question. / यदि अकेले कथन I में दिए गए डेटा या अकेले कथन II में दिए गए डेटा या अकेले कथन III में दिए गए डेटा प्रश्न का उत्तर देने के लिए पर्याप्त है।

Ans Key: 1

**Q-38**  
eng/eng

'D' is in which direction with respect to 'B'? If-

- I. A is to the west of B. C is to the north of B. D is to the south of C.
- II. 'G' is to the South of D. The distance between G and B is 4m and distance between D and B is 9m.
- III. A is to the West of B. B is in the middle of A and E. F is to the South of E. D is to the West of F.

'B' के सन्दर्भ में, D किस दिशा में है। यदि-

- I. A, B के पश्चिम में है। C, B के उत्तर में है। D, C के दक्षिण में है।
- II. 'G', D के दक्षिण में है। G और B के बीच 4 मी. की दूरी है और D व B के बीच 9 मी. की दूरी है।
- III. A, B के पश्चिम में है। B, A और E के मध्य में है। F, E के दक्षिण में है। D, F के पश्चिम में है।

- 01.** If the data in statement I and II are sufficient to answer the question, while the data in statement III are not sufficient to answer the question. / यदि कथन I और II में दिए गए डेटा प्रश्न का उत्तर देने के लिए पर्याप्त हैं, जबकि कथन III में दिए गए डेटा प्रश्न का उत्तर देने के लिए पर्याप्त नहीं है।
- 02.** If the data in statement I and III are sufficient to answer the question, while the data in statement II is not sufficient to answer the question. / यदि कथन I और III में दिए गए डेटा प्रश्न का उत्तर देने के लिए पर्याप्त हैं, जबकि कथन II में दिए गए डेटा प्रश्न का उत्तर देने के लिए पर्याप्त नहीं है।
- 03.** If the data in statement II and III are sufficient to answer the question, while the data in statement I is not sufficient to answer the question. / यदि कथन II और III में दिए गए डेटा प्रश्न का उत्तर देने के लिए पर्याप्त हैं, जबकि कथन I में दिए गए डेटा प्रश्न का उत्तर देने के लिए पर्याप्त नहीं है।
- 04.** If the data in all the statement I, II and III are necessary to answer the question  
यदि कथन I, II और III में दिए गए डेटा प्रश्न का उत्तर देने के लिए आवश्यक हैं।
- 05.** If the data in statement I alone or in the statement II alone or in the statement III alone is sufficient to answer the question. / यदि अकेले कथन I में दिए गए डेटा या अकेले कथन II में दिए गए डेटा या अकेले कथन III में दिए गए डेटा प्रश्न का उत्तर देने के लिए पर्याप्त है।



'D' is in which direction with respect to 'B'? If-

- I. A is to the west of B. C is to the north of B. D is to the south of C.
- II. 'G' is to the South of D. The distance between G and B is 4m and the distance between D and B is 9m.
- III. A is to the West of B. B is in the middle of A and E. F is to the South of E. D is to the West of F.

'B' के सन्दर्भ में, D किस दिशा में है। यदि-

- I. A, B के पश्चिम में है। C, B के उत्तर में है। D, C के दक्षिण में है।
- II. 'G', D के दक्षिण में है। G और B के बीच 4 मी. की दूरी है और D व B के बीच 9 मी. की दूरी है।
- III. A, B के पश्चिम में है। B, A और E के मध्य में है। F, E के दक्षिण में है। D, F के पश्चिम में है।

01. If the data in statement I and II are sufficient to answer the question, while the data in statement III are not sufficient to answer the question/यदि कथन I और II में दिए गए डेटा प्रश्न का उत्तर देने के लिए पर्याप्त हैं, जबकि कथन III में दिए गए डेटा प्रश्न का उत्तर देने के लिए पर्याप्त नहीं है।
02. If the data in statement I and III are sufficient to answer the question, while the data in statement II is not sufficient to answer the question. यदि कथन I और III में दिए गए डेटा प्रश्न का उत्तर देने के लिए पर्याप्त हैं, जबकि कथन II में दिए गए डेटा प्रश्न का उत्तर देने के लिए पर्याप्त नहीं है।
03. If the data in statement II and III are sufficient to answer the question, while the data in statement I is not sufficient to answer the question. यदि कथन II और III में दिए गए डेटा प्रश्न का उत्तर देने के लिए पर्याप्त हैं, जबकि कथन I में दिए गए डेटा प्रश्न का उत्तर देने के लिए पर्याप्त नहीं है।
04. If the data in all the statement I, II and III are necessary to answer the question यदि कथन I, II और III में दिए गए डेटा प्रश्न का उत्तर देने के लिए आवश्यक हैं।
05. If the data in statement I alone or in the statement II alone or in the statement III alone is sufficient to answer the question. यदि अकेले कथन I में दिए गए डेटा या अकेले कथन II में दिए गए डेटा या अकेले कथन III में दिए गए डेटा प्रश्न का उत्तर देने के लिए पर्याप्त है।

Ans Key: 2

Six people A, B, C, D, E, and F are living in the six-floor building. Each lives in one of the apartments of the building. In building, there are floors from 1 to 6. The ground floor is given number 1, then above it 2 and so on. Who is living on the Ground floor?

- I. In which floor C and B are living there is only one floor between them. A is living on even number floor.
- II. E is not living on even number floor. B is living on even number floor. B is not living on the top floor.
- III. D is living on odd number floor. In which floor D and A are living, there are two floors between them. E is living immediately above C.

छह लोग A, B, C, D, E और F छह मंजिल की इमारत में रह रहे हैं। प्रत्येक इमारत के एक अपार्टमेंट में रहता है। भवन में, 1 से 6 तक की मंजिलें हैं। भूतल को संख्या 1, फिर इसके ऊपर 2 और इसी तरह दिया गया है। ग्राउंड फ्लोर पर कौन रह रहा है?

- I. जिन तलों पर C और B रहते हैं, इनके बीच केवल एक तल है। A सम संख्या वाले तल पर रहता है।
- II. E सम संख्या वाले तल पर नहीं रहता है। B सम संख्या वाले तल पर रहता है। B शीर्ष तल पर नहीं रहता है।
- III. D एक विषम संख्या वाले तल पर रहता है। जिन तलों पर D और A रहते हैं, इनके बीच दो तल हैं। E, C के ठीक ऊपर वाले तल पर रहता है।

01. If the data in statement I and II are sufficient to answer the question, while the data in statement III are not sufficient to answer the question. यदि कथन I और II में दिए गए डेटा प्रश्न का उत्तर देने के लिए पर्याप्त हैं, जबकि कथन III में दिए गए डेटा प्रश्न का उत्तर देने के लिए पर्याप्त नहीं है।
02. If the data in statement I and III are sufficient to answer the question, while the data in statement II is not sufficient to answer the question. यदि कथन I और III में दिए गए डेटा प्रश्न का उत्तर देने के लिए पर्याप्त हैं, जबकि कथन II में दिए गए डेटा प्रश्न का उत्तर देने के लिए पर्याप्त नहीं है।
03. If the data in statement II and III are sufficient to answer the question, while the data in statement I is not sufficient to answer the question. यदि कथन II और III में दिए गए डेटा प्रश्न का उत्तर देने के लिए पर्याप्त हैं, जबकि कथन I में दिए गए डेटा प्रश्न का उत्तर देने के लिए पर्याप्त नहीं है।
04. If the data in all the statement I, II and III are necessary to answer the question यदि कथन I, II और III में दिए गए डेटा प्रश्न का उत्तर देने के लिए आवश्यक हैं।
05. If the data in statement I alone or in the statement II alone or in the statement III alone is sufficient to answer the question. यदि अकेले कथन I में दिए गए डेटा या अकेले कथन II में दिए गए डेटा या अकेले कथन III में दिए गए डेटा प्रश्न का उत्तर देने के लिए पर्याप्त है।

**Q-39**  
**eng/hin**

Six people A, B, C, D, E, and F are living in the six-floor building. Each lives in one of the apartments of the building. In building, there are floors from 1 to 6. The ground floor is given number 1, then above it 2 and so on. Who is living on the Ground floor?

- I. In which floor C and B are living there is only one floor between them. A is living on even number floor.  
II. E is not living on even number floor. B is living on even number floor. B is not living on the top floor.  
III. D is living on odd number floor. In which floor D and A are living, there are two floors between them. E is living immediately above C.

छह लोग A, B, C, D, E और F छह मंजिल की इमारत में रह रहे हैं। प्रत्येक इमारत के एक अपार्टमेंट में रहता है। भवन में, 1 से 6 तक की मंजिलें हैं। भूतल को संख्या 1, फिर इसके ऊपर 2 और इसी तरह दिया गया है। ग्राउंड फ्लोर पर कौन रह रहा है?

- I. जिन तलों पर C और B रहते हैं, इनके बीच केवल एक तल है। A सम संख्या वाले तल पर रहता है।  
II. E सम संख्या वाले तल पर नहीं रहता है। B सम संख्या वाले तल पर रहता है। B शीर्ष तल पर नहीं रहता है।  
III. D एक विषम संख्या वाले तल पर रहता है। जिन तलों पर D और A रहते हैं, इनके बीच दो तल हैं। E, C के ठीक ऊपर वाले तल पर रहता है।

- 01.** If the data in statement I and II are sufficient to answer the question, while the data in statement III are not sufficient to answer the question.  
यदि कथन I और II में दिए गए डेटा प्रश्न का उत्तर देने के लिए पर्याप्त हैं, जबकि कथन III में दिए गए डेटा प्रश्न का उत्तर देने के लिए पर्याप्त नहीं है।
- 02.** If the data in statement I and III are sufficient to answer the question, while the data in statement II is not sufficient to answer the question. यदि कथन I और III में दिए गए डेटा प्रश्न का उत्तर देने के लिए पर्याप्त हैं, जबकि कथन II में दिए गए डेटा प्रश्न का उत्तर देने के लिए पर्याप्त नहीं है।
- 03.** If the data in statement II and III are sufficient to answer the question, while the data in statement I is not sufficient to answer the question.  
यदि कथन II और III में दिए गए डेटा प्रश्न का उत्तर देने के लिए पर्याप्त हैं, जबकि कथन I में दिए गए डेटा प्रश्न का उत्तर देने के लिए पर्याप्त नहीं है।
- 04.** If the data in all the statement I, II and III are necessary to answer the question यदि कथन I, II और III में दिए गए डेटा प्रश्न का उत्तर देने के लिए आवश्यक हैं।
- 05.** If the data in statement I alone or in the statement II alone or in the statement III alone is sufficient to answer the question.  
यदि अकेले कथन I में दिए गए डेटा या अकेले कथन II में दिए गए डेटा या अकेले कथन III में दिए गए डेटा प्रश्न का उत्तर देने के लिए पर्याप्त है।

**Solution for Question 39**

Ans Key: 4

eng/eng

6. A  
5. E  
4. C  
3. D  
2. B  
1. F

eng/hin

6. A  
5. E  
4. C  
3. D  
2. B  
1. F

**Q-40**

Study the following information carefully to answer the questions given below.

In a family, there are seven members C, G, L, M, N, O and Q in which there are only three married couples. N is the brother-in-law of L. Q is not the father of G. N has no siblings. G is a child of M. N is the son-in-law of Q. O is the grandson of M. Q and M are a married couple. C is the wife of L.

नीचे दिए गए प्रश्नों के उत्तर देने के लिए निम्नलिखित जानकारी का ध्यानपूर्वक अध्ययन करें।  
एक परिवार में सात सदस्य C, G, L, M, N, O और Q हैं, जिसमें केवल तीन विवाहित युगल हैं। N, L का ब्रदर-इन-लॉ है। Q, G का पिता नहीं है। N का कोई भाई - बहन नहीं है। G, M की संतान है। N, Q का दामाद है। O, M का ग्रेंडसन है। Q और M एक विवाहित जोड़ा है। C, L की पत्नी है।

How many females are in the family?  
परिवार में कितनी महिलाएं हैं?

- 01.** Two / दो  
**02.** One / एक  
**03.** Four / चार  
**04.** Can't be determined / निर्धारित नहीं किया जा सकता

05. None of these / इनमें से कोई नहीं

Study the following information carefully to answer the questions given below.

In a family, there are seven members C, G, L, M, N, O and Q in which there are only three married couples. N is the brother-in-law of L. Q is not the father of G. N has no siblings. G is a child of M. N is the son-in-law of Q. O is the grandson of M. Q and M are a married couple. C is the wife of L.

नीचे दिए गए प्रश्नों के उत्तर देने के लिए निम्नलिखित जानकारी का ध्यानपूर्वक अध्ययन करें।

एक परिवार में सात सदस्य C, G, L, M, N, O और Q हैं, जिसमें केवल तीन विवाहित युगल हैं। N, L का ब्रदर-इन-लॉ है। Q, G का पिता नहीं है। N का कोई भाई-बहन नहीं है। G, M की संतान है। N, Q का दामाद है। O, M का ग्रेडसन है। Q और M एक विवाहित जोड़ा है। C, L की पत्नी है।

How many females are in the family?

परिवार में कितनी महिलाएं हैं?

01. Two / दो

02. One / एक

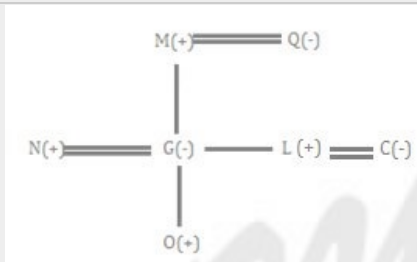
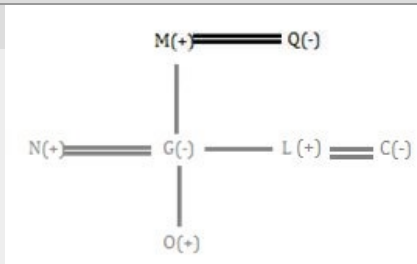
03. Four / चार

04. Can't be determined / निर्धारित नहीं किया जा सकता

05. None of these / इनमें से कोई नहीं

#### Solution for Question 40

Ans Key: 5



#### Passage for Question 41, 42, 43, 44, 45 (ST-2091RRBCLERKMAINS(1-5M)2020)

eng/eng Passage

Each of these questions consists of a question followed by information in three statements. You have to study the question and the statements and decide that information in which of the statement(s) is/are necessary to answer the question.

नीचे प्रत्येक प्रश्न में, एक प्रश्न और उसके बाद तीन कथनों में जानकारी दी गई है। आप प्रश्न और कथनों का अध्ययन कीजिए और यह तय कीजिये कि कौन सा/से कथनों में दी गई जानकारी प्रश्न का उत्तर देने के लिए आवश्यक है/हैं।

eng/hin Passage

Each of these questions consists of a question followed by information in three statements. You have to study the question and the statements and decide that information in which of the statement(s) is/are necessary to answer the question.

नीचे प्रत्येक प्रश्न में, एक प्रश्न और उसके बाद तीन कथनों में जानकारी दी गई है। आप प्रश्न और कथनों का अध्ययन कीजिए और यह तय कीजिये कि कौन सा/से कथनों में दी गई जानकारी प्रश्न का उत्तर देने के लिए आवश्यक है/हैं।

Q-41 What is the speed of the train?

ट्रेन की गति क्या है?

Statement I: The train crosses 100 meters long platform in 30 seconds.

Statement II: The train crosses another stationary train of 1.5 times of its length in 60 seconds.

Statement III: The train crosses a signal pole in 24 seconds.

कथन I: यह ट्रेन 30 सेकंड में 100 मीटर लम्बे प्लेटफार्म को पार करती है।

कथन II: ट्रेन 60 सेकंड में अपनी लम्बाई के 1.5 गुनी लम्बी दूसरी स्थिर ट्रेन को पार करती है।

कथन III: ट्रेन एक सिग्नल को 24 सेकंड में पार करती है।

01. All three together are sufficient

02. I and (II or III) are sufficient

सभी तीनों एक साथ पर्याप्त हैं I तथा (II या III) पर्याप्त हैं

03. II and III alone are sufficient  
II तथा III अकेले पर्याप्त हैं

04. Any two are sufficient  
कोई भी दो पर्याप्त हैं

05. II and (I or III) are sufficient  
II तथा (I या III) पर्याप्त हैं

**Q-41**  
**eng hin**

What is the speed of the train?  
ट्रेन की गति क्या है?

Statement I: The train crosses 100 meters long platform in 30 seconds.

Statement II: The train crosses another stationary train of 1.5 times of its length in 60 seconds.

Statement III: The train crosses a signal pole in 24 seconds.

कथन I: यह ट्रेन 30 सेकंड में 100 मीटर लम्बे प्लेटफार्म को पार करती है।

कथन II: ट्रेन 60 सेकंड में अपनी लम्बाई के 1.5 गुनी लम्बी दूसरी स्थिर ट्रेन को पार करती है।

कथन III: ट्रेन एक सिग्नल को 24 सेकंड में पार करती है।

01. All three together are sufficient  
सभी तीनों एक साथ पर्याप्त हैं

02. I and (II or III) are sufficient  
I तथा (II या III) पर्याप्त हैं

03. II and III alone are sufficient  
II तथा III अकेले पर्याप्त हैं

04. Any two are sufficient  
कोई भी दो पर्याप्त हैं

05. II and (I or III) are sufficient  
II तथा (I या III) पर्याप्त हैं

**Solution for Question 41**

Ans Key: 2

**eng/eng** I and either II or III  
I तथा II या III

**eng hin** I and either II or III  
I तथा II या III

**Q-42**  
**eng/eng** What is the measure of the diagonal of a rectangle?  
आयत के विकर्ण की माप क्या है?

Statement I: Length of the rectangle is equal to the side of the rhombus whose area is 135 sq. meter and the ratio between the side and the height of the rhombus is 3: 5.

Statement II: Area of the rectangle is 72 square meter.

Statement III: Breadth of the rectangle is numerically equal to the area of the square whose side is  $2\sqrt{2}$  meter.

कथन I: आयत की लंबाई उस समचतुर्भुज के भुजा के बराबर है, जिसका क्षेत्रफल 135 वर्ग मीटर है और समचतुर्भुज की भुजा तथा ऊंचाई के बीच अनुपात 3: 5 है।

कथन II: आयत का क्षेत्रफल 72 वर्ग मीटर है।

कथन III: आयत की चौड़ाई आंकिक रूप से उस वर्ग के क्षेत्रफल के बराबर है, जिनकी भुजा  $2\sqrt{2}$  मीटर है।

01. All three together are not sufficient  
सभी तीनों एक साथ भी पर्याप्त नहीं हैं

02. II and III alone are sufficient  
II तथा III अकेले पर्याप्त हैं

03. I and II alone are sufficient  
I तथा II अकेले पर्याप्त हैं

04. Any two are sufficient  
कोई भी दो पर्याप्त हैं

05. I and (II or III) are sufficient  
II तथा (I या III) पर्याप्त हैं

**Q-42**  
**eng hin** What is the measure of the diagonal of a rectangle?  
आयत के विकर्ण की माप क्या है?

Statement I: Length of the rectangle is equal to the side of the rhombus whose area is 135 sq. meter and the ratio between the side and the height of the rhombus is 3: 5.

Statement II: Area of the rectangle is 72 square meter.

Statement III: Breadth of the rectangle is numerically equal to the area of the square whose side is  $2\sqrt{2}$  meter.

कथन I: आयत की लंबाई उस समचतुर्भुज के भुजा के बराबर है, जिसका क्षेत्रफल 135 वर्ग मीटर है और समचतुर्भुज की भुजा तथा ऊंचाई के बीच अनुपात 3: 5 है।

कथन II: आयत का क्षेत्रफल 72 वर्ग मीटर है।

कथन III: आयत की चौड़ाई आंकिक रूप से उस वर्ग के क्षेत्रफल के बराबर है, जिनकी भुजा  $2\sqrt{2}$  मीटर है।

01. All three together are not sufficient  
सभी तीनों एक साथ भी पर्याप्त नहीं हैं

02. II and III alone are sufficient  
II तथा III अकेले पर्याप्त हैं

03. I and II alone are sufficient  
I तथा II अकेले पर्याप्त हैं

04. Any two are sufficient  
कोई भी दो पर्याप्त हैं

05. I and (II or III) are sufficient  
II तथा (I या III) पर्याप्त हैं

**Solution for Question 42**

Ans Key: 4

**eng/eng** any two statements are sufficient  
कोई भी दो कथन पर्याप्त हैं

eng hin	any two statements are sufficient कोई भी दो कथन पर्याप्त हैं
---------	---

**Q-43**  
eng/eng

A milkman sells a homogeneous mixture of water and milk at a rate of Rs.80 per liter. Find the profit percentage of the milkman.

एक दूधवाला पानी और दूध के मिश्रण को 40 रुपये प्रति लीटर की दर से बेचता है। दूधवाले का लाभ प्रतिशत ज्ञात कीजिये।

Statement I: He bought milk at the rate of Rs.70 per liter.

Statement II: He bought water at Rs.20 lower than the rate of milk per liter.

Statement III: He sold mixture containing 15 liter more milk than water.

कथन I: उसने दूध 35 रुपये प्रति लीटर की दर से खरीदा।

कथन II: उसने पानी को दूध से 10 रुपये प्रति लीटर कम दर से खरीदा।

कथन III: उसने जो मिश्रण बेचा उसमें दूध पानी की तुलना में 15 लीटर अधिक है।

01. All three together are sufficient  
सभी तीनों एक साथ पर्याप्त हैं

02. II and (I or III) are sufficient  
II तथा (I या III) पर्याप्त हैं

03. I and II alone are sufficient  
I तथा II अकेले पर्याप्त हैं

04. Any two are sufficient  
कोई भी दो पर्याप्त हैं

05. None of these  
इनमें से कोई नहीं

**Q-43**  
eng/eng

A milkman sells a homogeneous mixture of water and milk at a rate of Rs.80 per liter. Find the profit percentage of the milkman.

एक दूधवाला पानी और दूध के मिश्रण को 40 रुपये प्रति लीटर की दर से बेचता है। दूधवाले का लाभ प्रतिशत ज्ञात कीजिये।

Statement I: He bought milk at the rate of Rs.70 per liter.

Statement II: He bought water at Rs.20 lower than the rate of milk per liter.

Statement III: He sold mixture containing 15 liter more milk than water.

कथन I: उसने दूध 35 रुपये प्रति लीटर की दर से खरीदा।

कथन II: उसने पानी को दूध से 10 रुपये प्रति लीटर कम दर से खरीदा।

कथन III: उसने जो मिश्रण बेचा उसमें दूध पानी की तुलना में 15 लीटर अधिक है।

01. All three together are sufficient  
सभी तीनों एक साथ पर्याप्त हैं

02. II and (I or III) are sufficient  
II तथा (I या III) पर्याप्त हैं

03. I and II alone are sufficient  
I तथा II अकेले पर्याप्त हैं

04. Any two are sufficient  
कोई भी दो पर्याप्त हैं

05. None of these  
इनमें से कोई नहीं

Solution for Question 43		Ans Key: 5
eng/eng	All together are not sufficient सभी एक साथ भी पर्याप्त नहीं हैं	
eng hin	All together are not sufficient सभी एक साथ भी पर्याप्त नहीं हैं	

**Q-44**  
eng/eng

Find the present age of Shiva-

शिवा की वर्तमान आयु ज्ञात कीजिये -

Statement I: Shiva is youngest among 3 brothers.

Statement II: Five years ago of Shiva was half of eldest brother Ram.

Statement III: 5 years hence difference of Ram and Shyam will be 5 years. Shyam is 3 years elder to Shiva.

कथन I: शिवा तीन भाइयों में सबसे छोटा है।

कथन II: पाँच वर्ष पूर्व शिव की आयु सबसे बड़े भाई राम की आयु की आधी थी।

कथन III: पाँच वर्ष पश्चात राम तथा श्याम किन आयु का अन्तर 5 वर्ष होगा श्याम शिव से 3 वर्ष बड़ा है।

01. All three together are sufficient  
सभी तीनों एक साथ पर्याप्त हैं

02. II and III alone are sufficient  
II तथा III अकेले पर्याप्त हैं

03. I and III alone are sufficient  
I तथा III अकेले पर्याप्त हैं

04. None of these  
इनमें से कोई नहीं

05. Any two are sufficient  
कोई भी दो पर्याप्त हैं

**Q-44**  
eng hin

Find the present age of Shiva-

शिवा की वर्तमान आयु ज्ञात कीजिये -

Statement I: Shiva is youngest among 3 brothers.

Statement II: Five years ago of Shiva was half of eldest brother Ram.

Statement III: 5 years hence difference of Ram and Shyam will be 5 years. Shyam is 3 years elder to Shiva.

कथन I: शिवा तीन भाइयों में सबसे छोटा है।

कथन II: पाँच वर्ष पूर्व शिव की आयु सबसे बड़े भाई राम की आयु की आधी थी।



कथन III: पाँच वर्ष पश्चात राम तथा श्याम किन आयु का अन्तर 5 वर्ष होगा श्याम शिव से 3 वर्ष बड़ा है।

- |  |   |
|--|---|
| <p>01. All three together are sufficient<br/>सभी तीनों एक साथ पर्याप्त हैं</p> <p>03. I and III alone are sufficient<br/>I तथा III अकेले पर्याप्त हैं</p> <p>05. Any two are sufficient<br/>कोई भी दो पर्याप्त हैं</p> | <p>02. II and III alone are sufficient<br/>II तथा III अकेले पर्याप्त हैं</p> <p>04. None of these<br/>इनमें से कोई नहीं</p> |
|--|---|

#### Solution for Question 44

Ans Key: 2

eng/eng II and III alone are sufficient  
II तथा III अकेले पर्याप्त हैं

eng hin II and III alone are sufficient  
II तथा III अकेले पर्याप्त हैं

#### Q-45 Find the amount at the end of 3 years and 6 months-

eng/eng 3 वर्ष और 6 माह के अंत में मिश्रधन ज्ञात कीजिये -

Statement I: If a principal is invested at same rate of simple interest for 12 years it becomes 3 times.

Statement II: The principle produces a compound interest of 1800 if invested at same rate of interest for 2 years.

Statement III: Any principal invested at same rate of compound interest become 139.24% at the end of 2 years.

कथन I: यदि एक मूलधन 12 वर्ष के लिए साधारण व्याज दर पर निवेश करता है तो यह 3 गुना हो जाता है।

कथन II: यदि मूलधन को 2 वर्षों के लिए समान चक्रवृद्धि व्याज दर निवेश किया जाता है तो 1800 का चक्रवृद्धि व्याज प्राप्त होता है।

कथन III: यदि मूलधन को 2 वर्षों के लिए चक्रवृद्धि व्याज पर निवेश किया जाता है तो यह खुद का 139.24% हो जाता है।

- |  |   |
|--|---|
| <p>01. All three together are not sufficient<br/>सभी तीनों एक साथ भी पर्याप्त नहीं हैं</p> <p>03. II and (I or III) are sufficient<br/>II तथा (I या III) पर्याप्त हैं</p> <p>05. None of these<br/>इनमें से कोई नहीं</p> | <p>02. I and (II or III) are sufficient<br/>I तथा (II या III) पर्याप्त हैं</p> <p>04. Any two are sufficient<br/>कोई भी दो पर्याप्त हैं</p> |
|--|---|

#### Q-45 Find the amount at the end of 3 years and 6 months-

eng hin 3 वर्ष और 6 माह के अंत में मिश्रधन ज्ञात कीजिये -

Statement I: If a principal is invested at same rate of simple interest for 12 years it becomes 3 times.

Statement II: The principle produces a compound interest of 1800 if invested at same rate of interest for 2 years.

Statement III: Any principal invested at same rate of compound interest become 139.24% at the end of 2 years.

कथन I: यदि एक मूलधन 12 वर्ष के लिए साधारण व्याज दर पर निवेश करता है तो यह 3 गुना हो जाता है।

कथन II: यदि मूलधन को 2 वर्षों के लिए समान चक्रवृद्धि व्याज दर निवेश किया जाता है तो 1800 का चक्रवृद्धि व्याज प्राप्त होता है।

कथन III: यदि मूलधन को 2 वर्षों के लिए चक्रवृद्धि व्याज पर निवेश किया जाता है तो यह खुद का 139.24% हो जाता है।

- |  |   |
|--|---|
| <p>01. All three together are not sufficient<br/>सभी तीनों एक साथ भी पर्याप्त नहीं हैं</p> <p>03. II and (I or III) are sufficient<br/>II तथा (I या III) पर्याप्त हैं</p> <p>05. None of these<br/>इनमें से कोई नहीं</p> | <p>02. I and (II or III) are sufficient<br/>I तथा (II या III) पर्याप्त हैं</p> <p>04. Any two are sufficient<br/>कोई भी दो पर्याप्त हैं</p> |
|--|---|

#### Solution for Question 45

Ans Key: 3

eng/eng II and either I or III  
II तथा I या III

eng hin II and either I or III  
II तथा I या III

#### Q-46 What approximate value will come in place of question mark (?) in the question given below?

eng/eng निम्नलिखित प्रश्न में प्रश्नवाचक चिन्ह (?) के स्थान पर लगभग क्या मान आयेगा?

$$58.13 \times 54.87 + 18.895^2 = ?^2$$

- |  |                             |
|--|-----------------------------|
| <p>01. 12</p> <p>03. 9</p> <p>05. 18</p> | <p>02. 20</p> <p>04. 15</p> |
|--|-----------------------------|

#### Q-46 What approximate value will come in place of question mark (?) in the question given below?

eng hin निम्नलिखित प्रश्न में प्रश्नवाचक चिन्ह (?) के स्थान पर लगभग क्या मान आयेगा?

$$58.13 \times 54.87 + 18.895^2 = ?^3$$

01. 12

02. 20

03. 9

04. 15

05. 18

#### Solution for Question 46

Ans Key: 4

eng/eng  $?^3 = 3190 + 361$   
 $?^3 = 3551$   
 $? \approx 15$

eng hin  $?^3 = 3190 + 361$   
 $?^3 = 3551$   
 $? \approx 15$

**Q-47** What approximate value will come in place of question mark (?) in the question given below?

निम्नलिखित प्रश्न में प्रश्नवाचक चिन्ह (?) के स्थान पर लगभग क्या मान आयेगा?

$$140.35\% \text{ of } 921 - 77.11\% \text{ of } 1442 + 16.7\% \text{ of } 126.2 = ?^2$$

01. 8

02. 12

03. 14

04. 17

05. 20

**Q-47** What approximate value will come in place of question mark (?) in the question given below?

निम्नलिखित प्रश्न में प्रश्नवाचक चिन्ह (?) के स्थान पर लगभग क्या मान आयेगा?

$$140.35\% \text{ of } 921 - 77.11\% \text{ of } 1442 + 16.7\% \text{ of } 126.2 = ?^2$$

01. 8

02. 12

03. 14

04. 17

05. 20

#### Solution for Question 47

Ans Key: 3

eng/eng  $1290 - 1111 + 21 = 200$   
 $? \approx 14$

eng hin  $1290 - 1111 + 21 = 200$   
 $? \approx 14$

**Q-48** What approximate value will come in place of question mark (?) in the question given below?

निम्नलिखित प्रश्न में प्रश्नवाचक चिन्ह (?) के स्थान पर लगभग क्या मान आयेगा?

$$12.09^3 + 26.89^2 - 53.95^2 = ?^2 - 251\% \text{ of } 519.9$$

01. 32

02. 41

03. 46

04. 52

05. 38

**Q-48** What approximate value will come in place of question mark (?) in the question given below?

निम्नलिखित प्रश्न में प्रश्नवाचक चिन्ह (?) के स्थान पर लगभग क्या मान आयेगा?

$$12.09^3 + 26.89^2 - 53.95^2 = ?^2 - 251\% \text{ of } 519.9$$

01. 32

02. 41

03. 46

04. 52

05. 38

#### Solution for Question 48

Ans Key: 3

eng/eng  $1728 + 729 - 2916 + 1300 = ?^2$   
 $?^2 = 2141$   
 $? \approx 46$

eng hin  $1728 + 729 - 2916 + 1300 = ?^2$   
 $?^2 = 2141$   
 $? \approx 46$

$$?^2 = 2141$$

$$? \approx 46$$

**Q-49** What approximate value will come in place of question mark (?) in the question given below?  
 eng/eng निम्नलिखित प्रश्न में प्रश्नवाचक चिन्ह (?) के स्थान पर लगभग क्या मान आयेगा?

$$123 \times 79 - 25 \times 33 = ?\% \text{ of } 451$$

- |          |          |
|----------|----------|
| 01. 1980 | 02. 1920 |
| 03. 1850 | 04. 1890 |
| 05. 1950 |          |

**Q-49** What approximate value will come in place of question mark (?) in the question given below?  
 eng/hin निम्नलिखित प्रश्न में प्रश्नवाचक चिन्ह (?) के स्थान पर लगभग क्या मान आयेगा?

$$123 \times 79 - 25 \times 33 = ?\% \text{ of } 451$$

- |          |          |
|----------|----------|
| 01. 1980 | 02. 1920 |
| 03. 1850 | 04. 1890 |
| 05. 1950 |          |

**Solution for Question 49** Ans Key: 1

eng/eng  $? = 8892 / 4.55$   
 $? = 1976$

eng/hin  $? = 8892 / 4.55$   
 $? = 1976$

**Q-50** What approximate value will come in place of question mark (?) in the question given below?  
 eng/eng निम्नलिखित प्रश्न में प्रश्नवाचक चिन्ह (?) के स्थान पर लगभग क्या मान आयेगा?

$$18^3 + 25^2 = 13^3 + ?^2$$

- |        |        |
|--------|--------|
| 01. 55 | 02. 45 |
| 03. 65 | 04. 75 |
| 05. 85 |        |

**Q-50** What approximate value will come in place of question mark (?) in the question given below?  
 eng/hin निम्नलिखित प्रश्न में प्रश्नवाचक चिन्ह (?) के स्थान पर लगभग क्या मान आयेगा?

$$18^3 + 25^2 = 13^3 + ?^2$$

- |        |        |
|--------|--------|
| 01. 55 | 02. 45 |
| 03. 65 | 04. 75 |
| 05. 85 |        |

**Solution for Question 50** Ans Key: 3

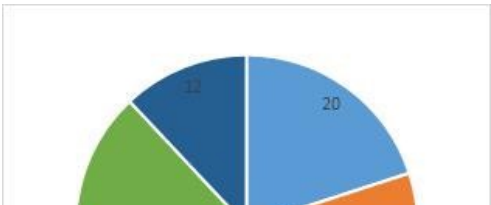
eng/eng  $?^2 = 4260$   
 $? \approx 65$

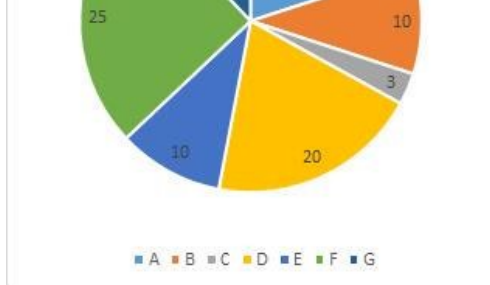
eng/hin  $?^2 = 4260$   
 $? \approx 65$

**Passage for Question 51, 52, 53, 54, 55 (ST-2091RRBCLERKMAINS(11-15M)2020)**  
 eng/eng Passage

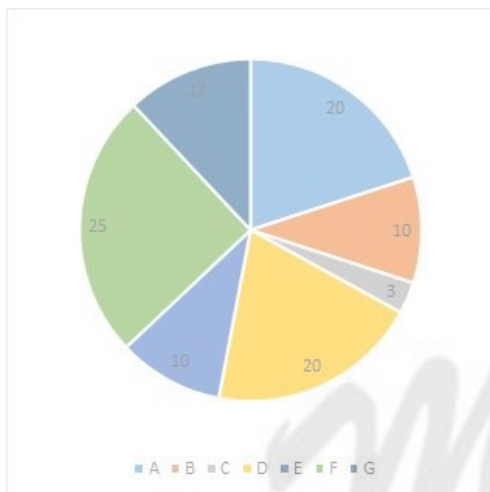
Study the following information carefully and answer the question given below it :  
 निम्नलिखित जानकारी का ध्यानपूर्वक अध्ययन करें और नीचे दिए गए प्रश्न का उत्तर दें:

Percentage distribution of income of seven companies in a state during financial year –2018-2019  
 वित्तीय वर्ष –2018-2019 के दौरान एक राज्य में सात कंपनियों की आय का प्रतिशत विवरण





Percentage profit of these companies during the same financial year



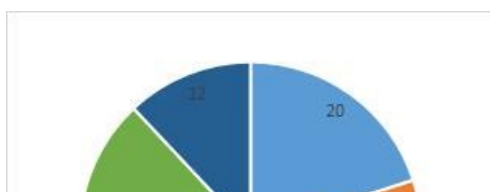
समान वित्तीय वर्ष के दौरान इन कंपनियों का प्रतिशत लाभ

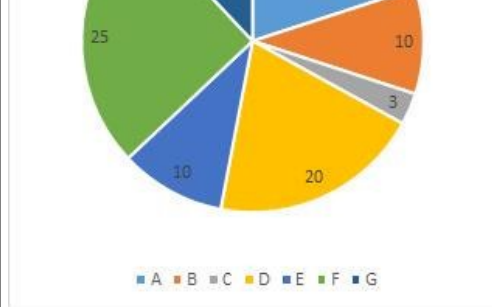


eng hin Passage

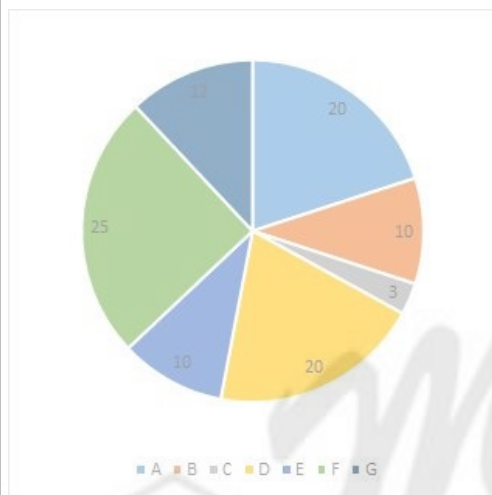
Study the following information carefully and answer the question given below it :  
निम्नलिखित जानकारी का ध्यानपूर्वक अध्ययन करें और नीचे दिए गए प्रश्न का उत्तर दें:

Percentage distribution of income of seven companies in a state during financial year –2018-2019  
वित्तीय वर्ष –2018-2019 के दौरान एक राज्य में सात कंपनियों की आय का प्रतिशत विवरण

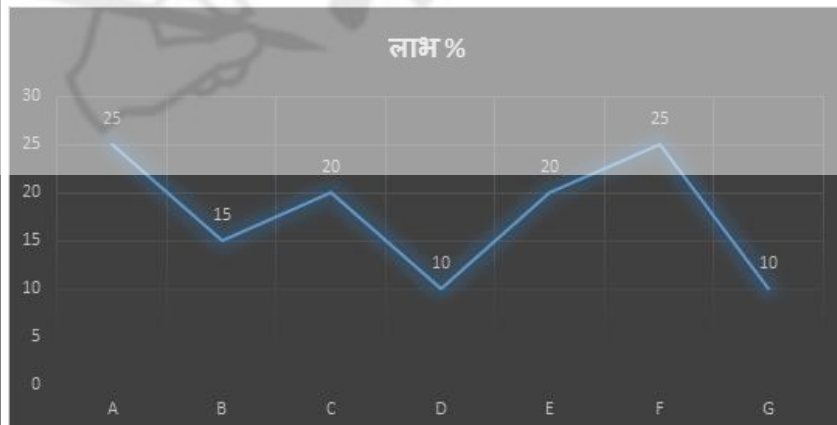




Percentage profit of these companies during the same financial year



समान वित्तीय वर्ष के दौरान इन कंपनियों का प्रतिशत लाभ



**Q-51** If the income of company D and B together is Rs. 480 crore then find the profit of company B in that year ? (up to two decimal points)  
**eng/eng** यदि कंपनी D और B की आय एक साथ रु. 480 करोड़ है तो उसी वर्ष में कंपनी B का लाभ ज्ञात कीजिये। (दशमलव के बाद दो अंकों तक)

01. 127.56
02. 142.11
03. 118.09
04. 139.13
05. 125.66

**Q-51** If the income of company D and B together is Rs. 480 crore then find the profit of company B in that year ? (up to two decimal points)  
**eng/hin** यदि कंपनी D और B की आय एक साथ रु. 480 करोड़ है तो उसी वर्ष में कंपनी B का लाभ ज्ञात कीजिये। (दशमलव के बाद दो अंकों तक)



02. 142.11
04. 139.13

Ans Key: 4

eng hin

$(20\% + 10\%) = 480$   
 $10\% = 160$   
Required answer =  $15\%$  of  $160 = 160 \times \frac{100}{115} \approx 139.13$

$20\% + 10\%) = 480$   
 $10\% = 160$   
अभीष्ट उत्तर =  $15\%$  of  $160 = 160 \times \frac{100}{115} \approx 139.13$

01. 696.67	02. 588.33
03. 625.25	04. 670.75
05. 595.50	

01. 696.67	02. 588.33
03. 625.25	04. 670.75
05. 595.50	

Ans Key: 1

**eng hin** Let total income of all companies be x

$$\frac{20}{100} \times x \times \frac{100}{110} = 1520$$
$$x = 8360$$

Income of E=836

Required answer=  $836 \times \frac{100}{120} = 696.67$  crore

01. 696.5  
02. 707.75  
03. 456.25  
04. 742.5  
05. None of these  
इनमें से कोई नहीं

**01.** 696.5                      **02.** 707.75



01. 2400  
02. 2700  
03. 2950  
04. 3250  
05. None of these  
इनमें से कोई नहीं

If the difference between the income of company F and company A is Rs. 375 crore, what is the expenditure of both the companies together?  
यदि कंपनी F और कंपनी A की आय के बीच का अंतर रु. 375 करोड़, दोनों कंपनियों का खर्च एक साथ क्या है?

01. 2400  
02. 2700  
03. 2950  
04. 3250  
05. None of these  
इनमें से कोई नहीं

### Answer for Question 55

Ans Key: 2

$$\begin{aligned} 5\% &= 375 \\ 1\% &= 75 \\ (45 \times 75) / 125 \times 100 &= 2700 \end{aligned}$$
$$5\% = 375$$
$$1\% = 75$$
$$(45 \times 75) / 125 \times 100 = 2700$$

## Passage for Question 56, 57, 58, 59, 60 (ST-2091RRBCLERKMAINS(16-20M)2020)

eng/eng Passage

Read the following information carefully to answer the questions asked-  
पढ़े गए प्रश्नों के उत्तर देने के लिए निम्नलिखित जानकारी को ध्यानपूर्वक पढ़ें-

Below data is related to sale of three shopkeepers during months of July 2019. All shopkeeper sells four articles named as TV, washing machine, AC and cooler. TV sold by shopkeeper A constitutes 36% of total items sold by him. He sells total 150 coolers which is 140 less than AC sold by him. Number of Washing machine sold by him is 20% less than the number of TV sold by him.

Ratio of TV, AC and washing machine sold by shopkeeper B is 16:10:9. Number of cooler sold by shopkeeper B is 60 less than the number of Cooler sold by shopkeeper A and constitutes 11.25% in the total sale of shopkeeper B.

Total sale of all four items of shopkeeper C is 6.25% less than that of B. Average number of TV and cooler sold by shopkeeper is 225 and shopkeeper sells 50 more washing machine then AC.

नीचे दी गयी जानकारी जुलाई 2019 के महीनों के दौरान तीन दुकानदारों की बिक्री से संबंधित है। सभी दुकानदार टीवी, वॉशिंग मशीन, एसी और कूलर चार वस्तुएं बेचते हैं। दुकानदार A द्वारा बेची गया टीवी उसके द्वारा बेची गई कुल वस्तुओं का 36% है। वह कुल 150 कूलर बेचता है जो उसके द्वारा बेची गई एसी से 140 कम है। उनके द्वारा बेची गई वॉशिंग मशीन की संख्या उनके द्वारा बेची गई टीवी की संख्या से 20% कम है।

दुकानदार B द्वारा बेचे गए टीवी, एसी और वाशिंग मशीन का अनुपात 16: 10: 9 है। दुकानदार B द्वारा बेची गई कूलर की संख्या, दुकानदार A द्वारा बेचे गए कूलर की संख्या से 60 कम है और यह दुकानदार B की कुल बिक्री में 11.25% का योगदान देती है।

दुकानदार C की सभी चार वस्तुओं की कुल बिक्री दुकानदार B की तुलना में 6.25% कम है। दुकानदार द्वारा बेची जाने वाली टीवी और कूलर की औसत संख्या 225 है और दुकानदार एसी की तुलना में 50 अधिक वाशिंग मशीन बेचता है।

eng hin Passage

**Read the following information carefully to answer the questions asked-  
पढ़े गए प्रश्नों के उत्तर देने के लिए निम्नलिखित जानकारी को ध्यानपूर्वक पढ़ें-**

Below data is related to sale of three shopkeepers during months of July 2019. All shopkeeper sells four articles named as TV, washing machine, AC and cooler. TV sold by shopkeeper A constitutes 36% of total items sold by him. He sells total 150 coolers which is 140 less than AC sold by him. Number of Washing machine sold by him is 20% less than the number of TV sold by him.

Ratio of TV, AC and washing machine sold by shopkeeper B is 16:10:9. Number of cooler sold by shopkeeper B is 60 less than the number of Cooler sold by shopkeeper A and constitutes 11.25% in the total sale of shopkeeper B.

Total sale of all four items of shopkeeper C is 6.25% less than that of B. Average number of TV and cooler sold by shopkeeper is 225 and shopkeeper sells 50 more washing machine then AC.

नीचे दी गयी जानकारी जुलाई 2019 के महीनों के दौरान तीन दुकानदारों की बिक्री से संबंधित है। सभी दुकानदार टीवी, वॉशिंग मशीन, एसी और कूलर चार वस्तुएं बेचते हैं। दुकानदार A द्वारा बेची गया टीवी उसके द्वारा बेची गई कुल वस्तुओं का 36% है। वह कुल 150 कूलर बेचता है जो उसके द्वारा बेची गई एसी से 140 कम है। उनके द्वारा बेची गई वॉशिंग मशीन की संख्या उनके द्वारा बेची गई टीवी की संख्या से 20% कम है।

दुकानदार B द्वारा बेचे गए टीवी, एसी और वाशिंग मशीन का अनुपात 16: 10: 9 है। दुकानदार B द्वारा बेची गई कूलर की संख्या, दुकानदार A द्वारा बेचे गए कूलर की संख्या से 60 कम है और यह दुकानदार B की कुल बिक्री में 11.25% का योगदान देती है।

दुकानदार C की सभी चार वस्तुओं की कुल बिक्री दुकानदार B की तुलना में 6.25% कम है। दुकानदार द्वारा बेची जाने वाली टीवी और कूलर की औसत संख्या 225 है और दुकानदार एसी की तुलना में 50 अधिक वाशिंग मशीन बेचता है।

**Q-56** Total sale of shopkeeper C is what percent of total sale of shopkeeper A?  
**eng/eng** दुकानदार C की कुल बिक्री दुकानदार A की कुल बिक्री का कितना प्रतिशत है?

01. 50

02. 75
03. 60

04. 40
05. Data is not sufficient  
आंकड़े पर्याप्त हैं

**Q-56** Total sale of shopkeeper C is what percent of total sale of shopkeeper A?  
**eng hin** दुकानदार C की कुल बिक्री दुकानदार A की कुल बिक्री का कितना प्रतिशत है?

01. 50

02. 75
03. 60

04. 40
05. Data is not sufficient  
आंकड़े पर्याप्त हैं

**Solution for Question 56** Ans Key: 3

**eng/eng** Required answer= $\frac{750}{1250} \times 100 = 60\%$   
अभीष्ट उत्तर= $\frac{750}{1250} \times 100 = 60\%$

Shopkeeper	TV	Washing machine	AC	Cooler
A	450	360	290	150
B	320	180	200	90
C	x	175	125	450-x

दुकानदार	टीवी	वाशिंग मशीन	एसी	कूलर
A	450	360	290	150
B	320	180	200	90
C	x	175	125	450-x

**eng hin** Required answer= $\frac{750}{1250} \times 100 = 60\%$   
अभीष्ट उत्तर= $\frac{750}{1250} \times 100 = 60\%$

Shopkeeper	TV	Washing machine	AC	Cooler
A	450	360	290	150
B	320	180	200	90
C	x	175	125	450-x

दुकानदार	टीवी	वाशिंग मशीन	एसी	कूलर
A	450	360	290	150
B	320	180	200	90
C	x	175	125	450-x

**Q-57** Find the difference of average number of TV and AC sold by all three shopkeepers.  
**eng/eng** सभी तीन दुकानदारों द्वारा बेचे जाने वाले टीवी और एसी की औसत संख्या का अंतर ज्ञात कीजिये।

01. 120

02. 80
03. 75

04. 60
05. Data is not sufficient  
आंकड़े पर्याप्त नहीं हैं

**Q-57** Find the difference of average number of TV and AC sold by all three shopkeepers.  
**eng hin** सभी तीन दुकानदारों द्वारा बेचे जाने वाले टीवी और एसी की औसत संख्या का अंतर ज्ञात कीजिये।

01. 120

02. 80
03. 75

04. 60
05. Data is not sufficient  
आंकड़े पर्याप्त नहीं हैं

**Solution for Question 57** Ans Key: 5

**eng/eng** Given data is not sufficient to answer the question  
प्रश्न का उत्तर देने के लिए दी गयी जानकारी पर्याप्त नहीं है

<b>eng hin</b>	Given data is not sufficient to answer the question प्रश्न का उत्तर देने के लिए दी गयी जानकारी पर्याप्त नहीं है
----------------	--

<b>Q-58</b> <b>eng/eng</b>	Find ratio of washing machine sold by shopkeeper C to that of AC sold by shopkeeper B. दुकानदार C द्वारा बेची गई वाशिंग मशीन तथा दुकानदार B द्वारा बेची गयी एसी का अनुपात ज्ञात कीजिये।
<b>01.</b>	4:3
<b>02.</b>	7:8
<b>03.</b>	15:16
<b>04.</b>	12:11
<b>05.</b>	None of these

<b>Q-58</b> <b>eng hin</b>	Find ratio of washing machine sold by shopkeeper C to that of AC sold by shopkeeper B. दुकानदार C द्वारा बेची गई वाशिंग मशीन तथा दुकानदार B द्वारा बेची गयी एसी का अनुपात ज्ञात कीजिये।
<b>01.</b>	4:3
<b>02.</b>	7:8
<b>03.</b>	15:16
<b>04.</b>	12:11
<b>05.</b>	None of these

<b>Solution for Question 58</b>		Ans Key: 2
<b>eng/eng</b>	Required answer= $175:200=7:8$ अभीष्ट उत्तर= $175:200=7:8$	
<b>eng hin</b>	Required answer= $175:200=7:8$ अभीष्ट उत्तर= $175:200=7:8$	

<b>Q-59</b> <b>eng/eng</b>	Find average number of articles sold by shopkeeper B. दुकानदार B द्वारा बेचे जाने वाले लेखों की औसत संख्या ज्ञात करें।
<b>01.</b>	175
<b>02.</b>	180
<b>03.</b>	190
<b>04.</b>	210
<b>05.</b>	None of these
<b>Q-59</b> <b>eng hin</b>	Find average number of articles sold by shopkeeper B. दुकानदार B द्वारा बेचे जाने वाले लेखों की औसत संख्या ज्ञात करें।
<b>01.</b>	175
<b>02.</b>	180
<b>03.</b>	190
<b>04.</b>	210
<b>05.</b>	None of these

<b>Solution for Question 59</b>		Ans Key: 5
<b>eng/eng</b>	Required answer= $800/4=200$ अभीष्ट उत्तर= $800/4=200$	
<b>eng hin</b>	Required answer= $800/4=200$ अभीष्ट उत्तर= $800/4=200$	

<b>Q-60</b> <b>eng/eng</b>	Number of AC and washing machine sold by shopkeeper B is what percent of number of TV sold by shopkeeper A? दुकानदार B द्वारा बेची गई AC और वाशिंग मशीन की संख्या दुकानदार A द्वारा बेची गई टीवी की संख्या का कितना प्रतिशत है?
<b>01.</b>	73.33
<b>02.</b>	75.25
<b>03.</b>	66.67
<b>04.</b>	84.44
<b>05.</b>	80.33

<b>Q-60</b> <b>eng hin</b>	Number of AC and washing machine sold by shopkeeper B is what percent of number of TV sold by shopkeeper A? दुकानदार B द्वारा बेची गई AC और वाशिंग मशीन की संख्या दुकानदार A द्वारा बेची गई टीवी की संख्या का कितना प्रतिशत है?
<b>01.</b>	73.33
<b>02.</b>	75.25
<b>03.</b>	66.67
<b>04.</b>	84.44
<b>05.</b>	80.33

<b>Solution for Question 60</b>		Ans Key: 4
<b>eng/eng</b>	Required answer= $\frac{380}{450} \times 100 = 84.44\%$ अभीष्ट उत्तर= $\frac{380}{450} \times 100 = 84.44\%$	



Required answer =  $\frac{380}{450} \times 100 = 84.44\%$   
अभीष्ट उत्तर =  $\frac{380}{450} \times 100 = 84.44\%$

घड़ी B की लागत मूल्य घड़ी A की तुलना में 20% अधिक है, घड़ियों A और B का अंकित मूल्य क्रमशः 50% और 40% बढ़ा का अंकित किया गया। घड़ी A को 20% की छूट पर बेचा गया और घड़ी B को 30% की छूट पर बेचा गया। यदि घड़ी A का SP घड़ी B के SP से 30 रु. अधिक था, तो B का CP क्या था?

- घड़ी B की लागत मूल्य घड़ी A की तुलना में 20% अधिक है, घड़ियों A और B का अंकित मूल्य क्रमशः 50% और 40% बढ़ा का अंकित किया गया। घड़ी A को 20% की छूट पर बेचा गया और घड़ी B को 30% की छूट पर बेचा गया। यदि घड़ी A का SP घड़ी B के SP से 30 रु. अधिक था, तो B का CP क्या था?

- Solution for Question 61** Ans Key: 5

eng/eng	A	B	
	CP	500	600
	MP	750	840
	SP	600	588
	Here $12=30$		
	So $1=2.5$		
	And $600=1500$		

eng/eng	A	B
CP	500	600
MP	750	840
SP	600	588
Here $12=30$		
So $1=2.5$		
And $600=1500$		

	A	B
CP	500	600
MP	750	840
SP	600	588
यहाँ $12=30$		
अतः $1=2.5$		
और $600=1500$		

eng hin	A	B	
	CP	500	600
	MP	750	840
	SP	600	588
	Here $12=30$		
	So $1=2.5$		
	And $600=1500$		

eng hin	A	B
	CP	500 600
	MP	750 840
	SP	600 588
	Here $12=30$	
	So $1=2.5$	
	And $600=1500$	

	A	B
CP	500	600
MP	750	840
SP	600	588
यहाँ	$12=30$	
अतः	$1=2.5$	
और	$600=1500$	

स्कीम A में "X" वर्षों के लिए एक धन लगाया गया जो साधारण ब्याज प्रदान करता है। "X" वर्षों के बाद प्राप्त राशि योजना में निवेश की गयी राशि की दोगुना थी। योजना A से प्राप्त राशि क्या होगी, जब 2800 रुपये की राशि "2X" वर्षों के लिए निवेश की जाती है।

- [illegible]

इनमें से कोई नहीं

**Q-62**  
**eng hin**

A sum of money was invested for “X” years in scheme A offering simple interest. The amount received after “X” years was twice the sum of money invested in the scheme. What will be the amount received for scheme A, when a sum of Rs 2800, is invested for “2X” years.  
स्कीम A में "X" वर्षों के लिए एक धन लगाया गया जो साधारण ब्याज प्रदान करता है। “X” वर्षों के बाद प्राप्त राशि योजना में निवेश की गयी राशि की दोगुना थी। योजना A से प्राप्त राशि क्या होगी, जब 2800 रुपये की राशि "2X" वर्षों के लिए निवेश की जाती है।

- 01.** 11200
- 02.** 5600
- 03.** 8400
- 04.** 9600
- 05.** None of these  
इनमें से कोई नहीं

**Solution for Question 62**

Ans Key: 3

**eng/eng** Amount  $\times 100 = P(100 + RX)$   
 $2P \times 100 = P(100 + RX)$   
 $R = 100/T$   
Amount  $\times 100 = P(100 + RX)$   
Amount  $\times 100 = 2800 \{100 + 100/X \times 2X\}$   
Amount = 8400

मिश्रधन  $\times 100 = P(100 + RX)$   
 $2P \times 100 = P(100 + RX)$   
 $R = 100/T$   
मिश्रधन  $\times 100 = P(100 + RX)$   
मिश्रधन  $\times 100 = 2800 \{100 + 100/X \times 2X\}$   
मिश्रधन = 8400

**eng hin** Amount  $\times 100 = P(100 + RX)$   
 $2P \times 100 = P(100 + RX)$   
 $R = 100/T$   
Amount  $\times 100 = P(100 + RX)$   
Amount  $\times 100 = 2800 \{100 + 100/X \times 2X\}$   
Amount = 8400

मिश्रधन  $\times 100 = P(100 + RX)$   
 $2P \times 100 = P(100 + RX)$   
 $R = 100/T$   
मिश्रधन  $\times 100 = P(100 + RX)$   
मिश्रधन  $\times 100 = 2800 \{100 + 100/X \times 2X\}$   
मिश्रधन = 8400

**Q-63**  
**eng/eng**

Rahul’s age after 18 years will be 6 years less than twice his present age. The respective ratio between Suresh’s present age and Gokul’s present age is 4:3. If Gokul’s age 39 years hence will be same as 2.5 times Rahul’s present age. what will be Suresh’s age 8 years hence.  
18 वर्ष के बाद राहुल की आयु उसकी वर्तमान आयु के दोगुने से 6 वर्ष कम होगी। सुरेश की वर्तमान आयु और गोकुल की वर्तमान आयु के बीच का अनुपात 4: 3 है। यदि 39 वर्ष पश्चात गोकुल की आयु राहुल की वर्तमान आयु के 2.5 गुना के बराबर है तो 8 वर्ष पश्चात सुरेश की आयु क्या होगी?

- 01.** 28
- 02.** 30
- 03.** 36
- 04.** 34
- 05.** None of these  
इनमें से कोई नहीं

**Q-63**  
**eng hin**

Rahul’s age after 18 years will be 6 years less than twice his present age. The respective ratio between Suresh’s present age and Gokul’s present age is 4:3. If Gokul’s age 39 years hence will be same as 2.5 times Rahul’s present age. what will be Suresh’s age 8 years hence.  
18 वर्ष के बाद राहुल की आयु उसकी वर्तमान आयु के दोगुने से 6 वर्ष कम होगी। सुरेश की वर्तमान आयु और गोकुल की वर्तमान आयु के बीच का अनुपात 4: 3 है। यदि 39 वर्ष पश्चात गोकुल की आयु राहुल की वर्तमान आयु के 2.5 गुना के बराबर है तो 8 वर्ष पश्चात सुरेश की आयु क्या होगी?

- 01.** 28
- 02.** 30
- 03.** 36
- 04.** 34
- 05.** None of these  
इनमें से कोई नहीं

**Solution for Question 63**

Ans Key: 3

**eng/eng** Let Rahul’s present age = x years  
 $x + 18 = 2x - 6$   
 $x = 24$  years  
Suresh’s present age = 4y  
Gokul’s present age = 3y  
 $3y + 39 = 2.5 \times 24$   
 $y = 7$   
Suresh’s age 4 years hence =  $(4 \times 7) + 8 = 36$  years

माना राहुल की वर्तमान आयु = x वर्ष  
 $x+18=2x-6$   
 $x=24$  वर्ष  
 सुरेश की वर्तमान आयु = 4y  
 गोकुल की वर्तमान आयु = 3y  
 $3y+39=2.5 \times 24$   
 $y=7$   
 4 वर्ष पश्चात सुरेश की आयु =  $(4 \times 7) + 8 = 36$  वर्ष

**eng hin** Let Rahul's present age = x years  
 $x+18=2x-6$   
 $x=24$  years  
 Suresh's present age = 4y  
 Gokul's present age = 3y  
 $3y+39=2.5 \times 24$   
 $y=7$   
 Suresh's age 4 years hence =  $(4 \times 7) + 8 = 36$  years  
 माना राहुल की वर्तमान आयु = x वर्ष  
 $x+18=2x-6$   
 $x=24$  वर्ष  
 सुरेश की वर्तमान आयु = 4y  
 गोकुल की वर्तमान आयु = 3y  
 $3y+39=2.5 \times 24$   
 $y=7$   
 4 वर्ष पश्चात सुरेश की आयु =  $(4 \times 7) + 8 = 36$  वर्ष

**Q-64 eng/eng** Two cards are drawn from a pack of well shuffled cards, find the probability of getting two face cards of different colors.  
 दो कार्ड अच्छी तरह से फेरे गए कार्ड के एक पैकेट से निकाले जाते हैं, विभिन्न रंगों के दो फेस कार्ड प्राप्त करने की संभावना ज्ञात कीजिये।

01.  $\frac{7}{221}$

02.  $\frac{5}{221}$

03.  $\frac{5}{442}$

04.  $\frac{8}{221}$

05. None of these  
 इनमें से कोई नहीं

**Q-64 eng/hin** Two cards are drawn from a pack of well shuffled cards, find the probability of getting two face cards of different colors.  
 दो कार्ड अच्छी तरह से फेरे गए कार्ड के एक पैकेट से निकाले जाते हैं, विभिन्न रंगों के दो फेस कार्ड प्राप्त करने की संभावना ज्ञात कीजिये।

01.  $\frac{7}{221}$

02.  $\frac{5}{221}$

03.  $\frac{5}{442}$

04.  $\frac{8}{221}$

05. None of these  
 इनमें से कोई नहीं

#### Solution for Question 64

Ans Key: 2

**eng/eng** Required answer =  $2 \times \frac{6 \times 5}{52 \times 51} = \frac{5}{221}$   
 अभीष्ट उत्तर =  $2 \times \frac{6 \times 5}{52 \times 51} = \frac{5}{221}$

**eng hin** Required answer =  $2 \times \frac{6 \times 5}{52 \times 51} = \frac{5}{221}$   
 अभीष्ट उत्तर =  $2 \times \frac{6 \times 5}{52 \times 51} = \frac{5}{221}$

**Q-65 eng/eng** Sanjana and Vikas can complete a work in 36 and 30 days respectively. Vikas working with Kamran and Divya can complete the same work in  $10\frac{10}{11}$  days. If ratio of efficiency of Kamran and Divya is 2:5. Find the time taken by Sanjana and Kamran to complete the work working together.  
 संजना और विकास क्रमशः 36 और 30 दिनों में एक कार्य पूरा कर सकते हैं। कामरान और दिव्या के साथ कार्य करते हुए विकास समान कार्य को  $10\frac{10}{11}$  दिनों में पूरा कर सकता है। यदि कामरान और दिव्या की क्षमता का अनुपात 2:5 है। संजना और कामरान द्वारा एक साथ समान कार्य को पूरा करने में लगा समय ज्ञात कीजिये।

01. 20

02. 22.5

03. 25

04. 27.5

05. None of these  
 इनमें से कोई नहीं

**Q-65**  
eng/hin

Sanjana and Vikas can complete a work in 36 and 30 days respectively. Vikas working with Kamran and Divya can complete the same work in  $10\frac{10}{11}$  days. If ratio of efficiency of Kamran and Divya is 2:5. Find the time taken by Sanjana and Kamran to complete the work working together.  
संजना और विकास क्रमशः 36 और 30 दिनों में एक कार्य पूरा कर सकते हैं। कामरान और दिव्या के साथ कार्य करते हुए विकास समान कार्य को  $10\frac{10}{11}$  दिनों में पूरा कर सकता है। यदि कामरान और दिव्या की क्षमता का अनुपात 2: 5 है। संजना और कामरान द्वारा एक साथ समान कार्य को पूरा करने में लगा समय ज्ञात कीजिये।

01. 20  
03. 25  
05. None of these  
इनमें से कोई नहीं
02. 22.5  
04. 27.5

**Solution for Question 65**

Ans Key: 2

eng/eng

$$\text{Time taken by Kamran and Divya} = \frac{\frac{120}{11} \times 30}{30 - \frac{120}{11}} = \frac{120}{7}$$

$$\text{Time taken by Kamran} = \frac{120}{7} \times \frac{7}{2} = 60$$

$$\text{Required answer} = \frac{60 \times 36}{96} = 22.5 \text{ days}$$

$$\text{कामरान और दिव्या द्वारा लिया गया समय} = \frac{\frac{120}{11} \times 30}{30 - \frac{120}{11}} = \frac{120}{7}$$

$$\text{कामरान द्वारा लिया गया समय} = \frac{120}{7} \times \frac{7}{2} = 60$$

$$\text{अभीष्ट उत्तर} = \frac{60 \times 36}{96} = 22.5 \text{ दिन}$$

eng/hin

$$\text{Time taken by Kamran and Divya} = \frac{\frac{120}{11} \times 30}{30 - \frac{120}{11}} = \frac{120}{7}$$

$$\text{Time taken by Kamran} = \frac{120}{7} \times \frac{7}{2} = 60$$

$$\text{Required answer} = \frac{60 \times 36}{96} = 22.5 \text{ days}$$

$$\text{कामरान और दिव्या द्वारा लिया गया समय} = \frac{\frac{120}{11} \times 30}{30 - \frac{120}{11}} = \frac{120}{7}$$

$$\text{कामरान द्वारा लिया गया समय} = \frac{120}{7} \times \frac{7}{2} = 60$$

$$\text{अभीष्ट उत्तर} = \frac{60 \times 36}{96} = 22.5 \text{ दिन}$$

**Q-66**  
eng/eng

A shopkeeper purchased 25 identical pieces of mobile phones at the rate of Rs. 1500 each. He spent an amount of Rs. 2500 on transport and packing. He fixed the labeled price of each phone at Rs. 2000. However, he decided to give a discount of 5% on the labeled price. What is percent profit earned by him?

एक दुकानदार ने 25 मोबाइल फोन को 1500 रु. प्रति फोन की दर से खरीदा। उसने पैकिंग एवं भाड़े पर 2500 रु. खर्च किये। तत्पश्चात उसने उन फोन को बेचने हेतु 2000 रु. प्रतिफोन का अंकित मूल्य अंकित किया। इस अंकित मूल्य पर उसने 5% छूट देने का निश्चय किया तो उसे इस व्यापार में कितने प्रतिशत का लाभ हुआ?

01. 18.75%  
03. 20%  
05. None of these  
इनमें से कोई नहीं
02. 16.67%  
04. 18.5%

**Q-66**  
eng/hin

A shopkeeper purchased 25 identical pieces of mobile phones at the rate of Rs. 1500 each. He spent an amount of Rs. 2500 on transport and packing. He fixed the labeled price of each phone at Rs. 2000. However, he decided to give a discount of 5% on the labeled price. What is percent profit earned by him?

एक दुकानदार ने 25 मोबाइल फोन को 1500 रु. प्रति फोन की दर से खरीदा। उसने पैकिंग एवं भाड़े पर 2500 रु. खर्च किये। तत्पश्चात उसने उन फोन को बेचने हेतु 2000 रु. प्रतिफोन का अंकित मूल्य अंकित किया। इस अंकित मूल्य पर उसने 5% छूट देने का निश्चय किया तो उसे इस व्यापार में कितने प्रतिशत का लाभ हुआ?

01. 18.75%  
03. 20%
02. 16.67%  
04. 18.5%

05. None of these  
इनमें से कोई नहीं

Ans Key: 1

### Solution for Question 66

**eng/eng** Total cost of 25 mobile sets =  
 $15000 \times 25 + 2500$   
 $= 40000$ .  
 Cost price of 1 mobile set =  $\frac{40000}{25} = 1600$   
 Labeled price = 2000.  
 S.P. 1 mobile = 95% of 2000  
 $= 1900$   
 profit % =  $\frac{1900-1600}{1600} \times 100\% = 18.75$

25 मोबाइल का क्रय मूल्य =  
 $15000 \times 25 + 2500$   
 $= 40000$ .  
 1 मोबाइल का क्रय मूल्य =  $\frac{40000}{25} = 1600$   
 अंकित मूल्य = 2000.  
 1 मोबाइल का S.P. = 95% of 2000  
 $= 1900$   
 लाभ % =  $\frac{1900-1600}{1600} \times 100\% = 18.75$

**eng hin** Total cost of 25 mobile sets =  
 $15000 \times 25 + 2500$   
 $= 40000$ .  
 Cost price of 1 mobile set =  $\frac{40000}{25} = 1600$   
 Labeled price = 2000.  
 S.P. 1 mobile = 95% of 2000  
 $= 1900$   
 profit % =  $\frac{1900-1600}{1600} \times 100\% = 18.75$

25 मोबाइल का क्रय मूल्य =  
 $15000 \times 25 + 2500$   
 $= 40000$ .  
 1 मोबाइल का क्रय मूल्य =  $\frac{40000}{25} = 1600$   
 अंकित मूल्य = 2000.  
 1 मोबाइल का S.P. = 95% of 2000  
 $= 1900$   
 लाभ % =  $\frac{1900-1600}{1600} \times 100\% = 18.75$

**Q-67** The letters of the word "AVAILABLE " are randamly arranged .find the probability that all the vowels come together .  
**eng/eng** शब्द "AVAILABLE " के अक्षरों को यद्वच्छा व्यवस्थित किया गया है | सभी स्वरों के एक साथ आने की प्रायिकता ज्ञात कीजिए

01.  $\frac{7}{126}$  02.  $\frac{11}{126}$   
 03.  $\frac{5}{126}$  04.  $\frac{3}{126}$   
 05. None of these  
 इनमें से कोई नहीं

**Q-67** The letters of the word "AVAILABLE " are randamly arranged .find the probability that all the vowels come together .  
**eng hin** शब्द "AVAILABLE " के अक्षरों को यद्वच्छा व्यवस्थित किया गया है | सभी स्वरों के एक साथ आने की प्रायिकता ज्ञात कीजिए

01.  $\frac{7}{126}$  02.  $\frac{11}{126}$   
 03.  $\frac{5}{126}$  04.  $\frac{3}{126}$   
 05. None of these  
 इनमें से कोई नहीं

### Solution for Question 67

Ans Key: 3

**eng/eng** Required probability =  $\frac{5! \times 5!}{12!} = \frac{5}{126}$

$$\text{अभीष्ट प्रायिकता} = \frac{5! \times 5!}{9!} = \frac{5}{126}$$

<b>01.</b> 5%	<b>02.</b> 7%
<b>03.</b> 6%	<b>04.</b> 7.5%
<b>05.</b> None of these	
इनमें से कोई नहीं	

**01.** 5%    **02.** 7%

**03.** 6%    **04.** 7.5%

**05.** None of these  
इनमें से कोई नहीं

Equivalent rate of interest =  $\frac{1738}{12000} \times 100\% = 14.49 = 7 + 7 + \frac{7^2}{100}$   
Hence required answer = 7%

Equivalent rate of interest =  $\frac{1738}{12000} \times 100\% = 14.49\% = 7 + 7 + \frac{7^2}{100}$

Hence required answer = 7%

किसी परिवार के 15 व्यक्तियों की औसत आयु 42 वर्ष है। जब दो व्यक्ति जिनकी आयु 36 वर्ष और X वर्ष है, को दूसरे परिवार के 21 वर्ष औसत आयु वाले 2 नए व्यक्तियों से विस्थापित किया जाता है। तो उस परिवार की औसत आयु 1 वर्ष बढ़ जाती है। X का मान ज्ञात कीजिए।

01. 13  
03. 7  
05. None of these  
इनमें से कोई नहीं

किसी परिवार के 15 व्यक्तियों की औसत आयु 42 वर्ष है। जब दो व्यक्ति जिनकी आयु 36 वर्ष और X वर्ष है, को दूसरे परिवार के 21 वर्ष औसत आयु वाले 2 नए व्यक्तियों से विस्थापित किया जाता है। तो उस परिवार की औसत आयु 1 वर्ष बढ़ जाती है। X का मान ज्ञात कीजिए।

**01.** 13                                      **02.** 11  
**03.** 7                                        **04.** 9  
**05.** None of these  
इनमें से कोई नहीं

$$\frac{42 \times 15 - 36 + X + 42}{15} = 43$$
$$x = 645 - 636 = 9$$
$$\frac{42 \times 15 - 36 + X + 42}{15} = 43$$
$$x = 645 - 636 = 9$$

एक व्यक्ति 9.50 रु. प्रति किग्रा की दर से 35 किग्रा. चावल और 10.50 रु. प्रति किग्रा. की दर से 30 किग्रा. गेहूँ खरीदता है। वह दोनों को मिलाता है। वह मिश्रण को लगभग किस दर से बेचे कि पूरे सौदे में उसे 35% का लाभ हो?



Ans Key: 5

eng/eng	<p>I: <math>9+y=2(9-y)</math>  <math>y = 3</math> kmph  II: <math>x = (4+2)/2=3</math> kmph  Hence I = II</p> <p>I: <math>9+y=2(9-y)</math>  <math>y = 3</math> किमी प्रति घंटे  II: <math>x = (4+2)/2=3</math> किमी प्रति घंटे  अतः I = II</p>
eng hin	<p>I: <math>9+y=2(9-y)</math>  <math>y = 3</math> kmph  II: <math>x = (4+2)/2=3</math> kmph  Hence I = II</p> <p>I: <math>9+y=2(9-y)</math>  <math>y = 3</math> किमी प्रति घंटे  II: <math>x = (4+2)/2=3</math> किमी प्रति घंटे  अतः I = II</p>

**Q-72** Each question below contains a statement followed by Quantity I and Quantity II. Find the value of both to find the relationship among them.  
**eng/eng** नीचे दिए गए प्रत्येक प्रश्न में एक कथन के पश्चात मात्रा I और मात्रा II दी गयी है। उनके बीच संबंध ज्ञात करने के लिए दोनों का मान ज्ञात कीजिये।

Quantity I: The largest number if average of 5 consecutive odd numbers is 39.  
Quantity II: The smallest number if average of 5 consecutive of odd numbers is 47.  
मात्रा I: सबसे बड़ी संख्या यदि 5 क्रमागत विषम संख्याओं का औसत 39 है।  
मात्रा II: सबसे छोटी संख्या यदि 5 क्रमागत विषम संख्याओं का औसत 47 है।

- |  |  |
|--|--|
| 01. Quantity I > Quantity II<br>मात्रा I > मात्रा II   | 02. Quantity I $\geq$ Quantity II<br>मात्रा I $\geq$ मात्रा II |
| 03. Quantity II > Quantity I<br>मात्रा II > मात्रा I   | 04. Quantity II $\geq$ Quantity I<br>मात्रा II $\geq$ मात्रा I |
| 05. Quantity I = Quantity II or Relation cannot be established<br>मात्रा I = मात्रा II या संबंध स्थापित नहीं किया जा सकता है |  |

**Q-72** Each question below contains a statement followed by Quantity I and Quantity II. Find the value of both to find the relationship among them.  
**eng hin** नीचे दिए गए प्रत्येक प्रश्न में एक कथन के पश्चात मात्रा I और मात्रा II दी गयी है। उनके बीच संबंध ज्ञात करने के लिए दोनों का मान ज्ञात कीजिये।

Quantity I: The largest number if average of 5 consecutive odd numbers is 39.  
Quantity II: The smallest number if average of 5 consecutive of odd numbers is 47.  
मात्रा I: सबसे बड़ी संख्या यदि 5 क्रमागत विषम संख्याओं का औसत 39 है।  
मात्रा II: सबसे छोटी संख्या यदि 5 क्रमागत विषम संख्याओं का औसत 47 है।

- |  |  |
|--|--|
| 01. Quantity I > Quantity II<br>मात्रा I > मात्रा II   | 02. Quantity I $\geq$ Quantity II<br>मात्रा I $\geq$ मात्रा II |
| 03. Quantity II > Quantity I<br>मात्रा II > मात्रा I   | 04. Quantity II $\geq$ Quantity I<br>मात्रा II $\geq$ मात्रा I |
| 05. Quantity I = Quantity II or Relation cannot be established<br>मात्रा I = मात्रा II या संबंध स्थापित नहीं किया जा सकता है |  |

**Solution for Question 72** Ans Key: 5

eng/eng	<p>I: 35, 37, 39, 41, 43  II: 43, 45, 47, 49, 51  Hence I = II  I: 35, 37, 39, 41, 43  II: 43, 45, 47, 49, 51  इसलिए I = II</p>
eng hin	<p>I: 35, 37, 39, 41, 43  II: 43, 45, 47, 49, 51  Hence I = II  I: 35, 37, 39, 41, 43  II: 43, 45, 47, 49, 51  इसलिए I = II</p>

**Q-73** Each question below contains a statement followed by Quantity I and Quantity II. Find the value of both to find the relationship among them.  
**eng/eng** नीचे दिए गए प्रत्येक प्रश्न में एक कथन के पश्चात मात्रा I और मात्रा II दी गयी है। उनके बीच संबंध ज्ञात करने के लिए दोनों का मान ज्ञात कीजिये।

The cost of Type 1 material is Rs. 15 per kg and Type 2 material is Rs.20 per kg. Both Type 1 and Type 2 are mixed in the ratio of 2 : 3.  
 प्रकार 1 सामग्री की लागत 15 रुपये प्रति किलो है और प्रकार 2 सामग्री की लागत 20 रुपये प्रति किलो है। प्रकार 1 और प्रकार 2 को 2: 3 के अनुपात में मिलाया गया।

Quantity I: what is the price per kg of the mixed variety of material?  
 Quantity II: What is the price per kg of the mixed variety of material if both Type 1 and Type 2 are mixed in the ratio of 3 : 2?  
 मात्रा I: मिश्रित सामग्री का प्रति किलोग्राम मूल्य क्या है?  
 मात्रा II: मिश्रित विविधता के प्रति किलोग्राम मूल्य क्या है यदि प्रकार 1 और प्रकार 2 दोनों को 3: 2 के अनुपात में मिलाया जाय?

01. Quantity I > Quantity II  
मात्रा I > मात्रा II

02. Quantity I ≥ Quantity II  
मात्रा I ≥ मात्रा II

03. Quantity II > Quantity I  
मात्रा II > मात्रा I

04. Quantity II ≥ Quantity I  
मात्रा II ≥ मात्रा I

05. Quantity I = Quantity II or Relation cannot be established  
मात्रा I = मात्रा II या संबंध स्थापित नहीं किया जा सकता है

**Q-73** Each question below contains a statement followed by Quantity I and Quantity II. Find the value of both to find the relationship among them.  
**eng hin** नीचे दिए गए प्रत्येक प्रश्न में एक कथन के पश्चात मात्रा I और मात्रा II दी गयी है। उनके बीच संबंध ज्ञात करने के लिए दोनों का मान ज्ञात कीजिये।

The cost of Type 1 material is Rs. 15 per kg and Type 2 material is Rs.20 per kg. Both Type 1 and Type 2 are mixed in the ratio of 2 : 3.  
 प्रकार 1 सामग्री की लागत 15 रुपये प्रति किलो है और प्रकार 2 सामग्री की लागत 20 रुपये प्रति किलो है। प्रकार 1 और प्रकार 2 को 2: 3 के अनुपात में मिलाया गया।

Quantity I: what is the price per kg of the mixed variety of material?  
 Quantity II: What is the price per kg of the mixed variety of material if both Type 1 and Type 2 are mixed in the ratio of 3 : 2?  
 मात्रा I: मिश्रित सामग्री का प्रति किलोग्राम मूल्य क्या है?  
 मात्रा II: मिश्रित विविधता के प्रति किलोग्राम मूल्य क्या है यदि प्रकार 1 और प्रकार 2 दोनों को 3: 2 के अनुपात में मिलाया जाय?

01. Quantity I > Quantity II  
मात्रा I > मात्रा II

02. Quantity I ≥ Quantity II  
मात्रा I ≥ मात्रा II

03. Quantity II > Quantity I  
मात्रा II > मात्रा I

04. Quantity II ≥ Quantity I  
मात्रा II ≥ मात्रा I

05. Quantity I = Quantity II or Relation cannot be established  
मात्रा I = मात्रा II या संबंध स्थापित नहीं किया जा सकता है

Solution for Question 73

Ans Key: I

eng/eng

I.  $\frac{15 \times 2 + 20 \times 3}{2 + 3} = 18$

Price per kg of the mixed variety of material = Rs.18.  
मिश्रित सामग्री की प्रति किलोग्राम मूल्य = 18 रुपये

II.  $\frac{15 \times 3 + 20 \times 2}{3 + 2} = 17$

Price per kg of the mixed variety of material = Rs.17.  
मिश्रित सामग्री की प्रति किलोग्राम मूल्य = 17 रुपये

Hence I > II.

अतः I > II.

eng hin

I.  $\frac{15 \times 2 + 20 \times 3}{2 + 3} = 18$

Price per kg of the mixed variety of material = Rs.18.  
मिश्रित सामग्री की प्रति किलोग्राम मूल्य = 18 रुपये

II.  $\frac{15 \times 3 + 20 \times 2}{3 + 2} = 17$

Price per kg of the mixed variety of material = Rs.17.  
मिश्रित सामग्री की प्रति किलोग्राम मूल्य = 17 रुपये

Hence I > II.

अतः I > II.

**Q-74**  
eng/eng

Each question below contains a statement followed by Quantity I and Quantity II. Find the value of both to find the relationship among them. नीचे दिए गए प्रत्येक प्रश्न में एक कथन के पश्चात मात्रा I और मात्रा II दी गयी है। उनके बीच संबंध ज्ञात करने के लिए दोनों का मान ज्ञात कीजिये।

Four years ago, the ratio of ages of A and B is 5 : 6 and five years after the ratio will become 6:7, then find-  
चार वर्ष पहले, A और B की आयु का अनुपात 5: 6 तह और पांच वर्ष पश्चात यह अनुपात 6: 7 हो जाएगा, तो ज्ञात कीजिये-

Quantity I: present age of A.  
Quantity II: Age of B 4 years ago.  
मात्रा I: A की वर्तमान आयु  
मात्रा II: 4 वर्ष पहले B की आयु।

01. Quantity I > Quantity II  
मात्रा I > मात्रा II

03. Quantity II > Quantity I  
मात्रा II > मात्रा I

05. Quantity I = Quantity II or Relation cannot be established  
मात्रा I = मात्रा II या संबंध स्थापित नहीं किया जा सकता है
02. Quantity I ≥ Quantity II  
मात्रा I ≥ मात्रा II

04. Quantity II ≥ Quantity I  
मात्रा II ≥ मात्रा I

**Q-74**  
eng hin

Each question below contains a statement followed by Quantity I and Quantity II. Find the value of both to find the relationship among them. नीचे दिए गए प्रत्येक प्रश्न में एक कथन के पश्चात मात्रा I और मात्रा II दी गयी है। उनके बीच संबंध ज्ञात करने के लिए दोनों का मान ज्ञात कीजिये।

Four years ago, the ratio of ages of A and B is 5 : 6 and five years after the ratio will become 6:7, then find-  
चार वर्ष पहले, A और B की आयु का अनुपात 5: 6 तह और पांच वर्ष पश्चात यह अनुपात 6: 7 हो जाएगा, तो ज्ञात कीजिये-

Quantity I: present age of A.  
Quantity II: Age of B 4 years ago.  
मात्रा I: A की वर्तमान आयु  
मात्रा II: 4 वर्ष पहले B की आयु।

01. Quantity I > Quantity II  
मात्रा I > मात्रा II

03. Quantity II > Quantity I  
मात्रा II > मात्रा I

05. Quantity I = Quantity II or Relation cannot be established  
मात्रा I = मात्रा II या संबंध स्थापित नहीं किया जा सकता है
02. Quantity I ≥ Quantity II  
मात्रा I ≥ मात्रा II

04. Quantity II ≥ Quantity I  
मात्रा II ≥ मात्रा I

**Solution for Question 74**

Ans Key: 3

eng/eng

A.....B  
4 years ago = 5.....6  
5 years hence = 6.....7  
1 = 9 and 6 = 54  
5 = 45  
I: A's present age = 45+4 = 49  
II: B's age 4 years ago = 54  
Hence II > I  
A.....B  
4 वर्ष पहले = 5 ..... 6  
5 वर्ष पश्चात = 6 ..... 7  
1 = 9 और 6 = 54  
5 = 45  
I: A की वर्तमान आयु = 45 + 4 = 49  
II: 4 वर्ष पूर्व B की आयु = 54  
इसलिए II > I

eng hin

A.....B  
4 years ago = 5.....6  
5 years hence = 6.....7  
1 = 9 and 6 = 54  
5 = 45  
I: A's present age = 45+4 = 49  
II: B's age 4 years ago = 54  
Hence II > I

A.....B  
 4 वर्ष पहले = 5 ..... 6  
 5 वर्ष पश्चात = 6 ..... 7  
 I = 9 और 6 = 54  
 5 = 45  
 I: A की वर्तमान आयु = 45 + 4 = 49  
 II: 4 वर्ष पूर्व B की आयु = 54  
 इसलिए II > I

**Q-75** Each question below contains a statement followed by Quantity I and Quantity II. Find the value of both to find the relationship among them.  
 नीचे दिए गए प्रत्येक प्रश्न में एक कथन के पश्चात मात्रा I और मात्रा II दी गयी है। उनके बीच संबंध ज्ञात करने के लिए दोनों का मान ज्ञात कीजिये।

Find the interest.  
 ब्याज ज्ञात कीजिये।

Quantity I: Simple Interest on the sum of 18000 at the rate of 16% per annum for 3 years and 2 months.  
 Quantity II: Compound Interest on the sum of Rs. 22032 at rate of 16.67% rate of interest for 2 years.  
 मात्रा I: 18000 की राशि पर 16% की दर से 3 वर्ष और 2 महीने का साधारण ब्याज ज्ञात कीजिये।  
 मात्रा II: 22032 रुपये की राशि पर 16.67% की दर से 3 वर्ष और 2 महीने का साधारण ब्याज ज्ञात कीजिये।

- |  |  |
|--|--|
| 01. Quantity I > Quantity II<br>मात्रा I > मात्रा II   | 02. Quantity I ≥ Quantity II<br>मात्रा I ≥ मात्रा II |
| 03. Quantity II > Quantity I<br>मात्रा II > मात्रा I   | 04. Quantity II ≥ Quantity I<br>मात्रा II ≥ मात्रा I |
| 05. Quantity I = Quantity II or Relation cannot be established<br>मात्रा I = मात्रा II या संबंध स्थापित नहीं किया जा सकता है |  |

**Q-75** Each question below contains a statement followed by Quantity I and Quantity II. Find the value of both to find the relationship among them.  
 नीचे दिए गए प्रत्येक प्रश्न में एक कथन के पश्चात मात्रा I और मात्रा II दी गयी है। उनके बीच संबंध ज्ञात करने के लिए दोनों का मान ज्ञात कीजिये।

Find the interest.  
 ब्याज ज्ञात कीजिये।

Quantity I: Simple Interest on the sum of 18000 at the rate of 16% per annum for 3 years and 2 months.  
 Quantity II: Compound Interest on the sum of Rs. 22032 at rate of 16.67% rate of interest for 2 years.  
 मात्रा I: 18000 की राशि पर 16% की दर से 3 वर्ष और 2 महीने का साधारण ब्याज ज्ञात कीजिये।  
 मात्रा II: 22032 रुपये की राशि पर 16.67% की दर से 3 वर्ष और 2 महीने का साधारण ब्याज ज्ञात कीजिये।

- |  |  |
|--|--|
| 01. Quantity I > Quantity II<br>मात्रा I > मात्रा II   | 02. Quantity I ≥ Quantity II<br>मात्रा I ≥ मात्रा II |
| 03. Quantity II > Quantity I<br>मात्रा II > मात्रा I   | 04. Quantity II ≥ Quantity I<br>मात्रा II ≥ मात्रा I |
| 05. Quantity I = Quantity II or Relation cannot be established<br>मात्रा I = मात्रा II या संबंध स्थापित नहीं किया जा सकता है |  |

### Solution for Question 75

Ans Key: 1

**eng/eng** I: SI =  $\frac{18000 \times 16 \times 19}{100 \times 6} = 9120$   
 II: CI:  $22032 \times \frac{7}{6} \times \frac{7}{6} - 22032 = 7956$   
 Hence I > II  
 अतः I > II

**eng hin** I: SI =  $\frac{18000 \times 16 \times 19}{100 \times 6} = 9120$   
 II: CI:  $22032 \times \frac{7}{6} \times \frac{7}{6} - 22032 = 7956$   
 Hence I > II  
 अतः I > II

**Q-76** The Cost Price of watch B is 20% more than that of watch A, watches A and B were marked up by 50% and 40% respectively. Watch A was sold at a discount of 20% and watch B was sold at discount of 30%. If the SP of watch A was Rs 30 more than the SP of watch B, then what was the CP of watch B?

घड़ी B की लागत मूल्य घड़ी A की तुलना में 20% अधिक है, घड़ियों A और B का अंकित मूल्य क्रमशः 50% और 40% बढ़ा का अंकित किया गया। घड़ी A को 20% की छूट पर बेचा गया और घड़ी B को 30% की छूट पर बेचा गया। यदि घड़ी A का SP घड़ी B के SP से 30 रु. अधिक था, तो B का CP क्या था?

- [illegible]



### Solution for Question 77

eng/eng

$$\text{Amount} \times 100 = P(100 + RX)$$
$$2P \times 100 = P(100 + RX)$$
$$R = 100/T$$
$$\text{Amount} \times 100 = P(100 + RX)$$
$$\text{Amount} \times 100 = 2800 \{100 + 100/X \times 2X\}$$
$$\text{Amount} = 8400$$

मिश्रधन  $\times 100 = P(100 + RX)$

$$2P \times 100 = P(100 + RX)$$
$$R = 100/T$$
$$\text{मिश्रधन} \times 100 = P(100 + RX)$$
$$\text{मिश्रधन} \times 100 = 2800 \{100 + 100/X \times 2X\}$$
$$\text{मिश्रधन} = 8400$$

eng hin

Amount  $\times 100 = P(100 + RX)$   
 $2P \times 100 = P(100 + RX)$   
 $R = 100/T$   
Amount  $\times 100 = P(100 + RX)$   
Amount  $\times 100 = 2800 \{100 + 100/X \times 2X\}$   
Amount = 8400  
मिश्रधन  $\times 100 = P(100 + RX)$   
 $2P \times 100 = P(100 + RX)$   
 $R = 100/T$   
मिश्रधन  $\times 100 = P(100 + RX)$   
मिश्रधन  $\times 100 = 2800 \{100 + 100/X \times 2X\}$   
मिश्रधन = 8400

**Q-78** Rahul's age after 18 years will be 6 years less than twice his present age. The respective ratio between Suresh's present age and Gokul's present age is 4:3. If Gokul's age 39 years hence will be same as 2.5 times Rahul's present age, what will be Suresh's age 8 years hence.

18 वर्ष के बाद राहुल की आयु उसकी वर्तमान आयु के दोगुने से 6 वर्ष कम होगी। सुरेश की वर्तमान आयु और गोकुल की वर्तमान आयु के बीच का अनुपात 4: 3 है। यदि 39 वर्ष पश्चात गोकुल की आयु राहुल की वर्तमान आयु के 2.5 गुना के बराबर है तो 8 वर्ष पश्चात सुरेश की आयु क्या होगी?

01. 28  
03. 36  
05. None of these  
इनमें से कोई नहीं

**Q-78** Rahul's age after 18 years will be 6 years less than twice his present age. The respective ratio between Suresh's present age and Gokul's present age is 4:3. **eng hin** If Gokul's age 39 years hence will be same as 2.5 times Rahul's present age, what will be Suresh's age 8 years hence.

18 वर्ष के बाद राहुल की आयु उसकी वर्तमान आयु के दोगुने से 6 वर्ष कम होगी। सुरेश की वर्तमान आयु और गोकुल की वर्तमान आयु के बीच का अनुपात 4: 3 है। यदि 39 वर्ष पश्चात गोकुल की आयु राहुल की वर्तमान आयु के 2.5 गुना के बराबर है तो 8 वर्ष पश्चात सुरेश की आयु क्या होगी?

01. 28  
03. 36  
05. None of these  
इनमें से कोई नहीं

### Solution for Question 78

Ans Key: 3

eng/eng

Let Rahul's present age = x years  
 $x+18= 2x-6$   
 $x=24$  years  
Suresh's present age = 4y  
Gokul's present age = 3y  
 $3y + 39= 2.5 \times 24$   
 $y=7$   
Suresh's age 4 years hence =  $(4 \times 7) + 8 = 36$  years  
माना राहुल की वर्तमान आयु = x वर्ष  
 $x+18= 2x-6$   
 $x=24$  वर्ष  
सुरेश की वर्तमान आयु = 4y  
गोकुल की वर्तमान आयु = 3y  
 $3y + 39= 2.5 \times 24$   
 $y=7$   
4 वर्ष पश्चात सुरेश की आयु =  $(4 \times 7) + 8 = 36$  वर्ष

**eng hin** Let Rahul's present age = x years  
 $x+18=2x-6$   
 $x=24$  years  
 Suresh's present age = 4y

Gokul's present age =  $3y$   
 $3y + 39 = 2.5 \times 24$   
 $y = 7$   
 Suresh's age 4 years hence =  $(4 \times 7) + 8 = 36$  years  
 माना राहुल की वर्तमान आयु =  $x$  वर्ष  
 $x + 18 = 2x - 6$   
 $x = 24$  वर्ष  
 सुरेश की वर्तमान आयु =  $4y$   
 गोकुल की वर्तमान आयु =  $3y$   
 $3y + 39 = 2.5 \times 24$   
 $y = 7$   
 4 वर्ष पश्चात सुरेश की आयु =  $(4 \times 7) + 8 = 36$  वर्ष

**Q-79** Two cards are drawn from a pack of well shuffled cards, find the probability of getting two face cards of different colors.  
 दो कार्ड अच्छी तरह से फेंटे गए कार्ड के एक पैकेट से निकाले जाते हैं, विभिन्न रंगों के दो फेस कार्ड प्राप्त करने की संभावना ज्ञात कीजिये।

01.  $\frac{7}{221}$  02.  $\frac{5}{221}$   
 03.  $\frac{5}{442}$  04.  $\frac{8}{221}$   
 05. None of these  
 इनमें से कोई नहीं

**Q-79** Two cards are drawn from a pack of well shuffled cards, find the probability of getting two face cards of different colors.  
 दो कार्ड अच्छी तरह से फेंटे गए कार्ड के एक पैकेट से निकाले जाते हैं, विभिन्न रंगों के दो फेस कार्ड प्राप्त करने की संभावना ज्ञात कीजिये।

01.  $\frac{7}{221}$  02.  $\frac{5}{221}$   
 03.  $\frac{5}{442}$  04.  $\frac{8}{221}$   
 05. None of these  
 इनमें से कोई नहीं

**Solution for Question 79**

Ans Key: 2

**eng/eng** Required answer =  $2 \times \frac{6 \times 5}{52 \times 51} = \frac{5}{221}$   
 अभीष्ट उत्तर =  $2 \times \frac{6 \times 5}{52 \times 51} = \frac{5}{221}$

**eng hin** Required answer =  $2 \times \frac{6 \times 5}{52 \times 51} = \frac{5}{221}$   
 अभीष्ट उत्तर =  $2 \times \frac{6 \times 5}{52 \times 51} = \frac{5}{221}$

**Q-80** Sanjana and Vikas can complete a work in 36 and 30 days respectively. Vikas working with Kamran and Divya can complete the same work in  $10\frac{10}{11}$  days. If ratio of efficiency of Kamran and Divya is 2:5. Find the time taken by Sanjana and Kamran to complete the work working together.  
 संजना और विकास क्रमशः 36 और 30 दिनों में एक कार्य पूरा कर सकते हैं। कामरान और दिव्या के साथ कार्य करते हुए विकास समान कार्य को  $10\frac{10}{11}$  दिनों में पूरा कर सकता है। यदि कामरान और दिव्या की क्षमता का अनुपात 2: 5 है। संजना और कामरान द्वारा एक साथ समान कार्य को पूरा करने में लगा समय ज्ञात कीजिये।

01. 20 02. 22.5  
 03. 25 04. 27.5  
 05. None of these  
 इनमें से कोई नहीं

**Q-80** Sanjana and Vikas can complete a work in 36 and 30 days respectively. Vikas working with Kamran and Divya can complete the same work in  $10\frac{10}{11}$  days. If ratio of efficiency of Kamran and Divya is 2:5. Find the time taken by Sanjana and Kamran to complete the work working together.  
 संजना और विकास क्रमशः 36 और 30 दिनों में एक कार्य पूरा कर सकते हैं। कामरान और दिव्या के साथ कार्य करते हुए विकास समान कार्य को  $10\frac{10}{11}$  दिनों में पूरा कर सकता है। यदि कामरान और दिव्या की क्षमता का अनुपात 2: 5 है। संजना और कामरान द्वारा एक साथ समान कार्य को पूरा करने में लगा समय ज्ञात कीजिये।

01. 20 02. 22.5  
 03. 25 04. 27.5  
 05. None of these

## Solution for Question 80

eng/eng

$$\text{Time taken by Kamran and Divya} = \frac{\frac{120}{11} \times 30}{30 - \frac{120}{11}} = \frac{120}{7}$$

$$\text{Time taken by Kamran} = \frac{120}{7} \times \frac{7}{2} = 60$$

$$\text{Required answer} = \frac{60 \times 36}{96} = 22.5 \text{ days}$$

$$\text{कामरान और दिव्या द्वारा लिया गया समय} = \frac{\frac{120}{11} \times 30}{30 - \frac{120}{11}} = \frac{120}{7}$$

$$\text{कामरान द्वारा लिया गया समय} = \frac{120}{7} \times \frac{7}{2} = 60$$

$$\text{अभीष्ट उत्तर} = \frac{60 \times 36}{96} = 22.5 \text{ दिन}$$

eng hin

$$\text{Time taken by Kamran and Divya} = \frac{\frac{120}{11} \times 30}{30 - \frac{120}{11}} = \frac{120}{7}$$

$$\text{Time taken by Kamran} = \frac{120}{7} \times \frac{7}{2} = 60$$

$$\text{Required answer} = \frac{60 \times 36}{96} = 22.5 \text{ days}$$

$$\text{कामरान और दिव्या द्वारा लिया गया समय} = \frac{\frac{120}{11} \times 30}{30 - \frac{120}{11}} = \frac{120}{7}$$

$$\text{कामरान द्वारा लिया गया समय} = \frac{120}{7} \times \frac{7}{2} = 60$$

$$\text{अभीष्ट उत्तर} = \frac{60 \times 36}{96} = 22.5 \text{ दिन}$$

Q-81

eng/eng

"Moatsu" is a traditional festival of -

"मोत्सु" एक पारंपरिक त्योहार है -

- |                         |   |
|-------------------------|---|
| 01. Manipur<br>मणिपुर   | 02. Meghalaya<br>मेघालय                 |
| 03. Mizoram<br>मिजोरम   | 04. Arunachal Pradesh<br>अरुणाचल प्रदेश |
| 05. Nagaland<br>नगालैंड |   |

Q-81

eng hin

"Moatsu" is a traditional festival of -

"मोत्सु" एक पारंपरिक त्योहार है -

- |                         |   |
|-------------------------|---|
| 01. Manipur<br>मणिपुर   | 02. Meghalaya<br>मेघालय                 |
| 03. Mizoram<br>मिजोरम   | 04. Arunachal Pradesh<br>अरुणाचल प्रदेश |
| 05. Nagaland<br>नगालैंड |   |

## Solution for Question 81

eng/eng

Moatsu is a traditional festival celebrated by the Ao people of Nagaland during the first week of May every Year.

"मोत्सु" हर साल मई के पहले सप्ताह के दौरान नगालैंड के एओ लोगों द्वारा मनाया जाने वाला एक पारंपरिक त्योहार है।

eng hin

Moatsu is a traditional festival celebrated by the Ao people of Nagaland during the first week of May every Year.

"मोत्सु" हर साल मई के पहले सप्ताह के दौरान नगालैंड के एओ लोगों द्वारा मनाया जाने वाला एक पारंपरिक त्योहार है।

Q-82

eng/eng

Every year International Day of Cooperatives is observed by United Nations celebrates the on -

संयुक्त राष्ट्र द्वारा हर साल अंतर्राष्ट्रीय सहकारिता दिवस मनाया जाता है

01. First Saturday of July  
जुलाई का पहला शनिवार
03. First Monday of July  
जुलाई का पहला सोमवार
05. First Tuesday of July  
जुलाई का पहला मंगलवार

02. First Sunday of July  
जुलाई का पहला रविवार
04. First Thursday of July  
जुलाई का पहला गुरुवार

**Q-82** Every year International Day of Cooperatives is observed by United Nations celebrates the on -  
**eng hin** संयुक्त राष्ट्र द्वारा हर साल अंतर्राष्ट्रीय सहकारिता दिवस मनाया जाता है

01. First Saturday of July  
जुलाई का पहला शनिवार
03. First Monday of July  
जुलाई का पहला सोमवार
05. First Tuesday of July  
जुलाई का पहला मंगलवार

02. First Sunday of July  
जुलाई का पहला रविवार
04. First Thursday of July  
जुलाई का पहला गुरुवार

#### Solution for Question 82

Ans Key: 1

**eng/eng** The United Nations celebrates the International Day of Cooperatives every year on the first Saturday of July to increase awareness of cooperatives.  
संयुक्त राष्ट्र सहकारिता के बारे में जागरूकता बढ़ाने के लिए हर साल जुलाई के पहले शनिवार को अंतर्राष्ट्रीय सहकारिता दिवस मनाता है।

**eng hin** The United Nations celebrates the International Day of Cooperatives every year on the first Saturday of July to increase awareness of cooperatives.  
संयुक्त राष्ट्र सहकारिता के बारे में जागरूकता बढ़ाने के लिए हर साल जुलाई के पहले शनिवार को अंतर्राष्ट्रीय सहकारिता दिवस मनाता है।

**Q-83** Every year World Sparrow Day is celebrated on-  
**eng/eng** हर वर्ष विश्व गौरैया दिवस मनाया जाता है-

01. 12th March  
12 मार्च
03. 18th March  
18 मार्च
05. 22nd March  
22 मार्च

02. 15th March  
15 मार्च
04. 20th March  
20 मार्च

**Q-83** Every year World Sparrow Day is celebrated on-  
**eng hin** हर वर्ष विश्व गौरैया दिवस मनाया जाता है-

01. 12th March  
12 मार्च
03. 18th March  
18 मार्च
05. 22nd March  
22 मार्च

02. 15th March  
15 मार्च
04. 20th March  
20 मार्च

#### Solution for Question 83

Ans Key: 4

**eng/eng** Since 2010 Every year World Sparrow Day is celebrated on 20th march.  
2010 से हर साल विश्व गौरैया दिवस 20 मार्च को मनाया जाता है।

**eng hin** Since 2010 Every year World Sparrow Day is celebrated on 20th march.  
2010 से हर साल विश्व गौरैया दिवस 20 मार्च को मनाया जाता है।

**Q-84** For the regional rural banks, which among the following is the correct share of Central, State and Sponsored Bank?  
**eng/eng** क्षेत्रीय ग्रामीण बैंकों के लिए निम्नलिखित में से कौन सा केन्द्र, राज्य और प्रायोजित बैंकों का सही शेयर है?

01. 50%, 40%, 10%
03. 50%, 15%, 35%
05. 50%, 20%, 15%

02. 50%, 35%, 15%
04. 40%, 50%, 10%

**Q-84** For the regional rural banks, which among the following is the correct share of Central, State and Sponsored Bank?  
**eng hin** क्षेत्रीय ग्रामीण बैंकों के लिए निम्नलिखित में से कौन सा केन्द्र, राज्य और प्रायोजित बैंकों का सही शेयर है?

01. 50%, 40%, 10%
03. 50%, 15%, 35%
05. 50%, 20%, 15%

02. 50%, 35%, 15%
04. 40%, 50%, 10%

#### Solution for Question 84

Ans Key: 3

**eng/eng** Regional Rural Banks were established under the provisions of an Ordinance passed on 26 September 1975 and the RRB Act 1976 to provide sufficient banking and credit facility for agriculture and other rural sectors. As a result, Five Regional Rural Banks were set up on 2 October 1975. These were set up on the recommendations of Narshimham committee Working Group.

The Regional Rural Banks were owned by the Central Government, the State Government and the Sponsor Bank (Any commercial bank can sponsor the regional rural banks) who held shares in the ratios as follows Central Government – 50%, State Government – 15% and Sponsor Banks – 35%.

क्षेत्रीय ग्रामीण बैंकों की स्थापना 26 सितंबर 1975 को पारित एक अध्यादेश और आरआरबी अधिनियम 1976 के तहत कृषि और अन्य ग्रामीण क्षेत्रों के लिए पर्याप्त बैंकिंग और ऋण सुविधा प्रदान करने के लिए की गई थी। परिणामस्वरूप, 2 अक्टूबर 1975 को पांच क्षेत्रीय ग्रामीण बैंकों की स्थापना की गई। इनकी स्थापना नरसिम्हम कमेटी वर्किंग ग्रुप की सिफारिशों पर की गई थी।

क्षेत्रीय ग्रामीण बैंकों का स्वामित्व केंद्र सरकार, राज्य सरकार और प्रायोजक बैंक के पास होता था (कोई भी व्यावसायिक बैंक क्षेत्रीय ग्रामीण बैंकों को प्रायोजित कर सकता है), जिन्होंने केंद्र सरकार के शेयरों को इस प्रकार बांटा था - 50%, राज्य सरकार - 15% और प्रायोजक बैंक - 35%।

**eng hin** Regional Rural Banks were established under the provisions of an Ordinance passed on 26 September 1975 and the RRB Act 1976 to provide sufficient banking and credit facility for agriculture and other rural sectors. As a result, Five Regional Rural Banks were set up on 2 October 1975. These were set up on the recommendations of Narshimham committee Working Group.

The Regional Rural Banks were owned by the Central Government, the State Government and the Sponsor Bank (Any commercial bank can sponsor the regional rural banks) who held shares in the ratios as follows Central Government – 50%, State Government – 15% and Sponsor Banks – 35%.

क्षेत्रीय ग्रामीण बैंकों की स्थापना 26 सितंबर 1975 को पारित एक अध्यादेश और आरआरबी अधिनियम 1976 के तहत कृषि और अन्य ग्रामीण क्षेत्रों के लिए पर्याप्त बैंकिंग और ऋण सुविधा प्रदान करने के लिए की गई थी। परिणामस्वरूप, 2 अक्टूबर 1975 को पांच क्षेत्रीय ग्रामीण बैंकों की स्थापना की गई। इनकी स्थापना नरसिम्हम कमेटी वर्किंग ग्रुप की सिफारिशों पर की गई थी।

क्षेत्रीय ग्रामीण बैंकों का स्वामित्व केंद्र सरकार, राज्य सरकार और प्रायोजक बैंक के पास होता था (कोई भी व्यावसायिक बैंक क्षेत्रीय ग्रामीण बैंकों को प्रायोजित कर सकता है), जिन्होंने केंद्र सरकार के शेयरों को इस प्रकार बांटा था - 50%, राज्य सरकार - 15% और प्रायोजक बैंक - 35%।

**Q-85** Government of India is celebrated National Statistics day on which date on the birth anniversary of Prof. P C Mahalanobis?  
**eng/eng** भारत सरकार द्वारा प्रो पी सीमहालनोबिस की जयंती किस तारीख को राष्ट्रीय सांख्यिकी दिवस के रूप में मनाया जाता है?

01. 20th June  
20 जून

02. 24th June  
24 जून

03. 26th June  
26 जून

04. 29th June  
29 जून

05. 19th June  
19 जून

**Q-85** Government of India is celebrated National Statistics day on which date on the birth anniversary of Prof. P C Mahalanobis?  
**eng hin** भारत सरकार द्वारा प्रो पी सीमहालनोबिस की जयंती किस तारीख को राष्ट्रीय सांख्यिकी दिवस के रूप में मनाया जाता है?

01. 20th June  
20 जून

02. 24th June  
24 जून

03. 26th June  
26 जून

04. 29th June  
29 जून

05. 19th June  
19 जून

**Solution for Question 85** Ans Key: 4

**eng/eng** Government of India is celebrated National Statistics day on 29th June on the birth anniversary of Prof. P C Mahalanobis.  
भारत सरकार ने 29 जून को प्रो पी.सी. महालनोबिस की जयंती पर राष्ट्रीय सांख्यिकी दिवस मनाया जाता है।

**eng hin** Government of India is celebrated National Statistics day on 29th June on the birth anniversary of Prof. P C Mahalanobis.  
भारत सरकार ने 29 जून को प्रो पी.सी. महालनोबिस की जयंती पर राष्ट्रीय सांख्यिकी दिवस मनाया जाता है।

**Q-86** How long is the 'SWAMITVA YOJANA' is to be implemented in entire India?  
**eng/eng** सम्पूर्ण भारत में 'स्वामित्व योजना' को कब तक लागू किया जाना है?

01. 2024 AD / ई.

02. 2026 AD / ई.

03. 2027 AD / ई.

04. 2029 AD / ई.

05. 2030 AD / ई.

**Q-86** How long is the 'SWAMITVA YOJANA' is to be implemented in entire India?  
**eng hin** सम्पूर्ण भारत में 'स्वामित्व योजना' को कब तक लागू किया जाना है?

01. 2024 AD / ई.

02. 2026 AD / ई.

03. 2027 AD / ई.

04. 2029 AD / ई.

05. 2030 AD / ई.

**Solution for Question 86** Ans Key: 1

**eng/eng** 'Swamitva yojana' is to be implemented in four phases (2020-24) across the country in a phased manner. The objective of this scheme is to provide property card related property records to the owners of households in rural areas.  
'स्वामित्व योजना' को चरणबद्ध तरीके से चार साल (2020-24) में पूरे देश में लागू किया जाना है. इस योजना का मकसद ग्रामीण क्षेत्रों में घरों के मालिकों को अधिकार

संबंधी रिकॉर्ड से संबंधित संपत्ति कार्ड उपलब्ध कराना है.

eng hin	'Swamitva yojana' is to be implemented in four phases (2020-24) across the country in a phased manner. The objective of this scheme is to provide property card related property records to the owners of households in rural areas. 'स्वामित्व योजना' को चरणबद्ध तरीके से चार साल (2020-24) में पूरे देश में लागू किया जाना है. इस योजना का मकसद ग्रामीण क्षेत्रों में घरों के मालिकों को अधिकार संबंधी रिकॉर्ड से संबंधित संपत्ति कार्ड उपलब्ध कराना है.
---------	---

Q-87 eng/eng	Insurance Regulatory and Development Authority of India (IRDAI) has chosen the following insurers as Domestic Systemically Important Insurers (D-SIIs) for 2020-21: भारतीय बीमा विनियामक और विकास प्राधिकरण (IRDAI) ने 2020-21 के लिए निम्नलिखित बीमाकर्ताओं को घरेलू व्यवस्थित रूप से महत्वपूर्ण बीमाकर्ता (D-SII) के रूप में चुना है:
-----------------	--

- |   |  |
|---|--|
| 01. Life Insurance Corporation of India<br>भारतीय जीवन बीमा निगम            | 02. General Insurance Corporation of India<br>जनरल इंश्योरेंस कॉर्पोरेशन ऑफ इंडिया |
| 03. The New India Assurance Co. Ltd.<br>न्यू इंडिया एश्योरेंस कंपनी लिमिटेड | 04. All of the above<br>ऊपर के सभी   |
| 05. None<br>कोई नहीं  |  |

Q-87 eng/hin	Insurance Regulatory and Development Authority of India (IRDAI) has chosen the following insurers as Domestic Systemically Important Insurers (D-SIIs) for 2020-21: भारतीय बीमा विनियामक और विकास प्राधिकरण (IRDAI) ने 2020-21 के लिए निम्नलिखित बीमाकर्ताओं को घरेलू व्यवस्थित रूप से महत्वपूर्ण बीमाकर्ता (D-SII) के रूप में चुना है:
-----------------	--

- |   |  |
|---|--|
| 01. Life Insurance Corporation of India<br>भारतीय जीवन बीमा निगम            | 02. General Insurance Corporation of India<br>जनरल इंश्योरेंस कॉर्पोरेशन ऑफ इंडिया |
| 03. The New India Assurance Co. Ltd.<br>न्यू इंडिया एश्योरेंस कंपनी लिमिटेड | 04. All of the above<br>ऊपर के सभी   |
| 05. None<br>कोई नहीं  |  |

Solution for Question 87	Ans Key: 4
--------------------------	------------

eng/eng	The Insurance Regulatory and Development Authority of India has tagged Life Insurance Corp. of India, General Insurance Corp. of India and New India Assurance Co. Ltd. as insurers that are "too big or too important to fail" in the domestic financial system. इंश्योरेंस रेगुलेटरी एंड डेवलपमेंट अथॉरिटी ऑफ इंडिया ने भारतीय जीवन बीमा कॉर्पोरेशन, जनरल इंश्योरेंस कॉर्पोरेशन ऑफ इंडिया और न्यू इंडिया एश्योरेंस कंपनी लिमिटेड को बीमाकर्ताओं के रूप में टैग किया है जो घरेलू वित्तीय प्रणाली में "बहुत बड़ा या बहुत महत्वपूर्ण हैं" विफल होने के लिए।
---------	---

eng/hin	The Insurance Regulatory and Development Authority of India has tagged Life Insurance Corp. of India, General Insurance Corp. of India and New India Assurance Co. Ltd. as insurers that are "too big or too important to fail" in the domestic financial system. इंश्योरेंस रेगुलेटरी एंड डेवलपमेंट अथॉरिटी ऑफ इंडिया ने भारतीय जीवन बीमा कॉर्पोरेशन, जनरल इंश्योरेंस कॉर्पोरेशन ऑफ इंडिया और न्यू इंडिया एश्योरेंस कंपनी लिमिटेड को बीमाकर्ताओं के रूप में टैग किया है जो घरेलू वित्तीय प्रणाली में "बहुत बड़ा या बहुत महत्वपूर्ण हैं" विफल होने के लिए।
---------	---

Q-88 eng/eng	K.K Shailaja was honoured by the United Nations, she is the Health Minister of which state? केके शैलजा को संयुक्त राष्ट्र द्वारा सम्मानित किया गया, वह किस राज्य की स्वास्थ्य मंत्री हैं?
-----------------	--

- |                        |                          |
|------------------------|--------------------------|
| 01. Kerala<br>केरल     | 02. Karnataka<br>कर्नाटक |
| 03. Haryana<br>हरियाणा | 04. Punjab<br>पंजाब      |
| 05. Bihar<br>बिहार     |                          |

Q-88 eng/hin	K.K Shailaja was honoured by the United Nations, she is the Health Minister of which state? केके शैलजा को संयुक्त राष्ट्र द्वारा सम्मानित किया गया, वह किस राज्य की स्वास्थ्य मंत्री हैं?
-----------------	--

- |                        |                          |
|------------------------|--------------------------|
| 01. Kerala<br>केरल     | 02. Karnataka<br>कर्नाटक |
| 03. Haryana<br>हरियाणा | 04. Punjab<br>पंजाब      |
| 05. Bihar<br>बिहार     |                          |

Solution for Question 88	Ans Key: 1
--------------------------	------------

eng/eng	Kerala Health Minister K.K Shailaja was honoured by the United Nations. केरल के स्वास्थ्य मंत्री केके शैलजा को संयुक्त राष्ट्र द्वारा सम्मानित किया गया।
---------	---



eng hin	Kerala Health Minister K.K Shailaja was honoured by the United Nations. केरल के स्वास्थ्य मंत्री केके शैलजा को संयुक्त राष्ट्र द्वारा सम्मानित किया गया।
---------	---

Q-89 eng/eng	Recently All India Football Federation has launched the web platform “E-Pathshala” in partnership with the Sports Authority of India, who is the chairman of the All India Football Federation? हाल ही में ऑल इंडिया फुटबॉल फेडरेशन ने भारतीय खेल प्राधिकरण के साथ साझेदारी में वेब प्लेटफॉर्म "ई-पाठशाला" लॉन्च किया है, ऑल इंडिया फुटबॉल फेडरेशन के अध्यक्ष कौन हैं?
01. Shashank Manohar शशांक मनोहर	02. Vinod Kumar Yadav विनोद कुमार यादव
03. Varun Shridhar वरुण श्रीधर	04. Praful Patel प्रफुल्ल पटेल
05. Prasoon Joshi प्रसून जोशी	

Q-89 eng/eng	Recently All India Football Federation has launched the web platform “E-Pathshala” in partnership with the Sports Authority of India, who is the chairman of the All India Football Federation? हाल ही में ऑल इंडिया फुटबॉल फेडरेशन ने भारतीय खेल प्राधिकरण के साथ साझेदारी में वेब प्लेटफॉर्म "ई-पाठशाला" लॉन्च किया है, ऑल इंडिया फुटबॉल फेडरेशन के अध्यक्ष कौन हैं?
01. Shashank Manohar शशांक मनोहर	02. Vinod Kumar Yadav विनोद कुमार यादव
03. Varun Shridhar वरुण श्रीधर	04. Praful Patel प्रफुल्ल पटेल
05. Prasoon Joshi प्रसून जोशी	

Solution for Question 89		Ans Key: 4
eng/eng	All India Football Federation (AIFF) has launched the web platform “E-Pathshala” in partnership with the Sports Authority of India (SAI). अखिल भारतीय फुटबॉल महासंघ (एआईएफएफ) ने भारतीय खेल प्राधिकरण (साई) के साथ साझेदारी में वेब मंच "ई-पाठशाला" लॉन्च किया है।	
eng hin	All India Football Federation (AIFF) has launched the web platform “E-Pathshala” in partnership with the Sports Authority of India (SAI). अखिल भारतीय फुटबॉल महासंघ (एआईएफएफ) ने भारतीय खेल प्राधिकरण (साई) के साथ साझेदारी में वेब मंच "ई-पाठशाला" लॉन्च किया है।	

Q-90 eng/eng	Recently Athletic Club Bilbao's veteran striker, Aritz Aduriz, has announced his retirement, he is related to which country? हाल ही में एथलेटिक क्लब बिलबाओ के वयोवृद्ध स्ट्राइकर, अरिजित अदुरिज़ ने अपनी सेवानिवृत्ति की घोषणा की है, वह किस देश से संबंधित है?
01. Australia ऑस्ट्रेलिया	02. Brazil ब्राजील
03. Italy इटली	04. Spain स्पेन
05. Russia रूस	

Q-90 eng/eng	Recently Athletic Club Bilbao's veteran striker, Aritz Aduriz, has announced his retirement, he is related to which country? हाल ही में एथलेटिक क्लब बिलबाओ के वयोवृद्ध स्ट्राइकर, अरिजित अदुरिज़ ने अपनी सेवानिवृत्ति की घोषणा की है, वह किस देश से संबंधित है?
01. Australia ऑस्ट्रेलिया	02. Brazil ब्राजील
03. Italy इटली	04. Spain स्पेन
05. Russia रूस	

Solution for Question 90		Ans Key: 4
eng/eng	Athletic Club Bilbao's veteran striker, Aritz Aduriz, has announced his retirement from the game with immediate effect. स्पेन के फुटबाल क्लब एथलेटिक बिलबाओ के अनुभवी स्ट्राइकर एरिट्ज़ अदुरिज़ ने तत्काल प्रभाव से खेल से संन्यास ले लिया है।	
eng hin	Athletic Club Bilbao's veteran striker, Aritz Aduriz, has announced his retirement from the game with immediate effect. स्पेन के फुटबाल क्लब एथलेटिक बिलबाओ के अनुभवी स्ट्राइकर एरिट्ज़ अदुरिज़ ने तत्काल प्रभाव से खेल से संन्यास ले लिया है।	

Q-91 eng/eng	Recently Centre has approved 175 crore rupees for implementation of Jal jeevan mission for which state during 2020-21? हाल ही में केंद्र ने 2020-21 के दौरान किस राज्य के लिए जल जीवन मिशन के कार्यान्वयन के लिए 175 करोड़ रुपये मंजूर किए हैं?
01. Meghalaya मेघालय	02. Tripura त्रिपुरा

03. Odisha  
ओडिशा
05. Assam  
असम
04. Arunachal Pradesh  
अरुणाचल प्रदेश

**Q-91**  
**eng hin**

Recently Centre has approved 175 crore rupees for implementation of Jal jeevan mission for which state during 2020-21?  
हाल ही में केंद्र ने 2020-21 के दौरान किस राज्य के लिए जल जीवन मिशन के कार्यान्वयन के लिए 175 करोड़ रुपये मंजूर किए हैं?

01. Meghalaya  
मेघालय
02. Tripura  
त्रिपुरा
03. Odisha  
ओडिशा
04. Arunachal Pradesh  
अरुणाचल प्रदेश
05. Assam  
असम

### Solution for Question 91

Ans Key: 1

**eng/eng**

Centre has approved 175 crore rupees for implementation of Jal jeevan mission in Meghalaya during 2020-21.  
केंद्र ने 2020-21 के दौरान मेघालय में जल जीवन मिशन के कार्यान्वयन के लिए 175 करोड़ रुपये की मंजूरी दी है।

**eng hin**

Centre has approved 175 crore rupees for implementation of Jal jeevan mission in Meghalaya during 2020-21.  
केंद्र ने 2020-21 के दौरान मेघालय में जल जीवन मिशन के कार्यान्वयन के लिए 175 करोड़ रुपये की मंजूरी दी है।

**Q-92**  
**eng/eng**

Recently Forbes magazine has released "The Highest-Paid Actors Of 2020" list, who has become the only Indian star, to be listed among the top 10 world's highest-paid actors of 2020?  
हाल ही में "फोर्ब्स पत्रिका ने "द हाइस्ट-पेड एक्टर्स ऑफ 2020" सूची जारी की है, 2020 के शीर्ष 10 विश्व के सबसे अधिक भुगतान वाले अभिनेताओं में सूचीबद्ध होने वाला एकमात्र भारतीय स्टार कौन बन गया है?

01. Ranveer Singh  
रणवीर सिंह
02. Priyanka Chopra  
प्रियंका चोपड़ा
03. Akshay Kumar  
अक्षय कुमार
04. Anushka Sharma  
अनुष्का शर्मा
05. Salman Khan  
सलमान खान

**Q-92**  
**eng/eng**

Recently Forbes magazine has released "The Highest-Paid Actors Of 2020" list, who has become the only Indian star, to be listed among the top 10 world's highest-paid actors of 2020?  
हाल ही में "फोर्ब्स पत्रिका ने "द हाइस्ट-पेड एक्टर्स ऑफ 2020" सूची जारी की है, 2020 के शीर्ष 10 विश्व के सबसे अधिक भुगतान वाले अभिनेताओं में सूचीबद्ध होने वाला एकमात्र भारतीय स्टार कौन बन गया है?

01. Ranveer Singh  
रणवीर सिंह
02. Priyanka Chopra  
प्रियंका चोपड़ा
03. Akshay Kumar  
अक्षय कुमार
04. Anushka Sharma  
अनुष्का शर्मा
05. Salman Khan  
सलमान खान

### Solution for Question 92

Ans Key: 3

**eng/eng**

Forbes magazine has released "The Highest-Paid Actors Of 2020" list. Bollywood actor, Akshay Kumar is the only Indian star to be listed among the top 10 world's highest-paid actors of 2020.  
फोर्ब्स पत्रिका ने "द हाइस्ट-पेड एक्टर्स ऑफ 2020" सूची जारी की है। बॉलीवुड अभिनेता, अक्षय कुमार 2020 तक शीर्ष 10 विश्व के सबसे अधिक भुगतान वाले अभिनेताओं में सूचीबद्ध होने वाले एकमात्र भारतीय स्टार हैं।

**eng hin**

Forbes magazine has released "The Highest-Paid Actors Of 2020" list. Bollywood actor, Akshay Kumar is the only Indian star to be listed among the top 10 world's highest-paid actors of 2020.  
फोर्ब्स पत्रिका ने "द हाइस्ट-पेड एक्टर्स ऑफ 2020" सूची जारी की है। बॉलीवुड अभिनेता, अक्षय कुमार 2020 तक शीर्ष 10 विश्व के सबसे अधिक भुगतान वाले अभिनेताओं में सूचीबद्ध होने वाले एकमात्र भारतीय स्टार हैं।

**Q-93**  
**eng/eng**

Recently how much loan was approved by the World Bank to Pakistan to address the risks relating to environmental degradation, deforestation and climate change in the country?  
हाल ही में देश में पर्यावरणीय क्षरण, वनों की कटाई और जलवायु परिवर्तन से संबंधित जोखिमों को दूर करने के लिए विश्व बैंक द्वारा पाकिस्तान को कितना ऋण स्वीकृत किया गया?

01. USD 188 million  
USD 188 मिलियन
02. USD 120 million  
USD 120 मिलियन
03. USD 100 million  
USD 100 मिलियन
04. USD 200 million  
USD 200 मिलियन
05. USD 158 million

USD 158 मिलियन

**Q-93**  
eng hin

Recently how much loan was approved by the World Bank to Pakistan to address the risks relating to environmental degradation, deforestation and climate change in the country?  
हाल ही में देश में पर्यावरणीय क्षरण, वनों की कटाई और जलवायु परिवर्तन से संबंधित जोखिमों को दूर करने के लिए विश्व बैंक द्वारा पाकिस्तान को कितना ऋण स्वीकृत किया गया?

- |  |  |
|--|--|
| <b>01.</b> USD 188 million<br>USD 188 मिलियन | <b>02.</b> USD 120 million<br>USD 120 मिलियन |
| <b>03.</b> USD 100 million<br>USD 100 मिलियन | <b>04.</b> USD 200 million<br>USD 200 मिलियन |
| <b>05.</b> USD 158 million<br>USD 158 मिलियन |  |

**Solution for Question 93**

Ans Key: 1

eng/eng	The World Bank pledged to provide USD 188 million to Pakistan to address the risks relating to environmental degradation, deforestation and climate change in the country. विश्वबैंक ने पर्यावरण खराब होने, जलवायु परिवर्तन से जुड़े जोखिमों का निदान करने के लिये पाकिस्तान को 18.80 करोड़ डालर का कर्ज देने की प्रतिबद्धता जताई है।
eng hin	The World Bank pledged to provide USD 188 million to Pakistan to address the risks relating to environmental degradation, deforestation and climate change in the country. विश्वबैंक ने पर्यावरण खराब होने, जलवायु परिवर्तन से जुड़े जोखिमों का निदान करने के लिये पाकिस्तान को 18.80 करोड़ डालर का कर्ज देने की प्रतिबद्धता जताई है।

**Q-94**  
eng/eng

Recently how much pound worth “Innovation Challenge Fund 2020” was launched by the United Kingdom government for India to tackle COVID-19 challenges and climate change?  
हाल ही में यूनाइटेड किंगडम सरकार द्वारा COVID-19 चुनौतियों और जलवायु परिवर्तन से निपटने के लिए "इनोवेशन चैलेंज फंड 2020" का कितना पाउंड लॉन्च किया गया?

- |                                     |                                     |
|-------------------------------------|-------------------------------------|
| <b>01.</b> £2 million<br>£ 2 मिलियन | <b>02.</b> £3 million<br>£ 3 मिलियन |
| <b>03.</b> £5 million<br>£ 5 मिलियन | <b>04.</b> £4 million<br>£ 4 मिलियन |
| <b>05.</b> £1 million<br>£ 1 मिलियन |                                     |

**Q-94**  
eng hin

Recently how much pound worth “Innovation Challenge Fund 2020” was launched by the United Kingdom government for India to tackle COVID-19 challenges and climate change?  
हाल ही में यूनाइटेड किंगडम सरकार द्वारा COVID-19 चुनौतियों और जलवायु परिवर्तन से निपटने के लिए "इनोवेशन चैलेंज फंड 2020" का कितना पाउंड लॉन्च किया गया?

- |                                     |                                     |
|-------------------------------------|-------------------------------------|
| <b>01.</b> £2 million<br>£ 2 मिलियन | <b>02.</b> £3 million<br>£ 3 मिलियन |
| <b>03.</b> £5 million<br>£ 5 मिलियन | <b>04.</b> £4 million<br>£ 4 मिलियन |
| <b>05.</b> £1 million<br>£ 1 मिलियन |                                     |

**Solution for Question 94**

Ans Key: 2

eng/eng	The government of United Kingdom (UK) launched a £3 million “Innovation Challenge Fund 2020” in India to support scientists in academia and industry to tackle the COVID-19 pandemic and climate change. यूनाइटेड किंगडम (यूके) की सरकार ने COVID-19 महामारी और जलवायु परिवर्तन से निपटने के लिए शिक्षा और उद्योग में वैज्ञानिकों का समर्थन करने के लिए भारत में £ 3 मिलियन का "इनोवेशन चैलेंज फंड 2020" शुरू किया।
eng hin	The government of United Kingdom (UK) launched a £3 million “Innovation Challenge Fund 2020” in India to support scientists in academia and industry to tackle the COVID-19 pandemic and climate change. यूनाइटेड किंगडम (यूके) की सरकार ने COVID-19 महामारी और जलवायु परिवर्तन से निपटने के लिए शिक्षा और उद्योग में वैज्ञानिकों का समर्थन करने के लिए भारत में £ 3 मिलियन का "इनोवेशन चैलेंज फंड 2020" शुरू किया।

**Q-95**  
eng/eng

Recently India has signed Rs 880 crore deal in the field of Defence with which country?  
हाल ही में भारत ने किस देश के साथ रक्षा के क्षेत्र में 880 करोड़ रुपये के समझौते पर हस्ताक्षर किए हैं?

- |                             |   |
|-----------------------------|---|
| <b>01.</b> Russia<br>रूस    | <b>02.</b> Japan<br>जापान               |
| <b>03.</b> Israel<br>इसराइल | <b>04.</b> USA<br>संयुक्त राज्य अमेरिका |
| <b>05.</b> Iran<br>ईरान     |   |

**Q-95** Recently India has signed Rs 880 crore deal in the field of Defence with which country?  
**eng hin** हाल ही में भारत ने किस देश के साथ रक्षा के क्षेत्र में 880 करोड़ रुपये के समझौते पर हस्ताक्षर किए हैं?

01. Russia  
रूस

02. Japan  
जापान

03. Israel  
इसराइल

04. USA  
संयुक्त राज्य अमेरिका

05. Iran  
ईरान

**Solution for Question 95** Ans Key: 3

<b>eng/eng</b>	The Indian Armed Forces operating under Ministry of Defence signed an agreement with the Israel Weapons Industry. रक्षा मंत्रालय के तहत काम करने वाले भारतीय सशस्त्र बलों ने इज़राइल हथियार उद्योग के साथ एक समझौते पर हस्ताक्षर किए।
<b>eng hin</b>	The Indian Armed Forces operating under Ministry of Defence signed an agreement with the Israel Weapons Industry. रक्षा मंत्रालय के तहत काम करने वाले भारतीय सशस्त्र बलों ने इज़राइल हथियार उद्योग के साथ एक समझौते पर हस्ताक्षर किए।

**Q-96** Recently Karnam Sekar has retired, he was the Managing Director and Chief Executive Officer of which Bank?  
**eng/eng** हाल ही में कर्णम सेकर सेवानिवृत्त हुए हैं, वह किस बैंक के प्रबंध निदेशक और मुख्य कार्यकारी अधिकारी थे?

01. Punjab National Bank  
पंजाब नेशनल बैंक

02. Indian Overseas Bank  
इंडियन ओवरसीज बैंक

03. Indian Bank  
भारतीय बैंक

04. Central Bank of India  
सेंट्रल बैंक ऑफ इंडिया

05. Union Bank of India  
यूनियन बैंक ऑफ इंडिया

**Q-96** Recently Karnam Sekar has retired, he was the Managing Director and Chief Executive Officer of which Bank?  
**eng hin** हाल ही में कर्णम सेकर सेवानिवृत्त हुए हैं, वह किस बैंक के प्रबंध निदेशक और मुख्य कार्यकारी अधिकारी थे?

01. Punjab National Bank  
पंजाब नेशनल बैंक

02. Indian Overseas Bank  
इंडियन ओवरसीज बैंक

03. Indian Bank  
भारतीय बैंक

04. Central Bank of India  
सेंट्रल बैंक ऑफ इंडिया

05. Union Bank of India  
यूनियन बैंक ऑफ इंडिया

**Solution for Question 96** Ans Key: 2

<b>eng/eng</b>	The Managing Director and Chief Executive Officer of Indian Overseas Bank, Karnam Sekar has retired. इंडियन ओवरसीज बैंक के प्रबंध निदेशक और मुख्य कार्यकारी अधिकारी, कर्णम सेकर सेवानिवृत्त हो गए हैं।
<b>eng hin</b>	The Managing Director and Chief Executive Officer of Indian Overseas Bank, Karnam Sekar has retired. इंडियन ओवरसीज बैंक के प्रबंध निदेशक और मुख्य कार्यकारी अधिकारी, कर्णम सेकर सेवानिवृत्त हो गए हैं।

**Q-97** Recently Lin Dan has announced his retirement, he is related to which sport?  
**eng/eng** हाल ही में लिन डैन ने अपनी सेवानिवृत्ति की घोषणा की है, वह किस खेल से संबंधित है?

01. Badminton  
बैडमिंटन

02. Chess  
शतरंज

03. Tennis  
टेनिस

04. Cricket  
क्रिकेट

05. Football  
फुटबॉल

**Q-97** Recently Lin Dan has announced his retirement, he is related to which sport?  
**eng hin** हाल ही में लिन डैन ने अपनी सेवानिवृत्ति की घोषणा की है, वह किस खेल से संबंधित है?

01. Badminton  
बैडमिंटन

02. Chess  
शतरंज

03. Tennis  
टेनिस

04. Cricket  
क्रिकेट

05. Football  
फुटबॉल

**Solution for Question 97** Ans Key: 1

<b>eng/eng</b>	Two-time Olympic badminton champion Lin Dan has announced his retirement from the sport.
----------------	--

दो बार के ओलंपिक बैडमिंटन चैंपियन लिन डैन ने खेल से अपनी सेवानिवृत्ति की घोषणा की है।

**eng hin** Two-time Olympic badminton champion Lin Dan has announced his retirement from the sport.  
दो बार के ओलंपिक बैडमिंटन चैंपियन लिन डैन ने खेल से अपनी सेवानिवृत्ति की घोषणा की है।

**Q-98** Recently Michael Martin has been elected as new Prime Minister of which country?  
**eng/eng** हाल ही में माइकल मार्टिन किस देश के नए प्रधानमंत्री चुने गए हैं?

- |                                    |                                  |
|------------------------------------|----------------------------------|
| <b>01.</b> Mali<br>माली            | <b>02.</b> Iceland<br>आइसलैंड    |
| <b>03.</b> Ireland<br>आयरलैंड      | <b>04.</b> Ethiopia<br>इथियोपिया |
| <b>05.</b> Azerbaijan<br>अज़रबैजान |                                  |

**Q-98** Recently Michael Martin has been elected as new Prime Minister of which country?  
**eng hin** हाल ही में माइकल मार्टिन किस देश के नए प्रधानमंत्री चुने गए हैं?

- |                                    |                                  |
|------------------------------------|----------------------------------|
| <b>01.</b> Mali<br>माली            | <b>02.</b> Iceland<br>आइसलैंड    |
| <b>03.</b> Ireland<br>आयरलैंड      | <b>04.</b> Ethiopia<br>इथियोपिया |
| <b>05.</b> Azerbaijan<br>अज़रबैजान |                                  |

**Solution for Question 98**

Ans Key: 3

**eng/eng** Micheal Martin has been elected as the new Prime Minister of Ireland by the lower house of the Irish parliament.  
माइकल मार्टिन आयरलैंड के निचले सदन द्वारा आयरलैंड के नए प्रधानमंत्री के रूप में चुने गए हैं।

**eng hin** Micheal Martin has been elected as the new Prime Minister of Ireland by the lower house of the Irish parliament.  
माइकल मार्टिन आयरलैंड के निचले सदन द्वारा आयरलैंड के नए प्रधानमंत्री के रूप में चुने गए हैं।

**Q-99** Recently Nishikant Kamat has passed away, he was a renowned \_\_\_\_ .  
**eng/eng** हाल ही में निशिकांत कामत का निधन हो गया है, वह एक प्रसिद्ध थे \_\_\_\_ ।

- |  |                                  |
|--|----------------------------------|
| <b>01.</b> Filmmaker<br>फिल्म निर्माता | <b>02.</b> Cricketer<br>क्रिकेटर |
| <b>03.</b> Politician<br>राजनेता       | <b>04.</b> Singer<br>सिंगर       |
| <b>05.</b> Poet<br>कवि                 |                                  |

**Q-99** Recently Nishikant Kamat has passed away, he was a renowned \_\_\_\_ .  
**eng hin** हाल ही में निशिकांत कामत का निधन हो गया है, वह एक प्रसिद्ध थे \_\_\_\_ ।

- |  |                                  |
|--|----------------------------------|
| <b>01.</b> Filmmaker<br>फिल्म निर्माता | <b>02.</b> Cricketer<br>क्रिकेटर |
| <b>03.</b> Politician<br>राजनेता       | <b>04.</b> Singer<br>सिंगर       |
| <b>05.</b> Poet<br>कवि                 |                                  |

**Solution for Question 99**

Ans Key: 1

**eng/eng** Filmmaker Nishikant Kamat has passed away.  
फिल्म निर्माता निशिकांत कामत का निधन हो गया है।

**eng hin** Filmmaker Nishikant Kamat has passed away.  
फिल्म निर्माता निशिकांत कामत का निधन हो गया है।

**Q-100** Recently the Chief Minister of Madhya Pradesh Kamal Nath has resigned from his post, he was related to which party?  
**eng/eng** हाल ही में मध्य प्रदेश के मुख्यमंत्री कमलनाथ ने अपने पद से इस्तीफा दे दिया है, वह किस पार्टी से संबंधित थे?

- |   |  |
|---|--|
| <b>01.</b> Bharatiya Janata Party<br>भारतीय जनता पार्टी | <b>02.</b> Indian National Congress<br>भारतीय राष्ट्रीय कांग्रेस |
| <b>03.</b> Bahujan Samaj Party<br>बहुजन समाज पार्टी     | <b>04.</b> Aam Aadmi Party<br>आम आदमी पार्टी                     |

05. Janta Party  
जनता पार्टी

**Q-100** Recently the Chief Minister of Madhya Pradesh Kamal Nath has resigned from his post, he was related to which party?  
**eng hin** हाल ही में मध्य प्रदेश के मुख्यमंत्री कमलनाथ ने अपने पद से इस्तीफा दे दिया है, वह किस पार्टी से संबंधित थे?

01. Bharatiya Janata Party  
भारतीय जनता पार्टी
02. Indian National Congress  
भारतीय राष्ट्रीय कांग्रेस
03. Bahujan Samaj Party  
बहुजन समाज पार्टी
04. Aam Aadmi Party  
आम आदमी पार्टी
05. Janta Party  
जनता पार्टी

#### Solution for Question 100

Ans Key: 2

**eng/eng** Kamal Nath has resigned as the Chief Minister of Madhya Pradesh.  
कमलनाथ ने मध्य प्रदेश के मुख्यमंत्री पद से इस्तीफा दे दिया है।

**eng hin** Kamal Nath has resigned as the Chief Minister of Madhya Pradesh.  
कमलनाथ ने मध्य प्रदेश के मुख्यमंत्री पद से इस्तीफा दे दिया है।

**Q-101** Recently which bank has waived off the minimum balance charges on all savings bank accounts?  
**eng/eng** हाल ही में किस बैंक ने सभी बचत बैंक खातों पर न्यूनतम शेष राशि का भुगतान किया है?

01. State Bank of India  
भारतीय स्टेट बैंक
02. Allahabad Bank
03. Axis Bank
04. Punjab National Bank
05. Central Bank of India

**Q-101** Recently which bank has waived off the minimum balance charges on all savings bank accounts?  
**eng hin** हाल ही में किस बैंक ने सभी बचत बैंक खातों पर न्यूनतम शेष राशि का भुगतान किया है?

01. State Bank of India  
भारतीय स्टेट बैंक
02. Allahabad Bank
03. Axis Bank
04. Punjab National Bank
05. Central Bank of India

#### Solution for Question 101

Ans Key: 1

**eng/eng** The State Bank of India has waived off the minimum balance charges on all savings bank accounts.  
भारतीय स्टेट बैंक ने सभी बचत बैंक खातों पर न्यूनतम शेष शुल्क को समाप्त कर दिया है।

**eng hin** The State Bank of India has waived off the minimum balance charges on all savings bank accounts.  
भारतीय स्टेट बैंक ने सभी बचत बैंक खातों पर न्यूनतम शेष शुल्क को समाप्त कर दिया है।

**Q-102** Recently which company along with NITI Aayog's Atal Innovation Mission released the 2nd edition of the Student Entrepreneurship Program?  
**eng/eng** हाल ही में NITI Aayog के अटल इनोवेशन मिशन के साथ किस कंपनी ने छात्र उद्यमिता कार्यक्रम का दूसरा संस्करण जारी किया?

01. HCL Technologies  
एचसीएल टेक्नोलॉजीज
02. Tata Consultancy Services  
टाटा कंसल्टेंसी सर्विसेज
03. Tech Mahindra  
टेक महिंद्रा
04. Oracle Financial Services  
ओरेकल फाइनेंशियल सर्विसेज
05. Dell Technologies  
डेल टेक्नोलॉजीज

**Q-102** Recently which company along with NITI Aayog's Atal Innovation Mission released the 2nd edition of the Student Entrepreneurship Program?  
**eng hin** हाल ही में NITI Aayog के अटल इनोवेशन मिशन के साथ किस कंपनी ने छात्र उद्यमिता कार्यक्रम का दूसरा संस्करण जारी किया?

01. HCL Technologies  
एचसीएल टेक्नोलॉजीज
02. Tata Consultancy Services  
टाटा कंसल्टेंसी सर्विसेज
03. Tech Mahindra  
टेक महिंद्रा
04. Oracle Financial Services  
ओरेकल फाइनेंशियल सर्विसेज
05. Dell Technologies  
डेल टेक्नोलॉजीज

#### Solution for Question 102

Ans Key: 5

**eng/eng** NITI Aayog's Atal Innovation Mission (AIM) in collaboration with Dell Technologies has launched the 2nd edition of the Student Entrepreneurship Program (SEP 2.0) for young innovators of Atal Tinkering Labs (ATLs).  
डेल टेक्नोलॉजीज के सहयोग से NITI Aayog के अटल इनोवेशन मिशन (AIM) ने अटल टिंकरिंग लैब्स (ATL) के युवा इनोवेटर्स के लिए स्टूडेंट एंटरप्रेन्योरशिप प्रोग्राम



(SEP 2.0) का दूसरा संस्करण लॉन्च किया है।

eng hin	NITI Aayog's Atal Innovation Mission (AIM) in collaboration with Dell Technologies has launched the 2nd edition of the Student Entrepreneurship Program (SEP 2.0) for young innovators of Atal Tinkering Labs (ATLs). डेल टेक्नोलॉजीज के सहयोग से NITI Aayog के अटल इनोवेशन मिशन (AIM) ने अटल टिंकरिंग लैब्स (ATL) के युवा इनोवेटर्स के लिए स्टूडेंट एंटरप्रेन्योरशिप प्रोग्राम (SEP 2.0) का दूसरा संस्करण लॉन्च किया है।
---------	--

**Q-103** Recently which Railway Station has Introduced Signage & Maps in Braille?  
**eng/eng** हाल ही में किस रेलवे स्टेशन ने ब्रेल में साइनेज और मैप्स पेश किए हैं?

- |                          |                          |
|--------------------------|--------------------------|
| 01. Dehradun<br>देहरादून | 02. Gorakhpur<br>गोरखपुर |
| 03. Lucknow<br>लखनऊ      | 04. Nasik<br>नासिक       |
| 05. Asansol<br>आसनसोल    |                          |

**Q-103** Recently which Railway Station has Introduced Signage & Maps in Braille?  
**eng hin** हाल ही में किस रेलवे स्टेशन ने ब्रेल में साइनेज और मैप्स पेश किए हैं?

- |                          |                          |
|--------------------------|--------------------------|
| 01. Dehradun<br>देहरादून | 02. Gorakhpur<br>गोरखपुर |
| 03. Lucknow<br>लखनऊ      | 04. Nasik<br>नासिक       |
| 05. Asansol<br>आसनसोल    |                          |

<b>Solution for Question 103</b>		Ans Key: 1
eng/eng	Dehradun Railway Station Introduced Signage & Maps In Braille. देहरादून रेलवे स्टेशन ने ब्रेल में साइनेज और मैप्स पेश किए हैं।	
eng hin	Dehradun Railway Station Introduced Signage & Maps In Braille. देहरादून रेलवे स्टेशन ने ब्रेल में साइनेज और मैप्स पेश किए हैं।	

**Q-104** Recently which state government has approved the implementation of "happy hour" for auto rickshaws?  
**eng/eng** हाल ही में किस राज्य सरकार ने ऑटो रिक्शा के लिए "खुशहाल घंटे" के कार्यान्वयन को मंजूरी दी है?

- |                                   |                                    |
|-----------------------------------|------------------------------------|
| 01. Maharashtra<br>महाराष्ट्र     | 02. Bihar<br>बिहार                 |
| 03. Haryana<br>हरियाणा            | 04. Andhra Pradesh<br>आंध्र प्रदेश |
| 05. Uttar Pradesh<br>उत्तर प्रदेश |                                    |

**Q-104** Recently which state government has approved the implementation of "happy hour" for auto rickshaws?  
**eng hin** हाल ही में किस राज्य सरकार ने ऑटो रिक्शा के लिए "खुशहाल घंटे" के कार्यान्वयन को मंजूरी दी है?

- |                                   |                                    |
|-----------------------------------|------------------------------------|
| 01. Maharashtra<br>महाराष्ट्र     | 02. Bihar<br>बिहार                 |
| 03. Haryana<br>हरियाणा            | 04. Andhra Pradesh<br>आंध्र प्रदेश |
| 05. Uttar Pradesh<br>उत्तर प्रदेश |                                    |

<b>Solution for Question 104</b>		Ans Key: 1
eng/eng	Maharashtra government approved the implementation of "happy hour" for autorickshaws. महाराष्ट्र सरकार ने ऑटोरिक्शा के लिए "खुशहाल घंटे" के कार्यान्वयन को मंजूरी दी।	
eng hin	Maharashtra government approved the implementation of "happy hour" for autorickshaws. महाराष्ट्र सरकार ने ऑटोरिक्शा के लिए "खुशहाल घंटे" के कार्यान्वयन को मंजूरी दी।	

**Q-105** Recently who has been given the additional charge of Madhya Pradesh as its Governor?  
**eng/eng** हाल ही में किसे मध्य प्रदेश का अतिरिक्त राज्यपाल नियुक्त किया गया है?

- |                            |                                 |
|----------------------------|---------------------------------|
| 01. Ganesh Lal<br>गणेश लाल | 02. Phagu Chauhan<br>फागू चौहान |
|----------------------------|---------------------------------|

03. Anandiben Patel  
आनंदीबेन पटेल
04. Baby Rani Maurya  
बेबी रानी मौर्य
05. Kalraj Mishra  
कलराज मिश्र

**Q-105** Recently who has been given the additional charge of Madhya Pradesh as its Governor?  
**eng hin** हाल ही में किसे मध्य प्रदेश का अतिरिक्त राज्यपाल नियुक्त किया गया है?

01. Ganesh Lal  
गणेश लाल
02. Phagu Chauhan  
फागू चौहान
03. Anandiben Patel  
आनंदीबेन पटेल
04. Baby Rani Maurya  
बेबी रानी मौर्य
05. Kalraj Mishra  
कलराज मिश्र

**Solution for Question 105**

Ans Key: 3

**eng/eng** Uttar Pradesh Governor Anandiben Patel has been given the additional charge of Madhya Pradesh as its Governor.  
उत्तर प्रदेश की राज्यपाल आनंदीबेन पटेल को राज्यपाल के रूप में मध्य प्रदेश का अतिरिक्त प्रभार दिया गया है।

**eng hin** Uttar Pradesh Governor Anandiben Patel has been given the additional charge of Madhya Pradesh as its Governor.  
उत्तर प्रदेश की राज्यपाल आनंदीबेन पटेल को राज्यपाल के रूप में मध्य प्रदेश का अतिरिक्त प्रभार दिया गया है।

**Q-106** Recently who has chaired the 49th Governing Council Meeting of National Productivity Council?  
**eng/eng** हाल ही में राष्ट्रीय उत्पादकता परिषद की 49 वीं गवर्निंग काउंसिल की बैठक की अध्यक्षता किसने की?

01. Nitin Gadkari  
नितिन गडकरी
02. Amit Shah  
अमित शाह
03. Nirmala Sitharaman  
निर्मला सीतारमण
04. Narendra Modi  
नरेंद्र मोदी
05. Piyush Goyal  
पीयूष गोयल

**Q-106** Recently who has chaired the 49th Governing Council Meeting of National Productivity Council?  
**eng hin** हाल ही में राष्ट्रीय उत्पादकता परिषद की 49 वीं गवर्निंग काउंसिल की बैठक की अध्यक्षता किसने की?

01. Nitin Gadkari  
नितिन गडकरी
02. Amit Shah  
अमित शाह
03. Nirmala Sitharaman  
निर्मला सीतारमण
04. Narendra Modi  
नरेंद्र मोदी
05. Piyush Goyal  
पीयूष गोयल

**Solution for Question 106**

Ans Key: 5

**eng/eng** Piyush Goyal, Commerce & Industry Minister and President of NPC Governing Council chaired the 49th Governing Council Meeting of National Productivity Council (NPC).  
पीयूष गोयल, वाणिज्य और उद्योग मंत्री और एनपीसी गवर्निंग काउंसिल के अध्यक्ष ने राष्ट्रीय उत्पादकता परिषद (एनपीसी) की 49 वीं गवर्निंग काउंसिल की बैठक की अध्यक्षता की।

**eng hin** Piyush Goyal, Commerce & Industry Minister and President of NPC Governing Council chaired the 49th Governing Council Meeting of National Productivity Council (NPC).  
पीयूष गोयल, वाणिज्य और उद्योग मंत्री और एनपीसी गवर्निंग काउंसिल के अध्यक्ष ने राष्ट्रीय उत्पादकता परिषद (एनपीसी) की 49 वीं गवर्निंग काउंसिल की बैठक की अध्यक्षता की।

**Q-107** Recently who has launched the book "My Encounters in Parliament" that is authored by Bhalchandra Mungekar?  
**eng/eng** हाल ही में, "संसद में मेरे एनकाउंटर्स" पुस्तक का शुभारंभ किसने किया, जिसे भालचंद्र मुंगेकर ने लिखा गया है?

01. M Venakaiah Naidu  
एम वेंकैया नायडू
02. Hamid Ansari  
हामिद अंसारी
03. Pranab Mukharjee  
प्रणब मुखर्जी
04. Meera Kumar  
मीरा कुमार
05. Murali Manohar Joshi  
मुरली मनोहर जोशी

**Q-107** Recently who has launched the book "My Encounters in Parliament" that is authored by Bhalchandra Mungekar?  
**eng hin** हाल ही में, "संसद में मेरे एनकाउंटर्स" पुस्तक का शुभारंभ किसने किया, जिसे भालचंद्र मुंगेकर ने लिखा गया है?

01. M Venakaiah Naidu
02. Hamid Ansari

एम वेंकैया नायडू

03. Pranab Mukharjee  
प्रणब मुखर्जी

05. Murali Manohar Joshi  
मुरली मनोहर जोशी

हामिद अंसारी

04. Meera Kumar  
मीरा कुमार

### Solution for Question 107

Ans Key: 2

**eng/eng** Former Vice-President of India Hamid Ansari launched the book authored by Bhalchandra Munekar, which was titled as "My Encounters in Parliament".  
भारत के पूर्व उपराष्ट्रपति हामिद अंसारी ने भालचंद्र मुंगेकर द्वारा लिखी गई पुस्तक को लॉन्च किया, जिसका शीर्षक था "संसद में मेरे एनकाउंटर"।

**eng hin** Former Vice-President of India Hamid Ansari launched the book authored by Bhalchandra Munekar, which was titled as "My Encounters in Parliament".  
भारत के पूर्व उपराष्ट्रपति हामिद अंसारी ने भालचंद्र मुंगेकर द्वारा लिखी गई पुस्तक को लॉन्च किया, जिसका शीर्षक था "संसद में मेरे एनकाउंटर"।

**Q-108** Recently who was appointed as Managing Director of Google Cloud India?  
**eng/eng** हाल ही में गुगल क्लाउड इंडिया के प्रबंध निदेशक के रूप में किसे नियुक्त किया गया?

01. Rohan Kapoor  
रोहन कपूर

02. Karan Bajwa  
करण बाजवा

03. Amit Agrawal  
अमित अग्रवाल

04. Rohit Sinha  
रोहित सिन्हा

05. Sachin Bansal  
सचिन बंसल

**Q-108** Recently who was appointed as Managing Director of Google Cloud India?  
**eng hin** हाल ही में गुगल क्लाउड इंडिया के प्रबंध निदेशक के रूप में किसे नियुक्त किया गया?

01. Rohan Kapoor  
रोहन कपूर

02. Karan Bajwa  
करण बाजवा

03. Amit Agrawal  
अमित अग्रवाल

04. Rohit Sinha  
रोहित सिन्हा

05. Sachin Bansal  
सचिन बंसल

### Solution for Question 108

Ans Key: 2

**eng/eng** Google Cloud India has appointed Karan Bajwa as its new Managing Director.  
Google क्लाउड इंडिया ने करण बाजवा को अपना नया प्रबंध निदेशक नियुक्त किया है।

**eng hin** Google Cloud India has appointed Karan Bajwa as its new Managing Director.  
Google क्लाउड इंडिया ने करण बाजवा को अपना नया प्रबंध निदेशक नियुक्त किया है।

**Q-109** The Central Mechanical Engineering Research Institute(CSIR) is located in which state?  
**eng/eng** सेंट्रल मैकेनिकल इंजीनियरिंग रिसर्च इंस्टीट्यूट (CSIR) किस राज्य में स्थित है?

01. West Bengal/पश्चिम बंगाल

02. Tamil Nadu/तमिलनाडु

03. Uttar Pradesh/उत्तर प्रदेश

04. Madhya Pradesh/मध्य प्रदेश

05. Andhra Pradesh/आंध्र प्रदेश

**Q-109** The Central Mechanical Engineering Research Institute(CSIR) is located in which state?  
**eng hin** सेंट्रल मैकेनिकल इंजीनियरिंग रिसर्च इंस्टीट्यूट (CSIR) किस राज्य में स्थित है?

01. West Bengal/पश्चिम बंगाल

02. Tamil Nadu/तमिलनाडु

03. Uttar Pradesh/उत्तर प्रदेश

04. Madhya Pradesh/मध्य प्रदेश

05. Andhra Pradesh/आंध्र प्रदेश

### Solution for Question 109

Ans Key: 1

**eng/eng** The Central Mechanical Engineering Research Institute is a public engineering research and development institution in Durgapur, West Bengal, India. It is a constituent laboratory of the Indian Council of Scientific and Industrial Research.  
CSIR-CMERI develops World's Largest Solar Tree.  
सेंट्रल मैकेनिकल इंजीनियरिंग रिसर्च इंस्टीट्यूट दुर्गापुर, पश्चिम बंगाल, भारत में एक सार्वजनिक इंजीनियरिंग अनुसंधान और विकास संस्थान है। यह भारतीय वैज्ञानिक और औद्योगिक अनुसंधान परिषद की एक घटक प्रयोगशाला है। CSIR-CMERI विश्व का सबसे बड़ा सौर वृक्ष विकसित करता है।

**eng hin** The Central Mechanical Engineering Research Institute is a public engineering research and development institution in Durgapur, West Bengal, India. It is a constituent laboratory of the Indian Council of Scientific and Industrial Research.  
CSIR-CMERI develops World's Largest Solar Tree.  
सेंट्रल मैकेनिकल इंजीनियरिंग रिसर्च इंस्टीट्यूट दुर्गापुर, पश्चिम बंगाल, भारत में एक सार्वजनिक इंजीनियरिंग अनुसंधान और विकास संस्थान है। यह भारतीय वैज्ञानिक और औद्योगिक अनुसंधान परिषद की एक घटक प्रयोगशाला है। CSIR-CMERI विश्व का सबसे बड़ा सौर वृक्ष विकसित करता है।

<b>Q-110</b> eng/eng	The Keoladeo National Park is located in which state? केवलादेव राष्ट्रीय उद्यान किस राज्य में स्थित है?
01. Rajasthan/राजस्थान	02. Gujarat/गुजरात
03. Assam/असम	04. Sikkim/सिक्किम
05. Tamil Nadu/तमिलनाडु	
<b>Q-110</b> eng hin	The Keoladeo National Park is located in which state? केवलादेव राष्ट्रीय उद्यान किस राज्य में स्थित है?
01. Rajasthan/राजस्थान	02. Gujarat/गुजरात
03. Assam/असम	04. Sikkim/सिक्किम
05. Tamil Nadu/तमिलनाडु	

Solution for Question 110

Ans Key: 1

<b>eng/eng</b>	Keoladeo National Park or Keoladeo Ghana National Park formerly known as the Bharatpur Bird Sanctuary in Bharatpur, Rajasthan, India is a famous avifauna sanctuary that hosts thousands of birds, especially during the winter season. Over 230 species of birds are known to be resident. It is also a major tourist centre with scores of ornithologists arriving here in the hibernal season. It was declared a protected sanctuary in 1971. It is also a World Heritage Site. केवलादेव राष्ट्रीय उद्यान या केवलादेव घना राष्ट्रीय उद्यान जिसे पहले भरतपुर, राजस्थान के भरतपुर पक्षी अभयारण्य के रूप में जाना जाता था, भारत एक प्रसिद्ध एविफ़ुना अभयारण्य है जो हजारों पक्षियों की मेजबानी करता है, खासकर सर्दियों के मौसम में। पक्षियों की 230 से अधिक प्रजातियां निवास के लिए जानी जाती हैं। यह एक प्रमुख पर्यटन केंद्र भी है, जहां पर पक्षीविदों के अंक हाइबरनल मौसम में आते हैं। यह 1971 में एक संरक्षित अभयारण्य घोषित किया गया था। यह एक विश्व धरोहर स्थल भी है।
<b>eng hin</b>	Keoladeo National Park or Keoladeo Ghana National Park formerly known as the Bharatpur Bird Sanctuary in Bharatpur, Rajasthan, India is a famous avifauna sanctuary that hosts thousands of birds, especially during the winter season. Over 230 species of birds are known to be resident. It is also a major tourist centre with scores of ornithologists arriving here in the hibernal season. It was declared a protected sanctuary in 1971. It is also a World Heritage Site. केवलादेव राष्ट्रीय उद्यान या केवलादेव घना राष्ट्रीय उद्यान जिसे पहले भरतपुर, राजस्थान के भरतपुर पक्षी अभयारण्य के रूप में जाना जाता था, भारत एक प्रसिद्ध एविफ़ुना अभयारण्य है जो हजारों पक्षियों की मेजबानी करता है, खासकर सर्दियों के मौसम में। पक्षियों की 230 से अधिक प्रजातियां निवास के लिए जानी जाती हैं। यह एक प्रमुख पर्यटन केंद्र भी है, जहां पर पक्षीविदों के अंक हाइबरनल मौसम में आते हैं। यह 1971 में एक संरक्षित अभयारण्य घोषित किया गया था। यह एक विश्व धरोहर स्थल भी है।

<b>Q-111</b> eng/eng	What is the currency of Switzerland? स्विट्जरलैंड की मुद्रा क्या है?
01. Krone/क्रोन	02. Franc/फ्रैंक
03. Dollar/डॉलर	04. Euro/यूरो
05. Peso/पिसो	
<b>Q-111</b> eng hin	What is the currency of Switzerland? स्विट्जरलैंड की मुद्रा क्या है?
01. Krone/क्रोन	02. Franc/फ्रैंक
03. Dollar/डॉलर	04. Euro/यूरो
05. Peso/पिसो	

Solution for Question 111

Ans Key: 2

<b>eng/eng</b>	Switzerland, is a country situated at the confluence of Western, Central, and Southern Europe. It is a federal republic composed of 26 cantons, with federal authorities based in Bern. Switzerland is a landlocked country bordered by Italy to the south, France to the west, Germany to the north, and Austria and Liechtenstein to the east. Currency-Swiss franc (CHF) स्विट्जरलैंड, पश्चिमी, मध्य और दक्षिणी यूरोप के संगम पर स्थित एक देश है। यह एक संघीय गणराज्य है, जो 26 कैंटन से बना है, बर्न में स्थित संघीय अधिकारियों के साथ। स्विट्जरलैंड एक भूखलन वाला देश है जिसकी सीमा दक्षिण में इटली, पश्चिम में फ्रांस, उत्तर में जर्मनी और पूर्व में ऑस्ट्रिया और लिकटेन्स्टीन से है। मुद्रा-स्विस फ्रैंक (CHF)
<b>eng hin</b>	Switzerland, is a country situated at the confluence of Western, Central, and Southern Europe. It is a federal republic composed of 26 cantons, with federal authorities based in Bern. Switzerland is a landlocked country bordered by Italy to the south, France to the west, Germany to the north, and Austria and Liechtenstein to the east. Currency-Swiss franc (CHF) स्विट्जरलैंड, पश्चिमी, मध्य और दक्षिणी यूरोप के संगम पर स्थित एक देश है। यह एक संघीय गणराज्य है, जो 26 कैंटन से बना है, बर्न में स्थित संघीय अधिकारियों के साथ। स्विट्जरलैंड एक भूखलन वाला देश है जिसकी सीमा दक्षिण में इटली, पश्चिम में फ्रांस, उत्तर में जर्मनी और पूर्व में ऑस्ट्रिया और लिकटेन्स्टीन से है। मुद्रा-स्विस फ्रैंक (CHF)

<b>Q-112</b> eng/eng	When is National Teachers Day celebrated? राष्ट्रीय शिक्षक दिवस कब मनाया जाता है?
01. August 5/5 अगस्त	02. September 15/15 सितंबर

03. September 5/5 सितंबर

05. December 5/5 दिसम्बर

**Q-112**  
**eng hin** When is National Teachers Day celebrated?  
राष्ट्रीय शिक्षक दिवस कब मनाया जाता है?

01. August 5/5 अगस्त

02. September 15/15 सितंबर

03. September 5/5 सितंबर

04. November 14/14 नवंबर

05. December 5/5 दिसम्बर

**Solution for Question 112**

Ans Key: 3

**eng/eng** Teachers' Day is a special day for the appreciation of teachers, and may include celebrations to honor them for their special contributions in a particular field area, or the community in general.  
In India the birthday of the second president Sarvepalli Radhakrishnan (5 September) is celebrated as Teacher's Day since 1962 and Guru Purnima is traditionally observed as a day to venerate teachers by Hindus.  
Many countries celebrate their Teachers' Day on 5 October in conjunction with World Teachers' Day, which was established by UNESCO in 1994.  
शिक्षक दिवस शिक्षकों की सराहना के लिए एक विशेष दिन है, और समुदाय में उनके विशेष योगदान के लिए उन्हें सम्मानित करने के लिए मनाया जाता है।  
भारत में 1962 से दूसरे राष्ट्रपति सर्वपल्ली राधाकृष्णन (5 सितंबर) के जन्मदिन को शिक्षक दिवस के रूप में मनाया जाता है और गुरु पूर्णिमा पारंपरिक रूप से शिक्षकों को सम्मानित करने के दिन के रूप में मनाया जाता है।  
कई देश 5 अक्टूबर को विश्व शिक्षक दिवस के साथ शिक्षक दिवस मनाते हैं, जिसे 1994 में यूनेस्को द्वारा स्थापित किया गया था।

**eng hin** Teachers' Day is a special day for the appreciation of teachers, and may include celebrations to honor them for their special contributions in a particular field area, or the community in general.  
In India the birthday of the second president Sarvepalli Radhakrishnan (5 September) is celebrated as Teacher's Day since 1962 and Guru Purnima is traditionally observed as a day to venerate teachers by Hindus.  
Many countries celebrate their Teachers' Day on 5 October in conjunction with World Teachers' Day, which was established by UNESCO in 1994.  
शिक्षक दिवस शिक्षकों की सराहना के लिए एक विशेष दिन है, और समुदाय में उनके विशेष योगदान के लिए उन्हें सम्मानित करने के लिए मनाया जाता है।  
भारत में 1962 से दूसरे राष्ट्रपति सर्वपल्ली राधाकृष्णन (5 सितंबर) के जन्मदिन को शिक्षक दिवस के रूप में मनाया जाता है और गुरु पूर्णिमा पारंपरिक रूप से शिक्षकों को सम्मानित करने के दिन के रूप में मनाया जाता है।  
कई देश 5 अक्टूबर को विश्व शिक्षक दिवस के साथ शिक्षक दिवस मनाते हैं, जिसे 1994 में यूनेस्को द्वारा स्थापित किया गया था।

**Q-113** Which automobile manufacturer has launched a Virtual Racing Championship in India?

**eng/eng** किस ऑटोमोबाइल निर्माता ने भारत में एक वर्चुअल रेसिंग चैंपियनशिप शुरू की है?

01. Maruti Suzuki / मारुति सुजुकी

02. Tata Motors/ टाटा मोटर्स

03. Volkswagen Motorsport India./ वोक्सवैगन मोटरस्पोर्ट इंडिया

04. Hyundai India / हुंडिया इंडिया

05. both (A) & (B) / दोनों (ए) और (बी)

**Q-113** Which automobile manufacturer has launched a Virtual Racing Championship in India?

**eng hin** किस ऑटोमोबाइल निर्माता ने भारत में एक वर्चुअल रेसिंग चैंपियनशिप शुरू की है?

01. Maruti Suzuki / मारुति सुजुकी

02. Tata Motors/ टाटा मोटर्स

03. Volkswagen Motorsport India./ वोक्सवैगन मोटरस्पोर्ट इंडिया

04. Hyundai India / हुंडिया इंडिया

05. both (A) & (B) / दोनों (ए) और (बी)

**Solution for Question 113**

Ans Key: 3

**eng/eng** वोक्सवैगन मोटरस्पोर्ट इंडिया (VMI) ने अपने घर के आराम में रोमांचक और आकर्षक मोटरस्पोर्ट अनुभव को देने के लिए वोक्सवैगन वर्चुअल रेसिंग चैंपियनशिप (VW-VRC) लॉन्च की। 2020 पोलो चैंपियनशिप (वन-मेक सीरीज़) वस्तुतः सिमुलेटर के माध्यम से आयोजित की जाएगी।  
Volkswagen Motorsport India (VMI) launches the Volkswagen Virtual Racing Championship (VW-VRC) to deliver the exciting and engaging motorsport experience digitally in the comfort of your home. The 2020 Polo Championship (one-make series) will be conducted virtually through simulators.

**eng hin** वोक्सवैगन मोटरस्पोर्ट इंडिया (VMI) ने अपने घर के आराम में रोमांचक और आकर्षक मोटरस्पोर्ट अनुभव को देने के लिए वोक्सवैगन वर्चुअल रेसिंग चैंपियनशिप (VW-VRC) लॉन्च की। 2020 पोलो चैंपियनशिप (वन-मेक सीरीज़) वस्तुतः सिमुलेटर के माध्यम से आयोजित की जाएगी।  
Volkswagen Motorsport India (VMI) launches the Volkswagen Virtual Racing Championship (VW-VRC) to deliver the exciting and engaging motorsport experience digitally in the comfort of your home. The 2020 Polo Championship (one-make series) will be conducted virtually through simulators.

**Q-114** Which is the longest river in the world?

**eng/eng** दुनिया में सबसे लंबी नदी कौन सी है?

01. Ganges/गंगा

02. Brahmaputra/ब्रह्मपुत्र

03. Amazon/अमेज़न

04. Yangtze/चांग

05. Nile/नील

**Q-114** Which is the longest river in the world?

**eng hin** दुनिया में सबसे लंबी नदी कौन सी है?



- |                   |                             |
|-------------------|-----------------------------|
| 01. Ganges/गंगा   | 02. Brahmaputra/ब्रह्मपुत्र |
| 03. Amazon/अमेज़न | 04. Yangtze/चांग            |
| 05. Nile/नील      |                             |

#### Solution for Question 114

Ans Key: 5

eng/eng	The Nile is a major north-flowing river in northeastern Africa, and is the longest river in Africa and the disputed longest river in the world, as the Brazilian government says that the Amazon River is longer than the Nile. The Nile is about 6,650 km long and its drainage basin covers eleven countries: Tanzania, Uganda, Rwanda, Burundi, the Democratic Republic of the Congo, Kenya, Ethiopia, Eritrea, South Sudan, Republic of the Sudan, and Egypt. नील नदी उत्तर-पूर्व अफ्रीका में एक प्रमुख उत्तर-बहने वाली नदी है, और अफ्रीका की सबसे लंबी नदी और दुनिया की सबसे लंबी विवादित नदी है, क्योंकि ब्राजील की सरकार का कहना है कि अमेज़न नदी नील नदी से लंबी है। नील नदी लगभग 6,650 किलोमीटर लंबी है और इसके जल निकासी बेसिन में ग्यारह देश शामिल हैं: तंजानिया, युगांडा, रवांडा, बुरुंडी, कांगो लोकतांत्रिक गणराज्य, केन्या, इथियोपिया, एरिट्रिया, दक्षिण सूडान, सूडान और मिस्र।
eng hin	The Nile is a major north-flowing river in northeastern Africa, and is the longest river in Africa and the disputed longest river in the world, as the Brazilian government says that the Amazon River is longer than the Nile. The Nile is about 6,650 km long and its drainage basin covers eleven countries: Tanzania, Uganda, Rwanda, Burundi, the Democratic Republic of the Congo, Kenya, Ethiopia, Eritrea, South Sudan, Republic of the Sudan, and Egypt. नील नदी उत्तर-पूर्व अफ्रीका में एक प्रमुख उत्तर-बहने वाली नदी है, और अफ्रीका की सबसे लंबी नदी और दुनिया की सबसे लंबी विवादित नदी है, क्योंकि ब्राजील की सरकार का कहना है कि अमेज़न नदी नील नदी से लंबी है। नील नदी लगभग 6,650 किलोमीटर लंबी है और इसके जल निकासी बेसिन में ग्यारह देश शामिल हैं: तंजानिया, युगांडा, रवांडा, बुरुंडी, कांगो लोकतांत्रिक गणराज्य, केन्या, इथियोपिया, एरिट्रिया, दक्षिण सूडान, सूडान और मिस्र।

**Q-115** Which Ministry has launched a mobile app called Mausam?

eng/eng

किस मंत्रालय ने मौसम नामक एक मोबाइल ऐप लॉन्च किया है?

- |  |   |
|--|---|
| 01. Home Ministry / गृह मंत्रालय             | 02. Health Ministry / स्वास्थ्य मंत्रालय              |
| 03. Both (a) & (b)/ दोनों (A) और (B)         | 04. Earth Sciences Ministry / पृथ्वी विज्ञान मंत्रालय |
| 05. Environment Ministry / पर्यावरण मंत्रालय |   |

**Q-115** Which Ministry has launched a mobile app called Mausam?

eng hin

किस मंत्रालय ने मौसम नामक एक मोबाइल ऐप लॉन्च किया है?

- |  |   |
|--|---|
| 01. Home Ministry / गृह मंत्रालय             | 02. Health Ministry / स्वास्थ्य मंत्रालय              |
| 03. Both (a) & (b)/ दोनों (A) और (B)         | 04. Earth Sciences Ministry / पृथ्वी विज्ञान मंत्रालय |
| 05. Environment Ministry / पर्यावरण मंत्रालय |   |

#### Solution for Question 115

Ans Key: 4

eng/eng	The Ministry of Earth Sciences launched the mobile App "Mausam" on July 27, 2020 for the India Meteorological Department on its Foundation Day celebrations. The users will be able to access weather forecasts, radar images and be warned of the impending weather events. पृथ्वी विज्ञान मंत्रालय ने अपने स्थापना दिवस समारोह पर भारत मौसम विज्ञान विभाग के लिए 27 जुलाई, 2020 को मोबाइल ऐप "मौसम" लॉन्च किया। उपयोगकर्ता मौसम के पूर्वानुमान, रडार छवियों का उपयोग करने में सक्षम होंगे और आसन्न सामाजिक कार्यक्रमों की चेतावनी दे सकते हैं।
eng hin	The Ministry of Earth Sciences launched the mobile App "Mausam" on July 27, 2020 for the India Meteorological Department on its Foundation Day celebrations. The users will be able to access weather forecasts, radar images and be warned of the impending weather events. पृथ्वी विज्ञान मंत्रालय ने अपने स्थापना दिवस समारोह पर भारत मौसम विज्ञान विभाग के लिए 27 जुलाई, 2020 को मोबाइल ऐप "मौसम" लॉन्च किया। उपयोगकर्ता मौसम के पूर्वानुमान, रडार छवियों का उपयोग करने में सक्षम होंगे और आसन्न सामाजिक कार्यक्रमों की चेतावनी दे सकते हैं।

**Q-116** Which of the following are engaged in the principal business of financing physical assets?

eng/eng

निम्नलिखित में से कौन भौतिक संपत्ति के वित्तपोषण के प्रमुख व्यवसाय में लगे हुए हैं?

- |  |  |
|--|--|
| 01. Investment Company / निवेश कंपनी           | 02. Loan Companies / ऋण कंपनियों                                   |
| 03. Asset Finance Company / एसेट फाइनेंस कंपनी | 04. Infrastructure Finance Company / इंफ्रास्ट्रक्चर फाइनेंस कंपनी |
| 05. None of these / इनमें से कोई नहीं          |  |

**Q-116** Which of the following are engaged in the principal business of financing physical assets?

eng hin

निम्नलिखित में से कौन भौतिक संपत्ति के वित्तपोषण के प्रमुख व्यवसाय में लगे हुए हैं?

- |  |  |
|--|--|
| 01. Investment Company / निवेश कंपनी           | 02. Loan Companies / ऋण कंपनियों                                   |
| 03. Asset Finance Company / एसेट फाइनेंस कंपनी | 04. Infrastructure Finance Company / इंफ्रास्ट्रक्चर फाइनेंस कंपनी |
| 05. None of these / इनमें से कोई नहीं          |  |

#### Solution for Question 116

Ans Key: 3

eng/eng	The Asset Finance Company is the financial institution engaged in the principal business of financing physical assets that correspond to productive/economic
---------	--



activity such as machinery, automobile, tractors, material handling equipment, power generators, etc.

एसेट फाइनेंस कंपनी वह वित्तीय संस्था है जो भौतिक संपत्तियों के वित्तपोषण के प्रमुख व्यवसाय में लगी हुई है। यह उत्पादक / आर्थिक गतिविधियों जैसे मशीनरी, ऑटोमोबाइल, ट्रैक्टर, सामग्री से निपटने के उपकरण, बिजली जनरेटर, आदि के अनुरूप है।

**eng hin** The Asset Finance Company is the financial institution engaged in the principal business of financing physical assets that correspond to productive/economic activity such as machinery, automobile, tractors, material handling equipment, power generators, etc.

एसेट फाइनेंस कंपनी वह वित्तीय संस्था है जो भौतिक संपत्तियों के वित्तपोषण के प्रमुख व्यवसाय में लगी हुई है। यह उत्पादक / आर्थिक गतिविधियों जैसे मशीनरी, ऑटोमोबाइल, ट्रैक्टर, सामग्री से निपटने के उपकरण, बिजली जनरेटर, आदि के अनुरूप है।

**Q-117** Which of the following are those principles, who are recommended by RBI in investing foreign assets?

**eng/eng** निम्नलिखित में से कौन से सिद्धांत हैं, जिन्हें विदेशी संपत्ति का निवेश करने में आरबीआई द्वारा सिफारिश की जाती है?

- |  |                                      |
|--|--------------------------------------|
| <b>01.</b> Safety / सुरक्षा                  | <b>02.</b> Liquidity / लिक्विडिटी    |
| <b>03.</b> Return / वापसी                    | <b>04.</b> All of above / उपर के सभी |
| <b>05.</b> None of these / इनमें से कोई नहीं |                                      |

**Q-117** Which of the following are those principles, who are recommended by RBI in investing foreign assets?

**eng hin** निम्नलिखित में से कौन से सिद्धांत हैं, जिन्हें विदेशी संपत्ति का निवेश करने में आरबीआई द्वारा सिफारिश की जाती है?

- |  |                                      |
|--|--------------------------------------|
| <b>01.</b> Safety / सुरक्षा                  | <b>02.</b> Liquidity / लिक्विडिटी    |
| <b>03.</b> Return / वापसी                    | <b>04.</b> All of above / उपर के सभी |
| <b>05.</b> None of these / इनमें से कोई नहीं |                                      |

### Solution for Question 117

Ans Key: 4

**eng/eng** The Department of External Investments and Operations (DEIO) invests the country's foreign exchange reserves built up by purchase of foreign currency from the market.

In investing its foreign assets, the Reserve Bank is guided by three principles: Safety, Liquidity, and Return.  
बाहरी निवेश और संचालन विभाग (DEIO) बाजार से विदेशी मुद्रा की खरीद के द्वारा निर्मित देश के विदेशी मुद्रा भंडार का निवेश करता है।  
अपनी विदेशी संपत्ति का निवेश करने में, रिज़र्व बैंक तीन सिद्धांतों: सुरक्षा, तरलता, रिटर्न द्वारा निर्देशित होता है।

**eng hin** The Department of External Investments and Operations (DEIO) invests the country's foreign exchange reserves built up by purchase of foreign currency from the market.

In investing its foreign assets, the Reserve Bank is guided by three principles: Safety, Liquidity, and Return.  
बाहरी निवेश और संचालन विभाग (DEIO) बाजार से विदेशी मुद्रा की खरीद के द्वारा निर्मित देश के विदेशी मुद्रा भंडार का निवेश करता है।  
अपनी विदेशी संपत्ति का निवेश करने में, रिज़र्व बैंक तीन सिद्धांतों: सुरक्षा, तरलता, रिटर्न द्वारा निर्देशित होता है।

**Q-118** Which of the following is the Regulator of the credit rating agencies in India?

**eng/eng** निम्नलिखित में से कौन भारत में क्रेडिट रेटिंग एजेंसियों का नियामक है?

- |                                      |                                       |
|--------------------------------------|---------------------------------------|
| <b>01.</b> RBI / भारतीय रिज़र्व बैंक | <b>02.</b> SBI / स्टेट बैंक ऑफ इंडिया |
| <b>03.</b> SIDBI / सिडबी             | <b>04.</b> SEBI / सेबी                |
| <b>05.</b> GOI / भारत सरकार          |                                       |

**Q-118** Which of the following is the Regulator of the credit rating agencies in India?

- |                                      |                                       |
|--------------------------------------|---------------------------------------|
| <b>01.</b> RBI / भारतीय रिज़र्व बैंक | <b>02.</b> SBI / स्टेट बैंक ऑफ इंडिया |
| <b>03.</b> SIDBI / सिडबी             | <b>04.</b> SEBI / सेबी                |
| <b>05.</b> GOI / भारत सरकार          |                                       |

### Solution for Question 118

Ans Key: 4

**eng/eng** The Securities and Exchange Board of India (Credit Rating Agencies) Regulations, 1999 empower SEBI to regulate credit rating agencies operating in India. Thus, SEBI regulates the credit rating agencies under the SEBI (Credit Rating Agencies) Regulations, 1999 of the Securities and Exchange Board of India Act, 1992.

भारतीय प्रतिभूति और विनियम बोर्ड (क्रेडिट रेटिंग एजेंसियां) विनियम, 1999 भारत में कार्यरत क्रेडिट रेटिंग एजेंसियों को विनियमित करने के लिए सेबी को सशक्त बनाता है। इस प्रकार, सेबी भारतीय प्रतिभूति और विनियम बोर्ड अधिनियम, 1992 के सेबी (क्रेडिट रेटिंग एजेंसियों) विनियम, 1999 के तहत क्रेडिट रेटिंग एजेंसियों को नियंत्रित करता है।

**eng hin** The Securities and Exchange Board of India (Credit Rating Agencies) Regulations, 1999 empower SEBI to regulate credit rating agencies operating in India. Thus, SEBI regulates the credit rating agencies under the SEBI (Credit Rating Agencies) Regulations, 1999 of the Securities and Exchange Board of India Act, 1992.

भारतीय प्रतिभूति और विनियम बोर्ड (क्रेडिट रेटिंग एजेंसियां) विनियम, 1999 भारत में कार्यरत क्रेडिट रेटिंग एजेंसियों को विनियमित करने के लिए सेबी को सशक्त बनाता है। इस प्रकार, सेबी भारतीय प्रतिभूति और विनियम बोर्ड अधिनियम, 1992 के सेबी (क्रेडिट रेटिंग एजेंसियों) विनियम, 1999 के तहत क्रेडिट रेटिंग एजेंसियों को नियंत्रित करता है।

**Q-119** Which of the following person received the prestigious "International Booker Prize 2020"?  
**eng/eng** निम्नलिखित में से किस व्यक्ति को प्रतिष्ठित "अंतर्राष्ट्रीय बुकर पुरस्कार 2020" प्राप्त हुआ?

01. Jojo Moyes  
जोजो मोयस

03. Olivia Liang  
ओलिविया लिआंग

05. Marieke Lucas Rijneveld  
मैरीके लुकास रिजनेवेल्ड

02. Mark Haddon  
मार्क हेडन

04. Hilary McKay  
हिलेरी मैके
- Q-119** Which of the following person received the prestigious "International Booker Prize 2020"?  
**eng/hin** निम्नलिखित में से किस व्यक्ति को प्रतिष्ठित "अंतर्राष्ट्रीय बुकर पुरस्कार 2020" प्राप्त हुआ?

01. Jojo Moyes  
जोजो मोयस

03. Olivia Liang  
ओलिविया लिआंग

05. Marieke Lucas Rijneveld  
मैरीके लुकास रिजनेवेल्ड

02. Mark Haddon  
मार्क हेडन

04. Hilary McKay  
हिलेरी मैके

**Solution for Question 119** Ans Key: 5

<b>eng/eng</b>	Dutch author Marieke Lucas Rijneveld won the 2020 International Booker prize for debut novel "The Discomfort of Evening, a story of childhood grief". डच लेखक मैरीके लुकास रिजनेवेल्ड ने डेब्यू उपन्यास "द डिस्कम्फोर्ट ऑफ इवनिंग, बचपन के दुःख की एक कहानी" के लिए 2020 इंटरनेशनल बुकर पुरस्कार जीता।
<b>eng/hin</b>	Dutch author Marieke Lucas Rijneveld won the 2020 International Booker prize for debut novel "The Discomfort of Evening, a story of childhood grief". डच लेखक मैरीके लुकास रिजनेवेल्ड ने डेब्यू उपन्यास "द डिस्कम्फोर्ट ऑफ इवनिंग, बचपन के दुःख की एक कहानी" के लिए 2020 इंटरनेशनल बुकर पुरस्कार जीता।

**Q-120** Who is the author of the book "Overdraft: Saving the Indian Saver"?  
**eng/eng** ओवरड्राफ्ट: सेविंग द इंडियन सेवर पुस्तक के लेखक कौन हैं?

01. Raghuram Rajan  
रघुराम राजन

03. Viral Acharya  
वायरल आचार्य

05. B P Kanungo  
बीपी कानूनगो

02. Shaktikanta Das  
शक्तिकांता दास

04. Urjit Patel  
उर्जित पटेल

**Q-120** Who is the author of the book "Overdraft: Saving the Indian Saver"?  
**eng/hin** ओवरड्राफ्ट: सेविंग द इंडियन सेवर पुस्तक के लेखक कौन हैं?

01. Raghuram Rajan  
रघुराम राजन

03. Viral Acharya  
वायरल आचार्य

05. B P Kanungo  
बीपी कानूनगो

02. Shaktikanta Das  
शक्तिकांता दास

04. Urjit Patel  
उर्जित पटेल

**Solution for Question 120** Ans Key: 4

<b>eng/eng</b>	Urjit Patel the Former RBI Governor authored the book "Overdraft: Saving the Indian Saver". उर्जित पटेल पूर्व RBI गवर्नर ने "ओवरड्राफ्ट: सेविंग द इंडियन सेवर" पुस्तक लिखी।
<b>eng/hin</b>	Urjit Patel the Former RBI Governor authored the book "Overdraft: Saving the Indian Saver". उर्जित पटेल पूर्व RBI गवर्नर ने "ओवरड्राफ्ट: सेविंग द इंडियन सेवर" पुस्तक लिखी।

**Q-121** In the following question, a phrase/idiom has been given followed by three sentences. The highlighted phrase/idiom may or may not be contextually correct. Find out the sentence(s) in which the phrase has correctly been used and mark your answer accordingly.  
**eng/eng**

Act on

- A. His advice did not act on him.
- B. The medicine can act on the heart.

C. All children talk back and act on from time to time.

01. Only A  
03. Only C  
05. All A, B and C
02. Both A and B  
04. Both A and C

**Q-121** नीचे दिए गए मुहावरों और लोकोक्तियों के अर्थ बताने के लिए पाँच-पाँच विकल्प दिए गए हैं। प्रत्येक के लिए उपयुक्त अर्थ वाला विकल्प चुनिए?  
**eng hin** खो देना

01. हाथ मलना  
03. हाथ साफ करना  
05. 1 और 4 दोनों
02. हाथ धोना  
04. हाथ कटाना

**Solution for Question 121**

Ans Key: 2

**eng/eng** Both A and B are right. Act on (phrasal verb): (act on/upon something) to do something because you have been given information, advice, or orders.  
In C: in place of “act on” use “act up (behave badly)” will be correct.

**eng hin** हाथ धोना

**Q-122** In the following question, a phrase/idiom has been given followed by three sentences. The highlighted phrase/idiom may or may not be contextually correct. Find out the sentence(s) in which the phrase has correctly been used and mark your answer accordingly.  
**eng/eng**

**Bear away**

- A. Last year Mukesh **bore away** three prizes.  
B. The newly discovered papers **bore away** the rumors about the president's involvement in scam.  
C. He did not **bear away** the hearts of people.

01. Only A  
03. Only C  
05. All A, B and C
02. Both A and B  
04. Both A and C

**Q-122** नीचे दिए गए मुहावरों और लोकोक्तियों के अर्थ बताने के लिए पाँच-पाँच विकल्प दिए गए हैं। प्रत्येक के लिए उपयुक्त अर्थ वाला विकल्प चुनिए?  
**eng hin** अग्नि परीक्षा देना

01. कठोर तप करना  
03. 1 और 2 दोनों  
05. दृढ़ निश्चय करना
02. साहसपूर्वक सामना करना  
04. कठिन परिस्थिति में पड़ना

**Solution for Question 122**

Ans Key: 4

**eng/eng** Both A and C are right. Bear away (phrasal verb): to carry off or attain to in victory.  
In sentence (B), in place of “bore away” use “bore out”.  
Bear out something/someone: to support the truth of something, or to support someone's statement or claim.

**eng hin** कठिन परिस्थिति में पड़ना

**Q-123** In the following question, a phrase/idiom has been given followed by three sentences. The highlighted phrase/idiom may or may not be contextually correct. Find out the sentence(s) in which the phrase has correctly been used and mark your answer accordingly.  
**eng/eng**

**Fall off**

- A. As he got popularity in movies there is **falling off** his fans in Instagram.  
B. Due to heavy rains the attendance in the class has **fallen off**.  
C. A sharp **fall-off** in demand for Chinese products after COVID 19 have been observed in various countries including India.

01. Only A  
03. Only C  
05. All A, B and C
02. Both B and C  
04. Both A and C

**Q-123** नीचे दिए गए मुहावरों और लोकोक्तियों के अर्थ बताने के लिए पाँच-पाँच विकल्प दिए गए हैं। प्रत्येक के लिए उपयुक्त अर्थ वाला विकल्प चुनिए?  
**eng hin** सुबह शाम करना

01. समय व्यतीत करना  
03. आवारागर्दी करना
02. टाल-मटोल करना  
04. दिन-रात काम करना

05. झूठ बोलना

### Solution for Question 123

Ans Key: 2

**eng/eng** Both B and C are right. Fall-off (phrasal verb): a reduction in the amount, rate, or quality of something.  
In sentence (A), in place of “fall off” use “mount up”.  
Mount up: to gradually increase in number or amount

**eng hin** टाल-मटोल करना

**Q-124** In the following question, a phrase/idiom has been given followed by three sentences. The highlighted phrase/idiom may or may not be contextually correct. Find out the sentence(s) in which the phrase has correctly been used and mark your answer accordingly.

**Hold out**

- A. The rebel **hold out** for about a month.  
B. It is hard to **hold out** for long time due to this pandemic.  
C. The troops **held out** against constant attacks.

01. Only A  
02. Both A and B  
03. Only C  
04. Both A and C  
05. All A, B and C

**Q-124** नीचे दिए गए मुहावरों और लोकोक्तियों के अर्थ बताने के लिए पाँच-पाँच विकल्प दिए गए हैं। प्रत्येक के लिए उपयुक्त अर्थ वाला विकल्प चुनिए?

**eng hin** तालु में जीभ न लगना

01. भूख से तड़पना  
02. प्यास से परेशान होना  
03. स्वाद न मिलना  
04. झूठ पकड़ जाना  
05. चुप न रहना

### Solution for Question 124

Ans Key: 5

**eng/eng** Hold out (phrasal verb): to continue to defend yourself against an enemy or attack without being defeated.

**eng hin** चुप न रहना

**Q-125** In the following question, a phrase/idiom has been given followed by three sentences. The highlighted phrase/idiom may or may not be contextually correct. Find out the sentence(s) in which the phrase has correctly been used and mark your answer accordingly.

**Set in**

- A. The story **set in** a small village Malgudi.  
B. My friend has **set in** on his journey.  
C. Buy woollen clothes as the winter has **set in**.

01. Only A  
02. Both A and B  
03. Only C  
04. Both A and C  
05. All A, B and C

**Q-125** नीचे दिए गए मुहावरों और लोकोक्तियों के अर्थ बताने के लिए पाँच-पाँच विकल्प दिए गए हैं। प्रत्येक के लिए उपयुक्त अर्थ वाला विकल्प चुनिए?

**eng hin** कान काटना

01. कटखना होना  
02. मूर्ख होना  
03. विनम्र होना  
04. चतुर होना  
05. कुश्ती में हरा देना

### Solution for Question 125

Ans Key: 4

**eng/eng** Both A and C are right. Set in (phrasal verb): if something unpleasant sets in, it starts to happen and have an effect, and is not likely to stop for a long time.  
In sentence (B), in place of “set in” use “set out”.  
Set out: to start a journey

**eng hin** चतुर होना

**Q-126** In the following question, a sentence divided into four parts has been given. In the sentence, any two parts consist of a grammatical error. Choose the parts which are free from errors.

Discussions were held with committee members (A)/ to deal for indiscipline (B)/ and with consumers (C)/ to understand its exigencies. (D)/

01. A-B  
03. A-C  
05. A-D
02. B-D  
04. C-D

**Q-126** नीचे दिया प्रत्येक वाक्य चार भागों में बांटा गया है जिन्हें (1),(2),(3),(4) और (5) क्रमांक दिए गये हैं। आपको यह देखना है कि वाक्य के किसी भाग में व्याकरण, भाषा, वर्तनी, शब्दों के गलत प्रयोग या इसी तरह की कोई त्रुटि अगर होगी तो वाक्य के किसी एक भाग या एक से अधिक भाग में हो सकती है। उस भाग का क्रमांक ही उत्तर है। अगर वाक्य त्रुटिरहित है तो उत्तर (5) अर्थात् कोई अशुद्धि नहीं दीजिए।

eng hin

वह पौधा (1)/ देखते-देखते (2)/ बड़ा विशाल वृक्ष (3)/ बन गया (4) /कोई त्रुटि नहीं (5)

01. 1 और 3  
03. केवल 3  
05. कोई त्रुटि नहीं
02. 3 और 4  
04. 2 और 4

### Solution for Question 126

Ans Key: 3

eng/eng Error is in Part (B) and Part (D).

Part (B): In place of “for” use “with” to refer to ‘handle’ as deal is followed by ‘with’.

Part (D): In place of “to understand its exigencies” we should use “to understand their exigencies” because the Subject “Consumers” is Plural, therefore “Plural Pronoun” should be used.

eng hin निष्कर्ष – बड़ा और विशाल का प्रयोग एक साथ नहीं होगा।

**Q-127** In the following question, a sentence divided into four parts has been given. In the sentence, any two parts consist of a grammatical error. Choose the parts which are free from errors.

eng/eng

The genuine conduction of the examination (A)/ at each venue will be entrusted (B)/ on the Officer-in-Charge (C)/ who will be designated as test conductor. (D)/

01. A-B  
03. A-C  
05. A-D
02. B-D  
04. C-D

**Q-127** नीचे दिया प्रत्येक वाक्य चार भागों में बांटा गया है जिन्हें (1),(2),(3),(4) और (5) क्रमांक दिए गये हैं। आपको यह देखना है कि वाक्य के किसी भाग में व्याकरण, भाषा, वर्तनी, शब्दों के गलत प्रयोग या इसी तरह की कोई त्रुटि अगर होगी तो वाक्य के किसी एक भाग या एक से अधिक भाग में हो सकती है। उस भाग का क्रमांक ही उत्तर है। अगर वाक्य त्रुटिरहित है तो उत्तर (5) अर्थात् कोई अशुद्धि नहीं दीजिए।

eng hin

पुलिस द्वारा चोरी (1)/ का माल (2) / बरामद कर (3) / हो गया। (4)/ कोई त्रुटि नहीं (5)

01. 1 और 2 दोनों  
03. केवल 4  
05. कोई त्रुटि नहीं
02. 1 और 4 दोनों  
04. 2 और 4 दोनों

### Solution for Question 127

Ans Key: 2

eng/eng Error is in Part (A) and Part (C).

Part (A): In place of “conduction” use “conduct”. Conduction (Noun): the process by which heat or electricity goes through a substance.

“Conduct” means the manner in which a person behaves, especially in a particular place or situation.

Part (C): In place of “on” we should use “to” because “Entrust something to someone” means to give someone a thing or a duty for which they are responsible.

eng hin निष्कर्ष- द्वारा का प्रयोग नहीं होगा, लिया होगा।

**Q-128** In the following question, a sentence divided into four parts has been given. In the sentence, any two parts consist of a grammatical error. Choose the parts which are free from errors.

eng/eng

The list of examinees appearing (A)/ for the test should be remain (B)/ with the invigilator's (C)/ during the test. (D)/

01. A-B  
03. A-D  
05. A-C
02. B-D  
04. C-D

**Q-128** नीचे दिया प्रत्येक वाक्य चार भागों में बांटा गया है जिन्हें (1),(2),(3),(4) और (5) क्रमांक दिए गये हैं। आपको यह देखना है कि वाक्य के किसी भाग में व्याकरण, भाषा, वर्तनी, शब्दों के गलत प्रयोग या इसी तरह की कोई त्रुटि अगर होगी तो वाक्य के किसी एक भाग या एक से अधिक भाग में हो सकती है। उस भाग का क्रमांक ही उत्तर है। अगर वाक्य त्रुटिरहित है तो उत्तर (5) अर्थात् कोई अशुद्धि नहीं दीजिए।

eng hin

स्वाधीनता संग्राम में (1)/ मार्गदर्शन के लिए (2) / महात्मा गाँधी का देश (3)/ सदैव आभारी रहेगा। (4)/ कोई त्रुटि नहीं (5)

01. केवल 1  
03. केवल 3
02. केवल 4  
04. 1 और 2 दोनों

05. कोई त्रुटि नहीं

### Solution for Question 128

Ans Key: 3

eng/eng	Error is in Part (B) and Part (C). Part (B): “be” should not be used because as per the required sense the sentence should be written in Active Voice not in Passive Voice. Part (C): In place of “invigilator’s” we should use “invigilator” because (‘s) is used to express possession (sense of ‘of’).
eng hin	निष्कर्ष- महात्मा गाँधी का देश

**Q-129** In the following question, a sentence divided into four parts has been given. In the sentence, any two parts consist of a grammatical error.  
**eng/eng** Choose the parts which are free from errors.

COVID-19 is undoubtedly a public health (A)/ catastrophe and certainly call for enhanced (B)/ investments in research and development (C)/ that impinge directly on public health. (D)/

- |         |         |
|---------|---------|
| 01. A-B | 02. B-D |
| 03. A-C | 04. C-D |
| 05. A-D |         |

**Q-129** नीचे दिया प्रत्येक वाक्य चार भागों में बांटा गया है जिन्हें (1),(2),(3),(4)और (5) क्रमांक दिए गये हैं। आपको यह देखना है कि वाक्य के किसी भाग में व्याकरण, भाषा, वर्तनी, शब्दों के गलत प्रयोग या इसी तरह की कोई त्रुटि अगर होगी तो वाक्य के किसी एक भाग या एक से अधिक भाग में हो सकती है। उस भाग का क्रमांक ही उत्तर है। अगर वाक्य त्रुटिरहित है तो उत्तर (5) अर्थात् कोई अशुद्धि नहीं दीजिए।

भारतीय किसान (1)/ आजीवन जीवन भर (2) / कठिन (3)/ परिश्रम करता है। (4)/ कोई त्रुटि नहीं (5)

- |                     |                 |
|---------------------|-----------------|
| 01. केवल 1 और 2     | 02. केवल 2 और 4 |
| 03. केवल 2          | 04. केवल 4      |
| 05. कोई त्रुटि नहीं |                 |

### Solution for Question 129

Ans Key: 3

eng/eng	Error is in Part (B) and Part (D). Part (B): In place of “call” use “calls”, as COVID-19 is a singular subject. Part (D): In place of “impinge” we should use “impinges” according to ‘research and development’.
eng hin	निष्कर्ष- आजीवन जीवन भर दोनों एक साथ नहीं आयेगे।

**Q-130** In the following question, a sentence divided into four parts has been given. In the sentence, any two parts consist of a grammatical error.  
**eng/eng** Choose the parts which are free from errors.

Most newspapers are businesses, and (A)/ they pay its expenses with a mixture (B)/ of subscription revenue, (C)/ newsstand sales, and advertise revenue. (D)/

- |         |         |
|---------|---------|
| 01. A-B | 02. B-D |
| 03. A-C | 04. C-D |
| 05. A-D |         |

**Q-130** नीचे दिया प्रत्येक वाक्य चार भागों में बांटा गया है जिन्हें (1),(2),(3),(4)और (5) क्रमांक दिए गये हैं। आपको यह देखना है कि वाक्य के किसी भाग में व्याकरण, भाषा, वर्तनी, शब्दों के गलत प्रयोग या इसी तरह की कोई त्रुटि अगर होगी तो वाक्य के किसी एक भाग या एक से अधिक भाग में हो सकती है। उस भाग का क्रमांक ही उत्तर है। अगर वाक्य त्रुटिरहित है तो उत्तर (5) अर्थात् कोई अशुद्धि नहीं दीजिए।

शेक्सपियर (1)/ के (2)/ नाट्य-दृश्यों का (3) / प्रयोग होना चाहिए। (4) / कोई त्रुटि नहीं (5)

- |                     |                  |
|---------------------|------------------|
| 01. केवल 1          | 02. 3 और 4 दोनों |
| 03. केवल 4          | 04. केवल 3       |
| 05. कोई त्रुटि नहीं |                  |

### Solution for Question 130

Ans Key: 3

eng/eng	Error is in Part (B) and Part (D). Part (B): In place of “its” use “their”, as ‘they’ is a plural subject. Part (D): In place of “advertise” we should use “advertising” as an adjective is required to qualify the noun ‘revenue’.
eng hin	निष्कर्ष- प्रयोग के स्थान पर प्रदर्शन होगा।

**Q-131** In the following question, a sentence with a blank is given. Choose the appropriate word to fill in the blank.

**eng/eng** Rohan has a \_\_\_\_\_ knowledge about the Vedas, Upanishads, Bhagavad Gita and Ramayana.

- |                |              |
|----------------|--------------|
| 01. delectable | 02. profound |
|----------------|--------------|



03. enriching 04. vociferous

05. lamentable

**Q-131** नीचे दिए गए प्रत्येक प्रश्न में रिक्त स्थान छूटा हुआ है और उसके पांच विकल्प सुझाए गए हैं। इनमें से उचित शब्द का चयन कर देने से वह वाक्य एक  
**eng hin** अर्थपूर्ण वाक्य बन जाता है। सही शब्द ज्ञात कर उसके विकल्प को उत्तर के रूप में अंकित कीजिए, दिए गए शब्दों में से सर्वाधिक उपयुक्त शब्दों का चयन कीजिए।

साम्प्रदायिकता की आग देश में .....हुई है।

01. समाई

02. लगी

03. भड़की

04. पनपी

05. फैली

### Solution for Question 131

Ans Key: 2

**eng/eng** Profound (adjective): showing a clear and deep understanding of serious matters  
For other options:  
Delectable (adjective): looking or tasting extremely good  
Enrich (verb): improve or enhance the quality or value of.  
Vociferous (adjective): expressing or characterized by vehement opinions; loud and forceful.  
Lamentable (adjective): (of circumstances or conditions) very bad; deplorable.

**eng hin** लगी

**Q-132** In the following question, a sentence with a blank is given. Choose the appropriate word to fill in the blank.

**eng/eng** Your accusation should be based on gospel and not on \_\_\_\_\_.

01. surmise

02. proofs

03. projections

04. antipathy

05. records

**Q-132** नीचे दिए गए प्रत्येक प्रश्न में रिक्त स्थान छूटा हुआ है और उसके पांच विकल्प सुझाए गए हैं। इनमें से उचित शब्द का चयन कर देने से वह वाक्य एक  
**eng hin** अर्थपूर्ण वाक्य बन जाता है। सही शब्द ज्ञात कर उसके विकल्प को उत्तर के रूप में अंकित कीजिए, दिए गए शब्दों में से सर्वाधिक उपयुक्त शब्दों का चयन कीजिए।

रवीन्द्रनाथ टैगोर का नाम सांस्कृतिक एवं.....जगत में सदा अविस्मरणीय रहेगा।

01. साहित्यिक

02. संगीत

03. दर्शन

04. चित्रकला

05. स्थापत्यकला

### Solution for Question 132

Ans Key: 1

**eng/eng** Surmise (verb): to guess something, without having much or any proof  
For other options:  
Projections (noun): a calculation or guess about the future based on information that you have  
Antipathy (noun): a feeling of strong dislike, opposition, or anger

**eng hin** साहित्यिक

**Q-133** In the following question, a sentence with a blank is given. Choose the appropriate word to fill in the blank.

**eng/eng** Mother Teresa spent her life in \_\_\_\_\_ the agonies, sorrows, sufferings, miseries of the needy, impoverished persons.

01. destroying

02. absorbing

03. advocating

04. avoiding

05. mitigating

**Q-133** नीचे दिए गए प्रत्येक प्रश्न में रिक्त स्थान छूटा हुआ है और उसके पांच विकल्प सुझाए गए हैं। इनमें से उचित शब्द का चयन कर देने से वह वाक्य एक  
**eng hin** अर्थपूर्ण वाक्य बन जाता है। सही शब्द ज्ञात कर उसके विकल्प को उत्तर के रूप में अंकित कीजिए, दिए गए शब्दों में से सर्वाधिक उपयुक्त शब्दों का चयन कीजिए।

अनथक परिश्रम और सतत.....से व्यक्ति सफलता की चरम सीमा का पा लेता है।

01. व्यवसाय

02. विकास

03. समवाय

04. संकाय

05. अध्यवसाय

### Solution for Question 133

Ans Key: 5

eng/eng	Mitigate (v): make something less harmful, unpleasant, or bad <b>For other options:</b> Advocate (verb): to publicly support or suggest an idea, development, or way of doing something
eng hin	अध्यवसाय

**Q-134** In the following question, a sentence with a blank is given. Choose the appropriate word to fill in the blank.

eng/eng Dorab Tata was a man of admirable taste and a great political \_\_\_\_\_.

- |                  |                 |
|------------------|-----------------|
| 01. appreciation | 02. synthesis   |
| 03. viability    | 04. distinction |
| 05. acumen       |                 |

**Q-134** नीचे दिए गए प्रत्येक प्रश्न में रिक्त स्थान छूटा हुआ है और उसके पांच विकल्प सुझाए गए हैं। इनमें से उचित शब्द का चयन कर देने से वह वाक्य एक अर्थपूर्ण वाक्य बन जाता है। सही शब्द ज्ञात कर उसके विकल्प को उत्तर के रूप में अंकित कीजिए, दिए गए शब्दों में से सर्वाधिक उपयुक्त शब्दों का चयन कीजिए।

अगर अभाव न हो तो .....कौन पूछे?

- |           |         |
|-----------|---------|
| 01. विचार | 02. भाव |
| 03. बात   | 04. हाल |
| 05. मोल   |         |

#### Solution for Question 134

Ans Key: 5

eng/eng	Acumen (noun): skill in making correct decisions and judgments in a particular subject, such as business or politics. For other options: Synthesis (noun): the combination of components or elements to form a connected whole. Viability (noun): capable of being done in a practical and useful way
eng hin	मोल

**Q-135** In the following question, a sentence with a blank is given. Choose the appropriate word to fill in the blank.

eng/eng One must cinch the credibility of the data before \_\_\_\_\_ its outcome.

- |              |             |
|--------------|-------------|
| 01. arriving | 02. getting |
| 03. deriving | 04. gauging |
| 05. jumping  |             |

**Q-135** नीचे दिए गए प्रत्येक प्रश्न में रिक्त स्थान छूटा हुआ है और उसके पांच विकल्प सुझाए गए हैं। इनमें से उचित शब्द का चयन कर देने से वह वाक्य एक अर्थपूर्ण वाक्य बन जाता है। सही शब्द ज्ञात कर उसके विकल्प को उत्तर के रूप में अंकित कीजिए, दिए गए शब्दों में से सर्वाधिक उपयुक्त शब्दों का चयन कीजिए।

राजेश की बातों से.....होकर संदीप ने उसे मारने के लिए तलवार खींच ली।

- |              |              |
|--------------|--------------|
| 01. पीड़ित   | 02. उत्तेजित |
| 03. उत्साहित | 04. आन्दोलित |
| 05. प्रेरित  |              |

#### Solution for Question 135

Ans Key: 2

eng/eng	For other options: Gauge (verb): estimate or determine the amount, level, or volume of something
eng hin	उत्तेजित

**Passage for Question 136, 137, 138, 139, 140 (ST-2091 RRB CLERK MAINS E (16-20) 2020)**

eng/eng Passage

**Rearrange the following phrases/sentences to make a meaningful paragraph and answer the questions accordingly.**

- The SBI General Insurance Policy for tractor and other farm vehicles insurance has to be deposited with SBI.
- Ravindra plans to acquire a tractor and certain other agricultural equipment.
- He asked the Bank Manager courteously to send a representative of the bank to inspect the tractor and other equipment.
- He shall be applying for a loan of Rs. 5 lakhs from SBI for that purpose.
- On completion, your bank agent may kindly inform me regarding the annual insurance premium, he further added.
- The guidelines state that the equipment have to be insured against accidents and fire.



eng hin	F
---------	---

**Q-139** Which of the following would be the **SECOND** sentence after the rearrangement?

eng/eng

- |       |       |
|-------|-------|
| 01. C | 02. A |
| 03. D | 04. E |
| 05. B |       |

**Q-139** दिये गये वाक्यों को क्रमबद्ध करने के बाद पहला वाक्य कौन सा होगा?

eng hin

- |       |       |
|-------|-------|
| 01. C | 02. A |
| 03. B | 04. E |
| 05. D |       |

**Solution for Question 139**

Ans Key: 3

eng/eng The correct rearrangement is 'BDFACE' and the passage is based on the story of A person who wants to purchase agricultural vehicle and equipment and borrows a loan from SBI and gets his equipment insured through SBI general Insurance Policy '.

eng hin B

**Q-140** Which of the following would be the **LAST** sentence after the rearrangement?

eng/eng

- |       |       |
|-------|-------|
| 01. C | 02. A |
| 03. D | 04. E |
| 05. B |       |

**Q-140** दिये गये वाक्यों को क्रमबद्ध करने के बाद अन्तिम वाक्य कौन सा होगा?

eng hin

- |       |       |
|-------|-------|
| 01. A | 02. E |
| 03. B | 04. C |
| 05. D |       |

**Solution for Question 140**

Ans Key: 4

eng/eng The correct rearrangement is 'BDFACE' and the passage is based on the story of A person who wants to purchase agricultural vehicle and equipment and borrows a loan from SBI and gets his equipment insured through SBI general Insurance Policy '.

eng hin निष्कर्ष- BFEADC

**Q-141** In the following question, out of the five options choose the one which is the **SYNONYM** of the word given in bold.

eng/eng

The courage shown by the cavaliers at this moment of crisis is **exemplary**.

- |                |               |
|----------------|---------------|
| 01. suitable   | 02. clear     |
| 03. elementary | 04. admirable |
| 05. despicable |               |

**Q-141** नीचे दिए गए वाक्यों में रेखांकित शब्दों के समानार्थक शब्द के लिए पाँच-पाँच विकल्प दिए गए हैं, उचित विकल्प का चुनिए-

eng hin

**हाथी** पर नृप की सवारी यात्रा की शोभा बढ़ा रही थी।

- |           |           |
|-----------|-----------|
| 01. भुजंग | 02. वृषभ  |
| 03. रासभ  | 04. कुंजर |
| 05. घोटक  |           |

**Solution for Question 141**

Ans Key: 4

eng/eng Exemplary (adj.): serving as a desirable model; very good.  
Admirable (adjective): deserving respect or approval.  
**For other options:**  
Elementary (adjective): relating to the basic elements of a subject.  
Despicable (adjective): deserving hatred and contempt.

eng hin कुंजर

**Q-142** In the following question, out of the five options choose the one which is the **SYNONYM** of the word given in bold.

eng/eng

All his friends marvelled at his of **rationcination**.

- |                 |                 |
|-----------------|-----------------|
| 01. ruminating  | 02. speculation |
| 03. imagination | 04. reasoning   |
| 05. conjecture  |                 |

नीचे दिए गए वाक्यों में रेखांकित शब्दों के समानार्थक शब्द के लिए पाँच-पाँच विकल्प दिए गए हैं, उचित विकल्प का चुनिए-

**अतिशय** दुःख के क्षणों में मनुष्य को धैर्य और संयम से काम लेना चाहिए।

- |             |              |
|-------------|--------------|
| 01. अत्यल्प | 02. अकल्पनीय |
| 03. असहनीय  | 04. अत्यधिक  |
| 05. अत्यन्त |              |

**Solution for Question 142** Ans Key: 4

**eng/eng** Ratiocination (noun): the process of making judgments about something based on sensible thinking or logic; reasoning.

**For other options:**

Ruminate (verb): think deeply about something.

Speculation (n): a belief held without proof or certain knowledge; an assumption or hypothesis.

Conjecture (noun): a guess about something based on how it seems and not on proof

**eng hin** अत्यधिक

**Q-143** In the following question, out of the five options choose the one which is the **ANTONYM** of the word given in bold.

**eng/eng** The Gupta rulers **patronised** all cultural activities and thus the Gupta era came to be known as the Golden Era of Indian history.

- |                 |              |
|-----------------|--------------|
| 01. criticised  | 02. rejected |
| 03. opposed     | 04. spurned  |
| 05. facilitated |              |

नीचे दिए गए वाक्यों में रेखांकित शब्दों के विलोम शब्द के लिए पाँच-पाँच विकल्प दिए गए हैं, उचित विकल्प का चुनिए-

प्रत्येक मनुष्य के जीवन में **अनुरक्ति** क्षण आते-जाते रहते हैं।

- |                       |              |
|-----------------------|--------------|
| 01. संसक्ति           | 02. विमुक्ति |
| 03. विरक्ति           | 04. आसक्ति   |
| 05. इनमें से कोई नहीं |              |

**Solution for Question 143** Ans Key: 3

**eng/eng** Patronize (verb): to support an activity or a public organization, especially by giving money

Oppose (verb): disagree with and attempt to prevent, especially by argument.

For other options:

Spurn (verb): reject with disdain or contempt

Facilitate (verb): make (an action or process) easy or easier.

**eng hin** विरक्ति

**Q-144** In the following question, out of the five options choose the one which is the **SYNONYM** of the word given in bold.

**eng/eng** The increased cost brought many repercussions for the many young people **deterred** from going to the university.

- |                 |                  |
|-----------------|------------------|
| 01. recreated   | 02. discouraged  |
| 03. interpreted | 04. gesticulated |
| 05. inflicted   |                  |

नीचे दिए गए वाक्यों में रेखांकित शब्दों के समानार्थक शब्द के लिए पाँच-पाँच विकल्प दिए गए हैं, उचित विकल्प का चुनिए-

भारत के अतीत की गौरव-गाथा से सभी **परिचित** हैं।

- |             |             |
|-------------|-------------|
| 01. ज्ञात   | 02. अवगत    |
| 03. विगत    | 04. सुविज्ञ |
| 05. जानकारी |             |

**Solution for Question 144** Ans Key: 2

**eng/eng** Deter (verb): discourage.

**For other options:**

Gesticulate (noun): use gestures, especially dramatic ones, instead of speaking or to emphasize one's words.

Inflict (verb): cause; to force someone to experience something very unpleasant

eng hin अवगत

**Q-145** In the following question, out of the five options choose the one which is the **ANTONYM** of the word given in bold.

eng/eng

The country is taking measures to **augment** the country's food supply.

01. prohibit

02. decrease

03. surpass

04. compensates

05. conjecture

**Q-145** नीचे दिए गए वाक्यों में रेखांकित शब्दों के विलोम शब्दों के लिए पाँच-पाँच विकल्प दिए गए हैं, उचित विकल्प का चुनिए-

eng hin

मोहन की ज्यादातर कवितायें **मौलिक** हैं।

01. अमूल्य

02. अनूदित

03. अनमोल

04. काल्पनिक

05. स्थिर

### Solution for Question 145

Ans Key: 2

eng/eng

The antonym of "augment" is "decrease".

Augment (verb): to increase the size or value of something by adding something to it.

**For other options:**

Surpass (verb): to do or be better than; exceed.

Conjecture (noun): a guess about something based on how it seems and not on proof.

eng hin

अनूदित

**Q-146** In the following question, four sentences have been given. Find out the sentences conveying similar message and mark your answer accordingly.

eng/eng

A. Being the judgement of Supreme Court on RTI requests for pleadings, it assumes finality from legal point of view.

B. In spite, of the judgement of Supreme Court on RTI requests for pleadings, it assumes finality from legal point of view.

C. Even though, the judgement of Supreme Court on RTI requests for pleadings, it assumes finality from legal point of view.

D. As it is the judgement of Supreme Court on RTI requests for pleadings, it assumes finality from legal point of view.

01. Both A and C

02. Both B and D

03. Both A and D

04. A, B and D

05. Both C and D

**Q-146** नीचे दिये चार वाक्यों को ध्यान से पढ़िए और बताइए कि कौन सा वाक्य व्याकरण, लिंग, वचन, कारक की दृष्टि से सही है अगर कोई वाक्य सही नहीं है तो विकल्प 5 का चयन करें।

eng hin

01. मैं तुम्हारी इक्षा पूरी करूँगा।

02. तुम्हारी इच्छा मैं पूरी करूँगा?

03. मैं तुम्हारी इच्छा पूरी करूँगा।

04. तुम्हारी इच्छा मैं पूरी करूँगा।

05. सभी गलत हैं।

### Solution for Question 146

Ans Key: 3

Both A and D

Sentences A and D convey the similar message which says "This judgement has been given by the Supreme court on RTI requests for pleadings. It therefore, assumes finality from the legal point of view".

Whereas, B and C are wrong

Sentence B and C states that "Although, this judgement has been given by the Supreme court on RTI requests for pleadings. It therefore, assumes finality from the legal point of view"

eng hin

निष्कर्ष- शुद्ध शब्द इच्छा होता है।

**Q-147** In the following question, four sentences have been given. Find out the sentences conveying similar message and mark your answer accordingly.

eng/eng

A. Not all men devoted to social service, sacrifice their own self for the welfare of the common man.

B. Only dedicated men sacrifice their own self for the welfare of the common man.

C. In some cases few people devoted to social service sacrifice their own self for the welfare of the common man.

D. Always every one devoted to social service sacrifice his own self for the welfare of the common man.



01. Both A and C

02. Both B and D

03. Both A and D

04. A, B and C

05. Both C and D

**Q-147** नीचे दिये चार वाक्यों को ध्यान से पढ़िए और बताइए कि कौन सा वाक्य व्याकरण, लिंग, वचन, कारक की दृष्टि से सही है अगर कोई वाक्य सही नहीं है तो विकल्प 5 का चयन करें।  
**eng hin**

01. शरोवर में कमल के पुष्प खिले हैं।

02. सरोवर में कमल के पुष्प खिले हैं।

03. शरोवर में कमल के पुष्प खिले हैं।

04. सरोवर में कमल के पुष्प खिले हैं।

05. सभी गलत हैं।

### Solution for Question 147

Ans Key: 4

Sentences A, B and C convey the similar message which says "There are many persons who perform social service. But out of them only a few sacrifice their own self for the welfare of the common man".

Whereas, D is wrong as it states that "Every person who is doing social service sacrifice his own self for the welfare of the common man always". This is clearly different from the other three sentences.

**eng hin** निष्कर्ष- शुद्ध शब्द सरोवर, और पुष्प है।

**Q-148** In the following question, four sentences have been given. Find out the sentences conveying similar message and mark your answer accordingly.  
**eng/eng**

A. Natural calamities such as Flood, earthquakes etc. occur so suddenly and unexpectedly that people get hardly any time to save themselves.

B. In case of natural calamities such as Flood, earthquakes etc. which occur so suddenly that no one has chance to escape himself.

C. When natural calamities such as flood, earthquakes occur man realizes his limitation to understand it.

D. Natural calamities such as flood, earthquakes etc. occur so suddenly and unexpectedly that devastation cannot be prevented.

01. Both A and C

02. Both B and D

03. Both A and D

04. A, B and D

05. Both C and D

**Q-148** नीचे दिये चार वाक्यों को ध्यान से पढ़िए और बताइए कि कौन सा वाक्य व्याकरण, लिंग, वचन, कारक की दृष्टि से सही है अगर कोई वाक्य सही नहीं है तो विकल्प 5 का चयन करें।  
**eng hin**

01. वरिष्ठ अधिकारी से सम्पर्क करो।

02. वरिष्ठ अधिकारी से सम्पर्क करो।

03. वरिष्ठ अधिकारी से सम्पर्क करो।

04. सभी गलत हैं।

05. वरिष्ठ अधिकारी से सम्पर्क करो।

### Solution for Question 148

Ans Key: 4

**eng/eng** Sentences A, B and D convey the similar message which says "Natural calamities such as flood, earthquakes etc. occur suddenly and unexpectedly. Although, remedial actions for dealing with these disasters are taken but it is difficult for people to escape themselves completely from these disasters.".

Whereas,

Sentence C states that "When natural calamities such as flood, earthquakes occur man realizes his limitation to understand it".

This is clearly different from the other three sentences.

**eng hin** निष्कर्ष- शुद्ध वाक्य होता है- वरिष्ठ अधिकारी से सम्पर्क करो।

**Q-149** In the following question, four sentences have been given. Find out the sentences conveying similar message and mark your answer accordingly.  
**eng/eng**

A. Despite lack of resources the poor students had managed to come out successfully with flying colours.

B. Owing to adverse circumstances the poor students had managed to come out successfully with flying colours.

C. Although there are many adverse circumstances the poor students had managed to come out successfully with flying colours.

D. Due to adverse circumstances the poor students had managed to come out successfully with flying colours.

01. Both A and C

02. Both B and D

03. Both A and D

04. A, B and D

05. Both C and D

**Q-149** नीचे दिये चार वाक्यों को ध्यान से पढ़िए और बताइए कि कौन सा वाक्य व्याकरण, लिंग, वचन, कारक की दृष्टि से सही है अगर कोई वाक्य सही नहीं है तो विकल्प 5 का चयन करें।  
**eng hin**

01. राम ने साँप देखा और भाग गया।  
 03. यह आप पर निर्भर है।  
 05. सभी सही है।
02. आज बजट पर बहस होगी।  
 04. पढ़ने में आलस्य ठीक नहीं है।

### Solution for Question 149

Ans Key: 1

eng/eng	Sentences A and C convey the similar message which says “Though impoverished students face many adverse circumstances yet they manage to come out successfully in life with flying colours.” Whereas, Sentences B and D state that “Because of adverse circumstances the poor students had managed to come out with flying colours in life.” These two statements B and D are clearly different from the above because it is saying that since poor students face adverse circumstances in life, they manage to come out with flying colours.
eng hin	निष्कर्ष- राम ने साँप को देखा और भाग गया।

**Q-150** In the following question, four sentences have been given. Find out the sentences conveying similar message and mark your answer accordingly.

eng/eng

- A. He was appreciated for his act of bravado because the life he saved was most to him.  
 B. He was admired for his action of saving a life of an important person to him.  
 C. He was praised for saving a life of the person significant to him.  
 D. He was honoured with praise for saving a life of the person reverent to him.

01. Both A and C  
 03. Both A and D  
 05. Both C and D
02. Both B and D  
 04. All A, B, C, D

**Q-150** नीचे दिये चार वाक्यों को ध्यान से पढ़िए और बताइए कि कौन सा वाक्य व्याकरण, लिंग, वचन, कारक की दृष्टि से सही है अगर कोई वाक्य सही नहीं है तो विकल्प 5 का चयन करें।

eng hin

01. पिताजी ने मुझसे कहा।  
 03. हमें दिल्ली जाना है।  
 05. सभी सही है।
02. बन्दर पेड़ पर बैठे है।  
 04. यह समाचार दूरदर्शन में प्रसारित हुआ था।

### Solution for Question 150

Ans Key: 4

Although sentences A, B, C and D convey the similar message which says “He was appreciated for his act of bravery because he saved the life of a person who was significant for him”.

eng hin निष्कर्ष- यह समाचार दूरदर्शन पर प्रसारित हुआ था। कारक की अशुद्धि

**Passage for Question 151, 152, 153, 154, 155, 156, 157, 158, 159, 160 (ST-2091 RRB CLERK MAINS E (31-40) 2020)**

eng/eng Passage

**Read the following passage and the answer in the questions based on it.**

Environment Minister Gopal Rai on Wednesday said that only ‘green’ firecrackers can be manufactured, sold and used in the national capital with the Delhi government scheduled to launch an anti-firecracker campaign on November 3, which will continue even after Deepavali. Mr. Rai appealed to Delhiites to start a ‘no-cracker’ campaign, considering the seriousness of the situation due to COVID-19 pandemic and said that the two main reasons behind the spike in pollution are Deepavali and parali (stubble burning). “Diwali is coming and we all know that the key reasons behind Delhi’s spike in air pollution is Diwali and parali. Crackers cause massive air pollution. Keeping in mind the air pollution situation of Delhi, we have decided that this year only manufacturing and use of green crackers will be allowed. This decision is as per the Supreme Court order of October 23, 2018,” Mr. Rai said.

“To make green crackers, pyrotechnic is used due to which the emission of sulphur dioxide and nitrogen oxide does not occur. This is why using green crackers can control or curb the spike in pollution level. Due to these reasons the Supreme Court decided to ban all traditional cracker manufacturing in Delhi and allowed only green cracker,” Mr. Rai said.

Across India, the Minister said, there are around 93 companies, which make green crackers using pyrotechnic. A list of these companies will be uploaded on the Delhi government’s website so traders can contact them. The Supreme Court, according to Mr. Rai, had given the licencing department of Delhi Police the responsibility to enforce the ban on traditional firecrackers and the Delhi government would reach out to the State police. “The Delhi government will also launch an anti-cracker campaign from November 3. This campaign will continue after Diwali as well because many people burn crackers even after the festival,” he said. “The Delhi Pollution Control Committee [DPCC] will form 11 different teams as special squads, which will have engineers, five environmental marshals with vehicles. The teams will keep a vigil on the manufacturers across the Capital,” he also said.

Mr. Rai also requested people to comply with norms and traders not to use any remaining stock of traditional firecrackers. If the DPCC teams find any such firecrackers, strict action will be taken against violators under the Environmental Protection Act and Air Act, he cautioned. “I am hopeful that people will cooperate with us to combat air pollution,” he said. Talking about the various initiatives taken by the Delhi government to combat air pollution, Mr. Rai said that the government is sprinkling bio-decomposer to stop stubble burning in the national capital and has also launched the ‘Red Light On, Gaadi Off’ campaign, anti-dust pollution campaign and has come up with the Electric Vehicle policy.

He added that the ‘Red light on, Gaadi off’ campaign now covers all the 70 Assembly constituencies in the Capital and that by November 2, it will cover all the 272 wards in the city. The Minister said every person in Delhi should encourage five more persons to participate in the city government’s anti-vehicular pollution campaign. He also said that Delhi Chief Minister would be launching an app, ‘Green Delhi’, by which people can share complaints about any violation of

Meanwhile, the pollution level in the city improved with at an average AQI of 297 which fell in the 'poor' category, according to data provided by the Central Pollution Control Board. Air quality of Noida, Greater Noida, Gurgaon and Ghaziabad continued to be in the 'very poor' category, with AQI of 301, 324, 313 and 317 respectively. Forecast shows that the air quality of Delhi will enter 'very poor' category on Thursday and then the 'poor' category again on Saturday.

eng hin Passage

नीचे दिए गए गद्यांश को ध्यानपूर्वक पढ़िए और इस पर आधारित प्रश्नों के उत्तर दीजिए। गद्यांश के अनुसार, दिए गए विकल्पों में से सबसे उपयुक्त विकल्प का चयन कीजिए?

सुकरात यूनान का एक महान् दार्शनिक था। उसका जन्म 470 ई.पू. और निधन 399 ई.पू. में हुआ। लोक-शिक्षक के रूप में सुकरात की ख्याति उसकी प्रश्नोत्तर-विधि के कारण है, जिसे शिक्षा-जगत में सुकराती-विधि भी कहा जाता है। इस विधि में तीन सोपान माने जाते हैं- उदारहण का सोपान, परिभाषा का सोपान और अंत में निष्कर्ष का सोपान। उदाहरण का सोपान वार्तालाप से आरंभ होता है। दूसरे सोपान में आवश्यक व्याख्या होती है और सामान्य गुणों का निर्धारण होता है। अंत में परिणाम प्राप्त होता है। लोकशिक्षा में प्रयुक्त अपनी इस नवीन प्रणाली के कारण सुकरात की लोकप्रियता बढ़ने लगी। तत्कालीन शासक-वर्ग को अपने लिए इसमें खतरा दिखाई देने लगा। सुकरात पर यूनान के युवकों को भ्रष्ट करने का झूठा अभियोग लगाकर **मुकदमा** चलाया गया और अंत में उसे मृत्यु दंड दिया गया। सुकरात की मृत्यु विष-पान द्वारा हुई।

प्लेटो 18-20 वर्ष का था तभी उसका परिचय सुकरात से हुआ। सुकरात की शिक्षाओं ने प्लेटो को आकृष्ट किया और वह सुकरात का शिष्य बन गया। सुकरात के मृत्यु-दण्ड का प्लेटो पर गहरा प्रभाव पड़ा और उसने एथेन्स छोड़ दिया। लगभग 10 वर्ष तक अफ्रीका के विभिन्न देशों का भ्रमण करता रहा। इस बीच उसकी भेंट अनेक दार्शनिकों, विचारकों और शिक्षाविदों से हुई। प्लेटो अपने समय का सबसे बड़ा **दार्शनिक** और समाजशास्त्री हुआ। उसने अनेक पुस्तकें लिखी हैं जिनमें पॉलिटिक्स, रिपब्लिक और लाज में उसके शिक्षा-सम्बन्धी विचारों का विशेष रूप से आख्यान है। 387 ई. पू. में प्लेटो सिसली गया। वहाँ डायोनिसियस नामक निरंकुश शासक का राज चल रहा था। प्लेटो ने डायोनिसियस का रिपब्लिक में कथित समाजशास्त्र और शिक्षाशास्त्र के उच्च आदर्शों और सिद्धान्तों को समझाने का प्रयत्न किया। निरंकुश डायोनिसियस के मन पर इसका ठीक उल्टा असर हुआ और वह प्लेटो से नाराज हो गया और उसे स्पार्टा के राजदूत के हाथों सौंप दिया। राजदूत ने प्लेटो को एक दास के रूप में बेच दिया। अपार धन देने के बाद प्लेटो को दासता से मुक्ति मिली।

एक शिक्षक का प्रज्ञावान और बुद्धिमान होना, उसकी अनिवार्य आवश्यकता है। प्रज्ञावान से तात्पर्य है कि अध्यापक में स्वविवेक का होना जरूरी है, जिससे वह उचित, अनुचित, सत्य, असत्य और नैतिक अनैतिक में भेद कर सके। उसे यह नहीं भूलना है कि उसका आचरण और व्यवहार समाज के सामने आदर्श प्रस्तुत करते हैं और उसके शिष्यों के लिए तो वह सब तरह से अनुकरणीय है ही। शिक्षक का बुद्धिमान होना भी उतना ही आवश्यक है। उसे प्राचीन काल से चली आती हुई शैक्षिक परम्पराओं से लेकर विविध देशों में इस समय प्रचलित शिक्षा-प्रणालियों का ज्ञान होना चाहिए ताकि उनका लाभ वह अपने विद्यार्थी-समाज को दे सके। स्वतंत्र विचारक होने के साथ एक शिक्षक को बहुज्ञ भी होना चाहिए।

जब सुकरात पर मुकदमा चल रहा था तब उसने अपना वकील करने से मना कर दिया और कहा कि एक व्यवसायी वकील पुरुषत्व को व्यक्त नहीं कर सकता है। सुकरात ने अदालत में कहा- मेरे पास जो कुछ था, वह मैंने एथेन्सवासियों की सेवा में लगा दिया। मेरा उद्देश्य केवल अपने साथी नागरिकों को सुखी बनाना है। यह कार्य मैंने परमात्मा के आदेशानुसार अपने कर्तव्य के रूप में किया है। परमात्मा के कार्य को आप लोगों के कार्य से अधिक महत्व देता हूँ। यदि आप मुझे इस शर्त पर छोड़ दें कि मैं सत्य की खोज छोड़ दूँ, तो मैं आपको धन्यवाद कहकर यह कहूँगा कि मैं परमात्मा की आज्ञा का पालन करते हुए अपने वर्तमान कार्य को अंतिम श्वास तक नहीं छोड़ सकूँगा। तुम लोग सत्य की खोज तथा अपनी आत्मा को श्रेष्ठतर बनाने की कोशिश करने के बजाय सम्पत्ति एवं सम्मान की ओर अधिक ध्यान देते हो। क्या तुम लोगों को इस पर लज्जा नहीं आती। सुकरात ने यह भी कहा कि मैं समाज का कल्याण करता हूँ, इसलिए मुझे खेल में विजयी होने वाले खिलाड़ी की तरह सम्मानित किया जाना चाहिए।

सुकरात का भाषण सुनकर न्यायाधीश नाराज हो गए। क्योंकि सुकरात ने न्यायालय के प्रति अवज्ञा दिखाई थी। न्यायाधीशों का अंतिम फैसला था कि सुकरात को मृत्यु दंड दिया जाए और उनको विष का प्याला पीना होगा। मृत्यु दंड की इस घोषणा को शान्त भाव से ग्रहण करते हुए कहा- ठीक है। अब विदा का समय आ गया है। मेरे लिए मृत्यु है और आपके लिए जीवन। मैंने जो कुछ भी किया है वह एथेन्स के नागरिकों को सुखी बनाने के लिए किया है। आप लोगों के आदेशानुसार मैं सत्य का साथ नहीं छोड़ सकता। सुकरात को जिस समय मृत्युदण्ड सुनाया गया था, उस समय एथेन्स में धार्मिक उत्सव चल रहे थे। अतः यह सजा उन्हें एक माह बाद दी जानी थी। इसलिए उन्हें बेड़ियों से जकड़कर कारावास में रखा गया। निर्धारित समय पर जब सुकरात के सामने विष का प्याला रखा गया, तो उनकी पत्नी जैन्थआइप, उनका छोटा लड़का और क्रीटो भी फूट-फूटकर रो रहे थे। विषपान करते हुए सुकरात जरा भी अवसाद ग्रस्त नहीं थे। वे अपने लिए रोते हुए लोगों को शान्त कर रहे थे। विष का प्रभाव धीरे-धीरे सुकरात को जीवन शून्य किये जा रहा था। इस तरह 399 ई.पू. में वे इस संसार को अन्तिम विदा कह गये।

वर्तमान युग में शिक्षकों के कार्य के सम्बन्ध में समाज की मान्यताओं में बड़ा परिवर्तन हो गया है। प्राचीन काल में गुरु-कुल की प्रथा थी जब नगरों और गाँवों में पाठशालाएँ नहीं होती थी और प्रायः सुदूर वनों में स्थित गुरुओं, मुनियों और ऋषियों के आश्रमों में रहकर उनकी सेवा-सुश्रूषा करते हुए गृहस्थों के लड़के शिक्षा-प्राप्त करते थे। इस युग में शिक्षा की व्यवस्था करना लोक-शासन का एक अनिवार्य अंग बन गया है। वैतनिक शिक्षक विविध स्तर के विद्यालयों में नियुक्त होते हैं जिनका काम विद्यालयों में प्रवेश लेने वाले बालक बालिकाओं को शिक्षा देना है। अब सब कुछ व्यावसायिक स्तर पर चलने लगा है। न पहले के गुरु रह गये हैं और न शिक्षकों के प्रति शिक्षार्थियों का वह मनोभाव रह गया है। जैसे अन्य विभागों में नियुक्त वेतन-भोगी समाज के सेवक माने जाते हैं, ठीक वही बात शिक्षा-विभाग के वेतन-भोगी शिक्षकों पर भी लागू होती है। वर्मान में प्रचलित मान्यताओं का प्राचीन मान्यताओं से जब शिक्षक गृहस्थों के सम्मान, श्रद्धा और विश्वास का पात्र होता था कोई साम्य शेष नहीं रह गया है। पुराने शिक्षकों से तात्पर्य गुरु-कुल का संचालन करने वाले शिक्षकों से है। पुराने समय में हर गुरु-कुल अपने समें स्वतंत्र होता था। गुरु के कुल का अंग बन कर छात्र रहते थे और उनकी सेवा के बदले विद्या प्राप्त करते थे। व्यक्तियों और समुदायों से लेकर राज या केन्द्रीय शासन-सत्ता में भी यह भावना व्याप्त है कि विद्यालयों में शिक्षा के विषय और यहाँ तक कि शिक्षण-विधि भी अनेक आदर्शानुरूप हों। इसलिए शिक्षा-जगत में इस समय पूरी अराजकता है।

**Q-151** As per the passage, what are the two main reasons behind spike in pollution in Delhi?

eng/eng

- (A) Burning traditional fire crackers in Diwali.
- (B) Emission of Fossil Fuels from automobile engines.
- (C) Stubble burning in Punjab and Haryana.
- (D) Mild dust storm blowing from Rajasthan.
- (E) Wind direction changing and moist air coming in.

- |                      |                      |
|----------------------|----------------------|
| 01. Only (A)         | 02. Both (B) and (C) |
| 03. Both (A) and (C) | 04. (A), (D) and (E) |
| 05. All of these     |                      |

**Q-151** आधुनिक शिक्षकों की तुलना में पुराने शिक्षकों को कौन से विशेष अधिकार प्राप्त थे?

eng hin

01. पुराने समय में हर गुरु-कुल स्वतंत्र होता था। 02. पुराने समय में हर गुरु-कुल राजा या शासक के अधीन रहता था।  
 03. 1 और 4 दोनों 04. पुराने समय में हर गुरु-कुल राजा या शासक का अंकुश नहीं होता था।  
 05. पुराने समय में हर गुरु-कुल विद्यार्थियों पर अपने विचार थोप सकते थे।

### Solution for Question 151

Ans Key: 3

**eng/eng** Both (A) and (C) is the right answer.  
 The answer can be inferred from the mid of the first paragraph.

**eng hin** निष्कर्ष- उत्तर गद्यांश के अन्तिम पैराग्राफ में है।

**Q-152** What does the word “stubble” imply with reference to the passage?

**eng/eng**

01. Face beard 02. Face fungus  
 03. Straw 04. Anger  
 05. Bristles

**Q-152** दिये गये गद्यांश के अनुसार प्लेटो द्वारा इनमें से कौन-सी पुस्तक लिखी गयी?

**eng hin**

01. जनरेशन आफ एनिमल्स 02. आन मेमोरी  
 03. रिपब्लिक 04. प्रोब्लम्स  
 05. रहेतोरिक

### Solution for Question 152

Ans Key: 3

**eng/eng** Straw (the short stems left after a crop such as wheat has been cut) is the right answer.  
**For other options:**  
 Short hair that grow on a man’s face if he has not shaved is also known as stubble.  
 Face fungus - the hair growing on the lower part of a man's face; beard, whiskers.  
 A bristle is a stiff hair or feather, either on an animal, such as a pig, a plant, or on a tool such as a brush.

**eng hin** निष्कर्ष- उत्तर गद्यांश के दूसरे पैराग्राफ में है।

**Q-153** The Environment Minister Gopal Rai has appealed the citizens of Delhi to start which of the following campaign considering the COVID 19 pandemic?

**eng/eng**

- (i) Anti-Firecracker campaign  
 (ii) Green cracker campaign  
 (iii) Anti-traditional cracker campaign  
 (iv) No cracker campaign

01. Only (ii) 02. Both (ii) and (iii)  
 03. Either (i) and (ii) 04. Only (iv)  
 05. All of the above

**Q-153** अध्यापकों के रूप में सुकरात और प्लेटो पर क्या बीती थी?

**eng hin**

01. सुकरात को एक दास के रूप में बेच दिया गया। 02. प्लेटो के ऊपर झूठा मुकदमा चलाया गया।  
 03. प्लेटो को एक दास के रूप में बेच दिया गया। 04. 3 और 5 दोनों  
 05. सुकरात के ऊपर झूठा मुकदमा चलाया गया।

### Solution for Question 153

Ans Key: 4

**eng/eng** Only (iv) is the right answer.  
 The answer can be inferred from the first paragraph.

**eng hin** निष्कर्ष- उत्तर गद्यांश के पहले पैराग्राफ में है।

**Q-154** As per the passage, what was the Supreme Court Jurisdiction of 23 Oct, 2018?

**eng/eng**

01. The licencing department of Delhi Police has been ordered by Supreme Court to enforce the ban on traditional firecrackers. 02. Only the listed 93 companies are allowed by the Government to manufacture green crackers.  
 03. In Diwali only the manufacture and use of Green crackers will be allowed. 04. The Delhi Government will launch an anti-cracker campaign from 3rd November.  
 05. Pyrotechnic must be adopted to make green crackers, which does not release sulphur dioxide and nitrogen oxide.

**Q-154** दिये गये गद्यांश के अनुसार सच्चे अध्यापक की क्या आकांक्षा होनी चाहिए?

eng hin

01. धनोपार्जन की आकांक्षा नहीं रखनी चाहिए।
02. परम्परा और प्रगति का संतुलन बनाये रखना।
03. 1 और 2 और 4
04. गुरु आश्रम के आदर्शों को समायोजित करने का प्रयास करना चाहिए।
05. 1 और 2 दोनों

**Solution for Question 154**

Ans Key: 3

eng/eng The answer can be inferred from the end of the first paragraph.

eng hin निष्कर्ष- उत्तर गद्यांश के में है।

**Q-155** According to the passage a firm action will be taken against those who will use traditional firecrackers under which of the Act this action will be taken?

eng/eng

- (i) Under DPCC (Delhi Pollution Control Committee)
- (ii) Environment Protection Act, 1986
- (iii) Supreme Court Order of 23rd October 2018
- (iv) Air (Prevention and Control of Pollution) Act 1981
- (v) Water (Prevention and Control of Pollution) Act 1974

01. Only (i)
02. Only (ii)
03. Both (i) and (iii)
04. Both (ii) and (iv)
05. (i), (ii), (iv) and (v)

**Q-155** वर्तमान शिक्षकों के कार्य-सम्बन्धी कौन-सी प्रचलित मान्यताएँ हैं?

eng hin

01. प्राचीन काल में गुरु-कुल की प्रथा थी।
02. अब नगरों और गाँवों में पाठशाला है।
03. प्राचीन काल में शिक्षा मुफ्त होती थी।
04. अब शिक्षा व्यावसायिक स्तर पर होनी लगी।
05. इनमें से कोई नहीं

**Solution for Question 155**

Ans Key: 4

eng/eng Both (ii) and (iv) is the right answer.  
The answer can be inferred from the fourth paragraph.

eng hin निष्कर्ष- उत्तर गद्यांश में है।

**Q-156** According to the passage, as per the Central Pollution Control Board recent estimates, the AQI 317 belongs to which city?

eng/eng

01. Gurgaon
02. Greater Noida
03. Delhi
04. Ghaziabad
05. None of these

**Q-156** दिये गये गद्यांश के अनुसार एक शिक्षक की कौन-सी अनिवार्य आवश्यकताएँ होती हैं?

eng hin

01. शिक्षक का स्वविवेक होना जरूरी है।
02. शिक्षक का बुद्धिमान होना जरूरी है।
03. विविध देशों प्रचलित शिक्षा प्रणालियों का ज्ञान होना जरूरी है।
04. इनमें से सभी
05. एक स्वतंत्र विचारक होना जरूरी है।

**Solution for Question 156**

Ans Key: 4

eng/eng The answer can be inferred from the last paragraph.

eng hin निष्कर्ष- उत्तर गद्यांश में है।

**Q-157** As per the passage, what are the initiatives taken by the Delhi Government recently to combat air pollution?

eng/eng

- (A) Sprinkling bio decomposer to stop stubble burning in Delhi
- (B) Anti-dust pollution campaign
- (C) Electric Vehicle policy
- (D) "Red light on, Gaadi off" campaign
- (E) "Green Delhi" by which people can share complaints about any violation of environmental norms

01. Only (A)
02. Both (A) and (B)
03. Both (A) and (D)
04. (A), (B), (C) and (D)



05. (A), (B), (C) and (E)  
Q-157 दिये गये गद्यांश में बोल्ड(उभरे) हुए शब्द का समानार्थी शब्द बताइए?  
eng hin दार्शनिक

01. शिष्ट
02. कर
03. सभ्य
04. तत्वज्ञानी
05. कुलीन

Solution for Question 157 Ans Key: 4

eng/eng (A), (B), (C) and (D) is the right answer.  
The answer can be inferred from the third paragraph.

eng hin तत्वज्ञानी

Q-158 As per the passage how does the use of Green crackers can help in curbing the increase in Air Pollution?

- eng/eng
- (a) Green crackers are manufactured by using Pyrotechnic.  
(b) NO<sub>2</sub> and SO<sub>2</sub> gases are not released in Pyrotechnic, which prevents or curbs air pollution.  
(c) Gaseous pollutants such as carbon monoxide, ozone are not released in Pyrotechnics.  
(d) In Pyrotechnics, emission of various metals such as Lead (Pb), Iron (Fe), Zinc (Zn) etc. does not occur, thus helps in curbing air pollution.  
(e) Burning of Green crackers does not leads to metal pollution in air whereas burning of traditional crackers contributes high amount of metals in air.

01. Only (a)
02. Both (a) and (c)
03. Both (a) and (d)
04. Both (a) and (b)
05. None of these

Q-158 दिये गये गद्यांश में बोल्ड(उभरे) हुए शब्द का पर्यायवाची बताइए?  
eng hin परमात्मा

01. अगोचर
02. पोलोमी
03. यासव
04. 1 और 5 दोनों
05. अनन्त

Solution for Question 158 Ans Key: 4

eng/eng Both (a) and (b) is the right answer.  
The answer can be inferred from the second paragraph.

eng hin अनन्त

Q-159 What is the tone of the author according to the passage?

- eng/eng
01. Accusatory
02. Admiring
03. Defensive
04. Informative
05. Reverent

Q-159 दिये गये गद्यांश में बोल्ड(उभरा) हुआ शब्द किस भाषा का है?  
eng hin मुकदमा

01. फारसी
02. पुर्तगाली
03. तुर्की
04. अरबी
05. रूसी

Solution for Question 159 Ans Key: 4

eng/eng By reading the passage, it is clearly understood that the tone of the passage is very informative.  
In the passage, various facts and data has been provided regarding Green crackers, traditional crackers, various Environment Acts of Supreme Court, Delhi Government's initiatives for curbing Air Pollution, etc.  
**For other options:**  
Admiring - respectful, praising  
Defensive - defending a position; shielding  
Reverent - showing deep respect and esteem  
Accusatory - suggesting someone has done something wrong, complaining

eng hin अरबी



**Q-160** Pick out the points that can be inferred from the passage.

eng/eng

- (i) The DPCC will form 11 special squads comprising 5 environment marshals and engineers.
- (ii) “Green Delhi” app on which Delhiites can share complaints against those people who will burn traditional crackers during this Diwali.
- (iii) “Red light on, Gaadi off” campaign is soon expected to cover 270 wards in the city.
- (iv) The air quality level of Ghaziabad as per the Central Pollution Control Board (CPCB) is poorer than Gurgaon.
- (v) The air quality level of Noida as per the CPCB is poorer than Gurgaon.

01. Only (i)

03. Both (i) and (iv)

05. (i), (ii), (iii) and (iv)
02. Both (i) and (ii)

04. (i), (iii), (iv) and (v)

**Q-160** दिये गये गद्यांश का उपयुक्त शीर्षक बताइए?

eng hin

01. दार्शनिक जीवन

03. दार्शनिक जीवन के साथ शिक्षा का महत्व

05. शिष्य का गुरु के प्रति सम्मान
02. धनोपार्जन की आकांक्षा

04. बदलती शिक्षा प्रणाली

**Solution for Question 160**

Ans Key: 3

Both (ii) and (iv) is the right answer.

The answer can be inferred from the end of the third paragraph.

eng hin दार्शनिक जीवन के साथ शिक्षा का महत्व  
निष्कर्ष- उत्तर गद्यांश में है।

**Q-161** Which of the following retains the information it's storing when the power to the system is turned off?  
eng/eng सिस्टम में बिजली बंद होने पर निम्नलिखित में से कौन जानकारी को संग्रहीत रखता है?

01. CPU

03. RAM

05. None of these
02. ROM

04. DIMM

**Q-161** Which of the following retains the information it's storing when the power to the system is turned off?  
eng hin सिस्टम में बिजली बंद होने पर निम्नलिखित में से कौन जानकारी को संग्रहीत रखता है?

01. CPU

03. RAM

05. None of these
02. ROM

04. DIMM

**Solution for Question 161**

Ans Key: 2

eng/eng ROM retains the information it's storing when the power to the system is turned off.  
जब सिस्टम की बिजली बंद कर दी जाती है तो ROM उन सूचनाओं को संग्रहीत करता है।

eng hin ROM retains the information it's storing when the power to the system is turned off.  
जब सिस्टम की बिजली बंद कर दी जाती है तो ROM उन सूचनाओं को संग्रहीत करता है।

**Q-162** A network of computers and other devices that is confined to a relatively small space is called?  
eng/eng कंप्यूटर और अन्य उपकरणों का एक नेटवर्क जो एक अपेक्षाकृत छोटे स्थान तक ही सीमित है?

01. Wide Area Network

03. Global Network

05. None of these  
इनमें से कोई नहीं
02. Local Area Network

04. Peer-to-Peer Network

**Q-162** A network of computers and other devices that is confined to a relatively small space is called?  
eng hin कंप्यूटर और अन्य उपकरणों का एक नेटवर्क जो अपेक्षाकृत कम स्थान पर सीमित है, LAN लोकल एरिया नेटवर्क कहलाता है

01. Wide Area Network

03. Global Network

05. None of these
02. Local Area Network

04. Peer-to-Peer Network

**Solution for Question 162**

Ans Key: 2

eng/eng A network of computers and other devices that is confined to a relatively small space is called LAN Local Area Network  
कंप्यूटर और अन्य उपकरणों का एक नेटवर्क जो अपेक्षाकृत कम स्थान पर सीमित है, LAN लोकल एरिया नेटवर्क कहलाता है

<b>eng hin</b>	A network of computers and other devices that is confined to a relatively small space is called LAN Local Area Network कंप्यूटर और अन्य उपकरणों का एक नेटवर्क जो अपेक्षाकृत कम स्थान पर सीमित है, LAN लोकल एरिया नेटवर्क कहलाता है
----------------	--

<b>Q-163</b> <b>eng/eng</b>	Every computer connected to the Internet is identified by a unique four-part string, known as- इंटरनेट से जुड़े प्रत्येक कंप्यूटर को एक अद्वितीय चार-भाग स्ट्रिंग द्वारा पहचाना जाता है, जिसे _____ के रूप में जाना जाता है
01. IP address	02. Host name
03. Domain name	04. None of the above उपरोक्त में से कोई नहीं
05. All of the above उपरोक्त सभी	

<b>Q-163</b> <b>eng hin</b>	Every computer connected to the Internet is identified by a unique four-part string, known as- इंटरनेट से जुड़े प्रत्येक कंप्यूटर को एक अद्वितीय चार-भाग स्ट्रिंग द्वारा पहचाना जाता है, जिसे _____ के रूप में जाना जाता है
01. IP address	02. Host name
03. Domain name	04. None of the above उपरोक्त में से कोई नहीं
05. All of the above उपरोक्त सभी	

<b>Solution for Question 163</b>		Ans Key: 1
<b>eng/eng</b>	Every computer connected to the Internet is identified by a unique four-part string, known as IP address. इंटरनेट से जुड़े प्रत्येक कंप्यूटर को एक अद्वितीय चार-भाग स्ट्रिंग द्वारा पहचाना जाता है, जिसे आईपी एड्रेस के रूप में जाना जाता है	
<b>eng hin</b>	Every computer connected to the Internet is identified by a unique four-part string, known as IP address. इंटरनेट से जुड़े प्रत्येक कंप्यूटर को एक अद्वितीय चार-भाग स्ट्रिंग द्वारा पहचाना जाता है, जिसे आईपी एड्रेस के रूप में जाना जाता है	

<b>Q-164</b> <b>eng/eng</b>	ENIAC was the first general-purpose electronic computer. ENIAC stands for ENIAC पहला सामान्य-उद्देश्य इलेक्ट्रॉनिक कंप्यूटर था। ENIAC का मतलब है
01. Electronic Network Interactive Analytic Computer	02. Electronic Numerical Integrator and Computer
03. Electronic Network Integrated Analytical Computer	04. Electronic Numerical Integrated Automatic Computer
05. None of these इनमें से कोई नहीं	

<b>Q-164</b> <b>eng hin</b>	ENIAC was the first general-purpose electronic computer. ENIAC stands for ENIAC पहला सामान्य-उद्देश्य इलेक्ट्रॉनिक कंप्यूटर था। ENIAC का मतलब है
01. Electronic Network Interactive Analytic Computer	02. Electronic Numerical Integrator and Computer
03. Electronic Network Integrated Analytical Computer	04. Electronic Numerical Integrated Automatic Computer
05. None of these इनमें से कोई नहीं	

<b>Solution for Question 164</b>		Ans Key: 2
<b>eng/eng</b>	ENIAC: Electronic Numerical Integrator and Computer	
<b>eng hin</b>	ENIAC: Electronic Numerical Integrator and Computer	

<b>Q-165</b> <b>eng/eng</b>	Which of the following statement is correct? निम्नलिखित में से कौन सा कथन सही है?
01. 1 KB = 1024 bytes	02. 1 MB=2048 bytes
03. 1 MB = 1000 kilobytes	04. 1 KB = 1000 bytes
05. None of these इनमें से कोई नहीं	

<b>Q-165</b> <b>eng hin</b>	Which of the following statement is correct? निम्नलिखित में से कौन सा कथन सही है?
01. 1 KB = 1024 bytes	02. 1 MB=2048 bytes

03. 1 MB = 1000 kilobytes  
04. 1 KB = 1000 bytes
05. None of these  
इनमें से कोई नहीं

#### Solution for Question 165

Ans Key: 1

eng/eng 1 KB = 1024 bytes

eng hin 1 KB = 1024 bytes

**Q-166** Which of the following memories must be refreshed many times per second?  
निम्नलिखित में से कौन सी यादें प्रति सेकंड कई बार रिफ्रेश होनी चाहिए?

01. Static RAM  
02. Dynamic RAM  
03. EPROM  
04. ROM  
05. None of these  
इनमें से कोई नहीं

**Q-166** Which of the following memories must be refreshed many times per second?  
निम्नलिखित में से कौन सी यादें प्रति सेकंड कई बार रिफ्रेश होनी चाहिए?

eng hin

01. Static RAM  
02. Dynamic RAM  
03. EPROM  
04. ROM  
05. None of these  
इनमें से कोई नहीं

#### Solution for Question 166

Ans Key: 2

eng/eng Dynamic RAM memories must be refreshed many times per second  
डायनेमिक रैम मेमोरी को प्रति सेकंड कई बार रिफ्रेश किया जाना चाहिए

eng hin Dynamic RAM memories must be refreshed many times per second  
डायनेमिक रैम मेमोरी को प्रति सेकंड कई बार रिफ्रेश किया जाना चाहिए

**Q-167** .PNG refers to  
eng/eng .PNG \_\_\_\_\_ को संदर्भित करता है

01. Image file  
02. Movie/animation file  
03. Audio file  
04. MS Office document  
05. None of these  
इनमें से कोई नहीं

**Q-167** .PNG refers to  
eng hin .PNG \_\_\_\_\_ को संदर्भित करता है

01. Image file  
02. Movie/animation file  
03. Audio file  
04. MS Office document  
05. None of these  
इनमें से कोई नहीं

#### Solution for Question 167

Ans Key: 1

eng/eng .PNG refers to Image file  
.PNG छवि फ़ाइल को संदर्भित करता है

eng hin .PNG refers to Image file  
.PNG छवि फ़ाइल को संदर्भित करता है

**Q-168** USB stands for?  
eng/eng USB का पूर्ण रूप क्या होता है

01. Unlimited Service Band  
02. Unlimited Serial Bus  
03. Universal Serial Bus  
04. Universal Service Bus  
05. None of these  
इनमें से कोई नहीं

**Q-168** USB stands for?  
eng hin USB का पूर्ण रूप क्या होता है

01. Unlimited Service Band                      02. Unlimited Serial Bus  
 03. Universal Serial Bus                        04. Universal Service Bus  
 05. None of these  
 इनमें से कोई नहीं

### Solution for Question 168

Ans Key: 3

eng/eng USB: Universal Serial Bus

eng hin USB: Universal Serial Bus

**Q-169** \_\_\_\_\_ is a technology that allows telephone calls to be made over computer networks like the Internet.

eng/eng \_\_\_\_\_ एक तकनीक है जो कंप्यूटर नेटवर्क इंटरनेट द्वारा टेलीफोन कॉल करने की अनुमति देती है।

01. VoIP    02. GSM  
 03. Modem                                        04. CDMA  
 05. None of these

**Q-169** \_\_\_\_\_ is a technology that allows telephone calls to be made over computer networks like the Internet.

eng hin \_\_\_\_\_ एक तकनीक है जो कंप्यूटर नेटवर्क इंटरनेट द्वारा टेलीफोन कॉल करने की अनुमति देती है।

01. VoIP    02. GSM  
 03. Modem                                        04. CDMA  
 05. None of these

### Solution for Question 169

Ans Key: 1

eng/eng VOIP is a technology that allows telephone calls to be made over computer networks like the Internet.  
 VOIP एक तकनीक है जो कंप्यूटर नेटवर्क इंटरनेट द्वारा टेलीफोन कॉल करने की अनुमति देती है।

eng hin VOIP is a technology that allows telephone calls to be made over computer networks like the Internet.  
 VOIP एक तकनीक है जो कंप्यूटर नेटवर्क इंटरनेट द्वारा टेलीफोन कॉल करने की अनुमति देती है।

**Q-170** To identify TCP/IP errors such as connection problems \_\_\_\_\_ command can be used

eng/eng कनेक्शन समस्याओं जैसी त्रुटियों की पहचान करने के लिए \_\_\_\_\_ कमांड का उपयोग किया जा सकता है

01. FTP    02. Ping  
 03. POP3    04. STP  
 05. None of these

**Q-170** To identify TCP/IP errors such as connection problems \_\_\_\_\_ command can be used

eng hin कनेक्शन समस्याओं जैसी त्रुटियों की पहचान करने के लिए \_\_\_\_\_ कमांड का उपयोग किया जा सकता है

01. FTP    02. Ping  
 03. POP3    04. STP  
 05. None of these

### Solution for Question 170

Ans Key: 2

eng/eng To identify TCP/IP errors such as connection problems ping command can be used  
 कनेक्शन समस्याओं जैसी त्रुटियों की पहचान करने के लिए पिंग कमांड का उपयोग किया जा सकता है

eng hin To identify TCP/IP errors such as connection problems ping command can be used  
 कनेक्शन समस्याओं जैसी त्रुटियों की पहचान करने के लिए पिंग कमांड का उपयोग किया जा सकता है

**Q-171** Using Microsoft word we can simply \_\_\_\_\_

eng/eng माइक्रोसॉफ्ट वर्ड का उपयोग हम \_\_\_\_\_ के लिए करते हैं

01. Paste picture                                      02. Type  
 03. Format a text                                      04. All the above functions  
 05. None of these  
 इनमें से कोई नहीं

**Q-171** Using Microsoft word we can simply \_\_\_\_\_

eng hin माइक्रोसॉफ्ट वर्ड का उपयोग हम \_\_\_\_\_ के लिए करते हैं

- 01.** Paste picture                      **02.** Type
- 03.** Format a text                     **04.** All the above functions
- 05.** None of these  
इनमें से कोई नहीं

### Solution for Question 171

Ans Key: 4

**eng/eng** We can use all type of documentation with text format in Microsoft word.  
हम Microsoft वर्ड में सभी प्रकार के प्रलेखन का उपयोग पाठ प्रारूप के साथ कर सकते हैं।

**eng hin** We can use all type of documentation with text format in Microsoft word.  
हम Microsoft वर्ड में सभी प्रकार के प्रलेखन का उपयोग पाठ प्रारूप के साथ कर सकते हैं

**Q-172** The two kinds of main memory are  
**eng/eng** मुख्य स्मृति दो प्रकार की होती है

01. CDs and DVDs  
02. RAM and ROM  
03. Primary and secondary  
04. Direct and sequential  
05. None of these  
इनमें से कोई नहीं

**Q-172** The two kinds of main memory are  
**eng hin** मुख्य स्मृति दो प्रकार की होती है

01. CDs and DVDs  
02. RAM and ROM  
03. Primary and secondary  
04. Direct and sequential  
05. None of these  
इतमें से कोई नहीं

### Solution for Question 172

Ans Key: 2

**eng/eng** The two kinds of main memory are RAM and ROM  
मुख्य मेमोरी के दो प्रकार रैम और रोम हैं

**eng hin** The two kinds of main memory are RAM and ROM  
मुख्य मेमोरी के दो प्रकार रैम और रोम हैं

**Q-173** RAM is also called as  
**eng/eng** रैम को \_\_\_\_\_ भी कहा जाता है

01. Virtual memory                      02. Volatile memory  
03. Non volatile memory                04. Cache memory  
05. None of these  
इनमें से कोई नहीं

**Q-173** RAM is also called as  
रैम को \_\_\_\_\_ भी कहा जाता है

01. Virtual memory  
02. Volatile memory  
03. Non volatile memory  
04. Cache memory  
05. None of these  
इनमें से कोई नहीं

### Solution for Question 173

Ans Key: 2

**eng/eng** RAM is also called as Volatile memory.  
रैम को वोलाटाइल मेमोरी भी कहा जाता है

**eng hin** RAM is also called as Volatile memory.  
रैम को वोलाटाइल मेमोरी भी कहा जाता है

**Q-174** Internal hard disk is  
**eng/eng** आंतरिक हार्ड डिस्क \_\_\_\_\_ है

- 01.** Removable but not fixed                                      **02.** Removable  
**03.** Not fixed    **04.** Fixed  
**05.** None of these
- इनमें से कोई नहीं

**Q-174** Internal hard disk is  
**eng/hin** आंतरिक हार्ड डिस्क \_\_\_\_ है

- |   |                      |
|---|----------------------|
| <b>01.</b> Removable but not fixed            | <b>02.</b> Removable |
| <b>03.</b> Not fixed                          | <b>04.</b> Fixed     |
| <b>05.</b> None of these<br>इनमें से कोई नहीं |                      |

**Solution for Question 174** Ans Key: 4

<b>eng/eng</b>	Internal hard disk is Fixed आंतरिक हार्ड डिस्क सिस्टम यूनिट में अंदर जुड़ा होता है
<b>eng/hin</b>	Internal hard disk is Fixed आंतरिक हार्ड डिस्क सिस्टम यूनिट में अंदर जुड़ा होता है

**Q-175** What is the full form of UDP?  
**eng/eng** UDP का पूर्ण रूप क्या होता है ?

- |   |                                   |
|---|-----------------------------------|
| <b>01.</b> Upper Divisional Protocol          | <b>02.</b> User Datagram Protocol |
| <b>03.</b> Under Divisional Protocol          | <b>04.</b> All<br>सभी             |
| <b>05.</b> None of these<br>इनमें से कोई नहीं |                                   |

**Q-175** What is the full form of UDP?  
**eng/hin** UDP का पूर्ण रूप क्या होता है ?

- |   |                                   |
|---|-----------------------------------|
| <b>01.</b> Upper Divisional Protocol          | <b>02.</b> User Datagram Protocol |
| <b>03.</b> Under Divisional Protocol          | <b>04.</b> All<br>सभी             |
| <b>05.</b> None of these<br>इनमें से कोई नहीं |                                   |

**Solution for Question 175** Ans Key: 2

<b>eng/eng</b>	UDP: User Datagram Protocol
<b>eng/hin</b>	UDP: User Datagram Protocol

**Q-176** How much data can be stored in a CD?  
**eng/eng** सीडी में कितना डाटा स्टोर किया जा सकता है?

- |   |                   |
|---|-------------------|
| <b>01.</b> 300 MB                             | <b>02.</b> 400 MB |
| <b>03.</b> 670 MB                             | <b>04.</b> 700 MB |
| <b>05.</b> None of these<br>इनमें से कोई नहीं |                   |

**Q-176** How much data can be stored in a CD?  
**eng/hin** सीडी में कितना डाटा स्टोर किया जा सकता है?

- |   |                   |
|---|-------------------|
| <b>01.</b> 300 MB                             | <b>02.</b> 400 MB |
| <b>03.</b> 670 MB                             | <b>04.</b> 700 MB |
| <b>05.</b> None of these<br>इनमें से कोई नहीं |                   |

**Solution for Question 176** Ans Key: 4

<b>eng/eng</b>	700 MB can be stored in a CD 700 एमबी तक एक सीडी में स्टोर किया जा सकता है
<b>eng/hin</b>	700 MB can be stored in a CD 700 एमबी तक एक सीडी में स्टोर किया जा सकता है

**Q-177** CD-ROM stands for  
**eng/eng** CD-ROM का पूर्ण रूप क्या होता है



01. Compactable Disc Read Only Memory      02. Compact Data Read Only Memory  
03. Compactable Read Only Memory      04. Compact Disc Read Only Memory  
05. None of these  
इनमें से कोई नहीं

**Q-177** CD-ROM stands for  
**eng hin** CD-ROM का पूर्ण रूप क्या होता है

01. Compactable Disc Read Only Memory      02. Compact Data Read Only Memory  
03. Compactable Read Only Memory      04. Compact Disc Read Only Memory  
05. None of these  
इनमें से कोई नहीं

Solution for Question 177		Ans Key: 4
<b>eng/eng</b>	CD-ROM: Compact Disc Read Only Memory	
<b>eng hin</b>	CD-ROM: Compact Disc Read Only Memory	

**Q-178** \_\_\_\_\_ has the shortest access times.  
**eng/eng** \_\_\_\_\_ की सबसे कम पहुँच समय होता है।

01. Virtual Memory      02. Secondary Memory  
03. Cache Memory      04. All of the above  
उपरोक्त सभी  
05. None of these  
इनमें से कोई नहीं

**Q-178** \_\_\_\_\_ has the shortest access times.  
**eng hin** \_\_\_\_\_ की सबसे कम पहुँच समय होता है।

01. Virtual Memory      02. Secondary Memory  
03. Cache Memory      04. All of the above  
उपरोक्त सभी  
05. None of these  
इनमें से कोई नहीं

Solution for Question 178		Ans Key: 3
<b>eng/eng</b>	Cache Memory has the shortest access times. कैश मेमोरी में सबसे कम एक्सेस समय लगता है।	
<b>eng hin</b>	Cache Memory has the shortest access times. कैश मेमोरी में सबसे कम एक्सेस समय लगता है।	

**Q-179** What is the main folder on a storage device called?  
**eng/eng** स्टोरेज डिवाइस पर मुख्य फ़ोल्डर क्या कहलाता है?

01. Device driver      02. Root directory  
03. Interface      04. Platform  
05. None of these  
इनमें से कोई नहीं

**Q-179** What is the main folder on a storage device called?  
**eng hin** स्टोरेज डिवाइस पर मुख्य फ़ोल्डर क्या कहलाता है?

01. Device driver      02. Root directory  
03. Interface      04. Platform  
05. None of these  
इनमें से कोई नहीं

Solution for Question 179		Ans Key: 2
<b>eng/eng</b>	Root Directory is the main folder on a storage device रूट डायरेक्टरी एक स्टोरेज डिवाइस पर मुख्य फ़ोल्डर होती है	
<b>eng hin</b>	Root Directory is the main folder on a storage device रूट डायरेक्टरी एक स्टोरेज डिवाइस पर मुख्य फ़ोल्डर होती है	

**Q-180** EPROM stands for  
**eng/eng** EPROM का पूर्ण रूप क्या होता है

01. Electronic programmable read-only memory

02. Electrical principal read-only memory

03. Erasable programmable read-only memory

04. Electrical programmable read-only memory

05. None of these
- इनमें से कोई नहीं

**Q-180** EPROM stands for  
**eng hin** EPROM का पूर्ण रूप क्या होता है

01. Electronic programmable read-only memory

02. Electrical principal read-only memory

03. Erasable programmable read-only memory

04. Electrical programmable read-only memory

05. None of these
- इनमें से कोई नहीं

Solution for Question 180		Ans Key: 3
eng/eng	EPROM: Erasable programmable read-only memory	
eng hin	EPROM: Erasable programmable read-only memory	

**Q-181** Which is the most popular medium for direct-access secondary storage of a computer?  
**eng/eng** कंप्यूटर के डायरेक्ट-एक्सेस सेकेंडरी स्टोरेज के लिए सबसे लोकप्रिय माध्यम कौन सा है?

01. ROM

02. RAM

03. Magnetic disk

04. Magnetic tape

05. None of these
- इनमें से कोई नहीं

**Q-181** Which is the most popular medium for direct-access secondary storage of a computer?  
**eng hin** कंप्यूटर के डायरेक्ट-एक्सेस सेकेंडरी स्टोरेज के लिए सबसे लोकप्रिय माध्यम कौन सा है?

01. ROM

02. RAM

03. Magnetic disk

04. Magnetic tape

05. None of these
- इनमें से कोई नहीं

Solution for Question 181		Ans Key: 3
eng/eng	Magnetic disk is the most popular medium for direct-access secondary storage of a computer किसी कंप्यूटर के डायरेक्ट-एक्सेस सेकेंडरी स्टोरेज के लिए मैग्नेटिक डिस्क सबसे लोकप्रिय माध्यम है	
eng hin	Magnetic disk is the most popular medium for direct-access secondary storage of a computer किसी कंप्यूटर के डायरेक्ट-एक्सेस सेकेंडरी स्टोरेज के लिए मैग्नेटिक डिस्क सबसे लोकप्रिय माध्यम है	

**Q-182** OCR stands for  
**eng/eng** OCR का पूर्ण रूप क्या होता है

01. Optical Coding Recogniser

02. Ostensibly Characterised Reader

03. Original Character Reader

04. Optical Character Recognition

05. None of these
- इनमें से कोई नहीं

**Q-182** OCR stands for  
**eng hin** OCR का पूर्ण रूप क्या होता है

01. Optical Coding Recogniser

02. Ostensibly Characterised Reader

03. Original Character Reader

04. Optical Character Recognition

05. None of these
- इनमें से कोई नहीं

Solution for Question 182		Ans Key: 4
---------------------------	--	------------

eng/eng	OCR: Optical Character Recognition
eng hin	OCR: Optical Character Recognition

**Q-183** The Open, Print, and Save buttons are all located on the  
**eng/eng** ओपन, प्रिंट और सेव बटन सभी \_\_\_\_\_ पर स्थित होते हैं

01.

Status bar
02.

Standard toolbar
03.

Title bar
04.

Status and title bars
05.

None of these  
इनमें से कोई नहीं

**Q-183** The Open, Print, and Save buttons are all located on the  
**eng hin** ओपन, प्रिंट और सेव बटन सभी \_\_\_\_\_ पर स्थित होते हैं

01.

Status bar
02.

Standard toolbar
03.

Title bar
04.

Status and title bars
05.

None of these  
इनमें से कोई नहीं

**Solution for Question 183** Ans Key: 2

eng/eng	The Open, Print, and Save buttons are all located on the Standard toolbar ओपन, प्रिंट और सेव बटन सभी स्टैंडर्ड टूलबार पर स्थित होते हैं
eng hin	The Open, Print, and Save buttons are all located on the Standard toolbar ओपन, प्रिंट और सेव बटन सभी स्टैंडर्ड टूलबार पर स्थित होते हैं

**Q-184** Which of the following is not a binary number?  
**eng/eng** निम्नलिखित में से कौन एक बाइनरि संख्या नहीं है?

01.

001
02.

101
03.

202
04.

110
05.

None of these  
इनमें से कोई नहीं

**Q-184** Which of the following is not a binary number?  
**eng hin** निम्नलिखित में से कौन एक बाइनरि संख्या नहीं है?

01.

001
02.

101
03.

202
04.

110
05.

None of these  
इनमें से कोई नहीं

**Solution for Question 184** Ans Key: 3

eng/eng	202 is not a binary number. Only two digits are used in binary number system that are 0 and 1. 202 एक बाइनरी नंबर नहीं है। बाइनरि संख्या प्रणाली में केवल दो अंकों का उपयोग किया जाता है जो 0 और 1 होता हैं।
eng hin	202 is not a binary number. Only two digits are used in binary number system that are 0 and 1. 202 एक बाइनरी नंबर नहीं है। बाइनरि संख्या प्रणाली में केवल दो अंकों का उपयोग किया जाता है जो 0 और 1 होता हैं।

**Q-185** Which of the following is not a storage medium?  
**eng/eng** निम्नलिखित में से कौन एक भंडारण माध्यम नहीं है?

01.

Hard disk
02.

Flash drive
03.

DVD
04.

Monitor
05.

None of these  
इनमें से कोई नहीं

**Q-185** Which of the following is not a storage medium?  
**eng hin** निम्नलिखित में से कौन एक भंडारण माध्यम नहीं है?

01.

Hard disk
02.

Flash drive
03.

DVD
04.

Monitor
05.

None of these

इनमें से कोई नहीं

### Solution for Question 185

Ans Key: 4

eng/eng	Monitor is an output device. मॉनिटर एक आउटपुट डिवाइस होता है।
eng hin	Monitor is an output device. मॉनिटर एक आउटपुट डिवाइस होता है।

**Q-186** To boot a computer means to  
कंप्यूटर को बूट करने का मतलब है

- |  |                        |
|--|------------------------|
| 01. Keep it working                    | 02. turn on the sounds |
| 03. add extra drives                   | 04. turn it on         |
| 05. None of these<br>इनमें से कोई नहीं |                        |

**Q-186** To boot a computer means to  
कंप्यूटर को बूट करने का मतलब है

- |  |                        |
|--|------------------------|
| 01. Keep it working                    | 02. turn on the sounds |
| 03. add extra drives                   | 04. turn it on         |
| 05. None of these<br>इनमें से कोई नहीं |                        |

### Solution for Question 186

Ans Key: 4

eng/eng	To boot a computer means to turn it on कंप्यूटर को बूट करने का मतलब उसे चालू करना होता है
eng hin	To boot a computer means to turn it on कंप्यूटर को बूट करने का मतलब उसे चालू करना होता है

**Q-187** Which of the following categories would include a keyboard?  
निम्नलिखित में से किस श्रेणी में एक कीबोर्ड शामिल होगा?

- |  |                   |
|--|-------------------|
| 01. Printing Device                    | 02. Output Device |
| 03. Storage Device                     | 04. Input Device  |
| 05. None of these<br>इनमें से कोई नहीं |                   |

**Q-187** Which of the following categories would include a keyboard?  
निम्नलिखित में से किस श्रेणी में एक कीबोर्ड शामिल होगा?

- |  |                   |
|--|-------------------|
| 01. Printing Device                    | 02. Output Device |
| 03. Storage Device                     | 04. Input Device  |
| 05. None of these<br>इनमें से कोई नहीं |                   |

### Solution for Question 187

Ans Key: 4

eng/eng	keyboard is an input device. कीबोर्ड एक इनपुट डिवाइस होता है।
eng hin	keyboard is an input device. कीबोर्ड एक इनपुट डिवाइस होता है।

**Q-188** Which of the following is an example of computer software ?  
निम्नलिखित में से कौन सा कंप्यूटर सॉफ्टवेयर का एक उदाहरण है?

- |  |                   |
|--|-------------------|
| 01. Impact Printer                     | 02. Scanner       |
| 03. LYNX                               | 04. Magnetic Tape |
| 05. None of these<br>इनमें से कोई नहीं |                   |

**Q-188** Which of the following is an example of computer software ?  
निम्नलिखित में से कौन सा कंप्यूटर सॉफ्टवेयर का एक उदाहरण है?

01. Impact Printer  
03. LYNX  
05. None of these  
इनमें से कोई नहीं
02. Scanner  
04. Magnetic Tape

Solution for Question 188		Ans Key: 3
eng/eng	LYNX is a text based web browser. LYNX एक पाठ आधारित वेब ब्राउज़र है।	
eng hin	LYNX is a text based web browser. LYNX एक पाठ आधारित वेब ब्राउज़र है।	

**Q-189** Chip is common nick name of an?  
**eng/eng** चिप का एक आम नाम \_\_\_\_\_ होता है?

01. Transistor  
03. IC  
05. None of these  
इनमें से कोई नहीं
02. Resistor  
04. Semiconductor

**Q-189** Chip is common nick name of an?  
**eng hin** चिप का एक आम नाम \_\_\_\_\_ होता है?

01. Transistor  
03. IC  
05. None of these  
इनमें से कोई नहीं
02. Resistor  
04. Semiconductor

Solution for Question 189		Ans Key: 3
eng/eng	Chip is common nick name of an IC (Integrated Circuit) चिप का एक आम नाम IC इंटीग्रेटेड सर्किट होता है	
eng hin	Chip is common nick name of an IC (Integrated Circuit) चिप का एक आम नाम IC इंटीग्रेटेड सर्किट होता है	

**Q-190** The purpose of the primary key in a database is to?  
**eng/eng** डेटाबेस में प्राथमिक कुंजी का उद्देश्य क्या है?

01. Unlock the database  
03. Uniquely identify a record  
05. None of these  
इनमें से कोई नहीं
02. Provide a map of the data  
04. Established constraints on database operations

**Q-190** The purpose of the primary key in a database is to?  
**eng hin** डेटाबेस में प्राथमिक कुंजी का उद्देश्य क्या है?

01. Unlock the database  
03. Uniquely identify a record  
05. None of these  
इनमें से कोई नहीं
02. Provide a map of the data  
04. Established constraints on database operations

Solution for Question 190		Ans Key: 3
eng/eng	The purpose of the primary key in a database is to uniquely identify a record एक डेटाबेस में प्राथमिक कुंजी का उद्देश्य विशिष्ट रूप से एक रिकॉर्ड की पहचान करना है	
eng hin	The purpose of the primary key in a database is to uniquely identify a record एक डेटाबेस में प्राथमिक कुंजी का उद्देश्य विशिष्ट रूप से एक रिकॉर्ड की पहचान करना है	

**Q-191** Linux is which type of operating system?  
**eng/eng** लिनक्स किस प्रकार का ऑपरेटिंग सिस्टम है?

01. Open source  
03. Mac  
05. None of these  
इनमें से कोई नहीं
02. Microsoft  
04. Windows

**Q-191** Linux is which type of operating system?  
**eng hin** लिनक्स किस प्रकार का ऑपरेटिंग सिस्टम है?

- |                          |                      |
|--------------------------|----------------------|
| <b>01.</b> Open source   | <b>02.</b> Microsoft |
| <b>03.</b> Mac           | <b>04.</b> Windows   |
| <b>05.</b> None of these |                      |
- इनमें से कोई नहीं

**Solution for Question 191** Ans Key: 1

<b>eng/eng</b>	Linux is Open source type of operating system लिनक्स ओपन सोर्स प्रकार का ऑपरेटिंग सिस्टम है
<b>eng hin</b>	Linux is Open source type of operating system लिनक्स ओपन सोर्स प्रकार का ऑपरेटिंग सिस्टम है

**Q-192** \_\_\_\_\_ Menu types is also known as a drop down menu?  
**eng/eng** \_\_\_\_\_ मेनू प्रकार को ड्रॉप डाउन मेनू के रूप में भी जाना जाता है?

- |                       |                      |
|-----------------------|----------------------|
| <b>01.</b> Fly down   | <b>02.</b> Pop down  |
| <b>03.</b> Pop Up     | <b>04.</b> Pull down |
| <b>05.</b> Pull again |                      |

**Q-192** \_\_\_\_\_ Menu types is also known as a drop down menu?  
**eng hin** \_\_\_\_\_ मेनू प्रकार को ड्रॉप डाउन मेनू के रूप में भी जाना जाता है?

- |                       |                      |
|-----------------------|----------------------|
| <b>01.</b> Fly down   | <b>02.</b> Pop down  |
| <b>03.</b> Pop Up     | <b>04.</b> Pull down |
| <b>05.</b> Pull again |                      |

**Solution for Question 192** Ans Key: 4

<b>eng/eng</b>	Pull down Menu types is also known as a drop down menu. Pull down मेनू प्रकार को ड्रॉप डाउन मेनू के रूप में भी जाना जाता है?
<b>eng hin</b>	Pull down Menu types is also known as a drop down menu. Pull down मेनू प्रकार को ड्रॉप डाउन मेनू के रूप में भी जाना जाता है?

**Q-193** Array is  
**eng/eng** Array \_\_\_\_\_ होता है ?

- |                                   |                                      |
|-----------------------------------|--------------------------------------|
| <b>01.</b> linear data structure  | <b>02.</b> non-linear data structure |
| <b>03.</b> complex data structure | <b>04.</b> simple data structure     |
| <b>05.</b> None of these          |                                      |
- इनमें से कोई नहीं

**Q-193** Array is  
**eng hin** Array \_\_\_\_\_ होता है ?

- |                                   |                                      |
|-----------------------------------|--------------------------------------|
| <b>01.</b> linear data structure  | <b>02.</b> non-linear data structure |
| <b>03.</b> complex data structure | <b>04.</b> simple data structure     |
| <b>05.</b> None of these          |                                      |
- इनमें से कोई नहीं

**Solution for Question 193** Ans Key: 1

<b>eng/eng</b>	Array is linear data structure Array रेखिक डेटा संरचना होती है
<b>eng hin</b>	Array is linear data structure Array रेखिक डेटा संरचना होती है

**Q-194** If you are going to a site you use often, instead of having to type in the address every time, you should  
**eng/eng** यदि आप किसी ऐसी साइट पर जा रहे हैं जिसका उपयोग आप अक्सर करते हैं, तो हर बार पते पर टाइप करने के बजाय, आपको \_\_\_\_\_ करना चाहिए

- |                              |                              |
|------------------------------|------------------------------|
| <b>01.</b> save it as a file | <b>02.</b> make a copy of it |
| <b>03.</b> bookmark it       | <b>04.</b> delete it         |



यदि आप किसी ऐसी साइट पर जा रहे हैं जिसका उपयोग आप अक्सर करते हैं, तो हर बार पते पर टाइप करने के बजाय, आपको \_\_\_\_\_ करना चाहिए

### for Question 194

If you are going to a site you use often, instead of having to type in the address every time, you should bookmark it. यदि आप किसी ऐसी साइट पर जा रहे हैं जिसका उपयोग आप अक्सर करते हैं, तो हर बार पते पर टाइप करने के बजाय, आपको इसे बुकमार्क करना चाहिए।

for Question 195

Unauthorized copying of software to be used for personal gain instead of for personal backups is called Software piracy  
 व्यक्तिगत बैकअप के बजाय व्यक्तिगत लाभ के लिए उपयोग किए जाने वाले सॉफ्टवेयर की अनधिकृत प्रतिलिपि को सॉफ्टवेयर PIRACY कहा जाता है

**for Question 196**

A central computer surrounded by one or more satellite computers is called a **Star Network**  
एक या अधिक कंप्यूटरों से घिरे एक केंद्रीय कंप्यूटर को स्टार नेटवर्क कहा जाता है

**Q-197** The horizontal and vertical lines on a worksheet are called  
**eng/eng** एक वर्कशीट पर क्षैतिज और ऊर्ध्वाधर रेखाओं को \_\_\_\_\_ कहा जाता है

01. cells

02. sheets

03. block lines

04. grid lines

05. None of these

इनमें से कोई नहीं

**Q-197** The horizontal and vertical lines on a worksheet are called  
**eng hin** एक वर्कशीट पर क्षैतिज और ऊर्ध्वाधर रेखाओं को \_\_\_\_\_ कहा जाता है

01. cells

02. sheets

03. block lines

04. grid lines

05. None of these

इनमें से कोई नहीं

**Solution for Question 197** Ans Key: 4

**eng/eng** The horizontal and vertical lines on a worksheet are called grid lines  
एक वर्कशीट पर क्षैतिज और ऊर्ध्वाधर रेखाओं को ग्रिड लाइन कहा जाता है

**eng hin** The horizontal and vertical lines on a worksheet are called grid lines  
एक वर्कशीट पर क्षैतिज और ऊर्ध्वाधर रेखाओं को ग्रिड लाइन कहा जाता है

**Q-198** To delete an incorrect character in a document, \_\_\_\_\_ to erase to the right of the insertion point.  
**eng/eng** एक दस्तावेज़ में एक गलत चरित्र को हटाने के लिए, सम्मिलन बिंदु के दाईं ओर से मिटाने के लिए \_\_\_\_\_

01. press the left mouse key

02. press the Delete key

03. press the Backspace key

04. press the F9 key

05. None of these

इनमें से कोई नहीं

**Q-198** To delete an incorrect character in a document, \_\_\_\_\_ to erase to the right of the insertion point.  
**eng hin** एक दस्तावेज़ में एक गलत चरित्र को हटाने के लिए, सम्मिलन बिंदु के दाईं ओर से मिटाने के लिए \_\_\_\_\_

01. press the left mouse key

02. press the Delete key

03. press the Backspace key

04. press the F9 key

05. None of these

इनमें से कोई नहीं

**Solution for Question 198** Ans Key: 2

**eng/eng** To delete an incorrect character in a document, press the Delete key to erase to the right of the insertion point.  
एक दस्तावेज़ में एक गलत चरित्र को हटाने के लिए, सम्मिलन बिंदु के दाईं ओर से मिटाने के लिए डिलीट कुंजी को प्रैस किया जाता है

**eng hin** To delete an incorrect character in a document, press the Delete key to erase to the right of the insertion point.  
एक दस्तावेज़ में एक गलत चरित्र को हटाने के लिए, सम्मिलन बिंदु के दाईं ओर से मिटाने के लिए डिलीट कुंजी को प्रैस किया जाता है

**Q-199** Codes consisting of bars or lines of varying widths or lengths that are computer-readable are known as  
**eng/eng** बार या कंप्यूटर की पठनीयता के आधार पर अलग-अलग चौड़ाई या लम्बाई की लाइनों वाले कोड को \_\_\_\_\_ कहा जाता है

01. A bar code

02. An ASCII code

03. A magnetic tape

04. A light pen

05. None of these

इनमें से कोई नहीं

**Q-199** Codes consisting of bars or lines of varying widths or lengths that are computer-readable are known as  
**eng hin** बार या कंप्यूटर की पठनीयता के आधार पर अलग-अलग चौड़ाई या लम्बाई की लाइनों वाले कोड को \_\_\_\_\_ कहा जाता है

01. A bar code

02. An ASCII code

03. A magnetic tape

04. A light pen

- ### Solution for Question 199

**eng/eng** Codes consisting of bars or lines of varying widths or lengths that are computer-readable are known as a bar code  
बार या कोड जो अलग-अलग चौड़ाई या लंबाई के होते हैं, जो कंप्यूटर में पढ़ने योग्य होते हैं, उन्हें बार कोड के रूप में जाना जाता है

**eng hin** Codes consisting of bars or lines of varying widths or lengths that are computer-readable are known as a bar code  
 बार या कोड जो अलग-अलग चौड़ाई या लंबाई के होते हैं, जो कंप्यूटर में पढ़ने योग्य होते हैं, उन्हें बार कोड के रूप में जाना जाता है

**eng/eng** ई मेल में \_\_\_\_\_ फ़ोल्डर उन संदेशों की प्रतियों को सुरक्षित रखता है जिन्हें आपने शुरू किया है लेकिन अभी भेजने के लिए तैयार नहीं हैं।

- eng hin** ई मेल में \_\_\_\_\_ फ़ोल्डर उन संदेशों की प्रतियों को सुरक्षित रखता है जिन्हें आपने शुरू किया है लेकिन अभी भेजने के लिए तैयार नहीं हैं।

01. Drafts  
02. Outbox  
03. Address Book  
04. Inbox  
05. None of these  
इनमें से कोई नहीं

### Solution for Question 200

Ans Key: 1

**eng/eng** The Draft folder retains copies of messages that you have started but are not yet ready to send.

**eng hin** The Draft folder retains copies of messages that you have started but are not yet ready to send.