

ST-2075 RRB PO (MAINS) 2020

Passage for Question 1, 2, 3, 4, 5 (ST-2075 RRB CLERK MAINS (1-5) 2020)

eng/eng Passage

In the following questions, the symbols ∞ , β , π , Ω and μ are used with the following meaning as illustrated below.

$H \infty S$ means H is not greater than S.

$H \beta S$ means H is neither smaller nor equal to S.

$H \pi S$ means H is not smaller than S.

$H \Omega S$ means H is neither greater nor equal to S.

$H \mu S$ means H is equal to S.

Now in each of the following questions assuming the given statements to be true, find which of the two conclusions I, and II given below them is/are definitely true and give your answer accordingly.

निम्न प्रश्नों में प्रतीकों ∞ , β , π , Ω और μ का प्रयोग निम्न अर्थों में किया गया है।

$H \infty S$ का अर्थ H, S से बड़ा नहीं है।

$H \beta S$ का अर्थ H, S से छोटा या बराबर नहीं है।

$H \pi S$ का अर्थ H, S से छोटा नहीं है।

$H \Omega S$ का अर्थ H न तो S से बड़ा है और न ही S के बराबर है।

$H \mu S$ का अर्थ H, S के बराबर है।

अब निम्नलिखित प्रश्नों में दिये गये प्रत्येक कथनों को सत्य मानते हुये, ज्ञात कीजिए कि नीचे दिये गये दो निष्कर्षों I और II में कौन-सा निश्चित रूप से सत्य है/हैं और उसी प्रकार से अपना उत्तर दें-

eng hin Passage

In the following questions, the symbols ∞ , β , π , Ω and μ are used with the following meaning as illustrated below.

$H \infty S$ means H is not greater than S.

$H \beta S$ means H is neither smaller nor equal to S.

$H \pi S$ means H is not smaller than S.

$H \Omega S$ means H is neither greater nor equal to S.

$H \mu S$ means H is equal to S.

Now in each of the following questions assuming the given statements to be true, find which of the two conclusions I, and II given below them is/are definitely true and give your answer accordingly.

निम्न प्रश्नों में प्रतीकों ∞ , β , π , Ω और μ का प्रयोग निम्न अर्थों में किया गया है।

$H \infty S$ का अर्थ H, S से बड़ा नहीं है।

$H \beta S$ का अर्थ H, S से छोटा या बराबर नहीं है।

$H \pi S$ का अर्थ H, S से छोटा नहीं है।

$H \Omega S$ का अर्थ H न तो S से बड़ा है और न ही S के बराबर है।

$H \mu S$ का अर्थ H, S के बराबर है।

अब निम्नलिखित प्रश्नों में दिये गये प्रत्येक कथनों को सत्य मानते हुये, ज्ञात कीजिए कि नीचे दिये गये दो निष्कर्षों I और II में कौन-सा निश्चित रूप से सत्य है/हैं और उसी प्रकार से अपना उत्तर दें-

Q-1 Statements: $K \pi H$, $H \Omega I$, $K \infty N$

eng/eng

Conclusion: I. $N \pi H$ II. $K \beta I$

कथन: $K \pi H$, $H \Omega I$, $K \infty N$

निष्कर्ष: I. $N \pi H$ II. $K \beta I$

01. If only conclusion I is true./ यदि केवल निष्कर्ष I सत्य है।

02. If only conclusion II is true. / यदि केवल निष्कर्ष II सत्य है।

03. If either conclusion I or II is true. / यदि या तो निष्कर्ष I या II सत्य है।

04. If neither conclusion I nor II is true. / यदि न तो निष्कर्ष I और न ही II सत्य है।

05. If both conclusions I and II are true. / यदि निष्कर्ष I और II दोनों सत्य हैं।

Q-1 Statements: $K \pi H$, $H \Omega I$, $K \infty N$

eng hin

Conclusion: I. $N \pi H$ II. $K \beta I$

कथन: $K \pi H$, $H \Omega I$, $K \infty N$

निष्कर्ष: I. $N \pi H$ II. $K \beta I$

01. If only conclusion I is true./ यदि केवल

02. If only conclusion II is true. / यदि केवल निष्कर्ष II सत्य है।

निष्कर्ष I सत्य है।

03. If either conclusion I or II is true. / यदि या तो निष्कर्ष I या II सत्य है।

05. If both conclusions I and II are true. / यदि निष्कर्ष I और II दोनों सत्य हैं।

04. If neither conclusion I nor II is true. / यदि न तो निष्कर्ष I और न ही II सत्य है।

Solution for Question 1

Ans Key: 1

eng/eng $N \geq K \geq H < I$
I. $N \geq H$ (True सत्य)
II. $K > I$ (False असत्य)

eng hin $N \geq K \geq H < I$
I. $N \geq H$ (True सत्य)
II. $K > I$ (False असत्य)

Q-2 Statements: $T \mu S, R \beta P, R \mu S, P \pi Q$
eng/eng Conclusion: I. $S \beta Q$ II. $P \Omega T$
कथन: $T \mu S, R \beta P, R \mu S, P \pi Q$
निष्कर्ष: I. $S \beta Q$ II. $P \Omega T$

01. If only conclusion I is true. / यदि केवल निष्कर्ष I सत्य है।

02. If only conclusion II is true. / यदि केवल निष्कर्ष II सत्य है।

03. If either conclusion I or II is true. / यदि या तो निष्कर्ष I या II सत्य है।

04. If neither conclusion I nor II is true. / यदि न तो निष्कर्ष I और न ही II सत्य है।

05. If both conclusions I and II are true. / यदि निष्कर्ष I और II दोनों सत्य हैं।

Q-2 Statements: $T \mu S, R \beta P, R \mu S, P \pi Q$
eng hin Conclusion: I. $S \beta Q$ II. $P \Omega T$
कथन: $T \mu S, R \beta P, R \mu S, P \pi Q$
निष्कर्ष: I. $S \beta Q$ II. $P \Omega T$

01. If only conclusion I is true. / यदि केवल निष्कर्ष I सत्य है।

02. If only conclusion II is true. / यदि केवल निष्कर्ष II सत्य है।

03. If either conclusion I or II is true. / यदि या तो निष्कर्ष I या II सत्य है।

04. If neither conclusion I nor II is true. / यदि न तो निष्कर्ष I और न ही II सत्य है।

05. If both conclusions I and II are true. / यदि निष्कर्ष I और II दोनों सत्य हैं।

Solution for Question 2

Ans Key: 5

eng/eng $T = S = R > P \geq Q$
Both the conclusions are true/ दोनों निष्कर्ष सत्य हैं।

eng hin $T = S = R > P \geq Q$
Both the conclusions are true/ दोनों निष्कर्ष सत्य हैं।

Q-3 Statements: $N \infty E, L \pi W, E \Omega W$
eng/eng Conclusion: I. $L \beta N$ II. $E \Omega L$
कथन: $N \infty E, L \pi W, E \Omega W$
निष्कर्ष: I. $L \beta N$ II. $E \Omega L$

01. If only conclusion I is true. / यदि केवल निष्कर्ष I सत्य है।

02. If only conclusion II is true. / यदि केवल निष्कर्ष II सत्य है।

03. If either conclusion I or II is true. / यदि या तो निष्कर्ष I या II सत्य है।

04. If neither conclusion I nor II is true. / यदि न तो निष्कर्ष I और न ही II सत्य है।

05. If both conclusions I and II are true. / यदि निष्कर्ष I और II दोनों सत्य हैं।

Q-3 Statements: $N \infty E, L \pi W, E \Omega W$

eng hin

Conclusion: I. $L \beta N$ II. $E \Omega L$

कथन: $N \in E, L \pi W, E \Omega W$

निष्कर्ष: I. $L \beta N$ II. $E \Omega L$

01. If only conclusion I is true./ यदि केवल निष्कर्ष I सत्य है।

02. If only conclusion II is true. / यदि केवल निष्कर्ष II सत्य है।

03. If either conclusion I or II is true. / यदि या तो निष्कर्ष I या II सत्य है।

04. If neither conclusion I nor II is true. / यदि न तो निष्कर्ष I और न ही II सत्य है।

05. If both conclusions I and II are true. / यदि निष्कर्ष I और II दोनों सत्य हैं।

Solution for Question 3

Ans Key: 5

eng/eng $N \leq E < W \leq L$

Both the conclusions are true/ दोनों निष्कर्ष सत्य हैं।

eng hin $N \leq E < W \leq L$

Both the conclusions are true/ दोनों निष्कर्ष सत्य हैं।

Q-4 Statements: $A \Omega B, B \in C, D \mu F, C \pi D$

eng/eng

Conclusion: I. $D \beta A$ II. $C \beta A$

कथन: $A \Omega B, B \in C, D \mu F, C \pi D$

निष्कर्ष: I. $D \beta A$ II. $C \beta A$

01. If only conclusion I is true./ यदि केवल निष्कर्ष I सत्य है।

02. If only conclusion II is true. / यदि केवल निष्कर्ष II सत्य है।

03. If either conclusion I or II is true. / यदि या तो निष्कर्ष I या II सत्य है।

04. If neither conclusion I nor II is true. / यदि न तो निष्कर्ष I और न ही II सत्य है।

05. If both conclusions I and II are true. / यदि निष्कर्ष I और II दोनों सत्य हैं।

Q-4 Statements: $A \Omega B, B \in C, D \mu F, C \pi D$

eng hin

Conclusion: I. $D \beta A$ II. $C \beta A$

कथन: $A \Omega B, B \in C, D \mu F, C \pi D$

निष्कर्ष: I. $D \beta A$ II. $C \beta A$

01. If only conclusion I is true./ यदि केवल निष्कर्ष I सत्य है।

02. If only conclusion II is true. / यदि केवल निष्कर्ष II सत्य है।

03. If either conclusion I or II is true. / यदि या तो निष्कर्ष I या II सत्य है।

04. If neither conclusion I nor II is true. / यदि न तो निष्कर्ष I और न ही II सत्य है।

05. If both conclusions I and II are true. / यदि निष्कर्ष I और II दोनों सत्य हैं।

Solution for Question 4

Ans Key: 2

eng/eng $A < B \leq C \geq D = F$

Only conclusion II is true/ केवल निष्कर्ष II सत्य है।

eng hin $A < B \leq C \geq D = F$

Only conclusion II is true/ केवल निष्कर्ष II सत्य है।

Q-5 Statements: $Z \mu P, P \in J, J \pi K, K \Omega W$

eng/eng

Conclusion: I. $Z \pi K$ II. $W \Omega P$

कथन: $Z \mu P, P \in J, J \pi K, K \Omega W$

निष्कर्ष: I. $Z \pi K$ II. $W \Omega P$

01. If only conclusion I is true./ यदि केवल निष्कर्ष I सत्य है।
03. If either conclusion I or II is true. / यदि या तो निष्कर्ष I या II सत्य है।
05. If both conclusions I and II are true. / यदि निष्कर्ष I और II दोनों सत्य हैं।

02. If only conclusion II is true. / यदि केवल निष्कर्ष II सत्य है।

04. If neither conclusion I nor II is true. / यदि न तो निष्कर्ष I और न ही II सत्य है।

Q-5
eng hin

Statements: $Z \mu P, P \infty J, J \pi K, K \Omega W$

Conclusion: I. $Z \pi K$ II. $W \Omega P$

कथन: $Z \mu P, P \infty J, J \pi K, K \Omega W$

निष्कर्ष: I. $Z \pi K$ II. $W \Omega P$

01. If only conclusion I is true./ यदि केवल निष्कर्ष I सत्य है।

02. If only conclusion II is true. / यदि केवल निष्कर्ष II सत्य है।

03. If either conclusion I or II is true. / यदि या तो निष्कर्ष I या II सत्य है।

04. If neither conclusion I nor II is true. / यदि न तो निष्कर्ष I और न ही II सत्य है।

05. If both conclusions I and II are true. / यदि निष्कर्ष I और II दोनों सत्य हैं।

Solution for Question 5

Ans Key: 4

eng/eng $Z = P \leq J \geq K < W$

Neither conclusion I nor II is true.

न तो निष्कर्ष I और न ही II सत्य है।

eng hin $Z = P \leq J \geq K < W$

Neither conclusion I nor II is true.

न तो निष्कर्ष I और न ही II सत्य है।

Passage for Question 6, 7, 8, 9, 10 (ST-2075 RRB CLERK MAINS (6-10) 2020)

eng/eng Passage

Study the following information carefully and answer the question given below.

There are eight items placed one above another and items are viz. Apple, Banana, Cashew, Raisin, Peach, Pear, Guava and Apricot. All the items are arranged from top to bottom. There are four items between Cashew and Apricot. There are two items between Apricot and Apple. There are three items between Apple and Pear. There are two items between Pear and Banana. There is only one item between Banana and Raisin. The items Raisin is not placed immediately above or immediately below the Pear. Two items placed between Peach and Guava. The items Peach is placed one of the places above items Apricot but not on the top.

निम्नलिखित जानकारी का ध्यानपूर्वक अध्ययन करें और नीचे दिए गए प्रश्न का उत्तर दें।

आठ आइटम एक दूसरे के ऊपर रखे गए हैं और आइटम अर्थात - सेब, केला, काजू, किशमिश, आड़ू, नाशपाती, अमरूद और खुबानी हैं। सभी वस्तुओं को ऊपर से नीचे की ओर व्यवस्थित किया जाता है। काजू और खुबानी के बीच चार आइटम हैं। खुबानी और सेब के बीच दो आइटम हैं। सेब और नाशपाती के बीच तीन आइटम हैं। नाशपाती और केला के बीच दो आइटम हैं। केले और किशमिश के बीच केवल एक आइटम है। आइटम किशमिश को नाशपाती के ठीक ऊपर या तुरंत नीचे नहीं रखा जाता है। आड़ू और अमरूद के बीच दो आइटम रखे गए हैं। आइटम आड़ू को आइटम खुबानी के ऊपर किसी एक स्थान पर रखा गया है लेकिन शीर्ष पर नहीं।

eng hin Passage

Study the following information carefully and answer the question given below.

There are eight items placed one above another and items are viz. Apple, Banana, Cashew, Raisin, Peach, Pear, Guava and Apricot. All the items are arranged from top to bottom. There are four items between Cashew and Apricot. There are two items between Apricot and Apple. There are three items between Apple and Pear. There are two items between Pear and Banana. There is only one item between Banana and Raisin. The items Raisin is not placed immediately above or immediately below the Pear. Two items placed between Peach and Guava. The items Peach is placed one of the places above items Apricot but not on the top.

निम्नलिखित जानकारी का ध्यानपूर्वक अध्ययन करें और नीचे दिए गए प्रश्न का उत्तर दें।

आठ आइटम एक दूसरे के ऊपर रखे गए हैं और आइटम अर्थात - सेब, केला, काजू, किशमिश, आड़ू, नाशपाती, अमरूद और खुबानी हैं। सभी वस्तुओं को ऊपर से नीचे की ओर व्यवस्थित किया जाता है। काजू और खुबानी के बीच चार आइटम हैं। खुबानी और सेब के बीच दो आइटम हैं। सेब और नाशपाती के बीच तीन आइटम हैं। नाशपाती और केला के बीच दो आइटम हैं। केले और किशमिश के बीच केवल एक आइटम है। आइटम किशमिश को नाशपाती के ठीक ऊपर या तुरंत नीचे नहीं रखा जाता है। आड़ू और अमरूद के बीच दो आइटम रखे गए हैं। आइटम आड़ू को आइटम खुबानी के ऊपर किसी एक स्थान पर रखा गया है लेकिन शीर्ष पर नहीं।

Q-6 How many items are placed above Apricot?
eng/eng खुबानी के ऊपर कितनी आइटम रखे जाते हैं?

01. None / कोई नहीं

03. Two / दो

05. More than three / तीन से अधिक
02. One / एक

04. Three / तीन

Q-6 How many items are placed above Apricot?
eng hin खुबानी के ऊपर कितनी आइटम रखे जाते हैं?

01. None / कोई नहीं

03. Two / दो

05. More than three / तीन से अधिक
02. One / एक

04. Three / तीन

Solution for Question 6 Ans Key: 5

eng/eng

Cashew	काजू
Raisins	किशमिश
Apple	सेब
Banana	केला
Peach	आड़ू
Apricot	खुबानी
Pear	नाशपाती
Guava	अमरूद

eng hin

Cashew	काजू
Raisins	किशमिश
Apple	सेब
Banana	केला
Peach	आड़ू
Apricot	खुबानी
Pear	नाशपाती
Guava	अमरूद

Q-7 What is the position of Banana from top?
eng/eng ऊपर से केले की स्थिति क्या है?

01. 1

03. 3

05. 5
02. 2

04. 4

Q-7 What is the position of Banana from top?
eng hin ऊपर से केले की स्थिति क्या है?

01. 1

03. 3

05. 5
02. 2

04. 4

Solution for Question 7 Ans Key: 4

eng/eng

Cashew	काजू
Raisins	किशमिश
Apple	सेब
Banana	केला
Peach	आड़ू
Apricot	खुबानी

Pear	नाशपाती
Guava	अमरूद

eng hin

Cashew	काजू
Raisins	किशमिश
Apple	सेब
Banana	केला
Peach	आड़ू
Apricot	खुबानी
Pear	नाशपाती
Guava	अमरूद

Q-8 If items apple and apricot interchange their positions, then which item is immediately above apricot?
 eng/eng यदि आइटम सेब और खुबानी अपनी स्थिति को बदल देते हैं, तो कौन सी चीज खुबानी से तुरंत ऊपर है?

01. Raisins / किशमिश
02. Peach / आड़ू
03. Apple / सेब
04. Either 1 or 2 / या तो 1 या 2
05. None of these / इनमें से कोई नहीं

Q-8 If items apple and apricot interchange their positions, then which item is immediately above apricot?
 eng/hin यदि आइटम सेब और खुबानी अपनी स्थिति को बदल देते हैं, तो कौन सी चीज खुबानी से तुरंत ऊपर है?

01. Raisins / किशमिश
02. Peach / आड़ू
03. Apple / सेब
04. Either 1 or 2 / या तो 1 या 2
05. None of these / इनमें से कोई नहीं

Solution for Question 8

Ans Key: 1

eng/eng

Cashew	काजू
Raisins	किशमिश
Apple	सेब
Banana	केला
Peach	आड़ू
Apricot	खुबानी
Pear	नाशपाती
Guava	अमरूद

eng hin

Cashew	काजू
Raisins	किशमिश
Apple	सेब
Banana	केला
Peach	आड़ू
Apricot	खुबानी
Pear	नाशपाती
Guava	अमरूद

Q-9 Which item is placed immediately above Cashew?
 eng/eng काजू के ठीक ऊपर कौन सी वस्तु रखी है?

01. Raisin / किशमिश
02. Pear / नाशपाती
03. Peach / आड़ू
04. None / कोई नहीं

Q-9
eng hin

05. None of these / इनमें से कोई नहीं
Which item is placed immediately above Cashew?
काजू के ठीक ऊपर कौन सी वस्तु रखी है?

01. Raisin / किशमिश
02. Pear / नाशपाती
03. Peach / आड़ू
04. None / कोई नहीं
05. None of these / इनमें से कोई नहीं

Solution for Question 9

Ans Key: 4

eng/eng

Cashew	काजू
Raisins	किशमिश
Apple	सेब
Banana	केला
Peach	आड़ू
Apricot	खुबानी
Pear	नाशपाती
Guava	अमरूद

eng hin

Cashew	काजू
Raisins	किशमिश
Apple	सेब
Banana	केला
Peach	आड़ू
Apricot	खुबानी
Pear	नाशपाती
Guava	अमरूद

Q-10
eng/eng

Which item is placed second from bottom?
किस वस्तु को नीचे से दूसरा स्थान दिया गया है?

01. Guava / अमरूद
02. Pear / नाशपाती
03. Peach / आड़ू
04. Apricot / खुबानी
05. Banana / केला

Q-10
eng hin

Which item is placed second from bottom?
किस वस्तु को नीचे से दूसरा स्थान दिया गया है?

01. Guava / अमरूद
02. Pear / नाशपाती
03. Peach / आड़ू
04. Apricot / खुबानी
05. Banana / केला

Solution for Question 10

Ans Key: 2

eng/eng

Cashew	काजू
Raisins	किशमिश
Apple	सेब
Banana	केला
Peach	आड़ू
Apricot	खुबानी
Pear	नाशपाती
Guava	अमरूद

eng hin

Cashew	काजू
Raisins	किशमिश

Apple	सेब
Banana	केला
Peach	आड़ू
Apricot	खुबानी
Pear	नाशपाती
Guava	अमरूद

Passage for Question 11, 12, 13, 14, 15 (ST-2075 RRB CLERK MAINS (11-15) 2020)

eng/eng Passage

Study the following information carefully and answer the question given below.

Point S is 10 km east of point R who is 25 km south of point Q. Point P is 8 km west of point Q. Point O is 15 km south of point P. Point Y is 10 km south of point Z. Point X is 12 km west of point Y and is 20 km south of point W. Point W is 6 km west of point V who is 5 km north of point U who is 12 km east of point T. Point S is 15 km south of point T.

निम्नलिखित जानकारी का ध्यानपूर्वक अध्ययन करें और नीचे दिए गए प्रश्न का उत्तर दें।

बिंदु S, बिंदु R से 10 किमी पूर्व में है जो बिंदु Q से 25 किमी दक्षिण में है। बिंदु P, बिंदु Q से 8 किमी पश्चिम में है। बिंदु O, बिंदु P से 15 किमी दक्षिण में है। बिंदु Y, बिंदु Z से 10 किमी दक्षिण में है। बिंदु X, बिंदु Y से 12 किमी पश्चिम में है और बिंदु W से 20 किमी दक्षिण में है। बिंदु W, बिंदु V से 6 किमी पश्चिम में है, जो बिंदु U से 5 किमी उत्तर में है, जो बिंदु T से 12 किमी पूर्व में स्थित है। बिंदु S, बिंदु T से 15 किमी दक्षिण में है।

eng hin Passage

Study the following information carefully and answer the question given below.

Point S is 10 km east of point R who is 25 km south of point Q. Point P is 8 km west of point Q. Point O is 15 km south of point P. Point Y is 10 km south of point Z. Point X is 12 km west of point Y and is 20 km south of point W. Point W is 6 km west of point V who is 5 km north of point U who is 12 km east of point T. Point S is 15 km south of point T.

निम्नलिखित जानकारी का ध्यानपूर्वक अध्ययन करें और नीचे दिए गए प्रश्न का उत्तर दें।

बिंदु S, बिंदु R से 10 किमी पूर्व में है जो बिंदु Q से 25 किमी दक्षिण में है। बिंदु P, बिंदु Q से 8 किमी पश्चिम में है। बिंदु O, बिंदु P से 15 किमी दक्षिण में है। बिंदु Y, बिंदु Z से 10 किमी दक्षिण में है। बिंदु X, बिंदु Y से 12 किमी पश्चिम में है और बिंदु W से 20 किमी दक्षिण में है। बिंदु W, बिंदु V से 6 किमी पश्चिम में है, जो बिंदु U से 5 किमी उत्तर में है, जो बिंदु T से 12 किमी पूर्व में स्थित है। बिंदु S, बिंदु T से 15 किमी दक्षिण में है।

Q-11 What is the direction of point V with respect to point P?

eng/eng बिंदु P के संबंध में बिंदु V की दिशा क्या है?

01. North-west / उत्तर-पश्चिम
02. South-east / दक्षिण-पूर्व
03. South-west / दक्षिण-पश्चिम
04. South / दक्षिण
05. North-east / पूर्वोत्तर

Q-11 What is the direction of point V with respect to point P?

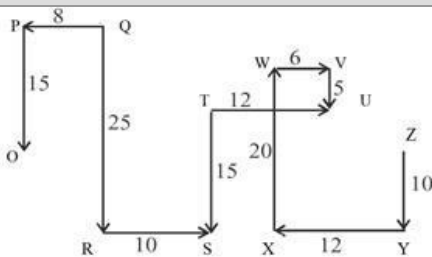
eng hin बिंदु P के संबंध में बिंदु V की दिशा क्या है?

01. North-west / उत्तर-पश्चिम
02. South-east / दक्षिण-पूर्व
03. South-west / दक्षिण-पश्चिम
04. South / दक्षिण
05. North-east / पूर्वोत्तर

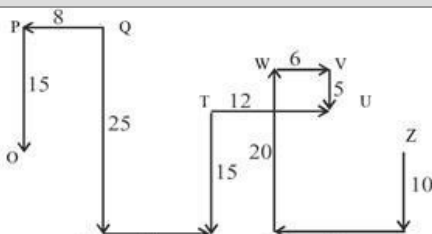
Solution for Question 11

Ans Key: 2

eng/eng



eng hin



Q-12 How far and in which direction is point Z with respect to point O?
eng/eng बिंदु O के संबंध में बिंदु Z कितनी दूर और किस दिशा में है?

01. 29 km, West / 29 किमी, पश्चिम 02. 25 km, North-west / 25 किमी, उत्तर-पश्चिम
 03. 36 km, East / 36 किमी, पूर्व 04. 35 km, North-east / 35 किमी, उत्तर-पूर्व
 05. 27 km, East / 27 किमी, पूर्व

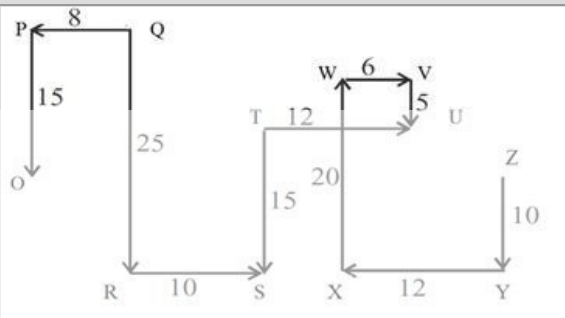
Q-12 How far and in which direction is point Z with respect to point O?
eng hin बिंदु O के संबंध में बिंदु Z कितनी दूर और किस दिशा में है?

01. 29 km, West / 29 किमी, पश्चिम 02. 25 km, North-west / 25 किमी, उत्तर-पश्चिम
 03. 36 km, East / 36 किमी, पूर्व 04. 35 km, North-east / 35 किमी, उत्तर-पूर्व
 05. 27 km, East / 27 किमी, पूर्व

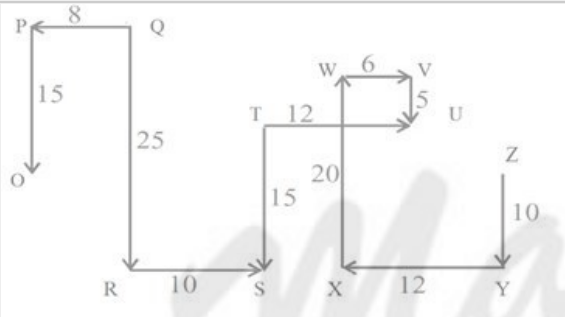
Solution for Question 12

Ans Key: 3

eng/eng



eng hin



Q-13 If a man walks 16 km west from point X then turn right and walks 15 km, How far is point U from that man?
eng/eng यदि कोई व्यक्ति बिंदु X से 16 किमी पश्चिम की ओर चलता है फिर दाएं मुड़ता है और 15 किमी चलता है, उस आदमी से बिंदु U कितना दूर है?

01. 30 km / किमी 02. 27 km / किमी
 03. 35 km / किमी 04. 22 km / किमी
 05. 33 km / किमी

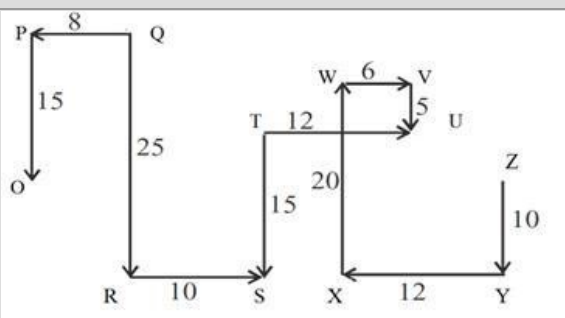
Q-13 If a man walks 16 km west from point X then turn right and walks 15 km, How far is point U from that man?
eng hin यदि कोई व्यक्ति बिंदु X से 16 किमी पश्चिम की ओर चलता है फिर दाएं मुड़ता है और 15 किमी चलता है, उस आदमी से बिंदु U कितना दूर है?

01. 30 km / किमी 02. 27 km / किमी
 03. 35 km / किमी 04. 22 km / किमी
 05. 33 km / किमी

Solution for Question 13

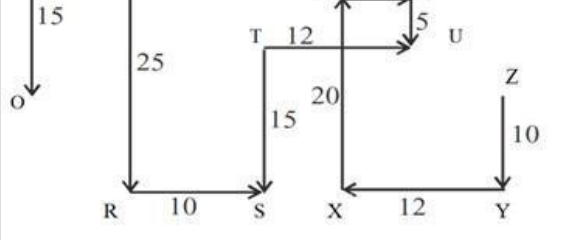
Ans Key: 4

eng/eng



eng hin





Q-14 In which direction is Point W with respect to Point S?
 बिंदु S के संबंध में बिंदु W किस दिशा में स्थित है?

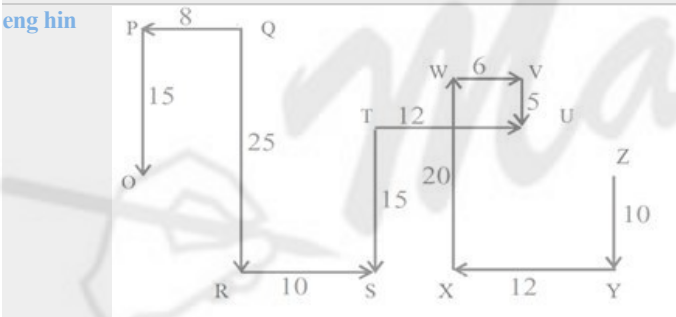
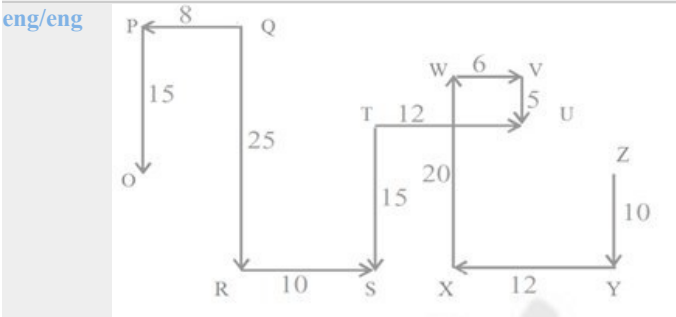
01. North-East / उत्तर- पूर्व 02. North-West / उत्तर -पश्चिम
 03. South-East / दक्षिण -पूर्व 04. South-West / दक्षिण -पश्चिम
 05. None of these / इनमें से कोई नहीं

Q-14 In which direction is Point W with respect to Point S?
 बिंदु S के संबंध में बिंदु W किस दिशा में स्थित है?

01. North-East / उत्तर- पूर्व 02. North-West / उत्तर -पश्चिम
 03. South-East / दक्षिण -पूर्व 04. South-West / दक्षिण -पश्चिम
 05. None of these / इनमें से कोई नहीं

Solution for Question 14

Ans Key: 1



Q-15 What is the distance between points R and T in km? (approx.)

किमी में बिंदु R और T के बीच की दूरी क्या है? (लगभग)

01. 17 02. 18
 03. 21 04. 22
 05. 9

Q-15 What is the distance between points R and T in km? (approx.)

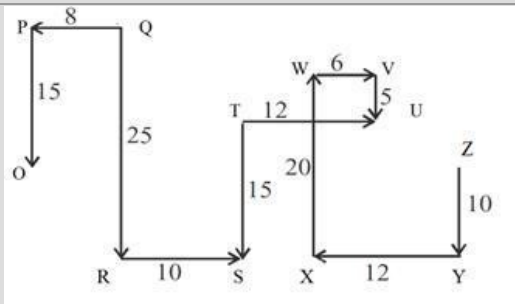
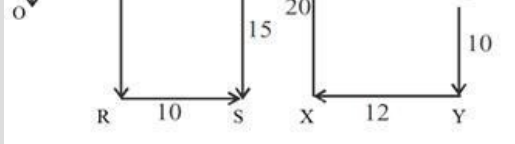
किमी में बिंदु R और T के बीच की दूरी क्या है? (लगभग)

01. 17 02. 18
 03. 21 04. 22
 05. 9

Solution for Question 15

Ans Key: 2





Passage for Question 16, 17, 18, 19, 20 (ST-2075 RRB CLERK MAINS (16-20) 2020)

eng/eng Passage

Study the following information carefully and answer the question given below.

Letter	Y	F	I	P	S	E	H	R	C	U	M	W	X	A	J	G	O
Code	7	@	5	4	1	#	6	\$	%	9	&	3	2	?	0	8	!

Condition 1:

If leftmost and rightmost elements are vowels then their codes are to be interchanged.

Condition 2:

If there are more than 2 two vowels in the given word then the first three letter codes should be written in reverse order.

Condition 3:

If the second element from the left end and the second element from the right end are consonants, the codes for both are to be interchanged.

निम्नलिखित जानकारी का ध्यानपूर्वक अध्ययन करें और नीचे दिए गए प्रश्न का उत्तर दें।

अक्षर	Y	F	I	P	S	E	H	R	C	U	M	W	X	A	J	G	O
कोड	7	@	5	4	1	#	6	\$	%	9	&	3	2	?	0	8	!

शर्त 1:

यदि बाएँ और दाएँ छोर के तत्व स्वर हैं तो उनके कोड आपस में बदल दिये जाने हैं।

शर्त 2:

यदि दिए गए शब्द में 2 दो से अधिक स्वर हैं तो पहले तीन अक्षरों के कोड उलटे क्रम में लिखे जाने चाहिए।

शर्त 3:

यदि बाएँ छोर से दूसरा और दाएँ छोर से दूसरा तत्व व्यंजन हैं तो दोनों के लिए कोड आपस में बदल दिये जाने हैं।

eng hin Passage

Study the following information carefully and answer the question given below.

Letter	Y	F	I	P	S	E	H	R	C	U	M	W	X	A	J	G	O
Code	7	@	5	4	1	#	6	\$	%	9	&	3	2	?	0	8	!

Condition 1:

If leftmost and rightmost elements are vowels then their codes are to be interchanged.

Condition 2:

If there are more than 2 two vowels in the given word then the first three letter codes should be written in reverse order.

Condition 3:

If the second element from the left end and the second element from the right end are consonants, the codes for both are to be interchanged.

निम्नलिखित जानकारी का ध्यानपूर्वक अध्ययन करें और नीचे दिए गए प्रश्न का उत्तर दें।

अक्षर	Y	F	I	P	S	E	H	R	C	U	M	W	X	A	J	G	O
कोड	7	@	5	4	1	#	6	\$	%	9	&	3	2	?	0	8	!

शर्त 1:

यदि बाएँ और दाएँ छोर के तत्व स्वर हैं तो उनके कोड आपस में बदल दिये जाने हैं।

शर्त 2:

यदि दिए गए शब्द में 2 दो से अधिक स्वर हैं तो पहले तीन अक्षरों के कोड उलटे क्रम में लिखे जाने चाहिए।

शर्त 3:

यदि बाएँ छोर से दूसरा और दाएँ छोर से दूसरा तत्व व्यंजन हैं तो दोनों के लिए कोड आपस में बदल दिये जाने हैं।

Q-16 What is the code for "IYESM"?

eng/eng "IYESM" के लिए कोड क्या है?

01. 57#1& 02. 57#&1
03. 51#7& 04. 15#7&
05. None of these / इनमें से कोई नहीं
What is the code for “IYESM”?
"IYESM" के लिए कोड क्या है?

01. 57#1& 02. 57#&1
03. 51#7& 04. 15#7&
05. None of these / इनमें से कोई नहीं

Solution for Question 16 Ans Key: 3

Condition 3 applies./ शर्त 3 लागू होती है।

Condition 3 applies./ शर्त 3 लागू होती है।

What is the code for “EHOIX”?
"EHOIX" के लिए कोड क्या है?

01. !6#52 02. !6#25
03. #6!52 04. #6!25
05. None of these / इनमें से कोई नहीं

What is the code for “EHOIX”?
"EHOIX" के लिए कोड क्या है?

01. !6#52 02. !6#25
03. #6!52 04. #6!25
05. None of these / इनमें से कोई नहीं

Solution for Question 17 Ans Key: 1

Condition 2 applies./ शर्त 2 लागू होती है।

Condition 2 applies./ शर्त 2 लागू होती है।

What is the code for “OHCU”?
"OHCU" के लिए कोड क्या है?

01. 9%!6 02. 9%6!
03. %96! 04. 96%!
05. None of these / इनमें से कोई नहीं

What is the code for “OHCU”?
"OHCU" के लिए कोड क्या है?

01. 9%!6 02. 9%6!
03. %96! 04. 96%!
05. None of these / इनमें से कोई नहीं

Solution for Question 18 Ans Key: 4

Conditions 1 and 3 apply./शर्तें 1 और 3 लागू होती हैं।

Conditions 1 and 3 apply./शर्तें 1 और 3 लागू होती हैं।

What is the code for “OEWIX”?
"OEWIX" के लिए कोड क्या है?

01. 3#!25 02. 3!#25
03. 3!#52 04. 3#!52
05. None of These / इनमें से कोई नहीं

What is the code for “OEWIX”?
"OEWIX" के लिए कोड क्या है?

01. 3#!25 02. 3!#25

03. 31#52

04. 3#152

05. None of These / इनमें से कोई नहीं

Solution for Question 19

Ans Key: 4

eng/eng Condition 2 applies./ शर्त 2 लागू होती है।**eng hin** Condition 2 applies./ शर्त 2 लागू होती है।**Q-20** What is the code for "IGYREP"?**eng/eng** "IGYREP" के लिए कोड क्या है?

01. 587\$#4

02. 587\$4#

03. 578\$#4

04. 587#\$4

05. None of these / इनमें से कोई नहीं

Q-20 What is the code for "IGYREP"?**eng hin** "IGYREP" के लिए कोड क्या है?

01. 587\$#4

02. 587\$4#

03. 578\$#4

04. 587#\$4

05. None of these / इनमें से कोई नहीं

Solution for Question 20

Ans Key: 1

eng/eng None of the conditions is satisfied and hence the codes of the elements are written in the same form as given.
कोई भी शर्त संतुष्ट नहीं है और इसलिए तत्वों के कोड उसी रूप में लिखे जो दिये गये हैं।**eng hin** None of the conditions is satisfied and hence the codes of the elements are written in the same form as given.
कोई भी शर्त संतुष्ट नहीं है और इसलिए तत्वों के कोड उसी रूप में लिखे जो दिये गये हैं।**Passage for Question 21, 22, 23, 24, 25 (ST-2075 RRB CLERK MAINS (21-25)2020)****eng/eng** Passage**Study the following information carefully and answer the question given below.**

A, B, C, D, E and F are six friends. They have their accounts with different banks. Two of those banks are ICICI and SBI. They live in five sectors of Visakhapatnam, viz V, W, VII, VIII and IX. Two of them live in the same sector.

A has an account with Canara Bank and he lives in Sector VII. D has no account with South Indian Bank and he lives in sector IX. B has account neither with South Indian Bank nor with ICICI and he does not live in sector V or VIII. The person who has an account with UCO Bank lives in sector VIII. E does not live in sector VI or VIII. F has an account with Bank of India and he lives in the sector in which B lives.

निम्नलिखित जानकारी का ध्यानपूर्वक अध्ययन करें और नीचे दिए गए प्रश्न का उत्तर दें।

A, B, C, D, E और F छह मित्र हैं। विभिन्न बैंकों के साथ उनके खाते हैं। उन बैंकों में से दो आईसीआईसीआई और एसबीआई हैं। वे विशाखापत्तनम के पांच सेक्टरों V, W, VII, VIII और IX में रहते हैं। उनमें से दो एक ही सेक्टर में रहते हैं।

A का कैनरा बैंक में खाता है और वह सेक्टर VII में रहता है। D का दक्षिण भारतीय बैंक में कोई खाता नहीं है और वह सेक्टर IX में रहता है। B का न तो दक्षिण भारतीय बैंक के साथ और न ही ICICI के साथ खाता है और वह सेक्टर V या VIII में नहीं रहता है। जिस व्यक्ति का यूको बैंक में खाता है, वह सेक्टर VIII में रहता है। E, सेक्टर VI या VIII में नहीं रहता है। F का बैंक ऑफ इंडिया में खाता है और वह उस सेक्टर में रहता है जिसमें B रहता है।

eng hin Passage**Study the following information carefully and answer the question given below.**

A, B, C, D, E and F are six friends. They have their accounts with different banks. Two of those banks are ICICI and SBI. They live in five sectors of Visakhapatnam, viz V, W, VII, VIII and IX. Two of them live in the same sector.

A has an account with Canara Bank and he lives in Sector VII. D has no account with South Indian Bank and he lives in sector IX. B has account neither with South Indian Bank nor with ICICI and he does not live in sector V or VIII. The person who has an account with UCO Bank lives in sector VIII. E does not live in sector VI or VIII. F has an account with Bank of India and he lives in the sector in which B lives.

निम्नलिखित जानकारी का ध्यानपूर्वक अध्ययन करें और नीचे दिए गए प्रश्न का उत्तर दें।

A, B, C, D, E और F छह मित्र हैं। विभिन्न बैंकों के साथ उनके खाते हैं। उन बैंकों में से दो आईसीआईसीआई और एसबीआई हैं। वे विशाखापत्तनम के पांच सेक्टरों V, W, VII, VIII और IX में रहते हैं। उनमें से दो एक ही सेक्टर में रहते हैं।

A का कैनरा बैंक में खाता है और वह सेक्टर VII में रहता है। D का दक्षिण भारतीय बैंक में कोई खाता नहीं है और वह सेक्टर IX में रहता है। B का न तो दक्षिण भारतीय बैंक के साथ और न ही ICICI के साथ खाता है और वह सेक्टर V या VIII में नहीं रहता है। जिस व्यक्ति का यूको बैंक में खाता है, वह सेक्टर VIII में रहता है। E, सेक्टर VI या VIII में नहीं रहता है। F का बैंक ऑफ इंडिया में खाता है और वह उस सेक्टर में रहता है जिसमें B रहता है।

Q-21 In which of the following sectors do two friends live?**eng/eng** निम्नलिखित में से किस सेक्टर में दो दोस्त रहते हैं?

01. VIII / आठवीं

02. VII / सातवीं

03. VI / छठी

04. V / पांचवीं

05. None of these / इनमें से कोई नहीं

In which of the following sectors do two friends live?

निम्नलिखित में से किस सेक्टर में दो दोस्त रहते हैं?

01. VIII / આઠવીં

02. VII / सातवीं

03. VI / छठी

04. V / पांचवी

05. None of these / इनमें से कोई नहीं

Ans Key: 3

Who among the following has an account with UCO Bank?

निम्नलिखित में से किसका यूको बैंक में खाता है?

01. B

02. F

03. D

04. C

05. None of these / इनमें से कोई नहीं

Who among the following has an account with UCO Bank?

निम्नलिखित में से किसका यूको बैंक में खाता है?

01. B

02. F

03. D

04. C

05. None of these / इनमें से कोई नहीं

Ans Key: 4

Which of the following banks does B have an account with?

निम्नलिखित में से किस बैंक में B का खाता है?

01. ICICI / आईसीआईसीआई

02. SBI / एसबीआई

03. UCO Bank / यूको बैंक

04. Canara Bank / केनरा बैंक

05. None of these / इनमें से कोई नहीं

Which of the following banks does B have an account with?

निम्नलिखित में से किस बैंक में B का खाता है?

01. ICICI / आईसीआईसीआई

02. SBI / एसबीआई

03. UCO Bank / यूको बैंक

04. Canara Bank / केनरा बैंक

05. None of these / इनमें से कोई नहीं

Ans Key: 2

for Question 23

Person	Bank	Sector
A	Canara Bank	VII
B	SBI	VI
C	UCO	VIII
D	ICICI	IX
E	South Indian Bank	V
F	Bank of India	VI

व्यक्ति	बैंक	क्षेत्र
A	केनरा बैंक	VII
B	स्टेट बैंक ऑफ इंडिया	VI
C	यूको	VIII
D	आईसीआईसीआई	IX
E	साउथ इंडियन बैंक	V
F	बैंक ऑफ इंडिया	VI

Person	Bank	Sector
A	Canara Bank	VII
B	SBI	VI
C	UCO	VIII

व्यक्ति	बैंक	क्षेत्र
A	केनरा बैंक	VII
B	स्टेट बैंक ऑफ इंडिया	VI
C	यूको	VIII
D	आईसीआईसीआई	IX
E	साउथ इंडियन बैंक	V
F	बैंक ऑफ इंडिया	VI

01. VIII / आठवीं
02. VI / छठी
03. VII / सातवीं
04. IX / नौवीं
05. None of these / इनमें से कोई नहीं

01. VIII / आठवीं
02. VI / छठी
03. VII / सातवीं
04. IX / नौवीं
05. None of these / इनमें से कोई नहीं

Ans Key: 1

व्यक्ति	बैंक	क्षेत्र
A	केनरा बैंक	VII
B	स्टेट बैंक ऑफ इंडिया	VI
C	यूको	VIII
D	आईसीआईसीआई	IX
E	साउथ इंडियन बैंक	V
F	बैंक ऑफ इंडिया	VI

व्यक्ति	बैंक	क्षेत्र
A	केनरा बैंक	VII
B	स्टेट बैंक ऑफ इंडिया	VI

C	यूको	VIII
D	आईसीआईसीआई	IX
E	साउथ इंडियन बैंक	V
F	बैंक ऑफ इंडिया	VI

Q-25 Which of the following combinations is not true?
eng/eng निम्नलिखित में से कौन सा संयोजन सही नहीं है?

01. D—ICICI / D- आईसीआईसीआई 02. F — SBI / F - एसबीआई
03. C— UCO / C- यूको 04. E — South Indian Bank / E - दक्षिण भारतीय बैंक
05. B — SBI / B- एसबीआई

Q-25 Which of the following combinations is not true?
eng hin निम्नलिखित में से कौन सा संयोजन सही नहीं है?

01. D—ICICI / D- आईसीआईसीआई 02. F — SBI / F - एसबीआई
03. C— UCO / C- यूको 04. E — South Indian Bank / E - दक्षिण भारतीय बैंक
05. B — SBI / B- एसबीआई

Solution for Question 25

Ans Key: 2

eng/eng

Person	Bank	Sector
A	Canara Bank	VII
B	SBI	VI
C	UCO	VIII
D	ICICI	IX
E	South Indian Bank	V
F	Bank of India	VI

व्यक्ति	बैंक	क्षेत्र
A	केनरा बैंक	VII
B	स्टेट बैंक ऑफ इंडिया	VI
C	यूको	VIII
D	आईसीआईसीआई	IX
E	साउथ इंडियन बैंक	V
F	बैंक ऑफ इंडिया	VI

eng hin

Person	Bank	Sector
A	Canara Bank	VII
B	SBI	VI
C	UCO	VIII
D	ICICI	IX
E	South Indian Bank	V
F	Bank of India	VI

व्यक्ति	बैंक	क्षेत्र
A	केनरा बैंक	VII
B	स्टेट बैंक ऑफ इंडिया	VI
C	यूको	VIII
D	आईसीआईसीआई	IX
E	साउथ इंडियन बैंक	V
F	बैंक ऑफ इंडिया	VI

Passage for Question 26, 27, 28, 29, 30 (ST-2075 RRB CLERK MAINS (26-30) 2020)

eng/eng Passage

A word and number arrangement machine when given an input line of words and numbers rearranges them following a particular rule in each step. The following is an illustration of the input and its rearrangement.

Input: 36 for 49 with 72 53 true just

Step I: 752 36 for 49 with 53 true just
 Step II: 752 36 49 with 53 true just for
 Step III: 752 523 36 49 with true just for
 Step IV: 752 523 36 49 with true for just
 Step V: 752 523 459 36 with true for just
 Step VI: 752 523 459 36 with for just true
 Step VII: 752 523 459 336 with for just true
 Step VIII: 752 523 459 336 for just true with
 Step VIII is the last step of the rearrangement of the above input. As per the rules followed in the above steps find out in each of the questions the appropriate steps for the given input.

Input: 21 date 42 name 73 queen 37 easy 54 jar

शब्दों और संख्याओं की एक इनपुट लाइन दिए जाने पर एक शब्द और संख्या व्यवस्था मशीन प्रत्येक चरण में एक विशेष नियम का पालन करते हुए उन्हें पुनर्व्यवस्थित करती है। इनपुट और उसके पुनर्व्यवस्था का एक उदाहरण निम्नलिखित है।

इनपुट: 36 for 49 with 72 53 true just

चरण I: 752 36 for 49 with 53 true just

चरण II: 752 36 49 with 53 true just for

चरण III: 752 523 36 49 with true just for

चरण IV: 752 523 36 49 with true for just

चरण V: 752 523 459 36 with true for just

चरण VI: 752 523 459 36 with for just true

चरण VII: 752 523 459 336 with for just true

चरण VIII: 752 523 459 336 for just true with

चरण VIII उपरोक्त इनपुट के पुनर्व्यवस्था का अंतिम चरण है। उपरोक्त चरणों में दिए गए नियमों के अनुसार प्रत्येक प्रश्न में दिए गए इनपुट के लिए उपयुक्त चरण ज्ञात करें।

इनपुट: 21 date 42 name 73 queen 37 easy 54 jar

eng hin Passage

A word and number arrangement machine when given an input line of words and numbers rearranges them following a particular rule in each step. The following is an illustration of the input and its rearrangement.

Input: 36 for 49 with 72 53 true just

Step I: 752 36 for 49 with 53 true just

Step II: 752 36 49 with 53 true just for

Step III: 752 523 36 49 with true just for

Step IV: 752 523 36 49 with true for just

Step V: 752 523 459 36 with true for just

Step VI: 752 523 459 36 with for just true

Step VII: 752 523 459 336 with for just true

Step VIII: 752 523 459 336 for just true with

Step VIII is the last step of the rearrangement of the above input. As per the rules followed in the above steps find out in each of the questions the appropriate steps for the given input.

Input: 21 date 42 name 73 queen 37 easy 54 jar

शब्दों और संख्याओं की एक इनपुट लाइन दिए जाने पर एक शब्द और संख्या व्यवस्था मशीन प्रत्येक चरण में एक विशेष नियम का पालन करते हुए उन्हें पुनर्व्यवस्थित करती है। इनपुट और उसके पुनर्व्यवस्था का एक उदाहरण निम्नलिखित है।

इनपुट: 36 for 49 with 72 53 true just

चरण I: 752 36 for 49 with 53 true just

चरण II: 752 36 49 with 53 true just for

चरण III: 752 523 36 49 with true just for

चरण IV: 752 523 36 49 with true for just

चरण V: 752 523 459 36 with true for just

चरण VI: 752 523 459 36 with for just true

चरण VII: 752 523 459 336 with for just true

चरण VIII: 752 523 459 336 for just true with

चरण VIII उपरोक्त इनपुट के पुनर्व्यवस्था का अंतिम चरण है। उपरोक्त चरणों में दिए गए नियमों के अनुसार प्रत्येक प्रश्न में दिए गए इनपुट के लिए उपयुक्त चरण ज्ञात करें।

इनपुट: 21 date 42 name 73 queen 37 easy 54 jar

Q-26 What is the position of 'name' in Step VIII?

eng/eng चरण VIII में 'name' की स्थिति क्या है?

01. Sixth from the left end / बाएं छोर से छठा
02. First from the right end / दाएं छोर से पहला
03. Fifth from the right end / दाएं छोर से पाँचवाँ
04. Seventh from the left end / बाएं छोर से सातवाँ
05. None of these / इनमें से कोई नहीं

Q-26 What is the position of 'name' in Step VIII?

eng hin चरण VIII में 'name' की स्थिति क्या है?

01. Sixth from the left end / बाएं छोर से छठा 02. First from the right end / दाएं छोर से पहला
 03. Fifth from the right end / दाएं छोर से पाँचवाँ 04. Seventh from the left end / बाएं छोर से सातवाँ
 05. None of these / इनमें से कोई नहीं

Solution for Question 26

Ans Key: 2

eng/eng In the rearrangement, the numbers are arranged in descending order from left to right in each alternate step with the addition of a new middle digit which is the difference between the digits of the given each number. Words are arranged in alphabetical order on the right end in each alternate step.

Input: 21 date 42 name 73 queen 37 easy 54 jar
 Step I: 743 21 date 42 name queen 37 easy 54 jar
 Step II: 743 21 42 name queen 37 easy 54 jar date
 Step III. 743 514 21 42 name queen 37 easy jar date
 Step IV. 743 514 21 42 name queen 37 jar date easy
 Step V. 743 514 422 21 name queen 37 jar date easy
 Step VI. 743 514 422 21 name queen 37 date easy jar
 Step VII. 743 514 422 347 21 name queen date easy jar
 Step VIII. 743 514 422 347 21 queen date easy jar name
 Step IX. 743 514 422 347 211 queen date easy jar name
 Step X. 743 514 422 347 211 date easy jar name queen

पुनर्व्यवस्था में, संख्याओं को प्रत्येक वैकल्पिक चरण में बाएं से दाएं क्रम में एक नए मध्य अंक को जोड़ने के साथ अवरोही क्रम में व्यवस्थित किया जाता है जो दिए गए प्रत्येक संख्या के अंकों के बीच का अंतर है। शब्दों को प्रत्येक वैकल्पिक चरण में दाएं छोर पर वर्णानुक्रम में व्यवस्थित किया जाता है।

इनपुट: 21 date 42 name 73 queen 37 easy 54 jar
 चरण I: 743 21 date 42 name queen 37 easy 54 jar
 चरण II: 743 21 42 name queen 37 easy 54 jar date
 चरण III. 743 514 21 42 name queen 37 easy jar date
 चरण IV. 743 514 21 42 name queen 37 jar date easy
 चरण V. 743 514 422 21 name queen 37 jar date easy
 चरण VI. 743 514 422 21 name queen 37 date easy jar
 चरण VII. 743 514 422 347 21 name queen date easy jar
 चरण VIII. 743 514 422 347 21 queen date easy jar name
 चरण IX. 743 514 422 347 211 queen date easy jar name
 चरण X. 743 514 422 347 211 date easy jar name queen

eng hin In the rearrangement, the numbers are arranged in descending order from left to right in each alternate step with the addition of a new middle digit which is the difference between the digits of the given each number. Words are arranged in alphabetical order on the right end in each alternate step.

Input: 21 date 42 name 73 queen 37 easy 54 jar
 Step I: 743 21 date 42 name queen 37 easy 54 jar
 Step II: 743 21 42 name queen 37 easy 54 jar date
 Step III. 743 514 21 42 name queen 37 easy jar date
 Step IV. 743 514 21 42 name queen 37 jar date easy
 Step V. 743 514 422 21 name queen 37 jar date easy
 Step VI. 743 514 422 21 name queen 37 date easy jar
 Step VII. 743 514 422 347 21 name queen date easy jar
 Step VIII. 743 514 422 347 21 queen date easy jar name
 Step IX. 743 514 422 347 211 queen date easy jar name
 Step X. 743 514 422 347 211 date easy jar name queen

पुनर्व्यवस्था में, संख्याओं को प्रत्येक वैकल्पिक चरण में बाएं से दाएं क्रम में एक नए मध्य अंक को जोड़ने के साथ अवरोही क्रम में व्यवस्थित किया जाता है जो दिए गए प्रत्येक संख्या के अंकों के बीच का अंतर है। शब्दों को प्रत्येक वैकल्पिक चरण में दाएं छोर पर वर्णानुक्रम में व्यवस्थित किया जाता है।

इनपुट: 21 date 42 name 73 queen 37 easy 54 jar
 चरण I: 743 21 date 42 name queen 37 easy 54 jar
 चरण II: 743 21 42 name queen 37 easy 54 jar date
 चरण III. 743 514 21 42 name queen 37 easy jar date
 चरण IV. 743 514 21 42 name queen 37 jar date easy
 चरण V. 743 514 422 21 name queen 37 jar date easy
 चरण VI. 743 514 422 21 name queen 37 date easy jar

चरण X. 743 514 422 347 211 date easy jar name queen

इनपुट: 21 date 42 name 73 queen 37 easy 54 jar
चरण I: 743 21 date 42 name queen 37 easy 54 jar

Input: 21 date 42 name 73 queen 37 easy 54 jar
Step I: 743 21 date 42 name queen 37 easy 54 jar
Step II: 743 21 42 name queen 37 easy 54 jar date
Step III: 743 514 21 42 name queen 37 easy jar date
Step IV: 743 514 21 42 name queen 37 jar date easy
Step V: 743 514 422 21 name queen 37 jar date easy
Step VI: 743 514 422 21 name queen 37 date easy jar
Step VII: 743 514 422 347 21 name queen date easy jar
Step VIII: 743 514 422 347 21 queen date easy jar name
Step IX: 743 514 422 347 211 queen date easy jar name
Step X: 743 514 422 347 211 date easy jar name queen

पुनर्व्यवस्था में, संख्याओं को प्रत्येक वैकल्पिक चरण में बाएं से दाएं क्रम में एक नए मध्य अंक को जोड़ने के साथ अवरोही क्रम में व्यवस्थित किया जाता है जो दिए गए प्रत्येक संख्या के अंकों के बीच का अंतर है। शब्दों को प्रत्येक वैकल्पिक चरण में दाएं छोर पर वर्णानुक्रम में व्यवस्थित किया जाता है।

इनपुट: 21 date 42 name 73 queen 37 easy 54 jar
चरण I: 743 21 date 42 name queen 37 easy 54 jar
चरण II: 743 21 42 name queen 37 easy 54 jar date
चरण III: 743 514 21 42 name queen 37 easy jar date
चरण IV: 743 514 21 42 name queen 37 jar date easy
चरण V: 743 514 422 21 name queen 37 jar date easy
चरण VI: 743 514 422 21 name queen 37 date easy jar
चरण VII: 743 514 422 347 21 name queen date easy jar
चरण VIII: 743 514 422 347 21 queen date easy jar name
चरण IX: 743 514 422 347 211 queen date easy jar name
चरण X: 743 514 422 347 211 date easy jar name queen

Q-29 What is the position of '347' in Step VII?

eng/eng चरण VII में '347' की स्थिति क्या है?

- | | |
|---|---|
| 01. Third from right end / दाएं छोर से तीसरा | 02. Eighth from left end / बाएं छोर से आठवां |
| 03. Sixth from right end / दायें छोर से छठा | 04. Fourth from left end / बाएं छोर से चौथा |
| 05. Third from left end / बाएं छोर से तीसरा | |

Q-29 What is the position of '347' in Step VII?

eng hin चरण VII में '347' की स्थिति क्या है?

- | | |
|---|---|
| 01. Third from right end / दाएं छोर से तीसरा | 02. Eighth from left end / बाएं छोर से आठवां |
| 03. Sixth from right end / दायें छोर से छठा | 04. Fourth from left end / बाएं छोर से चौथा |
| 05. Third from left end / बाएं छोर से तीसरा | |

Solution for Question 29

Ans Key: 4

eng/eng In the rearrangement, the numbers are arranged in descending order from left to right in each alternate step with the addition of a new middle digit which is the difference between the digits of the given each number. Words are arranged in alphabetical order on the right end in each alternate step.

Input: 21 date 42 name 73 queen 37 easy 54 jar
Step I: 743 21 date 42 name queen 37 easy 54 jar
Step II: 743 21 42 name queen 37 easy 54 jar date
Step III: 743 514 21 42 name queen 37 easy jar date
Step IV: 743 514 21 42 name queen 37 jar date easy
Step V: 743 514 422 21 name queen 37 jar date easy
Step VI: 743 514 422 21 name queen 37 date easy jar
Step VII: 743 514 422 347 21 name queen date easy jar
Step VIII: 743 514 422 347 21 queen date easy jar name
Step IX: 743 514 422 347 211 queen date easy jar name
Step X: 743 514 422 347 211 date easy jar name queen

पुनर्व्यवस्था में, संख्याओं को प्रत्येक वैकल्पिक चरण में बाएं से दाएं क्रम में एक नए मध्य अंक को जोड़ने के साथ अवरोही क्रम में व्यवस्थित किया जाता है जो दिए गए प्रत्येक संख्या के अंकों के बीच का अंतर है। शब्दों को प्रत्येक वैकल्पिक चरण में दाएं छोर पर वर्णानुक्रम में व्यवस्थित किया जाता है।

इनपुट: 21 date 42 name 73 queen 37 easy 54 jar
चरण I: 743 21 date 42 name queen 37 easy 54 jar
चरण II: 743 21 42 name queen 37 easy 54 jar date
चरण III: 743 514 21 42 name queen 37 easy jar date
चरण IV: 743 514 21 42 name queen 37 jar date easy
चरण V: 743 514 422 21 name queen 37 jar date easy
चरण VI: 743 514 422 21 name queen 37 date easy jar
चरण VII: 743 514 422 347 21 name queen date easy jar
चरण VIII: 743 514 422 347 21 queen date easy jar name
चरण IX: 743 514 422 347 211 queen date easy jar name
चरण X: 743 514 422 347 211 date easy jar name queen

eng hin In the rearrangement, the numbers are arranged in descending order from left to right in each alternate step and middle digit of every number is the difference between the digits in the number. Words are arranged in alphabetical order on the right end in each alternate step.

Input: 21 date 42 name 73 queen 37 easy 54 jar
Step I: 743 21 date 42 name queen 37 easy 54 jar
Step II: 743 21 42 name queen 37 easy 54 jar date
Step III: 743 514 21 42 name queen 37 easy jar date
Step IV: 743 514 21 42 name queen 37 jar date easy
Step V: 743 514 422 21 name queen 37 jar date easy
Step VI: 743 514 422 21 name queen 37 date easy jar
Step VII: 743 514 422 347 21 name queen date easy jar
Step VIII: 743 514 422 347 21 queen date easy jar name
Step IX: 743 514 422 347 211 queen date easy jar name
Step X: 743 514 422 347 211 date easy jar name queen

इनपुट: 21 date 42 name 73 queen 37 easy 54 jar
 चरण I: 743 21 date 42 name queen 37 easy 54 jar
 चरण II: 743 21 42 name queen 37 easy 54 jar date
 चरण III: 743 514 21 42 name queen 37 easy jar date
 चरण IV: 743 514 21 42 name queen 37 jar date easy
 चरण V: 743 514 422 21 name queen 37 jar date easy
 चरण VI: 743 514 422 21 name queen 37 date easy jar
 चरण VII: 743 514 422 347 21 name queen date easy jar
 चरण VIII: 743 514 422 347 21 queen date easy jar name
 चरण IX: 743 514 422 347 211 queen date easy jar name
 चरण X: 743 514 422 347 211 date easy jar name queen

चरण IV में '21' और 'jar' के बीच कितने शब्द / संख्याएँ हैं?

02. 3

04. 5

How many words/numbers are there between '21' and 'jar' in Step IV?

चरण IV में '21' और 'jar' के बीच कितने शब्द / संख्याएँ हैं?

02. 3

04. 5

05. None of These / इनमें से कोई नहीं

Ans Key: 3

Input: 21 date 42 name 73 queen 37 easy 54 jar

Step I: 743 21 date 42 name queen 37 easy 54 jar

Step II: 743 21 42 name queen 37 easy 54 jar date

Step III. 743 514 21 42 name queen 37 easy jar date

Step IV. 743 514 21 42 name queen 37 jar date easy

Step V. 743 514 422 21 name queen 37 jar date easy

Step VI. 743 514 422 21 name queen 37 date easy jar

Step VII. 743 514 422 347 21 name queen date easy j

Step VIII. 743 514 422 347 21 queen date easy jar name

Step IX. 743 514 422 347 211 queen date easy jar name

Step X. 743 514 422 347 211 date easy jar name queen

पुनर्व्यवस्था में, संख्याओं को प्रत्येक वैकल्पिक चरण में बाएं से दाएं क्रम में एक नए मध्य अंक को जोड़ने के साथ अवरोही क्रम में व्यवस्थित किया जाता है जो दिए गए प्रत्येक संख्या के अंकों के बीच का अंतर है। शब्दों को प्रत्येक वैकल्पिक चरण में दाएं छोर पर वर्णानुक्रम में व्यवस्थित किया जाता है।

इनपुट: 21 date 42 name 73 queen 37 easy 54 jar

चरण I: 743 21 date 42 name queen 37 easy 54 jar

चरण II: 743 21 42 name queen 37 easy 54 jar date

चरण III. 743 514 21 42 name queen 37 easy jar date

चरण IV. 743 514 21 42 name queen 37 jar date easy

चरण V. 743 514 422 21 name queen 37 jar date easy

चरण VI. 743 514 422 21 name queen 37 date easy jar

चरण VII. 743 514 422 347 21 name queen date easy jar

चरण VIII. 743 514 422 347 21 queen date easy jar name

चरण IX. 743 514 422 347 211 queen date easy jar name

चरण X. 743 514 422 347 211 date easy jar name queen

Input: 21 date 42 name 73 queen 37 easy 54 jar

Step I: 743 21 date 42 name queen 37 easy 54 jar

Step II: 743 21 42 name queen 37 easy 54 jar date

Step III. 743 514 21 42 name queen 37 easy jar date

Step IV. 743 514 21 42 name queen 37 jar date easy

Step V. 743 514 422 21 name queen 37 jar date easy

Step VI. 743 514 422 21 name queen 37 date easy jar

Step VII. 743 514 422 347 21 name queen date easy jar

Step VIII. 743 514 422 347 21 queen date easy jar name

Step IX. 743 514 422 347 211 queen date easy jar name
Step X. 743 514 422 347 211 date easy jar name queen

पुनर्व्यवस्था में, संख्याओं को प्रत्येक वैकल्पिक चरण में बाएं से दाएं क्रम में एक नए मध्य अंक को जोड़ने के साथ अवरोही क्रम में व्यवस्थित किया जाता है जो दिए गए प्रत्येक संख्या के अंकों के बीच का अंतर है। शब्दों को प्रत्येक वैकल्पिक चरण में दाएं छोर पर वर्णानुक्रम में व्यवस्थित किया जाता है।

इनपुट: 21 date 42 name 73 queen 37 easy 54 jar

चरण I: 743 21 date 42 name queen 37 easy 54 jar

चरण II: 743 21 42 name queen 37 easy 54 jar date

चरण III. 743 514 21 42 name queen 37 easy jar date

चरण IV. 743 514 21 42 name queen 37 jar date easy

चरण V. 743 514 422 21 name queen 37 jar date easy

चरण VI. 743 514 422 21 name queen 37 date easy jar

चरण VII. 743 514 422 347 21 name queen date easy jar

चरण VIII. 743 514 422 347 21 queen date easy jar name

चरण IX. 743 514 422 347 211 queen date easy jar name

चरण X. 743 514 422 347 211 date easy jar name queen

Passage for Question 31, 32, 33, 34, 35 (ST-2075 RRB CLERK MAINS (31-35) 2020)

eng/eng Passage

Study the following information carefully and answer the question given below.

Twelve colleagues are sitting in two parallel rows containing six colleagues in each, in such a way that there is an equal distance between adjacent colleagues. In row-1- Praful, Sachin, Rahul, Sulu, Rohit and Vivek are seated and all of them are facing South. In row-2- Ritu, Monika, Ravi, Divya, Neetu and Neha are seated and all of them are facing North. Therefore, in the given seating arrangement each member seated in a row faces another member of the other row.

Divya is sitting third to the left of Ritu. Neetu is facing Vivek.

Praful is sitting third to the right of Rohit. Sachin is facing Ritu.

Vivek is sitting second to the right of Rohit. Monika is facing Sulu.

Ravi is not facing Rohit.

Divya does not sit any of extreme end of the line.

Monika is an immediate left of Divya.

Praful does not sit any of extreme end of the line.

निम्नलिखित जानकारी का ध्यानपूर्वक अध्ययन करे और नीचे दिए गए प्रश्न का उत्तर दें।

बारह सहयोगी दो समान्तर रेखाओं में प्रत्येक पर छः सहयोगी इस प्रकार से बैठे हैं कि सन्निकट सहयोगियों के बीच की दूरी समान हैं। पंक्ति-1 में प्रफुल, सचिन, राहुल, सुलू, रोहित और विवेक बैठे हैं और सभी दक्षिण की ओर देख रहे हैं। पंक्ति-2 में रितु, मोनिका, रवि, दिव्या, नीतू और नेहा बैठे हैं और सभी उत्तर की ओर देख रहे हैं। इसलिए, बैठक व्यवस्था में एक पंक्ति के प्रत्येक सदस्य दूसरी पंक्ति के अन्य सदस्य को देखते हैं।

दिव्या, रितु के बायें तीसरी बैठी है। नीतू का मुख विवेक की ओर है।

प्रफुल, रोहित के दायें तीसरा बैठा है। सचिन का मुख रितु की ओर है।

विवेक, रोहित के दायें दूसरा बैठा है। मोनिका का मुख सुलू की ओर है।

रवि का मुख रोहित की ओर नहीं है।

दिव्या पंक्ति के किसी अंतिम छोर पर नहीं बैठी है।

मोनिका, दिव्या के तुरंत बायें है।

प्रफुल पंक्ति के किसी अंतिम छोर पर नहीं बैठा है।

eng hin Passage

Study the following information carefully and answer the question given below.

Twelve colleagues are sitting in two parallel rows containing six colleagues in each, in such a way that there is an equal distance between adjacent colleagues. In row-1- Praful, Sachin, Rahul, Sulu, Rohit and Vivek are seated and all of them are facing South. In row-2- Ritu, Monika, Ravi, Divya, Neetu and Neha are seated and all of them are facing North. Therefore, in the given seating arrangement each member seated in a row faces another member of the other row.

Divya is sitting third to the left of Ritu. Neetu is facing Vivek.

Praful is sitting third to the right of Rohit. Sachin is facing Ritu.

Vivek is sitting second to the right of Rohit. Monika is facing Sulu.

Ravi is not facing Rohit.

Divya does not sit any of extreme end of the line.

Monika is an immediate left of Divya.

Praful does not sit any of extreme end of the line.

निम्नलिखित जानकारी का ध्यानपूर्वक अध्ययन करे और नीचे दिए गए प्रश्न का उत्तर दें।

बारह सहयोगी दो समान्तर रेखाओं में प्रत्येक पर छः सहयोगी इस प्रकार से बैठे हैं कि सन्निकट सहयोगियों के बीच की दूरी समान हैं। पंक्ति-1 में प्रफुल, सचिन, राहुल, सुलू, रोहित और विवेक बैठे हैं और सभी दक्षिण की ओर देख रहे हैं। पंक्ति-2 में रितु, मोनिका, रवि, दिव्या, नीतू और नेहा बैठे हैं और सभी उत्तर की ओर देख रहे हैं। इसलिए, बैठक व्यवस्था में एक पंक्ति के प्रत्येक सदस्य दूसरी पंक्ति के अन्य सदस्य को देखते हैं।

दिव्या, रितु के बायें तीसरी बैठी है। नीतू का मुख विवेक की ओर है।

प्रफुल, रोहित के दायें तीसरा बैठा है। सचिन का मुख रितु की ओर है।

विवेक, रोहित के दायें दूसरा बैठा है। मोनिका का मुख सुलू की ओर है।

रवि का मुख रोहित की ओर नहीं है।

दिव्या पंक्ति के किसी अंतिम छोर पर नहीं बैठी है।
मोनिका, दिव्या के तुरंत बायें है।
प्रफुल पंक्ति के किसी अंतिम छोर पर नहीं बैठा है।

Q-31 Who is second to the left of Ravi?
eng/eng रवि के बायें दूसरा कौन है?

01. Monika / मोनिका
03. Neha / नेहा
05. Neetu / नीतू
02. Ritu / रितु
04. Divya / दिव्या

Q-31 Who is second to the left of Ravi?
eng hin रवि के बायें दूसरा कौन है?

01. Monika / मोनिका
03. Neha / नेहा
05. Neetu / नीतू
02. Ritu / रितु
04. Divya / दिव्या

Solution for Question 31

Ans Key: 1

eng/eng	Sulu	Rahul	Praful	Vivek	Sachin	Rohit
	Monika	Divya	Ravi	Neetu	Ritu	Neha
	सुलू	राहुल	प्रफुल	विवेक	सचिन	रोहित
	मोनिका	दिव्या	रवि	नीतू	रितु	नेहा

eng hin	Sulu	Rahul	Praful	Vivek	Sachin	Rohit
	Monika	Divya	Ravi	Neetu	Ritu	Neha
	सुलू	राहुल	प्रफुल	विवेक	सचिन	रोहित
	मोनिका	दिव्या	रवि	नीतू	रितु	नेहा

Q-32 Who is in front of Praful?
eng/eng प्रफुल के सामने कौन है?

01. Monika / मोनिका
03. Neha / नेहा
05. Neetu / नीतू
02. Rohit / रोहित
04. Ravi / रवि

Q-32 Who is in front of Praful?
eng hin प्रफुल के सामने कौन है?

01. Monika / मोनिका
03. Neha / नेहा
05. Neetu / नीतू
02. Rohit / रोहित
04. Ravi / रवि

Solution for Question 32

Ans Key: 4

eng/eng	Sulu	Rahul	Praful	Vivek	Sachin	Rohit
	Monika	Divya	Ravi	Neetu	Ritu	Neha
	सुलू	राहुल	प्रफुल	विवेक	सचिन	रोहित
	मोनिका	दिव्या	रवि	नीतू	रितु	नेहा

eng hin	Sulu	Rahul	Praful	Vivek	Sachin	Rohit
	Monika	Divya	Ravi	Neetu	Ritu	Neha

मोनिका दिव्या रवि नीतू रितु नेहा

Q-33 How many persons are sitting between Ritu and Divya?
eng/eng रितु और दिव्या के बीच कितने लोग बैठे हैं?

- | | |
|-----------------|-----------------|
| 01. One / एक | 02. Two / दो |
| 03. Three / तीन | 04. Five / पांच |
| 05. Four / चार | |

Q-33 How many persons are sitting between Ritu and Divya?
eng hin रितु और दिव्या के बीच कितने लोग बैठे हैं?

- | | |
|------------------------|------------------------|
| 01. One / एक | 02. Two / दो |
| 03. Three / तीन | 04. Five / पांच |
| 05. Four / चार | |

Ans Key: 2

eng/eng	Sulu	Rahul	Praful	Vivek	Sachin	Rohit
	Monika	Divya	Ravi	Neetu	Ritu	Neha
	सुलू	राहुल	प्रफुल	विवेक	सचिन	रोहित
	मोनिका	दिव्या	रवि	नीतू	रितु	नेहा

eng	hin	Sulu	Rahul	Praful	Vivek	Sachin	Rohit
		Monika	Divya	Ravi	Neetu	Ritu	Neha
		सुलू	राहुल	प्रफुल	विवेक	सचिन	रोहित
		मोनिका	दिव्या	रवि	नीतू	रितु	नेहा

Q-34 Four of the following five are alike in a certain way and so form a group. Which one of the following does not belong to that group?
eng/eng निम्नलिखित पांच में से चार एक निश्चित तरीके से समान हैं और इसलिए एक समूह बनाते हैं। निम्नलिखित में से कौन-सा उस समूह से संबंधित नहीं है?

- | | |
|---|---|
| 01. Divya-Monika / दिव्या-मोनिका | 02. Rahul- Praful / राहुल-प्रफुल |
| 03. Vivek- Sachin / विवेक-सचिन | 04. Neetu- Ritu / नीतू-रितु |
| 05. Sachin- Rohit / सचिन-रोहित | |

Q-34 Four of the following five are alike in a certain way and so form a group. Which one of the following does not belong to that group?
eng hin निम्नलिखित पांच में से चार एक निश्चित तरीके से समान हैं और इसलिए एक समूह बनाते हैं। निम्नलिखित में से कौन-सा उस समूह से संबंधित नहीं है?

- | | |
|---|---|
| 01. Divya-Monika / दिव्या-मोनिका | 02. Rahul- Praful / राहुल-प्रफुल |
| 03. Vivek- Sachin / विवेक-सचिन | 04. Neetu- Ritu / नीतू-रितु |
| 05. Sachin- Rohit / सचिन-रोहित | |

Ans Key: 4

eng/eng	Sulu	Rahul	Praful	Vivek	Sachin	Rohit
	Monika	Divya	Ravi	Neetu	Ritu	Neha
	सुलू	राहुल	प्रफुल	विवेक	सचिन	रोहित
	मोनिका	दिव्या	रवि	नीतू	रितु	नेहा

eng hin	Sulu	Rahul	Praful	Vivek	Sachin	Rohit
---------	------	-------	--------	-------	--------	-------

Monika	Divya	Ravi	Neetu	Ritu	Neha
सुलू	राहुल	प्रफुल	विवेक	सचिन	रोहित
मोनिका	दिव्या	रवि	नीतू	रितु	नेहा

Q-35 Who is fourth to the left of Neha?
eng/eng नेहा के बायें चौथा कौन है?

- | | |
|---------------------|-------------------|
| 01. Monika / मोनिका | 02. Rohit / रोहित |
| 03. Divya / दिव्या | 04. Ravi / रवि |
| 05. Neetu / नीतू | |

Q-35 Who is fourth to the left of Neha?
eng hin नेहा के बायें चौथा कौन है?

- | | |
|---------------------|-------------------|
| 01. Monika / मोनिका | 02. Rohit / रोहित |
| 03. Divya / दिव्या | 04. Ravi / रवि |
| 05. Neetu / नीतू | |

Solution for Question 35 Ans Key: 3

eng/eng	Sulu	Rahul	Praful	Vivek	Sachin	Rohit
	Monika	Divya	Ravi	Neetu	Ritu	Neha
	सुलू	राहुल	प्रफुल	विवेक	सचिन	रोहित
	मोनिका	दिव्या	रवि	नीतू	रितु	नेहा

eng hin	Sulu	Rahul	Praful	Vivek	Sachin	Rohit
	Monika	Divya	Ravi	Neetu	Ritu	Neha
	सुलू	राहुल	प्रफुल	विवेक	सचिन	रोहित
	मोनिका	दिव्या	रवि	नीतू	रितु	नेहा

Q-36 Each of the following questions consists of a statement followed by three arguments I, II and III. You have to decide which of the arguments is a STRONG argument and which is a WEAK Argument. 'Strong' arguments are those which are both important and directly related to the question. 'Weak' arguments are those which are of minor importance and also may not be directly related to the question.

Statement: Should the parliament elections in India be held on the gap of two years throughout the country?

Arguments:

- I. Yes, this is the only way to control corruption.
 II. Yes, this will provide a proper ruling with the system in the country.
 III. No, some other countries hold elections after two years.

निम्नलिखित में से प्रत्येक प्रश्न में एक कथन दिया है जिसके बाद तीन तर्क I, II और III हैं। आपको यह तय करना हो कि कौन-सा तर्क सशक्त हैं और कौन-सा कमजोर है। सशक्त तर्क वे हैं जो महत्वपूर्ण होते हैं और प्रश्न से सीधे संबंधित हैं। 'कमजोर' तर्क वे हैं जो कम महत्वपूर्ण होते हैं और वह प्रश्न से सीधे संबंधित नहीं होते हैं।

कथन: क्या, भारत में संसद के चुनाव देशभर में दो वर्ष के अंतर पर किए जाने चाहिए ?

तर्क :

- I. हाँ, यह भ्रष्टाचार को नियंत्रित करने का एकमात्र तरीका है।
 II. हाँ, यह देश में एक समुचित नियंत्रण व्यवस्था प्रदान करेगा।
 III. नहीं, कुछ अन्य देशों में दो साल बाद चुनाव होते हैं।

- | | |
|---|--|
| 01. None is strong / कोई सशक्त नहीं है। | 02. Only I is strong./ केवल I सशक्त है। |
| 03. Only II is strong / केवल II सशक्त है। | 04. Only III is strong. / केवल III सशक्त है। |
| 05. Only I and II are strong./ केवल I और II सशक्त है। | |

Q-36 Each of the following questions consists of a statement followed by three arguments I, II and III. You have to decide which of the arguments is a STRONG argument and which is a WEAK Argument. 'Strong' arguments are those which are both important and directly related to the question. 'Weak' arguments are those which are of minor importance and also may not be directly related to the question.

Statement: Should the parliament elections in India be held on the gap of two years throughout the country?

Arguments:

- I. Yes, this is the only way to control corruption.
 II. Yes, this will provide a proper ruling with the system in the country.
 III. No, some other countries hold elections after two years.

निम्नलिखित में से प्रत्येक प्रश्न में एक कथन दिया है जिसके बाद तीन तर्क I, II और III हैं। आपको यह तय करना हो कि कौन-सा तर्क सशक्त हैं और कौन-सा कमजोर है। सशक्त तर्क वे हैं जो महत्वपूर्ण होते हैं और प्रश्न से सीधे संबंधित हैं। 'कमजोर' तर्क वे हैं जो कम महत्वपूर्ण होते हैं और वह प्रश्न से सीधे संबंधित नहीं होते हैं।

कथन: क्या, भारत में संसद के चुनाव देशभर में दो वर्ष के अंतर पर किए जाने चाहिए ?

तर्क :

- I. हाँ, यह भ्रष्टाचार को नियंत्रित करने का एकमात्र तरीका है।
 II. हाँ, यह देश में एक समुचित नियंत्रण व्यवस्था प्रदान करेगा।
 III. नहीं, कुछ अन्य देशों में दो साल बाद चुनाव होते हैं।

01. None is strong / कोई सशक्त नहीं है। 02. Only I is strong./ केवल I सशक्त है।
 03. Only II is strong / केवल II सशक्त है। 04. Only III is strong. / केवल III सशक्त है।
 05. Only I and II are strong./ केवल I और II सशक्त है।

Solution for Question 36

Ans Key: 1

eng/eng In the argument I, the "only" word is used, so the argument I is weak because it is not the only way to control the corruption. Present time, the parliamentary elections in India held on the gap of five years. So we cannot sure to give a proper ruling system to the country in two years. Hence, argument II is weak.
 Argument III is also weak because there are the comparison and we can't compare our country to other countries because all countries have a different constitution.
 तर्क I में 'केवल' शब्द का प्रयोग हुआ है अतः तर्क I कमजोर है क्योंकि यही केवल भ्रष्टाचार को नियंत्रित करने का एकमात्र तरीका नहीं है। वर्तमान समय में, पांच साल के अंतराल पर भारत में संसद चुनाव होते हैं अतः हम यह सुनिश्चित नहीं कर सकते हैं कि दो वर्ष में एक समुचित नियंत्रण व्यवस्था देश को प्रदान कर पाये। अतः तर्क II कमजोर है।
 तर्क III भी कमजोर है क्योंकि यहां तुलना की गयी है। हम अपने देश की तुलना दूसरे देशों से नहीं कर सकते हैं क्योंकि सभी देश के संविधान अलग-अलग हैं।

eng hin In the argument I, the "only" word is used, so the argument I is weak because it is not the only way to control the corruption. Present time, the parliamentary elections in India held on the gap of five years. So we cannot sure to give a proper ruling system to the country in two years. Hence, argument II is weak.
 Argument III is also weak because there are the comparison and we can't compare our country to other countries because all countries have a different constitution.
 तर्क I में 'केवल' शब्द का प्रयोग हुआ है अतः तर्क I कमजोर है क्योंकि यही केवल भ्रष्टाचार को नियंत्रित करने का एकमात्र तरीका नहीं है। वर्तमान समय में, पांच साल के अंतराल पर भारत में संसद चुनाव होते हैं अतः हम यह सुनिश्चित नहीं कर सकते हैं कि दो वर्ष में एक समुचित नियंत्रण व्यवस्था देश को प्रदान कर पाये। अतः तर्क II कमजोर है।
 तर्क III भी कमजोर है क्योंकि यहां तुलना की गयी है। हम अपने देश की तुलना दूसरे देशों से नहीं कर सकते हैं क्योंकि सभी देश के संविधान अलग-अलग हैं।

Q-37 In each question below given a statement and two conclusions. You have to assume everything in the statement to be true and choose those conclusions which of the two conclusions logically follow.

eng/eng

Statement:- The main cause of poverty in India is unemployment.

Conclusions:-

- (I) The opportunity of employment is necessary, for the end of the poverty.
 (II) All peoples are unemployed in the country.

Give answer -

नीचे दिए प्रत्येक प्रश्न में एक कथन व दो निष्कर्ष हैं। आपको कथन में दी गई सभी जानकारियों को सत्य मानते हुए दोनों निष्कर्षों में से तार्किक रूप से अनुसरण करने वाले निष्कर्ष का चयन करना है।

कथन: भारत की निर्धनता का बेरोजगारी एक प्रमुख कारण है।

निष्कर्ष:

- (I) निर्धनता को समाप्त करने के लिए रोजगार के अवसर उपलब्ध कराना आवश्यक है।
 (II) देश में सभी व्यक्ति बेरोजगार हैं।

उत्तर दीजिए-

01. If only conclusion I follows./ यदि केवल निष्कर्ष I अनुसरण करता है। 02. If only conclusion II follows / यदि केवल निष्कर्ष II अनुसरण करता है।
 03. If either conclusion I or II follows./ यदि या तो निष्कर्ष I या II अनुसरण करता है। 04. If neither conclusion I nor II follows./ यदि न तो निष्कर्ष I और न ही II अनुसरण करता है।
 05. If both conclusions I and II follow. / यदि दोनों निष्कर्ष I व II अनुसरण करते हैं।

Q-37 In each question below given a statement and two conclusions. You have to assume everything in the statement to be true and choose those conclusions which of the two conclusions logically follow.

eng hin

Statement:- The main cause of poverty in India is unemployment.

Conclusions:-

- (I) The opportunity of employment is necessary, for the end of the poverty.
 (II) All peoples are unemployed in the country.

Give answer -

नीचे दिए प्रत्येक प्रश्न में एक कथन व दो निष्कर्ष हैं। आपको कथन में दी गई सभी जानकारियों को सत्य मानते हुए दोनों निष्कर्षों में से तार्किक रूप से

अनुसरण करने वाले निष्कर्ष का चयन करना है।

कथन: भारत की निर्धनता का बेरोजगारी एक प्रमुख कारण है।

निष्कर्ष:

(I) निर्धनता को समाप्त करने के लिए रोजगार के अवसर उपलब्ध कराना आवश्यक है।

(II) देश में सभी व्यक्ति बेरोजगार हैं।

उत्तर दीजिए-

01. If only conclusion I follows./ यदि केवल निष्कर्ष I अनुसरण करता है।
02. If only conclusion II follows./ यदि केवल निष्कर्ष II अनुसरण करता है।
03. If either conclusion I or II follows./ यदि या तो निष्कर्ष I या II अनुसरण करता है।
04. If neither conclusion I nor II follows./ यदि न तो निष्कर्ष I और न ही II अनुसरण करता है।
05. If both conclusions I and II follow./ यदि दोनों निष्कर्ष I व II अनुसरण करते हैं।

Solution for Question 37

Ans Key: 1

eng/eng

The poverty of India is a main cause of unemployment which means that if unemployment is eliminated from root then poverty could be ended so conclusion I is logically followed.
भारत की निर्धनता का एक प्रमुख कारण बेरोजगारी है जिसका अर्थ है कि यदि बेरोजगारी जड़ से समाप्त हो जाती है तो गरीबी समाप्त हो सकती है इसलिए केवल निष्कर्ष I तर्क संगत है।

eng hin

The poverty of India is a main cause of unemployment which means that if unemployment is eliminated from root then poverty could be ended so conclusion I is logically followed.
भारत की निर्धनता का एक प्रमुख कारण बेरोजगारी है जिसका अर्थ है कि यदि बेरोजगारी जड़ से समाप्त हो जाती है तो गरीबी समाप्त हो सकती है इसलिए केवल निष्कर्ष I तर्क संगत है।

Q-38

eng/eng

In each question below is given a statement followed by two assumptions numbered I and II. An Assumption is something supposed or taken for granted. You have to consider the statement and the following assumption and decide which of the assumptions is implicit in the statement.

Statement: The head of the organization congratulated the entire staff in his speech for their sincere effort to bring down the deficit and urged them to give their best for attaining a more profitable position in future.

Assumptions:

- I. The employees may get motivated and maintain and if possible enhance their present level of work.
- II. The employees may now relax and slow down in their day-to-day work as there is no immediate threat of a huge deficit.

Give Answer -

नीचे दिए गए प्रत्येक प्रश्न में पहले एक कथन दिया गया है फिर उसके नीचे दो पूर्वधारणाएं जिन्हें I व II क्रमांक दिए गए हैं। कोई पूर्वगृहीत या मान ली गई बात पूर्वधारणा कहलाती है। आपको कथन और उसके नीचे दी गई पूर्वधारणाओं पर विचार करना है और फिर तय करना है कि कौन सी पूर्वधारणा कथन में अन्तर्निहित है।

कथन- संगठन के अध्यक्ष ने अपने भाषण में समस्त स्टाफ को, घाटे को कम करने के उनके प्रयासों के लिए बधाई दी तथा भविष्य में एक अधिक लाभप्रद स्थिति प्राप्त करने के लिए अपना श्रेष्ठ प्रदर्शन देने के लिए आग्रह किया।

पूर्वधारणाएं-

- I- कर्मचारियों को उत्प्रेरित और बनाए रखा जा सकता है और यदि सम्भव हो तो उनके वर्तमान कार्य क्षमता के स्तर को बढ़ाया जा सकता है।
- II- कर्मचारी अपने रोजाना के कार्य में अब ढीले और धीमे हो सकते हैं जैसे यहां तत्काल कोई भारी घाटे का खतरा नहीं है।

उत्तर दीजिए -

01. If only assumption I is implicit./ यदि केवल पूर्वधारणा I अन्तर्निहित है।
02. If only assumption II is implicit./ यदि केवल पूर्वधारणा II अन्तर्निहित है।
03. If either assumption I or II is implicit./ यदि या पूर्वधारणा I या II अन्तर्निहित है।
04. If neither assumption I nor II is implicit./ यदि न पूर्वधारणा I और न ही II अन्तर्निहित हैं।
05. If both assumption I and II are implicit./ यदि दोनों पूर्वधारणा I व II अन्तर्निहित हैं।

Q-38

eng hin

In each question below is given a statement followed by two assumptions numbered I and II. An Assumption is something supposed or taken for granted. You have to consider the statement and the following assumption and decide which of the assumptions is implicit in the statement.

Statement: The head of the organization congratulated the entire staff in his speech for their sincere effort to bring down the deficit and urged them to give their best for attaining a more profitable position in future.

Assumptions:

- I. The employees may get motivated and maintain and if possible enhance their present level of work.
- II. The employees may now relax and slow down in their day-to-day work as there is no immediate threat of a huge deficit.

Give Answer -

नीचे दिए गए प्रत्येक प्रश्न में पहले एक कथन दिया गया है फिर उसके नीचे दो पूर्वधारणाएं जिन्हें I व II क्रमांक दिए गए हैं। कोई पूर्वगृहीत या मान ली गई बात पूर्वधारणा कहलाती है। आपको कथन और उसके नीचे दी गई पूर्वधारणाओं पर विचार करना है और फिर तय करना है कि कौन सी पूर्वधारणा कथन में अन्तर्निहित है।

कथन- संगठन के अध्यक्ष ने अपने भाषण में समस्त स्टाफ को, घाटे को कम करने के उनके प्रयासों के लिए बधाई दी तथा भविष्य में एक अधिक लाभप्रद स्थिति प्राप्त करने के लिए अपना श्रेष्ठ प्रदर्शन देने के लिए आग्रह किया।

पूर्वधारणाएं-

- I- कर्मचारियों को उत्प्रेरित और बनाए रखा जा सकता है और यदि सम्भव हो तो उनके वर्तमान कार्य क्षमता के स्तर को बढ़ाया जा सकता है।

II- कर्मचारी अपने रोजाना के कार्य में अब ढीले और धीमे हो सकते हैं जैसे यहां तत्काल कोई भारी घाटे का खतरा नहीं है।

उत्तर दीजिए -

01. If only assumption I is implicit./ यदि केवल पूर्वधारणा I अन्तर्निहित है।
02. If only assumption II is implicit. / यदि केवल पूर्वधारणा II अन्तर्निहित है।
03. If either assumption I or II is implicit./ यदि या पूर्वधारणा I या II अन्तर्निहित हैं।
04. If neither assumption I nor II is implicit. / यदि न पूर्वधारणा I और न ही II अन्तर्निहित हैं।
05. If both assumption I and II are implicit. / यदि दोनों पूर्वधारणा I व II अन्तर्निहित हैं।

Solution for Question 38

Ans Key: I

eng/eng	To motivate the employees for the enhancement of their work, the head of the organization congratulated the entire staff in her speech and appreciated their effort. कर्मचारियों को उनके काम के लिए बढ़ावा देकर प्रेरित करना, संगठन के प्रमुख ने अपने भाषण में पूरे स्टाफ को बधाई दी और उनके प्रयास की सराहना की।
eng hin	To motivate the employees for the enhancement of their work, the head of the organization congratulated the entire staff in her speech and appreciated their effort. कर्मचारियों को उनके काम के लिए बढ़ावा देकर प्रेरित करना, संगठन के प्रमुख ने अपने भाषण में पूरे स्टाफ को बधाई दी और उनके प्रयास की सराहना की।

Q-39 Each of the question below consists of a question and three statements numbered I, II and III given below it. You have to decide whether the data provided in the statements are sufficient to answer the question. Read all the three statements.

Among six people K, J, I, H, G and E each lives on a different floor of a six storey building having six floors numbered one to six (the ground floor is numbered 1, the floor above it, number 2 and so on and the topmost floor is numbered 6). Who lives on the topmost floor?

- (I) H lives on an odd numbered floor. There are two floors between the floors on which H and K live. G lives on a floor immediately above I's floor.
- (II) G does not live on an even numbered floor. J lives on an even numbered floor. J does not live on the topmost floor.
- (III) There is only one floor between the floors on which I and J live. K lives on an even numbered floor.

नीचे दिए गए प्रत्येक प्रश्न में एक प्रश्न और उसके बाद तीन कथन I, II व III दिए गए हैं। आपको यह तय करना है कि कथनों में दिया गया डाटा प्रश्न का उत्तर देने के लिए पर्याप्त है या नहीं है। तीनों कथनों को पढ़िए -

छह व्यक्ति K, J, I, H, G और E में से प्रत्येक व्यक्ति एक छह मंजिला इमारत के अलग-अलग तल पर रहते हैं। इमारत में एक से छः तल हैं (भूतल संख्या 1 है, उसके ऊपर तल संख्या 2 और आगे इसी तरह से सबसे ऊपर का तल संख्या 6 है।) सबसे ऊपर के तल पर कौन रहता है?

- (I) H विषम संख्या वाले तल पर रहता है। H और K के बीच दो तल हैं। G, I की मंजिल से तुरंत ऊपर वाली मंजिल पर रहता है।
- (II) G सम संख्या वाले तल पर नहीं रहता है। J सम संख्या वाले तल पर रहता है। J सबसे ऊपर के तल पर नहीं रहता है।
- (III) I और J के बीच में केवल एक तल है। K सम संख्या वाले तल पर रहता है।

01. If the data in Statement I and II are sufficient to answer the question, while the data in Statement III are not required to answer the question. / यदि कथन I व II का डाटा उत्तर देने के लिए पर्याप्त है जबकि कथन III का डाटा का उत्तर देने के लिए पर्याप्त नहीं है।
02. If the data in Statement I and III are sufficient to answer the question, while the data in Statement II are not required to answer the question. /यदि कथन I व III का डाटा उत्तर देने के लिए पर्याप्त है जबकि कथन II का डाटा का उत्तर देने के लिए पर्याप्त नहीं है।
03. If the data in Statement II and III are sufficient to answer the question, while the data in Statement I are not required to answer the question. / यदि कथन II व III का डाटा उत्तर देने के लिए पर्याप्त है जबकि कथन I का डाटा का उत्तर देने के लिए पर्याप्त नहीं है।
04. If the data either Statement I alone or Statement II alone or Statement III alone are sufficient to answer the question./यदि या तो केवल कथन I या केवल कथन II या केवल कथन III प्रश्न का उत्तर देने के लिए पर्याप्त है।
05. If the data in all Statement I, II and III together are necessary to answer the question./यदि I, II व III तीनों कथनों का डाटा मिलाकर प्रश्न का उत्तर देने के लिए पर्याप्त है।

Q-39 Each of the question below consists of a question and three statements numbered I, II and III given below it. You have to decide whether the data provided in the statements are sufficient to answer the question. Read all the three statements.

Among six people K, J, I, H, G and E each lives on a different floor of a six storey building having six floors numbered one to six (the ground floor is numbered 1, the floor above it, number 2 and so on and the topmost floor is numbered 6). Who lives on the topmost floor?

- (I) H lives on an odd numbered floor. There are two floors between the floors on which H and K live. G lives on a floor immediately above I's floor.
- (II) G does not live on an even numbered floor. J lives on an even numbered floor. J does not live on the topmost floor.
- (III) There is only one floor between the floors on which I and J live. K lives on an even numbered floor.

नीचे दिए गए प्रत्येक प्रश्न में एक प्रश्न और उसके बाद तीन कथन I, II व III दिए गए हैं। आपको यह तय करना है कि कथनों में दिया गया डाटा प्रश्न का उत्तर देने के लिए पर्याप्त है या नहीं है। तीनों कथनों को पढ़िए -

छह व्यक्ति K, J, I, H, G और E में से प्रत्येक व्यक्ति एक छह मंजिला इमारत के अलग-अलग तल पर रहते हैं। इमारत में एक से छः तल हैं (भूतल संख्या 1 है, उसके ऊपर तल संख्या 2 और आगे इसी तरह से सबसे ऊपर का तल संख्या 6 है।) सबसे ऊपर के तल पर कौन रहता है?

- (I) H विषम संख्या वाले तल पर रहता है। H और K के बीच दो तल हैं। G, I की मंजिल से तुरंत ऊपर वाली मंजिल पर रहता है।
- (II) G सम संख्या वाले तल पर नहीं रहता है। J सम संख्या वाले तल पर रहता है। J सबसे ऊपर के तल पर नहीं रहता है।
- (III) I और J के बीच में केवल एक तल है। K सम संख्या वाले तल पर रहता है।

01. If the data in Statement I and II are sufficient to answer the question, while the data in Statement III are not required to answer the question. / यदि कथन I व II का डाटा उत्तर देने के लिए पर्याप्त है जबकि कथन III का डाटा का उत्तर देने के लिए पर्याप्त नहीं है।
02. If the data in Statement I and III are sufficient to answer the question, while the data in Statement II are not required to answer the question. / यदि कथन I व III का डाटा उत्तर देने के लिए पर्याप्त है जबकि कथन II का डाटा का उत्तर देने के लिए पर्याप्त नहीं है।
03. If the data in Statement II and III are sufficient to answer the question, while the data in Statement I are not required to answer the question. / यदि कथन II व III का डाटा उत्तर देने के लिए पर्याप्त है जबकि कथन I का डाटा का उत्तर देने के लिए पर्याप्त नहीं है।
04. If the data either Statement I alone or Statement II alone or Statement III alone are sufficient to answer the question. / यदि या तो केवल कथन I या केवल कथन II या केवल कथन III प्रश्न का उत्तर देने के लिए पर्याप्त है।
05. If the data in all Statement I, II and III together are necessary to answer the question. / यदि I, II व III तीनों कथनों का डाटा मिलाकर प्रश्न का उत्तर देने के लिए पर्याप्त है।

Solution for Question 39

Ans Key: 5

eng/eng 6 - K
5 - G
4 - I
3 - H
2 - J
1 - E

eng hin 6 - K
5 - G
4 - I
3 - H
2 - J
1 - E

Q-40 Each of the question below consists of a question and three statements numbered I, II and III given below it. You have to decide whether the data provided in the statements are sufficient to answer the question. Read all the three statements.

Point W is in which direction with respect to Point Y?

- (I) Point T is to the south of Point W. Point T is 4m from Point Y. Point W is 9m from Point Y.
(II) Point Z is to the west of Point Y. Point X is to the north of Point Y. Point W is to the south of Point X.
(III) Point Z is to the west of Point Y. Point Y is exactly midway between Point Z and V. Point U is to the south of Point V. Point W is to the west of Point U.

नीचे दिए गए प्रत्येक प्रश्न में एक प्रश्न और उसके बाद तीन कथन I, II व III दिए गए हैं। आपको यह तय करना है कि कथनों में दिया गया डाटा प्रश्न का उत्तर देने के लिए पर्याप्त है या नहीं है। तीनों कथनों को पढ़िए –

बिंदु W, बिंदु Y के संबंध में किस दिशा में है?

- (I) बिंदु T, बिंदु W के दक्षिण में है। बिंदु T, बिंदु Y से 4 मीटर है। बिंदु W, बिंदु Y से 9 मीटर है।
(II) बिंदु Z, बिंदु Y के पश्चिम में है। बिंदु X, बिंदु Y के उत्तर में है। बिंदु W, बिंदु X के दक्षिण में है।
(III) बिंदु Z, बिंदु Y के पश्चिम में है। बिंदु Y, बिंदु Z और बिंदु V के ठीक मध्य में है। बिंदु U, बिंदु V के दक्षिण में है। बिंदु W, बिंदु U के पश्चिम में है।

01. If the data in Statement I and II are sufficient to answer the question, while the data in Statement III are not required to answer the question. / यदि कथन I व II का डाटा उत्तर देने के लिए पर्याप्त है जबकि कथन III का डाटा का उत्तर देने के लिए पर्याप्त नहीं है।
02. If the data in Statement I and III are sufficient to answer the question, while the data in Statement II are not required to answer the question. / यदि कथन I व III का डाटा उत्तर देने के लिए पर्याप्त है जबकि कथन II का डाटा का उत्तर देने के लिए पर्याप्त नहीं है।
03. If the data in Statement II and III are sufficient to answer the question, while the data in Statement I are not required to answer the question. / यदि कथन II व III का डाटा उत्तर देने के लिए पर्याप्त है जबकि कथन I का डाटा का उत्तर देने के लिए पर्याप्त नहीं है।
04. If the data either Statement I alone or Statement II alone or Statement III alone are sufficient to answer the question. / यदि या तो केवल कथन I या केवल कथन II या केवल कथन III प्रश्न का उत्तर देने के लिए पर्याप्त है।
05. If the data in all Statement I, II and III together are necessary to answer the question. / यदि I, II व III तीनों कथनों का डाटा मिलाकर प्रश्न का उत्तर देने के लिए पर्याप्त है।

Q-40 Each of the question below consists of a question and three statements numbered I, II and III given below it. You have to decide whether the data provided

Point W is in which direction with respect to Point Y?

(I) Point T is to the south of Point W. Point T is 4m from Point Y. Point W is 9m from Point Y.

(II) Point Z is to the west of Point Y. Point X is to the north of Point Y. Point W is to the south of Point X.

(III) Point Z is to the west of Point Y. Point Y is exactly midway between Point Z and V. Point U is to the south of Point V. Point W is to the west of Point U.

नीचे दिए गए प्रत्येक प्रश्न में एक प्रश्न और उसके बाद तीन कथन I, II व III दिए गए हैं। आपको यह तय करना है कि कथनों में दिया गया डाटा प्रश्न का उत्तर देने के लिए पर्याप्त है या नहीं है। तीनों कथनों को पढ़िए –

बिंदु W, बिंदु Y के संबंध में किस दिशा में है?

(I) बिंदु T, बिंदु W के दक्षिण में है। बिंदु T, बिंदु Y से 4 मीटर है। बिंदु W, बिंदु Y से 9 मीटर है।

(II) बिंदु Z, बिंदु Y के पश्चिम में है। बिंदु X, बिंदु Y के उत्तर में है। बिंदु W, बिंदु X के दक्षिण में है।

(III) बिंदु Z, बिंदु Y के पश्चिम में है। बिंदु Y, बिंदु Z और बिंदु V के ठीक मध्य में है। बिंदु U, बिंदु V के दक्षिण में है। बिंदु W, बिंदु U के पश्चिम में है।

01. If the data in Statement I and II are sufficient to answer the question, while the data in Statement III are not required to answer the question./ यदि कथन I व II का डाटा उत्तर देने के लिए पर्याप्त है जबकि कथन III का डाटा का उत्तर देने के लिए पर्याप्त नहीं है।

02. If the data in Statement I and III are sufficient to answer the question, while the data in Statement II are not required to answer the question. / यदि कथन I व III का डाटा उत्तर देने के लिए पर्याप्त है जबकि कथन II का डाटा का उत्तर देने के लिए पर्याप्त नहीं है।

03. If the data in Statement II and III are sufficient to answer the question, while the data in Statement I are not required to answer the question. / यदि कथन II व III का डाटा उत्तर देने के लिए पर्याप्त है जबकि कथन I का डाटा का उत्तर देने के लिए पर्याप्त नहीं है।

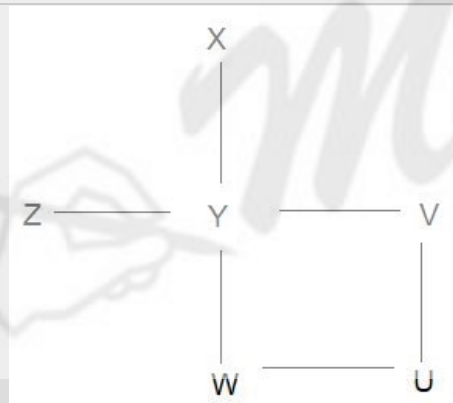
04. If the data either Statement I alone or Statement II alone or Statement III alone are sufficient to answer the question. / यदि या तो केवल कथन I या केवल कथन II या केवल कथन III प्रश्न का उत्तर देने के लिए पर्याप्त है।

05. If the data in all Statement I, II and III together are necessary to answer the question. / यदि I, II व III तीनों कथनों का डाटा मिलाकर प्रश्न का उत्तर देने के लिए पर्याप्त है।

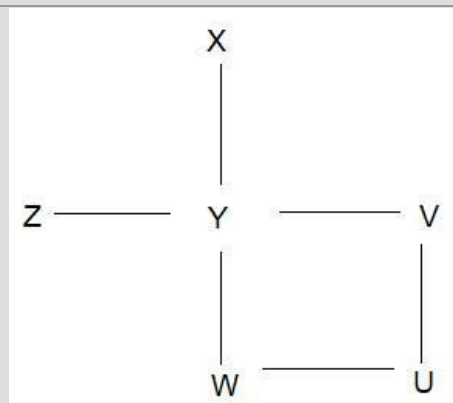
Solution for Question 40

Ans Key: 3

eng/eng



eng hin



Passage for Question 41, 42, 43, 44, 45 (ST-2075RRBCLERKMAINS(1-5M)2020NP)

eng/eng Passage

Degree-wise breakup of employees working in various departments of an organization and the ratio of Men to Women

Total Number of Employees = 3250

DEGREE WISE DISTRIBUTION



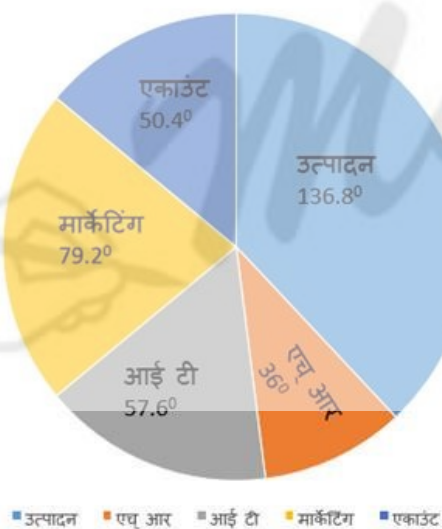
Respective Ratio of Men to Women in Each Department

DEPARTMENT	MEN	WOMEN
PRODUCTION	4	1
HR	12	13
IT	7	3
MARKETING	3	2
ACCOUNT	6	7

एक संगठन के विभिन्न विभागों में काम करने वाले कर्मचारियों का डिग्री-वार ब्रेकअप और पुरुषों का महिला अनुपात

कर्मचारियों की कुल संख्या = 3250

डिग्री वार वितरण

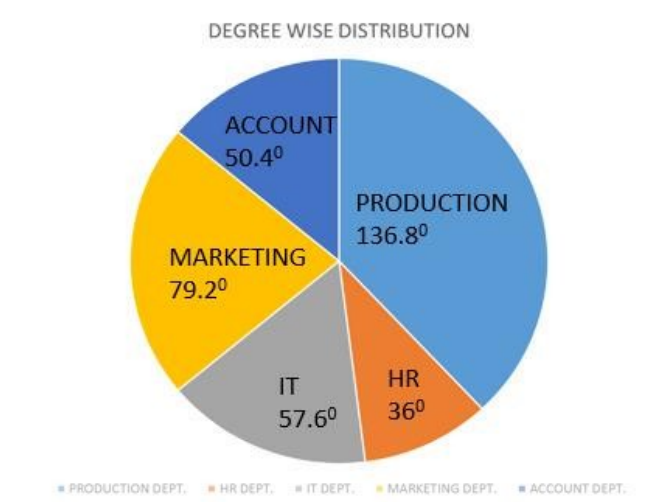


प्रत्येक विभाग में पुरुष और महिला का अनुपात

विभाग	पुरुष	महिला
उत्पादन	4	1
मानव संसाधन (एच आर)	12	13
आई टी	7	3
मार्केटिंग	3	2
एकाउंट	6	7

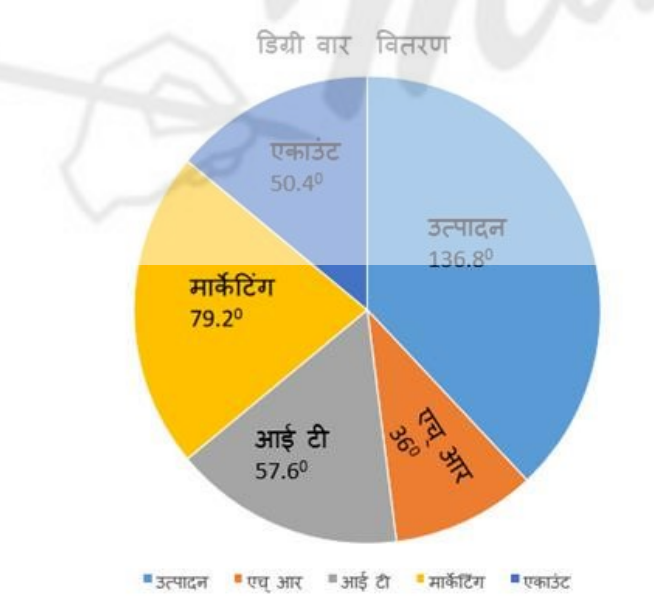
eng hin Passage
Degree-wise breakup of employees working in various departments of an organization and the ratio of Men to Women

Total Number of Employees = 3250



Respective Ratio of Men to Women in Each Department		
DEPARTMENT	MEN	WOMEN
PRODUCTION	4	1
HR	12	13
IT	7	3
MARKETING	3	2
ACCOUNT	6	7

एक संगठन के विभिन्न विभागों में काम करने वाले कर्मचारियों का डिग्री-वार ब्रेकअप और पुरुषों का महिला अनुपात
कर्मचारियों की कुल संख्या = 3250



प्रत्येक विभाग में पुरुष और महिला का अनुपात		
विभाग	पुरुष	महिला
उत्पादन	4	1
मानव संसाधन (एच आर)	12	13

- Q-43** The number of Men working in the production department of the Organization forms what percent of the total number of employees working in that department?
eng/eng संगठन के उत्पादन विभाग में काम करने वाले पुरुषों की संख्या उस विभाग में काम करने वाले कर्मचारियों की कुल संख्या का कितना प्रतिशत है?
01. 56% 02. 80%
 03. 23% 04. 78%
 05. None of these
 इनमें से कोई नहीं

- Q-43** The number of Men working in the production department of the Organization forms what percent of the total number of employees working in that department?
eng/hin संगठन के उत्पादन विभाग में काम करने वाले पुरुषों की संख्या उस विभाग में काम करने वाले कर्मचारियों की कुल संख्या का कितना प्रतिशत है?
01. 56% 02. 80%
 03. 23% 04. 78%
 05. None of these
 इनमें से कोई नहीं

Solution for Question 43		Ans Key: 2
eng/eng	$\% = \frac{4}{5} \times 100 = 80\%$	
eng/hin	$\% = \frac{4}{5} \times 100 = 80\%$	

- Q-44** The number of women working in the account department of the Organization forms what percent of the total number of employees in the Organization from all departments together?
eng/eng संगठन के एकाउंट विभाग में काम करने वाली महिलाओं की संख्या संगठन के सभी विभागों के कर्मचारियों की कुल संख्या का कितने प्रतिशत है?
01. 4.8% 02. 2.3%
 03. 3.4% 04. 4.5%
 05. 7.5%
- Q-44** The number of women working in the account department of the Organization forms what percent of the total number of employees in the Organization from all departments together?
eng/hin संगठन के एकाउंट विभाग में काम करने वाली महिलाओं की संख्या संगठन के सभी विभागों के कर्मचारियों की कुल संख्या का कितने प्रतिशत है?
01. 4.8% 02. 2.3%
 03. 3.4% 04. 4.5%
 05. 7.5%

Solution for Question 44		Ans Key: 5
eng/eng	$\% = \frac{3250 \times \frac{50.4}{360} \times \frac{7}{13}}{3250} \times 100 = 7.5\%$	
eng/hin	$\% = \frac{3250 \times \frac{50.4}{360} \times \frac{7}{13}}{3250} \times 100 = 7.5\%$	

- Q-45** Employees in HR is what percent of the employees in marketing department?
eng/eng मानव संसाधन विभाग में काम करने कर्मचारी विपणन विभाग में काम करने वाले कर्मचारियों का कितने प्रतिशत हैं?
01. 27.45% 02. 45.45%
 03. 31.45% 04. 23.14 %
 05. 67.89%
- Q-45** Employees in HR is what percent of the employees in marketing department?
eng/hin मानव संसाधन विभाग में काम करने कर्मचारी विपणन विभाग में काम करने वाले कर्मचारियों का कितने प्रतिशत हैं?
01. 27.45% 02. 45.45%
 03. 31.45% 04. 23.14 %
 05. 67.89%

Solution for Question 45

eng/eng $\% = \frac{36}{79.2} \times 100 = 45.45\%$

eng hin $\% = \frac{36}{79.2} \times 100 = 45.45\%$

Q-46 Find the value of variables and state the correct relationship-
 चरों का मान ज्ञात कीजिये तथा सही सम्बन्ध ज्ञात कीजिये-

(I) $8x^2 + 3x = 38$

(II) $6y^2 + 34 = 29y$

01. $x > y$

02. $x \geq y$

03. $x \geq y$

04. $x \leq y$

05. $x=y$ or no relationship can be established
 $x=y$ या कोई सम्बन्ध स्थापित नहीं किया जा सकता है

Q-46 Find the value of variables and state the correct relationship-
 चरों का मान ज्ञात कीजिये तथा सही सम्बन्ध ज्ञात कीजिये-

(I) $8x^2 + 3x = 38$

(II) $6y^2 + 34 = 29y$

01. $x > y$

02. $x \geq y$

03. $x \geq y$

04. $x \leq y$

05. $x=y$ or no relationship can be established
 $x=y$ या कोई सम्बन्ध स्थापित नहीं किया जा सकता है

Solution for Question 46

eng/eng (I) $8x^2 + 3x = 38$
 $8x^2 + 19x - 16x - 38 = 0$
 $x(8x + 19) - 2(8x + 19) = 0$
 $(8x + 19)(x - 2) = 0$
 $x = 2, -19/8$ (i.e. -2.375)

(II) $6y^2 + 34 = 29y$
 $6y^2 - 29y + 34 = 0$
 $6y^2 - 12y - 17y + 34 = 0$
 $6y(y - 2) - 17(y - 2) = 0$
 $(y - 2)(6y - 17) = 0$
 $y = 2, 17/6$ (i.e. 2.83)
 $x < y$.

eng hin (I) $8x^2 + 3x = 38$
 $8x^2 + 19x - 16x - 38 = 0$
 $x(8x + 19) - 2(8x + 19) = 0$
 $(8x + 19)(x - 2) = 0$
 $x = 2, -19/8$ (i.e. -2.375)

(II) $6y^2 + 34 = 29y$
 $6y^2 - 29y + 34 = 0$
 $6y^2 - 12y - 17y + 34 = 0$
 $6y(y - 2) - 17(y - 2) = 0$
 $(y - 2)(6y - 17) = 0$
 $y = 2, 17/6$ (i.e. 2.83)
 $x < y$.

Q-47 Find the value of variables and state the correct relationship-
eng/eng चरों का मान ज्ञात कीजिये तथा सही सम्बन्ध ज्ञात कीजिये-

(I) $6x^2 + 23x + 20 = 0$

(II) $6y^2 + 41y + 63 = 0$

01. $x > y$

02. $x < y$

03. $x \geq y$

04. $x \leq y$

05. $x=y$ or no relationship can be established

$x=y$ या कोई सम्बन्ध स्थापित नहीं किया जा सकता है

Q-47 Find the value of variables and state the correct relationship-
eng hin चरों का मान ज्ञात कीजिये तथा सही सम्बन्ध ज्ञात कीजिये-

(I) $6x^2 + 23x + 20 = 0$

(II) $6y^2 + 41y + 63 = 0$

01. $x > y$

02. $x < y$

03. $x \geq y$

04. $x \leq y$

05. $x=y$ or no relationship can be established

$x=y$ या कोई सम्बन्ध स्थापित नहीं किया जा सकता है

Solution for Question 47

Ans Key: 1

eng/eng $x = -2.5, -1.33, y = -4.5, -2.33$
 $X > Y$

eng hin $x = -2.5, -1.33, y = -4.5, -2.33$
 $X > Y$

Q-48 Find the value of variables and state the correct relationship-
eng/eng चरों का मान ज्ञात कीजिये तथा सही सम्बन्ध ज्ञात कीजिये-

(I) $172 + 144 \div 18 = x$

(II) $y = 262 - 18 \times 21$

01. $x > y$

02. $x < y$

03. $x \geq y$

04. $x < y$

05. $x=y$ or no relationship can be established

$x=y$ या कोई सम्बन्ध स्थापित नहीं किया जा सकता है

Q-48 Find the value of variables and state the correct relationship-
eng hin चरों का मान ज्ञात कीजिये तथा सही सम्बन्ध ज्ञात कीजिये-

(I) $172 + 144 \div 18 = x$

(II) $y = 262 - 18 \times 21$

01. $x > y$

02. $x < y$

03. $x \geq y$

04. $x < y$

05. $x=y$ or no relationship can be established

$x=y$ या कोई सम्बन्ध स्थापित नहीं किया जा सकता है

Solution for Question 48

Ans Key: 2

eng/eng $x = 297, y = 298$
 $x < y$

eng hin $x = 297, y = 298$
 $x < y$

Q-49 Find the value of variables and state the correct relationship-
eng/eng चरों का मान ज्ञात कीजिये तथा सही सम्बन्ध ज्ञात कीजिये-

(I) $x^3 + y^3 = 6244$

(II) $2x - y = 23$

05. $x=y$ or no relationship can be established
 $x=y$ या कोई सम्बन्ध स्थापित नहीं किया जा सकता है

$$(II) \quad 2x - y = 23$$

05. $x=y$ or no relationship can be established
 $x=y$ या कोई सम्बन्ध स्थापित नहीं किया जा सकता है

Ans Key: 2

x=17 ,y=11
x<y

$$(II) \quad 9x - 2y = 83$$

05. $x=y$ or no relationship can be established
 $x=y$ या कोई सम्बन्ध स्थापित नहीं किया जा सकता है

$$(II) \quad 9x - 2y = 83$$

05. $x=y$ or no relationship can be established
 $x=y$ या कोई सम्बन्ध स्थापित नहीं किया जा सकता है

Ans Key: 2

$$\begin{array}{l} x=13 \quad y=17 \\ x < y \end{array}$$
$$832.62 - 469.21 \div (13.9\% \text{ of } 84.95) = ?$$

- 05.** 1200

निम्नलिखित प्रश्नों में प्रश्नवाचक चिन्ह (?) के स्थान पर अनुमानित मान क्या आना चाहिए?

[illegible]

Ans Key: 4

eng/eng $833 - 470 \div (14\% \times 85) = 793$

eng hin $833 - 470 \div (14\% \times 85) = 793$

O-52 What approximate value should come in place of question mark (?) in the following questions?

निम्नलिखित प्रश्नों में प्रश्नवाचक चिन्ह (?) के स्थान पर अनुमानित मान क्या आना चाहिए?

$$50.01^2 - 22.98^2 - ? = 30.972$$

01.	1000	02.	850
03.	1200	04.	1100
05.	1500		

Q-52 What approximate value should come in place of question mark (?) in the following questions?

निम्नलिखित प्रश्नों में प्रश्नवाचक चिन्ह (?) के स्थान पर अनुमानित मान क्या आना चाहिए?

$$50.01^2 - 22.98^2 - ? = 30.972$$

01. 1000	02. 850
03. 1200	04. 1100
05. 1500	

Ans Key: 1

eng/eng $2500 - 529 - 961 = 1010$

eng hin $2500 - 529 - 961 = 1010$

Q-53 What approximate value should come in place of question mark (?) in the following questions?

निम्नलिखित प्रश्नों में प्रश्नवाचक चिन्ह (?) के स्थान पर अनुमानित मान क्या आना चाहिए?

105.1% of 5401.01 - 4/7 % of 4200.12 - 15.999 = ?
5401.01 का 105.1% - 4200.12 का 4/7 % - 15.999 = ?

01. 6590 **02.** 6280
03. 5760 **04.** 5630
05. 5540

O-53 What approximate value should come in place of question mark (?) in the following questions?

निम्नलिखित प्रश्नों में प्रश्नवाचक चिन्ह (?) के स्थान पर अनुमानित मान क्या आना चाहिए?

105.1% of 5401.01 – 4/7 % of 4200.12 – 15.999 = ?
 5401.01 का 105.1% - 4200.12 का 4/7 % - 15.999 = ?

01. 6590 **02.** 6280
03. 5760 **04.** 5630
05. 5540

Ans Key: 4

eng/eng $105\% \times 5400 = 5670$

$$4200 \times \frac{4}{700} = 24$$

eng hin $105\% \times 5400 = 5670$

$$4200 \times \frac{4}{700} = 24$$

$$5670 - 40 = 5630$$

Q-54 What approximate value should come in place of question mark (?) in the following questions?
eng/eng निम्नलिखित प्रश्नों में प्रश्नवाचक चिन्ह (?) के स्थान पर अनुमानित मान क्या आना चाहिए?

$14.95 \times 9.05 + (88.01)^2 \times 13.99 = ?$

01. 106500

02. 107500
03. 108500

04. 110500
05. 104200

Q-54 What approximate value should come in place of question mark (?) in the following questions?
eng/eng निम्नलिखित प्रश्नों में प्रश्नवाचक चिन्ह (?) के स्थान पर अनुमानित मान क्या आना चाहिए?

$14.95 \times 9.05 + (88.01)^2 \times 13.99 = ?$

01. 106500

02. 107500
03. 108500

04. 110500
05. 104200

Solution for Question 54 Ans Key: 3

eng/eng $15 \times 9 + 88 \times 88 \times 14 = 108551$

eng/hin $15 \times 9 + 88 \times 88 \times 14 = 108551$

Q-55 What approximate value should come in place of question mark (?) in the following questions?
eng/eng निम्नलिखित प्रश्नों में प्रश्नवाचक चिन्ह (?) के स्थान पर अनुमानित मान क्या आना चाहिए?

$3\sqrt{4500} \times ?\% = 253$

01. 150

02. 125
03. 175

04. 200
05. 250

Q-55 What approximate value should come in place of question mark (?) in the following questions?
eng/hin निम्नलिखित प्रश्नों में प्रश्नवाचक चिन्ह (?) के स्थान पर अनुमानित मान क्या आना चाहिए?

$3\sqrt{4500} \times ?\% = 253$

01. 150

02. 125
03. 175

04. 200
05. 250

Solution for Question 55 Ans Key: 2

eng/eng $66 \times 3 \times ?/100 = 253$

$? \approx 125$

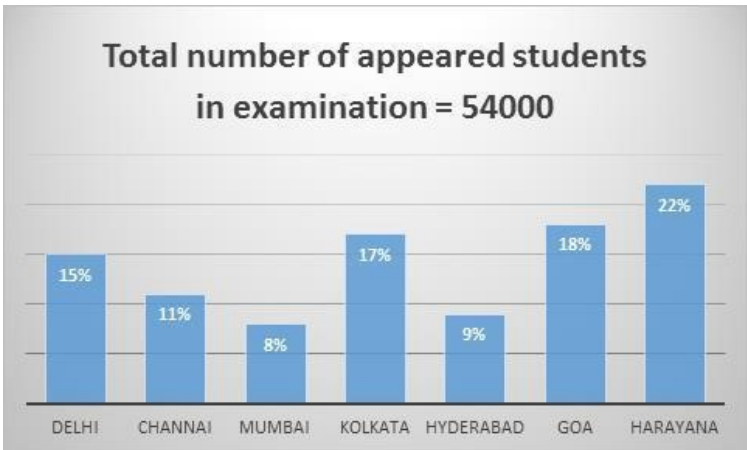
eng/hin $66 \times 3 \times ?/100 = 253$

$? \approx 125$

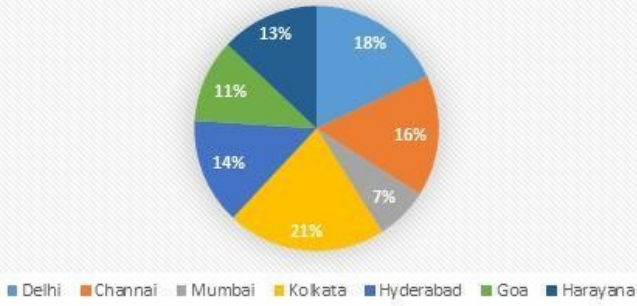
Passage for Question 56, 57, 58, 59, 60 (ST-2075RRBCLERKMAINS(16-20M)2020NP)

eng/eng Passage

Study the following Bar and Pie graphs and answer the questions asked-

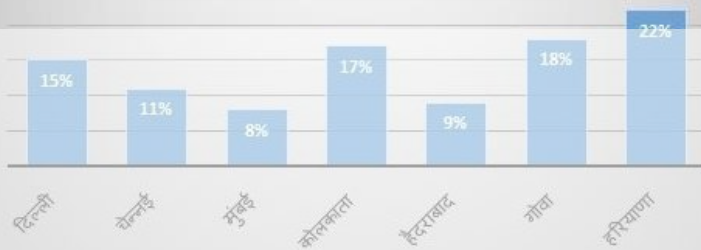


Total number of qualified students in examination = 32000

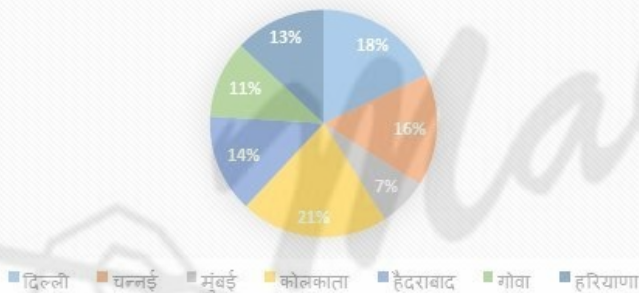


निम्नलिखित दंड आरेख और पाई ग्राफ का अध्ययन करें और पूछे गए प्रश्नों का उत्तर दीजिये-

परीक्षा में शामिल कुल विद्यार्थियों की संख्या = 54000



परीक्षा में उत्तीर्ण विद्यार्थियों की संख्या = 32000



eng hin Passage

Study the following Bar and Pie graphs and answer the questions asked-

Total number of appeared students in examination = 54000



Total number of qualified students in examination = 32000



$$\text{अभीष्ट अनुपात} = \frac{28 \times 32 \times 1000 \times 100}{22 \times 54 \times 1000 \times 100} = \frac{224}{297}$$

01. 70.22%	02. 69.22%
03. 72.22%	04. 73.52%
05. 74.23%	

01. 70.22%	02. 69.22%
03. 72.22%	04. 73.52%
05. 74.23%	

Ans Key: 3

eng/eng Qualified students from cities Delhi and Kolkata together = $32000 \times 39\%$
 Appeared students from cities Delhi and Kolkata together = $54000 \times 32\%$

$$\text{Required percentage} = \frac{39 \times 32 \times 1000}{32 \times 54 \times 1000} \times 100 = 72.22\% \text{ (approx.)}$$

शहर दिल्ली और कोलकाता में उत्तीर्ण कल विद्यार्थी = $32000 \times 39\%$

शहर दिल्ली और कोलकाता में शामिल विद्यार्थी = $54000 \times 32\%$

$$\text{अभीष्ट प्रतिशत} = \frac{39 \times 32 \times 1000}{32 \times 54 \times 1000} \times 100 = 72.22\% \text{ (लगभग)}$$

eng hin Qualified students from cities Delhi and Kolkata together = $32000 \times 39\%$
 Appeared students from cities Delhi and Kolkata together = $54000 \times 32\%$

$$\text{Required percentage} = \frac{39 \times 32 \times 1000}{32 \times 54 \times 1000} \times 100 = 72.22\% \text{ (approx.)}$$

शहर दिल्ली और कोलकाता में उत्तीर्ण कल विद्यार्थी = $32000 \times 39\%$

शहर दिल्ली और कोलकाता में शामिल विद्यार्थी = $54000 \times 32\%$

$$\text{अभीष्ट प्रतिशत} = \frac{39 \times 32 \times 1000}{32 \times 54 \times 1000} \times 100 = 72.22\% \text{ (लगभग)}$$

Q-58 What is the difference between the numbers of appeared students of cities Chennai and Hyderabad?
eng/eng शहर चेन्नई और हैदराबाद में शामिल विद्यार्थियों की संख्या में क्या अंतर है?

01. 1345	02. 1080
03. 1345	04. 1280
05. 1180	

Q-58 What is the difference between the numbers of appeared students of cities Chennai and Hyderabad?
eng hin शहर चेन्नई और हैदराबाद में शामिल विद्यार्थियों की संख्या में क्या अंतर है?

01.	1345	02.	1080
03.	1345	04.	1280
05.	1180		

Solution for Question 58

Ans Key: 2

eng/eng	Required difference = $54000 \times 2\% = 1080$ अभीष्ट अंतर = $54000 \times 2\% = 1080$
---------	--

eng hin Required difference = $54000 \times 2\% = 1080$
 अभीष्ट अंतर = $54000 \times 2\% = 1080$

Q-59 What is the ratio of the number of appeared students from cities Mumbai and Hyderabad together to that of appeared students from cities Delhi and Goa together?

शहर दिल्ली और गोवा में शामिल विद्यार्थियों का शहर मुंबई और हैदराबाद में शामिल विद्यार्थियों की संख्या में क्या अनुपात है?

01. 19:26
03. 26:17
05. 17:33

02. 17:26
04. 33:17

Q-59 What is the ratio of the number of appeared students from cities Mumbai and Hyderabad together to that of appeared students from cities Delhi and Goa

together?
 शहर दिल्ली और गोवा में शामिल विद्यार्थियों का शहर मुंबई और हैदराबाद में शामिल विद्यार्थियों की संख्या में क्या अनुपात है?

- | | |
|------------|-----------|
| 01. 19:26 | 02. 17:26 |
| 03. 26:17 | 04. 33:17 |
| 05. 17: 33 | |

Solution for Question 59 Ans Key: 5

eng/eng	Required ratio = $\frac{54000 \times 17\%}{54000 \times 33\%} = 17: 33$ अभीष्ट अनुपात = $\frac{54000 \times 17\%}{54000 \times 33\%} = 17: 33$
eng hin	Required ratio = $\frac{54000 \times 17\%}{54000 \times 33\%} = 17: 33$ अभीष्ट अनुपात = $\frac{54000 \times 17\%}{54000 \times 33\%} = 17: 33$

Q-60 In which city the percentage of qualified students with respect to appeared students is maximum?
eng/eng किस शहर में उत्तीर्ण होने वाले विद्यार्थी की संख्या का शामिल होने वाले विद्यार्थी की संख्या से प्रतिशत में अधिकतम है?

- | | |
|------------------------|---------------------------|
| 01. Delhi
दिल्ली | 02. Chennai
चेन्नई |
| 03. Mumbai
मुंबई | 04. Hyderabad
हैदराबाद |
| 05. Kolkata
कोलकाता | |

Q-60 In which city the percentage of qualified students with respect to appeared students is maximum?
eng/hin किस शहर में उत्तीर्ण होने वाले विद्यार्थी की संख्या का शामिल होने वाले विद्यार्थी की संख्या से प्रतिशत में अधिकतम है?

- | | |
|------------------------|---------------------------|
| 01. Delhi
दिल्ली | 02. Chennai
चेन्नई |
| 03. Mumbai
मुंबई | 04. Hyderabad
हैदराबाद |
| 05. Kolkata
कोलकाता | |

Solution for Question 60 Ans Key: 4

eng/eng	On the basis of graph Hyderabad is the highest percentage ग्राफ़ के आधार पर हैदराबाद का प्रतिशत अधिकतम है
eng hin	On the basis of graph Hyderabad is the highest percentage ग्राफ़ के आधार पर हैदराबाद का प्रतिशत अधिकतम है

Q-61 A mixture of 20 liters of sprit and water contains 10% water. After adding a certain amount of water, the weight of the new mixture is 25 liters. What is the percentage of water in the new mixture?
eng/eng 20 लीटर स्पिरिट और पानी के मिश्रण में, 10% पानी है। एक निश्चित मात्रा में पानी मिलाने के बाद, नए मिश्रण का भार 25 लीटर है। नए मिश्रण में पानी का प्रतिशत क्या है?

- | | |
|--|---------|
| 01. 18% | 02. 28% |
| 03. 12.5% | 04. 15% |
| 05. None of these
इनमें से कोई नहीं | |

Q-61 A mixture of 20 liters of sprit and water contains 10% water. After adding a certain amount of water, the weight of the new mixture is 25 liters. What is the percentage of water in the new mixture?
eng/hin 20 लीटर स्पिरिट और पानी के मिश्रण में, 10% पानी है। एक निश्चित मात्रा में पानी मिलाने के बाद, नए मिश्रण का भार 25 लीटर है। नए मिश्रण में पानी का प्रतिशत क्या है?

- | | |
|--|---------|
| 01. 18% | 02. 28% |
| 03. 12.5% | 04. 15% |
| 05. None of these
इनमें से कोई नहीं | |

Solution for Question 61 Ans Key: 2

eng/eng

Water in 20 liters = 2 liters

Added quantity of water = 25 – 20 = 5 liters

percentage of water in new mixture of 25 liters = $= \frac{7}{25} \times 100 = 28\%$

20 लीटर में पानी = 2 लीटर

पानी की मिलाई जाने वाली मात्रा = 25 – 20 = 5 लीटर

25 लीटर के नए मिश्रण में पानी का प्रतिशत = $= \frac{7}{25} \times 100 = 28\%$

eng hin

Water in 20 liters = 2 liters

Added quantity of water = 25 – 20 = 5 liters

percentage of water in new mixture of 25 liters = $= \frac{7}{25} \times 100 = 28\%$

20 लीटर में पानी = 2 लीटर

पानी की मिलाई जाने वाली मात्रा = 25 – 20 = 5 लीटर

25 लीटर के नए मिश्रण में पानी का प्रतिशत = $= \frac{7}{25} \times 100 = 28\%$

Q-62

eng/eng

Two equal sums were borrowed at 8% simple interest per annum for 2 years and 3 years, respectively. The difference in the interests was Rs.3080. The sum borrowed were -

दो बराबर धनराशि क्रमशः 2 वर्ष और 3 वर्ष के लिए प्रति वर्ष 8% साधारण ब्याज की दर पर उधार ली गई थी। ब्याजों में अंतर 3080 रुपये था। उधार ली गई राशियां थीं

01. Rs.37950

37950 रु.

02. Rs.38500

38500 रु.

03. Rs.40700

04. 42900 रु.

05. None of these

इनमें से कोई नहीं

Q-62

eng hin

Two equal sums were borrowed at 8% simple interest per annum for 2 years and 3 years, respectively. The difference in the interests was Rs.3080. The sum borrowed were -

दो बराबर धनराशि क्रमशः 2 वर्ष और 3 वर्ष के लिए प्रति वर्ष 8% साधारण ब्याज की दर पर उधार ली गई थी। ब्याजों में अंतर 3080 रुपये था। उधार ली गई राशियां थीं

01. Rs.37950

37950 रु.

02. Rs.38500

38500 रु.

03. Rs.40700

04. 42900 रु.

05. None of these

इनमें से कोई नहीं

Solution for Question 62

Ans Key: 2

eng/eng

ATQ

$$\frac{x \times 3 \times 8}{100} - \frac{x \times 2 \times 8}{100} = 3080$$

$$24x - 16x = 308000$$

$$8x = 308000$$

$$x = 38500$$

प्रश्नानुसार

$$\frac{x \times 3 \times 8}{100} - \frac{x \times 2 \times 8}{100} = 3080$$

$$24x - 16x = 308000$$

$$8x = 308000$$

$$x = 38500$$

eng hin

ATQ

$$\frac{x \times 3 \times 8}{100} - \frac{x \times 2 \times 8}{100} = 3080$$

$$24x - 16x = 308000$$

$$8x = 308000$$

$$x = 38500$$

प्रश्नानुसार

$$\frac{x \times 3 \times 8}{100} - \frac{x \times 2 \times 8}{100} = 3080$$

Q-64 Two boats A and B start towards each other from two places, 108 km apart. Speeds of the boats A and B in still water are 12 kmph and 15 kmph respectively. If A proceeds downstream and B upstream, they will meet after.
 दो नाव A और B दो स्थानों से शुरू होती हैं, जो 108 किमी की दूरी पर हैं। शांत जल में A और B नौकाओं की गति क्रमशः 12 किमी प्रति घंटा और 15 किमी प्रति घंटा है। यदि A अनुप्रवाह जाती है और B उध्प्रवाह जाती है, तो वे कितने समय बाद में मिलेंगी।

01. 4.5 hours/ घंटे
02. 4 hours / घंटे
03. 5.4 hours/ घंटे
04. 5.4 hours/ घंटे
05. 8.4 hours/ घंटे

Solution for Question 64

Ans Key: 2

eng/eng

Let the speed of the stream be x kmph and both the boats meet after t hours

According to the question,

$$(12 + x) t + (15 - x) t = 108$$

$$\Rightarrow 12t + 15t = 108 \Rightarrow 27t = 108$$

$$\Rightarrow t = \frac{108}{27} = 4 \text{ hours}$$

माना धारा की गति x किमी/घंटा और t समय बाद दोनों नाव मिलेंगी

प्रश्नानुसार,

$$(12+x) t + (15-x) t = 108$$

$$12 t + 15 t = 108$$

$$27 t = 108$$

$$T = 4 \text{ घंटे}$$

eng hin

Let the speed of the stream be x kmph and both the boats meet after t hours

According to the question,

$$(12 + x) t + (15 - x) t = 108$$

$$\Rightarrow 12t + 15t = 108 \Rightarrow 27t = 108$$

$$\Rightarrow t = \frac{108}{27} = 4 \text{ hours}$$

माना धारा की गति x किमी/घंटा और t समय बाद दोनों नाव मिलेंगी

प्रश्नानुसार,

$$(12+x) t + (15-x) t = 108$$

$$12 t + 15 t = 108$$

$$27 t = 108$$

$$T = 4 \text{ घंटे}$$

Q-65 In a city, 65% of population is literate in which ratio of male to female is 7 : 6 . And ratio of illiterate male to illiterate female is 3 : 4 . Find the ratio of illiterate female to literate male in that city.
 एक शहर में, 65% आबादी साक्षर है जिसमें पुरुष से महिला का अनुपात 7 : 6 है। और निरक्षर पुरुष का महिला से अनुपात 3 : 4 है। उस शहर में निरक्षर महिला का साक्षर पुरुष से अनुपात ज्ञात कीजिए।

01. 4 : 7
02. 1 : 2
03. 1 : 3
04. 3 : 1
05. None of these
इनमें से कोई नहीं

Q-65 In a city, 65% of population is literate in which ratio of male to female is 7 : 6 . And ratio of illiterate male to illiterate female is 3 : 4 . Find the ratio of illiterate female to literate male in that city.
 एक शहर में, 65% आबादी साक्षर है जिसमें पुरुष से महिला का अनुपात 7 : 6 है। और निरक्षर पुरुष का महिला से अनुपात 3 : 4 है। उस शहर में निरक्षर महिला का साक्षर पुरुष से अनुपात ज्ञात कीजिए।

01. 4 : 7
02. 1 : 2
03. 1 : 3
04. 3 : 1
05. None of these
इनमें से कोई नहीं

Solution for Question 65

Ans Key: 1

eng/eng	Literate Population	Illiterate Population
	65%	35%

Male	Female	Male	Female
7	6	3	4
35 %	30 %	15 %	20 %
Hence Required Ratio = 20 % : 35 % = 4 : 7			
साक्षर जनसँख्या		निरक्षर जनसँख्या	
65%		35%	
पुरुष	महिला	पुरुष	महिला
7	6	3	4
35 %	30 %	15 %	20 %
अतः अभीष्ट अनुपात = 20 % : 35 % = 4 : 7			

eng hin

Literate Population		Illiterate Population	
65%		35%	
Male	Female	Male	Female
7	6	3	4
35 %	30 %	15 %	20 %
Hence Required Ratio = 20 % : 35 % = 4 : 7			
साक्षर जनसँख्या		निरक्षर जनसँख्या	
65%		35%	
पुरुष	महिला	पुरुष	महिला
7	6	3	4
35 %	30 %	15 %	20 %
अतः अभीष्ट अनुपात = 20 % : 35 % = 4 : 7			

Q-66 Find the wrong number ?

eng/eng गलत संख्या ज्ञात कीजिये ?

3 9 8 12 17 23 30

01. 3 02. 9
03. 17 04. 8
05. None of these
इनमें से कोई नहीं

Q-66 Find the wrong number ?

eng hin गलत संख्या ज्ञात कीजिये ?

3 9 8 12 17 23 30

01. 3 02. 9
03. 17 04. 8
05. None of these
इनमें से कोई नहीं

Solution for Question 66

Ans Key: 2

eng/eng 2 , +3 , +4 , +5 , +6 , +7

eng hin 2 , +3 , +4 , +5 , +6 , +7

Q-67 Find the wrong number ?

eng/eng गलत संख्या ज्ञात कीजिये ?

2036 2037 2041 2050 2062 2091 2127

01. 2127 02. 2050
03. 2091 04. 2062
05. None of these
इनमें से कोई नहीं

Q-67 Find the wrong number ?

eng hin गलत संख्या ज्ञात कीजिये ?

2036 2037 2041 2050 2062 2091 2127

01. 2127 02. 2050
03. 2091 04. 2062
05. None of these

इनमें से कोई नहीं

Solution for Question 67

Ans Key: 4

eng/eng $+1^2$, $+2^2$, $+3^2$, $+4^2$, $+5^2$, $+6^2$

eng hin $+1^2$, $+2^2$, $+3^2$, $+4^2$, $+5^2$, $+6^2$

Q-68 Find the wrong number ?

eng/eng गलत संख्या ज्ञात कीजिये ?

13 117 966 6552 39312 196560 786240

01. 966

02. 13

03. 117

04. 196560

05. None of these
इनमें से कोई नहीं

Q-68 Find the wrong number ?

eng hin गलत संख्या ज्ञात कीजिये ?

13 117 966 6552 39312 196560 786240

01. 966

02. 13

03. 117

04. 196560

05. None of these
इनमें से कोई नहीं

Solution for Question 68

Ans Key: 1

eng/eng $\times 9$, $\times 8$, $\times 7$, $\times 6$, $\times 5$, $\times 4$

eng hin $\times 9$, $\times 8$, $\times 7$, $\times 6$, $\times 5$, $\times 4$

Q-69 Find the wrong number ?

eng/eng गलत संख्या ज्ञात कीजिये ?

1179 1198 1189 1212 1199 1222 1209

01. 1189

02. 1199

03. 1198

04. 1209

05. None of these
इनमें से कोई नहीं

Q-69 Find the wrong number ?

eng hin गलत संख्या ज्ञात कीजिये ?

1179 1198 1189 1212 1199 1222 1209

01. 1189

02. 1199

03. 1198

04. 1209

05. None of these
इनमें से कोई नहीं

Solution for Question 69

Ans Key: 3

eng/eng 23 , -13 , +23 , -13 , +23 , -13

eng hin 23 , -13 , +23 , -13 , +23 , -13

Q-70 Find the wrong number ?

eng/eng गलत संख्या ज्ञात कीजिये ?

2369 2371 2379 2389 2333 2423 2291

01. 2369

02. 2333

03. 2379

04. 2291

05. None of these
इनमें से कोई नहीं

Find the wrong number ?
गलत संख्या ज्ञात कीजिये ?

2369 2371 2379 2389 2333 2423 2291

01. 2369
03. 2379
05. None of these
इनमे से कोई नहीं
02. 2333
04. 2291

Solution for Question 70

Ans Key: 3

eng/eng $+(1 \times 2)$, $-(3 \times 4)$, $+(5 \times 6)$, $-(7 \times 8)$, $+(9 \times 10)$, $-(11 \times 12)$

eng hin $+ (1 \times 2)$, $- (3 \times 4)$, $+ (5 \times 6)$, $- (7 \times 8)$, $+ (9 \times 10)$, $- (11 \times 12)$

Passage for Question 71, 72, 73, 74, 75 (ST-2075RRBCLERKMAINS(31-35M)2020NP)

eng/eng Passage

Read the information carefully and give the answer of the following questions.

Out of 13000 students from the science-wing of a college 21% of the total number of students have only in Zoology. 12% of the total number of students have only in Botany , 15% of the total number of students have only in Chemistry . 7% of the total number of students have only in Physics and 10% of the total number of students have only in space science . 8% of the total number of students have in both Zoology as well as Physics. 4% of the total number of students have in space science as well as chemistry and 11% of the total number of students have in Botany as well as chemistry . 9% of the total Number of students have in zoology and Botany and 3% of the total number of students have in space science and Physics.

कॉलेज के विज्ञान-विंग के 13000 छात्रों में से कुल छात्रों की 21% संख्या केवल जंतु विज्ञान में है। कुल छात्रों में से 12% ने केवल वनस्पति विज्ञान में पढ़ाई की है, कुल छात्रों में से 15% ने केवल रसायन विज्ञान में पढ़ाई की है। छात्रों की कुल संख्या का 7% केवल भौतिक विज्ञान में प्रकाशित हुआ है और छात्रों की कुल संख्या का 10% केवल अंतरिक्ष विज्ञान में है। छात्रों की कुल संख्या का 8% जंतु विज्ञान के साथ-साथ भौतिक विज्ञान में भी प्रमुख है। कुल छात्रों में से 4% ने अंतरिक्ष विज्ञान के साथ-साथ रसायन विज्ञान में भी पढ़ाई की है और कुल छात्रों में से 11% ने वनस्पति विज्ञान के साथ-साथ रसायन विज्ञान में भी पढ़ाई की है। कुल छात्रों में से 9% ने जंतु विज्ञान और वनस्पति विज्ञान में पढ़ाई की है और कुल छात्रों में से 3% ने अंतरिक्ष विज्ञान और भौतिक विज्ञान में पढ़ाई की है।

eng hin Passage

Read the information carefully and give the answer of the following questions.

Out of 13000 students from the science-wing of a college 21% of the total number of students have only in Zoology. 12% of the total number of students have only in Botany , 15% of the total number of students have only in Chemistry . 7% of the total number of students have only in Physics and 10% of the total number of students have only in space science . 8% of the total number of students have in both Zoology as well as Physics. 4% of the total number of students have in space science as well as chemistry and 11% of the total number of students have in Botany as well as chemistry . 9% of the total Number of students have in zoology and Botany and 3% of the total number of students have in space science and Physics.

कॉलेज के विज्ञान-विंग के 13000 छात्रों में से कुल छात्रों की 21% संख्या केवल जंतु विज्ञान में है। कुल छात्रों में से 12% ने केवल वनस्पति विज्ञान में पढ़ाई की है, कुल छात्रों में से 15% ने केवल रसायन विज्ञान में पढ़ाई की है। छात्रों की कुल संख्या का 7% केवल भौतिक विज्ञान में प्रकाशित हुआ है और छात्रों की कुल संख्या का 10% केवल अंतरिक्ष विज्ञान में है। छात्रों की कुल संख्या का 8% जंतु विज्ञान के साथ-साथ भौतिक विज्ञान में भी प्रमुख है। कुल छात्रों में से 4% ने अंतरिक्ष विज्ञान के साथ-साथ रसायन विज्ञान में भी पढ़ाई की है और कुल छात्रों में से 11% ने वनस्पति विज्ञान के साथ-साथ रसायन विज्ञान में भी पढ़ाई की है। कुल छात्रों में से 9% ने जंतु विज्ञान और वनस्पति विज्ञान में पढ़ाई की है और कुल छात्रों में से 3% ने अंतरिक्ष विज्ञान और भौतिक विज्ञान में पढ़ाई की है।

Q-71 What is the respective ratio of the number of students in Physics to number of students only in Zoology?

eng/eng केवल जंतु विज्ञान में छात्रों की संख्या में और भौतिक विज्ञान में छात्रों की संख्या का संबंधित अनुपात क्या है?

01. 6:7
03. 11:12
05. 8:9

Q-71 What is the respective ratio of the number of students in Physics to number of students only in Zoology?

केवल जंतु विज्ञान में छात्रों की संख्या में और भौतिक विज्ञान में छात्रों की संख्या का संबंधित अनुपात क्या है?

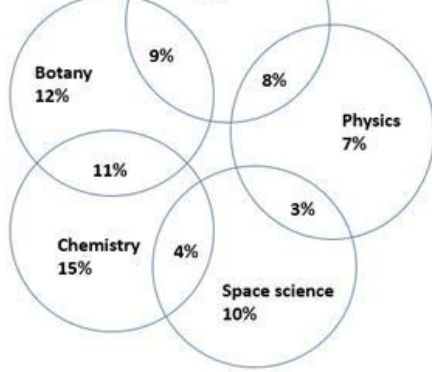
- 01.** 6 : 7 **02.** 3:2
03. 11:12 **04.** 3:8
05. 8:9

Solution for Question 71

Ans Key: 1

eng/eng



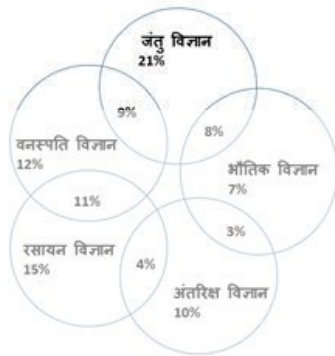


$$\text{Physics} = (7+8+3) \% = 18 \%$$

$$\text{Zoology} = 21 \%$$

$$\text{Ratio} = 18 : 21$$

$$= 6 : 7$$

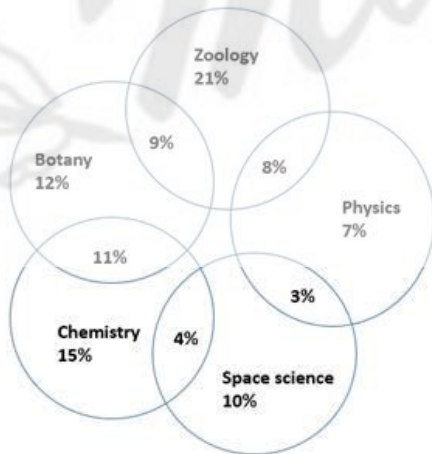


$$\text{भौतिक विज्ञान} = (7+8+3) \% = 18 \%$$

$$\text{जंतु विज्ञान} = 21 \%$$

$$\text{अनुपात} = 18 : 21$$

$$= 6 : 7$$

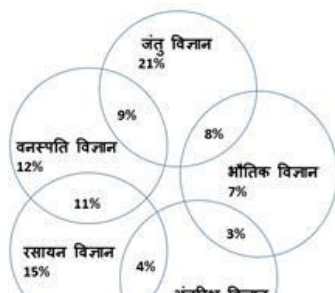


$$\text{Physics} = (7+8+3) \% = 18 \%$$

$$\text{Zoology} = 21 \%$$

$$\text{Ratio} = 18 : 21$$

$$= 6 : 7$$



$$= 6 : 7$$

$$\% = \frac{17}{30} \times 100 = 56.67\%$$



Solution for Question 73

Ans Key: 4



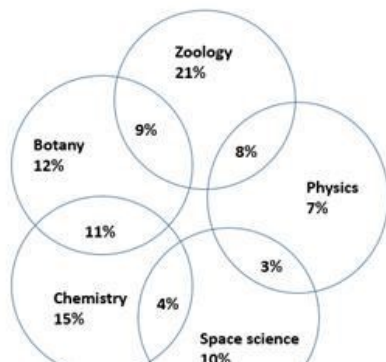
$$\% = \frac{17}{30} \times 100 = 56.67\%$$

How many students have only in Chemistry?
कितने छात्रों ने केवल रसायन विज्ञान में पढ़ाई की है?

- | | |
|----------|---------|
| 01. 1120 | 02. 670 |
| 03. 879 | 04. 975 |
| 05. 685 | |

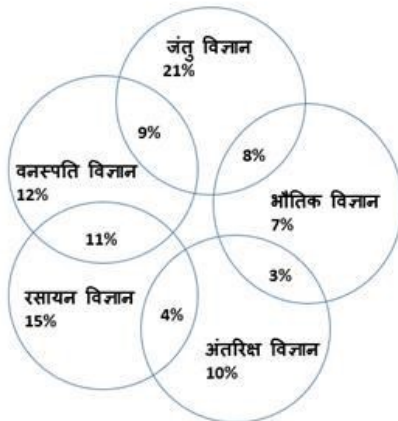
How many students have only in Chemistry?
कितने छात्रों ने केवल रसायन विज्ञान में पढ़ाई की है?

- 01.** 1120 **02.** 670
03. 879 **04.** 975
05. 685



No. of students only in Chemistry = 15% of 13000

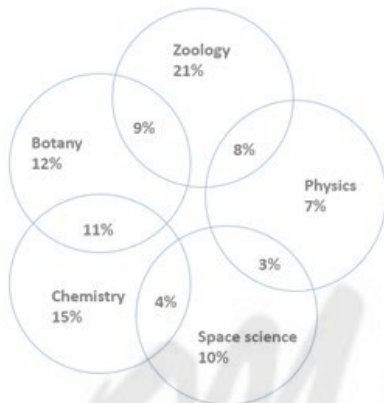
= 975



केवल रसायन विज्ञान में छात्रों की कुल संख्या = 15% of 13000

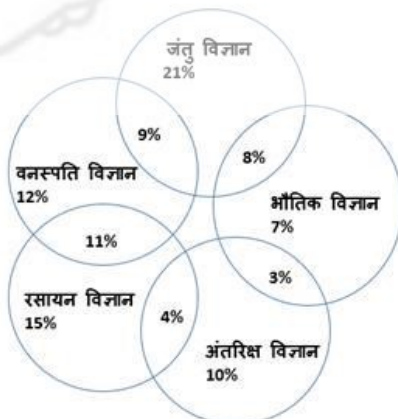
= 975

eng hin



No. of students only in Chemistry = 15% of 13000

= 975



केवल रसायन विज्ञान में छात्रों की कुल संख्या = 15% of 13000

= 975

Q-74

eng/eng

What is the total number of students in Botany?
वनस्पति विज्ञान में छात्रों की कुल संख्या कितनी है?

01. 2060

02. 2040

03. 2050

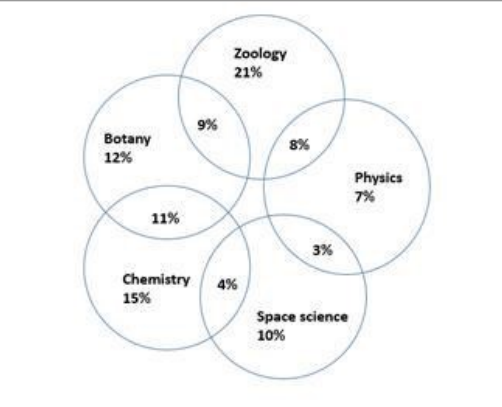
04. 2070

05. 2080
Q-74 What is the total number of students in Botany?
eng hin वनस्पति विज्ञान में छात्रों की कुल संख्या कितनी है?

01. 2060
02. 2040
03. 2050
04. 2070
05. 2080

Solution for Question 74 Ans Key: 5


eng/eng



Total no. of students in Botany = (12 + 9 + 11)% of 6500

= 32% of 6500

= 2080

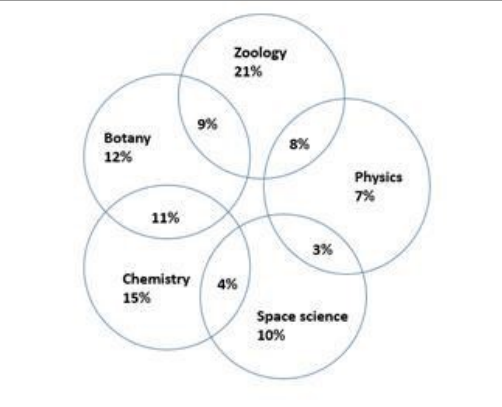


वनस्पति विज्ञान में छात्रों की कुल संख्या = (12 + 9 + 11)% of 6500

= 32% of 6500

= 2080

eng hin

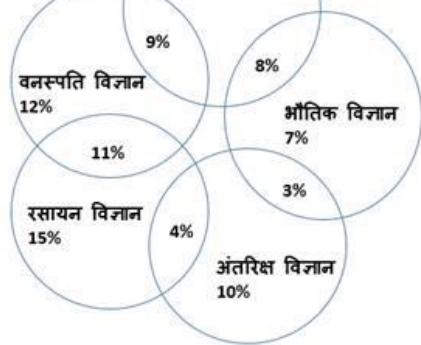


Total no. of students in Botany = (12 + 9 + 11)% of 6500

= 32% of 6500

= 2080





वनस्पति विज्ञान में छात्रों की कुल संख्या = $(12 + 9 + 11)\%$ of 6500

= 32% of 6500

= 2080

Q-75 Lowest number of students have in which subject?

eng/eng

सबसे कम छात्रों ने किस विषय में पढ़ाई की है?

- | | |
|---------------------------------------|-------------------------------|
| 01. Zoology
जंतु विज्ञान | 02. Botany
वनस्पति विज्ञान |
| 03. Space science
अंतरिक्ष विज्ञान | 04. Physics
भौतिक विज्ञान |
| 05. Chemistry
रसायन विज्ञान | |

Q-75 Lowest number of students have in which subject?

eng hin

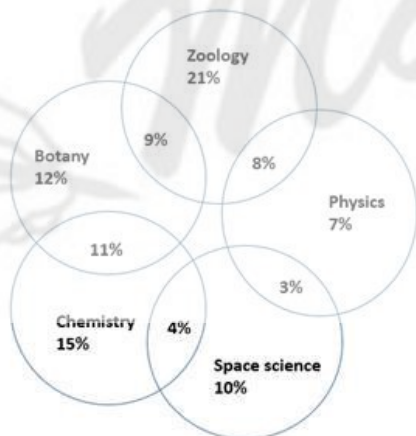
सबसे कम छात्रों ने किस विषय में पढ़ाई की है?

- | | |
|---------------------------------------|-------------------------------|
| 01. Zoology
जंतु विज्ञान | 02. Botany
वनस्पति विज्ञान |
| 03. Space science
अंतरिक्ष विज्ञान | 04. Physics
भौतिक विज्ञान |
| 05. Chemistry
रसायन विज्ञान | |

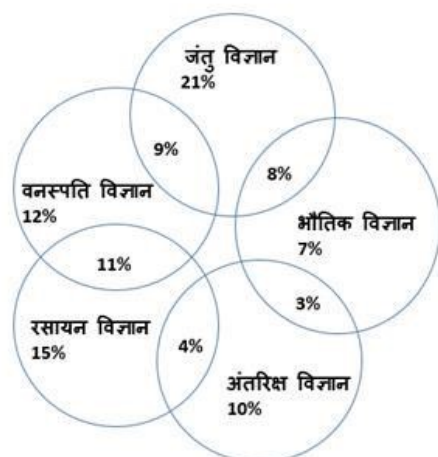
Solution for Question 75

Ans Key: 3

eng/eng

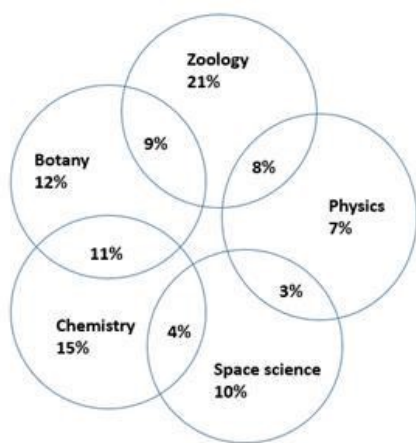


we can observe that the lowest number of students has in Space science

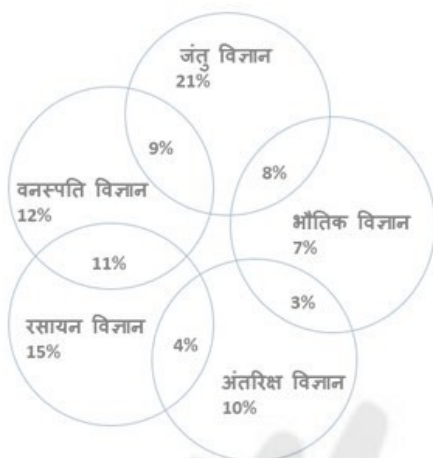


हम देख सकते हैं कि अंतरिक्ष विज्ञान में सबसे कम छात्र हैं

eng hin



we can observe that the lowest number of students has in Space science



हम देख सकते हैं कि अंतरिक्ष विज्ञान में सबसे कम छात्र हैं

Q-76
eng/eng

In each of the following questions, a question is followed by three statements numbered I, II and III. Read all the statements and find which information is/are necessary to answer.

निम्नलिखित में से प्रत्येक प्रश्न में, तीन कथन I, II और III दिए गए हैं। सभी कथनों को पढ़ें और ज्ञात कीजिये कि उत्तर देने के लिए कौन सी जानकारी/जानकारियां आवश्यक है।

What is the staff strength of company A?
कंपनी A के कर्मचारियों की संख्या कितनी है ?

- I. Male and female employees are in ratio of 2 : 3 respectively.
- II. The number of 80% male employees is 132.
- III. Total number of officers is 264 and remaining are workers.

- I. पुरुष और महिला कर्मचारियों का अनुपात क्रमशः 2 : 3 है।
 - II. 80% पुरुष कर्मचारियों की संख्या 132 है।
 - III. कुल अधिकारियों की संख्या 264 है और शेष श्रमिक हैं।
01. All three together are sufficient
सभी तीनों एक साथ पर्याप्त हैं
 02. I and II together |
I तथा II एक साथ
 03. I and II or III
I तथा II या III
 04. All three together are not sufficient
सभी तीनों एक साथ पर्याप्त नहीं हैं
 05. None of these
इनमें से कोई नहीं

Q-76
eng hin

In each of the following questions, a question is followed by three statements numbered I, II and III. Read all the statements and find which information is/are necessary to answer.

निम्नलिखित में से प्रत्येक प्रश्न में, तीन कथन I, II और III दिए गए हैं। सभी कथनों को पढ़ें और ज्ञात कीजिये कि उत्तर देने के लिए कौन सी जानकारी/जानकारियां आवश्यक है।

What is the staff strength of company A?
कंपनी A के कर्मचारियों की संख्या कितनी है ?

- I. Male and female employees are in ratio of 2 : 3 respectively.
- II. The number of 80% male employees is 132.
- III. Total number of officers is 264 and remaining are workers.
- I. पुरुष और महिला कर्मचारियों का अनुपात क्रमशः 2 : 3 है।
- II. 80% पुरुष कर्मचारियों की संख्या 132 है।
- III. कुल अधिकारियों की संख्या 264 है और शेष श्रमिक हैं।

- | | |
|--|--|
| <p>01. All three together are sufficient
सभी तीनों एक साथ पर्याप्त हैं</p> <p>03. I and II or III
I तथा II या III</p> <p>05. None of these
इनमें से कोई नहीं</p> | <p>02. I and II together
I तथा II एक साथ</p> <p>04. All three together are not sufficient
सभी तीनों एक साथ पर्याप्त नहीं हैं</p> |
|--|--|

Solution for Question 76

Ans Key: 2

eng/eng With the use of I and II we can find out the total number of employees.
कथन I और II की सहायता से कुल कर्मचारियों की संख्या ज्ञात कर सकते हैं।

eng hin With the use of I and II we can find out the total number of employees.
कथन I और II की सहायता से कुल कर्मचारियों की संख्या ज्ञात कर सकते हैं।

Q-77 In each of the following questions, a question is followed by three statements numbered I, II and III. Read all the statements and find which information is/are necessary to answer.

eng/eng निम्नलिखित में से प्रत्येक प्रश्न में, तीन कथन I, II और III दिए गए हैं। सभी कथनों को पढ़ें और ज्ञात कीजिये कि उत्तर देने के लिए कौन सी जानकारी/जानकारियां आवश्यक है।

What is Neelu's present age ?
नीलू की वर्तमान आयु क्या है ?

- I. Neelu's present age is $\frac{2}{5}$ of her mother's age.
- II. Neelu's mother's age will be thrice Neha's age after 5 years.
- III. Neha's seventeenth birthday was celebrated three years before.
- I. नीलू की वर्तमान आयु अपनी मां की आयु की $\frac{2}{5}$ है।
- II. पांच वर्ष बाद नीलू की मां की आयु नेहा की आयु की तीन गुना होगी।
- III. तीन वर्ष पहले नेहा का सत्रहवां जन्मदिन मनाया गया है।

- | | |
|--|--|
| <p>01. All three together are sufficient
सभी तीनों एक साथ पर्याप्त हैं</p> <p>03. I and II together
I तथा II एक साथ</p> <p>05. None of these
इनमें से कोई नहीं</p> | <p>02. II and III together
II तथा III एक साथ</p> <p>04. All three together are not sufficient
सभी तीनों एक साथ पर्याप्त नहीं हैं</p> |
|--|--|

Q-77 In each of the following questions, a question is followed by three statements numbered I, II and III. Read all the statements and find which information is/are necessary to answer.

eng hin निम्नलिखित में से प्रत्येक प्रश्न में, तीन कथन I, II और III दिए गए हैं। सभी कथनों को पढ़ें और ज्ञात कीजिये कि उत्तर देने के लिए कौन सी जानकारी/जानकारियां आवश्यक है।

What is Neelu's present age ?
नीलू की वर्तमान आयु क्या है ?

- I. Neelu's present age is $\frac{2}{5}$ of her mother's age.
- II. Neelu's mother's age will be thrice Neha's age after 5 years.
- III. Neha's seventeenth birthday was celebrated three years before.
- I. नीलू की वर्तमान आयु अपनी मां की आयु की $\frac{2}{5}$ है।
- II. पांच वर्ष बाद नीलू की मां की आयु नेहा की आयु की तीन गुना होगी।
- III. तीन वर्ष पहले नेहा का सत्रहवां जन्मदिन मनाया गया है।

- | | |
|--|--|
| <p>01. All three together are sufficient
सभी तीनों एक साथ पर्याप्त हैं</p> <p>03. I and II together
I तथा II एक साथ</p> <p>05. None of these
इनमें से कोई नहीं</p> | <p>02. II and III together
II तथा III एक साथ</p> <p>04. All three together are not sufficient
सभी तीनों एक साथ पर्याप्त नहीं हैं</p> |
|--|--|

Solution for Question 77

Ans Key: 1

eng/eng	All three together are sufficient सभी तीनों एक साथ पर्याप्त हैं
eng hin	All three together are sufficient सभी तीनों एक साथ पर्याप्त हैं

Q-78 In each of the following questions, a question is followed by three statements numbered I, II and III. Read all the statements and find which information is/are necessary to answer.

निम्नलिखित में से प्रत्येक प्रश्न में, तीन कथन I, II और III दिए गए हैं। सभी कथनों को पढ़ें और ज्ञात कीजिये कि उत्तर देने के लिए कौन सी जानकारी/जानकारियां आवश्यक है।

For what time the simple interest is Rs. 500?
कितने समय में साधारण ब्याज 500 रुपये होगा ?

- I. The compound interest on the same sum for two years is 484.
- II. Rate of interest is 5%.
- III. The difference between compound interest and simple interest on that sum for 2 years is Rs. 41.
- I. इसी धनराशि पर दो वर्षों का चक्रवृद्धि ब्याज 484 रुपये है।
- II. ब्याज की दर 5% है।
- III. समान धनराशि पर 2 वर्षों का चक्रवृद्धि ब्याज और साधारण ब्याज का अंतर 41 रुपये है।

01. All three together are sufficient
सभी तीनों एक साथ पर्याप्त हैं

02. I and (II or III)
I तथा (II या III)

03. I and III together
I तथा III एक साथ

04. II and (I or III)
II तथा (I या III)

05. None of these
इनमे से कोई नहीं

Q-78 In each of the following questions, a question is followed by three statements numbered I, II and III. Read all the statements and find which information is/are necessary to answer.

निम्नलिखित में से प्रत्येक प्रश्न में, तीन कथन I, II और III दिए गए हैं। सभी कथनों को पढ़ें और ज्ञात कीजिये कि उत्तर देने के लिए कौन सी जानकारी/जानकारियां आवश्यक है।

For what time the simple interest is Rs. 500?
कितने समय में साधारण ब्याज 500 रुपये होगा ?

- I. The compound interest on the same sum for two years is 484.
- II. Rate of interest is 5%.
- III. The difference between compound interest and simple interest on that sum for 2 years is Rs. 41.
- I. इसी धनराशि पर दो वर्षों का चक्रवृद्धि ब्याज 484 रुपये है।
- II. ब्याज की दर 5% है।
- III. समान धनराशि पर 2 वर्षों का चक्रवृद्धि ब्याज और साधारण ब्याज का अंतर 41 रुपये है।

01. All three together are sufficient
सभी तीनों एक साथ पर्याप्त हैं

02. I and (II or III)
I तथा (II या III)

03. I and III together
I तथा III एक साथ

04. II and (I or III)
II तथा (I या III)

05. None of these
इनमे से कोई नहीं

Solution for Question 78 Ans Key: 4

eng/eng	II and (I or III) are sufficient II तथा (I या III) पर्याप्त हैं
eng hin	II and (I or III) are sufficient II तथा (I या III) पर्याप्त हैं

Q-79 In each of the following questions, a question is followed by three statements numbered I, II and III. Read all the statements and find which information is/are necessary to answer.

निम्नलिखित में से प्रत्येक प्रश्न में, तीन कथन I, II और III दिए गए हैं। सभी कथनों को पढ़ें और ज्ञात कीजिये कि उत्तर देने के लिए कौन सी जानकारी/जानकारियां आवश्यक है।

What is the speed of the train?
रेलगाड़ी की चाल क्या है ?

- I. Length of the train is 300 meters.
- II. The train crosses a platform double of its length in 54 sec.
- III. The train crosses a signal pole in 18 sec
- I. रेलगाड़ी की लम्बाई 300 मी. है।
- II. रेलगाड़ी अपनी लम्बाई के दोगुने लम्बे प्लेटफॉर्म को 54 सेकण्ड में पार करती है।

III. रेलगाड़ी एक खम्भे को 18 से. में पार करती है।

01. All three together are sufficient
सभी तीनों एक साथ पर्याप्त हैं

02. II and III together
II तथा III एक साथ

03. I and III together
I तथा III एक साथ

04. All three together are not sufficient
सभी तीनों एक साथ पर्याप्त नहीं हैं

05. None of these
इनमें से कोई नहीं

Q-79
eng hin

In each of the following questions, a question is followed by three statements numbered I, II and III. Read all the statements and find which information is/are necessary to answer.

निम्नलिखित में से प्रत्येक प्रश्न में, तीन कथन I, II और III दिए गए हैं। सभी कथनों को पढ़ें और ज्ञात कीजिये कि उत्तर देने के लिए कौन सी जानकारी/जानकारियां आवश्यक है।

What is the speed of the train?

रेलगाड़ी की चाल क्या है ?

I. Length of the train is 300 meters.

II. The train crosses a platform double of its length in 54 sec.

III. The train crosses a signal pole in 18 sec

I. रेलगाड़ी की लम्बाई 300 मी. है।

II. रेलगाड़ी अपनी लम्बाई के दोगुने लम्बे प्लेटफॉर्म को 54 सेकण्ड में पार करती है।

III. रेलगाड़ी एक खम्भे को 18 से. में पार करती है।

01. All three together are sufficient
सभी तीनों एक साथ पर्याप्त हैं

02. II and III together
II तथा III एक साथ

03. I and III together
I तथा III एक साथ

04. All three together are not sufficient
सभी तीनों एक साथ पर्याप्त नहीं हैं

05. None of these
इनमें से कोई नहीं

Solution for Question 79

Ans Key: 5

eng/eng I and (II or III) are sufficient
I तथा (II या III) पर्याप्त हैं

eng hin I and (II or III) are sufficient
I तथा (II या III) पर्याप्त हैं

Q-80
eng/eng

In each of the following questions, a question is followed by three statements numbered I, II and III. Read all the statements and find which information is/are necessary to answer.

निम्नलिखित में से प्रत्येक प्रश्न में, तीन कथन I, II और III दिए गए हैं। सभी कथनों को पढ़ें और ज्ञात कीजिये कि उत्तर देने के लिए कौन सी जानकारी/जानकारियां आवश्यक है।

A milkman sells a homogeneous mixture of water and milk at a rate of Rs.40 per liter. Find the profit percentage of the milkman.

एक दूधवाला पानी और दूध के मिश्रण को 40 रुपये प्रति लीटर की दर से बेचता है। दूधवाले का लाभ प्रतिशत ज्ञात कीजिये।

I: He bought milk at the rate of Rs.35 per liter.

II: He bought water at Rs.10 lower than the rate of milk per liter.

III: He sold total 80 litre mixture.

I : उसने दूध 35 रुपये प्रति लीटर की दर से खरीदा।

II: उसने पानी को दूध से 10 रुपये प्रति लीटर कम दर से खरीदा।

III: उसने कुल 80 लीटर मिश्रण बेचा।

01. I and II
I तथा II

02. II and III
II तथा III

03. Any two
कोई भी दो

04. III and I or II
III तथा I या II

05. None of these
इनमें से कोई नहीं

Q-80
eng hin

In each of the following questions, a question is followed by three statements numbered I, II and III. Read all the statements and find which information is/are necessary to answer.

निम्नलिखित में से प्रत्येक प्रश्न में, तीन कथन I, II और III दिए गए हैं। सभी कथनों को पढ़ें और ज्ञात कीजिये कि उत्तर देने के लिए कौन सी जानकारी/जानकारियां आवश्यक है।

A milkman sells a homogeneous mixture of water and milk at a rate of Rs.40 per liter. Find the profit percentage of the milkman.

एक दूधवाला पानी और दूध के मिश्रण को 40 रुपये प्रति लीटर की दर से बेचता है। दूधवाले का लाभ प्रतिशत ज्ञात कीजिये।

I: He bought milk at the rate of Rs.35 per liter.
 II: He bought water at Rs.10 lower than the rate of milk per liter.
 III: He sold total 80 litre mixture.
 I: उसने दूध 35 रुपये प्रति लीटर की दर से खरीदा।
 II: उसने पानी को दूध से 10 रुपये प्रति लीटर कम दर से खरीदा।
 III: उसने कुल 80 लीटर मिश्रण बेचा।

- | | |
|--|--|
| 01. I and II
I तथा II | 02. II and III
II तथा III |
| 03. Any two
कोई भी दो | 04. III and I or II
III तथा I या II |
| 05. None of these
इनमें से कोई नहीं | |

Solution for Question 80 Ans Key: 5

eng/eng	All three together are not sufficient तीनों एक साथ भी पर्याप्त नहीं हैं
eng hin	All three together are not sufficient तीनों एक साथ भी पर्याप्त नहीं हैं

Q-81 Read each part of the sentence to find out if there is any error in it. The error, if any, will be in two parts of the sentence. Choose the option which represents the pair of incorrect parts. If there is no error, mark your answer as (5).

Subsidies are important for agriculture (A)/ and it is time for a two years plan (B)/ to roll out DBT for all fertilisers subsidies (C)/ for affected spending. (D)/no error.

- | | |
|--------------|-------------|
| 01. A and B | 02. A and C |
| 03. B and C | 04. B and D |
| 05. No error | |
- Q-81** नीचे दिया प्रत्येक वाक्य चार भागों में बांटा गया है जिन्हें (1),(2),(3),(4)और (5) क्रमांक दिए गये हैं। आपको यह देखना है कि वाक्य के किसी भाग में व्याकरण, भाषा, वर्तनी, शब्दों के गलत प्रयोग या इसी तरह की कोई त्रुटि अगर होगी तो वाक्य के किसी एक भाग या एक से अधिक भाग में हो सकती है। उस भाग का क्रमांक ही उत्तर है। अगर वाक्य त्रुटिरहित है तो उत्तर (5) अर्थात् कोई अशुद्धि नहीं दीजिए।

तीन वर्ष से मैं जिस पुस्तक की रचना में लगा था (1)/आज उसे छपे आकार में देखकर (2)/ मेरी प्रसन्नता का (3)/ ठिकाना नहीं है। (4) /कोई त्रुटि नहीं (5)

- | | |
|---------------------|------------|
| 01. 1 और 3 | 02. 1 और 4 |
| 03. 2 और 3 | 04. 1 और 2 |
| 05. कोई त्रुटि नहीं | |

Solution for Question 81 Ans Key: 4

eng/eng	'year' should replace 'years' in part B. In case of (number +noun +noun), the first noun should be singular. 'effective' should replace 'affected' in part D as an adjective is required. 'Affected' is a verb.
eng hin	निष्कर्ष – तीन वर्ष से मैं जिस पुस्तक की रचना में संलग्न था। आज उसे छपे रूप में देखकर।

Q-82 Read each part of the sentence to find out if there is any error in it. The error, if any, will be in two parts of the sentence. Choose the option which represents the pair of incorrect parts. If there is no error, mark your answer as (5).

An empty mind is a devil workshop (A)/ and with our demographic profile of such a large youth population (B)/job creation to gainfully employ (C)/ the youth has to be the most important focus. (D)/no error.

- | | |
|--------------|-------------|
| 01. A and C | 02. A and B |
| 03. B and C | 04. B and D |
| 05. No error | |

Q-82 नीचे दिया प्रत्येक वाक्य चार भागों में बांटा गया है जिन्हें (1),(2),(3),(4)और (5) क्रमांक दिए गये हैं। आपको यह देखना है कि वाक्य के किसी भाग में व्याकरण, भाषा, वर्तनी, शब्दों के गलत प्रयोग या इसी तरह की कोई त्रुटि अगर होगी तो वाक्य के किसी एक भाग या एक से अधिक भाग में हो सकती है। उस भाग का क्रमांक ही उत्तर है। अगर वाक्य त्रुटिरहित है तो उत्तर (5) अर्थात् कोई अशुद्धि नहीं दीजिए।

यह चित्र उस समय का है (1)/ जब अहिंसा के पुजारी (2) / महात्मा गांधी (3) / इस बस्ती में पधारे थे। (4)/ कोई त्रुटि नहीं (5)

- | | |
|------------|------------|
| 01. केवल 4 | 02. केवल 1 |
|------------|------------|

03. 1 और 4 दोनों

04. केवल 3

05. कोई त्रुटि नहीं

Solution for Question 82

Ans Key: 2

eng/eng "devil's" should replace "devil" in part A as 's shows possession (workshop of devil).
'youth' should be replaced by 'young' in part B as 'youth' is a noun but an adjective is required to qualify the noun (population).

eng hin केवल 1
निष्कर्ष- समय के स्थान पर 'अवसर' का प्रयोग होगा।

Q-83 Read each part of the sentence to find out if there is any error in it. The error, if any, will be in two parts of the sentence. Choose the option which represents the pair of incorrect parts. If there is no error, mark your answer as (5).

eng/eng

Many public sector banks reported losses in Oct-Dec (A)/ after Reserve Bank Of India found in its asset quality review (B)/that certain accounts need higher provisioning (C)/ and asked the lenders to classify those accounts as non-performing. (D)/no error.

01. A and C

02. A and B

03. B and C

04. B and D

05. No error

Q-83 नीचे दिया प्रत्येक वाक्य चार भागों में बांटा गया है जिन्हें (1),(2),(3),(4)और (5) क्रमांक दिए गये हैं। आपको यह देखना है कि वाक्य के किसी भाग में व्याकरण, भाषा, वर्तनी, शब्दों के गलत प्रयोग या इसी तरह की कोई त्रुटि अगर होगी तो वाक्य के किसी एक भाग या एक से अधिक भाग में हो सकती है। उस भाग का क्रमांक ही उत्तर है। अगर वाक्य त्रुटिरहित है तो उत्तर (5) अर्थात् कोई अशुद्धि नहीं दीजिए।

eng hin

भारत में शिक्षा के प्रयास (1)/ प्रचार-प्रसार के बावजूद (2)/ स्त्रियों के प्रति लोगों का दृष्टिकोण(3) / पूर्ववत-सा संतुचित एवं अनुदार है। (4)/ कोई त्रुटि नहीं (5)

01. केवल 1

02. केवल 4

03. कोई त्रुटि नहीं

04. 1 और 4 दोनों

05. केवल 3

Solution for Question 83

Ans Key: 5

eng/eng The given sentence is absolutely correct.

eng hin पूर्ववत-सा संतुचित एवं अनुदार है।
निष्कर्ष- सा का प्रयोग अनुचित है।

Q-84 Read each part of the sentence to find out if there is any error in it. The error, if any, will be in two parts of the sentence. Choose the option which represents the pair of incorrect parts. If there is no error, mark your answer as (5).

eng/eng

The world's mining giants were heavy criticized (A)/ in the years after the 2008 financial crisis (B)/, accuse of making ruinous acquisitions (C) and worse pursuing costly mine projects.(D)/no error.

01. A and C

02. A and B

03. B and C

04. B and D

05. No error

Q-84 नीचे दिया प्रत्येक वाक्य चार भागों में बांटा गया है जिन्हें (1),(2),(3),(4)और (5) क्रमांक दिए गये हैं। आपको यह देखना है कि वाक्य के किसी भाग में व्याकरण, भाषा, वर्तनी, शब्दों के गलत प्रयोग या इसी तरह की कोई त्रुटि अगर होगी तो वाक्य के किसी एक भाग या एक से अधिक भाग में हो सकती है। उस भाग का क्रमांक ही उत्तर है। अगर वाक्य त्रुटिरहित है तो उत्तर (5) अर्थात् कोई अशुद्धि नहीं दीजिए।

eng hin

अपनी-अपनी कक्षा में प्रथम आने वाले (1) / तीन विद्यार्थियों को (2) / सम्मानित करने के लिए (3) / फूलों के तीन गुलदस्ते मँगवाए (4) / कोई त्रुटि नहीं (5)

01. कोई त्रुटि नहीं

02. केवल 3 और 4

03. 1 और 4 दोनों

04. केवल 3

05. केवल 1 और 2

Solution for Question 84

Ans Key: 1

eng/eng 'heavily' should replace 'heavy' in part A as an adverb is required to qualify the verb(criticized).
'accused' should replace 'accuse' passive voice structure is required.

eng hin कोई त्रुटि नहीं

Q-85 Read each part of the sentence to find out if there is any error in it. The error, if any, will be in two parts of the sentence. Choose the option which represents the pair of incorrect parts. If there is no error, mark your answer as (5).

eng/eng

In all the metals, Copper is said to be (A)/ the most sought after industrial metal, as exist mines (B)/ age and the good news is that new ones (C) / are found in increasing difficult locations. (D)/no error.

01. A and C
02. A and B
03. B and C
04. B and D
05. No error

नीचे दिया प्रत्येक वाक्य चार भागों में बांटा गया है जिन्हें (1),(2),(3),(4) और (5) क्रमांक दिए गये हैं। आपको यह देखना है कि वाक्य के किसी भाग में व्याकरण, भाषा, वर्तनी, शब्दों के गलत प्रयोग या इसी तरह की कोई त्रुटि अगर होगी तो वाक्य के किसी एक भाग या एक से अधिक भाग में हो सकती है। उस भाग का क्रमांक ही उत्तर है। अगर वाक्य त्रुटिरहित है तो उत्तर (5) अर्थात् कोई अशुद्धि नहीं दीजिए।

उसका व्यक्तित्व आकर्षक है, (1)/ वह मधुर भाषी है (2)/ और उसकी जिह्वा पर (3)/ तो लक्ष्मी निवास करती है। (4) /कोई त्रुटि नहीं (5)

01. केवल 3
02. केवल 2
03. केवल 4
04. केवल 1
05. कोई त्रुटि नहीं

Solution for Question 85

Ans Key: 4

'existing' should be replaced by 'exist' in part B as it shows continuation.
'increasingly' should replace 'increasing' in part D as an adverb is required to qualify the adjective 'difficult'.

निष्कर्ष- लक्ष्मी के स्थान पर सरस्वती होगा।

Which of the Phrases (1), (2) (3) and (4) given below each sentence should replace the phrase given in bold in the sentence to make it grammatically correct. If the sentence is correct as it is given and no correction is required, mark (5) as the answer.

Assam Chief Minister questioned the source of the **Ruling party's huge election expenses and said**, the Centre's assertion of a non-corrupt government is "just a slogan".

01. Ruling party huge election expenses and said
02. Ruling party's huge election expenses and says
03. Ruling parties huge election expenses and said
04. Ruling party's huge election expense's and said
05. No correction is required

प्रत्येक वाक्य में उभरे हुए (बोल्ड) वाक्यांश को नीचे दिये गये वाक्यांशों (1),(2),(3) और (4) में से किसके द्वारा प्रतिस्थापित करने पर दिया गया वाक्य व्याकरण के आधार पर शुद्ध हो जायेगा। यदि दिया गया वाक्य शुद्ध है और किसी भी शुद्धिकरण की आवश्यकता नहीं है तो अपना उत्तर (5) दीजिए।

राष्ट्रपति अपने अधिकारों के प्रयोग के लिए किसी न्यायालय के प्रति उत्तरदायी नहीं क्योंकि उसके सारे कार्य क्लर्कों के द्वारा संपन्न होते हैं।

01. उसके सारे कार्य मंत्रियों द्वारा संपन्न होते हैं
02. उसके सारे कार्य स्वयं के द्वारा संपन्न होते हैं
03. उसके सारे कार्य विधायकों के द्वारा संपन्न होते हैं
04. कोई बदलाव की आवश्यकता नहीं।
05. उसके सारे कार्य मंत्रिपरिषद द्वारा संपन्न होते हैं

Solution for Question 86

Ans Key: 5

Assam Chief Minister questioned the source of the Ruling party's (to express 'of' apostrophe comma is used) huge election expenses (simple plural noun is correct here) and said (the reporting verb 'questioned' is in the past, so 'said' is correct), the Centre's assertion of a non-corrupt government is "just a slogan".

Assam Chief Minister questioned the source of the Ruling party's (to express 'of' apostrophe comma is used) huge election expenses (simple plural noun is correct here) and said (the reporting verb 'questioned' is in the past, so 'said' is correct), the Centre's assertion of a non-corrupt government is "just a slogan".

Which of the Phrases (1), (2) (3) and (4) given below each sentence should replace the phrase given in bold in the sentence to make it grammatically correct. If the sentence is correct as it is given and no correction is required, mark (5) as the answer.

At least five inmates of the district jail **were injure into a clash** that broke out between two gangs, an official said.

01. was injured in a clash
02. were injured in a clash
03. is injure on a clash
04. are injuring in the clash
05. No correction is required

प्रत्येक वाक्य में उभरे हुए (बोल्ड) वाक्यांश को नीचे दिये गये वाक्यांशों (1),(2),(3) और (4) में से किसके द्वारा प्रतिस्थापित करने पर दिया गया वाक्य व्याकरण के आधार पर शुद्ध हो जायेगा। यदि दिया गया वाक्य शुद्ध है और किसी भी शुद्धिकरण की आवश्यकता नहीं है तो अपना उत्तर (5) दीजिए।

हमारा देश उत्सवों और त्योहारों का देश है, यहाँ अनेकों त्योहार मनाए जाते हैं, ये त्योहार जनमानस में उल्लास जगाते हैं, लोगों में देशभक्ति और गौरव का भाव भरते हैं।

01. यहाँ अनेकों खुशियां मनाई जाती हैं 02. यहाँ अनेक त्योहार मनाए जाते हैं
 03. यहाँ अनेकों उत्सव मनाए जाते हैं 04. यहाँ अनेक खुशियां मनाई जाती हैं
 05. कोई बदलाव की आवश्यकता नहीं

Solution for Question 87

Ans Key: 2

eng/eng At least five inmates of the district jail were (plural and past form of verb is required according to 'inmates' and 'broke' respectively) injured (passive expression is correct here) in (showing the condition or state of somebody/something) a (in general sense 'a' is used) clash that broke out between two gangs, an official said.

eng hin यहाँ अनेक त्योहार मनाए जाते हैं

Q-88 Which of the Phrases (1), (2) (3) and (4) given below each sentence should replace the phrase given in bold in the sentence to make it grammatically correct. If the sentence is correct as it is given and no correction is required, mark (5) as the answer.

eng/eng

A court hearing related to a cheque bounce case against promoter of defunct company directed him **to appearing before them** on the next hearing in July.

01. for appearing on their 02. for appearing after it
 03. for appear to come before them 04. to appear before it
 05. No correction is required

Q-88 प्रत्येक वाक्य में उभरे हुए (बोल्ड) वाक्यांश को नीचे दिये गये वाक्यांशों (1),(2),(3) और (4) में से किसके द्वारा प्रतिस्थापित करने पर दिया गया वाक्य व्याकरण के आधार पर शुद्ध हो जायेगा। यदि दिया गया वाक्य शुद्ध है और किसी भी शुद्धिकरण की आवश्यकता नहीं है तो अपना उत्तर (5) दीजिए।

eng hin

एक भौगोलिक सीमा में एक राष्ट्रीय चेतना लेकर रहने वाले व्यक्तियों की समष्टि ही देश है।

01. दो समुदायों की समष्टि ही देश है। 02. दो जातियों की समष्टि ही देश है।
 03. दो व्यक्तियों की समष्टि ही देश है। 04. कोई बदलाव की आवश्यकता नहीं।
 05. दो जनाधारों की समष्टि ही देश है।

Solution for Question 88

Ans Key: 4

eng/eng A court hearing related to a cheque bounce case against promoter of defunct company directed him **to appear** ('to' generally takes 'v1') before (to express 'in front of') it (court is a non-living and singular entity) on the next hearing in July.

eng hin कोई बदलाव की आवश्यकता नहीं।

Q-89 Which of the Phrases (1), (2) (3) and (4) given below each sentence should replace the phrase given in bold in the sentence to make it grammatically correct. If the sentence is correct as it is given and no correction is required, mark (5) as the answer.

eng/eng

The son of the Pakistani bus driver was declared the new London mayor after he beat his nearest rival, marking the return of Labour rule to the capital after 8 yrs.

01. The son from a Pakistani bus driver was declaring 02. The son of a Pakistani bus driver was declaring
 03. The son of a Pakistani bus driver was declared 04. The son with the Pakistani bus driver was declared
 05. No correction is required

Q-89 प्रत्येक वाक्य में उभरे हुए (बोल्ड) वाक्यांश को नीचे दिये गये वाक्यांशों (1),(2),(3) और (4) में से किसके द्वारा प्रतिस्थापित करने पर दिया गया वाक्य व्याकरण के आधार पर शुद्ध हो जायेगा। यदि दिया गया वाक्य शुद्ध है और किसी भी शुद्धिकरण की आवश्यकता नहीं है तो अपना उत्तर (5) दीजिए।

eng hin

स्वदेश-प्रेम में वशीभूत होकर नागरिकों ने देश के आदेश पर सदा बड़े से बड़ा त्याग किया है।

01. देश के गुजारिस पर सदा बड़े से बड़ा 02. देश के लोगों पर सदा बड़े से बड़ा
 03. देश के आह्वान पर सदा बड़े से बड़ा 04. 2 और 3 दोनों
 05. कोई बदलाव की आवश्यकता नहीं।

Solution for Question 89

Ans Key: 3

eng/eng The son of a (the driver is unknown, so 'a' is correct article) Pakistani bus driver was declared (the action is done on 'the son', so passive form is required) the new London mayor after he beat his nearest rival, marking the return of Labour rule to the capital after 8 yrs.

eng hin देश के आह्वान पर सदा बड़े से बड़ा

Q-90 Which of the Phrases (1), (2) (3) and (4) given below each sentence should replace the phrase given in bold in the sentence to make it grammatically correct. If the sentence is correct as it is given and no correction is required, mark (5) as the answer.

eng/eng

The economic policies of the President are **"recklessly"** and **"most risk"**, Democratic front-runner campaign has said.

01. is "wreck" and "more risky" 02. are "reckless" and "more risky"
 03. is "recklessly" and "most risk" 04. are "reckless" and "most risky"
 05. No correction is required

प्रत्येक वाक्य में उभरे हुए (बोल्ड) वाक्यांश को नीचे दिये गये वाक्यांशों (1),(2),(3) और (4) में से किसके द्वारा प्रतिस्थापित करने पर दिया गया वाक्य व्याकरण के आधार पर शुद्ध हो जायेगा। यदि दिया गया वाक्य शुद्ध है और किसी भी शुद्धिकरण की आवश्यकता नहीं है तो अपना उत्तर (5) दीजिए।

जिस प्रकार अग्नि का धर्म जलना है उसी प्रकार मनुष्य का धर्म उसके स्वभाव का पर्याय होना चाहिए।

01. जिस प्रकार अग्नि का धर्म जलाना है 02. जिस प्रकार अग्नि का धर्म गर्म है
 03. जिस प्रकार अग्नि का धर्म कठोर है 04. जिस प्रकार अग्नि का धर्म दहकना है
 05. कोई बदलाव की आवश्यकता नहीं

Solution for Question 90		Ans Key: 4
eng/eng	The economic policies of the President are (according to 'policies' plural verb is correct) "reckless" (adjective is required at this place) and "most risk (an adjective is required according to 'reckless)", Democratic front-runner campaign has said.	
eng hin	जिस प्रकार अग्नि का धर्म दहकना है	

Q-91 In each of the following sentence, there are two blank spaces. Below each five pair of words have been denoted by numbers (1), (2), (3), (4) and (5). Find out which pair of words can be filled in the blanks in order to make a meaningful sentence.

The intensity of hailstorm could be _____by the fact that the roads looked as snowfall had _____in the city.

01. Guessed, prevented 02. Terminated, entered
 03. Depreciated, suspected 04. Gauged, occurred
 05. Restrained, shaken

नीचे दिए गए प्रत्येक प्रश्न में रिक्त स्थान छूटा हुआ है और उसके पांच विकल्प सुझाए गए हैं। इनमें से उचित शब्द का चयन कर देने से वह वाक्य एक अर्थपूर्ण वाक्य बन जाता है। सही शब्द ज्ञात कर उसके विकल्प को उत्तर के रूप में अंकित कीजिए, दिए गए शब्दों में से सर्वाधिक उपयुक्त शब्दों का चयन कीजिए।

वाणभट्ट की.....को विश्व का प्रथम उपन्यास माना जा सकता है। कुछ लोग जापानी भाषा में 1007 ई. में लिखा गया..... नामक उपन्यास को दुनिया का सबसे पहला उपन्यास मानते हैं।

01. हर्षचरितम्, जेन्जी की कहानी 02. चंडीशतक, जेन्जी की कहानी
 03. पार्वती परिणय, जेन्जी की कहानी 04. कादम्बरी, जेन्जी की कहानी
 05. मार्कण्डेय, जेन्जी की कहानी

Solution for Question 91		Ans Key: 4
eng/eng	Gauged, occurred For other options: Terminated (v)- ended Depreciated (v)- devalued Restrained (v)- limited	
eng hin	कादम्बरी, जेन्जी की कहानी	

Q-92 In each of the following sentence, there are two blank spaces. Below each five pair of words have been denoted by numbers (1), (2), (3), (4) and (5). Find out which pair of words can be filled in the blanks in order to make a meaningful sentence.

The _____of construction materials especially sand and metal will be more in the coming days with the ban on the materials being enforced

01. Shortage, marginally 02. Excess, excitingly
 03. Shortage, leniently 04. Shortage, strictly
 05. Excess, unknowingly

नीचे दिए गए प्रत्येक प्रश्न में रिक्त स्थान छूटा हुआ है और उसके पांच विकल्प सुझाए गए हैं। इनमें से उचित शब्द का चयन कर देने से वह वाक्य एक अर्थपूर्ण वाक्य बन जाता है। सही शब्द ज्ञात कर उसके विकल्प को उत्तर के रूप में अंकित कीजिए, दिए गए शब्दों में से सर्वाधिक उपयुक्त शब्दों का चयन कीजिए।

प्रधानमंत्री के स्वागत के लिए.....के दोनों ओर खड़े छात्र अपने हाथ में पुष्पमालाएं लिए थे, जिससे उनका.....कर सकें।

01. वीचि, स्वागत 02. वापी, स्वागत
 03. विधा, स्वागत 04. वीथि, स्वागत
 05. इनमें से कोई नहीं

Solution for Question 92

eng/eng	Shortage, strictly For other options: Leniently (adv)- lightly Marginally (adv)- slightly
eng hin	निष्कर्ष- यहाँ पर वीथि, और स्वागत का प्रयोग किया जायेगा।

Q-93 In each of the following sentence, there are two blank spaces. Below each five pair of words have been denoted by numbers (1), (2), (3), (4) and (5). Find out which pair of words can be filled in the blanks in order to make a meaningful sentence.

eng/eng

The officials will _____ the meat shops to check the _____ standard of the shops functioning at various parts in the district.

- | | |
|------------------------|----------------------|
| 01. Campaign, hygiene | 02. Inspect, hygiene |
| 03. Renovate, hygiene | 04. Auction, hygiene |
| 05. Dramatize, hygiene | |

Q-93 नीचे दिए गए प्रत्येक प्रश्न में रिक्त स्थान छूटा हुआ है और उसके पांच विकल्प सुझाए गए हैं। इनमें से उचित शब्द का चयन कर देने से वह वाक्य एक अर्थपूर्ण वाक्य बन जाता है। सही शब्द ज्ञात कर उसके विकल्प को उत्तर के रूप में अंकित कीजिए, दिए गए शब्दों में से सर्वाधिक उपयुक्त शब्दों का चयन कीजिए।

eng hin

वस्तुतः मनुष्य वही है जो मानवता का आदर करता है,.....व्यक्ति को किंकरतव्यविमूढ़ बना देती है।

- | | |
|-----------------------|----------------------|
| 01. यथार्थ, दुविधा | 02. सच्चा, दुविधा |
| 03. चरित्रवान, सुविधा | 04. सम्पूर्ण, दुविधा |
| 05. इनमें से कोई नहीं | |

Solution for Question 93

Ans Key: 2

eng/eng	Inspect, hygiene For other options: Campaign (v)- canvass Auction (v)- sale by bid Dramatize (v)- made a performance of
eng hin	सच्चा, दुविधा

Q-94 In each of the following sentence, there are two blank spaces. Below each five pair of words have been denoted by numbers (1), (2), (3), (4) and (5). Find out which pair of words can be filled in the blanks in order to make a meaningful sentence.

eng/eng

The effect of cold was also seen on colleges which _____ lesser number of students as many _____ to skip classes.

- | | |
|--------------------------|---------------------|
| 01. Appointed, select | 02. Ignored, wished |
| 03. Registered, chose | 04. Boasted, denied |
| 05. Undermined, lamented | |

Q-94 नीचे दिए गए प्रत्येक प्रश्न में रिक्त स्थान छूटा हुआ है और उसके पांच विकल्प सुझाए गए हैं। इनमें से उचित शब्द का चयन कर देने से वह वाक्य एक अर्थपूर्ण वाक्य बन जाता है। सही शब्द ज्ञात कर उसके विकल्प को उत्तर के रूप में अंकित कीजिए, दिए गए शब्दों में से सर्वाधिक उपयुक्त शब्दों का चयन कीजिए।

eng hin

मनुष्य के जीवन में आरोह-अवरोह होता रहता है, यह.....से भरा होता है, इसलिए यह जरूरी है कि हम अपने दैनिक जीवन में हमेशा चौकन्ने एवं.....रहे।

- | | |
|--------------------------|-----------------------|
| 01. नकारात्मकता, होशियार | 02. खुशियों, उत्तेजित |
| 03. असफलताओं, सावधान | 04. कुविचारों, सावधान |
| 05. इनमें से कोई नहीं | |

Solution for Question 94

Ans Key: 3

eng/eng	Registered, chose For other options: Boasted (v)—exaggerated Undermined (v)- weakened Lamented (v)- felt sorry about
eng hin	असफलताओं, सावधान

Q-95 In each of the following sentence, there are two blank spaces. Below each five pair of words have been denoted by numbers (1), (2), (3), (4) and (5). Find out which pair of words can be filled in the blanks in order to make a meaningful sentence.

eng/eng

During the meeting, the authorities jointly decided upon a number of steps that would be initiated to —————-fatalities and injuries
—————road accidents in the district.

- | | |
|------------------------|-----------------------|
| 01. Lessen, resulting | 02. Boost, resulting |
| 03. Enhance, resulting | 04. Favour, resulting |
| 05. Diverse, resulting | |

Q-95 नीचे दिए गए प्रत्येक प्रश्न में रिक्त स्थान छूटा हुआ है और उसके पांच विकल्प सुझाए गए हैं। इनमें से उचित शब्द का चयन कर देने से वह वाक्य एक
eng hin अर्थपूर्ण वाक्य बन जाता है। सही शब्द ज्ञात कर उसके विकल्प को उत्तर के रूप में अंकित कीजिए, दिए गए शब्दों में से सर्वाधिक उपयुक्त शब्दों का चयन कीजिए।

एक-न-एक दिन परिश्रम का फल जरूर मिलता है, इस बात में कोई.....नहीं है, लेकिन व्यक्ति को अपने.....से पीछे नहीं हटना चाहिए।

- | | |
|-----------------------|---------------------|
| 01. संदेह, कर्तव्यों | 02. भ्रम, कर्तव्यों |
| 03. दुविधा, कर्तव्यों | 04. असत्य, धर्मों |
| 05. इनमें से कोई नहीं | |

Solution for Question 95 Ans Key: 1

eng/eng Lessen, resulting
For other options:
Boost (v)- motivate
Diverse (adj)- various

eng hin संदेह, कर्तव्यों

Q-96 In the following question, two sentences are given. Each sentence has a pair of words that are highlighted. From the highlighted words select
eng/eng the most appropriate word (A or B) to form correct sentences.

- (i). The company offers month-long paid **satirical (A)** / **sabbatical (B)** for all employees.
(ii). During Dean's **surgeon (A)** / **sojourn (B)** in Paris, he spent two weeks visiting all of the city's cultural attractions.

- | | |
|--------------------|--------|
| 01. AA | 02. BB |
| 03. BA | 04. AB |
| 05. Both AA and BB | |

Q-96 नीचे दिये हुए तीन वाक्यों में से सही को चुनना है अगर दिये गये वाक्यों में से कोई वाक्य सही नहीं है तो अपना उत्तर(5) दे।

eng hin

- (1) पिछले सोमवार को स्कूल बन्द है।
(2) पिछले सोमवार को स्कूल बन्द रहेगा।
(3) पिछले सोमवार को स्कूल बन्द था।

- | | |
|------------------------|------------------|
| 01. केवल 1 | 02. केवल 3 |
| 03. केवल 2 | 04. 1 और 3 दोनों |
| 05. कोई वाक्य सही नहीं | |

Solution for Question 96 Ans Key: 2

eng/eng In 1st sentence sabbatical (n) which means a period of paid leave granted to a university teacher or other worker for study or travel, traditionally one year for every seven years worked and satirical means mocking, sarcastic
In 2nd sentence sojourn (n) is used which means a temporary stay and surgeon (n) means a doctor who is specially trained to perform medical operations

eng hin निष्कर्ष- यहां पर भूतकाल की बात की जा रही है, इसलिए पिछले सोमवार को स्कूल बन्द था।

Q-97 In the following question, two sentences are given. Each sentence has a pair of words that are highlighted. From the highlighted words select
eng/eng the most appropriate word (A or B) to form correct sentences.

- (i). The fact that the celebrity was behind the rumors was **appealing (A)** / **appalling (B)** to his followers.
(ii). People are asked to remain out of the abandoned **quarry (A)** / **query (B)** because of the danger of falling rocks.

- | | |
|--------------------|--------|
| 01. AB | 02. BA |
| 03. AA | 04. BB |
| 05. Both AA and BB | |

Q-97 नीचे दिये हुए तीन वाक्यों में से सही को चुनना है अगर दिये गये वाक्यों में से कोई वाक्य सही नहीं है तो अपना उत्तर(5) दे।

eng hin

- (1) कृपया आज का अवकाश देने की कृपा करें।
(2) आज का अवकाश कृपया देने की कृपा करें।
(3) आज का कृपया अवकाश देने की कृपा करें।

01. केवल 1
02. कोई वाक्य सही नहीं
03. केवल 2
04. केवल 3
05. 1 और 2 दोनों

Solution for Question 97

Ans Key: 2

eng/eng In 1st sentence appalling (adj.) is used which means very bad, awful
Appealing (adj.) means showing or expressing a desire for help or sympathy.
In 2nd sentence quarry (n) which means a place, typically a large, deep pit, from which stone or other materials are or have been extracted.
And query means (n) means question, having doubt

eng hin कोई वाक्य सही नहीं

Q-98 In the following question, two sentences are given. Each sentence has a pair of words that are highlighted. From the highlighted words select the most appropriate word (A or B) to form correct sentences.

eng/eng

- (i). Rather than fining the graffiti artist, the judge ordered him to make **reparation (A)/repatriation (B)** by painting the entire building.
(ii). My physics teacher challenged us to **refute (A) /refuse (B)** his laboratory findings with our own evidence.

01. AA
02. BB
03. AB
04. BA
05. Both AA and BB

Q-98 नीचे दिये हुए तीन वाक्यों में से गलत को चुनना है अगर दिये गये वाक्यों में से कोई वाक्य गलत नहीं है तो अपना उत्तर(5) दे।

eng hin

- (1) अधिकारियों ने कागजात की जाँच का।
(2) वन में प्रातःकाल का दृश्य बहुत ही खूबसूरत होता है।
(3) वह दंड पाने योग्य है।

01. 2 और 3 दोनों
02. 1 और 3 दोनों
03. केवल 2
04. कोई त्रुटि नहीं
05. केवल 1

Solution for Question 98

Ans Key: 1

eng/eng In 1st sentence reparation (n) is used which means payment for harm or damage and repatriation (n) which means the sending of money back to one's own country.
In 2nd sentence refute (v) is used which means disprove and refuse (v) means reject

eng hin निष्कर्ष- खूबसूरत के स्थान पर सुहावना का प्रयोग
वह दंड के योग्य है।

Q-99 In the following question, two sentences are given. Each sentence has a pair of words that are highlighted. From the highlighted words select the most appropriate word (A or B) to form correct sentences.

eng/eng

- (i). Hopefully the movie trailer **piqued (A) / peaked (B)** the interest of moviegoers and motivate them to buy tickets to see the film.
(ii). The criminal forced his wife to be his **consort (A)/ concert (B)** in crime.

01. AA
02. BB
03. AB
04. BA
05. Both AA and BB

Q-99 नीचे दिये हुए तीन वाक्यों में से गलत को चुनना है अगर दिये गये वाक्यों में से कोई वाक्य गलत नहीं है तो अपना उत्तर(5) दे।

eng hin

- (1) मैं गाने की कसरत करता हूँ।
(2) उसकी आँखों से आँसू बहते हैं।
(3) कारगिल युद्ध में सेना वीरता के साथ लड़े।

01. 1 और 3 दोनों
02. 1 और 2 दोनों
03. 2 और 3 दोनों
04. 1,2 और 3 तीनों
05. कोई त्रुटि नहीं

Solution for Question 99

Ans Key: 1

eng/eng In 1st sentence pique (v) is used which means arouse (interest or curiosity) and peaked (adj.) means rising to a point
In 2nd sentence consort (n) is used which means partner, companion
Concert (n) means a musical performance given in public, typically by several performers or of several compositions.

eng hin निष्कर्ष- मैं गाने की अभ्यास करता हूँ।

(i). The mountain trek will **exhilarate (A)/ accelerate (B)** tourists who love to challenge themselves.

(ii). His reactions to unpleasant situations tended to **aggregate (A)/ aggravate (B)** everyone's nerves.

- Q-100** नीचे दिये हुए तीन वाक्यों में से सही को चुनना है अगर दिये गये वाक्यों में से कोई वाक्य सही नहीं है तो अपना उत्तर(5) दे।

- Solution for Question 100 Ans Key: 4

eng hin कोई ब्रिटि नहीं

eng/eng Passage

(A) by repeatedly showing its discomfiture
(B) the ability of the once famed Indian statistical system
 (C) with data put out by the statistical system that is seemingly
 (D) for some time now, concerns have been voiced over
 (E) the government has only fuelled such doubts
 (F) to bring out credible and timely data
(G) at odds with its projected narrative.

नीचे दिए गए वाक्य के पहले और अंतिम भागों को क्रमशः (A) और (E) की संख्या दी गई है। ये उचित क्रम में नहीं हैं। उन्हें ध्यान से पढ़कर दिए गए विकल्पों में से उचित क्रम चुनिए, जिससे सही वाक्य का निर्माण हो।

- Q-101** Which of the following would be the **FOURTH** sentence after the rearrangement?

Q-101 दिये गये वाक्यों को क्रमबद्ध करने के बाद तीसरा वाक्य कौन सा होगा?

Solution for Question 101

Ans Key: 4

Ans Key: 4

eng/eng	The correct rearrangement is 'DBFEACG'. The passage is based on the 'Indian Statistical System.'
eng hin	बच्चे के छोटे से हृदय में पहले सुख और दुःख की सामान्य अनुभूति भरने के लिए जगह होती है।

Q-102 Which of the following would be the **SIXTH** sentence after the rearrangement?
eng/eng

01. D

03. E

05. F
02. A

04. C

Q-102 दिये गये वाक्यों को क्रमबद्ध करने के बाद चौथा वाक्य कौन सा होगा?
eng hin

01. D

03. C

05. F
02. A

04. E

Solution for Question 102 Ans Key: 4

eng/eng	The correct rearrangement is 'DBFEACG'. The passage is based on the 'Indian Statistical System.'
eng hin	पेट से भरा या खाली रहना ही ऐसी अनुभूति के लिए पर्याप्त होता है।

Q-103 Which of the following would be the **THIRD** sentence after the rearrangement?
eng/eng

01. E

03. F

05. D
02. A

04. B

Q-103 दिये गये वाक्यों को क्रमबद्ध करने के बाद दूसरा वाक्य कौन सा होगा?
eng hin

01. E

03. B

05. D
02. A

04. C

Solution for Question 103 Ans Key: 3

eng/eng	The correct rearrangement is 'DBFEACG'. The passage is based on the 'Indian Statistical System.'
eng hin	उच्च प्राणी मनुष्य भी केवल एक जोड़ी अनुभूति लेकर इस संसार में आता है।

Q-104 Which of the following would be the **FIFTH** sentence after the rearrangement?
eng/eng

01. B

03. C

05. A
02. G

04. E

Q-104 दिये गये वाक्यों को क्रमबद्ध करने के बाद पहला वाक्य कौन सा होगा?
eng hin

01. B

03. A

05. C
02. D

04. E

Solution for Question 104 Ans Key: 5

eng/eng	The correct rearrangement is 'DBFEACG'. The passage is based on the 'Indian Statistical System.'
eng hin	अनुभूति के समर से ही प्राणी के जीवन का आरंभ होता है।

Q-105 Which of the following would be the **FIRST** sentence after the rearrangement?
eng/eng

01. C

03. A

05. B
02. E

04. D

Q-105 दिये गये वाक्यों को क्रमबद्ध करने के बाद पाँचवा वाक्य कौन सा होगा?
eng hin

01. C
02. E

03. D

04. A

05. B

Solution for Question 105

Ans Key: 4

eng/eng The correct rearrangement is 'DBFEACG'. The passage is based on the 'Indian Statistical System.'

eng hin जीवन के आरंभ में इन्हीं दोनों के चिह्न हँसना और रोना देखे जाते हैं।

निष्कर्ष- CBDEA

Passage for Question 106, 107, 108, 109, 110, 111, 112, 113, 114, 115 (ST-2075 RRB CLERK MAINS (26-35) 2020)

eng/eng Passage

Read the following passage carefully and answer the questions given below. Certain words have been given in bold to help you locate them while answering some questions.

A substantial rise in consumer food price inflation to 14.12% in December 2019, the highest ever in the past six years, has driven the retail price inflation in this country. However, with the core inflation rate still not overshooting the Reserve Bank of India's (RBI) medium-term target of 4(+/- 2)%, speculations hover as to whether the RBI monetary policy committee will go for another rate cut in the coming month. This is a policy **dilemma** for the central bank not only because the overshooting inflation is resting on the back of undershooting growth and the fragile fiscal state of the economy, but more because the moot issues regarding the government's key economic estimates, such as the fiscal deficit, largely remain unresolved. The Comptroller and Auditor General has flagged discrepancies in the central government's fiscal deficit estimates for the past two years, stating that the current figures have been kept at a 1.5% to 2% low by not including the government's off-budget borrowings from public accounts, such as the National Small Savings Fund (NSSF). According to media reports, such off-budget expenditure of the current government stands at Rs1.5 lakh crore in 2019–20, and alarmingly, about three-fourths of the incremental off-budget expenditure are on account of under-recoveries in food subsidies of the Food Corporation of India (FCI).

Despite India's food subsidy bill almost doubling within a span of six years, only a part of it is earmarked in the union budget documents. For instance, the 2019–20 Union Budget had provisioned food subsidy at Rs 1.84 lakh crore, while the overdues of the FCI are already at Rs1.86 lakh crore. For these burgeoning overdues, however, the current government has been continually leveraging the balance sheet of the FCI—converting food subsidy into credits/borrowings (from the NSSF) through book adjustments—and running the corporation into a debt-trap situation. Consequently, since the past three years, the FCI's off-budget borrowings from the NSSF have been on the rise, constituting nearly 70% or more of the corporation's incremental debt burden in 2018–19. While one may argue that window dressing of subsidies is nothing specific to this government, it is hard to deny that never before had it been at such a scale, and that too for artificially repressing a vital economic indicator like the fiscal deficit. Not only is the efficacy of any inflation-targeting policy decision based on such distorted figures questionable, but it also brings to the fore the political intentions of the current government for inflation—especially food price inflation—management. As always, this time as well, the issues of agricultural supply management are relegated to the background by the standard causality argument of “crop damages” caused by excessive and unseasonal rains hitting supplies, and that the inflation will ease out once the new harvest comes in. This argument can hold some water for horticulture crops like onions that saw an almost 200% rise in price in November and December 2019, sparked by a poor rabi harvest last year, but may not find traction in explaining the price inflation of wheat and other cereals.

With the government currently stocking much higher quantities of cereals at the FCI than the buffer norms—45.8 million tonnes of wheat as against the buffer norm of 27.5 million tonnes and nearly double the amount of rice vis-à-vis the buffer norm of 13.5 million tonnes, as on July 2019—India is now a cereal surplus economy. Why then the inflation in cereal prices? Is this artificially created by the government through its irrational stocking practice? Some fundamental concerns are **triggered** at this juncture. First, with the economic costs (including procurement and storage of grains) of the FCI being 12 times or more than the (ad hoc) allocation cost of the grains through the public distribution system—Rs35 per kg versus Rs3 per kg for wheat, and Rs25 per kg versus Rs2 per kg for rice—higher stocks would imply higher subsidy bills. Second, and in tandem with the first, ad hoc releasing of the stocks will not bring about any major changes in the situation, beyond short-run political benefits to the ruling government at the cost of a ballooning subsidy bill. Third, in this context, off-budget borrowing can serve various politically expedient purposes. It has enabled the government to showcase a consistently low share (below 1%) of subsidies in national income, thereby diverting public attention from two critical facts: the FCI's tipping financials, and the country's (grossly) underestimated fiscal deficit.

When harnessing an inefficient supply system can be of such convenience, why will a government even try to resolve the supply bottlenecks in agriculture? Among other things, the rhetoric of doubling farm income and diversifying to high value agriculture can earn some brownie points with the electorate, whereas implementation of the recommendations of diversification of the Shanta Kumar Committee Report 2015 in the water-stressed, cereal-intensive states of the country may not be alluring for the same reason. Simultaneously, what more can a “consumer-friendly” government desire if a staggering food price inflation can be veiled by an overall “permissible” rate of inflation? But, herein, the proponents of the consumer friendliness of this government must recall that the “illusion” of this acceptable limit of inflation potentially rests upon the savings of the common consumers, which the government is unduly misemploying for its own gains.

eng hin Passage

नीचे दिए गए गद्यांश को ध्यानपूर्वक पढ़िए और इस पर आधारित प्रश्नों के उत्तर दीजिए। गद्यांश के अनुसार, दिए गए विकल्पों में से सबसे उपयुक्त विकल्प का चयन कीजिए।

राजनीति का क्षेत्र हो या अन्य कोई क्षेत्र, मनुष्य से धर्म को अलग किया ही नहीं जा सकता। राजनीति यदि शरीर है तो धर्म शरीर को अर्थवान् बनाने वाली आत्मा। शरीर से यदि आत्मा को अलग कर दिया जाये तो शरीर किस काम का? राजनीति यदि उफनती नहीं है तो धर्म उस नदी के मजबूत किनारों के रूप में है। आधुनिक युग में इस नदी के किनारे बाँधे थे- रामकृष्ण-विवेकानन्द ने, महात्मा गाँधी जी और डॉ. राधाकृष्णन् ने। **मानव** जीवन में धर्म का वही महत्व है जो शरीर में प्राण का है। प्राण के बिना शरीर व्यर्थ हो जाता है, वह सड़ने लगता है, धर्म ही जीवन को धारण करता है। धर्म ही जीवन का अवलम्ब है। जैसे आधारहीन वस्तु की कल्पना नहीं की जा सकती उसी तरह धर्म के बिना जीवन की कल्पना नहीं हो सकती।

आज सोचना है कि क्या हम उन महापुरुषों की वैचारिक विरासत का संरक्षण कर पा रहे हैं? राजनीति यदि व्यवस्था है तो धर्म इस व्यवस्था के लिए अदृश्य अंकुश है। यदि किसी व्यवस्था पर अंकुश ने हो तो वह अव्यवस्था बन जायेगी और वह जिसके हाथों में होगी वह क्रूर, नृशंस, स्वेच्छाचारी और तानाशाह बन जायेगा। दुनिया का इतिहास इस बात का साक्षी है कि जिन्होंने धर्म को ताक पर रख दिया उन्होंने मनुष्य के साथ अन्ततः खिलवाड़ किया। ऐसे लोगों की एक लम्बी **जमात** रही है। इनकी करनी – भरनी को कौन नहीं जानता? ऐसे लोगों का आगमन आज फिर इस देश में हो रहा है। पता नहीं इस देश के कर्णधार क्या चाहते हैं? आज लोगों ने धर्मग्रन्थों के अस्तित्व को हास्यास्पद बना दिया है।

स्वामी विवेकानन्द ने भारत के विकास में कार्यरत मानव के लिए जिन बातों पर जोर दिया था और कहा था अगर मनुष्य इस सब बातों को ध्यान में रख ले तो वह निश्चित ही आगे बढ़ जायेगा जिन बातों पर जोर दिया था वे हैं--- छवि, आध्यात्मिकता, विश्वास और अन्ततः सबके लिए प्रेम, विशेषकर गरीब, अनपढ़ तथा दलितों के लिए। यह काम वास्तव में महान् है, किन्तु दृढ़ इच्छा के सामने कुछ नहीं टिक सकता। भारतीयों में भारत माता के प्रति देश-भक्ति की भावना जाग्रत करने के लिए स्वामी विवेकानन्द ने कहा था- तुम मत भूलना कि तुम्हारी स्त्रियों का आदर्श सीता, सावित्री, है मत भूलना कि तुम्हारा जीवन अपने व्यक्तिगत सुख के लिए नहीं है मत भूलना की नीच, आज्ञानी, गरीब तुम्हारा रक्त और तुम्हारे भाई हैं। ये सब तुम्हारे भाई हैं और समय आने पर ये तुमसे कंधा से कंधा मिलाते हुए चलेगे।

भीतर से उन्हें आदर देने वाले कम होते जा रहे हैं। आज नहीं समझ में आता है कि न्यायालयों में अपराधियों से गीता और कुरान पर हाथ रखकर सौगंध खिलाने का आशय क्या है? न्याय की देवी का तराजू हाथ में लिये चित्र रखने का क्या अर्थ है? अहिंसा परमोधर्म और सत्यमेव जयते आदि जो वाक्य लिखे रहते हैं तथा विवेकानन्द और गाँधी जी की जो तस्वीर सरकारी कार्यालयों और संसद भवनों में लगी रहती है- उन सबका मतलब क्या है? क्या ये सब धर्म के स्मारक नहीं हैं? यदि नहीं तो फिर इनकी क्या जरूरत है इनको हटवा देना चाहिये। मनुष्य और राक्षस में बहुत भेद नहीं है जिससे धर्म का भय है, वह मनुष्य है और जो अहंकार में धर्म को ठेंगा दिखा सकता है, वह राक्षस है। जिन्दगी की नहर के दो किनारे हैं- एक किनारा राजनीति का और दूसरा धर्म का। आज धर्म की भी राजनीति की जाने लगी है जबकि धर्म और आध्यात्म आस्था और विश्वास की चीजें हैं। इन्हें किसी स्तर पर भुलाया नहीं जाना चाहिये।

विवेकानन्द जी ने एक धैर्य खो चुके शिष्य को समझाया कि श्रद्धावान बन, बहादुर बन, आत्मज्ञान प्राप्त कर। यही मेरी इच्छा एवं आशीर्वाद है। श्रद्धा का अभिप्राय कई बातों से है। पहली है आत्मविश्वास, दूसरी है हमारी सांस्कृतिक धरोहर के प्रति श्रद्धा। हमारी मातृभूमि का केन्द्र, प्राण-पखेरू धर्म में तथा केवल धर्म में ही है-मातृ देवो भव, पितृ देवो भव, आचार्य देवो भव- इन पर श्रद्धा वीर्यवान भव--- तुम्हारे अन्दर पूर्ण शक्ति निहित है- तुम सब कुछ करने में समर्थ है। इस शक्ति को पहचानो। उठो और अपना अन्तस्थ ब्रह्मभाव अभिव्यक्त करो और वीर बनो। मानव केवल एक बार ही मरता है। सारी शक्ति तुम्हारे अन्दर है। बल ही जीवन है, दुर्बलता मृत्यु। शैशव से ही तुम्हारे मस्तिष्क में सकारात्मक, सशक्त एवं परोपकारी विचार प्रविष्ट होने चाहिये। नेहरू जी का कथन स्मरणीय है, जो उन्होंने एक बार स्वामी विवेकानन्द को श्रद्धांजली देते हुए कहा था- अतीत में संलग्न तथा भारतीय धरोहर के प्रति गर्व से परिपूर्ण होते हुए भी विवेकानन्द जीवन की समस्याओं के प्रति आधुनिक धारणा रखते थे तथा भारत के अतीत एवं वर्तमान के मध्य सेतु की भाँति थे। प्रत्यक्ष अथवा परेक्ष रूप से उन्होंने आज के भारत को अत्यन्त प्रभावित किया है। हमारी युवा पीढ़ी स्वामीजी से लाभान्वित होगी, जिनकी वाणी प्रज्ञा एवं शक्ति से ओतप्रोत है।

जीवन में धर्म और आध्यात्म का महत्व सब दिन से रहा और आगे भी रहेगा। उपभोक्तावादी इस युग में धर्म के प्रति जो अवहेलना का भाव दिखाई देता है उसे अस्थायी समझना चाहिए। पश्चिम के देशों में इसके लक्षण प्रकट होने लगे हैं कि मनुष्य अपनी भौतिक समृद्धि से ऊबने लगा है। उसे यह अनुभूति होने लगी है कि खाने-पीने और मौज-मस्ती ही जीवन का अंतिम लक्ष्य नहीं है। भौतिक सुख ही सब कुछ नहीं है, इन्द्रियों को उससे तृप्ति भले ही मिल जाय पर इन्द्रियों से परे जो आत्मा है उसे शान्ति नहीं मिल सकती। आत्मा की शान्ति ही मानव का अंतिम लक्ष्य है। क्योंकि वही स्थायी है। अतः भौतिक सुखों से ऊपर उठ कर मानव को आत्मिक शान्ति के लिए प्रयास करना चाहिए।

Q-106
eng/eng

According to the passage, The Comptroller and Auditor General has-

01. Clearly stated that the fall in fiscal deficit estimates was up to two percent.
02. Embarked on the budget in the union budget documents.
03. Exposed that the reason behind the fall was off-budget borrowings.
04. Pointed out the differences in the central government's estimates.
05. Both 1 and 4

Q-106
eng hin

राजनीति से यदि धर्म को निकाल दिया जाता है तो क्या परिणाम होगा?

(a) सर्वनाश का कारण बन सकती है।
(b) धर्म को निरंकुश होने से बचाया जा सकता है।
(c) धर्म के प्रति अवहेलना का भाव जाग्रत होगा।

01. केवल A
02. केवल C
03. A और B दोनों
04. इनमें से कोई नहीं
05. केवल B

Solution for Question 106

eng/eng

The answer lies in the first paragraph of the passage.

eng hin

धर्म को निरंकुश होने से बचाया जा सकता है।
निष्कर्ष- उत्तर गद्यांश के पहले पैराग्राफ है।

Q-107
eng/eng

With reference to the passage, which of the following points is/are TRUE in the context of the FCI?

A. FCI's borrowing constituted nearly half of the corporation's debt.
B. FCI was in a debt-trap situation for the past three years.
C. FCI borrowed a high amount from NSSF raising its off-budget.

01. Only A
02. Only B
03. Only C
04. Both A and B
05. Both B and C

Q-107
eng hin

दिये गये गद्यांश के अनुसार मानव जीवन में धर्म का क्या महत्व है?

(a) धर्म के बिना जीवन की कल्पना हो सकती है।
(b) आधारहीन वस्तु की कल्पना नहीं की जा सकती।
(c) धर्म के बिना जीवन की कल्पना नहीं हो सकती है।
(d) आधारहीन वस्तु की कल्पना की जा सकती।

01. A और B
02. C और D

03. A और D

04. इनमें से कोई नहीं

05. B और C

Solution for Question 107

Ans Key: 5

eng/eng The answer lies in the second paragraph of the passage.

eng hin निष्कर्ष- उत्तर गद्यांश के पहले पैराग्राफ है।

Q-108 As per your reading of the passage, the efficacy of the inflation-targeting policy decision-

eng/eng

- A. Raises an argument related to crop damages.
B. Gives rise to controversy or public disagreement.
C. Exposes the current government's intentions.

01. Only A

02. Both B and C

03. Both A and C

04. Only B

05. Both A and B

Q-108 जीवन अपने निजी सुख के लिए न होने से स्वामीजी का क्या अभिलाषा है?

eng hin

- (a) दूसरों का जीवन सुखी बनाना।
(b) देशभक्त का जीवन दुःखदायी होना।
(c) स्वयं के सुख की प्रवाह किये बिना कमजोर एवं गरीब देशवासियों का सुखी रखने की कोशिश करना।

01. केवल A

02. केवल C

03. केवल B

04. A और B दोनों

05. इनमें से कोई नहीं

Solution for Question 108

Ans Key: 2

eng/eng The answer lies in the second paragraph of the passage.

eng hin स्वयं के सुख की प्रवाह किये बिना कमजोर एवं गरीब देशवासियों का सुखी रखने की कोशिश करना।

निष्कर्ष- उत्तर गद्यांश के तीसरे पैराग्राफ है।

Q-109 According to the passage, currently, which of the following issues have been sidelined?

eng/eng

01. Issues of food price inflation management
02. Issues of agricultural supply management.
03. Issues of budget expenditure management
04. Issues of food distribution management
05. Both (1) and (2)

Q-109 दिए गये गद्यांश में बोल्ट(उभरे) हुए शब्द का विलोम शब्द बताये?

eng hin

परोपकारी

01. उपकारी

02. अपकारी

03. आनोपकारी

04. अनउपकारी

05. इनमें से कोई नहीं

Solution for Question 109

Ans Key: 2

eng/eng The answer lies in the second paragraph of the passage.

eng hin अपकारी

Q-110 With reference to the passage, it is an illusion that-

eng/eng

- A. The limit of increase in prices depends on the money that the common consumers have saved.
B. The limit of the general increase in prices and fall in the purchasing value of money is acceptable.
C. The limit of fall in the purchasing value of money depends on the earning of common consumers.

01. Only A

02. Only B

03. Only C

04. Both A and B

05. Both B and C

Q-110 पं. जवाहरलाल नेहरू जी का कौन सा कथन स्मरणीय था?

eng hin

01. स्वामी जी भारत के अतीत एवं वर्तमान के मध्य सेतु की भाँति थे।
02. स्वामी जी भारत के अतीत एवं वर्तमान के मध्य विभाजित थे।
03. स्वामी जी भारत के अतीत एवं वर्तमान के मध्य एक रक्षक के रूप में थे।
04. स्वामी जी भारत के अतीत एवं वर्तमान के मध्य संघ प्रमुख के रूप में थे।
05. इनमें से कोई नहीं।

Solution for Question 110

Ans Key: 1

eng/eng The answer lies at the end of the passage.

eng hin

Q-111 According to the passage, “Inflation will ease out once the new harvest comes in” is an argument which can justify-

eng/eng

- A. Price Inflation of cereals except for wheat.
B. Price Inflation of horticulture crops.
C. Price Inflation of wheat.

01. Only A
02. Only B
03. Only C
04. Both A and B
05. Both B and C

Q-111 विवेकानन्द द्वारा नये निर्माण में कार्यरत् मनुष्य में किस अच्छाई का होना परम आवश्यक मानते थे?

eng hin

01. प्रेम की भावना
02. दृढ़ इच्छा
03. शिक्षा के विसास में रूचि
04. चरित्र का विकास
05. इनमें से कोई नहीं

Solution for Question 111

Ans Key: 2

eng/eng The answer lies at the end of the second paragraph.

eng hin निष्कर्ष- उत्तर गद्यांश के पाचवे पैराग्राफ है।

Q-112 As per your reading of the passage, which two facts are contradicting each other?

eng/eng

- A. The allocation cost of the grains is high.
B. Farm produce of India is in abundance.
C. India has an efficient supply system.
D. Inflation is observed in cereal prices.

01. Both B and C
02. Both C and D
03. Both A and C
04. Both A and B
05. Both B and D

Q-112 दिए गये गद्यांश में बोल्ड(उभरे) हुए शब्द का समानार्थी शब्द बताये?

eng hin

जमात

- (a) कक्षा
(b) दरजा
(c) समुदाय

01. केवल A
02. केवल B
03. केवल C
04. A और C
05. इनमें से सभी

Solution for Question 112

Ans Key: 5

eng/eng Solution
The answer lies in the third paragraph of the passage.

eng hin इनमें से सभी

Q-113 Which of the following can be considered the theme of the passage?

eng/eng

01. Food inflation can be proved harmful to the economic growth of the country so it should be tackled.
02. The government should try to resolve the supply bottlenecks in agriculture before the worsening of the economy.
03. The current food price inflation results from a systemic crisis of supply management in agriculture.
04. Price Inflation can be controlled by resolving the government's key economic estimates, like fiscal surplus.

05. Food inflation has been regularly observed in our country since the past six years resulting in growth.

Q-113 **दिये गद्यांश के अनुसार आज धर्म माखौल की वस्तु क्यों बनता जा रहा है।**

- (a) क्योंकि आज धर्म में किसी की आस्था नहीं रह गई।
(b) क्योंकि हम उसका आडम्बर रचते हैं।
(c) क्योंकि हम उसको इच्छा के विरुद्ध अपनाते हैं।

01. केवल A
02. केवल B
03. A और B दोनों
04. A और C दोनों
05. इनमें से कोई नहीं

Solution for Question 113		Ans Key: 3
eng/eng	In the passage, the reason behind the current food inflation that has been stressed by the author is the ongoing crises observed in the supply management of India. The option which best expresses this fact is (3).	
eng hin	A और B दोनों	

Q-114 Choose the word most **OPPOSITE** in meaning to the word given in bold, as used in the passage.

Trigger

01. Activate
02. Generate
03. Prevent
04. Start
05. Parallel

Q-114 **दिये गये गद्यांश में अन्तस्थ ब्रह्माभाव का क्या अर्थ है?**

01. ईश्वर को पूरे मन से याद करना।
02. ईश्वर को अपना हितकारी समझना।
03. ईश्वर को बाहर ढूढ़ने की अपेक्षा अपने ही अन्दर सर्वशक्तिमान का अहसास करना।
04. अपने अन्दर ईश्वर के विषय में विचार लाना।
05. इनमें से कोई नहीं।

Solution for Question 114		Ans Key: 3
eng/eng	'Trigger' means 'start' which is the opposite of the word 'prevent (stop)'.	
eng hin	ईश्वर को बाहर ढूढ़ने की अपेक्षा अपने ही अन्दर सर्वशक्तिमान का अहसास करना। निष्कर्ष- उत्तर गद्यांश के पाचवे पैराग्राफ है।	

Q-115 Choose the word most **SIMILAR** in meaning to the word given in bold, as used in the passage.

Dilemma

01. Certainty
02. Advantage
03. Conflict
04. Acceptance
05. Clarity

Q-115 **दिए गये गद्यांश में बोल्ड(उभरे) हुए शब्द का विलोम शब्द बताये?**

- मानव
01. दैत्य
02. राक्षस
03. दानव
04. पुरुष
05. इनमें से कोई नहीं

Solution for Question 115		Ans Key: 3
eng/eng	'Dilemma' means 'difficult situation' which can be best expressed by the word 'conflict.'	
eng hin	दानव	

Passage for Question 116, 117, 118, 119, 120 (ST-2075 RRB CLERK MAINS (36-40) 2020)

eng/eng Passage

In the following passage, there are blanks each of which has been numbered. These numbers are given below the passage and against each, three words have been suggested. Find out the appropriate word(s) which fit(s) in the blank.

The NDA government has kicked off the disinvestment process for Air India for the second time — its previous attempt in 2018 had failed to receive a single bid. It has issued a preliminary information memorandum for interest to sell its stake in Air India, Air India Express and Air India-SATS. _____ (P) bidders will be notified by March 31, implying that the stake sale will be closed only in the next _____ (Q) year. But this time, the government seems to have taken care to address some of the contentious issues which had _____ (R) investor interest in the past. This is a welcome move. As the airline has been incurring huge losses, there is simply no rationale for continuing to pump in money into a loss-making entity operating in a hyper-competitive sector where consumers are well-served by the private sector.

The government has sweetened the deal on several counts. First, unlike last time when it offered to offload only 76 percent of its stake in the airline, the government will offload its entire stake. This is likely to encourage prospective bidders as it implies having full operational freedom to run the carrier. Second, the government has taken steps to address the airline's massive debt, which has been a major _____ (S) block for prospective buyers. This time around, the government has transferred part of the debt to a special purpose vehicle. As a result, the buyer will now have to take over only Rs 23,286 crore of debt. Third, the government has lowered the net worth criteria for potential bidders from Rs 5,000 crore to Rs 3,500 crore. Fourth, eligibility norms have been _____ (T) and consortiums have been given greater flexibility for bidding, making it a better structured deal.

eng hin Passage

नीचे दिए गए गद्यांश में रिक्त स्थान छूटा हुआ है और उसके पांच विकल्प सुझाए गए हैं। इनमें से उचित शब्द का चयन कर देने से वह वाक्य एक अर्थपूर्ण वाक्य बन जाता है। सही शब्द ज्ञात कर उसके विकल्प को उत्तर के रूप में अंकित कीजिए, दिए गए शब्दों में से सर्वाधिक उपयुक्त शब्दों का चयन कीजिए।

परमार्थ की उच्चतम भावना का साथ भी नागरिक जीवन में प्रवेश करने पर व्यक्ति के अविश्वास और सन्देह के अनेक पैने तीरों का लक्ष्य बनना पड़ता है। नागरिक जीवन का अकारण सन्देह कर्मनिष्ठा को....(य).....और उसका लक्ष्यहीन दुराव जीवनदर्शन को भ्रांत कर देता है। इसके विपरीत ग्रामीण.....(र).....की पुस्तक खुली ही मिलती है। कुछ विशिष्ट परिस्थितियाँ इस मान्यता और विचारधारा की अपवाद हो सकती है। पर जहाँ जीवन कुछ.....(ल).....है वहाँ एक ग्रामीण का सहयोग आदान दैन्य-रहित होने के कारण सहज है, सहायता का दान गर्वशून्य एवं कहंकारवृत्ति से रहित होने के कारण.....(व).....है, और परस्पर किया जाने वाला विचार-विनिमय.....(स).....होने के कारण जीवन के अध्ययन का पूरक है।

Q-116 Choose the correct option for (P)

eng/eng

- A. qualified
- B. absolute
- C. eligible

- | | |
|------------------|------------------|
| 01. Only B | 02. Both B and C |
| 03. Both A and B | 04. Both A and C |
| 05. Only C | |

Q-116 य के सही उत्तर क्या होगा?

eng hin

- | | |
|-----------------------|----------|
| 01. मूक | 02. मुखर |
| 03. निष्क्रिय | 04. पंगु |
| 05. इनमें से कोई नहीं | |

Solution for Question 116

Ans Key: 4

eng/eng Qualified (adj.) - officially recognized as being trained to perform a particular job; certified.
Eligible (adj.) - satisfying the appropriate conditions.
For other options-
Absolute (adj.) - not qualified or diminished in any way.

eng hin पंगु

Q-117 Choose the correct option for (Q)

eng/eng

- A. finance
- B. fiscal
- C. money

- | | |
|------------------|------------------|
| 01. Only B | 02. Both B and C |
| 03. Both A and B | 04. Both A and C |
| 05. Only C | |

Q-117 र के सही उत्तर क्या होगा?

eng hin

- | | |
|-----------------------|------------|
| 01. जीवन | 02. मानस |
| 03. समाज | 04. परिवेश |
| 05. इनमें से कोई नहीं | |

Solution for Question 117

eng/eng Fiscal (adj.) - relating to government revenue, especially taxes.
For other options-
Finance (n) – the management of large amounts of money.
Money (n) - cash.

eng hin जीवन

Q-118 Choose the correct option for (R)

eng/eng
A. stimulated
B. precipitated
C. dampened

01. Only B

02. Both B and C

03. Both A and B

04. Both A and C

05. Only C

Q-118 ल के सही उत्तर क्या होगा?

eng hin

01. अस्वस्थ

02. स्वस्थ

03. प्रशस्त

04. इनमें से कोई नहीं

05. आश्वस्त

Solution for Question 118

Ans Key: 5

eng/eng Dampen (v) - make less strong or intense.
For other options-
Stimulate (v) – motivate.
Precipitate (v) – cause.

eng hin आश्वस्त

Q-119 Choose the correct option for (S)

eng/eng
A. skipping
B. stumbling
C. looming

01. Only B

02. Both B and C

03. Both A and B

04. Both A and C

05. Only C

Q-119 व के सही उत्तर क्या होगा?

eng hin

01. स्वाभाविक

02. अव्यावहारिक

03. व्यावहारिक

04. अस्वाभाविक

05. इनमें से कोई नहीं

Solution for Question 119

Ans Key: 1

eng/eng Stumbling (adj.) - tripping or losing balance.
For other options-
Loom (v) - become visible.

eng hin स्वाभाविक

Q-120 Choose the correct option for (T)

eng/eng
A. contended
B. withered
C. tweaked

01. Only B

02. Both B and C

03. Both A and B

04. Both A and C

05. Only C

Q-120 स के सही उत्तर क्या होगा?

eng hin

01. कृत्रिम
03. अशिष्ट
05. अकृत्रिम

02. विशिष्ट
04. इनमें से कोई नहीं

Solution for Question 120

Ans Key: 5

eng/eng Tweak (v) - improve (a mechanism or system) by making fine adjustments to it.
For other options-
Content (v) - face.
Wither (v) - diminish.

eng hin अकृत्रिम

Q-121 Indian Navy has installed Quarantine Facility in which city recently?
eng/eng भारतीय नौसेना ने हाल ही में किस शहर में संगरोध सुविधा स्थापित की है?

- | | |
|------------------------|-----------------------------------|
| 01. Kochi
कोच्चि | 02. Mumbai
मुंबई |
| 03. Kolkata
कोलकाता | 04. Visakhapatnam
विशाखापत्तनम |
| 05. Chennai
चेन्नई | |

Q-121 Indian Navy has installed Quarantine Facility in which city recently?
eng hin भारतीय नौसेना ने हाल ही में किस शहर में संगरोध सुविधा स्थापित की है?

- | | |
|------------------------|-----------------------------------|
| 01. Kochi
कोच्चि | 02. Mumbai
मुंबई |
| 03. Kolkata
कोलकाता | 04. Visakhapatnam
विशाखापत्तनम |
| 05. Chennai
चेन्नई | |

Solution for Question 121

Ans Key: 4

eng/eng Indian Navy has installed Quarantine Facility at Visakhapatnam.
भारतीय नौसेना ने विशाखापत्तनम में संगरोध सुविधा स्थापित की है।

eng hin Indian Navy has installed Quarantine Facility at Visakhapatnam.
भारतीय नौसेना ने विशाखापत्तनम में संगरोध सुविधा स्थापित की है।

Q-122 Name the former Indian Captain and the World Cup winner, who has announced his retirement from International Cricket.
eng/eng पूर्व भारतीय कप्तान और विश्व कप विजेता का नाम बताइए, जिन्होंने अंतर्राष्ट्रीय क्रिकेट से संन्यास की घोषणा की है।

- | | |
|--|-----------------------------------|
| 01. Suresh Raina
सुरेश रैना | 02. Harbhajan Singh
हरभजन सिंह |
| 03. Mahendra Singh Dhoni
महेन्द्र सिंह धोनी | 04. Yuvraj Singh
युवराज सिंह |
| 05. Gautam Gambhir
गौतम गंभीर | |

Q-122 Name the former Indian Captain and the World Cup winner, who has announced his retirement from International Cricket.
eng hin पूर्व भारतीय कप्तान और विश्व कप विजेता का नाम बताइए, जिन्होंने अंतर्राष्ट्रीय क्रिकेट से संन्यास की घोषणा की है।

- | | |
|--|-----------------------------------|
| 01. Suresh Raina
सुरेश रैना | 02. Harbhajan Singh
हरभजन सिंह |
| 03. Mahendra Singh Dhoni
महेन्द्र सिंह धोनी | 04. Yuvraj Singh
युवराज सिंह |
| 05. Gautam Gambhir
गौतम गंभीर | |

Solution for Question 122

Ans Key: 3

eng/eng Former Indian Captain and the World Cup winner, Mahendra Singh Dhoni has announced his retirement from the International Cricket.
पूर्व भारतीय कप्तान और विश्व कप विजेता, महेन्द्र सिंह धोनी ने अंतर्राष्ट्रीय क्रिकेट से अपनी सेवानिवृत्ति की घोषणा की है।

eng hin Former Indian Captain and the World Cup winner, Mahendra Singh Dhoni has announced his retirement from the International Cricket.
पूर्व भारतीय कप्तान और विश्व कप विजेता, महेन्द्र सिंह धोनी ने अंतर्राष्ट्रीय क्रिकेट से अपनी सेवानिवृत्ति की घोषणा की है।

Q-123 In which city main national event to commemorate the 6th International Day of Yoga will be held?
eng/eng 6 वें अंतर्राष्ट्रीय योग दिवस को मनाने के लिए किस शहर में मुख्य राष्ट्रीय कार्यक्रम आयोजित किया जाएगा?

- | | |
|--------------------------------|--------------------------|
| 01. Varanasi
वाराणसी | 02. Patna
पटना |
| 03. Shimla
शिमला | 04. Leh
लेह |
| 05. Srinagar
श्रीनगर | |

Q-123 In which city main national event to commemorate the 6th International Day of Yoga will be held?
eng hin 6 वें अंतर्राष्ट्रीय योग दिवस को मनाने के लिए किस शहर में मुख्य राष्ट्रीय कार्यक्रम आयोजित किया जाएगा?

- | | |
|--------------------------------|--------------------------|
| 01. Varanasi
वाराणसी | 02. Patna
पटना |
| 03. Shimla
शिमला | 04. Leh
लेह |
| 05. Srinagar
श्रीनगर | |

Solution for Question 123 Ans Key: 4

eng/eng The main national event to commemorate the 6th International Day of Yoga (IDY) will be held in Leh, capital of Ladakh on June 21, 2020.
6 वें अंतर्राष्ट्रीय योग दिवस (IDY) को मनाने का मुख्य राष्ट्रीय कार्यक्रम 21 जून, 2020 को लद्दाख की राजधानी लेह में आयोजित किया जाएगा।

eng hin The main national event to commemorate the 6th International Day of Yoga (IDY) will be held in Leh, capital of Ladakh on June 21, 2020.
6 वें अंतर्राष्ट्रीय योग दिवस (IDY) को मनाने का मुख्य राष्ट्रीय कार्यक्रम 21 जून, 2020 को लद्दाख की राजधानी लेह में आयोजित किया जाएगा।

Q-124 Every year World Kidney Day is observed on-
eng/eng हर साल विश्व किडनी दिवस मनाया जाता है-

- | | |
|---|--|
| 01. Second Tuesday of March
मार्च का दूसरा मंगलवार | 02. Second Sunday of March
मार्च का दूसरा रविवार |
| 03. Second Thursday of March
मार्च का दूसरा गुरुवार | 04. Second Friday of March
मार्च का दूसरा शुक्रवार |
| 05. Second Monday of March
मार्च का दूसरा सोमवार | |

Q-124 Every year World Kidney Day is observed on-
eng hin हर साल विश्व किडनी दिवस मनाया जाता है-

- | | |
|---|--|
| 01. Second Tuesday of March
मार्च का दूसरा मंगलवार | 02. Second Sunday of March
मार्च का दूसरा रविवार |
| 03. Second Thursday of March
मार्च का दूसरा गुरुवार | 04. Second Friday of March
मार्च का दूसरा शुक्रवार |
| 05. Second Monday of March
मार्च का दूसरा सोमवार | |

Solution for Question 124 Ans Key: 3

eng/eng World Kidney Day is observed globally on the second Thursday of March every year. This year World Kidney Day is observed on 12th March 2020.
हर साल मार्च के दूसरे गुरुवार को विश्व गुर्दा दिवस विश्व स्तर पर मनाया जाता है। इस वर्ष विश्व किडनी दिवस 12 मार्च 2020 को मनाया जाता है।

eng hin World Kidney Day is observed globally on the second Thursday of March every year. This year World Kidney Day is observed on 12th March 2020.
हर साल मार्च के दूसरे गुरुवार को विश्व गुर्दा दिवस विश्व स्तर पर मनाया जाता है। इस वर्ष विश्व किडनी दिवस 12 मार्च 2020 को मनाया जाता है।

Q-125 Quality Control Lab has been set up by the Marine Products Export Development Authority in which city recently?
eng/eng हाल ही में किस शहर में समुद्री उत्पाद निर्यात विकास प्राधिकरण द्वारा गुणवत्ता नियंत्रण लैब स्थापित की गई है?

- | | |
|---|----------------------------------|
| 01. Varanasi
वाराणसी | 02. Ahmedabad
अहमदाबाद |
| 03. Porbandar
पोरबंदर | 04. Chennai
चेन्नई |
| 05. Vishakhapatnam
विशाखापट्टनम | |

Q-125 Quality Control Lab has been set up by the Marine Products Export Development Authority in which city recently?
eng hin हाल ही में किस शहर में समुद्री उत्पाद निर्यात विकास प्राधिकरण द्वारा गुणवत्ता नियंत्रण लैब स्थापित की गई है?

01. Varanasi
वाराणसी
03. Porbandar
पोरबंदर
05. Vishakhapatnam
विशाखापट्टनम

02. Ahmedabad
अहमदाबाद
04. Chennai
चेन्नई

Solution for Question 125

Ans Key: 3

eng/eng Quality Control Lab has been set up by the Marine Products Export Development Authority (MPEDA) in Porbandar, Gujarat. गुजरात के पोरबंदर में समुद्री उत्पाद निर्यात विकास प्राधिकरण (एमपीईडीए) द्वारा गुणवत्ता नियंत्रण लैब स्थापित की गई है।

eng hin Quality Control Lab has been set up by the Marine Products Export Development Authority (MPEDA) in Porbandar, Gujarat. गुजरात के पोरबंदर में समुद्री उत्पाद निर्यात विकास प्राधिकरण (एमपीईडीए) द्वारा गुणवत्ता नियंत्रण लैब स्थापित की गई है।

Q-126 Recently Delhi Government with Tata Projects Limited and which IIT signed an MoU for Smog Tower?

eng/eng हाल ही में टाटा प्रोजेक्ट्स लिमिटेड के साथ दिल्ली सरकार और किस आईआईटी ने स्मॉग टॉवर के लिए एक समझौता ज्ञापन पर हस्ताक्षर किए?

- | | |
|---------------------------------|----------------------------------|
| 01. IIT Delhi
आईआईटी दिल्ली | 02. IIT Kanpur
आईआईटी कानपुर |
| 03. IIT Mandi
आईआईटी मंडी | 04. IIT Jodhpur
आईआईटी जोधपुर |
| 05. IIT Bombay
आईआईटी बॉम्बे | |

Q-126 Recently Delhi Government with Tata Projects Limited and which IIT signed an MoU for Smog Tower?

eng hin हाल ही में टाटा प्रोजेक्ट्स लिमिटेड के साथ दिल्ली सरकार और किस आईआईटी ने स्मॉग टॉवर के लिए एक समझौता ज्ञापन पर हस्ताक्षर किए?

- | | |
|---------------------------------|----------------------------------|
| 01. IIT Delhi
आईआईटी दिल्ली | 02. IIT Kanpur
आईआईटी कानपुर |
| 03. IIT Mandi
आईआईटी मंडी | 04. IIT Jodhpur
आईआईटी जोधपुर |
| 05. IIT Bombay
आईआईटी बॉम्बे | |

Solution for Question 126

Ans Key: 5

eng/eng Delhi Government signed an MoU with IIT-Bombay and Tata Projects Limited for Smog Tower. दिल्ली सरकार ने स्मॉग टॉवर के लिए आईआईटी-बॉम्बे और टाटा प्रोजेक्ट्स लिमिटेड के साथ एक समझौता ज्ञापन पर हस्ताक्षर किए।

eng hin Delhi Government signed an MoU with IIT-Bombay and Tata Projects Limited for Smog Tower. दिल्ली सरकार ने स्मॉग टॉवर के लिए आईआईटी-बॉम्बे और टाटा प्रोजेक्ट्स लिमिटेड के साथ एक समझौता ज्ञापन पर हस्ताक्षर किए।

Q-127 Former world champion Roger Mayweather passed away recently, he was related to which country?

eng/eng पूर्व विश्व चैंपियन रोजर मेवेदर का हाल ही में निधन हो गया, वह किस देश से संबंधित थे?

- | | |
|----------------------------------|--------------------|
| 01. USA
संयुक्त राज्य अमेरिका | 02. Russia
रूस |
| 03. Canada
कनाडा | 04. Spain
स्पेन |
| 05. Italy
इटली | |

Q-127 Former world champion Roger Mayweather passed away recently, he was related to which country?

eng hin पूर्व विश्व चैंपियन रोजर मेवेदर का हाल ही में निधन हो गया, वह किस देश से संबंधित थे?

- | | |
|----------------------------------|--------------------|
| 01. USA
संयुक्त राज्य अमेरिका | 02. Russia
रूस |
| 03. Canada
कनाडा | 04. Spain
स्पेन |
| 05. Italy
इटली | |

Solution for Question 127

Ans Key: 1

eng/eng Former world champion boxer Roger Mayweather passed away. He had a record of 59-13, with 35 knockouts. पूर्व विश्व चैंपियन मुक्केबाज रोजर मेवेदर का निधन हो गया। उनके पास 59-13 का रिकॉर्ड था, जिसमें 35 नॉकआउट थे।

eng hin Former world champion boxer Roger Mayweather passed away. He had a record of 59-13, with 35 knockouts. पूर्व विश्व चैंपियन मुक्केबाज रोजर मेवेदर का निधन हो गया। उनके पास 59-13 का रिकॉर्ड था, जिसमें 35 नॉकआउट थे।

Q-128 Recently ICICI Bank has launched ICICISStack to Deal with Coronavirus Outbreak, who is the CEO of ICICI Bank?
eng/eng हाल ही में ICICI बैंक ने Coronavirus के प्रकोप से निपटने के लिए ICICISStack की शुरुआत की है, ICICI बैंक के CEO कौन हैं?

01. Sandeep Bakhshi
संदीप बख्शी

02. Amitabh Chaudhary
अमिताभ चौधरी
03. Sunil Mehta
सुनील मेहता

04. Rajneesh Kumar
रजनीश कुमार
05. Aditya Puri
आदित्य पुरी

Q-128 Recently ICICI Bank has launched ICICISStack to Deal with Coronavirus Outbreak, who is the CEO of ICICI Bank?
eng hin हाल ही में ICICI बैंक ने Coronavirus के प्रकोप से निपटने के लिए ICICISStack की शुरुआत की है, ICICI बैंक के CEO कौन हैं?

01. Sandeep Bakhshi
संदीप बख्शी

02. Amitabh Chaudhary
अमिताभ चौधरी
03. Sunil Mehta
सुनील मेहता

04. Rajneesh Kumar
रजनीश कुमार
05. Aditya Puri
आदित्य पुरी

Solution for Question 128 Ans Key: 1

eng/eng ICICI Bank Launched ICICISStack to Deal With Coronavirus Outbreak.
ICICI बैंक ने Coronavirus के प्रकोप से निपटने के लिए ICICISStack शुरू किया।

eng hin ICICI Bank Launched ICICISStack to Deal With Coronavirus Outbreak.
ICICI बैंक ने Coronavirus के प्रकोप से निपटने के लिए ICICISStack शुरू किया।

Q-129 According to the Bloomberg Billionaires Index, who has become the richest man of Asia?
eng/eng ब्लूमबर्ग बिलियनेयर्स इंडेक्स के अनुसार, एशिया का सबसे अमीर आदमी कौन बन गया है?

01. Jack Ma
जैक मा

02. Mukesh Ambani
मुकेश अंबानी
03. Shiv Nadar
शिव नाडार

04. Lakshmi Mittal
लक्ष्मी मित्तल
05. Xu Jiayin
जू जीयिन

Q-129 According to the Bloomberg Billionaires Index, who has become the richest man of Asia?
eng hin ब्लूमबर्ग बिलियनेयर्स इंडेक्स के अनुसार, एशिया का सबसे अमीर आदमी कौन बन गया है?

01. Jack Ma
जैक मा

02. Mukesh Ambani
मुकेश अंबानी
03. Shiv Nadar
शिव नाडार

04. Lakshmi Mittal
लक्ष्मी मित्तल
05. Xu Jiayin
जू जीयिन

Solution for Question 129 Ans Key: 1

eng/eng According to the Bloomberg Billionaires Index, Chinese billionaire Jack Ma, the founder of e-commerce major Alibaba Group has toppled Ambani to get the top spot in Asia.
ब्लूमबर्ग बिलियनेयर्स इंडेक्स के अनुसार, ई-कॉमर्स प्रमुख अलीबाबा ग्रुप के संस्थापक, चीनी अरबपति जैक मा ने अंबानी को एशिया में शीर्ष स्थान प्राप्त करने के लिए पछाड़ दिया है।

eng hin According to the Bloomberg Billionaires Index, Chinese billionaire Jack Ma, the founder of e-commerce major Alibaba Group has toppled Ambani to get the top spot in Asia.
ब्लूमबर्ग बिलियनेयर्स इंडेक्स के अनुसार, ई-कॉमर्स प्रमुख अलीबाबा ग्रुप के संस्थापक, चीनी अरबपति जैक मा ने अंबानी को एशिया में शीर्ष स्थान प्राप्त करने के लिए पछाड़ दिया है।

Q-130 M Gopal Reddy was appointed as Chief Secretary of which state recently?
eng/eng एम गोपाल रेड्डी को हाल ही में किस राज्य के मुख्य सचिव के रूप में नियुक्त किया गया?

01. Telangana
तेलंगाना

02. Andhra Pradesh
आंध्र प्रदेश
03. Madhya Pradesh
मध्य प्रदेश

04. Jharkhand
झारखंड

05. Odisha
ओडिशा

Q-130 M Gopal Reddy was appointed as Chief Secretary of which state recently?
eng hin एम गोपाल रेड्डी को हाल ही में किस राज्य के मुख्य सचिव के रूप में नियुक्त किया गया?

01. Telangana
तेलंगाना

02. Andhra Pradesh
आंध्र प्रदेश

03. Madhya Pradesh
मध्य प्रदेश

04. Jharkhand
झारखंड

05. Odisha
ओडिशा

Solution for Question 130 Ans Key: 3

eng/eng	M Gopal Reddy Appointed As Chief Secretary of Madhya Pradesh. एम गोपाल रेड्डी को मध्य प्रदेश के मुख्य सचिव के रूप में नियुक्त किया गया।
eng hin	M Gopal Reddy Appointed As Chief Secretary of Madhya Pradesh. एम गोपाल रेड्डी को मध्य प्रदेश के मुख्य सचिव के रूप में नियुक्त किया गया।

Q-131 Recently Intel Capital has bought how much equity stake in Reliance Jio?
eng/eng हाल ही में इंटेल कैपिटल ने रिलायंस जियो में कितनी इक्विटी हिस्सेदारी खरीदी है?

01. 0.25%

02. 0.30%

03. 0.39%

04. 0.45%

05. 0.50%

Q-131 Recently Intel Capital has bought how much equity stake in Reliance Jio?
eng hin हाल ही में इंटेल कैपिटल ने रिलायंस जियो में कितनी इक्विटी हिस्सेदारी खरीदी है?

01. 0.25%

02. 0.30%

03. 0.39%

04. 0.45%

05. 0.50%

Solution for Question 131 Ans Key: 3

eng/eng	Recently Intel Capital has bought 0.39% equity stake in Reliance Jio. हाल ही में इंटेल कैपिटल ने रिलायंस जियो में 0.39% इक्विटी हिस्सेदारी खरीदी है।
eng hin	Recently Intel Capital has bought 0.39% equity stake in Reliance Jio. हाल ही में इंटेल कैपिटल ने रिलायंस जियो में 0.39% इक्विटी हिस्सेदारी खरीदी है।

Q-132 A. Ajay Kumar appointed as the next High Commissioner of India to which country?
eng/eng ए. अजय कुमार भारत के अगले उच्चायुक्त के रूप में किस देश में नियुक्त हुए?

01. Uganda
यूगांडा

02. Rwanda
रवांडा

03. Ukraine
यूक्रेन

04. Maldives
मालदीव

05. Indonesia
इंडोनेशिया

Q-132 A. Ajay Kumar appointed as the next High Commissioner of India to which country?
eng hin ए. अजय कुमार भारत के अगले उच्चायुक्त के रूप में किस देश में नियुक्त हुए?

01. Uganda
यूगांडा

02. Rwanda
रवांडा

03. Ukraine
यूक्रेन

04. Maldives
मालदीव

05. Indonesia
इंडोनेशिया

Solution for Question 132 Ans Key: 1

eng/eng	A. Ajay Kumar appointed as the next High Commissioner of India to the Republic of Uganda. ए. अजय कुमार को यूगांडा गणराज्य के लिए भारत के अगले उच्चायुक्त के रूप में नियुक्त किया गया।
eng hin	A. Ajay Kumar appointed as the next High Commissioner of India to the Republic of Uganda. ए. अजय कुमार को यूगांडा गणराज्य के लिए भारत के अगले उच्चायुक्त के रूप में नियुक्त किया गया।

Q-133 Recently which state has launched 'Balram' scheme to provide credit to 7 lakh landless farmers?
eng/eng हाल ही में किस राज्य ने 7 लाख भूमिहीन किसानों को ऋण प्रदान करने के लिए बलराम योजना शुरू की है?

01. Madhya Pradesh
मध्य प्रदेश

02. Bihar
बिहार

03. Jharkhand
झारखंड

04. Punjab
पंजाब

05. Odisha
ओडिशा

Q-133 Recently which state has launched 'Balram' scheme to provide credit to 7 lakh landless farmers?
eng hin हाल ही में किस राज्य ने 7 लाख भूमिहीन किसानों को ऋण प्रदान करने के लिए बलराम योजना शुरू की है?

01. Madhya Pradesh
मध्य प्रदेश

02. Bihar
बिहार

03. Jharkhand
झारखंड

04. Punjab
पंजाब

05. Odisha
ओडिशा

Solution for Question 133		Ans Key: 4
eng/eng	Odisha has launched 'Balram' scheme to provide credit to 7 lakh landless farmers. ओडिशा ने 7 लाख भूमिहीन किसानों को ऋण प्रदान करने के लिए ram बलराम 'योजना शुरू की है।	
eng hin	Odisha has launched 'Balram' scheme to provide credit to 7 lakh landless farmers. ओडिशा ने 7 लाख भूमिहीन किसानों को ऋण प्रदान करने के लिए ram बलराम 'योजना शुरू की है।	

Q-134 Recently which state has signed MoU with National Skill Development Corporation for setting up a World-Class Skill Development Institute?
eng/eng हाल ही में किस राज्य ने राष्ट्रीय कौशल विकास निगम के साथ विश्व स्तरीय कौशल विकास संस्थान स्थापित करने के लिए समझौता ज्ञापन पर हस्ताक्षर किए हैं?

01. Punjab
पंजाब

02. Bihar
बिहार

03. Assam
असम

04. Kerala
केरल

05. Goa
गोवा

Q-134 Recently which state has signed MoU with National Skill Development Corporation for setting up a World-Class Skill Development Institute?
eng hin हाल ही में किस राज्य ने राष्ट्रीय कौशल विकास निगम के साथ विश्व स्तरीय कौशल विकास संस्थान स्थापित करने के लिए समझौता ज्ञापन पर हस्ताक्षर किए हैं?

01. Punjab
पंजाब

02. Bihar
बिहार

03. Assam
असम

04. Kerala
केरल

05. Goa
गोवा

Solution for Question 134		Ans Key: 5
eng/eng	Goa has signed MoU with National Skill Development Corporation (NSDC) for setting up a World-Class Skill Development Institute. गोवा ने विश्व स्तरीय कौशल विकास संस्थान की स्थापना के लिए राष्ट्रीय कौशल विकास निगम (NSDC) के साथ समझौता ज्ञापन पर हस्ताक्षर किए हैं।	
eng hin	Goa has signed MoU with National Skill Development Corporation (NSDC) for setting up a World-Class Skill Development Institute. गोवा ने विश्व स्तरीय कौशल विकास संस्थान की स्थापना के लिए राष्ट्रीय कौशल विकास निगम (NSDC) के साथ समझौता ज्ञापन पर हस्ताक्षर किए हैं।	

Q-135 Recently who has been appointed by the Government of India as the new director-general of the Border Security Force?
eng/eng हाल ही में किसे भारत सरकार ने सीमा सुरक्षा बल के नए महानिदेशक के रूप में नियुक्त किया है?

01. Rakesh Asthana
राकेश अस्थाना

02. Kaushik Khona
कौशिक खोना

03. Dinesh K Tripathi
दिनेश के त्रिपाठी

04. Manoj Sinha
मनोज सिन्हा

05. SS Mundra
एसएस मुंद्रा

Q-135 Recently who has been appointed by the Government of India as the new director-general of the Border Security Force?
eng hin हाल ही में किसे भारत सरकार ने सीमा सुरक्षा बल के नए महानिदेशक के रूप में नियुक्त किया है?

01. Rakesh Asthana
राकेश अस्थाना
03. Dinesh K Tripathi
दिनेश के त्रिपाठी
05. SS Mundra
एसएस मुंद्रा

02. Kaushik Khona
कौशिक खोना
04. Manoj Sinha
मनोज सिन्हा

Solution for Question 135

Ans Key: 1

eng/eng The government of India has appointed Rakesh Asthana as the new director-general of the Border Security Force (BSF).
भारत सरकार ने राकेश अस्थाना को सीमा सुरक्षा बल (बीएसएफ) का नया महानिदेशक नियुक्त किया है।

eng hin The government of India has appointed Rakesh Asthana as the new director-general of the Border Security Force (BSF).
भारत सरकार ने राकेश अस्थाना को सीमा सुरक्षा बल (बीएसएफ) का नया महानिदेशक नियुक्त किया है।

Q-136 Recently who has been selected by the Public Enterprises Selection Board as the next chairman of Steel Authority of India Limited?
eng/eng हाल ही में किसे सार्वजनिक उद्यम चयन बोर्ड द्वारा भारतीय इस्पात प्राधिकरण लिमिटेड के अगले अध्यक्ष के रूप में चुना गया है?

01. Soma Mondal
सोमा मोंडल
03. Riva Das Ganguly
रीवा दास गांगुली
05. Pradeep Kumar Joshi
प्रदीप कुमार जोशी
02. Vini Mahajan
विनी महाजन
04. Manoj Sinha
मनोज सिन्हा

Q-136 Recently who has been selected by the Public Enterprises Selection Board as the next chairman of Steel Authority of India Limited?
eng hin हाल ही में किसे सार्वजनिक उद्यम चयन बोर्ड द्वारा भारतीय इस्पात प्राधिकरण लिमिटेड के अगले अध्यक्ष के रूप में चुना गया है?

01. Soma Mondal
सोमा मोंडल
03. Riva Das Ganguly
रीवा दास गांगुली
05. Pradeep Kumar Joshi
प्रदीप कुमार जोशी
02. Vini Mahajan
विनी महाजन
04. Manoj Sinha
मनोज सिन्हा

Solution for Question 136

Ans Key: 1

eng/eng Soma Mondal has been selected by the Public Enterprises Selection Board (PESB) as the next chairman of the Steel Authority of India Limited (SAIL).
सोमा मोंडल को सार्वजनिक उद्यम चयन बोर्ड (PESB) ने स्टील अथॉरिटी ऑफ इंडिया लिमिटेड (SAIL) के अगले अध्यक्ष के रूप में चुना है।

eng hin Soma Mondal has been selected by the Public Enterprises Selection Board (PESB) as the next chairman of the Steel Authority of India Limited (SAIL).
सोमा मोंडल को सार्वजनिक उद्यम चयन बोर्ड (PESB) ने स्टील अथॉरिटी ऑफ इंडिया लिमिटेड (SAIL) के अगले अध्यक्ष के रूप में चुना है।

Q-137 Recently who has released a comic book titled “The Adventures of the Daredevil Democrat”?
eng/eng हाल ही में किसने “द एडवेंचर्स ऑफ द डेयरडेविल डेमोक्रेट” नाम से एक कॉमिक बुक जारी की है?

01. Smriti Zubin Irani
स्मृति जुबिन ईरानी
03. Amit Shah
अमित शाह
05. Naveen Patnaik
नवीन पटनायक
02. Narendra Modi
नरेंद्र मोदी
04. Ramesh Pokariyal Nishank
रमेश पोखरियाल निशंक

Q-137 Recently who has released a comic book titled “The Adventures of the Daredevil Democrat”?
eng hin हाल ही में किसने “द एडवेंचर्स ऑफ द डेयरडेविल डेमोक्रेट” नाम से एक कॉमिक बुक जारी की है?

01. Smriti Zubin Irani
स्मृति जुबिन ईरानी
03. Amit Shah
अमित शाह
05. Naveen Patnaik
नवीन पटनायक
02. Narendra Modi
नरेंद्र मोदी
04. Ramesh Pokariyal Nishank
रमेश पोखरियाल निशंक

Solution for Question 137

Ans Key: 5

eng/eng The chief minister of Odisha Naveen Patnaik released a comic book titled “The Adventures of the Daredevil Democrat”.
ओडिशा के मुख्यमंत्री नवीन पटनायक ने “द एडवेंचर्स ऑफ द डेयरडेविल डेमोक्रेट” नाम से एक कॉमिक बुक जारी की।

eng hin The chief minister of Odisha Naveen Patnaik released a comic book titled “The Adventures of the Daredevil Democrat”.
ओडिशा के मुख्यमंत्री नवीन पटनायक ने “द एडवेंचर्स ऑफ द डेयरडेविल डेमोक्रेट” नाम से एक कॉमिक बुक जारी की।

Q-138 Recently who has taken over the additional charge of Director General of Border Security Force?
eng/eng हाल ही में किसने सीमा सुरक्षा बल के महानिदेशक का अतिरिक्त प्रभार संभाला है?

01. Ajay Bhushan Pandey
अजय भूषण पांडे

02. Tushar Mehta
तुषार मेहता
03. Surjit Singh Deswal
सुरजीत सिंह देशवाल

04. Rajiv Kumar
राजीव कुमार
05. Rajiv Gauba
राजीव गौबा

Q-138 Recently who has taken over the additional charge of Director General of Border Security Force?
eng hin हाल ही में किसने सीमा सुरक्षा बल के महानिदेशक का अतिरिक्त प्रभार संभाला है?

01. Ajay Bhushan Pandey
अजय भूषण पांडे

02. Tushar Mehta
तुषार मेहता
03. Surjit Singh Deswal
सुरजीत सिंह देशवाल

04. Rajiv Kumar
राजीव कुमार
05. Rajiv Gauba
राजीव गौबा

Solution for Question 138		Ans Key: 3
eng/eng	Indian Police Service (IPS) officer of Haryana cadre Surjit Singh Deswal took over the additional charge of Director General (DG) of Border Security Force (BSF). हरियाणा कैडर के भारतीय पुलिस सेवा (IPS) अधिकारी सुरजीत सिंह देसवाल ने सीमा सुरक्षा बल (BSF) के महानिदेशक (DG) का अतिरिक्त प्रभार संभाला।	
eng hin	Indian Police Service (IPS) officer of Haryana cadre Surjit Singh Deswal took over the additional charge of Director General (DG) of Border Security Force (BSF). हरियाणा कैडर के भारतीय पुलिस सेवा (IPS) अधिकारी सुरजीत सिंह देसवाल ने सीमा सुरक्षा बल (BSF) के महानिदेशक (DG) का अतिरिक्त प्रभार संभाला।	

Q-139 Recently who was appointed as the new DGP of Jharkhand?
eng/eng हाल ही में झारखंड के नए DGP के रूप में किसे नियुक्त किया गया?

01. MV Rao
एमवी राव

02. Neeraj Singh
नीरज सिंह
03. Anoop Kumar
अनूप कुमार

04. Raghvendra Shukla
राघवेन्द्र शुक्ल
05. Girish Shankar Pandey
गिरीश शंकर पांडे

Q-139 Recently who was appointed as the new DGP of Jharkhand?
eng hin हाल ही में झारखंड के नए DGP के रूप में किसे नियुक्त किया गया?

01. MV Rao
एमवी राव

02. Neeraj Singh
नीरज सिंह
03. Anoop Kumar
अनूप कुमार

04. Raghvendra Shukla
राघवेन्द्र शुक्ल
05. Girish Shankar Pandey
गिरीश शंकर पांडे

Solution for Question 139		Ans Key: 1
eng/eng	MV Rao Has Been Appointed As New DGP of Jharkhand. एमवी राव को झारखंड के नए डीजीपी के रूप में नियुक्त किया गया है।	
eng hin	MV Rao Has Been Appointed As New DGP of Jharkhand. एमवी राव को झारखंड के नए डीजीपी के रूप में नियुक्त किया गया है।	

Q-140 S&P Global Ratings has reduced India’s economic growth forecast for the financial year 2020-
eng/eng एसएंडपी ग्लोबल रेटिंग्स ने वित्त वर्ष 2020 के लिए भारत की आर्थिक वृद्धि के पूर्वानुमान को कम कर दिया है-

01. 6.0%

02. 6.5%
03. 5.0%

04. 5.2%
05. 5.5%

Q-140 S&P Global Ratings has reduced India’s economic growth forecast for the financial year 2020-
eng hin एसएंडपी ग्लोबल रेटिंग्स ने वित्त वर्ष 2020 के लिए भारत की आर्थिक वृद्धि के पूर्वानुमान को कम कर दिया है-

- | | |
|----------|----------|
| 01. 6.0% | 02. 6.5% |
| 03. 5.0% | 04. 5.2% |
| 05. 5.5% | |

Solution for Question 140

Ans Key: 2

eng/eng	S&P Global Ratings has reduced India's economic growth forecast to 5.2% for the financial year 2020. एसएंडपी ग्लोबल रेटिंग्स ने वित्त वर्ष 2020 के लिए भारत की आर्थिक वृद्धि के अनुमान को घटाकर 5.2% कर दिया है।
eng hin	S&P Global Ratings has reduced India's economic growth forecast to 5.2% for the financial year 2020. एसएंडपी ग्लोबल रेटिंग्स ने वित्त वर्ष 2020 के लिए भारत की आर्थिक वृद्धि के अनुमान को घटाकर 5.2% कर दिया है।

Q-141 Santu Mukhopadhyay passed away recently, he was what?
संतू मुखोपाध्याय का हाल ही में निधन हो गया, वह क्या थे?

- | | |
|---------------------------|----------------------|
| 01. Cricketer
क्रिकेटर | 02. Actor
अभिनेता |
| 03. Writer
लेखक | 04. Singer
गायक |
| 05. Politician
राजनेता | |

Q-141 Santu Mukhopadhyay passed away recently, he was what?
संतू मुखोपाध्याय का हाल ही में निधन हो गया, वह क्या थे?

- | | |
|---------------------------|----------------------|
| 01. Cricketer
क्रिकेटर | 02. Actor
अभिनेता |
| 03. Writer
लेखक | 04. Singer
गायक |
| 05. Politician
राजनेता | |

Solution for Question 141

Ans Key: 2

eng/eng	Veteran Bengali actor Santu Mukhopadhyay passed away. He was popular for his roles in films like 'Sansar Simante' and 'Bhalobasa Bhalobasa'. वयोवृद्ध बंगाली अभिनेता संतू मुखोपाध्याय का निधन। वह संसार सिमंते और भालोबासा भालोबासा' जैसी फिल्मों में अपनी भूमिकाओं के लिए लोकप्रिय थे।
eng hin	Veteran Bengali actor Santu Mukhopadhyay passed away. He was popular for his roles in films like 'Sansar Simante' and 'Bhalobasa Bhalobasa'. वयोवृद्ध बंगाली अभिनेता संतू मुखोपाध्याय का निधन। वह संसार सिमंते और भालोबासा भालोबासा' जैसी फिल्मों में अपनी भूमिकाओं के लिए लोकप्रिय थे।

Q-142 The Defense Acquisition Council (DAC) has recently approved a proposal to acquire how many new fighter aircraft from Russia?
रक्षा अधिग्रहण परिषद (DAC) ने हाल ही में रूस से कितने नए लड़ाकू विमान प्राप्त करने के प्रस्ताव को मंजूरी दी है?

- | | |
|--------|--------|
| 01. 20 | 02. 26 |
| 03. 33 | 04. 28 |
| 05. 15 | |

Q-142 The Defense Acquisition Council (DAC) has recently approved a proposal to acquire how many new fighter aircraft from Russia?
रक्षा अधिग्रहण परिषद (DAC) ने हाल ही में रूस से कितने नए लड़ाकू विमान प्राप्त करने के प्रस्ताव को मंजूरी दी है?

- | | |
|--------|--------|
| 01. 20 | 02. 26 |
| 03. 33 | 04. 28 |
| 05. 15 | |

Solution for Question 142

Ans Key: 3

eng/eng	The Defense Acquisition Council (DAC) has approved a proposal to acquire 33 new fighter aircraft from Russia. रक्षा अधिग्रहण परिषद (DAC) ने रूस से 33 नए लड़ाकू विमान हासिल करने के प्रस्ताव को मंजूरी दे दी है।
eng hin	The Defense Acquisition Council (DAC) has approved a proposal to acquire 33 new fighter aircraft from Russia. रक्षा अधिग्रहण परिषद (DAC) ने रूस से 33 नए लड़ाकू विमान हासिल करने के प्रस्ताव को मंजूरी दे दी है।

Q-143 The world's first commercial flying car named 'PAL-V Liberty' will be developed in which state of India?
V PAL-V लिबर्टी 'नामक दुनिया की पहली वाणिज्यिक उड़ान कार भारत के किस राज्य में विकसित की जाएगी?

- | | |
|-------------------------------|--------------------------|
| 01. Maharashtra
महाराष्ट्र | 02. Karnataka
कर्नाटक |
| 03. Andhra Pradesh | 04. Gujarat |

आंध्र प्रदेश

गुजरात

05. West Bengal
पश्चिम बंगाल

Q-143 The world's first commercial flying car named 'PAL-V Liberty' will be developed in which state of India?
eng hin V PAL-V लिबर्टी 'नामक दुनिया की पहली वाणिज्यिक उड़ान कार भारत के किस राज्य में विकसित की जाएगी?

01. Maharashtra
महाराष्ट्र
02. Karnataka
कर्नाटक
03. Andhra Pradesh
आंध्र प्रदेश
04. Gujarat
गुजरात
05. West Bengal
पश्चिम बंगाल

Solution for Question 143

Ans Key: 4

eng/eng The world's first commercial flying car named 'PAL-V Liberty' will be developed in Gujarat, India.
PAL-V लिबर्टी 'नाम की दुनिया की पहली वाणिज्यिक उड़ान कार गुजरात, भारत में विकसित की जाएगी।

eng hin The world's first commercial flying car named 'PAL-V Liberty' will be developed in Gujarat, India.
PAL-V लिबर्टी 'नाम की दुनिया की पहली वाणिज्यिक उड़ान कार गुजरात, भारत में विकसित की जाएगी।

Q-144 What is the name of the Veteran sports journalist, who has passed away recently?
eng/eng वयोवृद्ध खेल पत्रकार का क्या नाम है, जिनका हाल ही में निधन हो गया है?

01. Rahat Indori
राहत इंदौरी
02. Amar Singh
अमर सिंह
03. Rajeev Sinha
राजीव सिन्हा
04. GK Menon
जीके मेनन
05. Anil Murari
अनिल मुरारी

Q-144 What is the name of the Veteran sports journalist, who has passed away recently?
eng hin वयोवृद्ध खेल पत्रकार का क्या नाम है, जिनका हाल ही में निधन हो गया है?

01. Rahat Indori
राहत इंदौरी
02. Amar Singh
अमर सिंह
03. Rajeev Sinha
राजीव सिन्हा
04. GK Menon
जीके मेनन
05. Anil Murari
अनिल मुरारी

Solution for Question 144

Ans Key: 4

eng/eng Veteran sports journalist, GK Menon passed away. He worked with the Indian Express.
वयोवृद्ध खेल पत्रकार, जीके मेनन का निधन। उन्होंने इंडियन एक्सप्रेस और द टाइम्स ऑफ़ इंडिया के साथ काम किया।

eng hin Veteran sports journalist, GK Menon passed away. He worked with the Indian Express.
वयोवृद्ध खेल पत्रकार, जीके मेनन का निधन। उन्होंने इंडियन एक्सप्रेस और द टाइम्स ऑफ़ इंडिया के साथ काम किया।

Q-145 What is the rank of India in the Global Animal Protection Index 2020?
eng/eng ग्लोबल एनिमल प्रोटेक्शन इंडेक्स 2020 में भारत का रैंक क्या है?

01. Tenth
दसवीं
02. Second
दूसरा
03. Fourth
चौथा
04. Sixth
छठी
05. First
पहला

Q-145 What is the rank of India in the Global Animal Protection Index 2020?
eng hin ग्लोबल एनिमल प्रोटेक्शन इंडेक्स 2020 में भारत का रैंक क्या है?

01. Tenth
दसवीं
02. Second
दूसरा
03. Fourth
चौथा
04. Sixth
छठी
05. First
पहला

Q-146 What is the rank of Mukesh Ambani in the world's richest person list as per Bloomberg Billionaires Index?
eng/eng ब्लूमबर्ग बिलियनेयर्स इंडेक्स के अनुसार दुनिया के सबसे अमीर व्यक्ति की सूची में मुकेश अंबानी का स्थान क्या है?

01. 6	02. 8
03. 4	04. 3
05. 10	

Q-146 What is the rank of Mukesh Ambani in the world's richest person list as per Bloomberg Billionaires Index?
eng/hin ब्लूमबर्ग बिलियनेयर्स इंडेक्स के अनुसार दुनिया के सबसे अमीर व्यक्ति की सूची में मुकेश अंबानी का स्थान क्या है?

01. 6	02. 8
03. 4	04. 3
05. 10	

Ans Key: 3

eng/eng	Reliance Industries' chairman, Mukesh Ambani, is now the fourth richest person in the world, according to news agency Bloomberg. समाचार एजेंसी ब्लूमबर्ग के अनुसार, रिलायंस इंडस्ट्रीज के अध्यक्ष, मुकेश अंबानी अब दुनिया के चौथे सबसे अमीर व्यक्ति हैं।
eng/hin	Reliance Industries' chairman, Mukesh Ambani, is now the fourth richest person in the world, according to news agency Bloomberg. समाचार एजेंसी ब्लूमबर्ग के अनुसार, रिलायंस इंडस्ट्रीज के अध्यक्ष, मुकेश अंबानी अब दुनिया के चौथे सबसे अमीर व्यक्ति हैं।

Q-147 What is the theme of International Youth day '2020', which is observed every year on 12th August?
eng/eng अंतर्राष्ट्रीय युवा दिवस, 2020 'का विषय क्या है, जो हर साल 12 अगस्त को मनाया जाता है?

01. Youth Civic Engagement यूथ सिविक एंगेजमेंट	02. Youth Engagement for Global Action यूथ एंगेजमेंट फॉर ग्लोबल एक्शन
03. Youth and their future यूथ एंड देयर फ्यूचर	04. Transforming education ट्रांसफॉर्मिंग एजुकेशन
05. Youth Building Peace यूथ बिल्डिंग पीस	

Q-147 What is the theme of International Youth day '2020', which is observed every year on 12th August?
eng hin अंतर्राष्ट्रीय युवा दिवस, 2020 'का विषय क्या है, जो हर साल 12 अगस्त को मनाया जाता है?

01. Youth Civic Engagement यूथ सिविक एंगेजमेंट	02. Youth Engagement for Global Action यूथ एंगेजमेंट फॉर ग्लोबल एक्शन
03. Youth and their future यूथ एंड देयर फ्यूचर	04. Transforming education ट्रांसफॉर्मिंग एजुकेशन
05. Youth Building Peace यूथ बिल्डिंग पीस	

Ans Key: 2

eng/eng	The United Nations International Youth Day is annually celebrated on 12th August. संयुक्त राष्ट्र अंतर्राष्ट्रीय युवा दिवस प्रतिवर्ष 12 अगस्त को मनाया जाता है।
eng hin	The United Nations International Youth Day is annually celebrated on 12th August. संयुक्त राष्ट्र अंतर्राष्ट्रीय युवा दिवस प्रतिवर्ष 12 अगस्त को मनाया जाता है।

Q-148 Which Indian tennis player has won the PSD Bank Nord Open Tennis tournament in Germany?
eng/eng किस भारतीय टेनिस खिलाड़ी ने जर्मनी में PSD बैंक नॉर्ड ओपन टेनिस टूर्नामेंट जीता है?

01. Aditya Mehta
 आदित्य मेहता

02. Sania Mirza
 सानिया मिर्जा

03. Yuki Bhambri
युकी भांबरी
04. Saina Nehwal
साइना नेहवाल
05. Sumit Nagal
सुमित नागल

Q-148 Which Indian tennis player has won the PSD Bank Nord Open Tennis tournament in Germany?
eng hin किस भारतीय टेनिस खिलाड़ी ने जर्मनी में PSD बैंक नॉर्ड ओपन टेनिस टूर्नामेंट जीता है?

01. Aditya Mehta
आदित्य मेहता
02. Sania Mirza
सानिया मिर्जा
03. Yuki Bhambri
युकी भांबरी
04. Saina Nehwal
साइना नेहवाल
05. Sumit Nagal
सुमित नागल

Solution for Question 148

Ans Key: 5

eng/eng Sumit Nagal tennis player has won the PSD Bank Nord Open Tennis tournament in Germany.
सुमित नागल ने जर्मनी में पीएसडी बैंक नॉर्ड ओपन टेनिस टूर्नामेंट जीत लिया है।

eng hin Sumit Nagal tennis player has won the PSD Bank Nord Open Tennis tournament in Germany.
सुमित नागल ने जर्मनी में पीएसडी बैंक नॉर्ड ओपन टेनिस टूर्नामेंट जीत लिया है।

Q-149 Which is the 1st country in the world to officially register a COVID-19 vaccine named 'Sputnik' recently?
eng/eng हाल ही में स्पुतनिक नामक COVID-19 वैक्सीन को आधिकारिक रूप से पंजीकृत करने वाला विश्व का पहला देश कौन सा है?

01. China
चीन
02. United States
संयुक्त राज्य अमेरिका
03. Italy
इटली
04. Russia
रूस
05. India
भारत

Q-149 Which is the 1st country in the world to officially register a COVID-19 vaccine named 'Sputnik' recently?
eng hin हाल ही में स्पुतनिक नामक COVID-19 वैक्सीन को आधिकारिक रूप से पंजीकृत करने वाला विश्व का पहला देश कौन सा है?

01. China
चीन
02. United States
संयुक्त राज्य अमेरिका
03. Italy
इटली
04. Russia
रूस
05. India
भारत

Solution for Question 149

Ans Key: 4

eng/eng Russia becomes the world's 1st country to officially register a coronavirus (COVID-19) vaccine and declare it ready for use.
रूस आधिकारिक तौर पर कोरोनावायरस (COVID-19) वैक्सीन को पंजीकृत करने और इसे उपयोग के लिए तैयार घोषित करने वाला दुनिया का पहला देश बन जाता है।

eng hin Russia becomes the world's 1st country to officially register a coronavirus (COVID-19) vaccine and declare it ready for use.
रूस आधिकारिक तौर पर कोरोनावायरस (COVID-19) वैक्सीन को पंजीकृत करने और इसे उपयोग के लिए तैयार घोषित करने वाला दुनिया का पहला देश बन जाता है।

Q-150 Which Union Territory has celebrated its 59th anniversary of the "De-Jure" day on 16th August?
eng/eng 16 अगस्त को किस केंद्र शासित प्रदेश ने "दे-जुआर" दिवस की 59 वीं वर्षगांठ मनाई है?

01. Delhi
दिल्ली
02. Andaman & Nicobar
अंडमान और निकोबार
03. Lakshadweep
लक्षद्वीप
04. Puducherry
पुडुचेरी
05. Daman & Diu
दमन और दीव

Q-150 Which Union Territory has celebrated its 59th anniversary of the "De-Jure" day on 16th August?
eng hin 16 अगस्त को किस केंद्र शासित प्रदेश ने "दे-जुआर" दिवस की 59 वीं वर्षगांठ मनाई है?

- | | |
|---|---|
| <p>01. Delhi
दिल्ली</p> <p>03. Lakshadweep
लक्षद्वीप</p> <p>05. Daman & Diu
दमन और दीव</p> | <p>02. Andaman & Nicobar
अंडमान और निकोबार</p> <p>04. Puducherry
पुडुचेरी</p> |
|---|---|

Solution for Question 150

Ans Key: 4

eng/eng The Union Territory of Puducherry has celebrated its 59th anniversary of the “De-Jure” day on 16th August. केंद्रशासित प्रदेश पुडुचेरी ने 16 अगस्त को “दे-जुरे” दिवस की 59 वीं वर्षगांठ मनाई है।

eng hin The Union Territory of Puducherry has celebrated its 59th anniversary of the “De-Jure” day on 16th August. केंद्रशासित प्रदेश पुडुचेरी ने 16 अगस्त को “दे-जुरे” दिवस की 59 वीं वर्षगांठ मनाई है।

Q-151 RBI central board comprises of how many members?
eng/eng भारतीय रिजर्व बैंक के केंद्रीय बोर्ड में कितने सदस्य शामिल हैं?

- | | |
|---------------|---------------|
| 01. 5 | 02. 21 |
| 03. 18 | 04. 12 |
| 05. 15 | |

Q-151 RBI central board comprises of how many members?
eng hin भारतीय रिजर्व बैंक के केंद्रीय बोर्ड में कितने सदस्य शामिल हैं?

- | | |
|---------------|---------------|
| 01. 5 | 02. 21 |
| 03. 18 | 04. 12 |
| 05. 15 | |

Solution for Question 151

Ans Key: 2

eng/eng The Reserve Bank’s affairs is governed by a central board of directors (BoD). The board is appointed by the Government of India in line with the Reserve Bank of India Act, 1934. The central BoD consists of 21 members. Currently RBI’s central board has 15 directors, including the Governor and three Deputy Governors.

रिजर्व बैंक के मामलों का संचालन केंद्रीय निदेशक मंडल (BoD) द्वारा किया जाता है। बोर्ड की नियुक्ति भारत सरकार द्वारा भारतीय रिजर्व बैंक अधिनियम, 1934 के अनुसार की जाती है। केंद्रीय BoD में 21 सदस्य होते हैं। वर्तमान में RBI के केंद्रीय बोर्ड में 15 निदेशक हैं, जिनमें राज्यपाल और तीन उप-राज्यपाल शामिल हैं।

eng hin The Reserve Bank’s affairs is governed by a central board of directors (BoD). The board is appointed by the Government of India in line with the Reserve Bank of India Act, 1934. The central BoD consists of 21 members. Currently RBI’s central board has 15 directors, including the Governor and three Deputy Governors.

रिजर्व बैंक के मामलों का संचालन केंद्रीय निदेशक मंडल (BoD) द्वारा किया जाता है। बोर्ड की नियुक्ति भारत सरकार द्वारा भारतीय रिजर्व बैंक अधिनियम, 1934 के अनुसार की जाती है। केंद्रीय BoD में 21 सदस्य होते हैं। वर्तमान में RBI के केंद्रीय बोर्ड में 15 निदेशक हैं, जिनमें राज्यपाल और तीन उप-राज्यपाल शामिल हैं।

Q-152 Where is the HQ of IFTAS located?
eng/eng IFTAS का मुख्यालय कहाँ स्थित है?

- | | |
|-----------------------------------|----------------------------|
| 01. Nagpur
नागपुर | 02. Pune
पुणे |
| 03. New Delhi
नई दिल्ली | 04. Mumbai
मुंबई |
| 05. Lucknow
लखनऊ | |

Q-152 Where is the HQ of IFTAS located?
eng hin IFTAS का मुख्यालय कहाँ स्थित है?

- | | |
|-----------------------------------|----------------------------|
| 01. Nagpur
नागपुर | 02. Pune
पुणे |
| 03. New Delhi
नई दिल्ली | 04. Mumbai
मुंबई |
| 05. Lucknow
लखनऊ | |

Solution for Question 152

Ans Key: 4

eng/eng	The Mumbai based Indian Financial Technology & Allied Services (IFTAS), wholly owned subsidiary of Reserve Bank of India. मुंबई स्थित भारतीय वित्तीय प्रौद्योगिकी और संबद्ध सेवाएँ (IFTAS), भारतीय रिज़र्व बैंक की पूर्ण स्वामित्व वाली सहायक कंपनी है।
eng hin	The Mumbai based Indian Financial Technology & Allied Services (IFTAS), wholly owned subsidiary of Reserve Bank of India. मुंबई स्थित भारतीय वित्तीय प्रौद्योगिकी और संबद्ध सेवाएँ (IFTAS), भारतीय रिज़र्व बैंक की पूर्ण स्वामित्व वाली सहायक कंपनी है।

Q-153 Evariste Ndayishimiye was elected as the president of which country recently?
eng/eng हाल ही में, एवेरिस्टी नीदिशिमी को किस देश के राष्ट्रपति के रूप में चुना गया था?

- | | |
|--------------------------|------------------------|
| 01. Rwanda
रवांडा | 02. Congo
कांगो |
| 03. Tanzania
तंजानिया | 04. Burundi
बुरुंडी |
| 05. Zambia
जाम्बिया | |

Q-153 Evariste Ndayishimiye was elected as the president of which country recently?
eng hin हाल ही में, एवेरिस्टी नीदिशिमी को किस देश के राष्ट्रपति के रूप में चुना गया था?

- | | |
|--------------------------|------------------------|
| 01. Rwanda
रवांडा | 02. Congo
कांगो |
| 03. Tanzania
तंजानिया | 04. Burundi
बुरुंडी |
| 05. Zambia
जाम्बिया | |

Solution for Question 153

Ans Key: 4

eng/eng	Evariste Ndayishimiye won the presidential election of Burundi held on May 20 and to swear in as president in August 2020. एवेरिस्टी नीदिशिमी ने 20 मई को आयोजित बुरुंडी का राष्ट्रपति चुनाव जीता और अगस्त 2020 में राष्ट्रपति के रूप में शपथ ली।
eng hin	Evariste Ndayishimiye won the presidential election of Burundi held on May 20 and to swear in as president in August 2020. एवेरिस्टी नीदिशिमी ने 20 मई को आयोजित बुरुंडी का राष्ट्रपति चुनाव जीता और अगस्त 2020 में राष्ट्रपति के रूप में शपथ ली।

Q-154 Who has won 2020 peace prize of the German Book Trade?
eng/eng जर्मन बुक ट्रेड का 2020 का शांति पुरस्कार किसने जीता है?

- | | |
|--|--|
| 01. Amartya Sen
अमर्त्य सेन | 02. Shobhana Narasimha
शोभना नरसिम्हा |
| 03. Sangeetha N. Bhatia
संगीता एन। भाटिया | 04. Jagdish Bhagwati
जगदीश भगवती |
| 05. Thalappil Pradeep
थलप्पिल प्रदीप | |

Q-154 Who has won 2020 peace prize of the German Book Trade?
eng hin जर्मन बुक ट्रेड का 2020 का शांति पुरस्कार किसने जीता है?

- | | |
|--|--|
| 01. Amartya Sen
अमर्त्य सेन | 02. Shobhana Narasimha
शोभना नरसिम्हा |
| 03. Sangeetha N. Bhatia
संगीता एन। भाटिया | 04. Jagdish Bhagwati
जगदीश भगवती |
| 05. Thalappil Pradeep
थलप्पिल प्रदीप | |

Solution for Question 154

Ans Key: 1

eng/eng	Indian economist, philosopher and Nobel Laureate Amartya Kumar Sen (86) has been selected for 2020 Peace Prize by the Board of Trustees of the Peace Prize of the German Book Trade for his decades-long work around issues of global justice. भारतीय अर्थशास्त्री, दार्शनिक और नोबेल पुरस्कार विजेता अमर्त्य कुमार सेन (86) को वैश्विक न्याय के मुद्दों के इर्द-गिर्द के दशकों के काम के लिए जर्मन बुक ट्रेड के शांति पुरस्कार के बोर्ड ऑफ ट्रस्टीज द्वारा 2020 के शांति पुरस्कार के लिए चुना गया है।
eng hin	Indian economist, philosopher and Nobel Laureate Amartya Kumar Sen (86) has been selected for 2020 Peace Prize by the Board of Trustees of the

Peace Prize of the German Book Trade for his decades-long work around issues of global justice.

भारतीय अर्थशास्त्री, दार्शनिक और नोबेल पुरस्कार विजेता अमर्त्य कुमार सेन (86) को वैश्विक न्याय के मुद्दों के इर्द-गिर्द के दशकों के काम के लिए जर्मन बुक ट्रेड के शांति पुरस्कार के बोर्ड ऑफ ट्रस्टीज द्वारा 2020 के शांति पुरस्कार के लिए चुना गया है।

Q-155 What is the rank of India in World Justice Project (WJP) Rule of Law Index 2020 (Denmark)?
eng/eng वर्ल्ड जस्टिस प्रोजेक्ट (WJP) रूल ऑफ लॉ इंडेक्स 2020 (डेनमार्क) में भारत का रैंक क्या है?

- | | |
|--------|--------|
| 01. 52 | 02. 69 |
| 03. 75 | 04. 82 |
| 05. 91 | |

Q-155 What is the rank of India in World Justice Project (WJP) Rule of Law Index 2020 (Denmark)?
eng hin वर्ल्ड जस्टिस प्रोजेक्ट (WJP) रूल ऑफ लॉ इंडेक्स 2020 (डेनमार्क) में भारत का रैंक क्या है?

- | | |
|--------|--------|
| 01. 52 | 02. 69 |
| 03. 75 | 04. 82 |
| 05. 91 | |

Solution for Question 155

Ans Key: 2

eng/eng The Supreme Court asked the government to treat a writ petition, for setting up expert panels to improve India's performance in the Rule of Law Index, as a "representation" and to decide further action within 6 months' time. India was Ranked 69th in the WJP Rule of Law Index 2020 India has never been ranked even among top 50 in the Index.

उच्चतम न्यायालय ने सरकार से एक लिखित याचिका का इलाज करने के लिए कहा, जो कानून के सूचकांक में नियम में भारत के प्रदर्शन को बेहतर बनाने के लिए विशेषज्ञ पैनल की स्थापना करता है, "प्रतिनिधित्व" के रूप में और 6 महीने के भीतर आगे की कार्रवाई तय करने के लिए। भारत को कानून सूचकांक 2020 के डब्ल्यूजेपी नियम में 69 वें स्थान पर रखा गया था। सूचकांक में भारत को शीर्ष 50 में भी कभी स्थान नहीं दिया गया है।

eng hin The Supreme Court asked the government to treat a writ petition, for setting up expert panels to improve India's performance in the Rule of Law Index, as a "representation" and to decide further action within 6 months' time. India was Ranked 69th in the WJP Rule of Law Index 2020 India has never been ranked even among top 50 in the Index.

उच्चतम न्यायालय ने सरकार से एक लिखित याचिका का इलाज करने के लिए कहा, जो कानून के सूचकांक में नियम में भारत के प्रदर्शन को बेहतर बनाने के लिए विशेषज्ञ पैनल की स्थापना करता है, "प्रतिनिधित्व" के रूप में और 6 महीने के भीतर आगे की कार्रवाई तय करने के लिए। भारत को कानून सूचकांक 2020 के डब्ल्यूजेपी नियम में 69 वें स्थान पर रखा गया था। सूचकांक में भारत को शीर्ष 50 में भी कभी स्थान नहीं दिया गया है।

Q-156 By which year ISRO plans to send humans to space under 'Gaganyaan' project?
eng/eng इसरो ने किस वर्ष तक 'गगनयान' परियोजना के तहत मनुष्यों को अंतरिक्ष में भेजने की योजना बनाई है?

- | | |
|----------|----------|
| 01. 2020 | 02. 2022 |
| 03. 2024 | 04. 2023 |
| 05. 2021 | |

Q-156 By which year ISRO plans to send humans to space under 'Gaganyaan' project?
eng hin इसरो ने किस वर्ष तक 'गगनयान' परियोजना के तहत मनुष्यों को अंतरिक्ष में भेजने की योजना बनाई है?

- | | |
|----------|----------|
| 01. 2020 | 02. 2022 |
| 03. 2024 | 04. 2023 |
| 05. 2021 | |

Solution for Question 156

Ans Key: 2

eng/eng The ISRO has initiated a 10,000crores project- Gaganyaan to send humans to space by 2022, in accordance to which, ISRO has received a patent for its Liquid Cooling and Heating Garment (LCHG) इसरो ने २०२२ तक मनुष्यों को अंतरिक्ष में भेजने के लिए १०,००० करोड़ के प्रोजेक्ट- गगनयान की शुरुआत की है, जिसके अनुसार, इसरो को अंतरिक्ष यात्रियों को गर्म और ठंडे से सुरक्षा के लिए उपयोग करने के लिए अपने लिक्विड कूलिंग और हीटिंग गारमेंट (LCHG) के लिए पेटेंट प्राप्त हुआ है। वातावरण।) for astronauts to use in space for protection from hot and cold environments.

eng hin The ISRO has initiated a 10,000crores project- Gaganyaan to send humans to space by 2022, in accordance to which, ISRO has received a patent for its Liquid Cooling and Heating Garment (LCHG) इसरो ने २०२२ तक मनुष्यों को अंतरिक्ष में भेजने के लिए १०,००० करोड़ के प्रोजेक्ट- गगनयान की शुरुआत की है, जिसके अनुसार, इसरो को अंतरिक्ष यात्रियों को गर्म और ठंडे से सुरक्षा के लिए उपयोग करने के लिए अपने लिक्विड कूलिंग और हीटिंग गारमेंट (LCHG) के लिए पेटेंट प्राप्त हुआ है। वातावरण।) for astronauts to use in space for protection from hot and cold environments.

Q-157 Who authored the book titled "Legend of Suheldev: The King Who Saved India"?
eng/eng "लीजेंड ऑफ सुहेलदेव: द किंग हू सेव्ड इंडिया" शीर्षक से पुस्तक किसने लिखी?

- | | |
|--|----------------------------------|
| 01. Durjoy Datta
दुर्जय दत्ता | 02. Kiran Desai
किरण देसाई |
| 03. Amish Tripathi
अमीश त्रिपाठी | 04. Vinit Goenka
विनीत गोयनका |
| 05. None of these
इनमें से कोई नहीं | |

Q-157 Who authored the book titled "Legend of Suheldev: The King Who Saved India"?
eng hin "लीजेंड ऑफ सुहेलदेव: द किंग हू सेव्ड इंडिया" शीर्षक से पुस्तक किसने लिखी?

- | | |
|--|----------------------------------|
| 01. Durjoy Datta
दुर्जय दत्ता | 02. Kiran Desai
किरण देसाई |
| 03. Amish Tripathi
अमीश त्रिपाठी | 04. Vinit Goenka
विनीत गोयनका |
| 05. None of these
इनमें से कोई नहीं | |

Solution for Question 157

Ans Key: 3

eng/eng Best-selling author and the Director of Nehru Centre, London (since 2019) Amish Tripathi released his fiction book, "Legend of Suheldev: The King Who Saved India". The book is published by Westland Publications Pvt Ltd. His 1st book is 'The Immortals of Meluha', which is also the 1st book of Shiva Trilogy.
 सबसे ज्यादा बिकने वाले लेखक और नेहरू सेंटर, लंदन के निदेशक (2019 से) अमीश त्रिपाठी ने अपनी फिक्शन बुक, "लीजेंड ऑफ सुहेलदेव: द किंग हू सेव्ड इंडिया" जारी की। पुस्तक वेस्टलैंड पब्लिकेशंस प्राइवेट लिमिटेड द्वारा प्रकाशित की गई है। पहली पुस्तक 'द इममोर्टल्स ऑफ मेलुहा' है, जो शिव त्रयी की पहली पुस्तक भी है।

eng hin Best-selling author and the Director of Nehru Centre, London (since 2019) Amish Tripathi released his fiction book, "Legend of Suheldev: The King Who Saved India". The book is published by Westland Publications Pvt Ltd. His 1st book is 'The Immortals of Meluha', which is also the 1st book of Shiva Trilogy.
 सबसे ज्यादा बिकने वाले लेखक और नेहरू सेंटर, लंदन के निदेशक (2019 से) अमीश त्रिपाठी ने अपनी फिक्शन बुक, "लीजेंड ऑफ सुहेलदेव: द किंग हू सेव्ड इंडिया" जारी की। पुस्तक वेस्टलैंड पब्लिकेशंस प्राइवेट लिमिटेड द्वारा प्रकाशित की गई है। पहली पुस्तक 'द इममोर्टल्स ऑफ मेलुहा' है, जो शिव त्रयी की पहली पुस्तक भी है।

Q-158 Rajinder Goel who passed away recently is associated with which sports?
eng/eng राजिंदर गोयल का हाल ही में निधन हो गया, वह किस खेल से जुड़े हैं?

- | | |
|---------------------------|---------------------|
| 01. Football
फुटबॉल | 02. Hockey
हॉकी |
| 03. Cricket
क्रिकेट | 04. Tennis
टेनिस |
| 05. Badminton
बैडमिंटन | |

Q-158 Rajinder Goel who passed away recently is associated with which sports?
eng hin राजिंदर गोयल का हाल ही में निधन हो गया, वह किस खेल से जुड़े हैं?

- | | |
|---------------------------|---------------------|
| 01. Football
फुटबॉल | 02. Hockey
हॉकी |
| 03. Cricket
क्रिकेट | 04. Tennis
टेनिस |
| 05. Badminton
बैडमिंटन | |

Solution for Question 158

Ans Key: 3

eng/eng Domestic cricket stalwart, legendary first-class spinner Rajinder Goel who represented Haryana, Punjab and Delhi passed away at the age of 77 due to old age related illness at his residence in Rohtak, Haryana, India. He was born on 20th September 1942 in Punjab, British India (Haryana).
 घरेलू क्रिकेट के दिग्गज, प्रथम श्रेणी के स्पिनर राजिंदर गोयल, जिन्होंने हरियाणा, पंजाब और दिल्ली का प्रतिनिधित्व किया, का 77 वर्ष की आयु में रोहतक, हरियाणा, भारत में उनके आवास पर बुढ़ापे से संबंधित बीमारी के कारण निधन हो गया। उनका जन्म 20 सितंबर 1942 को पंजाब, ब्रिटिश इंडिया (हरियाणा) में हुआ था।

eng hin Domestic cricket stalwart, legendary first-class spinner Rajinder Goel who represented Haryana, Punjab and Delhi passed away at the age of 77 due to old age related illness at his residence in Rohtak, Haryana, India. He was born on 20th September 1942 in Punjab, British India (Haryana).
घरेलू क्रिकेट के दिग्गज, प्रथम श्रेणी के स्पिन्जर राजिंदर गोयल, जिन्होंने हरियाणा, पंजाब और दिल्ली का प्रतिनिधित्व किया, का 77 वर्ष की आयु में रोहतक, हरियाणा, भारत में उनके आवास पर बुढ़ापे से संबंधित बीमारी के कारण निधन हो गया। उनका जन्म 20 सितंबर 1942 को पंजाब, ब्रिटिश इंडिया (हरियाणा) में हुआ था।

Q-159 Lachhman Singh Lehl who is in news recently is a renowned _____.
eng/hin लछमन सिंह लेहल जो हाल ही में खबरों में हैं, एक प्रसिद्ध _____ हैं।

- | | |
|---------------------------|---------------------------------------|
| 01. Actor
अभिनेता | 02. Army Personnel
सेना के कार्मिक |
| 03. Painter
पेंटर | 04. Architect
वास्तुकार |
| 05. Minimalist
न्यूनतम | |

Q-159 Lachhman Singh Lehl who is in news recently is a renowned _____.
eng hin लछमन सिंह लेहल जो हाल ही में खबरों में हैं, एक प्रसिद्ध _____ हैं।

- | | |
|---------------------------|---------------------------------------|
| 01. Actor
अभिनेता | 02. Army Personnel
सेना के कार्मिक |
| 03. Painter
पेंटर | 04. Architect
वास्तुकार |
| 05. Minimalist
न्यूनतम | |

Solution for Question 159

Ans Key: 2

eng/eng Vir Chakra Awardee, retired Major General Lachhman Singh Lehl, passed away at the age of 97 in New Delhi. He was born in Hoshiarpur, Punjab. He received the Vir Chakra, and the third highest gallantry award in India for his role as a forward observer in the 50 Para Brigade. He authored “Missed Opportunities” a comprehensive book on the 1965 Indo-Pak war.

वीर चक्र से सम्मानित सेवानिवृत्त मेजर जनरल लछमन सिंह लेहल का 97 वर्ष की आयु में नई दिल्ली में निधन हो गया। उनका जन्म पंजाब के होशियारपुर में हुआ था। उन्हें 50 पैरा ब्रिगेड में एक अग्रणी पर्यवेक्षक के रूप में उनकी भूमिका के लिए भारत में वीर चक्र, और तीसरा सर्वोच्च वीरता पुरस्कार मिला। उन्होंने 1965 के भारत-पाक युद्ध पर एक व्यापक पुस्तक "मिस्ड अपॉर्चुनिटीज़" लिखी।

eng hin Vir Chakra Awardee, retired Major General Lachhman Singh Lehl, passed away at the age of 97 in New Delhi. He was born in Hoshiarpur, Punjab. He received the Vir Chakra, and the third highest gallantry award in India for his role as a forward observer in the 50 Para Brigade. He authored “Missed Opportunities” a comprehensive book on the 1965 Indo-Pak war.

वीर चक्र से सम्मानित सेवानिवृत्त मेजर जनरल लछमन सिंह लेहल का 97 वर्ष की आयु में नई दिल्ली में निधन हो गया। उनका जन्म पंजाब के होशियारपुर में हुआ था। उन्हें 50 पैरा ब्रिगेड में एक अग्रणी पर्यवेक्षक के रूप में उनकी भूमिका के लिए भारत में वीर चक्र, और तीसरा सर्वोच्च वीरता पुरस्कार मिला। उन्होंने 1965 के भारत-पाक युद्ध पर एक व्यापक पुस्तक "मिस्ड अपॉर्चुनिटीज़" लिखी।

Q-160 What is Ministry of AYUSH's theme for International Yoga Day 2020?
eng/hin अंतर्राष्ट्रीय योग दिवस 2020 के लिए आयुष मंत्रालय क्या है?

- | | |
|--|--|
| 01. 'Climate Action'
'क्लाइमेट एक्शन' | 02. “Yoga at Home – Yoga with Family”
"घर पर योग - परिवार के साथ योग" |
| 03. “Yoga for Heart”
"दिल के लिए योग" | 04. “Yoga with social distance”
"सामाजिक दूरी के साथ योग" |
| 05. “Yoga to combat COVID”
"COVID से निपटने के लिए योग" | |

Q-160 What is Ministry of AYUSH's theme for International Yoga Day 2020?
eng hin अंतर्राष्ट्रीय योग दिवस 2020 के लिए आयुष मंत्रालय क्या है?

- | | |
|--|--|
| 01. 'Climate Action'
'क्लाइमेट एक्शन' | 02. “Yoga at Home – Yoga with Family”
"घर पर योग - परिवार के साथ योग" |
| 03. “Yoga for Heart”
"दिल के लिए योग" | 04. “Yoga with social distance”
"सामाजिक दूरी के साथ योग" |
| 05. “Yoga to combat COVID”
"COVID से निपटने के लिए योग" | |

Solution for Question 160

Ans Key: 2

eng/eng 21st June 2020 marks the 6th annual United Nations (UN) International Day of Yoga (IDY) to raise awareness about the benefits of practicing yoga and to

educate the public on the importance of choosing a healthy lifestyle to achieve good health. Ministry of AYUSH in India is promoting IDY 2020 with the theme as “Yoga at Home – Yoga with Family”.

21 जून 2020 को योग का अभ्यास करने के लाभों के बारे में जागरूकता बढ़ाने और अच्छे स्वास्थ्य को प्राप्त करने के लिए स्वस्थ जीवन शैली चुनने के महत्व पर जनता को शिक्षित करने के लिए 6 वें वार्षिक संयुक्त राष्ट्र (यूएन) अंतर्राष्ट्रीय योग दिवस (आईडीवाई) को चिह्नित करता है। भारत में आयुष मंत्रालय “योगा ऑन होम- योग विद फैमिली” थीम के साथ IDY 2020 को बढ़ावा दे रहा है।

eng hin 21st June 2020 marks the 6th annual United Nations (UN) International Day of Yoga (IDY) to raise awareness about the benefits of practicing yoga and to educate the public on the importance of choosing a healthy lifestyle to achieve good health. Ministry of AYUSH in India is promoting IDY 2020 with the theme as “Yoga at Home – Yoga with Family”.

21 जून 2020 को योग का अभ्यास करने के लाभों के बारे में जागरूकता बढ़ाने और अच्छे स्वास्थ्य को प्राप्त करने के लिए स्वस्थ जीवन शैली चुनने के महत्व पर जनता को शिक्षित करने के लिए 6 वें वार्षिक संयुक्त राष्ट्र (यूएन) अंतर्राष्ट्रीय योग दिवस (आईडीवाई) को चिह्नित करता है। भारत में आयुष मंत्रालय “योगा ऑन होम- योग विद फैमिली” थीम के साथ IDY 2020 को बढ़ावा दे रहा है।

Q-161 VoIP stands for
eng/eng VoIP का पूर्ण रूप क्या होता है

- | | |
|--------------------------|---------------------------|
| 01. Vote over IP | 02. Voice over IP |
| 03. Voice on IP | 04. Vendor over IP |
| 05. None of these | |

Q-161 VoIP stands for
eng hin VoIP का पूर्ण रूप क्या होता है

- | | |
|--------------------------|---------------------------|
| 01. Vote over IP | 02. Voice over IP |
| 03. Voice on IP | 04. Vendor over IP |
| 05. None of these | |

Solution for Question 161

Ans Key: 2

eng/eng Voice over IP is the full form of VoIP.
VoIP का पूर्ण रूप Voice over IP होता है

eng hin Voice over IP is the full form of VoIP.
VoIP का पूर्ण रूप Voice over IP होता है

Q-162 An error in a computer program is known as _____.
eng/eng कंप्यूटर प्रोग्राम में त्रुटि को _____ के रूप में जाना जाता है।

- | | |
|--------------------------|--------------------------|
| 01. Crash | 02. Power Failure |
| 03. Bug | 04. Virus |
| 05. None of these | |

Q-162 An error in a computer program is known as _____.
eng hin कंप्यूटर प्रोग्राम में त्रुटि को _____ के रूप में जाना जाता है।

- | | |
|--------------------------|--------------------------|
| 01. Crash | 02. Power Failure |
| 03. Bug | 04. Virus |
| 05. None of these | |

Solution for Question 162

Ans Key: 3

eng/eng An error in a computer program is known as Bug
कंप्यूटर प्रोग्राम में त्रुटि को बग के रूप में जाना जाता है।

eng hin An error in a computer program is known as Bug
कंप्यूटर प्रोग्राम में त्रुटि को बग के रूप में जाना जाता है।

Q-163 Which layer of the OSI model performs segmentation of a data stream?
eng/eng OSI मॉडल की कौन सी परत डेटा स्ट्रीम का विभाजन करती है?

- | | |
|-------------------------------|----------------------------|
| 01. Application layer | 02. Network layer |
| 03. Physical layer | 04. Transport layer |
| 05. Presentation layer | |

Q-163
eng hin

Which layer of the OSI model performs segmentation of a data stream?
OSI मॉडल की कौन सी परत डेटा स्ट्रीम का विभाजन करती है?

01. Application layer

02. Network layer

03. Physical layer

04. Transport layer

05. Presentation layer

Solution for Question 163

Ans Key: 4

eng/eng	Transport Layer of the OSI model performs segmentation of a data stream OSI मॉडल की ट्रांसपोर्ट परत डेटा स्ट्रीम का विभाजन करती है
eng hin	Transport Layer of the OSI model performs segmentation of a data stream OSI मॉडल की ट्रांसपोर्ट परत डेटा स्ट्रीम का विभाजन करती है

Q-164
eng/eng

In Excel, this is a prerecorded formula that provides a shortcut for complex calculations _____.
एक्सेल में, यह एक पूर्वगामी सूत्र है जो जटिल गणनाओं के लिए एक शॉर्टकट प्रदान करता है _____।

01. Value

02. Data series

03. Function

04. Field

05. None of these

Q-164
eng hin

In Excel, this is a prerecorded formula that provides a shortcut for complex calculations _____.
एक्सेल में, यह एक पूर्वगामी सूत्र है जो जटिल गणनाओं के लिए एक शॉर्टकट प्रदान करता है _____।

01. Value

02. Data series

03. Function

04. Field

05. None of these

Solution for Question 164

Ans Key: 3

eng/eng	Function is a prerecorded formula that provides a shortcut for complex calculations फंक्शन एक पूर्वगामी सूत्र है जो जटिल गणनाओं के लिए एक शॉर्टकट प्रदान करता है
eng hin	Function is a prerecorded formula that provides a shortcut for complex calculations फंक्शन एक पूर्वगामी सूत्र है जो जटिल गणनाओं के लिए एक शॉर्टकट प्रदान करता है

Q-165
eng/eng

You click at B to make the text _____ in MS word.
आप MS शब्द में टेक्स्ट को _____ बनाने के लिए B पर क्लिक करते हैं।

01. Italics

02. Underlined

03. Bold

04. Italics and Underlined

05. None of these

Q-165
eng hin

You click at B to make the text _____ in MS word.
आप MS शब्द में टेक्स्ट को _____ बनाने के लिए B पर क्लिक करते हैं।

01. Italics

02. Underlined

03. Bold

04. Italics and Underlined

05. None of these

Solution for Question 165

Ans Key: 3

eng/eng	You click at B to make the text bold in MS word. आप MS शब्द में टेक्स्ट को बोल्ड बनाने के लिए B पर क्लिक करते हैं।
eng hin	You click at B to make the text bold in MS word. आप MS शब्द में टेक्स्ट को बोल्ड बनाने के लिए B पर क्लिक करते हैं।

Q-166
eng/eng

Title bar, ribbon, status bar, views and document workspace are factors of _____.
टाइटल बार, रिबन, स्टेटस बार, व्यू और डॉक्यूमेंट कार्यक्षेत्र _____ प्रोग्राम के कारक हैं।

01. MS Word

02. Browser

03. Explorer

04. Website

05. None of these

Q-166
eng hin

Title bar, ribbon, status bar, views and document workspace are factors of _____.
टाइटल बार, रिबन, स्टेटस बार, व्यू और डॉक्यूमेंट कार्यक्षेत्र _____ प्रोग्राम के कारक हैं।

- | | |
|-------------------|-------------|
| 01. MS Word | 02. Browser |
| 03. Explorer | 04. Website |
| 05. None of these | |

Solution for Question 166

Ans Key: 1

- | | |
|----------------|--|
| eng/eng | Title bar, ribbon, status bar, views and document workspace are factors of MS Word.
टाइटल बार, रिबन, स्टेटस बार, व्यू और डॉक्यूमेंट कार्यक्षेत्र MS वर्ड प्रोग्राम के कारक हैं। |
| eng hin | Title bar, ribbon, status bar, views and document workspace are factors of MS Word.
टाइटल बार, रिबन, स्टेटस बार, व्यू और डॉक्यूमेंट कार्यक्षेत्र MS वर्ड प्रोग्राम के कारक हैं। |

Q-167 A pixel is _____.
eng/eng एक पिक्सेल _____ है।

- | | |
|--|---|
| 01. a computer program that draws picture
एक कंप्यूटर प्रोग्राम जो चित्र बनाता है | 02. a picture stored in the secondary memor
द्वितीयक मेमोरी में संग्रहीत चित्र |
| 03. the smallest resolution of a picture
एक तस्वीर का सबसे छोटा resolution | 04. a Virus
एक वाइरस |
| 05. None of the above | |

Q-167 A pixel is _____.
eng hin एक पिक्सेल _____ है।

- | | |
|--|---|
| 01. a computer program that draws picture
एक कंप्यूटर प्रोग्राम जो चित्र बनाता है | 02. a picture stored in the secondary memor
द्वितीयक मेमोरी में संग्रहीत चित्र |
| 03. the smallest resolution of a picture
एक तस्वीर का सबसे छोटा resolution | 04. a Virus
एक वाइरस |
| 05. None of the above | |

Solution for Question 167

Ans Key: 3

- | | |
|----------------|---|
| eng/eng | A pixel is the smallest resolution of a picture.
एक पिक्सेल एक तस्वीर का सबसे छोटा resolution होता है। |
| eng hin | A pixel is the smallest resolution of a picture.
एक पिक्सेल एक तस्वीर का सबसे छोटा resolution होता है। |

Q-168 Which of the following is not an operating system?
eng/eng निम्नलिखित में से कौन ऑपरेटिंग सिस्टम नहीं है

- | | |
|----------------|----------|
| 01. DOS | 02. UNIX |
| 03. MAC(OS) | 04. DBMS |
| 05. Windows XP | |

Q-168 Which of the following is not an operating system?
eng hin निम्नलिखित में से कौन ऑपरेटिंग सिस्टम नहीं है

- | | |
|----------------|----------|
| 01. DOS | 02. UNIX |
| 03. MAC(OS) | 04. DBMS |
| 05. Windows XP | |

Solution for Question 168

Ans Key: 4

- | | |
|----------------|--|
| eng/eng | DBMS is not an operating system.
DBMS एक ऑपरेटिंग सिस्टम नहीं है। |
| eng hin | DBMS is not an operating system.
DBMS एक ऑपरेटिंग सिस्टम नहीं है। |

Q-169 A _____ is a unique name that you give to a file.
eng/eng एक _____ विशिष्ट नाम है जिसे आप फ़ाइल को देते हैं।

- | | |
|------------------------|-------------------|
| 01. Folder | 02. Filename |
| 03. filename extension | 04. device letter |
| 05. Username | |

Q-169 A _____ is a unique name that you give to a file.
eng hin एक _____ विशिष्ट नाम है जिसे आप फ़ाइल को देते हैं।

- | | |
|-------------------------------|--------------------------|
| 01. Folder | 02. Filename |
| 03. filename extension | 04. device letter |
| 05. Username | |

Solution for Question 169 Ans Key: 2

eng/eng	A filename is a unique name that you give to a file. फ़ाइल नाम एक विशिष्ट नाम है जिसे आप फ़ाइल को देते हैं।
eng hin	A filename is a unique name that you give to a file. फ़ाइल नाम एक विशिष्ट नाम है जिसे आप फ़ाइल को देते हैं।

Q-170 The task bar is located _____.
eng/eng टास्क बार _____ में स्थित होता है।

- | | |
|--|--|
| 01. On the start menu | 02. At the bottom of the screen |
| 03. On the quick Launch toolbar | 04. At the top of the screen |
| 05. None of these | |

Q-170 The task bar is located _____.
eng hin टास्क बार _____ में स्थित होता है।

- | | |
|--|--|
| 01. On the start menu | 02. At the bottom of the screen |
| 03. On the quick Launch toolbar | 04. At the top of the screen |
| 05. None of these | |

Solution for Question 170 Ans Key: 2

eng/eng	The task bar is located at the bottom of the screen टास्क बार स्क्रीन के सबसे नीचे स्थित होता है
eng hin	The task bar is located at the bottom of the screen टास्क बार स्क्रीन के सबसे नीचे स्थित होता है

Q-171 Which of the following is an example of connectivity?
eng/eng निम्नलिखित में से कौन कनेक्टिविटी का एक उदाहरण है?

- | | |
|--------------------------|------------------------|
| 01. data | 02. floppy disk |
| 03. Power cord | 04. Internet |
| 05. None of these | |

Q-171 Which of the following is an example of connectivity?
eng hin निम्नलिखित में से कौन कनेक्टिविटी का एक उदाहरण है?

- | | |
|--------------------------|------------------------|
| 01. data | 02. floppy disk |
| 03. Power cord | 04. Internet |
| 05. None of these | |

Solution for Question 171 Ans Key: 4

eng/eng	Internet is an example of connectivity. इंटरनेट कनेक्टिविटी का एक उदाहरण है
eng hin	Internet is an example of connectivity. इंटरनेट कनेक्टिविटी का एक उदाहरण है

Q-172 Which of the following is not a web browser?
eng/eng निम्नलिखित में से कौन सा वेब ब्राउज़र नहीं है?

- | | |
|------------------------------|----------------------------|
| 01. Internet Explorer | 02. Google Chrome |
| 03. Twitter | 04. Mozilla Firefox |
| 05. Opera | |

Q-172 Which of the following is not a web browser?
eng hin निम्नलिखित में से कौन सा वेब ब्राउज़र नहीं है?

01. Internet Explorer
02. Google Chrome
03. Twitter
04. Mozilla Firefox
05. Opera

Solution for Question 172

Ans Key: 3

eng/eng Twitter is not a web browser it is a social networking sites.
Twitter एक वेब ब्राउज़र नहीं है यह एक सोशल नेटवर्किंग साइट है।

eng hin Twitter is not a web browser it is a social networking sites.
Twitter एक वेब ब्राउज़र नहीं है यह एक सोशल नेटवर्किंग साइट है।

Q-173 _____ is not a graphic file format that allows animation to be viewed on a computer.
eng/eng _____ एक ग्राफिक फ़ाइल प्रारूप नहीं है जो एनीमेशन को कंप्यूटर पर देखने की अनुमति देता है

01. PNG
02. GIF
03. EMF
04. WMF
05. MP3

Q-173 _____ is not a graphic file format that allows animation to be viewed on a computer.
eng hin _____ एक ग्राफिक फ़ाइल प्रारूप नहीं है जो एनीमेशन को कंप्यूटर पर देखने की अनुमति देता है

01. PNG
02. GIF
03. EMF
04. WMF
05. MP3

Solution for Question 173

Ans Key: 5

eng/eng MP3 is not a graphic file format that allows animation to be viewed on a computer.
MP3 एक ग्राफिक फ़ाइल प्रारूप नहीं है जो एनीमेशन को कंप्यूटर पर देखने की अनुमति देता है।

eng hin MP3 is not a graphic file format that allows animation to be viewed on a computer.
MP3 एक ग्राफिक फ़ाइल प्रारूप नहीं है जो एनीमेशन को कंप्यूटर पर देखने की अनुमति देता है।

Q-174 A process known as _____ is used by large retailers to study trends.
eng/eng ट्रेंड्स का अध्ययन करने के लिए बड़े खुदरा विक्रेताओं द्वारा _____ नामक एक प्रक्रिया का उपयोग किया जाता है।

01. data mining
02. data selection
03. POST
04. data conversion
05. None of these

Q-174 A process known as _____ is used by large retailers to study trends.
eng hin ट्रेंड्स का अध्ययन करने के लिए बड़े खुदरा विक्रेताओं द्वारा _____ नामक एक प्रक्रिया का उपयोग किया जाता है।

01. data mining
02. data selection
03. POST
04. data conversion
05. None of these

Solution for Question 174

Ans Key: 1

eng/eng A process known as data mining is used by large retailers to study trends.
ट्रेंड्स का अध्ययन करने के लिए बड़े खुदरा विक्रेताओं द्वारा data mining नामक एक प्रक्रिया का उपयोग किया जाता है।

eng hin A process known as data mining is used by large retailers to study trends.
ट्रेंड्स का अध्ययन करने के लिए बड़े खुदरा विक्रेताओं द्वारा data mining नामक एक प्रक्रिया का उपयोग किया जाता है।

Q-175 What happens when you boot up a PC ?
eng/eng क्या होता है जब आप एक पीसी को बूट करते हैं?

01. Portions of the operating system are compiled.
02. Portions of the operating system are copied from memory onto disk.
03. Portions of the operating system are copied from disk into memory.
04. Portions of the operating system are emulated.
05. The PC gets switched off.

Q-175 What happens when you boot up a PC ?
eng hin क्या होता है जब आप एक पीसी को बूट करते हैं?

01. Portions of the operating system are compiled. 02. Portions of the operating system are copied from memory onto disk.
03. Portions of the operating system are copied from disk into memory. 04. Portions of the operating system are emulated.
05. The PC gets switched off.

Solution for Question 175

Ans Key: 3

eng/eng When you boot up a system, its process portion of the operating system are copied from disk into memory जब आप किसी सिस्टम को बूट करते हैं, तो ऑपरेटिंग सिस्टम का हिस्सा डिस्क से मेमोरी में कॉपी हो जाता है

eng hin When you boot up a system, its process portion of the operating system are copied from disk into memory जब आप किसी सिस्टम को बूट करते हैं, तो ऑपरेटिंग सिस्टम का हिस्सा डिस्क से मेमोरी में कॉपी हो जाता है

Q-176 _____ is when the more power-hungry components, such as the monitor and the hard drive are put in idle.
eng/eng _____ के द्वारा शक्ति-भूख वाले घटक, जैसे मॉनिटर और हार्ड ड्राइव को निष्क्रिय में डाल दिया जाता है।

01. The shutdown procedure 02. Standby mode
03. Power down 04. Hibernation
05. None of these

Q-176 _____ is when the more power-hungry components, such as the monitor and the hard drive are put in idle.
eng hin _____ के द्वारा शक्ति-भूख वाले घटक, जैसे मॉनिटर और हार्ड ड्राइव को निष्क्रिय में डाल दिया जाता है।

01. The shutdown procedure 02. Standby mode
03. Power down 04. Hibernation
05. None of these

Solution for Question 176

Ans Key: 2

eng/eng In stand By Mode where the more power-hungry components, such as the monitor and the hard drive are put in idle state. Standby mode के द्वारा शक्ति-भूख वाले घटक, जैसे मॉनिटर और हार्ड ड्राइव को निष्क्रिय में डाल दिया जाता है।

eng hin In stand By Mode where the more power-hungry components, such as the monitor and the hard drive are put in idle state. Standby mode के द्वारा शक्ति-भूख वाले घटक, जैसे मॉनिटर और हार्ड ड्राइव को निष्क्रिय में डाल दिया जाता है।

Q-177 Which of the following uses a handheld operating system?
eng/eng निम्नलिखित में से कौन एक handheld ऑपरेटिंग सिस्टम का उपयोग करता है?

01. Supercomputer 02. Personal Computer
03. Laptop 04. Motherboard
05. Personal Digital Assistant (PDA)

Q-177 Which of the following uses a handheld operating system?
eng hin निम्नलिखित में से कौन एक handheld ऑपरेटिंग सिस्टम का उपयोग करता है?

01. Supercomputer 02. Personal Computer
03. Laptop 04. Motherboard
05. Personal Digital Assistant (PDA)

Solution for Question 177

Ans Key: 5

eng/eng Personal Digital Assistant (PDA) uses a handheld operating system
Personal Digital Assistant (PDA) एक handheld ऑपरेटिंग सिस्टम का उपयोग करता है

eng hin Personal Digital Assistant (PDA) uses a handheld operating system
Personal Digital Assistant (PDA) एक handheld ऑपरेटिंग सिस्टम का उपयोग करता है

Q-178 Memory unit is one of the part of _____
eng/eng मेमोरी यूनिट _____ के भाग में से एक है।

01. Monitor 02. Central Processing Unit
03. Output Device 04. Keyboard
05. Mouse

Q-178 Memory unit is one of the part of _____
eng hin मेमोरी यूनिट _____ के भाग में से एक है।

- | | |
|-------------------|-----------------------------|
| 01. Monitor | 02. Central Processing Unit |
| 03. Output Device | 04. Keyboard |
| 05. Mouse | |

Solution for Question 178

Ans Key: 2

eng/eng	CPU has three parts ALU (Arithmetic Logic Unit), CU (Control Unit), MU (Memory Unit) सीपीयू के तीन भाग हैं ALU (अंकगणित तर्क इकाई), CU (कंट्रोल यूनिट), MU (मेमोरी यूनिट)
eng hin	CPU has three parts ALU (Arithmetic Logic Unit), CU (Control Unit), MU (Memory Unit) सीपीयू के तीन भाग हैं ALU (अंकगणित तर्क इकाई), CU (कंट्रोल यूनिट), MU (मेमोरी यूनिट)

Q-179 In magnetic disks, data is organized on the platter in a concentric sets of rings called:
चुंबकीय डिस्क में, डेटा को रिंग के संकेंद्रित सेटों में प्लेट पर व्यवस्थित किया जाता है:

- | | |
|-------------------|-----------|
| 01. Sector | 02. Track |
| 03. Head | 04. Block |
| 05. None of these | |

Q-179 In magnetic disks, data is organized on the platter in a concentric sets of rings called:
चुंबकीय डिस्क में, डेटा को रिंग के संकेंद्रित सेटों में प्लेट पर व्यवस्थित किया जाता है:

- | | |
|-------------------|-----------|
| 01. Sector | 02. Track |
| 03. Head | 04. Block |
| 05. None of these | |

Solution for Question 179

Ans Key: 2

eng/eng	In magnetic disks, data is organized on the platter in a concentric sets of rings called Track. चुंबकीय डिस्क में, डेटा को रिंग के संकेंद्रित सेटों में प्लेट पर व्यवस्थित किया जाता है वह ट्रैक कहलाता है
eng hin	In magnetic disks, data is organized on the platter in a concentric sets of rings called Track. चुंबकीय डिस्क में, डेटा को रिंग के संकेंद्रित सेटों में प्लेट पर व्यवस्थित किया जाता है वह ट्रैक कहलाता है

Q-180 Which of the following is a text-based operating system?
निम्नलिखित में से कौन एक पाठ-आधारित ऑपरेटिंग सिस्टम है?

- | | |
|-------------------|----------------|
| 01. MS-DOS | 02. Windows 95 |
| 03. Windows XP | 04. Windows 8 |
| 05. None of these | |

Q-180 Which of the following is a text-based operating system?
निम्नलिखित में से कौन एक पाठ-आधारित ऑपरेटिंग सिस्टम है?

- | | |
|-------------------|----------------|
| 01. MS-DOS | 02. Windows 95 |
| 03. Windows XP | 04. Windows 8 |
| 05. None of these | |

Solution for Question 180

Ans Key: 1

eng/eng	MS-DOS is a text-based operating system MS-DOS एक टेक्स्ट-आधारित ऑपरेटिंग सिस्टम है
eng hin	MS-DOS is a text-based operating system MS-DOS एक टेक्स्ट-आधारित ऑपरेटिंग सिस्टम है

Q-181 Which of the following is not used in the storage phase of a computer-based information system?
कंप्यूटर आधारित सूचना प्रणाली के भंडारण चरण में निम्नलिखित में से किसका उपयोग नहीं किया जाता है?

- | | |
|-------------------|---------------|
| 01. Magnetic tape | 02. Keyboard |
| 03. Diskette | 04. Hard disk |
| 05. None of these | |

Q-181 Which of the following is not used in the storage phase of a computer-based information system?
कंप्यूटर आधारित सूचना प्रणाली के भंडारण चरण में निम्नलिखित में से किसका उपयोग नहीं किया जाता है?

- | | |
|-------------------|---------------|
| 01. Magnetic tape | 02. Keyboard |
| 03. Diskette | 04. Hard disk |

05. None of these	
Solution for Question 181	
eng/eng	Keyboard is an input device. कीबोर्ड एक इनपुट डिवाइस है।
eng hin	Keyboard is an input device. कीबोर्ड एक इनपुट डिवाइस है।

01. IBM **02.** Seagate
03. Microsoft **04.** 3M
05. None of these

Solution for Question 182		Ans Key: 2
eng/eng	Seagate is the largest manufacturer of Hard Disk Drives Seagate हार्ड डिस्क ड्राइव का सबसे बड़ा निर्माता है	
eng hin	Seagate is the largest manufacturer of Hard Disk Drives Seagate हार्ड डिस्क ड्राइव का सबसे बड़ा निर्माता है	

01. Transistor and Register 02. Register and Diode
03. Diode and electric cell 04. Transistor and Capacitor
05. None of these

Solution for Question 183		Ans Key: 4
eng/eng	Transistor and Capacitor are the most important components to create the memory cell मेमोरी सेल बनाने के लिए सबसे महत्वपूर्ण घटक Transistor and Capacitor हैं	
eng hin	Transistor and Capacitor are the most important components to create the memory cell मेमोरी सेल बनाने के लिए सबसे महत्वपूर्ण घटक Transistor and Capacitor हैं	

01. SRAM **02.** DRAM
03. RDRAM **04.** All of the above

05. None of the above

Solution for Question 184

Ans Key: 5

eng/eng	All are the type of RAM, SRAM Static Random Access Memory, DRAM Dynamic Random Access Memory, RDRAM Rambus DRAM सभी रैम के प्रकार हैं, SRAM स्टैटिक रैंडम एक्सेस मेमोरी, DRAM डायनेमिक रैंडम एक्सेस मेमोरी, RDRAM रेम्बस DRAM
eng hin	All are the type of RAM, SRAM Static Random Access Memory, DRAM Dynamic Random Access Memory, RDRAM Rambus DRAM सभी रैम के प्रकार हैं, SRAM स्टैटिक रैंडम एक्सेस मेमोरी, DRAM डायनेमिक रैंडम एक्सेस मेमोरी, RDRAM रेम्बस DRAM

Q-185 Different memories can be classified according to the concept of _____ की अवधारणा के अनुसार विभिन्न यादों को वर्गीकृत किया जा सकता है

- | | |
|-----------------------------------|----------------------|
| 01. Access mode/capacity and cost | 02. Access Time |
| 03. Transfer Rate | 04. All of the above |
| 05. None of these | |

Q-185 Different memories can be classified according to the concept of _____ की अवधारणा के अनुसार विभिन्न यादों को वर्गीकृत किया जा सकता है

- | | |
|-----------------------------------|----------------------|
| 01. Access mode/capacity and cost | 02. Access Time |
| 03. Transfer Rate | 04. All of the above |
| 05. None of these | |

Solution for Question 185

Ans Key: 4

eng/eng	Different memories can be classified according to the concept of Access mode/capacity and cost, Access Time, Transfer Rate. <u>Access</u> mode/capacity and cost, Access Time, Transfer Rate. की अवधारणा के अनुसार विभिन्न यादों को वर्गीकृत किया जा सकता है
eng hin	Different memories can be classified according to the concept of Access mode/capacity and cost, Access Time, Transfer Rate. <u>Access</u> mode/capacity and cost, Access Time, Transfer Rate. की अवधारणा के अनुसार विभिन्न यादों को वर्गीकृत किया जा सकता है

Q-186 _____ is a semiconductor memory.
_____ एक अर्धचालक स्मृति है।

- | | |
|-------------------|----------------|
| 01. Dynamic | 02. Static |
| 03. Bubble | 04. Both A & B |
| 05. None of these | |

Q-186 _____ is a semiconductor memory.
_____ एक अर्धचालक स्मृति है।

- | | |
|-------------------|----------------|
| 01. Dynamic | 02. Static |
| 03. Bubble | 04. Both A & B |
| 05. None of these | |

Solution for Question 186

Ans Key: 4

eng/eng	Dynamic and static is a semiconductor memory. Dynamic and static एक अर्धचालक स्मृति है।
eng hin	Dynamic and static is a semiconductor memory. Dynamic and static एक अर्धचालक स्मृति है।

Q-187 Which type of memory holds only the program and data that the CPU is presently processing?
किस प्रकार की मेमोरी में केवल प्रोग्राम और डेटा होता है जिसे CPU वर्तमान में प्रोसेस करता है

- | | |
|-------------------|-----------|
| 01. CMOS | 02. ROM |
| 03. RAM | 04. ASCII |
| 05. None of these | |

Q-187 Which type of memory holds only the program and data that the CPU is presently processing?
किस प्रकार की मेमोरी में केवल प्रोग्राम और डेटा होता है जिसे CPU वर्तमान में प्रोसेस करता है

- | | |
|-------------------|-----------|
| 01. CMOS | 02. ROM |
| 03. RAM | 04. ASCII |
| 05. None of these | |

Solution for Question 187

Ans Key: 3

eng/eng	RAM holds only the program and data that the CPU is presently processing. RAM में केवल प्रोग्राम और डेटा होता है जिसे CPU वर्तमान में प्रोसेस करता है
eng hin	RAM holds only the program and data that the CPU is presently processing. RAM में केवल प्रोग्राम और डेटा होता है जिसे CPU वर्तमान में प्रोसेस करता है

Q-188 Which of the following is not a type of computer network?
निम्नलिखित में से कौन एक प्रकार का कंप्यूटर नेटवर्क नहीं है?

- | | |
|----------------|----------------|
| 01. PAN | 02. LAN |
| 03. WAN | 04. MAN |
| 05. EAN | |

Q-188 Which of the following is not a type of computer network?
निम्नलिखित में से कौन एक प्रकार का कंप्यूटर नेटवर्क नहीं है?

- | | |
|----------------|----------------|
| 01. PAN | 02. LAN |
| 03. WAN | 04. MAN |
| 05. EAN | |

Solution for Question 188 Ans Key: 5

eng/eng	EAN is not a type of computer network EAN एक प्रकार का कंप्यूटर नेटवर्क नहीं है
eng hin	EAN is not a type of computer network EAN एक प्रकार का कंप्यूटर नेटवर्क नहीं है

Q-189 Connections to other documents or to other locations within a Web site are
वेब साइट के भीतर अन्य दस्तावेजों या अन्य स्थानों के कनेक्शन के लिए _____ का प्रयोग किया जाता है

- | | |
|--------------------------|--------------------|
| 01. hyperlinks | 02. bots |
| 03. hyperconnects | 04. filters |
| 05. None of these | |

Q-189 Connections to other documents or to other locations within a Web site are
वेब साइट के भीतर अन्य दस्तावेजों या अन्य स्थानों के कनेक्शन के लिए _____ का प्रयोग किया जाता है

- | | |
|--------------------------|--------------------|
| 01. hyperlinks | 02. bots |
| 03. hyperconnects | 04. filters |
| 05. None of these | |

Solution for Question 189 Ans Key: 1

eng/eng	Connections to other documents or to other locations within a Web site are hyperlinks वेब साइट के भीतर अन्य दस्तावेजों या अन्य स्थानों के कनेक्शन के लिए हाइपरलिंक का प्रयोग किया जाता है
eng hin	Connections to other documents or to other locations within a Web site are hyperlinks वेब साइट के भीतर अन्य दस्तावेजों या अन्य स्थानों के कनेक्शन के लिए हाइपरलिंक का प्रयोग किया जाता है

Q-190 To what temporary area can you store text and other data, and later paste them to another location?
आप किस अस्थायी क्षेत्र में पाठ और अन्य डेटा संग्रहीत कर सकते हैं, और बाद में उन्हें किसी अन्य स्थान पर पेस्ट कर सकते हैं?

- | | |
|--------------------------|--------------------------|
| 01. The clipboard | 02. ROM |
| 03. CD-ROM | 04. The hard disk |
| 05. None of these | |

Q-190 To what temporary area can you store text and other data, and later paste them to another location?
आप किस अस्थायी क्षेत्र में पाठ और अन्य डेटा संग्रहीत कर सकते हैं, और बाद में उन्हें किसी अन्य स्थान पर पेस्ट कर सकते हैं?

- | | |
|--------------------------|--------------------------|
| 01. The clipboard | 02. ROM |
| 03. CD-ROM | 04. The hard disk |
| 05. None of these | |

Solution for Question 190 Ans Key: 1

eng/eng	The clipboard is the temporary area where we can store text and other data, and later paste them to another location.
----------------	---

Clipboard में पाठ और अन्य डेटा संग्रहीत कर सकते हैं, और बाद में उन्हें किसी अन्य स्थान पर पेस्ट कर सकते हैं

eng hin The clipboard is the temporary area where we can store text and other data, and later paste them to another location.
Clipboard में पाठ और अन्य डेटा संग्रहीत कर सकते हैं, और बाद में उन्हें किसी अन्य स्थान पर पेस्ट कर सकते हैं

Q-191 What is the shape of CDs?
eng/eng सीडी का आकार क्या है?

- | | |
|-------------------|-----------------|
| 01. Quadrilateral | 02. Rectangular |
| 03. Circular | 04. Hexagonal |
| 05. None of these | |

Q-191 What is the shape of CDs?
eng hin सीडी का आकार क्या है?

- | | |
|-------------------|-----------------|
| 01. Quadrilateral | 02. Rectangular |
| 03. Circular | 04. Hexagonal |
| 05. None of these | |

Solution for Question 191 Ans Key: 3

eng/eng The shape of CDs is circular.
सीडी का आकार circular होता है

eng hin The shape of CDs is circular.
सीडी का आकार circular होता है

Q-192 For selecting or highlighting, which of the following is generally used?
eng/eng चयन या हाइलाइटिंग के लिए, आम तौर पर निम्नलिखित में से किसका उपयोग किया जाता है?

- | | |
|-------------------|-----------------|
| 01. Icon | 02. Keyboard |
| 03. Mouse | 04. Floppy Disk |
| 05. None of these | |

Q-192 For selecting or highlighting, which of the following is generally used?
eng hin चयन या हाइलाइटिंग के लिए, आम तौर पर निम्नलिखित में से किसका उपयोग किया जाता है?

- | | |
|-------------------|-----------------|
| 01. Icon | 02. Keyboard |
| 03. Mouse | 04. Floppy Disk |
| 05. None of these | |

Solution for Question 192 Ans Key: 3

eng/eng For selecting or highlighting, Mouse is generally used.
चयन या हाइलाइटिंग के लिए, आम तौर पर निम्नलिखित में से माउस का उपयोग किया जाता है

eng hin For selecting or highlighting, Mouse is generally used.
चयन या हाइलाइटिंग के लिए, आम तौर पर निम्नलिखित में से माउस का उपयोग किया जाता है

Q-193 Which type of memory is closely related to processor?
eng/eng प्रोसेसर किस प्रकार की मेमोरी से निकतम संबंधित होता है?

- | | |
|-------------------|----------------------|
| 01. Main Memory | 02. Secondary Memory |
| 03. Disk Memory | 04. Tape Memory |
| 05. None of these | |

Q-193 Which type of memory is closely related to processor?
eng hin प्रोसेसर किस प्रकार की मेमोरी से निकतम संबंधित होता है?

- | | |
|-------------------|----------------------|
| 01. Main Memory | 02. Secondary Memory |
| 03. Disk Memory | 04. Tape Memory |
| 05. None of these | |

Solution for Question 193 Ans Key: 1

eng/eng Main memory is closely related to processor.
प्रोसेसर मेम मेमोरी से निकतम संबंधित होता है

eng hin Main memory is closely related to processor.

Q-197 _____ controls the way in which the computer system functions and provides a means by which users can interact with the computer.
eng/eng _____ उस तरीके को नियंत्रित करता है जिसमें कंप्यूटर सिस्टम कार्य करता है और एक साधन प्रदान करता है जिसके द्वारा उपयोगकर्ता कंप्यूटर के साथ बातचीत कर सकते हैं।

01. The platform

02. The operating system

03. Application software

04. The motherboard

05. None of these

Q-197 _____ controls the way in which the computer system functions and provides a means by which users can interact with the computer.
eng hin _____ उस तरीके को नियंत्रित करता है जिसमें कंप्यूटर सिस्टम कार्य करता है और एक साधन प्रदान करता है जिसके द्वारा उपयोगकर्ता कंप्यूटर के साथ बातचीत कर सकते हैं।

01. The platform

02. The operating system

03. Application software

04. The motherboard

05. None of these

Solution for Question 197

Ans Key: 2

eng/eng	The operating system controls the way in which the computer system functions and provides a means by which users can interact with the computer. ऑपरेटिंग सिस्टम उस तरीके को नियंत्रित करता है जिसमें कंप्यूटर सिस्टम के साथ कार्य करता है और एक साधन प्रदान करता है जिसके द्वारा उपयोगकर्ता कंप्यूटर के साथ बातचीत कर सकते हैं।
eng hin	The operating system controls the way in which the computer system functions and provides a means by which users can interact with the computer. ऑपरेटिंग सिस्टम उस तरीके को नियंत्रित करता है जिसमें कंप्यूटर सिस्टम के साथ कार्य करता है और एक साधन प्रदान करता है जिसके द्वारा उपयोगकर्ता कंप्यूटर के साथ बातचीत कर सकते हैं।

Q-198 _____ is the process of dividing the disk into tracks and sectors.
eng/eng _____ डिस्क को पटरियों और क्षेत्रों में विभाजित करने की प्रक्रिया है।

01. Tracking

02. Formatting

03. Crashing

04. Allotting

05. None of these

Q-198 _____ is the process of dividing the disk into tracks and sectors.
eng hin _____ डिस्क को पटरियों और क्षेत्रों में विभाजित करने की प्रक्रिया है।

01. Tracking

02. Formatting

03. Crashing

04. Allotting

05. None of these

Solution for Question 198

Ans Key: 2

eng/eng	Formatting is the process of dividing the disk into tracks and sectors. फॉर्मेटिंग डिस्क को पटरियों और क्षेत्रों में विभाजित करने की प्रक्रिया होती है।
eng hin	Formatting is the process of dividing the disk into tracks and sectors. फॉर्मेटिंग डिस्क को पटरियों और क्षेत्रों में विभाजित करने की प्रक्रिया होती है।

Q-199 The operating system is the most common type of _____ software.
eng/eng ऑपरेटिंग सिस्टम _____ सॉफ्टवेयर का सबसे आम प्रकार है।

01. application

02. presentation software

03. system

04. communication

05. None of these

Q-199 The operating system is the most common type of _____ software.
eng hin ऑपरेटिंग सिस्टम _____ सॉफ्टवेयर का सबसे आम प्रकार है।

01. application

02. presentation software

03. system

04. communication

05. None of these

Solution for Question 199

Ans Key: 3

eng/eng	The operating system is the most common type of system software. ऑपरेटिंग सिस्टम, सिस्टम सॉफ्टवेयर का सबसे आम प्रकार है।
eng hin	The operating system is the most common type of system software. ऑपरेटिंग सिस्टम, सिस्टम सॉफ्टवेयर का सबसे आम प्रकार है।

Q-200 Programs such as Mozilla Firefox that serve as navigable application into web are called
eng/eng मोज़िला फ़ायरफ़ॉक्स जैसे प्रोग्राम जो वेब में नेविगेट करने योग्य एप्लिकेशन के रूप में काम करते हैं, _____ कहलाते हैं

01. Networks

02. Hyperlinks

03. Web browsers

04. URLs

05. None of these

Q-200 Programs such as Mozilla Firefox that serve as navigable application into web are called
eng hin मोज़िला फ़ायरफ़ॉक्स जैसे प्रोग्राम जो वेब में नेविगेट करने योग्य एप्लिकेशन के रूप में काम करते हैं, _____ कहलाते हैं

01. Networks

02. Hyperlinks

03. Web browsers

04. URLs

05. None of these

Solution for Question 200 Ans Key: 3

eng/eng Programs such as Mozilla Firefox that serve as navigable application into web are called web browser
मोज़िला फ़ायरफ़ॉक्स जैसे प्रोग्राम जो वेब में नेविगेट करने योग्य एप्लिकेशन के रूप में काम करते हैं, वेब ब्राउज़र कहलाते हैं

eng hin Programs such as Mozilla Firefox that serve as navigable application into web are called web browser
मोज़िला फ़ायरफ़ॉक्स जैसे प्रोग्राम जो वेब में नेविगेट करने योग्य एप्लिकेशन के रूप में काम करते हैं, वेब ब्राउज़र कहलाते हैं

