

ST-2081 RRB CLERK (MAINS) 2020

Passage for Question 1, 2, 3, 4, 5 (ST-2081 RRB CLERK MAINS R (1-5) 2020)

eng/eng Passage

Study the following information carefully and answer the question below.

A number arrangement machine when given an input line numbers rearranges them following a particular rule in each step. The following is an illustration of input and rearrangement.

Input: 712, 316, 249, 436, 519, 868, 687, 428

Step I: 179, 80, 82, 110, 172, 218, 228, 108

Step II: 99, 162, 28, 282, 46, 446, 120

Step III: 18, 09, 10, 12, 10, 14, 03

Step IV: 8, 4, 4, 5, 4, 6, 2

Step V: 17, 63, 02, 80, 05, 63

and step V is the last step of the arrangement. As per the rule followed in the above steps find out in each of the following questions the appropriate steps for the given input.

Input: 657, 436, 764, 759, 975, 572, 333, 444

निम्नलिखित जानकारी का ध्यानपूर्वक अध्ययन करें और नीचे दिए गए प्रश्न का उत्तर दें।

जब एक व्यवस्था मशीन को संख्याओं की इनपुट लाइन दी जाती है तो वह व्यवस्था मशीन उन्हें प्रत्येक चरण में एक विशेष नियम का पालन करते हुए व्यवस्थित करती है। इनपुट और पुनर्व्यवस्था का एक उदाहरण निम्नलिखित है।

इनपुट: 712, 316, 249, 436, 519, 868, 687, 428

चरण I: 179, 80, 82, 110, 172, 218, 228, 108

चरण II: 99, 162, 28, 282, 46, 446, 120

चरण III: 18, 09, 10, 12, 10, 14, 03

चरण IV: 8, 4, 4, 5, 4, 6, 2

चरण V: 17, 63, 02, 80, 05, 63

और चरण V व्यवस्था का अंतिम चरण है। उपरोक्त चरणों में दिए गए नियम के अनुसार निम्नलिखित प्रत्येक प्रश्न में दिए गए इनपुट के लिए उपयुक्त चरणों को ज्ञात कीजिए।

इनपुट: 657, 436, 764, 759, 975, 572, 333, 444

eng hin Passage

Study the following information carefully and answer the question below.

A number arrangement machine when given an input line numbers rearranges them following a particular rule in each step. The following is an illustration of input and rearrangement.

Input: 712, 316, 249, 436, 519, 868, 687, 428

Step I: 179, 80, 82, 110, 172, 218, 228, 108

Step II: 99, 162, 28, 282, 46, 446, 120

Step III: 18, 09, 10, 12, 10, 14, 03

Step IV: 8, 4, 4, 5, 4, 6, 2

Step V: 17, 63, 02, 80, 05, 63

and step V is the last step of the arrangement. As per the rule followed in the above steps find out in each of the following questions the appropriate steps for the given input.

Input: 657, 436, 764, 759, 975, 572, 333, 444

निम्नलिखित जानकारी का ध्यानपूर्वक अध्ययन करें और नीचे दिए गए प्रश्न का उत्तर दें।

जब एक व्यवस्था मशीन को संख्याओं की इनपुट लाइन दी जाती है तो वह व्यवस्था मशीन उन्हें प्रत्येक चरण में एक विशेष नियम का पालन करते हुए व्यवस्थित करती है। इनपुट और पुनर्व्यवस्था का एक उदाहरण निम्नलिखित है।

इनपुट: 712, 316, 249, 436, 519, 868, 687, 428

चरण I: 179, 80, 82, 110, 172, 218, 228, 108

चरण II: 99, 162, 28, 282, 46, 446, 120

चरण III: 18, 09, 10, 12, 10, 14, 03

चरण IV: 8, 4, 4, 5, 4, 6, 2

चरण V: 17, 63, 02, 80, 05, 63

और चरण V व्यवस्था का अंतिम चरण है। उपरोक्त चरणों में दिए गए नियम के अनुसार निम्नलिखित प्रत्येक प्रश्न में दिए गए इनपुट के लिए उपयुक्त चरणों को ज्ञात कीजिए।

इनपुट: 657, 436, 764, 759, 975, 572, 333, 444

Q-1 What is the sum of all numbers in step III?

eng/eng चरण III में सभी संख्याओं का योग क्या है?

01. 55

02. 74

03. 52

04. 60

05. 69

Q-1 What is the sum of all elements in step III?

eng hin चरण III में सभी तत्वों का योग क्या है?

01. 55
03. 52
05. 69

02. 74
04. 60

Ans Key: 4

Solution for Question 1

eng/eng

657, 436, 764, 759, 975, 572, 333, 444
218 110 192 252 324 144 110 112
(Even no. divided by 4 then +1
/Odd no. divided by 3 then -1)
108 302 60 576 180 254 02 (+ - - - +)
09 05 06 18 09 11 02 (Sum of all digits)
04 2.6 2 8 4 4.6 0
(Even no. divided by 2 then -1
/Odd no. divided by 3 then +1)
2.96 20.16 37 143 1.36 20.16 (- + - + -) then square/
(+1 -1 +1 -1 +1 -1)

657, 436, 764, 759, 975, 572, 333, 444
218 110 192 252 324 144 110 112
सम संख्या को 4 से भाग फिर +4
विषम संख्या को 3 से भाग फिर -3
108 302 60 576 180 254 02 (+ - - - +)
09 05 06 18 09 11 02 सभी अंकों का योग
04 2.6 2 8 4 4.6 0
सम संख्या को 2 से भाग फिर -1
विषम संख्या को 3 से भाग फिर +1
2.96 20.16 37 143 1.36 20.16 (- + - - +) फिर वर्ग/
(+1 -1 +1 -1 +1 -1)

eng hin

657, 436, 764, 759, 975, 572, 333, 444
218 110 192 252 324 144 110 112
(Even no. divided by 4 then +1
/Odd no. divided by 3 then -1)
108 302 60 576 180 254 02 (+ - - - +)
09 05 06 18 09 11 02 (Sum of all digits)
04 2.6 2 8 4 4.6 0
(Even no. divided by 2 then -1
/Odd no. divided by 3 then +1)
2.96 20.16 37 143 1.36 20.16 (- + - - +) then square/
(+1 -1 +1 -1 +1 -1)

657, 436, 764, 759, 975, 572, 333, 444
218 110 192 252 324 144 110 112
सम संख्या को 4 से भाग फिर +4
विषम संख्या को 3 से भाग फिर -3
108 302 60 576 180 254 02 (+ - - - +)
09 05 06 18 09 11 02 सभी अंकों का योग
04 2.6 2 8 4 4.6 0
सम संख्या को 2 से भाग फिर -1
विषम संख्या को 3 से भाग फिर +1
2.96 20.16 37 143 1.36 20.16 (- + - - +) फिर वर्ग/
(+1 -1 +1 -1 +1 -1)

Q-2 Which of the following steps will be the last?
निम्नलिखित में से कौन-सा चरण अंतिम होगा?

eng/eng

01. 2.96, 20.16, 143, 20.16, 37, 1.36

02. 1.96, 21.16, 37, 127.69, 0.36, 21.16

03. 2.96, 20.16, 37, 143, 1.36, 20.16

04. 21.16, 37, 143, 127.69, 0.36, 21.16

05. None of these इनमें से कोई नहीं

Which of the following steps will be the last?

निम्नलिखित में से कौन-सा चरण अंतिम होगा?

01. 2.96, 20.16, 143, 20.16, 37, 1.36

02. 1.96, 21.16, 37, 127.69, 0.36, 21.16

03. 2.96, 20.16, 37, 143, 1.36, 20.16

04. 21.16, 37, 143, 127.69, 0.36, 21.16

05. None of these इनमें से कोई नहीं

Solution for Question 2

Ans Key: 3

eng/eng

657, 436, 764, 759, 975, 572, 333, 444

218 110 192 252 324 144 110 112

(Even no. divided by 4 then +1

/Odd no. divided by 3 then -1)

108 302 60 576 180 254 02 (+ - + - +)

09 05 06 18 09 11 02 (Sum of all digits)

04 2.6 2 8 4 4.6 0

(Even no. divided by 2 then -1

/Odd no. divided by 3 then +1)

2.96 20.16 37 143 1.36 20.16

(- + - + -) / then square/
(+1 -1 +1 -1 +1 -1)

657, 436, 764, 759, 975, 572, 333, 444

218 110 192 252 324 144 110 112

सम संख्या को 4 से भाग फिर +4

विषम संख्या को 3 से भाग फिर -3

108 302 60 576 180 254 02 (+ - + - +)

09 05 06 18 09 11 02 सभी अंकों का योग

04 2.6 2 8 4 4.6 0

सम संख्या को 2 से भाग फिर -1

विषम संख्या को 3 से भाग फिर +1

2.96 20.16 37 143 1.36 20.16

(- + - + -) / फिर वर्ग /
(+1 -1 +1 -1 +1 -1)

eng hin

657, 436, 764, 759, 975, 572, 333, 444

218 110 192 252 324 144 110 112

(Even no. divided by 4 then +1

/Odd no. divided by 3 then -1)

108 302 60 576 180 254 02 (+ - + - +)

09 05 06 18 09 11 02 (Sum of all digits)

04 2.6 2 8 4 4.6 0

(Even no. divided by 2 then -1

/Odd no. divided by 3 then +1)

2.96 20.16 37 143 1.36 20.16

(- + - + -) / then square/
(+1 -1 +1 -1 +1 -1)

657, 436, 764, 759, 975, 572, 333, 444

218 110 192 252 324 144 110 112

सम संख्या को 4 से भाग फिर +4

विषम संख्या को 3 से भाग फिर -3

108 302 60 576 180 254 02 (+ - + - +)

09 05 06 18 09 11 02 सभी अंकों का योग

04 2.6 2 8 4 4.6 0

सम संख्या को 2 से भाग फिर -1
विषम संख्या को 3 से भाग फिर +1

2.96 20.16 37 143 1.36 20.16 (- + - + - +) / फिर वर्ग /
(+1 -1 +1 -1 +1 -1)

Q-3

eng/eng

Which of the following steps will be the step II?
निम्नलिखित में से कौन-सा चरण II होगा?

01. 280, 154, 20, 108, 402, 80, 476 02. 208, 402, 80, 476, 280, 154, 40
03. 108, 402, 80, 476, 280, 154, 20 04. 108, 302, 60, 576, 180, 254, 02
05. None of these
इनमें से कोई नहीं

Q-3

eng/hin

Which of the following steps will be the step II?
निम्नलिखित में से कौन-सा चरण II होगा?

01. 280, 154, 20, 108, 402, 80, 476 02. 208, 402, 80, 476, 280, 154, 40
03. 108, 402, 80, 476, 280, 154, 20 04. 108, 302, 60, 576, 180, 254, 02
05. None of these
इनमें से कोई नहीं

Solution for Question 3

Ans Key: 4

eng/eng

657, 436, 764, 759, 975, 572, 333, 444
218 110 192 252 324 144 110 112
(Even no. divided by 4 then +1
/Odd no. divided by 3 then -1)

108 302 60 576 180 254 02 (+ - + - + - +)
09 05 06 18 09 11 02 (Sum of all digits)
04 2.6 2 8 4 4.6 0
(Even no. divided by 2 then -1
/Odd no. divided by 3 then +1)

2.96 20.16 37 143 1.36 20.16 (- + - + - +) / then square /
(+1 -1 +1 -1 +1 -1)

657, 436, 764, 759, 975, 572, 333, 444
218 110 192 252 324 144 110 112
सम संख्या को 4 से भाग फिर +4
विषम संख्या को 3 से भाग फिर -3

108 302 60 576 180 254 02 (+ - + - + - +)
09 05 06 18 09 11 02 सभी अंकों का योग
04 2.6 2 8 4 4.6 0
सम संख्या को 2 से भाग फिर -1
विषम संख्या को 3 से भाग फिर +1

2.96 20.16 37 143 1.36 20.16 (- + - + - +) / फिर वर्ग /
(+1 -1 +1 -1 +1 -1)

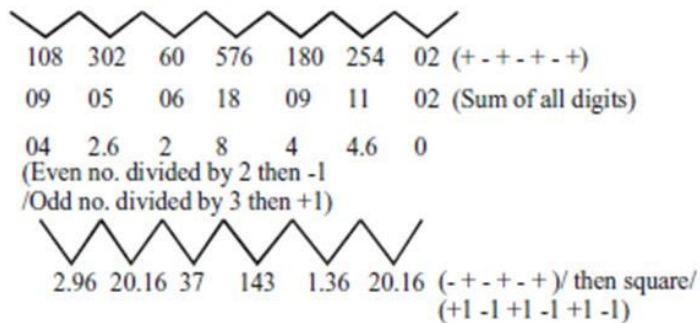
eng/hin

657, 436, 764, 759, 975, 572, 333, 444
218 110 192 252 324 144 110 112
(Even no. divided by 4 then +1
/Odd no. divided by 3 then -1)

108 302 60 576 180 254 02 (+ - + - + - +)
09 05 06 18 09 11 02 (Sum of all digits)
04 2.6 2 8 4 4.6 0
(Even no. divided by 2 then -1
/Odd no. divided by 3 then +1)

2.96 20.16 37 143 1.36 20.16 (- + - + - +) / then square /
(+1 -1 +1 -1 +1 -1)

/Odd no. divided by 3 then -1)




657, 436, 764, 759, 975, 572, 333, 444

218 110 192 252 324 144 110 112

सम संख्या को 4 से भाग फिर +4

विषम संख्या को 3 से भाग फिर -3



Q-5 Which of the following element will be fourth from the right in the last but one step?
निम्नलिखित में से कौन-सा तत्व अंतिम से पहले वाले चरण में दाएं ओर से चौथा होगा?

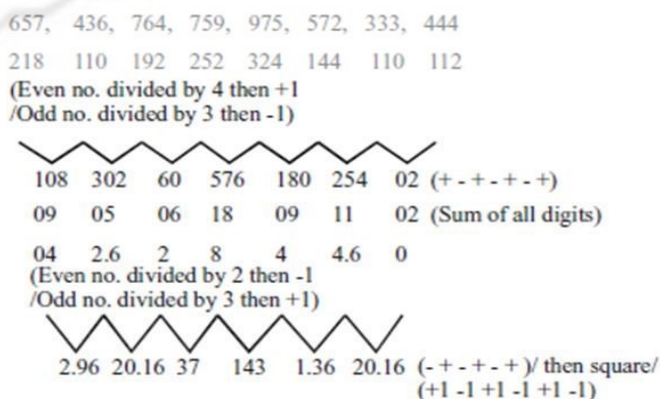
- | | |
|---------|-------|
| 01. 2.6 | 02. 2 |
| 03. 8 | 04. 4 |
| 05. 4.6 | |

Q-5 Which of the following element will be fourth from the right in the last but one step?
निम्नलिखित में से कौन-सा तत्व अंतिम से पहले वाले चरण में दाएं ओर से चौथा होगा?

- | | |
|---------|-------|
| 01. 2.6 | 02. 2 |
| 03. 8 | 04. 4 |
| 05. 4.6 | |

Solution for Question 5

Ans Key: 3




657, 436, 764, 759, 975, 572, 333, 444

218 110 192 252 324 144 110 112

सम संख्या को 4 से भाग फिर +4

विषम संख्या को 3 से भाग फिर -3



2.96 20.16 37 143 1.36 20.16 (- + - + - +) / फिर वर्ग /
(+1 -1 +1 -1 +1 -1)

eng hin

657, 436, 764, 759, 975, 572, 333, 444

218 110 192 252 324 144 110 112

(Even no. divided by 4 then +1

/Odd no. divided by 3 then -1)

108 302 60 576 180 254 02 (+ - + - + -)

09 05 06 18 09 11 02 (Sum of all digits)

04 2.6 2 8 4 4.6 0

(Even no. divided by 2 then -1

/Odd no. divided by 3 then +1)

2.96 20.16 37 143 1.36 20.16 (- + - + - +) / फिर वर्ग /

(+1 -1 +1 -1 +1 -1)

657, 436, 764, 759, 975, 572, 333, 444

218 110 192 252 324 144 110 112

सम संख्या को 4 से भाग फिर +4

विषम संख्या को 3 से भाग फिर -3

108 302 60 576 180 254 02 (+ - + - + -)

09 05 06 18 09 11 02 सभी अंकों का योग

04 2.6 2 8 4 4.6 0

सम संख्या को 2 से भाग फिर -1

विषम संख्या को 3 से भाग फिर +1

2.96 20.16 37 143 1.36 20.16 (- + - + - +) / फिर वर्ग /

(+1 -1 +1 -1 +1 -1)

Passage for Question 6, 7, 8, 9, 10 (ST-2081 RRB CLERK MAINS R (6-10) 2020)

eng/eng Passage

Study the following information carefully and answer the question given below.

Five married couples A, B, C, D, E, F, G, H, I and J all sitting around a circle facing the centre. In which none of the females is a neighbour of each-other. All like five different companies- MRF, CBZ, R15, CRUX and CD100, but not necessarily in the same order. A is sitting third to the left of D and third to the right of C. C is sitting fifth to the left of her husband H, they both like the same company either CRUX or CD100. The persons who like company CRUX and CD100 are not immediate neighbours of those persons who like company CBZ. Either E and F or I and D like company CBZ. E is a female who is an immediate neighbour of I. B likes company MRF and he is the wife of A. G is the husband of J and likes company CD100. Every married couple like the same company. C is sitting second to the right of B. F who likes company CBZ and is not the husband of D and J. G is an immediate neighbour of C.

निम्नलिखित जानकारी का ध्यानपूर्वक अध्ययन करें और नीचे दिए गए प्रश्न का उत्तर दें।

पांच विवाहित जोड़े A, B, C, D, E, F, G, H, I और J सभी एक वृत्त के चारों ओर बैठे हैं। जिसमें कोई भी महिला एक-दूसरे की पड़ोसी नहीं है। सभी पांच अलग-अलग कंपनी MRF, CBZ, R15, CRUX और CD100 पसंद करते हैं, लेकिन इसी ही क्रम में हो यह आवश्यक नहीं है। A, D के बायें तीसरे स्थान पर और C के दायें तीसरे स्थान पर बैठा है। C अपने पति H के बायें पाँचवे स्थान पर बैठा है, वे दोनों एक ही कंपनी या तो CRUX या CD100 को पसंद करते हैं। वे व्यक्ति जो कंपनी CRUX और CD100 पसंद करते हैं, उन व्यक्तियों के तत्काल पड़ोसी नहीं हैं, जिन्हें कंपनी CBZ पसंद है। या तो E और F या I और D को कंपनी CBZ पसंद है। E एक महिला है जो I की तत्काल पड़ोसी है। B को कंपनी MRF पसंद है और वह A की पत्नी है। G, J का पति है और वह कंपनी CD100 पसंद करता है। हर शादीशुदा जोड़े को एक ही कंपनी पसंद है। C, B के दाएं ओर दूसरा बैठा है। F जिसे कंपनी CBZ पसंद है वह D और J का पति नहीं है। G, C का तत्काल पड़ोसी है।

eng hin Passage

Study the following information carefully and answer the question given below.

Five married couples A, B, C, D, E, F, G, H, I and J all sitting around a circle facing the centre. In which none of the females is a neighbour of each-other. All like five different companies- MRF, CBZ, R15, CRUX and CD100, but not necessarily in the same order. A is sitting third to the left of D and third to the right of C. C is sitting fifth to the left of her husband H, they both like the same company either CRUX or CD100. The persons who like company CRUX and CD100 are not immediate neighbours of those persons who like company CBZ. Either E and F or I and D like company CBZ. E is a female who is an immediate neighbour of I. B likes company MRF and he is the wife of A. G is the husband of J and likes company CD100. Every married couple like the same company. C is sitting second to the right of B. F who likes company CBZ and is not the husband of D and J. G is an immediate neighbour of C.

निम्नलिखित जानकारी का ध्यानपूर्वक अध्ययन करें और नीचे दिए गए प्रश्न का उत्तर दें।

पांच विवाहित जोड़े A, B, C, D, E, F, G, H, I और J सभी एक वृत्त के चारों ओर बैठे हैं। जिसमें कोई भी महिला एक-दूसरे की पड़ोसी नहीं है। सभी पांच अलग-अलग कंपनी MRF, CBZ, R15, CRUX और CD100 पसंद करते हैं, लेकिन इसी ही क्रम में हो यह आवश्यक नहीं है। A, D के बायें तीसरे स्थान पर और C के दायें तीसरे स्थान पर बैठा है। C अपने पति H के बायें पाँचवे स्थान पर बैठा है, वे दोनों एक ही कंपनी या तो CRUX या CD100 को पसंद करते हैं। वे व्यक्ति जो कंपनी CRUX और CD100 पसंद करते हैं, उन व्यक्तियों के तत्काल पड़ोसी नहीं हैं, जिन्हें कंपनी CBZ पसंद है। या तो E और F या I और D को कंपनी CBZ पसंद है। E एक महिला है जो I की तत्काल पड़ोसी है। B को कंपनी MRF पसंद है और वह A की पत्नी है। G, J का पति है और वह कंपनी CD100 पसंद करता है। हर शादीशुदा जोड़े को एक ही कंपनी पसंद है। C, B के दाएं ओर दूसरा बैठा है। F जिसे कंपनी CBZ पसंद है वह D और J का पति नहीं है। G, C का तत्काल पड़ोसी है।

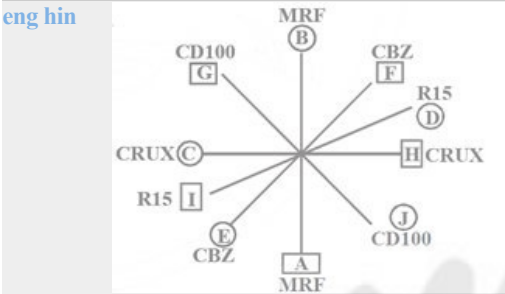
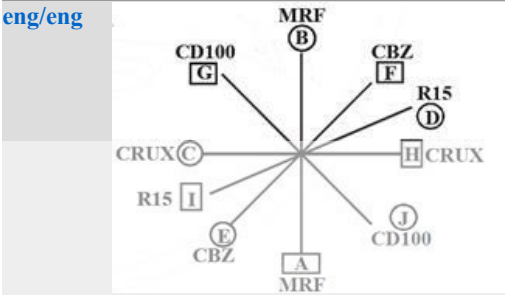
Q-6 Which of the following pairs is true?
निम्नलिखित में से कौन-सा जोड़ा सही है?

01. G, C
02. I, D
03. E, F
04. G, J
05. A, B

Q-6 Which of the following pairs is true?
निम्नलिखित में से कौन-सा जोड़ा सही है?

01. G, C
02. I, D
03. E, F
04. G, J
05. A, B

Solution for Question 6 Ans Key: 1



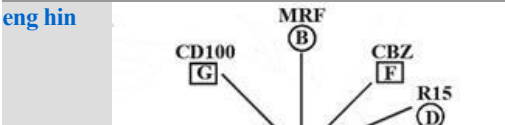
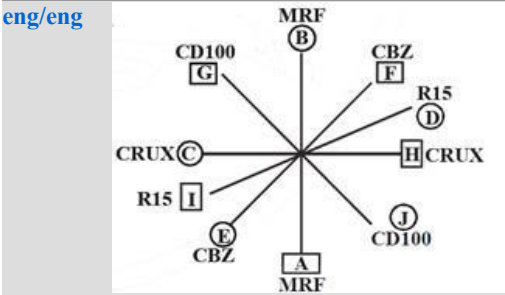
Q-7 Which of the following persons is sitting in front of I?
निम्नलिखित में से कौन-सा व्यक्ति I के सामने बैठा है?

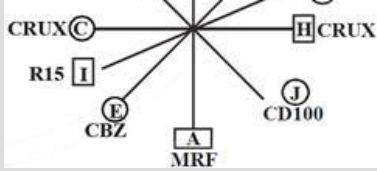
01. A
02. G
03. D
04. E
05. None of these
इनमें से कोई नहीं

Q-7 Which of the following persons is sitting in front of I?
निम्नलिखित में से कौन-सा व्यक्ति I के सामने बैठा है?

01. A
02. G
03. D
04. E
05. None of these
इनमें से कोई नहीं

Solution for Question 7 Ans Key: 3





Q-8 Which of the following statements is correct regarding married couples?
eng/eng विवाहित जोड़ों के संदर्भ में निम्नलिखित में से कौन-सा कथन सही है?

- | | |
|--|--|
| 01. A is the husband of F.
A, F का पति है। | 02. G is the husband of D.
G, D का पति है। |
| 03. E is the wife of H.
E, H की पत्नी है। | 04. B is the wife of I.
B, I की पत्नी है। |
| 05. None of these
इनमें से कोई नहीं | |

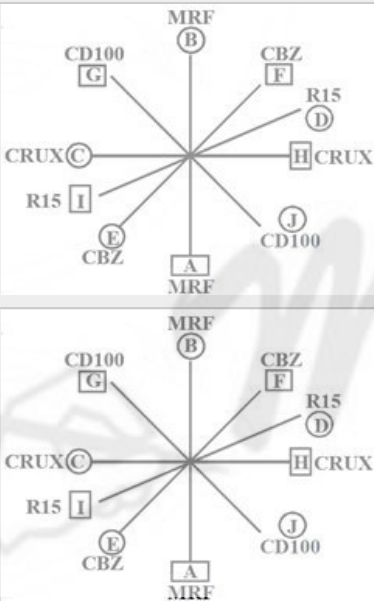
Q-8 Which of the following statements is correct regarding married couples?
eng hin विवाहित जोड़ों के संदर्भ में निम्नलिखित में से कौन-सा कथन सही है?

- | | |
|--|--|
| 01. A is the husband of F.
A, F का पति है। | 02. G is the husband of D.
G, D का पति है। |
| 03. E is the wife of H.
E, H की पत्नी है। | 04. B is the wife of I.
B, I की पत्नी है। |
| 05. None of these
इनमें से कोई नहीं | |

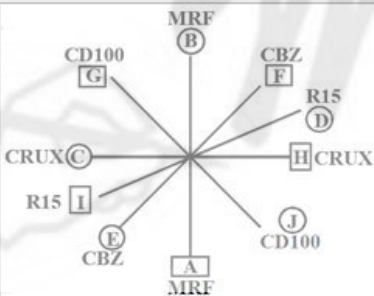
Solution for Question 8

Ans Key: 1

eng/eng



eng hin



Q-9 Which of the following person is an immediate neighbour of D?
eng/eng निम्नलिखित में से कौन व्यक्ति D का तत्काल पड़ोसी है?

- | | |
|---|--------------|
| 01. H | 02. F |
| 03. Both 1 and 2
1 और 2 दोनों | 04. J |
| 05. None of these
इनमें से कोई नहीं | |

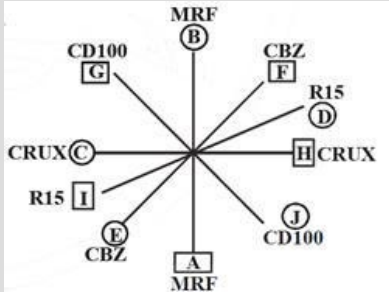
Q-9 Which of the following person is an immediate neighbour of D?
eng hin निम्नलिखित में से कौन व्यक्ति D का तत्काल पड़ोसी है?

- | | |
|---|--------------|
| 01. H | 02. F |
| 03. Both 1 and 2
1 और 2 दोनों | 04. J |
| 05. None of these
इनमें से कोई नहीं | |

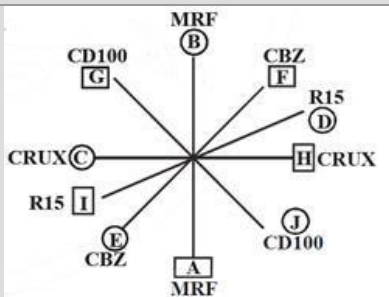
Solution for Question 9

Ans Key: 3

eng/eng



eng hin



Q-10 Which of the following group represents female members?
निम्नलिखित में से कौन सा समूह महिला सदस्यों का प्रतिनिधित्व करता है?

- | | |
|---|---|
| 01. E, J, D, B and H
E, J, D, B और H | 02. J, D, B, I and G
J, D, B, I और G |
| 03. C, B, D, E and H
C, B, D, E और H | 04. E, J, D, B and C
E, J, D, B और C |
| 05. None of these
इनमें से कोई नहीं | |

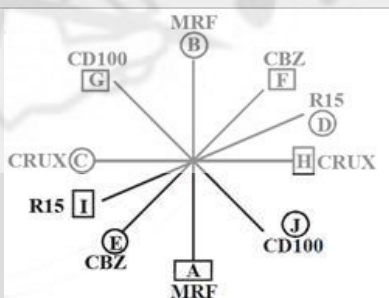
Q-10 Which of the following group represents female members?
निम्नलिखित में से कौन सा समूह महिला सदस्यों का प्रतिनिधित्व करता है?

- | | |
|---|---|
| 01. E, J, D, B and H
E, J, D, B और H | 02. J, D, B, I and G
J, D, B, I और G |
| 03. C, B, D, E and H
C, B, D, E और H | 04. E, J, D, B and C
E, J, D, B और C |
| 05. None of these
इनमें से कोई नहीं | |

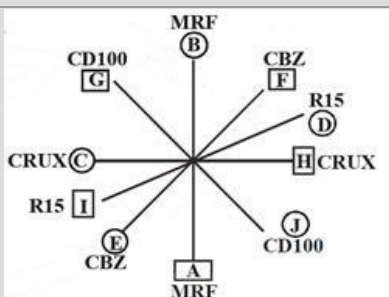
Solution for Question 10

Ans Key: 4

eng/eng



eng hin



Passage for Question 11, 12, 13, 14, 15 (ST-2081 RRB CLERK MAINS R (11-15) 2020)

eng/eng Passage

Study the following information to answer the given question.

In a certain code language:

COMPANY ARRANGED THE MEETING is written as –R69, M16+, E5+, A15+

MEETING HELD IN EVENING is written as –E57, L5+, A15+, –_14

EVENING BOSS ARRANGED MEATING is written as -R61, A15+, S15+, -E57
ARRANGEMENT DONE BY BOSS is written as N20+, __+, -R104, S15+

दिए गए प्रश्न का उत्तर देने के लिए निम्नलिखित जानकारी का अध्ययन करें।

एक निश्चित कोड भाषा में:

COMPANY ARRANGHED THE MEATING को -R69, M16 +, E5 +, A15 + के रूप में लिखा जाता है
MEATING HELD IN EVENING को -E57, L5 +, A15 +, __14 के रूप में लिखा जाता है
EVENING BOSS ARRANGED MEATING को -R61, A15 +, S15 +, -E57 के रूप में लिखा जाता है
ARRANGEMENT DONE BY BOSS को N20 +, __+, -R104, S15 + के रूप में लिखा गया है

eng hin Passage

Study the following information to answer the given question.

In a certain code language:

COMPANY ARRANGHED THE MEATING is written as -R69, M16+, E5+, A15+
MEATING HELD IN EVENING is written as -E57, L5+, A15+, __14
EVENING BOSS ARRANGED MEATING is written as -R61, A15+, S15+, -E57
ARRANGEMENT DONE BY BOSS is written as N20+, __+, -R104, S15+

दिए गए प्रश्न का उत्तर देने के लिए निम्नलिखित जानकारी का अध्ययन करें।

एक निश्चित कोड भाषा में:

COMPANY ARRANGHED THE MEATING को -R69, M16 +, E5 +, A15 + के रूप में लिखा जाता है
MEATING HELD IN EVENING को -E57, L5 +, A15 +, __14 के रूप में लिखा जाता है
EVENING BOSS ARRANGED MEATING को -R61, A15 +, S15 +, -E57 के रूप में लिखा जाता है
ARRANGEMENT DONE BY BOSS को N20 +, __+, -R104, S15 + के रूप में लिखा गया है

Q-11 What is code for INDIA?
eng/eng INDIA के लिए कोड क्या है?

- | | |
|----------|----------|
| 01. +D18 | 02. 18D+ |
| 03. -18D | 04. -D18 |
| 05. -D19 | |

Q-11 What is code for INDIA?
eng hin INDIA के लिए कोड क्या है?

- | | |
|----------|----------|
| 01. +D18 | 02. 18D+ |
| 03. -18D | 04. -D18 |
| 05. -D19 | |

Solution for Question 11

Ans Key: 4

eng/eng For symbol: If starting letter of a word is consonant then we use + in last whereas If starting letter of a word is vowel then we use - in first.
For letter: Third letter of a word is written if there is no third letter in the word then we use __ in place of third letter.
For number: If starting letter of a word is consonant then we add place values of vowels in the given words whereas If starting letter of a word is vowel then we add place values of consonants in the given words. If there is no such letter found then again we use __.

प्रतीक के लिए: यदि किसी शब्द का अक्षर शुरू करना व्यंजन है तो हम अंतिम में + का उपयोग करते हैं जबकि यदि किसी शब्द का अक्षर शुरू होता है तो हम पहले प्रयोग करते हैं।
अक्षर के लिए: किसी शब्द का तीसरा अक्षर लिखा जाता है यदि शब्द में कोई तीसरा अक्षर नहीं है तो हम तीसरे लेट के स्थान पर __ का उपयोग करते हैं।
संख्या के लिए: यदि किसी शब्द का अक्षर शुरू करना व्यंजन है तो हम दिए गए शब्दों में स्वरों के स्थान मान जोड़ते हैं जबकि यदि किसी शब्द का अक्षर शुरू होता है तो हम दिए गए शब्दों में व्यंजन के मूल्यों को जोड़ते हैं। अगर ऐसा कोई अक्षर नहीं मिला है फिर हम __ का उपयोग करते हैं।

eng hin For symbol: If starting letter of a word is consonant then we use + in last whereas If starting letter of a word is vowel then we use - in first.
For letter: Third letter of a word is written if there is no third letter in the word then we use __ in place of third letter.
For number: If starting letter of a word is consonant then we add place values of vowels in the given words whereas If starting letter of a word is vowel then we add place values of consonants in the given words. If there is no such letter found then again we use __.

प्रतीक के लिए: यदि किसी शब्द का अक्षर शुरू करना व्यंजन है तो हम अंतिम में + का उपयोग करते हैं जबकि यदि किसी शब्द का अक्षर शुरू होता है तो हम पहले प्रयोग करते हैं।
अक्षर के लिए: किसी शब्द का तीसरा अक्षर लिखा जाता है यदि शब्द में कोई तीसरा अक्षर नहीं है तो हम तीसरे लेट के स्थान पर __ का उपयोग करते हैं।
संख्या के लिए: यदि किसी शब्द का अक्षर शुरू करना व्यंजन है तो हम दिए गए शब्दों में स्वरों के स्थान मान जोड़ते हैं जबकि यदि किसी शब्द का अक्षर शुरू होता है तो हम दिए गए शब्दों में व्यंजन के मूल्यों को जोड़ते हैं। अगर ऐसा कोई अक्षर नहीं मिला है फिर हम __ का उपयोग करते हैं।

Q-12 What is code for HIGHEST?
eng/eng HIGHEST के लिए कोड क्या है?

01. G9+

03. G52+

05. 8–16
02. +G14

04. G14+
- Q-12** What is code for HIGHEST?
eng hin HIGHEST के लिए कोड क्या है?

01. G9+

03. G52+

05. 8–16
02. +G14

04. G14+

Solution for Question 12 Ans Key: 4

eng/eng For symbol: If starting letter of a word is consonant then we use + in last whereas If starting letter of a word is vowel then we use – in first.
For letter: Third letter of a word is written if there is no third letter in the word then we use _ in place of third letter.
For number: If starting letter of a word is consonant then we add place values of vowels in the given words whereas If starting letter of a word is vowel then we add place values of consonants in the given words. If there is no such letter found then again we use _.

प्रतीक के लिए: यदि किसी शब्द का अक्षर शुरू करना व्यंजन है तो हम अंतिम में + का उपयोग करते हैं जबकि यदि किसी शब्द का अक्षर शुरू होता है तो हम पहले प्रयोग करते हैं।

अक्षर के लिए: किसी शब्द का तीसरा अक्षर लिखा जाता है यदि शब्द में कोई तीसरा अक्षर नहीं है तो हम तीसरे लेट के स्थान पर _ का उपयोग करते हैं।

संख्या के लिए: यदि किसी शब्द का अक्षर शुरू करना व्यंजन है तो हम दिए गए शब्दों में स्वरों के स्थान मान जोड़ते हैं जबकि यदि किसी शब्द का अक्षर शुरू होता है तो हम दिए गए शब्दों में व्यंजन के मूल्यों को जोड़ते हैं। अगर

ऐसा कोई अक्षर नहीं मिला है फिर हम _ का उपयोग करते हैं।

eng hin For symbol: If starting letter of a word is consonant then we use + in last whereas If starting letter of a word is vowel then we use – in first.
For letter: Third letter of a word is written if there is no third letter in the word then we use _ in place of third letter.
For number: If starting letter of a word is consonant then we add place values of vowels in the given words whereas If starting letter of a word is vowel then we add place values of consonants in the given words. If there is no such letter found then again we use _.

प्रतीक के लिए: यदि किसी शब्द का अक्षर शुरू करना व्यंजन है तो हम अंतिम में + का उपयोग करते हैं जबकि यदि किसी शब्द का अक्षर शुरू होता है तो हम पहले प्रयोग करते हैं।

अक्षर के लिए: किसी शब्द का तीसरा अक्षर लिखा जाता है यदि शब्द में कोई तीसरा अक्षर नहीं है तो हम तीसरे लेट के स्थान पर _ का उपयोग करते हैं।

संख्या के लिए: यदि किसी शब्द का अक्षर शुरू करना व्यंजन है तो हम दिए गए शब्दों में स्वरों के स्थान मान जोड़ते हैं जबकि यदि किसी शब्द का अक्षर शुरू होता है तो हम दिए गए शब्दों में व्यंजन के मूल्यों को जोड़ते हैं। अगर

ऐसा कोई अक्षर नहीं मिला है फिर हम _ का उपयोग करते हैं।

Q-13 What is code for LEAK?
eng/eng LEAK के लिए कोड क्या है?

01. L6+

03. –A6

05. E6+
02. A6–

04. A6+

Q-13 What is code for LEAK?
eng hin LEAK के लिए कोड क्या है?

01. L6+

03. –A6

05. E6+

02. A6–

04. A6+

Solution for Question 13

Ans Key: 4

eng/eng For symbol: If starting letter of a word is consonant then we use + in last whereas If starting letter of a word is vowel then we use – in first.
For letter: Third letter of a word is written if there is no third letter in the word then we use _ in place of third letter.
For number: If starting letter of a word is consonant then we add place values of vowels in the given words whereas If starting letter of a word is vowel then we add place values of consonants in the given words. If there is no such letter found then again we use _.

प्रतीक के लिए: यदि किसी शब्द का अक्षर शुरू करना व्यंजन है तो हम अंतिम में + का उपयोग करते हैं जबकि यदि किसी शब्द का अक्षर शुरू होता है तो हम पहले प्रयोग करते हैं।

अक्षर के लिए: किसी शब्द का तीसरा अक्षर लिखा जाता है यदि शब्द में कोई तीसरा अक्षर नहीं है तो हम तीसरे लेट के स्थान पर _ का उपयोग करते हैं।

संख्या के लिए: यदि किसी शब्द का अक्षर शुरू करना व्यंजन है तो हम दिए गए शब्दों में स्वरों के स्थान मान जोड़ते हैं जबकि यदि किसी शब्द का अक्षर शुरू होता है तो हम दिए गए शब्दों में व्यंजन के मूल्यों को जोड़ते हैं। अगर

ऐसा कोई अक्षर नहीं मिला है फिर हम _ का उपयोग करते हैं।

eng hin For symbol: If starting letter of a word is consonant then we use + in last whereas If starting letter of a word is vowel then we use – in first.
For letter: Third letter of a word is written if there is no third letter in the word then we use _ in place of third letter.
For number: If starting letter of a word is consonant then we add place values of vowels in the given words whereas If starting letter of a word is vowel then we add place values of consonants in the given words. If there is no such letter found then again we use _.

प्रतीक के लिए: यदि किसी शब्द का अक्षर शुरू करना व्यंजन है तो हम अंतिम में + का उपयोग करते हैं जबकि यदि किसी शब्द का अक्षर शुरू होता है तो हम पहले प्रयोग करते हैं।

अक्षर के लिए: किसी शब्द का तीसरा अक्षर लिखा जाता है यदि शब्द में कोई तीसरा अक्षर नहीं है तो हम तीसरे लेट के स्थान पर _ का उपयोग करते हैं।

संख्या के लिए: यदि किसी शब्द का अक्षर शुरू करना व्यंजन है तो हम दिए गए शब्दों में स्वरों के स्थान मान जोड़ते हैं जबकि यदि किसी शब्द का अक्षर शुरू होता है तो हम दिए गए शब्दों में व्यंजन के मूल्यों को जोड़ते हैं। अगर

ऐसा कोई अक्षर नहीं मिला है फिर हम _ का उपयोग करते हैं।

Q-14 N36+ indicates which one?
eng/eng N36 + किसको इंगित करता है?

01. FIND

03. SIMMI

05. GOLU

02. DIMPU

04. FONDU

Q-14 N36+ indicates which one?
eng hin N36 + किसको इंगित करता है?

01. FIND

03. SIMMI

05. GOLU

02. DIMPU

04. FONDU

Solution for Question 14

Ans Key: 4

eng/eng For symbol: If starting letter of a word is consonant then we use + in last whereas If starting letter of a word is vowel then we use – in first.
For letter: Third letter of a word is written if there is no third letter in the word then we use _ in place of third letter.
For number: If starting letter of a word is consonant then we add place values of vowels in the given words whereas If starting letter of a word is vowel then we add place values of consonants in the given words. If there is no such letter found then again we use _.

प्रतीक के लिए: यदि किसी शब्द का अक्षर शुरू करना व्यंजन है तो हम अंतिम में + का उपयोग करते हैं जबकि यदि किसी शब्द का अक्षर

शुरू होता है तो हम पहले प्रयोग करते हैं।

अक्षर के लिए: किसी शब्द का तीसरा अक्षर लिखा जाता है यदि शब्द में कोई तीसरा अक्षर नहीं है तो हम तीसरे लेट के स्थान पर _ का उपयोग करते हैं।

संख्या के लिए: यदि किसी शब्द का अक्षर शुरू करना व्यंजन है तो हम दिए गए शब्दों में स्वरों के स्थान मान जोड़ते हैं जबकि यदि किसी शब्द का अक्षर शुरू होता है तो हम दिए गए शब्दों में व्यंजन के मूल्यों को जोड़ते हैं। अगर

ऐसा कोई अक्षर नहीं मिला है फिर हम _ का उपयोग करते हैं।

eng hin

For symbol: If starting letter of a word is consonant then we use + in last whereas If starting letter of a word is vowel then we use – in first.

For letter: Third letter of a word is written if there is no third letter in the word then we use _ in place of third letter.

For number: If starting letter of a word is consonant then we add place values of vowels in the given words whereas If starting letter of a word is vowel then we add place values of consonants in the given words. If there is no such letter found then again we use _.

प्रतीक के लिए: यदि किसी शब्द का अक्षर शुरू करना व्यंजन है तो हम अंतिम में + का उपयोग करते हैं जबकि यदि किसी शब्द का अक्षर शुरू होता है तो हम पहले प्रयोग करते हैं।

अक्षर के लिए: किसी शब्द का तीसरा अक्षर लिखा जाता है यदि शब्द में कोई तीसरा अक्षर नहीं है तो हम तीसरे लेट के स्थान पर _ का उपयोग करते हैं।

संख्या के लिए: यदि किसी शब्द का अक्षर शुरू करना व्यंजन है तो हम दिए गए शब्दों में स्वरों के स्थान मान जोड़ते हैं जबकि यदि किसी शब्द का अक्षर शुरू होता है तो हम दिए गए शब्दों में व्यंजन के मूल्यों को जोड़ते हैं। अगर

ऐसा कोई अक्षर नहीं मिला है फिर हम _ का उपयोग करते हैं।

Q-15

eng/eng

What is code for EE?

EE के लिए कोड क्या है?

01. - E –

03. _ _ -

05. - _ _

02. - -

04. - - A

Q-15

eng hin

What is code for EE?

EE के लिए कोड क्या है?

01. - E –

03. _ _ -

05. - _ _

02. - -

04. - - A

Solution for Question 15

Ans Key: 5

eng/eng

For symbol: If starting letter of a word is consonant then we use + in last whereas If starting letter of a word is vowel then we use – in first.

For letter: Third letter of a word is written if there is no third letter in the word then we use _ in place of third letter.

For number: If starting letter of a word is consonant then we add place values of vowels in the given words whereas If starting letter of a word is vowel then we add place values of consonants in the given words. If there is no such letter found then again we use _.

प्रतीक के लिए: यदि किसी शब्द का अक्षर शुरू करना व्यंजन है तो हम अंतिम में + का उपयोग करते हैं जबकि यदि किसी शब्द का अक्षर शुरू होता है तो हम पहले प्रयोग करते हैं।

अक्षर के लिए: किसी शब्द का तीसरा अक्षर लिखा जाता है यदि शब्द में कोई तीसरा अक्षर नहीं है तो हम तीसरे लेट के स्थान पर _ का उपयोग करते हैं।

संख्या के लिए: यदि किसी शब्द का अक्षर शुरू करना व्यंजन है तो हम दिए गए शब्दों में स्वरों के स्थान मान जोड़ते हैं जबकि यदि किसी शब्द का अक्षर शुरू होता है तो हम दिए गए शब्दों में व्यंजन के मूल्यों को जोड़ते हैं। अगर

ऐसा कोई अक्षर नहीं मिला है फिर हम _ का उपयोग करते हैं।

eng hin

For symbol: If starting letter of a word is consonant then we use + in last whereas If starting letter of a word is vowel then we use – in first.

For letter: Third letter of a word is written if there is no third letter in the word then we use _ in place of third letter.

For number: If starting letter of a word is consonant then we add place values of vowels in the given words whereas If starting letter of a word is vowel then we add place values of consonants in the given words. If there is no such letter found then again we use _.

प्रतीक के लिए: यदि किसी शब्द का अक्षर शुरू करना व्यंजन है तो हम अंतिम में + का उपयोग करते हैं जबकि यदि किसी शब्द का अक्षर शुरू होता है तो हम पहले प्रयोग करते हैं।

अक्षर के लिए: किसी शब्द का तीसरा अक्षर लिखा जाता है यदि शब्द में कोई तीसरा अक्षर नहीं है तो हम तीसरे लेट के स्थान पर _ का उपयोग करते हैं।

संख्या के लिए: यदि किसी शब्द का अक्षर शुरू करना व्यंजन है तो हम दिए गए शब्दों में स्वरों के स्थान मान जोड़ते हैं जबकि यदि किसी शब्द का अक्षर शुरू होता है तो हम दिए गए शब्दों में व्यंजन के मूल्यों को जोड़ते हैं। अगर

ऐसा कोई अक्षर नहीं मिला है फिर हम _ का उपयोग करते हैं।

Passage for Question 16, 17, 18 (ST-2081 RRB CLERK MAINS R (16-18) 2020)

eng/eng Passage

Study the following information carefully and answer the question given below.

First 15 natural numbers are written from bottom to top. The letters of the word 'SCORE' are written in alphabetical order against the multiples of 3 such that one letter is written against one number from bottom to top. Only three numbers are left blank and letters viz. X, Y, Z, D, J, K and L were written against rest of the numbers not necessarily in the same order.

Only three letters were written between Y and E. X was written at a gap of two places from L. D and X were adjacent. J was immediately above Y. Two blank positions were not consecutive. K was written exactly between E and J. Number of places above and below Z were same. L was written against the number which is the highest odd prime number among the given numbers. The bottom most number was not left blank.

निम्नलिखित जानकारी का ध्यानपूर्वक अध्ययन करें और नीचे दिए गए प्रश्न का उत्तर दें।

पहले 15 प्राकृतिक संख्याएँ नीचे से ऊपर की ओर लिखी गई हैं। 'SCORE' शब्द के अक्षरों को 3 के गुणकों के विपरीत वर्णमाला क्रम में लिखा गया है, इस प्रकार से कि नीचे से ऊपर तक एक अक्षर के विपरीत एक संख्या लिखी गयी है। केवल तीन नंबर रिक्त रह गए हैं और अक्षर अर्थात् X, Y, Z, D, J, K और L अन्य संख्याओं के विपरीत लिखे गए थे, जरूरी नहीं कि वे इसी क्रम में हों।

Y और E के बीच केवल तीन अक्षर लिखे गए थे। X, L से दो स्थानों के अंतराल पर लिखा गया था। D और X समीप थे। J, Y के ठीक ऊपर था। दो खाली पद लगातार नहीं थे। K, E और J के बीच बिल्कुल लिखा गया था। Z के ऊपर और नीचे के स्थानों की संख्या समान थी। L उस संख्या के विपरीत लिखा गया था जो दी गई संख्याओं में उच्चतम विषम अभाज्य संख्या है। सबसे नीचे की संख्या को खाली नहीं छोड़ा गया था।

eng hin Passage

Study the following information carefully and answer the question given below.

First 15 natural numbers are written from bottom to top. The letters of the word 'SCORE' are written in alphabetical order against the multiples of 3 such that one letter is written against one number from bottom to top. Only three numbers are left blank and letters viz. X, Y, Z, D, J, K and L were written against rest of the numbers not necessarily in the same order.

Only three letters were written between Y and E. X was written at a gap of two places from L. D and X were adjacent. J was immediately above Y. Two blank positions were not consecutive. K was written exactly between E and J. Number of places above and below Z were same. L was written against the number which is the highest odd prime number among the given numbers. The bottom most number was not left blank.

निम्नलिखित जानकारी का ध्यानपूर्वक अध्ययन करें और नीचे दिए गए प्रश्न का उत्तर दें।

पहले 15 प्राकृतिक संख्याएँ नीचे से ऊपर की ओर लिखी गई हैं। 'SCORE' शब्द के अक्षरों को 3 के गुणकों के विपरीत वर्णमाला क्रम में लिखा गया है, इस प्रकार से कि नीचे से ऊपर तक एक अक्षर के विपरीत एक संख्या लिखी गयी है। केवल तीन संख्याओं को रिक्त रखा गया है और अक्षर अर्थात् X, Y, Z, D, J, K और L अन्य संख्याओं के विपरीत लिखे गए थे, जरूरी नहीं कि वे इसी क्रम में हों।

Y और E के बीच केवल तीन अक्षर लिखे गए थे। X, L से दो स्थानों के अंतराल पर लिखा गया था। D और X समीप थे। J, Y के ठीक ऊपर था। दो खाली पद लगातार नहीं थे। K, E और J के बीच बिल्कुल लिखा गया था। Z के ऊपर और नीचे के स्थानों की संख्या समान थी। L उस संख्या के विपरीत लिखा गया था जो दी गई संख्याओं में उच्चतम विषम अभाज्य संख्या है। सबसे नीचे की संख्या को खाली नहीं छोड़ा गया था।

Q-16 What is the sum of the numbers against which letters Z and K are written?
eng/eng Z और K को किस अक्षर के विरुद्ध संख्याओं का योग लिखा जाता है?

- | | |
|-------------------|--------|
| 01. 14 | 02. 12 |
| 03. 18 | 04. 10 |
| 05. None of these | |
| इनमें से कोई नहीं | |

Q-16 What is the sum of the numbers against which letters Z and K are written?
eng hin Z और K को किस अक्षर के विरुद्ध संख्याओं का योग लिखा जाता है?

- | | |
|--------|--------|
| 01. 14 | 02. 12 |
| 03. 18 | 04. 10 |

05. None of these
इनमें से कोई नहीं

Ans Key: 2

Solution for Question 16

eng/eng	15	S
	14	
	13	L
	12	R
	11	D
	10	X
	9	O
	8	Z
	7	
	6	E
	5	
	4	K
	3	C
	2	J
	1	Y

eng hin	15	S
	14	
	13	L
	12	R
	11	D
	10	X
	9	O
	8	Z
	7	
	6	E
	5	
	4	K
	3	C
	2	J
	1	Y

Q-17 Four of the following five are alike in a certain way and thus form a group. Which of the following does not belong to the group?
निम्नलिखित पांच में से चार एक निश्चित तरीके से एक जैसे हैं और इस प्रकार एक समूह बनाते हैं। निम्नलिखित में से कौन समूह से संबंधित नहीं है?

01. 10
02. 9
03. 12
04. 4
05. 7

Q-17 Four of the following five are alike in a certain way and thus form a group. Which of the following does not belong to the group?
निम्नलिखित पांच में से चार एक निश्चित तरीके से एक जैसे हैं और इस प्रकार एक समूह बनाते हैं। निम्नलिखित में से कौन समूह से संबंधित नहीं है?

01. 10
02. 9
03. 12
04. 4
05. 7

Solution for Question 17

Ans Key: 5

eng/eng	15	S
	14	
	13	L
	12	R
	11	D
	10	X
	9	O
	8	Z
	7	
	6	E
	5	
	4	K
	3	C
	2	J
	1	Y

eng hin	15	S
	14	
	13	L
	12	R
	11	D
	10	X
	9	O
	8	Z
	7	

6	E
5	
4	K
3	C
2	J
1	Y

eng/eng

- eng hin

- Ans Key: 4

eng/engeng hin

eng/eng

कथन:
कुछ A, B हैं।
कुछ B, C हैं।
कुछ C, D हैं।
सभी D, E हैं।

01. Some A not being D is a possibility.
कुछ A के D न होने की एक संभावना है।
03. All E not being C is a possibility.
सभी E के C न होने की एक संभावना है।
05. No A being D is a possibility.
कोई A के D न होने की एक संभावना है।

02. All C can be E.
सभी C, E हो सकते हैं।
04. No B being D is a possibility.
कोई B के D न होने की एक संभावना है।

Q-19
eng/hin

In each question given below statements are followed by five conclusions Option 1, 2, 3, 4 and 5. You have to take the given statements to be true (even if they seem to be at variance from the commonly known facts). Read the conclusions and decide which conclusion is Definitely False. Give answer –

Statement:

Some A are B.
Some B are C.
Some C are D.
All D are E.

नीचे दिए गए प्रत्येक प्रश्न में पांच निष्कर्ष 1, 2, 3, 4 और 5 के बाद दिए गए हैं। आपको दिए गए कथनों को सत्य मानना है (भले ही वे सामान्यतः ज्ञात तथ्यों से भिन्न प्रतीत हों)। निष्कर्ष पढ़ें और निश्चित करें कि कौन सा निष्कर्ष निश्चित रूप से गलत है। उत्तर दीजिए –

कथन:

कुछ A, B हैं।
कुछ B, C हैं।
कुछ C, D हैं।
सभी D, E हैं।

01. Some A not being D is a possibility.
कुछ A के D न होने की एक संभावना है।
03. All E not being C is a possibility.
सभी E के C न होने की एक संभावना है।
05. No A being D is a possibility.
कोई A के D न होने की एक संभावना है।

02. All C can be E.
सभी C, E हो सकते हैं।
04. No B being D is a possibility.
कोई B के D न होने की एक संभावना है।

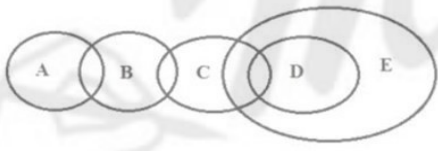
Solution for Question 19

Ans Key: 3

eng/eng



eng/hin



Q-20
eng/eng

In each question given below statements are followed by five conclusions Option 1, 2, 3, 4 and 5. You have to take the given statements to be true (even if they seem to be at variance from the commonly known facts). Read the conclusions and decide which conclusion is Definitely False. Give answer –

Statement :

All A are B.
All B are C.
Some C are D.
Some D are E.

नीचे दिए गए प्रत्येक प्रश्न में पांच निष्कर्ष 1, 2, 3, 4 और 5 के बाद दिए गए हैं। आपको दिए गए कथनों को सत्य मानना है (भले ही वे सामान्यतः ज्ञात तथ्यों से भिन्न प्रतीत हों)। निष्कर्ष पढ़ें और निश्चित करें कि कौन सा निष्कर्ष निश्चित रूप से गलत है। उत्तर दीजिए –

कथन:

सभी A, B हैं।
सभी B, C हैं।
कुछ C, D हैं।
कुछ D, E हैं।

01. All C can be A.
सभी C, A हो सकते हैं।
03. Some D not being C is a possibility.
कुछ D के C न होने की एक संभावना है।
05. Some A not being C is a possibility.
कुछ A के C न होने की एक संभावना है।

02. All D can be B.
सभी D, B हो सकते हैं।
04. No E being C is a possibility.
नहीं E, C एक संभावना है।

Q-20
eng/hin

In each question given below statements are followed by five conclusions Option 1, 2, 3, 4 and 5. You have to take the given statements to be true (even if they seem to be at variance from the commonly known facts). Read the conclusions and decide which conclusion is Definitely False. Give answer –

Statement :

All A are B.
All B are C.
Some C are D.
Some D are E.

नीचे दिए गए प्रत्येक प्रश्न में पांच निष्कर्ष 1, 2, 3, 4 और 5 के बाद दिए गए हैं। आपको दिए गए कथनों को सत्य मानना है (भले ही वे सामान्यतः ज्ञात तथ्यों से भिन्न प्रतीत हों)। निष्कर्ष पढ़ें और निश्चित करें कि कौन सा निष्कर्ष निश्चित रूप से गलत है। उत्तर दीजिए –

कथन:

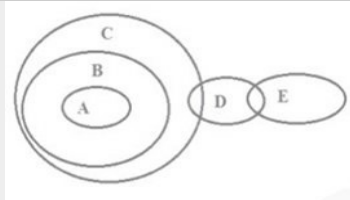
सभी A, B हैं।
सभी B, C हैं।
कुछ C, D हैं।
कुछ D, E हैं।

- | | |
|--|---|
| 01. All C can be A.
सभी C, A हो सकते हैं। | 02. All D can be B.
सभी D, B हो सकते हैं। |
| 03. Some D not being C is a possibility.
कुछ D के C न होने की एक संभावना है। | 04. No E being C is a possibility.
नहीं E, C एक संभावना है। |
| 05. Some A not being C is a possibility.
कुछ A के C न होने की एक संभावना है। | |

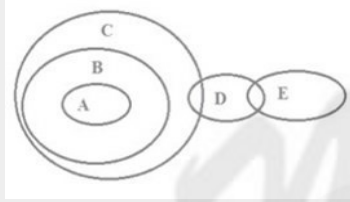
Solution for Question 20

Ans Key: 5

eng/eng



eng/hin



Q-21
eng/eng

In each question given below statements are followed by five conclusions Option 1, 2, 3, 4 and 5. You have to take the given statements to be true (even if they seem to be at variance from the commonly known facts). Read the conclusions and decide which conclusion is Definitely False. Give answer –

Statement :

All A are B.
All B are C.
All C are D.
All D are E.

नीचे दिए गए प्रत्येक प्रश्न में पांच निष्कर्ष 1, 2, 3, 4 और 5 के बाद दिए गए हैं। आपको दिए गए कथनों को सत्य मानना है (भले ही वे सामान्यतः ज्ञात तथ्यों से भिन्न प्रतीत हों)। निष्कर्ष पढ़ें और निश्चित करें कि कौन सा निष्कर्ष निश्चित रूप से गलत है। उत्तर दीजिए –

कथन:

सभी A, B हैं।
सभी B, C हैं।
सभी C, D हैं।
सभी D, E हैं।

- | | |
|---|---|
| 01. All E being A is a possibility.
सभी E के A होने की एक संभावना है। | 02. All D being A is a possibility.
सभी D के A होने की एक संभावना है। |
| 03. All C being A is a possibility.
सभी C के A होने की एक संभावना है। | 04. All B being A is a possibility.
सभी B के A होने की एक संभावना है। |
| 05. All C can never be E.
सभी C कभी भी E नहीं हो सकते हैं। | |

Q-21
eng/hin

In each question given below statements are followed by five conclusions Option 1, 2, 3, 4 and 5. You have to take the given statements to be true (even if they seem to be at variance from the commonly known facts). Read the conclusions and decide which conclusion is Definitely False. Give answer –

Statement :

All A are B.

All B are C.
All C are D.
All D are E.

नीचे दिए गए प्रत्येक प्रश्न में पांच निष्कर्ष 1, 2, 3, 4 और 5 के बाद दिए गए हैं। आपको दिए गए कथनों को सत्य मानना है (भले ही वे सामान्यतः ज्ञात तथ्यों से भिन्न प्रतीत हों)। निष्कर्ष पढ़ें और निश्चित करें कि कौन सा निष्कर्ष निश्चित रूप से गलत है। उत्तर दीजिए –

कथन:

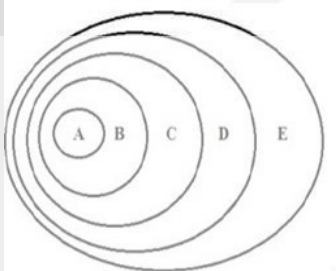
सभी A, B हैं।
सभी B, C हैं।
सभी C, D हैं।
सभी D, E हैं।

- | | |
|--|---|
| <p>01. All E being A is a possibility.
सभी E के A होने की एक संभावना है।</p> <p>03. All C being A is a possibility.
सभी C के A होने की एक संभावना है।</p> <p>05. All C can never be E.
सभी C कभी भी E नहीं हो सकते हैं।</p> | <p>02. All D being A is a possibility.
सभी D के A होने की एक संभावना है।</p> <p>04. All B being A is a possibility.
सभी B के A होने की एक संभावना है।</p> |
|--|---|

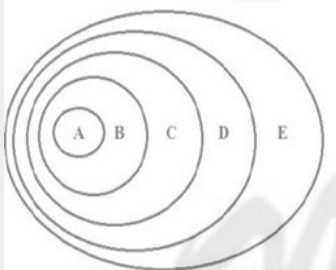
Solution for Question 21

Ans Key: 5

eng/eng



eng hin



Passage for Question 22, 23, 24, 25, 26 (ST-2081 RRB CLERK MAINS R (22-26) 2020)

eng/eng Passage

Study the following information carefully and answer the question given below.

There are eight persons namely A, B, C, D, E, F, G and H has born in the same month of different year i.e. 1969, 1972, 1978, 1981, 1989, 1997, 2000 and 2005. Their age are considered as on the same month of 2017. Each of them is sitting in a straight line while facing North.

H is third to the left of the one who is 20 year old. Only two person between G and the one who is 39 year old. The one who is 48 year sits third to the left of F who is immediate left of the D. The one who is 45 year old is not immediate neighbor of H and does not sit extreme left end. G is born in even number year, but not born in the year, which does not divisible by 4. A is 36 year now. B is 17 year older than F, who is 8 year younger than A. There is eight year gap between age of E and age of D. H is nine year younger than C. E was born earlier than G.

निम्नलिखित जानकारी का ध्यानपूर्वक अध्ययन करें और नीचे दिए गए प्रश्न का उत्तर दें।

A, B, C, D, E, F, G और H नामक आठ व्यक्ति अलग-अलग वर्ष अर्थात् 1969, 1972, 1978, 1981, 1989, 1997, 2000 और 2005 के एक ही महीने में पैदा हुए हैं। उनकी आयु 2017 के समान महीने के रूप में मानी जाती है। उनमें से प्रत्येक उत्तर की ओर देखते हुए एक सीधी रेखा में बैठे हैं।

H, 20 वर्ष के व्यक्ति के बाएं तीसरे स्थान पर है। G और जो 39 वर्ष का है के बीच केवल दो व्यक्ति हैं। वह जो 48 वर्ष का है वह F के बायें तीसरे स्थान पर बैठा है जो D के तत्काल बायें है। वह जो 45 वर्ष का है वह H का तत्काल पड़ोसी नहीं है और अंतिम बायें छोर पर नहीं बैठा है। G का जन्म सम संख्या वर्ष में हुआ है, लेकिन उन वर्ष में नहीं जन्मा है, जो 4 से विभाज्य नहीं है। A, 36 वर्ष का है। B, F से 17 वर्ष बड़ा है, जो A से 8 वर्ष छोटा है। E की आयु और D की आयु के बीच आठ वर्ष का अंतर है। H, C की तुलना में नौ साल छोटा है। E का जन्म G से पहले हुआ था।

eng hin Passage

Study the following information carefully and answer the question given below.

There are eight persons namely A, B, C, D, E, F, G and H has born in the same month of different year i.e. 1969, 1972, 1978, 1981, 1989, 1997, 2000 and 2005. Their age are considered as on the same month of 2017. Each of them is sitting in a straight line while facing North.

H is third to the left of the one who is 20 year old. Only two person between G and the one who is 39 year old. The one who is 48 year sits third to the left of F who is immediate left of the D. The one who is 45 year old is not immediate neighbor of H and does not sit extreme left end. G is born in even number year, but not born in the year, which does not divisible by 4. A is 36 year now. B is 17 year older than F, who is 8 year younger than A. There is eight year gap between age of E and age of D. H is nine year younger than C. E was born earlier than G.

निम्नलिखित जानकारी का ध्यानपूर्वक अध्ययन करें और नीचे दिए गए प्रश्न का उत्तर दें।

A, B, C, D, E, F, G और H नामक आठ व्यक्ति अलग-अलग वर्ष अर्थात् 1969, 1972, 1978, 1981, 1989, 1997, 2000 और 2005 के एक ही महीने में पैदा हुए हैं। उनकी आयु 2017 के समान महीने के रूप में मानी जाती है। उनमें से प्रत्येक उत्तर की ओर देखते हुए एक सीधी रेखा में बैठे हैं। H, 20 वर्ष के व्यक्ति के बाएं तीसरे स्थान पर है। G और जो 39 वर्ष का है के बीच केवल दो व्यक्ति हैं। वह जो 48 वर्ष का है वह F के बायें तीसरे स्थान पर बैठा है जो D के तत्काल बायें है। वह जो 45 वर्ष का है वह H का तत्काल पड़ोसी नहीं है और अंतिम बायें छोर पर नहीं बैठा है। G का जन्म सम संख्या वर्ष में हुआ है, लेकिन उन वर्ष में नहीं जन्मा है, जो 4 से विभाज्य नहीं है। A, 36 वर्ष का है। B, F से 17 वर्ष बड़ा है, जो A से 8 वर्ष छोटा है। E की आयु और D की आयु के बीच आठ वर्ष का अंतर है। H, C की तुलना में नौ साल छोटा है। E का जन्म G से पहले हुआ था।

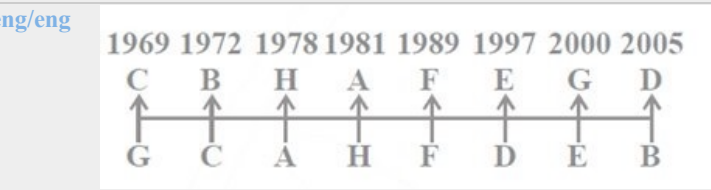
Q-22 In which year does F born?
eng/eng F किस वर्ष में पैदा होता है?

- | | |
|----------|----------|
| 01. 1969 | 02. 1989 |
| 03. 2005 | 04. 1981 |
| 05. 1978 | |

Q-22 In which year does F born?
eng hin F किस वर्ष में पैदा होता है?

- | | |
|----------|----------|
| 01. 1969 | 02. 1989 |
| 03. 2005 | 04. 1981 |
| 05. 1978 | |

Solution for Question 22 Ans Key: 2



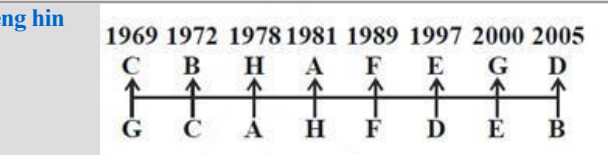
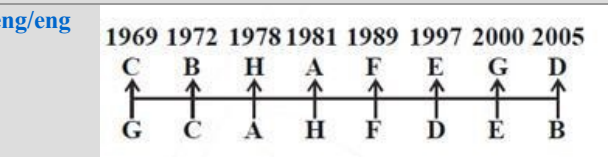
Q-23 What is the age of G in 2017?
eng/eng 2017 में G की आयु क्या है?

- | | |
|--------|--------|
| 01. 11 | 02. 18 |
| 03. 26 | 04. 17 |
| 05. 35 | |

Q-23 What is the age of G in 2017?
eng hin 2017 में G की आयु क्या है?

- | | |
|--------|--------|
| 01. 11 | 02. 18 |
| 03. 26 | 04. 17 |
| 05. 35 | |

Solution for Question 23 Ans Key: 4



Q-24 Four of the following five are alike in a certain way and hence they form a group. Which one of the following does not belong to that group?
eng/eng निम्नलिखित पाँच में से चार एक निश्चित तरीके से एक जैसे हैं और इसलिए वे एक समूह बनाते हैं। निम्नलिखित में से कौन-सा उस समूह से संबंधित नहीं है?

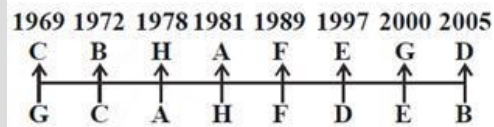
- Q-24**
eng hin

01. 1969
02. 1978
03. 2005
04. 1981
05. 2000

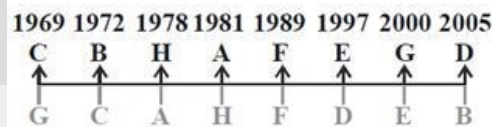
Solution for Question 24

Ans Key: 5

eng/eng



eng hin



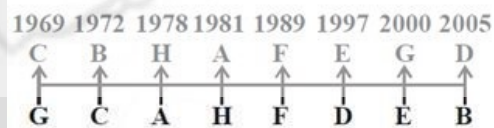
- eng/eng

- eng hin

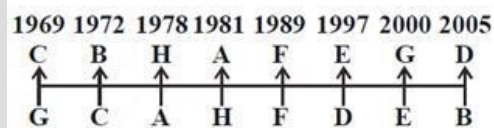
- ### Solution for Question 25

Ans Key: 5

eng/eng



eng hin



- eng/eng

- eng hin**

- 01.** 33 **02.** 16
03. 36 **04.** None of these

Solution for Question 26

eng/eng

1969	1972	1978	1981	1989	1997	2000	2005
C	B	H	A	F	E	G	D
↑	↑	↑	↑	↑	↑	↑	↑
G	C	A	H	F	D	E	B

eng hin

1969	1972	1978	1981	1989	1997	2000	2005
C	B	H	A	F	E	G	D
↑	↑	↑	↑	↑	↑	↑	↑
G	C	A	H	F	D	E	B

Passage for Question 27, 28, 29, 30, 31 (ST-2081 RRB CLERK MAINS R (27-31) 2020)

eng/eng Passage

Study the following information to answer the given question.

Six writers of literature P, Q, R, S, T and U are being considered here, two of them are born in July Month, three in September Month and one in December Month. Two are recognized as famous poets, two as story writers and two as great dramatists. Each one of them used different languages- one person Bengali Language, two Hindi Language, two English Language and one Sanskrit Language.

The writer who is born in December Month wrote Poetry and used English Language and the other one who uses English Language contributed in Story.

Only one person of the person who uses Hindi Language and who uses Sanskrit Language is born in September Month.

The one who uses Bengali Language is born in July Month and contributed to Poetry.

P is born in December Month and Q write Drama.

R uses English Language.

S uses Hindi Language and is Story writer, born in September Month.

Q also born in September Month and U contributed to Poetry.

दिए गए प्रश्न का उत्तर देने के लिए निम्नलिखित जानकारी का अध्ययन करें।

साहित्य P, Q, R, S, T और U के छह लेखकों को यहां माना जा रहा है, उनमें से दो का जन्म जुलाई महीने में, तीन सितंबर महीने में और एक दिसंबर महीने में होता है। दो को प्रसिद्ध कवि, दो को कहानीकार और दो को महान नाटककार के रूप में पहचाना जाता है। उनमें से हर एक ने विभिन्न भाषाओं - एक व्यक्ति बंगाली भाषा, दो हिंदी भाषा, दो अंग्रेजी भाषा और एक संस्कृत भाषा का इस्तेमाल किया।

दिसंबर महीने में पैदा होने वाले लेखक ने पोएट्री लिखी और अंग्रेजी भाषा का इस्तेमाल किया और अंग्रेजी भाषा का इस्तेमाल करने वाले दूसरे व्यक्ति ने कहानी में योगदान दिया।

हिंदी भाषा का उपयोग करने वाले और संस्कृत भाषा का उपयोग करने वाले व्यक्ति में से केवल एक व्यक्ति का जन्म सितंबर महीने में हुआ है।

जो बंगाली भाषा का उपयोग करता है वह जुलाई महीने में पैदा होता है और कविता में योगदान देता है।

P का जन्म दिसंबर महीने में हुआ है और Q ने नाटक लिखा है।

R अंग्रेजी भाषा का उपयोग करता है।

S हिंदी भाषा का उपयोग करता है और कहानीकार है, जिसका जन्म सितंबर महीने में हुआ था।

Q का जन्म भी सितंबर महीने में हुआ और U ने पोएट्री में योगदान दिया।

eng hin Passage

Study the following information to answer the given question.

Six writers of literature P, Q, R, S, T and U are being considered here, two of them are born in July Month, three in September Month and one in December Month. Two are recognized as famous poets, two as story writers and two as great dramatists. Each one of them used different languages- one person Bengali Language, two Hindi Language, two English Language and one Sanskrit Language.

The writer who is born in December Month wrote Poetry and used English Language and the other one who uses English Language contributed in Story.

Only one person of the person who uses Hindi Language and who uses Sanskrit Language is born in September Month.

The one who uses Bengali Language is born in July Month and contributed to Poetry.

P is born in December Month and Q write Drama.

R uses English Language.

S uses Hindi Language and is Story writer, born in September Month.

Q also born in September Month and U contributed to Poetry.

दिए गए प्रश्न का उत्तर देने के लिए निम्नलिखित जानकारी का अध्ययन करें।

साहित्य P, Q, R, S, T और U के छह लेखकों को यहां माना जा रहा है, उनमें से दो का जन्म जुलाई महीने में, तीन सितंबर महीने में और एक दिसंबर महीने में होता है। दो को प्रसिद्ध कवि, दो को कहानीकार और दो को महान नाटककार के रूप में पहचाना जाता है। उनमें से हर एक ने विभिन्न भाषाओं - एक व्यक्ति बंगाली भाषा, दो हिंदी भाषा, दो अंग्रेजी भाषा और एक संस्कृत भाषा का इस्तेमाल किया।

दिसंबर महीने में पैदा होने वाले लेखक ने पोएट्री लिखी और अंग्रेजी भाषा का इस्तेमाल किया और अंग्रेजी भाषा का इस्तेमाल करने वाले दूसरे व्यक्ति ने कहानी में योगदान दिया।

हिंदी भाषा का उपयोग करने वाले और संस्कृत भाषा का उपयोग करने वाले व्यक्ति में से केवल एक व्यक्ति का जन्म सितंबर महीने में हुआ है।

जो बंगाली भाषा का उपयोग करता है वह जुलाई महीने में पैदा होता है और कविता में योगदान देता है।

P का जन्म दिसंबर महीने में हुआ है और Q ने नाटक लिखा है।

R अंग्रेजी भाषा का उपयोग करता है।

S हिंदी भाषा का उपयोग करता है और कहानीकार है, जिसका जन्म सितंबर महीने में हुआ था।

Q का जन्म भी सितंबर महीने में हुआ और U ने पोएट्री में योगदान दिया।

P	दिसंबर	पोएट्री	अंग्रेजी
Q	सितंबर	नाटककार	संस्कृत
R	सितंबर	कहानीकार	अंग्रेजी
S	सितंबर	कहानीकार	हिंदी
T	जुलाई	नाटककार	हिंदी
U	जुलाई	पोएट्री	बंगाली

01. S, T **02.** S, P
03. T, U **04.** Q, T
05. R, S

01. S, T **02.** S, P
03. T, U **04.** Q, T
05. R, S

P	दिसंबर	पोएट्री	अंग्रेजी
Q	सितंबर	नाटककार	संस्कृत
R	सितंबर	कहानीकार	अंग्रेजी
S	सितंबर	कहानीकार	हिंदी
T	जुलाई	नाटककार	हिंदी
U	जुलाई	पोएट्री	बंगाली

P	दिसंबर	पोएट्री	अंग्रेजी
Q	सितंबर	नाटककार	संस्कृत
R	सितंबर	कहानीकार	अंग्रेजी
S	सितंबर	कहानीकार	हिंदी
T	जुलाई	नाटककार	हिंदी
U	जुलाई	पोएट्री	बंगाली

Four of the following five are alike in a certain way and so form a group. Which one does not belong to that group?
निम्नलिखित पांच में से चार एक निश्चित तरीके से एक जैसे हैं और इसलिए एक समूह बनाते हैं। कौन सा उस समूह से संबंधित नहीं है?

- | | |
|--------------------------------|---------------------------------|
| 01. P – December
P - दिसंबर | 02. U – Poetry
U - कविता |
| 03. S – Hindi
S - हिंदी | 04. R – September
R - सितंबर |
| 05. Q – Bengali
Q – बंगाली | |

Four of the following five are alike in a certain way and so form a group. Which one does not belong to that group?
निम्नलिखित पांच में से चार एक निश्चित तरीके से एक जैसे हैं और इसलिए एक समूह बनाते हैं। कौन सा उस समूह से संबंधित नहीं है?

- | | |
|--------------------------------|---------------------------------|
| 01. P – December
P - दिसंबर | 02. U – Poetry
U - कविता |
| 03. S – Hindi
S - हिंदी | 04. R – September
R - सितंबर |
| 05. Q – Bengali
Q – बंगाली | |

Solution for Question 30

Ans Key: 5

P	December	Poetry	English
Q	September	Drama	Sanskrit
R	September	Story	English
S	September	Story	Hindi
T	July	Drama	Hindi
U	July	Poetry	Bengali

P	दिसंबर	पोएट्री	अंग्रेजी
Q	सितंबर	नाटककार	संस्कृत
R	सितंबर	कहानीकार	अंग्रेजी
S	सितंबर	कहानीकार	हिंदी
T	जुलाई	नाटककार	हिंदी
U	जुलाई	पोएट्री	बंगाली

P	December	Poetry	English
Q	September	Drama	Sanskrit
R	September	Story	English
S	September	Story	Hindi
T	July	Drama	Hindi
U	July	Poetry	Bengali

P	दिसंबर	पोएट्री	अंग्रेजी
Q	सितंबर	नाटककार	संस्कृत
R	सितंबर	कहानीकार	अंग्रेजी
S	सितंबर	कहानीकार	हिंदी
T	जुलाई	नाटककार	हिंदी
U	जुलाई	पोएट्री	बंगाली

The person who uses Sanskrit Language writes which literature?
संस्कृत भाषा का उपयोग करने वाला व्यक्ति कौन सा साहित्य लिखता है?

- | | |
|--|--------------------|
| 01. Poetry
कविता | 02. Story
कहानी |
| 03. Short Story
लघु कथा | 04. Drama
नाटक |
| 05. None of these
इनमें से कोई नहीं | |

The person who uses Sanskrit Language writes which literature?
संस्कृत भाषा का उपयोग करने वाला व्यक्ति कौन सा साहित्य लिखता है?

- | | |
|----------------------------|--------------------|
| 01. Poetry
कविता | 02. Story
कहानी |
| 03. Short Story
लघु कथा | 04. Drama
नाटक |

05. None of these
इनमें से कोई नहीं

Solution for Question 31

Ans Key: 4

eng/eng

P	December	Poetry	English
Q	September	Drama	Sanskrit
R	September	Story	English
S	September	Story	Hindi
T	July	Drama	Hindi
U	July	Poetry	Bengali

P	दिसंबर	पोएट्री	अंग्रेजी
Q	सितंबर	नाटककार	संस्कृत
R	सितंबर	कहानीकार	अंग्रेजी
S	सितंबर	कहानीकार	हिंदी
T	जुलाई	नाटककार	हिंदी
U	जुलाई	पोएट्री	बंगाली

eng hin

P	December	Poetry	English
Q	September	Drama	Sanskrit
R	September	Story	English
S	September	Story	Hindi
T	July	Drama	Hindi
U	July	Poetry	Bengali

P	दिसंबर	पोएट्री	अंग्रेजी
Q	सितंबर	नाटककार	संस्कृत
R	सितंबर	कहानीकार	अंग्रेजी
S	सितंबर	कहानीकार	हिंदी
T	जुलाई	नाटककार	हिंदी
U	जुलाई	पोएट्री	बंगाली

Q-32

eng/eng

Each of the question below consists of a question and three statements numbered I, II and III given below it. You have to decide whether the data provided in the statements are sufficient to answer the question. Read all the three statements and answer the following question.

Who among Harsh, Mini, Gaurav, Zoya and Nikki is first to reach office?

- I. Harsh reaches office before Nikki and Mini but not before Zoya.
II. Nikki is not last to reach in the office.
III. Gaurav is not first to reach in the office.

नीचे दिए गए प्रत्येक प्रश्न में एक प्रश्न और तीन कथन I, II और III दिए गए हैं। आपको यह तय करना होगा कि कथन में दिए गए डेटा प्रश्न का उत्तर देने के लिए पर्याप्त हैं या नहीं। तीनों कथन पढ़ें और निम्नलिखित प्रश्न का उत्तर दें।

हर्ष, मिनी, गौरव, जोया और निक्की में से कौन सबसे पहले ऑफिस पहुँचता है?

- I. हर्ष निक्की और मिनी से पहले कार्यालय पहुँचता है लेकिन जोया से पहले नहीं।
II. निक्की कार्यालय में पहुँचने के लिए अंतिम नहीं है।
III. गौरव सबसे पहले दफ्तर पहुँचने वाला नहीं है।

01. If the data in Statement I and II together are sufficient to answer the question, while the data in Statement III are not required to answer the question.
यदि कथन I और II के आंकड़े प्रश्न का उत्तर देने के लिए पर्याप्त हैं, जबकि कथन III के डेटा को प्रश्न का उत्तर देने की आवश्यकता नहीं है।
02. If the data in Statement I and III together are sufficient to answer the question, while the data in Statement II are not required to answer the question.
यदि कथन I और III के डेटा एक साथ प्रश्न का उत्तर देने के लिए पर्याप्त हैं, जबकि कथन II में डेटा को प्रश्न का उत्तर देने की आवश्यकता नहीं है।
03. Other than these options.
इन विकल्पों में से अन्य।
04. If the data in all Statement I, II and III together are not necessary to answer the question.
यदि सभी कथन I, II और III में डेटा एक साथ हो तो प्रश्न का उत्तर देना आवश्यक नहीं है।
05. If the data in all Statement I, II and III together are necessary to answer the question.
यदि सभी कथन I, II और III में डेटा प्रश्न का उत्तर देने के लिए आवश्यक है।

Q-32

eng hin

Each of the question below consists of a question and three statements numbered I, II and III given below it. You have to decide whether the data provided in the statements are sufficient to answer the question. Read all the three statements and answer the following question.

Who among Harsh, Mini, Gaurav, Zoya and Nikki is first to reach office?

- I. Harsh reaches office before Nikki and Mini but not before Zoya.

- II. Nikki is not last to reach in the office.
III. Gaurav is not first to reach in the office.

नीचे दिए गए प्रत्येक प्रश्न में एक प्रश्न और तीन कथन I, II और III दिए गए हैं। आपको यह तय करना होगा कि कथन में दिए गए डेटा प्रश्न का उत्तर देने के लिए पर्याप्त हैं या नहीं। तीनों कथन पढ़ें और निम्नलिखित प्रश्न का उत्तर दें।

- हर्ष, मिनी, गौरव, जोया और निक्की में से कौन सबसे पहले ऑफिस पहुँचता है?
I. हर्ष निक्की और मिनी से पहले कार्यालय पहुँचता है लेकिन जोया से पहले नहीं।
II. निक्की कार्यालय में पहुँचने के लिए अंतिम नहीं है।
III. गौरव सबसे पहले दफ्तर पहुँचने वाला नहीं है।

01. If the data in Statement I and II together are sufficient to answer the question, while the data in Statement III are not required to answer the question.
यदि कथन I और II के आंकड़े प्रश्न का उत्तर देने के लिए पर्याप्त हैं, जबकि कथन III के डेटा को प्रश्न का उत्तर देने की आवश्यकता नहीं है।
02. If the data in Statement I and III together are sufficient to answer the question, while the data in Statement II are not required to answer the question.
यदि कथन I और III के डेटा एक साथ प्रश्न का उत्तर देने के लिए पर्याप्त हैं, जबकि कथन II में डेटा को प्रश्न का उत्तर देने की आवश्यकता नहीं है।
03. Other than these options.
इन विकल्पों में से अन्य।
04. If the data in all Statement I, II and III together are not necessary to answer the question.
यदि सभी कथन I, II और III में डेटा एक साथ हो तो प्रश्न का उत्तर देना आवश्यक नहीं है।
05. If the data in all Statement I, II and III together are necessary to answer the question.
यदि सभी कथन I, II और III में डेटा प्रश्न का उत्तर देने के लिए आवश्यक है।

Ans Key: 2

Q-33 Each of the question below consists of a question and three statements numbered I, II and III given below it. You have to decide whether the data provided in the statements are sufficient to answer the question. Read all the three statements and answer the following question.

What is age of Archana?

- I. Age of Archana is Just half of Vipin.
II. Archana is not 10 year old.
III. Sum of age of Archana and Vipin is 30.

नीचे दिए गए प्रत्येक प्रश्न में एक प्रश्न और तीन कथन I, II और III दिए गए हैं। आपको यह तय करना होगा कि कथन में दिए गए डेटा प्रश्न का उत्तर देने के लिए पर्याप्त हैं या नहीं। तीनों कथन पढ़ें और निम्नलिखित प्रश्न का उत्तर दें।

- अर्चना की उम्र क्या है?
I. अर्चना की आयु विपिन से सिर्फ आधी है।
II. अर्चना 10 साल की नहीं है।
III. अर्चना और विपिन की आयु का योग 30 है।

01. If the data in Statement I and II together are sufficient to answer the question, while the data in Statement III are not required to answer the question.
यदि कथन I और II के आंकड़े प्रश्न का उत्तर देने के लिए पर्याप्त हैं, जबकि कथन III के डेटा को प्रश्न का उत्तर देने की आवश्यकता नहीं है।
02. If the data in Statement I and III together are sufficient to answer the question, while the data in Statement II are not required to answer the question.
यदि कथन I और III के डेटा एक साथ प्रश्न का उत्तर देने के लिए पर्याप्त हैं, जबकि कथन II में डेटा को प्रश्न का उत्तर देने की आवश्यकता नहीं है।
03. Other than these options.
इन विकल्पों में से अन्य।
04. If the data in all Statement I, II and III together are not necessary to answer the question.
यदि सभी कथन I, II और III में डेटा एक साथ हो तो प्रश्न का उत्तर देना आवश्यक नहीं है।
05. If the data in all Statement I, II and III together are necessary to answer the question.
यदि सभी कथन I, II और III में डेटा प्रश्न का उत्तर देने के लिए आवश्यक है।

Q-33 Each of the question below consists of a question and three statements numbered I, II and III given below it. You have to decide whether the data provided in the statements are sufficient to answer the question. Read all the three statements and answer the following question.

What is age of Archana?

- I. Age of Archana is Just half of Vipin.
II. Archana is not 10 year old.
III. Sum of age of Archana and Vipin is 30.

नीचे दिए गए प्रत्येक प्रश्न में एक प्रश्न और तीन कथन I, II और III दिए गए हैं। आपको यह तय करना होगा कि कथन में दिए गए डेटा प्रश्न का उत्तर देने के लिए पर्याप्त हैं या नहीं। तीनों कथन पढ़ें और निम्नलिखित प्रश्न का उत्तर दें।

- अर्चना की उम्र क्या है?
I. अर्चना की आयु विपिन से सिर्फ आधी है।

II. अर्चना 10 साल की नहीं है।
III. अर्चना और विपिन की आयु का योग 30 है।

01. If the data in Statement I and II together are sufficient to answer the question, while the data in Statement III are not required to answer the question.
यदि कथन I और II के आंकड़े प्रश्न का उत्तर देने के लिए पर्याप्त हैं, जबकि कथन III के डेटा को प्रश्न का उत्तर देने की आवश्यकता नहीं है।
02. If the data in Statement I and III together are sufficient to answer the question, while the data in Statement II are not required to answer the question.
यदि कथन I और III के डेटा एक साथ प्रश्न का उत्तर देने के लिए पर्याप्त हैं, जबकि कथन II में डेटा को प्रश्न का उत्तर देने की आवश्यकता नहीं है।
03. Other than these options.
इन विकल्पों में से अन्य।
04. If the data in all Statement I, II and III together are not necessary to answer the question.
यदि सभी कथन I, II और III में डेटा एक साथ हो तो प्रश्न का उत्तर देना आवश्यक नहीं है।
05. If the data in all Statement I, II and III together are necessary to answer the question.
यदि सभी कथन I, II और III में डेटा प्रश्न का उत्तर देने के लिए आवश्यक है।

Ans Key: 2

Q-34 Each of the question below consists of a question and three statements numbered I, II and III given below it. You have to decide whether the data provided in the statements are sufficient to answer the question. Read all the three statements and answer the following question.

Is Anuradha 8 Years old?

- (I) Aman is 12 years old and he is younger than Anuradha.
(II) Anuradha age is not 8 years.
(III) Sum of age of Anuradha and Ananya is 30.

नीचे दिए गए प्रत्येक प्रश्न में एक प्रश्न और तीन कथन I, II और III दिए गए हैं। आपको यह तय करना होगा कि कथन में दिए गए डेटा प्रश्न का उत्तर देने के लिए पर्याप्त हैं या नहीं। तीनों कथन पढ़ें और निम्नलिखित प्रश्न का उत्तर दें।

क्या अनुराधा 8 साल की है?

- (I) अमन 12 साल का है और वह अनुराधा से छोटा है।
(II) अनुराधा की उम्र 8 साल नहीं है।
(III) अनुराधा और अनन्या की आयु का योग 30 है।

01. If the data in Statement I and II together are sufficient to answer the question, while the data in Statement III are not required to answer the question.
यदि कथन I और II के आंकड़े प्रश्न का उत्तर देने के लिए पर्याप्त हैं, जबकि कथन III के डेटा को प्रश्न का उत्तर देने की आवश्यकता नहीं है।
02. If the data in Statement I and III together are sufficient to answer the question, while the data in Statement II are not required to answer the question.
यदि कथन I और III के डेटा एक साथ प्रश्न का उत्तर देने के लिए पर्याप्त हैं, जबकि कथन II में डेटा को प्रश्न का उत्तर देने की आवश्यकता नहीं है।
03. Other than these options.
इन विकल्पों में से अन्य।
04. If the data in all Statement I, II and III together are not necessary to answer the question.
यदि सभी कथन I, II और III में डेटा एक साथ हो तो प्रश्न का उत्तर देना आवश्यक नहीं है।
05. If the data in all Statement I, II and III together are necessary to answer the question.
यदि सभी कथन I, II और III में डेटा प्रश्न का उत्तर देने के लिए आवश्यक है।

Q-34 Each of the question below consists of a question and three statements numbered I, II and III given below it. You have to decide whether the data provided in the statements are sufficient to answer the question. Read all the three statements and answer the following question.

Is Anuradha 8 Years old?

- (I) Aman is 12 years old and he is younger than Anuradha.
(II) Anuradha age is not 8 years.
(III) Sum of age of Anuradha and Ananya is 30.

नीचे दिए गए प्रत्येक प्रश्न में एक प्रश्न और तीन कथन I, II और III दिए गए हैं। आपको यह तय करना होगा कि कथन में दिए गए डेटा प्रश्न का उत्तर देने के लिए पर्याप्त हैं या नहीं। तीनों कथन पढ़ें और निम्नलिखित प्रश्न का उत्तर दें।

क्या अनुराधा 8 साल की है?

- (I) अमन 12 साल का है और वह अनुराधा से छोटा है।
(II) अनुराधा की उम्र 8 साल नहीं है।
(III) अनुराधा और अनन्या की आयु का योग 30 है।

01. If the data in Statement I and II together are sufficient to answer the question, while the data in Statement III are not required to answer the question.
यदि कथन I और II के आंकड़े प्रश्न का उत्तर देने के लिए पर्याप्त हैं, जबकि कथन III के डेटा को प्रश्न का उत्तर देने की आवश्यकता नहीं है।
02. If the data in Statement I and III together are sufficient to answer the question, while the data in Statement II are not required to answer the question.
यदि कथन I और III के डेटा एक साथ प्रश्न का उत्तर देने के लिए पर्याप्त हैं, जबकि कथन II में डेटा को प्रश्न का उत्तर देने की आवश्यकता नहीं है।

answer the question.

यदि कथन I और II के आंकड़े प्रश्न का उत्तर देने के लिए पर्याप्त हैं, जबकि कथन III के डेटा को प्रश्न का उत्तर देने की आवश्यकता नहीं है।

उत्तर देने की आवश्यकता नहीं है।

03. Other than these options.
इन विकल्पों में से अन्य।

04. If the data in all Statement I, II and III together are not necessary to answer the question.
यदि सभी कथन I, II और III में डेटा एक साथ हो तो प्रश्न का उत्तर देना आवश्यक नहीं है।

05. If the data in all Statement I, II and III together are necessary to answer the question.
यदि सभी कथन I, II और III में डेटा प्रश्न का उत्तर देने के लिए आवश्यक है।

Ans Key: 3

Q-35

eng/eng

Each of the question below consists of a question and three statements numbered I, II and III given below it. You have to decide whether the data provided in the statements are sufficient to answer the question. Read all the three statements and answer the following question.

What is the code for 'zodiac' in a code language?

I. In that code language 'everyone has different zodiac' is written as 'vo da ka li'.

II. In that code language 'sunshine means zodiac' is written as 'ke jo vo'.

III. In that code language, 'Virgo is zodiac' is written as 'fa la vo'.

नीचे दिए गए प्रत्येक प्रश्न में एक प्रश्न और तीन कथन I, II और III दिए गए हैं। आपको यह तय करना होगा कि कथन में दिए गए डेटा प्रश्न का उत्तर देने के लिए पर्याप्त हैं या नहीं। तीनों कथन पढ़ें और निम्नलिखित प्रश्न का उत्तर दें।

कोड भाषा में 'zodiac' के लिए कोड क्या है?

I. उसी कोड भाषा में 'everyone has different zodiac' को 'vo da ka li' के रूप में लिखा जाता है।

II. उसी कोड भाषा में 'sunshine means zodiac' को 'ke jo vo' के रूप में लिखा जाता है।

III. उसी कोड भाषा में 'Virgo is zodiac' को 'fa la vo' के रूप में लिखा जाता है।

01. If the data in Statement I and II together are sufficient to answer the question, while the data in Statement III are not required to answer the question.

यदि कथन I और II के आंकड़े प्रश्न का उत्तर देने के लिए पर्याप्त हैं, जबकि कथन III के डेटा को प्रश्न का उत्तर देने की आवश्यकता नहीं है।

03. Other than these options.
इन विकल्पों में से अन्य।

02. If the data in Statement I and III together are sufficient to answer the question, while the data in Statement II are not required to answer the question.

यदि कथन I और III के डेटा एक साथ प्रश्न का उत्तर देने के लिए पर्याप्त हैं, जबकि कथन II में डेटा को प्रश्न का उत्तर देने की आवश्यकता नहीं है।

04. If the data in all Statement I, II and III together are not necessary to answer the question.
यदि सभी कथन I, II और III में डेटा एक साथ हो तो प्रश्न का उत्तर देना आवश्यक नहीं है।

05. If the data in all Statement I, II and III together are necessary to answer the question.
यदि सभी कथन I, II और III में डेटा प्रश्न का उत्तर देने के लिए आवश्यक है।

Q-35

eng/hin

Each of the question below consists of a question and three statements numbered I, II and III given below it. You have to decide whether the data provided in the statements are sufficient to answer the question. Read all the three statements and answer the following question.

What is the code for 'zodiac' in a code language?

I. In that code language 'everyone has different zodiac' is written as 'vo da ka li'.

II. In that code language 'sunshine means zodiac' is written as 'ke jo vo'.

III. In that code language, 'Virgo is zodiac' is written as 'fa la vo'.

नीचे दिए गए प्रत्येक प्रश्न में एक प्रश्न और तीन कथन I, II और III दिए गए हैं। आपको यह तय करना होगा कि कथन में दिए गए डेटा प्रश्न का उत्तर देने के लिए पर्याप्त हैं या नहीं। तीनों कथन पढ़ें और निम्नलिखित प्रश्न का उत्तर दें।

कोड भाषा में 'zodiac' के लिए कोड क्या है?

I. उसी कोड भाषा में 'everyone has different zodiac' को 'vo da ka li' के रूप में लिखा जाता है।

II. उसी कोड भाषा में 'sunshine means zodiac' को 'ke jo vo' के रूप में लिखा जाता है।

III. उसी कोड भाषा में 'Virgo is zodiac' को 'fa la vo' के रूप में लिखा जाता है।

01. If the data in Statement I and II together are sufficient to answer the question, while the data in Statement III are not required to answer the question.

यदि कथन I और II के आंकड़े प्रश्न का उत्तर देने के लिए पर्याप्त हैं, जबकि कथन III के डेटा को प्रश्न का उत्तर देने की आवश्यकता नहीं है।

03. Other than these options.

02. If the data in Statement I and III together are sufficient to answer the question, while the data in Statement II are not required to answer the question.

यदि कथन I और III के डेटा एक साथ प्रश्न का उत्तर देने के लिए पर्याप्त हैं, जबकि कथन II में डेटा को प्रश्न का उत्तर देने की आवश्यकता नहीं है।

04. If the data in all Statement I, II and III together are not necessary to answer the question.

05. If the data in all Statement I, II and III together are necessary to answer the question.
यदि सभी कथन I, II और III में डेटा प्रश्न का उत्तर देने के लिए आवश्यक है।

Ans Key: 3

Q-36 Study the following information to answer the given question.

eng/eng

During the Second World War, about 375,000 civilians died in the United States and about 408,000 members of the United States armed forces died overseas. On the basis of those figures, it can be concluded that it was not much more dangerous to be overseas in the armed forces during the Second World War than it was to stay at home as a civilian.

Which of the following would reveal most clearly the absurdity of the conclusion drawn above?

दिए गए प्रश्न का उत्तर देने के लिए निम्नलिखित जानकारी का अध्ययन करें।

द्वितीय विश्व युद्ध के दौरान, संयुक्त राज्य अमेरिका में लगभग 375,000 नागरिकों की मृत्यु हुई और संयुक्त राज्य अमेरिका के लगभग 408,000 सदस्य विदेशों में मारे गए। उन आंकड़ों के आधार पर, यह निष्कर्ष निकाला जा सकता है कि द्वितीय विश्व युद्ध के दौरान सशस्त्र बलों में विदेशी होना ज्यादा खतरनाक नहीं था, क्योंकि एक नागरिक के रूप में घर पर रहना था।

निम्नलिखित में से कौन सा सबसे ऊपर स्पष्ट रूप से निष्कर्ष निकाला गया है?

- | | |
|--|---|
| <p>01. Counting deaths among members of the armed forces who served in the United State in addition to deaths among members of the armed forces serving overseas.
सशस्त्र बलों के सदस्यों के बीच मौतों की गिनती करना जो विदेशों में सेवा करने वाले सशस्त्र बलों के सदस्यों के बीच मौतों के अलावा संयुक्त राज्य में सेवा करते थे।</p> | <p>02. Expressing the difference between the numbers of deaths among civilians and members of the armed forces as a percentage of the total number of deaths.
नागरिकों और सशस्त्र बलों के सदस्यों के बीच मौतों की संख्या के बीच के अंतर को कुल मौतों की संख्या के प्रतिशत के रूप में व्यक्त करना।</p> |
| <p>03. Separating deaths caused by accidents during service in the armed forces from deaths caused by combat injuries.
सशस्त्र बलों में सेवा के दौरान होने वाली दुर्घटनाओं से होने वाली मौतों को युद्ध की चोटों से होने वाली मौतों से अलग करना।</p> | <p>04. Comparing death rates per thousand members of each group rather than comparing total numbers of deaths.
मृत्यु की कुल संख्या की तुलना करने के बजाय प्रत्येक समूह के प्रति हजार सदस्यों पर मृत्यु दर की तुलना करना।</p> |
| <p>05. Comparing deaths caused by accidents in the United States to deaths caused by combat in the armed forces.
संयुक्त राज्य में दुर्घटनाओं से होने वाली मौतों की तुलना सशस्त्र बलों में युद्ध के कारण हुई मौतों से होती है।</p> | |

Q-36 Study the following information to answer the given question.

eng hin

During the Second World War, about 375,000 civilians died in the United States and about 408,000 members of the United States armed forces died overseas. On the basis of those figures, it can be concluded that it was not much more dangerous to be overseas in the armed forces during the Second World War than it was to stay at home as a civilian.

Which of the following would reveal most clearly the absurdity of the conclusion drawn above?

दिए गए प्रश्न का उत्तर देने के लिए निम्नलिखित जानकारी का अध्ययन करें।

द्वितीय विश्व युद्ध के दौरान, संयुक्त राज्य अमेरिका में लगभग 375,000 नागरिकों की मृत्यु हुई और संयुक्त राज्य अमेरिका के लगभग 408,000 सदस्य विदेशों में मारे गए। उन आंकड़ों के आधार पर, यह निष्कर्ष निकाला जा सकता है कि द्वितीय विश्व युद्ध के दौरान सशस्त्र बलों में विदेशी होना ज्यादा खतरनाक नहीं था, क्योंकि एक नागरिक के रूप में घर पर रहना था।

निम्नलिखित में से कौन सा सबसे ऊपर स्पष्ट रूप से निष्कर्ष निकाला गया है?

- | | |
|--|---|
| <p>01. Counting deaths among members of the armed forces who served in the United State in addition to deaths among members of the armed forces serving overseas.
सशस्त्र बलों के सदस्यों के बीच मौतों की गिनती करना जो विदेशों में सेवा करने वाले सशस्त्र बलों के सदस्यों के बीच मौतों के अलावा संयुक्त राज्य में सेवा करते थे।</p> | <p>02. Expressing the difference between the numbers of deaths among civilians and members of the armed forces as a percentage of the total number of deaths.
नागरिकों और सशस्त्र बलों के सदस्यों के बीच मौतों की संख्या के बीच के अंतर को कुल मौतों की संख्या के प्रतिशत के रूप में व्यक्त करना।</p> |
| <p>03. Separating deaths caused by accidents during service in the armed forces from</p> | <p>04. Comparing death rates per thousand members of each group rather than comparing total numbers of deaths.</p> |

deaths caused by combat injuries.
सशस्त्र बलों में सेवा के दौरान होने वाली
दुर्घटनाओं से होने वाली मौतों को युद्ध की चोटों
से होने वाली मौतों से अलग करना।

मृत्यु की कुल संख्या की तुलना करने के बजाय प्रत्येक समूह के प्रति हजार सदस्यों पर मृत्यु दर की तुलना
करना।

05. Comparing deaths caused by accidents in the United States to deaths caused by combat in the armed forces.
संयुक्त राज्य में दुर्घटनाओं से होने वाली मौतों की तुलना सशस्त्र बलों में युद्ध के कारण हुई मौतों से होती है।

Solution for Question 36

Ans Key: 4

eng/eng Concluding from the similar numbers of deaths in two groups that the relative danger of death was similar for both groups is absurd if, as here, one group was far smaller. 4 exposes this absurdity by pointing out the need to compare death rates of the two groups, which would reveal the higher death rate for the smaller group. Therefore, 4 is the best answer. Since the conclusion acknowledges the difference between the number of civilian and armed forces deaths, expressing this difference as a percentage, as suggested by 2, is beside the point. 1 is inappropriate because it simply adds a third group to the two being compared. Because cause of death is not at issue, 3 and 5 are irrelevant.

दो समूहों में मृत्यु की समान संख्याओं से यह निष्कर्ष निकालना कि दोनों समूहों के लिए मृत्यु का सापेक्ष खतरा समान था। यदि, यहाँ के रूप में, एक समूह बहुत छोटा था। 4 दो समूहों की मृत्यु दर की तुलना करने की आवश्यकता को इंगित करते हुए इस असावधानी को उजागर करता है, जो छोटे समूह के लिए उच्च मृत्यु दर को प्रकट करेगा। इसलिए, 4 सबसे अच्छा जवाब है। चूंकि निष्कर्ष नागरिक और सशस्त्र बलों की मौतों की संख्या के बीच अंतर को स्वीकार करता है, इस अंतर को प्रतिशत के रूप में व्यक्त करना, जैसा कि 2 द्वारा सुझाया गया है, बिंदु के बगल में है। 1 अनुचित है क्योंकि यह केवल दो की तुलना में एक तीसरा समूह जोड़ता है। क्योंकि इस मुद्दे पर नहीं, 3 और 5 में मृत्यु का कारण अप्रासंगिक है।

eng hin Concluding from the similar numbers of deaths in two groups that the relative danger of death was similar for both groups is absurd if, as here, one group was far smaller. 4 exposes this absurdity by pointing out the need to compare death rates of the two groups, which would reveal the higher death rate for the smaller group. Therefore, 4 is the best answer. Since the conclusion acknowledges the difference between the number of civilian and armed forces deaths, expressing this difference as a percentage, as suggested by 2, is beside the point. 1 is inappropriate because it simply adds a third group to the two being compared. Because cause of death is not at issue, 3 and 5 are irrelevant.

दो समूहों में मृत्यु की समान संख्याओं से यह निष्कर्ष निकालना कि दोनों समूहों के लिए मृत्यु का सापेक्ष खतरा समान था। यदि, यहाँ के रूप में, एक समूह बहुत छोटा था। 4 दो समूहों की मृत्यु दर की तुलना करने की आवश्यकता को इंगित करते हुए इस असावधानी को उजागर करता है, जो छोटे समूह के लिए उच्च मृत्यु दर को प्रकट करेगा। इसलिए, 4 सबसे अच्छा जवाब है। चूंकि निष्कर्ष नागरिक और सशस्त्र बलों की मौतों की संख्या के बीच अंतर को स्वीकार करता है, इस अंतर को प्रतिशत के रूप में व्यक्त करना, जैसा कि 2 द्वारा सुझाया गया है, बिंदु के बगल में है। 1 अनुचित है क्योंकि यह केवल दो की तुलना में एक तीसरा समूह जोड़ता है। क्योंकि इस मुद्दे पर नहीं, 3 और 5 में मृत्यु का कारण अप्रासंगिक है।

Q-37 Study the following information to answer the given question.

eng/eng

A proposed ordinance requires the installation in new homes of sprinklers automatically triggered by the presence of a fire. However, a home builder argued that because more than ninety percent of residential fires are extinguished by a household member, residential sprinklers would only marginally decrease property damage caused by residential fires.

Which of the following, if true, would most seriously weaken the home builder's argument?

दिए गए प्रश्न का उत्तर देने के लिए निम्नलिखित जानकारी का अध्ययन करें।

एक प्रस्तावित अध्यादेश में आग की उपस्थिति से स्वचालित रूप से स्प्रिंकलर के नए घरों में स्थापना की आवश्यकता होती है हालांकि, एक घर बिल्डर ने तर्क दिया कि क्योंकि नब्बे प्रतिशत से अधिक आवासीय आग एक घर के सदस्य द्वारा बुझा दी जाती है, आवासीय छिड़काव केवल आवासीय आग से होने वाली संपत्ति की क्षति को कम करेगा।

निम्न में से कौन-सा, यदि सही है, तो घर के निर्माता के तर्क को गंभीरता से कमजोर करेगा?

- | | |
|---|---|
| <p>01. Most individuals have no formal training in how to extinguish fires.
अधिकांश व्यक्तियों को आग बुझाने के तरीके का कोई औपचारिक प्रशिक्षण नहीं है।</p> <p>03. The installation of smoke detectors in new residences costs significantly less than the installation of sprinklers.
नए आवासों में धूम्रपान डिटेक्टरों की स्थापना स्प्रिंकलर की स्थापना की तुलना में काफी कम है।</p> <p>05. The largest proportion of property damage that results from residential fires is caused by fires that start when no household member is present.
संपत्ति के नुकसान का सबसे बड़ा अनुपात आवासीय आग से होता है जो आग के कारण होता है जो तब शुरू होता है जब घर का कोई सदस्य मौजूद नहीं होता है।</p> | <p>02. Since new homes are only a tiny percentage of available housing in the city, the new ordinance would be extremely narrow in scope.
चूंकि नए घर शहर में उपलब्ध आवास का केवल एक छोटा प्रतिशत हैं, इसलिए नया अध्यादेश दायरे में बेहद संकीर्ण होगा।</p> <p>04. In the city where the ordinance was proposed, the average time required by the fire department to respond to a fire was less than the national average.
उस शहर में जहाँ अध्यादेश प्रस्तावित किया गया था, आग का जवाब देने के लिए अग्निशमन विभाग द्वारा औसत समय राष्ट्रीय औसत से कम था।</p> |
|---|---|

Q-37 Study the following information to answer the given question.

eng hin

A proposed ordinance requires the installation in new homes of sprinklers automatically triggered by the presence of a fire. However, a home builder argued

that because more than ninety percent of residential fires are extinguished by a household member, residential sprinklers would only marginally decrease property damage caused by residential fires.

Which of the following, if true, would most seriously weaken the home builder's argument?

दिए गए प्रश्न का उत्तर देने के लिए निम्नलिखित जानकारी का अध्ययन करें।

एक प्रस्तावित अध्यादेश में आग की उपस्थिति से स्वचालित रूप से स्प्रिंकलर के नए घरों में स्थापना की आवश्यकता होती है हालांकि, एक घर बिल्डर ने तर्क दिया कि क्योंकि नब्बे प्रतिशत से अधिक आवासीय आग एक घर के सदस्य द्वारा बुझा दी जाती है, आवासीय छिड़काव केवल आवासीय आग से होने वाली संपत्ति की क्षति को कम करेगा।

निम्न में से कौन-सा, यदि सही है, तो घर के निर्माता के तर्क को गंभीरता से कमजोर करेगा?

- | | |
|---|---|
| <p>01. Most individuals have no formal training in how to extinguish fires.
अधिकांश व्यक्तियों को आग बुझाने के तरीके का कोई औपचारिक प्रशिक्षण नहीं है।</p> <p>03. The installation of smoke detectors in new residences costs significantly less than the installation of sprinklers.
नए आवासों में धूम्रपान डिटेक्टरों की स्थापना स्प्रिंकलर की स्थापना की तुलना में काफी कम है।</p> <p>05. The largest proportion of property damage that results from residential fires is caused by fires that start when no household member is present.
संपत्ति के नुकसान का सबसे बड़ा अनुपात आवासीय आग से होता है जो आग के कारण होता है जो तब शुरू होता है जब घर का कोई सदस्य मौजूद नहीं होता है।</p> | <p>02. Since new homes are only a tiny percentage of available housing in the city, the new ordinance would be extremely narrow in scope.
चूंकि नए घर शहर में उपलब्ध आवास का केवल एक छोटा प्रतिशत हैं, इसलिए नया अध्यादेश दायरे में बेहद संकीर्ण होगा।</p> <p>04. In the city where the ordinance was proposed, the average time required by the fire department to respond to a fire was less than the national average.
उस शहर में जहां अध्यादेश प्रस्तावित किया गया था, आग का जवाब देने के लिए अग्निशमन विभाग द्वारा औसत समय राष्ट्रीय औसत से कम था।</p> |
|---|---|

Solution for Question 37

Ans Key: 5

eng/eng The home builder reasons from evidence about most residential fires to a conclusion about the effectiveness of sprinklers in preventing property damage. But this reasoning is faulty because of the possibility that most of the property damage results from the minority of fires excluded from the builder's evidence. That possibility is realized if 5 is true. Thus, 5 is the best answer. Because the builder's argument concerns neither the cost of installing sprinklers not a comparison with fire department performance in other locations, 3 and 4 are irrelevant. The evidence the home builder cites suggests that formal training is not needed in order to extinguish fires. So 1 is not the correct answer. 2 supports the builder's view that required.

घर बिल्डर सबसे अधिक आवासीय आग के बारे में सबूत से निष्कर्ष निकालता है ताकि संपत्ति की क्षति को रोकने में छिड़काव की प्रभावशीलता के बारे में निष्कर्ष निकाला जा सके। लेकिन यह तर्क इस वजह से दोषपूर्ण है कि ज्यादातर संपत्ति के नुकसान का परिणाम बिल्डर के साक्ष्य से बाहर रखी गई आग की अल्पसंख्यक से होता है। अगर 5 सच है तो इस संभावना को महसूस किया जाता है। इस प्रकार, 5 सबसे अच्छा जवाब है। क्योंकि बिल्डर के तर्क में चिंता है कि न तो स्प्रिंकलर स्थापित करने की लागत अन्य स्थानों में अग्निशमन विभाग के प्रदर्शन की तुलना नहीं है, 3 और 4 अप्रासंगिक हैं। घरेलू बिल्डर के हवाले से पता चलता है कि आग बुझाने के लिए औपचारिक प्रशिक्षण की आवश्यकता नहीं है। तो 1 सही उत्तर नहीं है। 2 बिल्डर के उस दृष्टिकोण का समर्थन करता है जिसकी आवश्यकता है।

eng hin The home builder reasons from evidence about most residential fires to a conclusion about the effectiveness of sprinklers in preventing property damage. But this reasoning is faulty because of the possibility that most of the property damage results from the minority of fires excluded from the builder's evidence. That possibility is realized if 5 is true. Thus, 5 is the best answer. Because the builder's argument concerns neither the cost of installing sprinklers not a comparison with fire department performance in other locations, 3 and 4 are irrelevant. The evidence the home builder cites suggests that formal training is not needed in order to extinguish fires. So 1 is not the correct answer. 2 supports the builder's view that required.

घर बिल्डर सबसे अधिक आवासीय आग के बारे में सबूत से निष्कर्ष निकालता है ताकि संपत्ति की क्षति को रोकने में छिड़काव की प्रभावशीलता के बारे में निष्कर्ष निकाला जा सके। लेकिन यह तर्क इस वजह से दोषपूर्ण है कि ज्यादातर संपत्ति के नुकसान का परिणाम बिल्डर के साक्ष्य से बाहर रखी गई आग की अल्पसंख्यक से होता है। अगर 5 सच है तो इस संभावना को महसूस किया जाता है। इस प्रकार, 5 सबसे अच्छा जवाब है। क्योंकि बिल्डर के तर्क में चिंता है कि न तो स्प्रिंकलर स्थापित करने की लागत अन्य स्थानों में अग्निशमन विभाग के प्रदर्शन की तुलना नहीं है, 3 और 4 अप्रासंगिक हैं। घरेलू बिल्डर के हवाले से पता चलता है कि आग बुझाने के लिए औपचारिक प्रशिक्षण की आवश्यकता नहीं है। तो 1 सही उत्तर नहीं है। 2 बिल्डर के उस दृष्टिकोण का समर्थन करता है जिसकी आवश्यकता है।

Q-38 Study the following information to answer the given question.

eng/eng

There is a common saying about the Indian retail consumers' "can't touch, wont buy" mentality. However, this is gradually changing with the rising trend of online shopping. India's e-commerce business jumped by more than 80 percent in 2013 and the momentum is likely to continue for at least the next five-six years, the founder of the country's largest e-commerce firm, Flipkart, say.

Which of the following can be possible fallout of the above passage?

दिए गए प्रश्न का उत्तर देने के लिए निम्नलिखित जानकारी का अध्ययन करें।

भारतीय खुदरा उपभोक्ताओं के बारे में एक आम कहावत है "मानसिकता को न तो छू सकते हैं, न ही खरीद सकते हैं।" हालांकि, ऑनलाइन शॉपिंग के बढ़ते चलन के साथ यह धीरे-धीरे बदल रहा है। भारत का ई-कॉमर्स व्यवसाय कूद गया 2013 में 80 प्रतिशत से अधिक और गति कम से कम अगले पांच-छह वर्षों तक जारी रहने की संभावना है, देश की सबसे बड़ी ई-कॉमर्स फर्म, फ्लिपकार्ट के संस्थापक का कहना है।

निम्नलिखित में से कौन सा उपरोक्त मार्ग का संभावित पतन हो सकता है?

01. India's e-commerce business jumped by more than 90 percent in 2015.
भारत के ई-वाणिज्य व्यापार 2015 में 90 प्रतिशत से अधिक हो गई।
02. Flipkart is the best option for the Indian retail consumers.
भारतीय खुदरा उपभोक्ताओं के लिए फ्लिपकार्ट सबसे अच्छा विकल्प है।
03. The craze of online shopping is seen only in the modern people.
ऑनलाइन शॉपिंग का क्रेज केवल आधुनिक लोगों में ही देखा जाता है।
04. The e-commerce business percent are increasing every year after 2013.
2013 के बाद हर साल ई-कॉमर्स कारोबार का प्रतिशत बढ़ रहा है।
05. None of these
इनमें से कोई नहीं

Q-38
eng/hin

Study the following information to answer the given question.

There is a common saying about the Indian retail consumers' "can't touch, won't buy" mentality. However, this is gradually changing with the rising trend of online shopping. India's e-commerce business jumped by more than 80 percent in 2013 and the momentum is likely to continue for at least the next five-six years, the founder of the country's largest e-commerce firm, Flipkart, say.

Which of the following can be possible fallout of the above passage?

दिए गए प्रश्न का उत्तर देने के लिए निम्नलिखित जानकारी का अध्ययन करें।

भारतीय खुदरा उपभोक्ताओं के बारे में एक आम कहावत है "मानसिकता को न तो छू सकते हैं, न ही खरीद सकते हैं।" हालांकि, ऑनलाइन शॉपिंग के बढ़ते चलन के साथ यह धीरे-धीरे बदल रहा है। भारत का ई-कॉमर्स व्यवसाय कूद गया 2013 में 80 प्रतिशत से अधिक और गति कम से कम अगले पांच-छह वर्षों तक जारी रहने की संभावना है, देश की सबसे बड़ी ई-कॉमर्स फर्म, फ्लिपकार्ट के संस्थापक का कहना है।

निम्नलिखित में से कौन सा उपरोक्त मार्ग का संभावित पतन हो सकता है?

01. India's e-commerce business jumped by more than 90 percent in 2015.
भारत के ई-वाणिज्य व्यापार 2015 में 90 प्रतिशत से अधिक हो गई।
02. Flipkart is the best option for the Indian retail consumers.
भारतीय खुदरा उपभोक्ताओं के लिए फ्लिपकार्ट सबसे अच्छा विकल्प है।
03. The craze of online shopping is seen only in the modern people.
ऑनलाइन शॉपिंग का क्रेज केवल आधुनिक लोगों में ही देखा जाता है।
04. The e-commerce business percent are increasing every year after 2013.
2013 के बाद हर साल ई-कॉमर्स कारोबार का प्रतिशत बढ़ रहा है।
05. None of these
इनमें से कोई नहीं

Ans Key: 4

Q-39
eng/eng

Study the following information to answer the given question.

Effect: Flipkart co-founder and chief executive officer Sachin Bansal said the e-commerce business in India is expected to reach around Rs. 3050-4270 billion by 2020 on the back of a fast-growing internet-connected population and improvement in related infrastructures like payment and delivery systems.

Which of the following can be a possible cause of the above effect?

दिए गए प्रश्न का उत्तर देने के लिए निम्नलिखित जानकारी का अध्ययन करें।

प्रभाव: फ्लिपकार्ट के सह-संस्थापक और मुख्य कार्यकारी अधिकारी सचिन बंसल ने कहा कि भारत का ई-कॉमर्स व्यवसाय जो तेजी से बढ़ते इंटरनेट तथा भुगतान और वितरण प्रणाली जैसे संबंधित बुनियादी ढांचे में सुधार से जुड़ा है के 2020 में लगभग रु 3050-4270 बिलियन तक पहुंचने की उम्मीद है।

निम्नलिखित में से कौन सा उपरोक्त प्रभाव का एक संभावित कारण हो सकता है?

01. Study the following information to answer the given question.
Effect: Flipkart co-founder and chief executive officer Sachin Bansal said the e-commerce business in India is expected to reach around Rs. 3050-4270 billion by 2020 on the back of a fast-growing internet-connected population and improvement in related infrastructures like payment and delivery systems.
01. The number of people who are interested in E-payment and delivery system are increasing day by day.
ई-भुगतान और वितरण प्रणाली में रुचि रखने वाले लोगों की संख्या दिन-प्रतिदिन बढ़ रही है।

Which of the following can be a possible cause of the above effect?

दिए गए प्रश्न का उत्तर देने के लिए निम्नलिखित जानकारी का अध्ययन करें।

प्रभाव: फ्लिपकार्ट के सह-संस्थापक और मुख्य कार्यकारी अधिकारी सचिन बंसल ने कहा कि भारत का ई-कॉमर्स व्यवसाय जो तेजी से बढ़ते इंटरनेट तथा भुगतान और वितरण प्रणाली जैसे संबंधित बुनियादी ढांचे में सुधार से जुड़ा है के 2020 में लगभग रु 3050-4270 बिलियन तक पहुंचने की उम्मीद है।

निम्नलिखित में से कौन सा उपरोक्त प्रभाव का एक संभावित कारण हो सकता है?

- | | |
|--|--|
| <p>01. The number of people who are interested in E-payment and delivery system are increasing day by day.
ई-भुगतान और वितरण प्रणाली में रुचि रखने वाले लोगों की संख्या दिन-प्रतिदिन बढ़ रही है।</p> | <p>02. E-commerce business is also taking a place in other countries.
ई-कॉमर्स व्यवसाय अन्य देशों में भी जगह बना रहा है।</p> |
| <p>02. E-commerce business is also taking a place in other countries.
ई-कॉमर्स व्यवसाय अन्य देशों में भी जगह बना रहा है।</p> | <p>03. India becomes more powerful in e-commerce business in comparison to other developed countries.
अन्य विकसित देशों की तुलना में भारत ई-कॉमर्स व्यवसाय में अधिक शक्तिशाली हो गया है।</p> |
| <p>03. India becomes more powerful in e-commerce business in comparison to other developed countries.
अन्य विकसित देशों की तुलना में भारत ई-कॉमर्स व्यवसाय में अधिक शक्तिशाली हो गया है।</p> | <p>04. China's e-commerce business rules are same as in India.
चीन के ई-कॉमर्स व्यवसाय नियम भारत की तरह ही हैं।</p> |
| <p>04. China's e-commerce business rules are same as in India.
चीन के ई-कॉमर्स व्यवसाय नियम भारत की तरह ही हैं।</p> | <p>05. None of these
इनमें से कोई नहीं</p> |

Q-39
eng hin

Study the following information to answer the given question.

Effect: Flipkart co-founder and chief executive officer Sachin Bansal said the e-commerce business in India is expected to reach around Rs. 3050-4270 billion by 2020 on the back of a fast-growing internet-connected population and improvement in related infrastructures like payment and delivery systems.

Which of the following can be a possible cause of the above effect?

दिए गए प्रश्न का उत्तर देने के लिए निम्नलिखित जानकारी का अध्ययन करें।

प्रभाव: फ्लिपकार्ट के सह-संस्थापक और मुख्य कार्यकारी अधिकारी सचिन बंसल ने कहा कि भारत का ई-कॉमर्स व्यवसाय जो तेजी से बढ़ते इंटरनेट तथा भुगतान और वितरण प्रणाली जैसे संबंधित बुनियादी ढांचे में सुधार से जुड़ा है के 2020 में लगभग रु 3050-4270 बिलियन तक पहुंचने की उम्मीद है।

निम्नलिखित में से कौन सा उपरोक्त प्रभाव का एक संभावित कारण हो सकता है?

- | | |
|--|--|
| <p>01. The number of people who are interested in E-payment and delivery system are increasing day by day.
ई-भुगतान और वितरण प्रणाली में रुचि रखने वाले लोगों की संख्या दिन-प्रतिदिन बढ़ रही है।</p> | <p>02. E-commerce business is also taking a place in other countries.
ई-कॉमर्स व्यवसाय अन्य देशों में भी जगह बना रहा है।</p> |
| <p>03. India becomes more powerful in e-commerce business in comparison to other developed countries.
अन्य विकसित देशों की तुलना में भारत ई-कॉमर्स व्यवसाय में अधिक शक्तिशाली हो गया है।</p> | <p>04. China's e-commerce business rules are same as in India.
चीन के ई-कॉमर्स व्यवसाय नियम भारत की तरह ही हैं।</p> |
| <p>05. None of these
इनमें से कोई नहीं</p> | |

Ans Key: 1

Q-40
eng/eng

Study the following information to answer the given question.

“Consumer mentality and shopping patterns are changing very fast. Online shopping is going to become main stream in the next five-six years and Smart phones would be the biggest online shopping driver in the coming years.”

Which of the following statement substantiates the views expressed in the above statement?

दिए गए प्रश्न का उत्तर देने के लिए निम्नलिखित जानकारी का अध्ययन करें।

“उपभोक्ता मानसिकता और खरीदारी पैटर्न बहुत तेजी से बदल रहे हैं। अगले पांच-छह वर्षों में ऑनलाइन शॉपिंग मुख्य धारा बनने जा रही है और स्मार्ट फोन सबसे बड़ा ऑनलाइन शॉपिंग ड्राइवर बन जाएगा आने वाले वर्षों। ”
निम्नलिखित कथन में से कौन सा कथन उपरोक्त कथन में व्यक्त विचारों की पुष्टि करता है?

- | | |
|--|---|
| <p>01. There are online shopping features in all phones.
सभी फोन में ऑनलाइन शॉपिंग के फीचर्स हैं।</p> <p>03. Upcoming years would be advanced.
आगामी वर्ष उन्नत होंगे।</p> <p>05. None of these
इनमें से कोई नहीं</p> | <p>02. The people want to get rid of by the old mythology of shopping.
लोग खरीदारी की पुरानी पौराणिक कथाओं से छुटकारा पाना चाहते हैं।</p> <p>04. No one does like to buy anything without online shopping.
ऑनलाइन शॉपिंग के बिना कोई भी चीज खरीदना पसंद नहीं करता है।</p> |
|--|---|

Q-40
eng hin

Study the following information to answer the given question.

“Consumer mentality and shopping patterns are changing very fast. Online shopping is going to become main stream in the next five-six years and Smart phones would be the biggest online shopping driver in the coming years.”

Which of the following statement substantiates the views expressed in the above statement?

दिए गए प्रश्न का उत्तर देने के लिए निम्नलिखित जानकारी का अध्ययन करें।

“उपभोक्ता मानसिकता और खरीदारी पैटर्न बहुत तेजी से बदल रहे हैं। अगले पांच-छह वर्षों में ऑनलाइन शॉपिंग मुख्य धारा बनने जा रही है और स्मार्ट फोन सबसे बड़ा ऑनलाइन शॉपिंग ड्राइवर बन जाएगा आने वाले वर्षों। ”
निम्नलिखित कथन में से कौन सा कथन उपरोक्त कथन में व्यक्त विचारों की पुष्टि करता है?

- | | |
|--|---|
| <p>01. There are online shopping features in all phones.
सभी फोन में ऑनलाइन शॉपिंग के फीचर्स हैं।</p> <p>03. Upcoming years would be advanced.
आगामी वर्ष उन्नत होंगे।</p> <p>05. None of these
इनमें से कोई नहीं</p> | <p>02. The people want to get rid of by the old mythology of shopping.
लोग खरीदारी की पुरानी पौराणिक कथाओं से छुटकारा पाना चाहते हैं।</p> <p>04. No one does like to buy anything without online shopping.
ऑनलाइन शॉपिंग के बिना कोई भी चीज खरीदना पसंद नहीं करता है।</p> |
|--|---|

Ans Key: 5

Q-41
eng/eng

What approximate value will come in place of question marks in the given question?
दिए गए प्रश्नों में प्रश्नवाचक चिन्ह के स्थान पर लगभग क्या मान आएगा?

$$(10.97)^2 + (4.13)^2 \times 3.79 = ?$$

- | | |
|---|---|
| <p>01. 205</p> <p>03. 198</p> <p>05. 402</p> | <p>02. 288</p> <p>04. 376</p> |
|---|---|

Q-41
eng/eng

What approximate value will come in place of question marks in the given question?
दिए गए प्रश्नों में प्रश्नवाचक चिन्ह के स्थान पर लगभग क्या मान आएगा?

$$(10.97)^2 + (4.13)^2 \times 3.79 = ?$$

- | | |
|---|---|
| <p>01. 205</p> <p>03. 198</p> <p>05. 402</p> | <p>02. 288</p> <p>04. 376</p> |
|---|---|

Solution for Question 41

Ans Key: 4

eng/eng

$$? = 11^2 + 4^3 \times 4$$

$$? = 377 \approx 376$$

eng hin

$$? = 11^2 + 4^3 \times 4$$

$$? = 377 \approx 376$$

Q-42
eng/eng

What approximate value will come in place of question marks in the given question?
दिए गए प्रश्नों में प्रश्नवाचक चिन्ह के स्थान पर लगभग क्या मान आएगा?

01.	180	02.	395
03.	525	04.	630
05.	222		

$$423.62 - 269.89 \div (11.9\% \text{ of } 74.98) = ?$$

01. 180	02. 395
03. 525	04. 630
05. 222	

Answer for Question 42

Ans Key: 2

$$\begin{aligned} 423.62 - 269.89 \div (11.9\% \text{ of } 74.98) &= ? \\ 423.62 - 269.89 \div (12\% \text{ of } 75) &= ? \\ 424 - 269 \div 9 &= ? \\ ? &= 394 \end{aligned}$$
$$\begin{aligned} 423.62 - 269.89 \div (11.9\% \text{ of } 74.98) &= ? \\ 423.62 - 269.89 \div (12\% \text{ of } 75) &= ? \\ 424 - 269 \div 9 &= ? \\ ? &= 394 \end{aligned}$$
$$23 \times 15 - 60 + ? \div 31 = 292$$

01. 336	02. 435
03. 124	04. 322
05. 217	

$$23 \times 15 - 60 + ? \div 31 = 292$$

01. 336	02. 435
03. 124	04. 322
05. 217	

Answer for Question 43

Ans Key: 5

$$23 \times 15 - 60 + ? \div 31 = 292$$
$$345 - 60 + ? \times \frac{1}{31} = 292$$
$$285 + ? \times \frac{1}{31} = 292$$
$$? = 217$$
$$23 \times 15 - 60 + ? \div 31 = 292$$
$$345 - 60 + ? \times \frac{1}{31} = 292$$
$$285 + ? \times \frac{1}{31} = 292$$
$$? = 217$$
$$151.02 - 118.92 \div 17.02 - ?^2 = 80.88$$

02. $x < y$

03. $x \geq y$ 04. $x \leq y$

05. $x = y$ OR No relation can be established
 $x = y$ या कोई संबंध स्थापित नहीं किया जा सकता है

Q-48 In each question numbered I and II have been given. You have to solve both the equations and mark the appropriate option.
eng hin प्रत्येक प्रश्न में I और II दिए गए हैं। आपको दोनों समीकरणों को हल करना होगा और उचित विकल्प को चिह्नित करना होगा।

I $x^2 - x - 6 = 0$

II $y^2 - 6y + 8 = 0$

01. $x > y$

02. $x < y$

03. $x \geq y$

04. $x \leq y$

05. $x = y$ OR No relation can be established
 $x = y$ या कोई संबंध स्थापित नहीं किया जा सकता है

Solution for Question 48

Ans Key: 4

eng/eng I. $x = 3, -2$
 II. $Y = 2, 4$
 No relation can be established
 I. $x = 3, -2$
 II. $Y = 2, 4$
 कोई संबंध स्थापित नहीं किया जा सकता है

eng hin I. $x = 3, -2$
 II. $Y = 2, 4$
 No relation can be established
 I. $x = 3, -2$
 II. $Y = 2, 4$
 कोई संबंध स्थापित नहीं किया जा सकता है

Q-49 In each question numbered I and II have been given. You have to solve both the equations and mark the appropriate option.
eng/eng प्रत्येक प्रश्न में I और II दिए गए हैं। आपको दोनों समीकरणों को हल करना होगा और उचित विकल्प को चिह्नित करना होगा।

I $x^2 - 11x - 80 = 0$

II $y^2 + 9y - 52 = 0$

01. $x > y$

02. $x < y$

03. $x \geq y$

04. $x \leq y$

05. $x = y$ OR No relation can be established
 $x = y$ या कोई संबंध स्थापित नहीं किया जा सकता है

Q-49 In each question numbered I and II have been given. You have to solve both the equations and mark the appropriate option.
eng hin प्रत्येक प्रश्न में I और II दिए गए हैं। आपको दोनों समीकरणों को हल करना होगा और उचित विकल्प को चिह्नित करना होगा।

I $x^2 - 11x - 80 = 0$

II $y^2 + 9y - 52 = 0$

01. $x > y$

02. $x < y$

03. $x \geq y$

04. $x \leq y$

05. $x = y$ OR No relation can be established
 $x = y$ या कोई संबंध स्थापित नहीं किया जा सकता है

Solution for Question 49

Ans Key: 4

eng/eng X = +16, -5
 Y = +4, -13
 No relation can be established
 X = +16, -5
 Y = +4, -13
 कोई संबंध स्थापित नहीं किया जा सकता है

eng hin X = +16, -5
 Y = +4, -13
 No relation can be established
 X = +16, -5
 Y = +4, -13

कोई सबद्ध स्थापित नहीं किया जा सकता है

Q-50 In each question numbered I and II have been given. You have to solve both the equations and mark the appropriate option.
 प्रत्येक प्रश्न में I और II दिए गए हैं। आपको दोनों समीकरणों को हल करना होगा और उचित विकल्प को चिह्नित करना होगा।

II $2y^2 + 11y + 14 = 0$

02. $x < y$

04. $x \leq y$

05. $x = y$ OR No relation can be established
 $x = y$ या कोई संबंध स्थापित नहीं किया जा सकता है

Q-50 In each question numbered I and II have been given. You have to solve both the equations and mark the appropriate option.
eng hin प्रत्येक प्रश्न में I और II दिए गए हैं। आपको दोनों समीकरणों को हल करना होगा और उचित विकल्प को चिह्नित करना होगा।

II $2y^2 + 11y + 14 = 0$

02. $x < y$

04. $x \leq y$

05. $x = y$ OR No relation can be established
 $x = y$ या कोई संबंध स्थापित नहीं किया जा सकता है

Ans Key: 1

$$X = -\frac{3}{2}, -\frac{3}{2}$$

$$Y = -\frac{7}{2}, -2$$

$$x > y$$

$$X = -\frac{3}{2}, -\frac{3}{2}$$

$$Y = -\frac{7}{2}, -2$$

$$x > y$$

Q-51 Study the following number series carefully and find the missing term.
 eng/eng निम्नलिखित संख्या श्रृंखला का ध्यानपूर्वक अध्ययन करें और लुप्त पद ज्ञात करें।

8, 9, 15, 32, ?, 250.5

02. 47.5

04. 31.5

05. 69.5

Q-51 Study the following number series carefully and find the missing term.
eng hin निम्नलिखित संख्या श्रृंखला का ध्यानपूर्वक अध्ययन करें और लुप्त पद ज्ञात करें।

8, 9, 15, 32, ?, 250.5

02. 47.5

04. 31.5

05. 69.5

Ans Key: 1

$$8 \times 1 + 1 = 9$$

$$9 \times 1.5 + 1.5 = 15$$

$$15 \times 2 + 2 = 32$$

$$32 \times 2.5 + 2.5 = 82.5$$

$$82.5 \times 3 + 3 = 250.5$$

eng hin	$8 \times 1 + 1 = 9$ $9 \times 1.5 + 1.5 = 15$ $15 \times 2 + 2 = 32$ $32 \times 2.5 + 2.5 = 82.5$ $82.5 \times 3 + 3 = 250.5$
---------	--

Q-52 Study the following number series carefully and find the missing term.
 eng/eng निम्नलिखित संख्या श्रृंखला का ध्यानपूर्वक अध्ययन करें और लुप्त पद ज्ञात करें।

2, 5, 9, 42, 98, ?

- | | |
|---------|---------|
| 01. 233 | 02. 208 |
| 03. 331 | 04. 215 |
| 05. 142 | |

Q-52 Study the following number series carefully and find the missing term.
 eng hin निम्नलिखित संख्या श्रृंखला का ध्यानपूर्वक अध्ययन करें और लुप्त पद ज्ञात करें।

2, 5, 9, 42, 98, ?

- | | |
|---------|---------|
| 01. 233 | 02. 208 |
| 03. 331 | 04. 215 |
| 05. 142 | |

Solution for Question 52 Ans Key: 1

eng/eng	$2 + 1^3 + 2 = 5$ $5 + 2^3 - 4 = 9$ $9 + 3^3 + 6 = 42$ $42 + 4^3 - 8 = 98$ $98 + 5^3 + 10 = 233$
eng hin	$2 + 1^3 + 2 = 5$ $5 + 2^3 - 4 = 9$ $9 + 3^3 + 6 = 42$ $42 + 4^3 - 8 = 98$ $98 + 5^3 + 10 = 233$

Q-53 Study the following number series carefully and find the missing term.
 eng/eng निम्नलिखित संख्या श्रृंखला का ध्यानपूर्वक अध्ययन करें और लुप्त पद ज्ञात करें।

100 100 50 12.5 ?

- | | |
|------------|------------|
| 01. 2.5525 | 02. 1.5625 |
| 03. 8.5625 | 04. 4.5625 |
| 05. 5.2525 | |

Q-53 Study the following number series carefully and find the missing term.
 eng hin निम्नलिखित संख्या श्रृंखला का ध्यानपूर्वक अध्ययन करें और लुप्त पद ज्ञात करें।

100 100 50 12.5 ?

- | | |
|------------|------------|
| 01. 2.5525 | 02. 1.5625 |
| 03. 8.5625 | 04. 4.5625 |
| 05. 5.2525 | |

Solution for Question 53 Ans Key: 2

eng/eng	$100 \times 1 = 100$ $100 \times 0.5 = 50$ $50 \times 0.25 = 12.5$ $12.5 \times 0.125 = 1.5625$
eng hin	$100 \times 1 = 100$ $100 \times 0.5 = 50$ $50 \times 0.25 = 12.5$ $12.5 \times 0.125 = 1.5625$

Q-54 Study the following number series carefully and find the missing term.
eng/eng निम्नलिखित संख्या श्रृंखला का ध्यानपूर्वक अध्ययन करें और लुप्त पद ज्ञात करें।

12, 20 ,34, 57, ?

01.

93.5
02.

91.5
03.

93.2
04.

91.25
05.

98.98

Q-54 Study the following number series carefully and find the missing term.
eng hin निम्नलिखित संख्या श्रृंखला का ध्यानपूर्वक अध्ययन करें और लुप्त पद ज्ञात करें।

12, 20 ,34, 57, ?

01.

93.5
02.

91.5
03.

93.2
04.

91.25
05.

98.98

Solution for Question 54 Ans Key: 1

eng/eng $12 \times 1.5 + 2 = 20$
 $20 \times 1.5 + 4 = 34$
 $34 \times 1.5 + 6 = 57$
 $57 \times 1.5 + 8 = 93.5$

eng hin $12 \times 1.5 + 2 = 20$
 $20 \times 1.5 + 4 = 34$
 $34 \times 1.5 + 6 = 57$
 $57 \times 1.5 + 8 = 93.5$

Q-55 Study the following number series carefully and find the missing term.
eng/eng निम्नलिखित संख्या श्रृंखला का ध्यानपूर्वक अध्ययन करें और लुप्त पद ज्ञात करें।

1023, 987, 915, 807, ?

01.

560
02.

541
03.

606
04.

663
05.

532

Q-55 Study the following number series carefully and find the missing term.
eng hin निम्नलिखित संख्या श्रृंखला का ध्यानपूर्वक अध्ययन करें और लुप्त पद ज्ञात करें।

1023, 987, 915, 807, ?

01.

560
02.

541
03.

606
04.

663
05.

532

Solution for Question 55 Ans Key: 4

eng/eng $1023 - 36 = 987$
 $987 - 72 = 915$
 $915 - 108 = 807$
 $807 - 144 = 663$

eng hin $1023 - 36 = 987$
 $987 - 72 = 915$
 $915 - 108 = 807$
 $807 - 144 = 663$

Passage for Question 56, 57, 58, 59, 60 (ST-2081RRBCLERKMAINS(16-20M)2020NP)

eng/eng Passage

In each of the following questions below consists of a question and two statements numbered I and II given below it. You have to decide whether the data provided in the statements are sufficient to answer the question. Read both the statements and give answer

नीचे दिए गए प्रत्येक प्रश्न में एक प्रश्न और उसके नीचे दो कथन I और II दिए गए हैं। आपको यह तय करना होगा कि कथन में दिए गए डेटा प्रश्न का उत्तर देने के

लिए पर्याप्त हैं या नहीं। दोनों कथनों को पढ़ें और उत्तर दें

eng hin Passage

In each of the following questions below consists of a question and two statements numbered I and II given below it. You have to decide whether the data provided in the statements are sufficient to answer the question. Read both the statements and give answer

नीचे दिए गए प्रत्येक प्रश्न में एक प्रश्न और उसके नीचे दो कथन I और II दिए गए हैं। आपको यह तय करना होगा कि कथन में दिए गए डेटा प्रश्न का उत्तर देने के लिए पर्याप्त हैं या नहीं। दोनों कथनों को पढ़ें और उत्तर दें

Q-56 What is the length of the train?

eng/eng ट्रेन की लंबाई कितनी है?

I. The train takes 15 sec to cross a pole.

II. The train takes 30 sec to cross two poles, 150 m apart.

II ट्रेन को एक पोल को पार करने में 15 सेकंड लगते हैं।

III ट्रेन 150 मीटर दूरी पर स्थित दो पोल को पार करने में 30 सेकंड लेती है।

01. Data in Statement I alone are sufficient to answer the question, while the data in Statement II alone are not sufficient to answer the question.

कथन I में डेटा प्रश्न का उत्तर देने के लिए पर्याप्त हैं, जबकि कथन II में दिए गए डेटा प्रश्न का उत्तर देने के लिए पर्याप्त नहीं हैं।

02. Data in Statement II alone are sufficient to answer the question, while the data in Statement I alone are not sufficient to answer the question.

कथन II में डेटा अकेले प्रश्न का उत्तर देने के लिए पर्याप्त है, जबकि कथन I में दिए गए डेटा प्रश्न का उत्तर देने के लिए पर्याप्त नहीं हैं।

03. Data in Statement I alone or in statement II alone are sufficient to answer the question. डेटा कथन I अकेले या कथन II अकेले प्रश्न का उत्तर देने के लिए पर्याप्त हैं।

04. Data in both the statements I and II are not sufficient to answer the question. I और II दोनों कथनों में डेटा प्रश्न का उत्तर देने के लिए पर्याप्त नहीं है।

05. Data in both the Statements I and II together are necessary to answer the question.

प्रश्न का उत्तर देने के लिए कथन I और II दोनों में डेटा आवश्यक है।

Q-56 What is the length of the train?

eng hin ट्रेन की लंबाई कितनी है?

I. The train takes 15 sec to cross a pole.

II. The train takes 30 sec to cross two poles, 150 m apart.

II ट्रेन को एक पोल को पार करने में 15 सेकंड लगते हैं।

III ट्रेन 150 मीटर दूरी पर स्थित दो पोल को पार करने में 30 सेकंड लेती है।

01. Data in Statement I alone are sufficient to answer the question, while the data in Statement II alone are not sufficient to answer the question.

कथन I में डेटा प्रश्न का उत्तर देने के लिए पर्याप्त हैं, जबकि कथन II में दिए गए डेटा प्रश्न का उत्तर देने के लिए पर्याप्त नहीं हैं।

02. Data in Statement II alone are sufficient to answer the question, while the data in Statement I alone are not sufficient to answer the question.

कथन II में डेटा अकेले प्रश्न का उत्तर देने के लिए पर्याप्त है, जबकि कथन I में दिए गए डेटा प्रश्न का उत्तर देने के लिए पर्याप्त नहीं हैं।

03. Data in Statement I alone or in statement II alone are sufficient to answer the question. डेटा कथन I अकेले या कथन II अकेले प्रश्न का उत्तर देने के लिए पर्याप्त हैं।

04. Data in both the statements I and II are not sufficient to answer the question. I और II दोनों कथनों में डेटा प्रश्न का उत्तर देने के लिए पर्याप्त नहीं है।

05. Data in both the Statements I and II together are necessary to answer the question.

प्रश्न का उत्तर देने के लिए कथन I और II दोनों में डेटा आवश्यक है।

Solution for Question 56

Ans Key: 5

eng/eng Both Statements are required
दोनों कथन आवश्यक हैं

eng hin Both Statements are required
दोनों कथन आवश्यक हैं

Q-57 What is the number of trees planted in the field in rows and columns?
eng/eng क्षेत्र में पंक्तियों और स्तंभों में लगाए गए पेड़ों की संख्या कितनी है?

- I. Number of columns is more than the number of rows by 4
II. Number of trees in each column in an even number
I. स्तंभों की संख्या पंक्तियों की संख्या 4 से अधिक है
II. प्रत्येक स्तंभ में पेड़ों की संख्या एक सम संख्या है

- 01.** Data in Statement I alone are sufficient to answer the question, while the data in Statement II alone are not sufficient to answer the question.
कथन I में डेटा प्रश्न का उत्तर देने के लिए पर्याप्त है, जबकि कथन II में दिए गए डेटा प्रश्न का उत्तर देने के लिए पर्याप्त नहीं हैं।
- 02.** Data in Statement II alone are sufficient to answer the question, while the data in Statement I alone are not sufficient to answer the question.
कथन II में डेटा अकेले प्रश्न का उत्तर देने के लिए पर्याप्त है, जबकि कथन I में दिए गए डेटा प्रश्न का उत्तर देने के लिए पर्याप्त नहीं हैं।
- 03.** Data in Statement I alone or in statement II alone are sufficient to answer the question.
डेटा कथन I अकेले या कथन II अकेले प्रश्न का उत्तर देने के लिए पर्याप्त हैं।
- 04.** Data in both the statements I and II are not sufficient to answer the question.
I और II दोनों कथनों में डेटा प्रश्न का उत्तर देने के लिए पर्याप्त नहीं है।
- 05.** Data in both the Statements I and II together are necessary to answer the question.
प्रश्न का उत्तर देने के लिए कथन I और II दोनों में डेटा आवश्यक है।

Q-57 What is the number of trees planted in the field in rows and columns?
eng hin क्षेत्र में पंक्तियों और स्तंभों में लगाए गए पेड़ों की संख्या कितनी है?

- I. Number of columns is more than the number of rows by 4
II. Number of trees in each column in an even number
I. स्तंभों की संख्या पंक्तियों की संख्या 4 से अधिक है
II. प्रत्येक स्तंभ में पेड़ों की संख्या एक सम संख्या है

- 01.** Data in Statement I alone are sufficient to answer the question, while the data in Statement II alone are not sufficient to answer the question.
कथन I में डेटा प्रश्न का उत्तर देने के लिए पर्याप्त है, जबकि कथन II में दिए गए डेटा प्रश्न का उत्तर देने के लिए पर्याप्त नहीं हैं।
- 02.** Data in Statement II alone are sufficient to answer the question, while the data in Statement I alone are not sufficient to answer the question.
कथन II में डेटा अकेले प्रश्न का उत्तर देने के लिए पर्याप्त है, जबकि कथन I में दिए गए डेटा प्रश्न का उत्तर देने के लिए पर्याप्त नहीं हैं।
- 03.** Data in Statement I alone or in statement II alone are sufficient to answer the question.
डेटा कथन I अकेले या कथन II अकेले प्रश्न का उत्तर देने के लिए पर्याप्त हैं।
- 04.** Data in both the statements I and II are not sufficient to answer the question.
I और II दोनों कथनों में डेटा प्रश्न का उत्तर देने के लिए पर्याप्त नहीं है।
- 05.** Data in both the Statements I and II together are necessary to answer the question.
प्रश्न का उत्तर देने के लिए कथन I और II दोनों में डेटा आवश्यक है।

Solution for Question 57 Ans Key: 4

eng/eng Both the statements combined also give no idea about the no. of trees
संयुक्त दोनों कथन भी पेड़ों की संख्या के बारे में कोई विचार नहीं देते हैं।

eng hin Both the statements combined also give no idea about the no. of trees
संयुक्त दोनों कथन भी पेड़ों की संख्या के बारे में कोई विचार नहीं देते हैं।

Q-58 What is the area of the right angled triangle?
eng/eng समकोण त्रिभुज का क्षेत्रफल कितना है?

- I. Height of the triangle is three fourth of the base.
II. Hypotenuse of the triangle is 5 meters.
I. त्रिभुज की ऊँचाई आधार का तीन चौथाई है।
II. त्रिभुज का कर्ण 5 मीटर है।

- 01.** Data in Statement I alone are sufficient to answer the question, while the data in Statement II alone are not sufficient to answer the question.
कथन I में डेटा प्रश्न का उत्तर देने के लिए पर्याप्त है, जबकि कथन II में दिए गए डेटा प्रश्न का उत्तर देने के लिए पर्याप्त नहीं हैं।
- 02.** Data in Statement II alone are sufficient to answer the question, while the data in Statement I alone are not sufficient to answer the question.
कथन II में डेटा अकेले प्रश्न का उत्तर देने के लिए पर्याप्त है, जबकि कथन I में दिए गए डेटा प्रश्न का उत्तर देने के लिए पर्याप्त नहीं हैं।

उत्तर देने के लिए पर्याप्त हैं, जबकि कथन II में दिए गए डेटा प्रश्न का उत्तर देने के लिए पर्याप्त नहीं हैं।

03. Data in Statement I alone or in statement II alone are sufficient to answer the question. डेटा कथन I अकेले या कथन II अकेले प्रश्न का उत्तर देने के लिए पर्याप्त हैं।

05. Data in both the Statements I and II together are necessary to answer the question. प्रश्न का उत्तर देने के लिए कथन I और II दोनों में डेटा आवश्यक है।

04. Data in both the statements I and II are not sufficient to answer the question. I और II दोनों कथनों में डेटा प्रश्न का उत्तर देने के लिए पर्याप्त नहीं है।

Q-58
eng hin

What is the area of the right angled triangle?
समकोण त्रिभुज का क्षेत्रफल कितना है?

- I. Height of the triangle is three fourth of the base.
II. Hypotenuse of the triangle is 5 meters.
I. त्रिभुज की ऊँचाई आधार का तीन चौथाई है।
II. त्रिभुज का कर्ण 5 मीटर है।

01. Data in Statement I alone are sufficient to answer the question, while the data in Statement II alone are not sufficient to answer the question. कथन I में डेटा प्रश्न का उत्तर देने के लिए पर्याप्त हैं, जबकि कथन II में दिए गए डेटा प्रश्न का उत्तर देने के लिए पर्याप्त नहीं हैं।

02. Data in Statement II alone are sufficient to answer the question, while the data in Statement I alone are not sufficient to answer the question. कथन II में डेटा अकेले प्रश्न का उत्तर देने के लिए पर्याप्त है, जबकि कथन I में दिए गए डेटा प्रश्न का उत्तर देने के लिए पर्याप्त नहीं हैं।

03. Data in Statement I alone or in statement II alone are sufficient to answer the question. डेटा कथन I अकेले या कथन II अकेले प्रश्न का उत्तर देने के लिए पर्याप्त हैं।

04. Data in both the statements I and II are not sufficient to answer the question. I और II दोनों कथनों में डेटा प्रश्न का उत्तर देने के लिए पर्याप्त नहीं है।

05. Data in both the Statements I and II together are necessary to answer the question. प्रश्न का उत्तर देने के लिए कथन I और II दोनों में डेटा आवश्यक है।

Solution for Question 58

Ans Key: 5

eng/eng Both Statements are required
दोनों कथन आवश्यक हैं

eng hin Both Statements are required
दोनों कथन आवश्यक हैं

Q-59
eng/eng **What is the marked price of the shirt?**
शर्ट की चिह्नित कीमत क्या है?}

- I. A shopkeeper purchases 2 shirts for Rs 2200 and earns Rs 55 per shirt after giving 23% discount.
II. A shopkeeper marks the price 36% more than the cost price and after giving some discount earns Rs.200
I. एक दुकानदार 2200 रुपये में 2 शर्ट खरीदता है और 23% छूट देने के बाद प्रति शर्ट 55 रुपये कमाता है।
II. एक दुकानदार लागत मूल्य से 36% अधिक मूल्य अंकित करता है और कुछ छूट देने के बाद 200 रुपये कमाता है

01. Data in Statement I alone are sufficient to answer the question, while the data in Statement II alone are not sufficient to answer the question. कथन I में डेटा प्रश्न का उत्तर देने के लिए पर्याप्त हैं, जबकि कथन II में दिए गए डेटा प्रश्न का उत्तर देने के लिए पर्याप्त नहीं हैं।

02. Data in Statement II alone are sufficient to answer the question, while the data in Statement I alone are not sufficient to answer the question. कथन II में डेटा अकेले प्रश्न का उत्तर देने के लिए पर्याप्त है, जबकि कथन I में दिए गए डेटा प्रश्न का उत्तर देने के लिए पर्याप्त नहीं हैं।

03. Data in Statement I alone or in statement II alone are sufficient to answer the question. डेटा कथन I अकेले या कथन II अकेले प्रश्न का उत्तर देने के लिए पर्याप्त हैं।

04. Data in both the statements I and II are not sufficient to answer the question. I और II दोनों कथनों में डेटा प्रश्न का उत्तर देने के लिए पर्याप्त नहीं है।

05. Data in both the Statements I and II together are necessary to answer the question. प्रश्न का उत्तर देने के लिए कथन I और II दोनों में डेटा आवश्यक है।

Q-59 What is the marked price of the shirt?
शर्ट की चिह्नित कीमत क्या है?}

eng hin

- I. A shopkeeper purchases 2 shirts for Rs 2200 and earns Rs 55 per shirt after giving 23% discount.
II. A shopkeeper marks the price 36% more than the cost price and after giving some discount earns Rs.200
I. एक दुकानदार 2200 रुपये में 2 शर्ट खरीदता है और 23% छूट देने के बाद प्रति शर्ट 55 रुपये कमाता है।
II. एक दुकानदार लागत मूल्य से 36% अधिक मूल्य अंकित करता है और कुछ छूट देने के बाद 200 रुपये कमाता है

01. Data in Statement I alone are sufficient to answer the question, while the data in Statement II alone are not sufficient to answer the question.
कथन I में डेटा प्रश्न का उत्तर देने के लिए पर्याप्त हैं, जबकि कथन II में दिए गए डेटा प्रश्न का उत्तर देने के लिए पर्याप्त नहीं हैं।
02. Data in Statement II alone are sufficient to answer the question, while the data in Statement I alone are not sufficient to answer the question.
कथन II में डेटा अकेले प्रश्न का उत्तर देने के लिए पर्याप्त है, जबकि कथन I में दिए गए डेटा प्रश्न का उत्तर देने के लिए पर्याप्त नहीं हैं।
03. Data in Statement I alone or in statement II alone are sufficient to answer the question.
डेटा कथन I अकेले या कथन II अकेले प्रश्न का उत्तर देने के लिए पर्याप्त हैं।
04. Data in both the statements I and II are not sufficient to answer the question.
I और II दोनों कथनों में डेटा प्रश्न का उत्तर देने के लिए पर्याप्त नहीं है।
05. Data in both the Statements I and II together are necessary to answer the question.
प्रश्न का उत्तर देने के लिए कथन I और II दोनों में डेटा आवश्यक है।

Solution for Question 59

Ans Key: 1

eng/eng Statement I is sufficient to answer the question.
कथन I प्रश्न का उत्तर देने के लिए पर्याप्त है।

eng hin Statement I is sufficient to answer the question.
कथन I प्रश्न का उत्तर देने के लिए पर्याप्त है।

Q-60 Two friends A and B together can complete a piece of work in 10 days. In how many days A alone complete the piece of work?
दो मित्र A और B एक साथ मिलकर 10 दिनों में काम पूरा कर सकते हैं। कितने दिनों में A अकेले काम पूरा करता है?

eng/eng

- I. B alone can complete half of the work in 12.5 days.
II. The efficiency of A is 50% more than that of B.
I. B अकेले 12.5 दिनों में आधा काम पूरा कर सकता है।
II. A की दक्षता B की तुलना में 50% अधिक है।

01. 1. Data in Statement I alone are sufficient to answer the question, while the data in Statement II alone are not sufficient to answer the question.
कथन I में डेटा प्रश्न का उत्तर देने के लिए पर्याप्त हैं, जबकि कथन II में दिए गए डेटा प्रश्न का उत्तर देने के लिए पर्याप्त नहीं हैं।
02. Data in Statement II alone are sufficient to answer the question, while the data in Statement I alone are not sufficient to answer the question.
कथन II में डेटा अकेले प्रश्न का उत्तर देने के लिए पर्याप्त है, जबकि कथन I में दिए गए डेटा प्रश्न का उत्तर देने के लिए पर्याप्त नहीं हैं।
03. Data in Statement I alone or in statement II alone are sufficient to answer the question.
कथन I अकेले या कथन II अकेले प्रश्न का उत्तर देने के लिए पर्याप्त हैं।
04. Data in both the statements I and II are not sufficient to answer the question.
I और II दोनों कथनों में डेटा प्रश्न का उत्तर देने के लिए पर्याप्त नहीं है।
05. Data in both the Statements I and II together are necessary to answer the question.
प्रश्न का उत्तर देने के लिए कथन I और II दोनों में डेटा आवश्यक है।

Q-60 Two friends A and B together can complete a piece of work in 10 days. In how many days A alone complete the piece of work?
दो मित्र A और B एक साथ मिलकर 10 दिनों में काम पूरा कर सकते हैं। कितने दिनों में A अकेले काम पूरा करता है?

eng hin

- I. B alone can complete half of the work in 12.5 days.
II. The efficiency of A is 50% more than that of B.
I. B अकेले 12.5 दिनों में आधा काम पूरा कर सकता है।
II. A की दक्षता B की तुलना में 50% अधिक है।

01. 1. Data in Statement I alone are sufficient to answer the question, while the data in Statement II alone are not sufficient to answer the question.
कथन I में डेटा प्रश्न का उत्तर देने के लिए पर्याप्त हैं, जबकि कथन II में दिए गए डेटा प्रश्न का उत्तर देने के लिए पर्याप्त नहीं हैं।
02. Data in Statement II alone are sufficient to answer the question, while the data in Statement I alone are not sufficient to answer the question.
कथन II में डेटा अकेले प्रश्न का उत्तर देने के लिए पर्याप्त है, जबकि कथन I में दिए गए डेटा प्रश्न का उत्तर देने के लिए पर्याप्त नहीं हैं।

कथन I में डेटा प्रश्न का उत्तर देने के लिए पर्याप्त हैं, जबकि कथन II में दिए गए डेटा प्रश्न का उत्तर देने के लिए पर्याप्त नहीं हैं।

03. Data in Statement I alone or in statement II alone are sufficient to answer the question.
कथन I अकेले या कथन II अकेले प्रश्न का उत्तर देने के लिए पर्याप्त हैं।
04. Data in both the statements I and II are not sufficient to answer the question.
I और II दोनों कथनों में डेटा प्रश्न का उत्तर देने के लिए पर्याप्त नहीं है।
05. Data in both the Statements I and II together are necessary to answer the question.
प्रश्न का उत्तर देने के लिए कथन I और II दोनों में डेटा आवश्यक है।

Solution for Question 60

Ans Key: 3

eng/eng From the statement I, we can conclude the number of days A alone will take to complete the work.
From the statement II, efficiency is given so it is easy to find the number of days, A alone or B alone will take to complete the work.
कथन I से, हम कार्य को पूरा करने के लिए A अकेले दिनों की संख्या का निष्कर्ष निकाल सकते हैं।
कथन II से, कार्यकुशलता दी जाती है इसलिए दिनों की संख्या का पता लगाना आसान है, A या B अकेले कार्य को पूरा करने में लगेगा।

eng hin From the statement I, we can conclude the number of days A alone will take to complete the work.
From the statement II, efficiency is given so it is easy to find the number of days, A alone or B alone will take to complete the work.
कथन I से, हम कार्य को पूरा करने के लिए A अकेले दिनों की संख्या का निष्कर्ष निकाल सकते हैं।
कथन II से, कार्यकुशलता दी जाती है इसलिए दिनों की संख्या का पता लगाना आसान है, A या B अकेले कार्य को पूरा करने में लगेगा।

Passage for Question 61, 62, 63, 64, 65 (ST-2081RRBCLERKMAINS(21-25M)2020NP)

eng/eng Passage

Refer to the table given below and answer the given questions. Data related to the number of students in 5 different colleges in the year of 2018 नीचे दी गई तालिका का संदर्भ लें और दिए गए प्रश्नों के उत्तर दें। 2018 के वर्ष में 5 विभिन्न कॉलेजों में छात्रों की संख्या से संबंधित डेटा।

Note: In each college, there are only three branches viz Art, Commerce and Science.

नोट: प्रत्येक कॉलेज में, कला, वाणिज्य और विज्ञान केवल तीन शाखाएँ हैं

		out of total number of students		
college	total number of students	% of Arts graduates	% of science graduates	% of commerce graduates
A	X	30	30	X
B	X	X	40	X
C	X	35	50	X
D	1000	32	X	X
E	600	X	42	30

		कुल छात्रों की संख्या में से		
कॉलेज	छात्रों की संख्या	कला स्नातक का %	विज्ञान स्नातक का %	वाणिज्य स्नातक का %
A	X	30	30	X
B	X	X	40	X
C	X	35	50	X
D	1000	32	X	X
E	600	X	42	30

eng hin Passage

Refer to the table given below and answer the given questions. Data related to the number of students in 5 different colleges in the year of 2018 नीचे दी गई तालिका का संदर्भ लें और दिए गए प्रश्नों के उत्तर दें। 2018 के वर्ष में 5 विभिन्न कॉलेजों में छात्रों की संख्या से संबंधित डेटा।

Note: In each college, there are only three branches viz Art, Commerce and Science.

नोट: प्रत्येक कॉलेज में, कला, वाणिज्य और विज्ञान केवल तीन शाखाएँ हैं

		out of total number of students		
college	total number of students	% of Arts graduates	% of science graduates	% of commerce graduates
A	X	30	30	X
B	X	X	40	X
C	X	35	50	X
D	1000	32	X	X
E	600	X	42	30

		कुल छात्रों की संख्या में से		
कॉलेज	छात्रों की संख्या	कला स्नातक का %	विज्ञान स्नातक का %	वाणिज्य स्नातक का %
A	X	30	30	X
B	X	X	40	X
C	X	35	50	X
D	1000	32	X	X
E	600	X	42	30

Q-61 Total number of students in college D increased by 20% from 2018 to 2019. If 20% of the total number of students in college D in 2019 was science and commerce graduate, then what was the total number of science and commerce graduate students in college D in 2019?

eng/eng कॉलेज D में छात्रों की कुल संख्या 2018 से 2019 तक 20% बढ़ गई। यदि 2019 में कॉलेज D में छात्रों की कुल संख्या का 20% विज्ञान और वाणिज्य स्नातक था, तो

01. 310 **02.** 275
03. 240 **04.** 420
05. 180

कॉलेज D में छात्रों की कुल संख्या 2018 से 2019 तक 20% बढ़ गई। यदि 2019 में कॉलेज D में छात्रों की कुल संख्या का 20% विज्ञान और वाणिज्य स्नातक था, तो कॉलेज D में विज्ञान और वाणिज्य स्नातक छात्रों की कुल संख्या क्या थी?

01. 310 **02.** 275
03. 240 **04.** 420
05. 180

Required students = $20/100 \times 1000 \times 120/100 = 240$
 आवश्यक छात्र = $20/100 \times 1000 \times 120/100 = 240$

Required students = $20/100 \times 1000 \times 120/100 = 240$
 आवश्यक छात्र = $20/100 \times 1000 \times 120/100 = 240$

कॉलेज D से विज्ञान और वाणिज्य स्नातकों का एक साथ और कॉलेज E से कला स्नातकों में क्या अनुपात है?

01.	82 : 21	02.	85 : 21
03.	87 : 28	04.	25 : 22
05.	81 : 29		

कॉलेज D से विज्ञान और वाणिज्य स्नातकों का एक साथ और कॉलेज E से कला स्नातकों में क्या अनुपात है?

01. 82 : 21
03. 87 : 28
05. 81 : 29

02. 85 : 21
04. 25 : 22

Required ratio = $68 \times 1000 : 28 \times 600 = 85 : 21$
 आवश्यक अनुपात = $68 \times 1000 : 28 \times 600 = 85 : 21$

Required ratio = $68 \times 1000 : 28 \times 600 = 85 : 21$
 आवश्यक अनुपात = $68 \times 1000 : 28 \times 600 = 85 : 21$

यदि कॉलेज D में विज्ञान स्नातक और वाणिज्य स्नातक छात्रों की संख्या के बीच संबंधित अनुपात 2: 3 था। D में कॉमर्स ग्रेजुएट छात्रों की संख्या क्या थी?

[illegible]

यदि कॉलेज D में विज्ञान स्नातक और वाणिज्य स्नातक छात्रों की संख्या के बीच संबंधित अनुपात 2: 3 था। D में कॉमर्स ग्रेजुएट छात्रों की संख्या क्या थी?

01.	425	02.	405
03.	415	04.	410
05.	408		

$$\begin{aligned}\text{Commerce graduate students in D} &= 3/5 \times 68/100 \times 1000 \\ &= 6 \times 68 \\ &= 408\end{aligned}$$

कॉलेज D में वाणिज्य स्नातक छात्र = $3/5 \times 68/100 \times 1000$

$$= 6 \times 68$$
$$= 408$$

eng hin	Commerce graduate students in D = $3/5 \times 68/100 \times 1000$ $= 6 \times 68$ $= 408$
---------	---

$$\begin{aligned}\text{कॉलेज D में वाणिज्य स्नातक छात्र} &= 3/5 \times 68/100 \times 1000 \\ &= 6 \times 68 \\ &= 408\end{aligned}$$

Q-64 The average number of Arts and commerce graduates in collage B is 300 then find the number of Arts graduates in college B ?
eng/eng कॉलेज B में कला और वाणिज्य स्नातकों की औसत संख्या 300 है तो कॉलेज B में कला स्नातक की संख्या ज्ञात करें?

01. 980
03. 850
05. can not be determined
निर्धारित नहीं किया जा सकता है

Q-64 The average number of Arts and commerce graduates in collage B is 300 then find the number of Arts graduates in college B ?
eng hin कॉलेज B में कला और वाणिज्य स्नातकों की औसत संख्या 300 है तो कॉलेज B में कला स्नातक की संख्या ज्ञात करें?

01. 980
03. 850
05. can not be determined
निर्धारित नहीं किया जा सकता है

Solution for Question 64

Ans Key: 5

eng/eng Total number of Arts and commerce graduates in college B = 600
 Since percentage distribution is not given.
 Therefore, Arts graduates in collage B cannot be determined.
 कॉलेज B में कला और वाणिज्य स्नातकों की कुल संख्या = 600
 चूंकि प्रतिशत वितरण नहीं दिया गया है।
 इसलिए, कोलाज B में कला स्नातक निर्धारित नहीं किए जा सकते हैं।

eng hin Total number of Arts and commerce graduates in college B = 600
 Since percentage distribution is not given.
 Therefore, Arts graduates in collage B cannot be determined.
 कॉलेज B में कला और वाणिज्य स्नातकों की कुल संख्या = 600
 चूंकि प्रतिशत वितरण नहीं दिया गया है।
 इसलिए, कोलाज B में कला स्नातक निर्धारित नहीं किए जा सकते हैं।

Q-65 What is the difference between the number of commerce graduate students and Arts graduate students in collage E ?
eng/eng कॉलेज E में वाणिज्य स्नातक छात्रों और कला स्नातक छात्रों की संख्या में क्या अंतर है ?

- | | |
|---------------|---------------|
| 01. 19 | 02. 11 |
| 03. 17 | 04. 12 |
| 05. 13 | |

Q-65 What is the difference between the number of commerce graduate students and Arts graduate students in collage E ?
eng hin कॉलेज E में वाणिज्य स्नातक छात्रों और कला स्नातक छात्रों की संख्या में क्या अंतर है ?

- | | | | |
|-----|----|-----|----|
| 01. | 19 | 02. | 11 |
| 03. | 17 | 04. | 12 |
| 05. | 13 | | |

Solution for Question 65

Ans Key: 4

eng/eng	Percentage of Arts graduate = 28%
	Required difference = $(30 - 28) / 100 \times 600 = 2/100 \times 600 = 12$
	कला स्नातक का प्रतिशत = 28%
	आवश्यक अंतर = $(30 - 28) / 100 \times 600 = 2/100 \times 600 = 12$

eng hin Percentage of Arts graduate = 28%
 Required difference = $(30 - 28) / 100 \times 600 = 2/100 \times 600 = 12$
 कला स्नातक का प्रतिशत = 28%
 आवश्यक अंतर = $(30 - 28) / 100 \times 600 = 2/100 \times 600 = 12$

Q-66 Train A leaves Kanpur for Delhi at 5:30 a.m. and reaches Delhi at 9:30 a.m. Train B leaves Delhi for Kanpur at 7:30 a.m. and reaches Kanpur at 13:30

hrs. At what time will these two trains meet?
 ट्रेन A, कानपुर के लिए सुबह 5:30 बजे रवाना होती है और 9:30 बजे दिल्ली पहुँचती है। ट्रेन B, दिल्ली से कानपुर के लिए सुबह 7:30 बजे निकलती है और 13:30 बजे कानपुर पहुँचती है। ये दोनों ट्रेनें किस समय मिलेंगी?

- | | |
|--------------------|--------------------|
| 01. 8:44 AM | 02. 8:35 AM |
| 03. 8:40 AM | 04. 8:30 AM |
| 05. 8:42 AM | |

Q-66 Train A leaves Kanpur for Delhi at 5:30 a.m. and reaches Delhi at 9:30 a.m. Train B leaves Delhi for Kanpur at 7:30 a.m. and reaches Kanpur at 13:30 hrs. At what time will these two trains meet?
 ट्रेन A, कानपुर के लिए सुबह 5:30 बजे रवाना होती है और 9:30 बजे दिल्ली पहुँचती है। ट्रेन B, दिल्ली से कानपुर के लिए सुबह 7:30 बजे निकलती है और 13:30 बजे कानपुर पहुँचती है। ये दोनों ट्रेनें किस समय मिलेंगी?

- | | |
|--------------------|--------------------|
| 01. 8:44 AM | 02. 8:35 AM |
| 03. 8:40 AM | 04. 8:30 AM |
| 05. 8:42 AM | |

Solution for Question 66 Ans Key: 5

eng/eng Train A takes 4 hrs to complete its journey and train B takes 6 hrs to complete its journey. Let the total journey = D.
 Speed of train A = $D/4$ and speed of train B = $D/6$
 Distance covered by train A in 2 hrs = $D/4 \times 2 = D/2$.
 \therefore Remaining distance = $D/2$ \therefore time taken to meet = 1 hr 12 min.
 \therefore Trains will meet at 7.30 + 1 hr 12 min. = 8.42 A.M.
 ट्रेन A को अपनी यात्रा पूरी करने में 4 घंटे लगते हैं और B को अपनी यात्रा पूरी करने में 6 घंटे लगते हैं
 माना कुल यात्रा = D
 A ट्रेन की गति = $D/4$ और ट्रेन B ट्रेन की गति = $D/6$ की गति। ट्रेन A द्वारा 2 घंटे में तय की गई दूरी
 $= D/4 \times 2$
 $= D/2$
 शेष दूरी = $D/2$
 \therefore मिलने का समय = 1 घंटा 12 मिनट।
 \therefore ट्रेनें मिलेंगी
 7.30 + 1 घंटा 12 मिनट = 8.42 AM

eng hin Train A takes 4 hrs to complete its journey and train B takes 6 hrs to complete its journey. Let the total journey = D.
 Speed of train A = $D/4$ and speed of train B = $D/6$
 Distance covered by train A in 2 hrs = $D/4 \times 2 = D/2$.
 \therefore Remaining distance = $D/2$ \therefore time taken to meet = 1 hr 12 min.
 \therefore Trains will meet at 7.30 + 1 hr 12 min. = 8.42 A.M.
 ट्रेन A को अपनी यात्रा पूरी करने में 4 घंटे लगते हैं और B को अपनी यात्रा पूरी करने में 6 घंटे लगते हैं
 माना कुल यात्रा = D
 A ट्रेन की गति = $D/4$ और ट्रेन B ट्रेन की गति = $D/6$ की गति। ट्रेन A द्वारा 2 घंटे में तय की गई दूरी
 $= D/4 \times 2$
 $= D/2$
 शेष दूरी = $D/2$
 \therefore मिलने का समय = 1 घंटा 12 मिनट।
 \therefore ट्रेनें मिलेंगी
 7.30 + 1 घंटा 12 मिनट = 8.42 AM

Q-67 12 years ago, the ratio between the ages of A and B was 15 : 13. After 19 years the ratio of their ages will be 23 : 22. What is the sum of their present ages?
eng/eng 12 वर्ष पूर्व A और B की आयु का अनुपात क्रमशः 15 : 13 था। 19 वर्ष बाद उनकी आयु का अनुपात क्रमशः 23 : 22 होगा। उनकी वर्तमान आयु का योग क्या है?

- | | |
|---|--------------------------------|
| 01. 57 years
57 वर्ष | 02. 54 years
54 वर्ष |
| 03. 52 years
52 वर्ष | 04. 59 years
59 वर्ष |
| 05. None of these
इनमें से कोई नहीं | |

Q-67 12 years ago, the ratio between the ages of A and B was 15 : 13. After 19 years the ratio of their ages will be 23 : 22. What is the sum of their present ages?
eng hin 12 वर्ष पूर्व A और B की आयु का अनुपात क्रमशः 15 : 13 था। 19 वर्ष बाद उनकी आयु का अनुपात क्रमशः 23 : 22 होगा। उनकी वर्तमान आयु का योग क्या है?

- | | |
|--------------------------------|--------------------------------|
| 01. 57 years
57 वर्ष | 02. 54 years
54 वर्ष |
| 03. 52 years | 04. 59 years |

- 05.** None of these
इनमें से कोई नहीं

Solution for Question 67

Ans Key: 3

eng/eng

$$\frac{A - 12}{B - 12} = \frac{15}{13}$$
$$13A - 15B = -24 \text{ ---- (I)}$$
$$\frac{A + 19}{B + 19} = \frac{23}{22}$$
$$22A - 23B = 19 \text{ ---- (II)}$$

From eqn. (I) and (II)

A = 27 years

B = 25 years

Sum = 52 years

$$\frac{A - 12}{B - 12} = \frac{15}{13}$$
$$13A - 15B = -24 \text{ ---- (I)}$$
$$\frac{A + 19}{B + 19} = \frac{23}{22}$$
$$22A - 23B = 19 \text{ ---- (II)}$$

समी. (I) और (II) से,

A = 27 वर्ष

B = 25 वर्ष

योग = 52 वर्ष

eng hin

$$\frac{A - 12}{B - 12} = \frac{15}{13}$$
$$13A - 15B = -24 \text{ ---- (I)}$$
$$\frac{A + 19}{B + 19} = \frac{23}{22}$$
$$22A - 23B = 19 \text{ ---- (II)}$$

From eqn. (I) and (II)

A = 27 years

B = 25 years

Sum = 52 years

$$\frac{A - 12}{B - 12} = \frac{15}{13}$$
$$13A - 15B = -24 \text{ ---- (I)}$$
$$\frac{A + 19}{B + 19} = \frac{23}{22}$$
$$22A - 23B = 19 \text{ ---- (II)}$$

समी. (I) और (II) से,

A = 27 वर्ष

B = 25 वर्ष

योग = 52 वर्ष

Q-68 In a class of _____ students, number of girls in the class is 6 more than the number of boys in the class. The average weight of the all the students in the class is 42.25 Kg. Average weight of the boys is _____ Kg and average weight of the girls is 40 Kg. Which of the following option satisfies the given condition?

एक कक्षा में _____ छात्रों, लड़कियों की संख्या कक्षा में लड़कों की संख्या से 6 अधिक है। कक्षा में सभी छात्रों का औसत वजन 42.25 किलोग्राम है। लड़कों का औसत वजन _____ किलोग्राम है तथा लड़कियों का औसत वजन 40 किलोग्राम है। निम्नलिखित में से कौन सा विकल्प दी गई शर्त को संतुष्ट करता है?

01. 50, 42
02. 40, 45
03. 60, 45
04. 46, 42
05. None of these
इनमें से कोई नहीं

Q-68 In a class of _____ students, number of girls in the class is 6 more than the number of boys in the class. The average weight of the all the students in the class is 42.25 Kg. Average weight of the boys is _____ Kg and average weight of the girls is 40 Kg. Which of the following option satisfies the given condition?

एक कक्षा में _____ छात्रों, लड़कियों की संख्या कक्षा में लड़कों की संख्या से 6 अधिक है। कक्षा में सभी छात्रों का औसत वजन 42.25 किलोग्राम है। लड़कों का औसत वजन _____ किलोग्राम है तथा लड़कियों का औसत वजन 40 किलोग्राम है। निम्नलिखित में से कौन सा विकल्प दी गई शर्त को संतुष्ट करता है?

- 01.** 50, 42 **02.** 40, 45
03. 60, 45 **04.** 46, 42

05. None of these
इनमें से कोई नहीं

Solution for Question 68

Ans Key: 3

eng/eng BY OPTION,
Total number of students in the class = 60
 $n + n + 6 = 60$
 $2n = 60 - 6$
 $2n = 54$
 $n = 27$
Boys = 27
Girls = $27 + 6 = 33$
 $(27 \times 45) + (33 \times 40) = 1215 + 1320 = 2535$
 $= [60 \times 42.25 = 2535]$
This satisfies the given condition.
विकल्प द्वारा
कक्षा में छात्रों की कुल संख्या = 60
 $n + n + 6 = 60$
 $2n = 60 - 6$
 $2n = 54$
 $n = 27$
लड़के = 27
लड़कियाँ = $27 + 6 = 33$
 $(27 \times 45) + (33 \times 40) = 1215 + 1320 = 2535$
 $= [60 \times 42.25 = 2535]$
यह दी गई शर्त को संतुष्ट करता है।

eng hin BY OPTION,
Total number of students in the class = 60
 $n + n + 6 = 60$
 $2n = 60 - 6$
 $2n = 54$
 $n = 27$
Boys = 27
Girls = $27 + 6 = 33$
 $(27 \times 45) + (33 \times 40) = 1215 + 1320 = 2535$
 $= [60 \times 42.25 = 2535]$
This satisfies the given condition.
विकल्प द्वारा
कक्षा में छात्रों की कुल संख्या = 60
 $n + n + 6 = 60$
 $2n = 60 - 6$
 $2n = 54$
 $n = 27$
लड़के = 27
लड़कियाँ = $27 + 6 = 33$
 $(27 \times 45) + (33 \times 40) = 1215 + 1320 = 2535$
 $= [60 \times 42.25 = 2535]$
यह दी गई शर्त को संतुष्ट करता है।

Q-69 The ratio of efficiency of A, B and C is 7: 5: 8, together they can complete a work in 42 days. B and C worked together for 21 days and A did the remaining work alone, then find how long it took to complete the work (in days)?
eng/eng A, B और C की दक्षता का अनुपात 7: 5: 8 है, एक साथ मिलकर वे किसी काम को 42 दिनों में पूरा कर सकते हैं। B और C ने 21 दिनों तक एक साथ कार्य किया और शेष कार्य A ने अकेले पूरा किया तो ज्ञात कीजिए कार्य पूरा होने में कितना समय लगा (दिनों में)?

01. 102
02. 81
03. 87
04. 75
05. None of these
इनमें से कोई नहीं

Q-69 The ratio of efficiency of A, B and C is 7: 5: 8, together they can complete a work in 42 days. B and C worked together for 21 days and A did the remaining work alone, then find how long it took to complete the work (in days)?
eng hin A, B और C की दक्षता का अनुपात 7: 5: 8 है, एक साथ मिलकर वे किसी काम को 42 दिनों में पूरा कर सकते हैं। B और C ने 21 दिनों तक एक साथ कार्य किया और शेष कार्य A ने अकेले पूरा किया तो ज्ञात कीजिए कार्य पूरा होने में कितना समय लगा (दिनों में)?

01. 102
02. 81
03. 87
04. 75
05. None of these
इनमें से कोई नहीं

Solution for Question 69

Ans Key: 1

eng/eng	$20x \times 42 = 840x$ $13x \times 21 = 273x$ $840x - 273x = 567x$ $567x/7 = 81$ $21 + 81 = 102$
eng hin	$20x \times 42 = 840x$ $13x \times 21 = 273x$ $840x - 273x = 567x$ $567x/7 = 81$ $21 + 81 = 102$

Q-70 eng/eng	<p>A basket contains 6 White 4 Black 2 Pink and 3 Green balls. If four balls are picked at random, what is the probability that at least one is Black?</p> <p>एक टोकरी में 6 सफ़ेद 4 काली 2 पिंक और 3 हरी गेंद हैं। यदि चार गेंदों को यादृच्छिक रूप से चुना जाता है, तो क्या संभावना है कि कम से कम एक काली हो?</p>
	<div>01. 69/91</div> <div>02. 56/91</div> <div>03. 23/91</div> <div>04. 17/91</div> <div>05. 19/91</div>
Q-70 eng hin	<p>A basket contains 6 White 4 Black 2 Pink and 3 Green balls. If four balls are picked at random, what is the probability that at least one is Black?</p> <p>एक टोकरी में 6 सफ़ेद 4 काली 2 पिंक और 3 हरी गेंद हैं। यदि चार गेंदों को यादृच्छिक रूप से चुना जाता है, तो क्या संभावना है कि कम से कम एक काली हो?</p>
	<div>01. 69/91</div> <div>02. 56/91</div> <div>03. 23/91</div> <div>04. 17/91</div> <div>05. 19/91</div>

Solution for Question 70		Ans Key: 1
eng/eng	<p>Total Balls = 15</p> <p>Probability = $\frac{{}^{11}C_4}{{}^{15}C_4} = \frac{22}{91}$</p> <p>One is black = $1 - \frac{22}{91} = \frac{69}{91}$</p> <p>कुल गेंद= 15</p> <p>प्रायिकता = $\frac{{}^{11}C_4}{{}^{15}C_4} = \frac{22}{91}$</p> <p>एक काली होने की प्रायिकता = $1 - \frac{22}{91} = \frac{69}{91}$</p>	
eng hin	<p>Total Balls = 15</p> <p>Probability = $\frac{{}^{11}C_4}{{}^{15}C_4} = \frac{22}{91}$</p> <p>One is black = $1 - \frac{22}{91} = \frac{69}{91}$</p> <p>कुल गेंद= 15</p> <p>प्रायिकता = $\frac{{}^{11}C_4}{{}^{15}C_4} = \frac{22}{91}$</p> <p>एक काली होने की प्रायिकता = $1 - \frac{22}{91} = \frac{69}{91}$</p>	

Passage for Question 71, 72, 73, 74, 75 (ST-2081RRBCLERKMAINS(31-35M)2020NP)

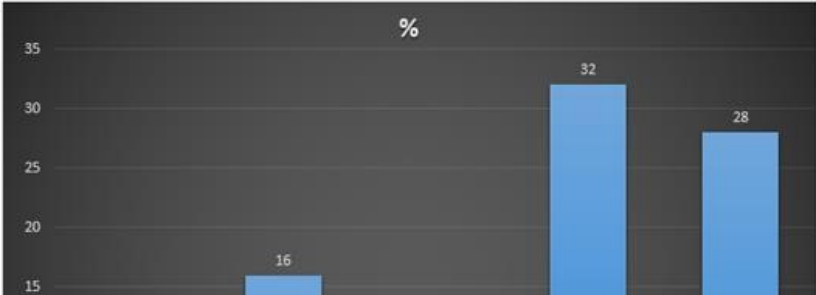
eng/eng Passage

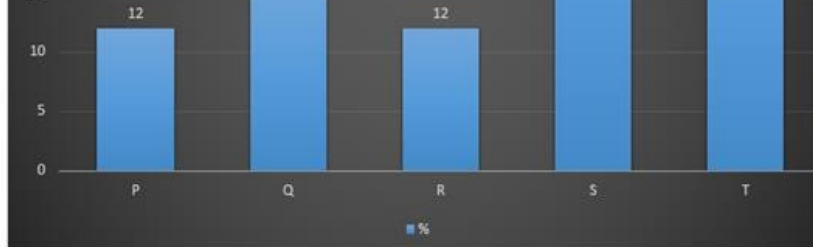
Refer to the information given below and answer the questions that follow:

नीचे दी गई जानकारी का संदर्भ लें और निम्नलिखित प्रश्नों के उत्तर दें:

Given the total capacity of the five companies given is 751000 tonnes in 2018-19
 दी गई पांच कंपनियों की कुल क्षमता 751000 टन है 2018-19 में

(Percentage breakup is of capacity)
 (प्रतिशत ब्रेकअप क्षमता की है)





NAME	PRODUCTION (In tonnes)	CAPITAL COST (Rs Million)
P	31994	540
Q	80759	544.92
R	63214	399.96
S	103484	999.84
T	194176	844

नाम	उत्पादन (टन में)	पूँजी लागत (मिलियन रु)
P	31994	540
Q	80759	544.92
R	63214	399.96
S	103484	999.84
T	194176	844

eng hin Passage

Refer to the information given below and answer the questions that follow:

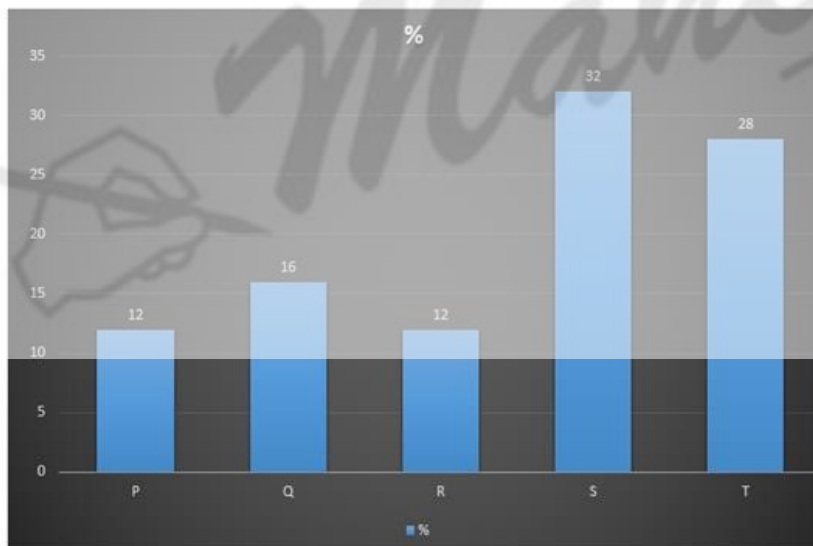
नीचे दी गई जानकारी का संदर्भ लें और निम्नलिखित प्रश्नों के उत्तर दें:

Given the total capacity of the five companies given is 751000 tonnes in 2018-19

दी गई पांच कंपनियों की कुल क्षमता 751000 टन है 2018-19 में

(Percentage breakup is of capacity)

(प्रतिशत ब्रेकअप क्षमता की है)



NAME	PRODUCTION (In tonnes)	CAPITAL COST (Rs Million)
P	31994	540
Q	80759	544.92
R	63214	399.96
S	103484	999.84
T	194176	844

नाम	उत्पादन (टन में)	पूँजी लागत (मिलियन रु)
P	31994	540
Q	80759	544.92
R	63214	399.96
S	103484	999.84
T	194176	844

Q-71

eng/eng

Which company had the highest capacity utilisation?
किस कंपनी की उच्चतम क्षमता का उपयोग था?

01. T

03. Q

05. S
02. P

04. R

Q-71

eng hin

Which company had the highest capacity utilisation?
किस कंपनी की उच्चतम क्षमता का उपयोग था?

01. T

03. Q

05. S
02. P

04. R

Solution for Question 71

Ans Key: 1

eng/eng

Capacity utilisation: By observation it has to be R or T .
R=>
 $63214/90000 \times 100 = 70\%$ nearly.
T=>
 $194176 / 211 \times 100 = 92\%$ nearly.
HINDI
क्षमता उपयोग: अवलोकन द्वारा इसे R या T होना चाहिए।
R =>
 $63214/90000 \times 100 = 70\%$ लगभग।
T =>
 $194176/211 \times 100 = 92\%$ लगभग।

eng hin

Capacity utilisation: By observation it has to be R or T .
R=>
 $63214/90000 \times 100 = 70\%$ nearly.
T=>
 $194176 / 211 \times 100 = 92\%$ nearly.
HINDI
क्षमता उपयोग: अवलोकन द्वारा इसे R या T होना चाहिए।
R =>
 $63214/90000 \times 100 = 70\%$ लगभग।
T =>
 $194176/211 \times 100 = 92\%$ लगभग।

Q-72

eng/eng

Which company had the lowest capital cost per tonne of capacity?
किस कंपनी की प्रति टन कैपिटल कैपेसिटी सबसे कम थी?

01. S

03. P

05. R
02. Q

04. T

Q-72

eng hin

Which company had the lowest capital cost per tonne of capacity?
किस कंपनी की प्रति टन कैपिटल कैपेसिटी सबसे कम थी?

01. S

03. P

05. R
02. Q

04. T

Solution for Question 72

Ans Key: 4

eng/eng

Capital cost per tonne of capacity
P = $540 \times 106 / 90 \times 103 = \text{Rs. } 6,000.$
Q= $544.92 \times 106 / 120 \times 103 = \text{Rs. } 4,374.$
R = $399.96 \times 106 / 90 \times 103 = \text{Rs. } 4,449.$
S = $999.84 \times 106 / 240 \times 103 = \text{Rs. } 4,166.$
T = $884 \times 106 / 211 \times 103 = \text{Rs. } 4,000.$
प्रति टन पूंजी लागत क्षमता
P = $540 \times 106/90 \times 103 = \text{रु } 6000$
Q = $544.92 \times 106/120 \times 103 = \text{रु } 4,374$
R = $399.96 \times 106/90 \times 103 = \text{रु } 4,449$
S = $999.84 \times 106/240 \times 103 = \text{रु } 4,166$
T = $884 \times 106/211 \times 103 = \text{रु } 4,000$

eng hin Capital cost per tonne of capacity
 $P = 540 \times 106 / 90 \times 103 = \text{Rs. } 6,000.$
 $Q = 544.92 \times 106 / 120 \times 103 = \text{Rs. } 4,374.$
 $R = 399.96 \times 106 / 90 \times 103 = \text{Rs. } 4,449.$
 $S = 999.84 \times 106 / 240 \times 103 = \text{Rs. } 4,166.$
 $T = 884 \times 106 / 211 \times 103 = \text{Rs. } 4,000.$
 प्रति टन पूँजी लागत क्षमता
 $P = 540 \times 106/90 \times 103 = \text{रु } 6000$
 $Q = 544.92 \times 106/120 \times 103 = \text{रु } 4,374$
 $R = 399.96 \times 106/90 \times 103 = \text{रु } 4,449$
 $S = 999.84 \times 106/240 \times 103 = \text{रु } 4,166$
 $T = 884 \times 106/211 \times 103 = \text{रु } 4,000$

Q-73 If the given capacity of the five companies account for 87% of the total capacity in the country, what is the total capacity in the country?
 eng/eng यदि पांच कंपनियों की दी गई क्षमता देश की कुल क्षमता का 87% है, तो देश में कुल क्षमता क्या है?

- | | |
|--------------------------------|----------------------------------|
| 01. 800000 tonnes
800000 टन | 02. 900000 tonnes
900000 टन |
| 03. 863000 tonnes
863000 टन | 04. 1000000 tonnes
1000000 टन |
| 05. 890000 tonnes
890000 टन | |

Q-73 If the given capacity of the five companies account for 87% of the total capacity in the country, what is the total capacity in the country?
 eng hin यदि पांच कंपनियों की दी गई क्षमता देश की कुल क्षमता का 87% है, तो देश में कुल क्षमता क्या है?

- | | |
|--------------------------------|----------------------------------|
| 01. 800000 tonnes
800000 टन | 02. 900000 tonnes
900000 टन |
| 03. 863000 tonnes
863000 टन | 04. 1000000 tonnes
1000000 टन |
| 05. 890000 tonnes
890000 टन | |

Solution for Question 73 Ans Key: 3

eng/eng Total capacity of the five companies = 751000 tonnes
 which is 87 % of the country's production
 Hence total capacity = $751000/0.87$
 $= 863,000$ tonnes nearly
 पांच कंपनियों की कुल क्षमता = 751000 टन
 जो देश के उत्पादन का 87% है
 इसलिए कुल क्षमता = $751000 / 0.87$
 $= 863,000$ टन लगभग

eng hin Total capacity of the five companies = 751000 tonnes
 which is 87 % of the country's production
 Hence total capacity = $751000/0.87$
 $= 863,000$ tonnes nearly
 पांच कंपनियों की कुल क्षमता = 751000 टन
 जो देश के उत्पादन का 87% है
 इसलिए कुल क्षमता = $751000 / 0.87$
 $= 863,000$ टन लगभग

Q-74 What is the capacity utilisation of the company, which has the highest capacity?
 eng/eng कंपनी की क्षमता का उपयोग क्या है, जिसकी उच्चतम क्षमता है?

- | | |
|----------|---------|
| 01. 70% | 02. 66% |
| 03. 43% | 04. 91% |
| 05. 89 % | |

Q-74 What is the capacity utilisation of the company, which has the highest capacity?
 eng hin कंपनी की क्षमता का उपयोग क्या है, जिसकी उच्चतम क्षमता है?

- | | |
|----------|---------|
| 01. 70% | 02. 66% |
| 03. 43% | 04. 91% |
| 05. 89 % | |

Solution for Question 74 Ans Key: 3

eng/eng	<p>Highest Capacity is of S = 240 x 103</p> <p>Its capacity utilisation = $(103484 / 240 \times 103) \times 100 = 43\%$</p> <p>उच्चतम क्षमता S = 240 x 103</p> <p>इसकी क्षमता उपयोग = $(103484 / 240 \times 103) \times 100 = 43\%$</p>
eng hin	<p>Highest Capacity is of S = 240 x 103</p> <p>Its capacity utilisation = $(103484 / 240 \times 103) \times 100 = 43\%$</p> <p>उच्चतम क्षमता S = 240 x 103</p> <p>इसकी क्षमता उपयोग = $(103484 / 240 \times 103) \times 100 = 43\%$</p>

Q-75 What is the aggregate capacity utilisation of the five companies in 2018-19?
eng/eng 2018-19 में पांच कंपनियों का कुल क्षमता उपयोग क्या है?

- | | |
|----------------|----------------|
| 01. 70% | 02. 75% |
| 03. 63% | 04. 50% |
| 05. 78% | |

Q-75 What is the aggregate capacity utilisation of the five companies in 2018-19?
eng hin 2018-19 में पांच कंपनियों का कुल क्षमता उपयोग क्या है?

- | | |
|----------------|----------------|
| 01. 70% | 02. 75% |
| 03. 63% | 04. 50% |
| 05. 78% | |

Solution for Question 75

Ans Key: 3

eng/eng	<p>Total capacity = 751000 tonnes</p> <p>total production = 31, 994 + 80, 759 + 63, 214 + 103, 484 + 194,176</p> <p style="text-align: center;">= 473, 627</p> <p>Utilisation = $473, 267 / 751000 = 63\%$</p> <p>कुल क्षमता = 751000 टन</p> <p>कुल उत्पादन = 31, 994 + 80, 759 + 63, 214 + 103, 484 + 194,176</p> <p style="text-align: center;">= 473, 627</p> <p>उपयोग = $473, 267 / 751000 = 63\%$</p>
eng hin	<p>Total capacity = 751000 tonnes</p> <p>total production = 31, 994 + 80, 759 + 63, 214 + 103, 484 + 194,176</p> <p style="text-align: center;">= 473, 627</p> <p>Utilisation = $473, 267 / 751000 = 63\%$</p> <p>कुल क्षमता = 751000 टन</p> <p>कुल उत्पादन = 31, 994 + 80, 759 + 63, 214 + 103, 484 + 194,176</p> <p style="text-align: center;">= 473, 627</p> <p>उपयोग = $473, 267 / 751000 = 63\%$</p>

Passage for Question 76, 77, 78, 79, 80 (ST-2081RRBCLERKMAINS(36-40M)2020NP)

eng/eng Passage

Study the information carefully to answer the following questions.

निम्नलिखित सवालों के जवाब के लिए जानकारी का ध्यानपूर्वक अध्ययन करें।

Among 400 cricket players, 45% played in ICL- 1 and 6.25% played only in ICL -1. Again, 57.5% players played in ICL - 2 and 11.25% players played only in ICL - 2. Again, 72.5% players played in ICL - 3 and 27.5% players played only in ICL -3. Twenty percent players played in all three ICL tournaments.

400 क्रिकेट खिलाड़ियों में, आईसीएल - 1 में 45% खेले और केवल आईसीएल - 1 में 6.25% खेले। फिर, आईसीएल - 2 में 57.5% खिलाड़ी और केवल आईसीएल -2 में 11.25% खिलाड़ी खेले। फिर, 72.5% खिलाड़ी आईसीएल -3 में और केवल आईसीएल -3 में 27.5% खेले। आईसीएल के तीन टूर्नामेंटों में 20 प्रतिशत खिलाड़ी खेले।

eng hin Passage

Study the information carefully to answer the following questions.

निम्नलिखित सवालों के जवाब के लिए जानकारी का ध्यानपूर्वक अध्ययन करें।

Among 400 cricket players, 45% played in ICL- 1 and 6.25% played only in ICL -1. Again, 57.5% players played in ICL - 2 and 11.25% players played only in ICL - 2. Again, 72.5% players played in ICL - 3 and 27.5% players played only in ICL -3. Twenty percent players played in all three ICL tournaments.

400 क्रिकेट खिलाड़ियों में, आईसीएल - 1 में 45% खेले और केवल आईसीएल - 1 में 6.25% खेले। फिर, आईसीएल - 2 में 57.5% खिलाड़ी और केवल आईसीएल -2 में 11.25% खिलाड़ी खेले। फिर, 72.5% खिलाड़ी आईसीएल -3 में और केवल आईसीएल -3 में 27.5% खेले। आईसीएल के तीन टूर्नामेंटों में 20 प्रतिशत खिलाड़ी खेले।

Q-76 How many players are there who played in ICL - 1 and ICL - 2 but not in ICL - 3?
eng/eng ऐसे कितने खिलाड़ी हैं जो आईसीएल - 1 और आईसीएल - 2 में खेले बल्कि आईसीएल - 3 में नहीं खेले हैं?

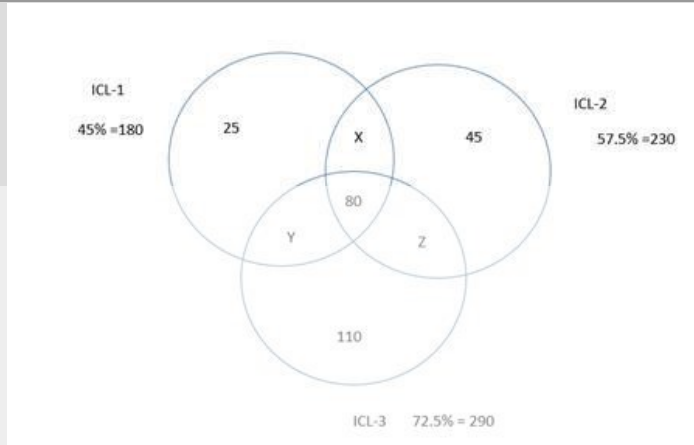
- | | | | |
|------------|----|------------|----|
| 01. | 30 | 02. | 35 |
| 03. | 40 | 04. | 65 |
| 05. | 45 | | |

Q-76 How many players are there who played in ICL - 1 and ICL - 2 but not in ICL - 3?
eng hin ऐसे कितने खिलाड़ी हैं जो आईसीएल - 1 और आईसीएल - 2 में खेले बल्कि आईसीएल - 3 में नहीं खेले हैं?

- | | | | |
|------------|----|------------|----|
| 01. | 30 | 02. | 35 |
| 03. | 40 | 04. | 65 |
| 05. | 45 | | |

Solution for Question 76 Ans Key: 3

eng/eng



$$x + y + 80 + 25 = 180$$

$$x + y = 75 \dots \text{(I)}$$

$$y + z + 80 + 110 = 290$$

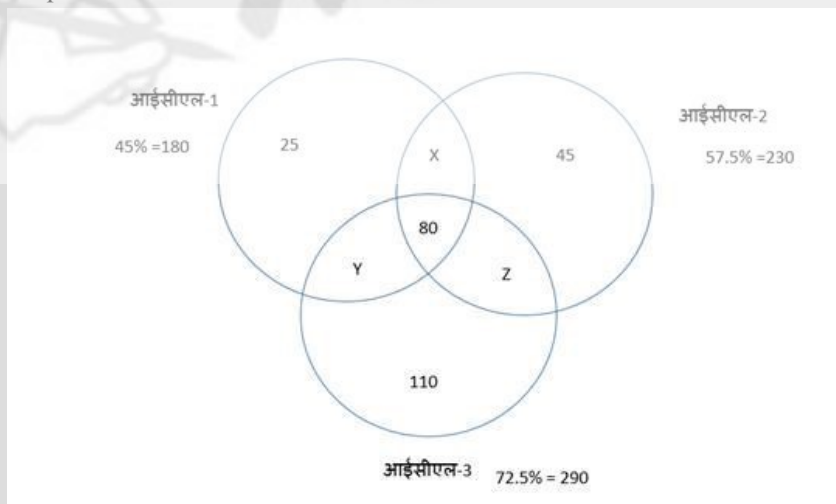
$$y + z = 100 \dots \text{(II)}$$

$$x + z + 80 + 45 = 230$$

$$x + z = 105 \dots \text{(III)}$$

$$x = 40, y = 35, z = 65$$

Req. answer = 40



$$x + y + 80 + 25 = 180$$

$$x + y = 75 \dots \text{(I)}$$

$$y + z + 80 + 110 = 290$$

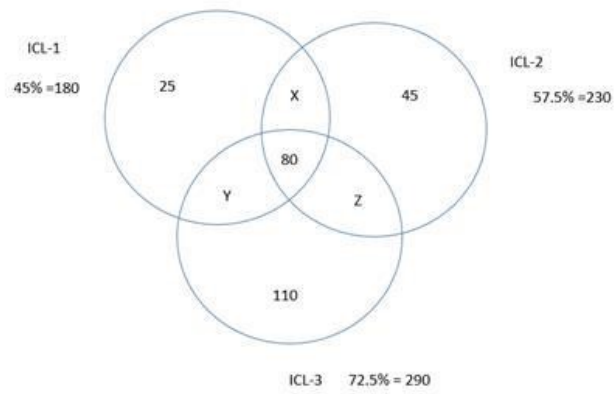
$$y + z = 100 \dots \text{(II)}$$

$$x + z + 80 + 45 = 230$$

$$x + z = 105 \dots \text{(III)}$$

$$x = 40, y = 35, z = 65$$

आवश्यक उत्तर = 40



$$x + y + 80 + 25 = 180$$

$$x + y = 75 \dots (I)$$

$$y + z + 80 + 110 = 290$$

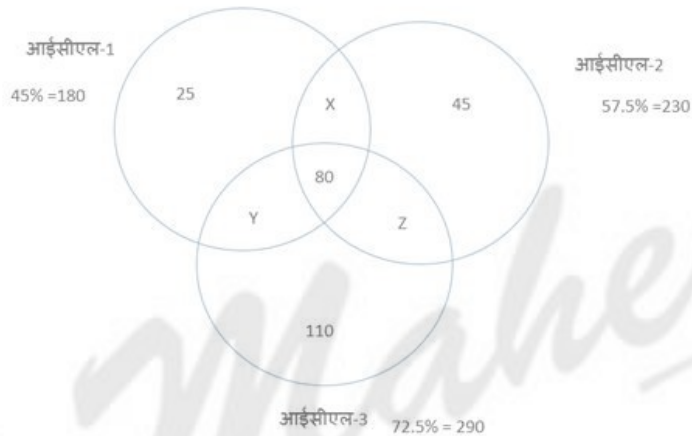
$$y + z = 100 \dots (II)$$

$$x + z + 80 + 45 = 230$$

$$x + z = 105 \dots (III)$$

$$x = 40, y = 35, z = 65$$

Req. answer = 40



$$x + y + 80 + 25 = 180$$

$$x + y = 75 \dots (I)$$

$$y + z + 80 + 110 = 290$$

$$y + z = 100 \dots (II)$$

$$x + z + 80 + 45 = 230$$

$$x + z = 105 \dots (III)$$

$$x = 40, y = 35, z = 65$$

आवश्यक उत्तर = 40

Q-77
eng/hin

What is the percentage of players who played in ICL -2 and ICL -3 but not in ICL -1?

आईसीएल -1 में नहीं खेलने वाले बल्कि आईसीएल -2 और आईसीएल -3 में खेलने वाले खिलाड़ियों का प्रतिशत कितना है?

- | | |
|-------------------|------------|
| 01. 12.5% | 02. 16.25% |
| 03. 22.75% | 04. 24% |
| 05. None of these | |
- इनमें से कोई नहीं

Q-77
eng/hin

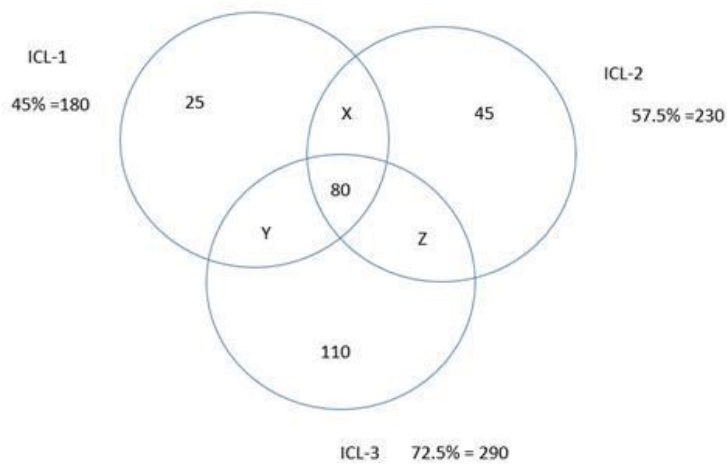
What is the percentage of players who played in ICL -2 and ICL -3 but not in ICL -1?

आईसीएल -1 में नहीं खेलने वाले बल्कि आईसीएल -2 और आईसीएल -3 में खेलने वाले खिलाड़ियों का प्रतिशत कितना है?

- | | |
|-------------------|------------|
| 01. 12.5% | 02. 16.25% |
| 03. 22.75% | 04. 24% |
| 05. None of these | |

Solution for Question 77

eng/eng



$$x + y + 80 + 25 = 180$$

$$x + y = 75 \dots (I)$$

$$y + z + 80 + 110 = 290$$

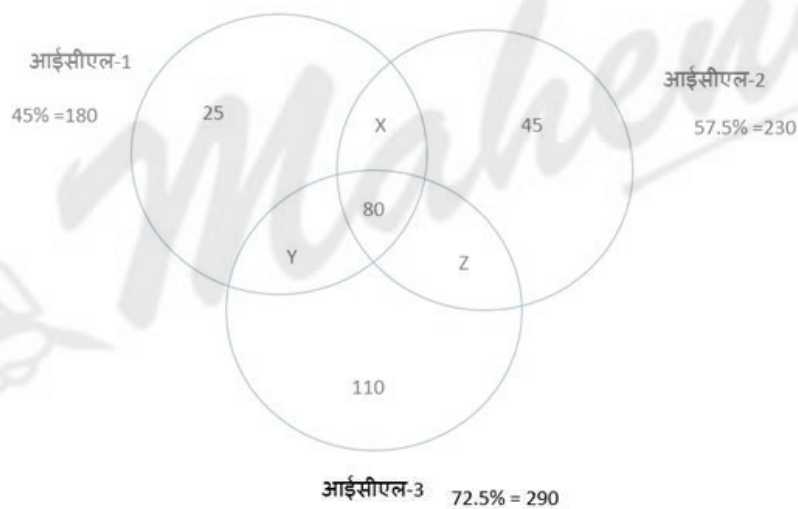
$$y + z = 100 \dots (II)$$

$$x + z + 80 + 45 = 230$$

$$x + z = 105 \dots (III)$$

$$x = 40, y = 35, z = 65$$

$$\text{Reqd percentage} = \frac{65}{400} \times 100 = 16.25\%$$



$$x + y + 80 + 25 = 180$$

$$x + y = 75 \dots (I)$$

$$y + z + 80 + 110 = 290$$

$$y + z = 100 \dots (II)$$

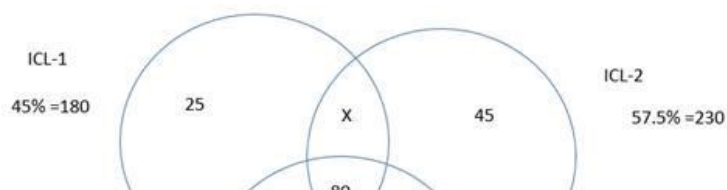
$$x + z + 80 + 45 = 230$$

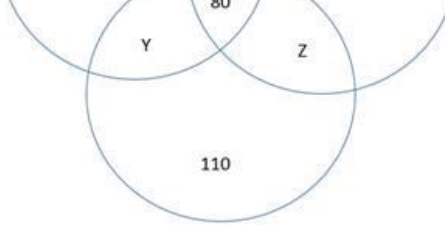
$$x + z = 105 \dots (III)$$

$$x = 40, y = 35, z = 65$$

$$\text{आवश्यक प्रतिशत} = \frac{65}{400} \times 100 = 16.25\%$$

eng hin





ICL-3 72.5% = 290

$$x + y + 80 + 25 = 180$$

$$x + y = 75 \dots (I)$$

$$y + z + 80 + 110 = 290$$

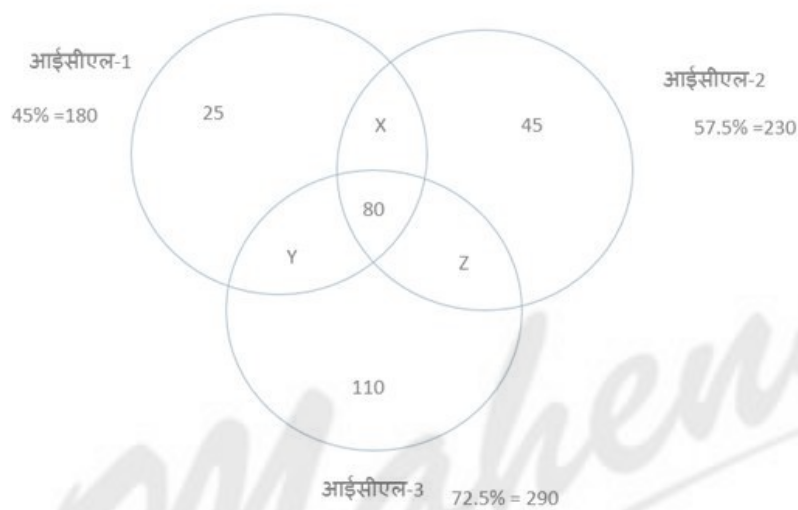
$$y + z = 100 \dots (II)$$

$$x + z + 80 + 45 = 230$$

$$x + z = 105 \dots (III)$$

$$x = 40, y = 35, z = 65$$

$$\text{Reqd percentage} = \frac{65}{400} \times 100 = 16.25\%$$



$$x + y + 80 + 25 = 180$$

$$x + y = 75 \dots (I)$$

$$y + z + 80 + 110 = 290$$

$$y + z = 100 \dots (II)$$

$$x + z + 80 + 45 = 230$$

$$x + z = 105 \dots (III)$$

$$x = 40, y = 35, z = 65$$

$$\text{आवश्यक प्रतिशत} = \frac{65}{400} \times 100 = 16.25\%$$

Q-78 What is the percentage of the players who played in at least two ICL tournaments?

eng/eng कम से कम दो आईसीएल टूर्नामेंट में खेलने वाले खिलाड़ियों का प्रतिशत क्या है?

01. 30%

02. 35%

03. 45%

04. 50%

05. 55%

Q-78 What is the percentage of the players who played in at least two ICL tournaments?

eng hin कम से कम दो आईसीएल टूर्नामेंट में खेलने वाले खिलाड़ियों का प्रतिशत क्या है?

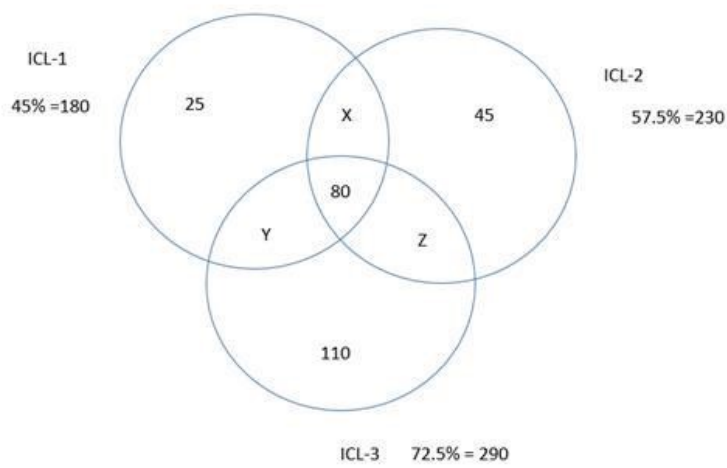
01. 30%

02. 35%

03. 45%

04. 50%

05. 55%



$$x + y + 80 + 25 = 180$$

$$x + y = 75 \dots (I)$$

$$y + z + 80 + 110 = 290$$

$$y + z = 100 \dots (II)$$

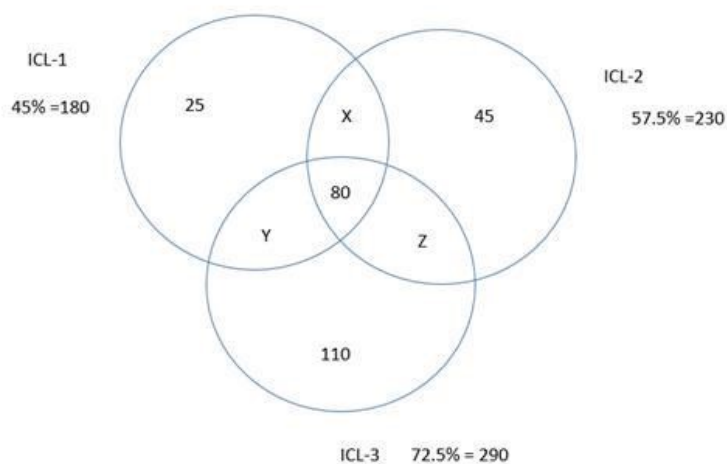
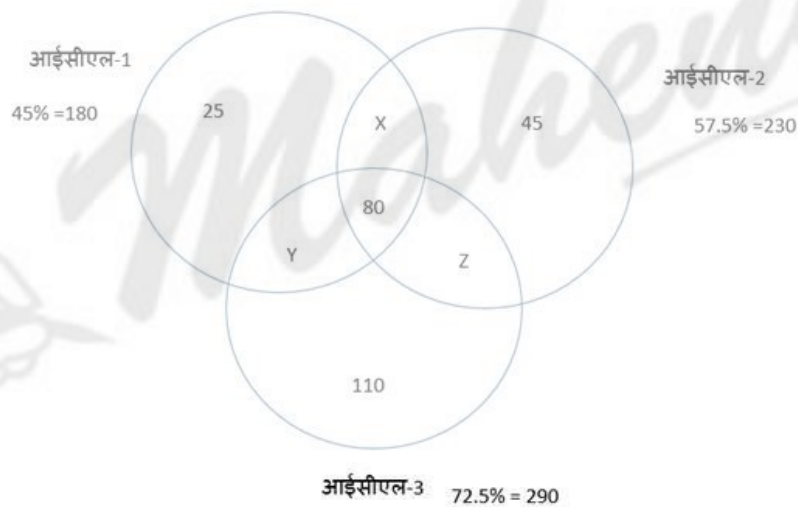
$$x + z + 80 + 45 = 230$$

$$x + z = 105 \dots (III)$$

$$x = 40, y = 35, z = 65$$

$$\text{At least two IPL} = 40 + 35 + 65 + 80 = 220$$

$$\text{Reqd \%} = \frac{220}{400} \times 100 = 55\%$$



$$x + y + 80 + 25 = 180$$

$$x + y = 75 \dots (I)$$

$$y + z + 80 + 110 = 290$$

$$y + z = 100 \dots \text{(II)}$$

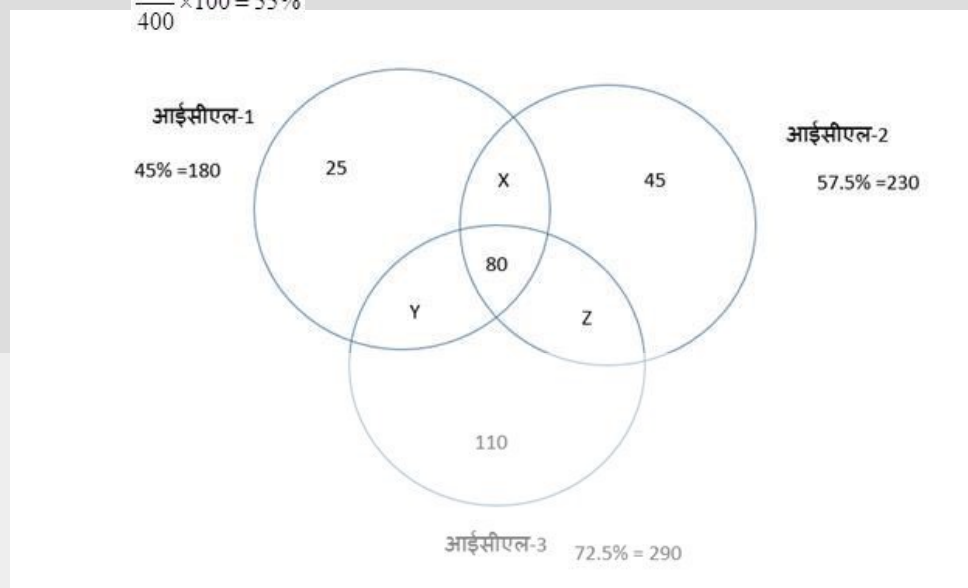
$$x + z + 80 + 45 = 230$$

$$x + z = 105 \dots \text{(III)}$$

$$x = 40, y = 35, z = 65$$

$$\text{At least two IPL} = 40 + 35 + 65 + 80 = 220$$

$$\text{Reqd \%} = \frac{220}{400} \times 100 = 55\%$$



$$x + y + 80 + 25 = 180$$

$$x + y = 75 \dots \text{(I)}$$

$$y + z + 80 + 110 = 290$$

$$y + z = 100 \dots \text{(II)}$$

$$x + z + 80 + 45 = 230$$

$$x + z = 105 \dots \text{(III)}$$

$$x = 40, y = 35, z = 65$$

$$\text{कम से कम दो आईपीएल} = 40 + 35 + 65 + 80 = 220$$

$$\text{आवश्यक प्रतिशत \%} = \frac{220}{400} \times 100 = 55\%$$

Q-79 The number of players who played only in either ICL - 1 or ICL - 2 is what percentage of the players who played in all three ICL?
eng/eng केवल आईसीएल -1 या आईसीएल -2 में खेलने वाले खिलाड़ियों की संख्या तीनों आईसीएल में खेलने वाले खिलाड़ियों का प्रतिशत क्या है?

- | | |
|--------------------------|----------------|
| 01. 72% | 02. 75% |
| 03. 82.5% | 04. 85% |
| 05. None of these | |
- इनमें से कोई नहीं

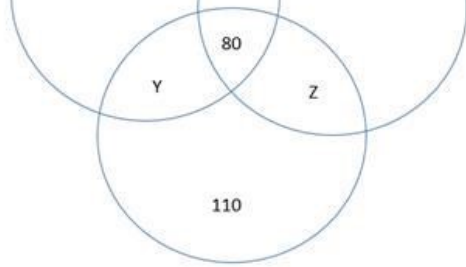
Q-79 The number of players who played only in either ICL - 1 or ICL - 2 is what percentage of the players who played in all three ICL?
eng/hin केवल आईसीएल -1 या आईसीएल -2 में खेलने वाले खिलाड़ियों की संख्या तीनों आईसीएल में खेलने वाले खिलाड़ियों का प्रतिशत क्या है?

- | | |
|--------------------------|----------------|
| 01. 72% | 02. 75% |
| 03. 82.5% | 04. 85% |
| 05. None of these | |
- इनमें से कोई नहीं

Solution for Question 79

Ans Key: 5





ICL-3 72.5% = 290

$$x + y + 80 + 25 = 180$$

$$x + y = 75 \dots (I)$$

$$y + z + 80 + 110 = 290$$

$$y + z = 100 \dots (II)$$

$$x + z + 80 + 45 = 230$$

$$x + z = 105 \dots (III)$$

$$x = 40, y = 35, z = 65$$

$$\text{Reqd \%} = \frac{70}{80} \times 100 = 87.5\%$$



$$x + y + 80 + 25 = 180$$

$$x + y = 75 \dots (I)$$

$$y + z + 80 + 110 = 290$$

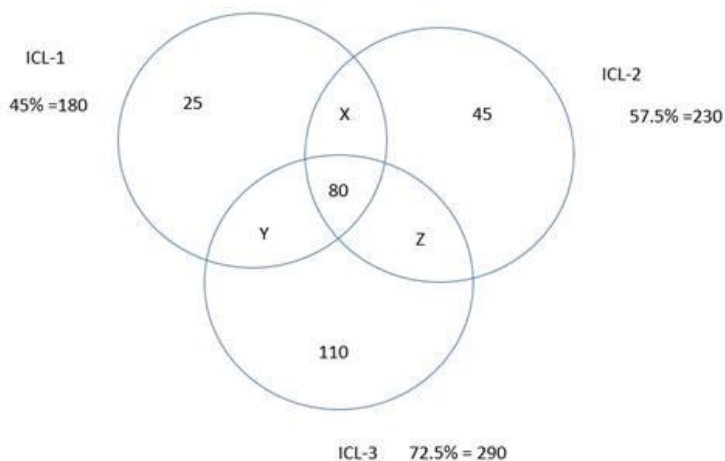
$$y + z = 100 \dots (II)$$

$$x + z + 80 + 45 = 230$$

$$x + z = 105 \dots (III)$$

$$x = 40, y = 35, z = 65$$

$$\text{आवश्यक प्रतिशत \%} = \frac{70}{80} \times 100 = 87.5\%$$



$$x + y + 80 + 25 = 180$$

$$x + y = 75 \dots (I)$$

$$y + z + 80 + 110 = 290$$

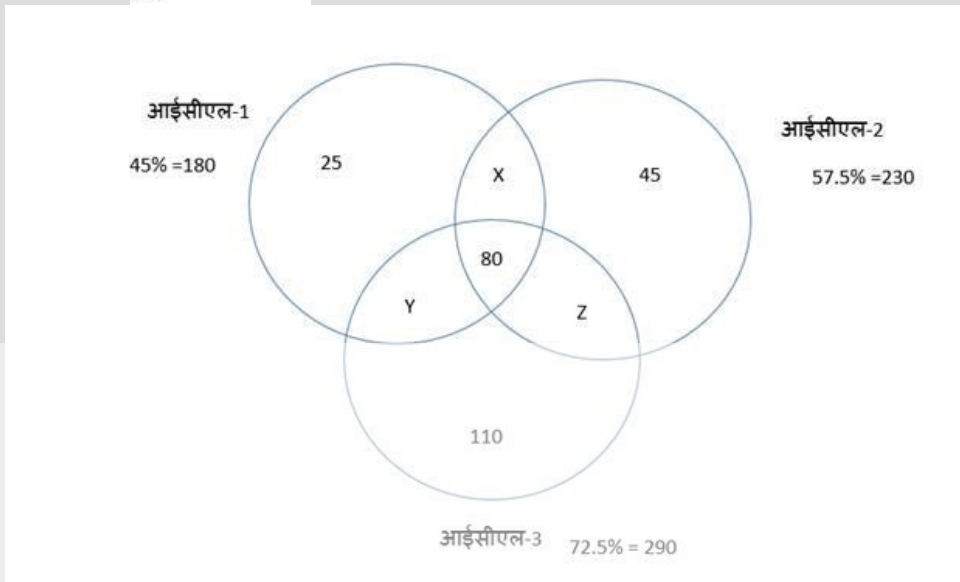
$$y + z = 100 \dots (II)$$

$$x + z + 80 + 45 = 230$$

$$x + z = 105 \dots (III)$$

$$x = 40, y = 35, z = 65$$

$$\text{Reqd \%} = \frac{70}{80} \times 100 = 87.5\%$$



$$x + y + 80 + 25 = 180$$

$$x + y = 75 \dots (I)$$

$$y + z + 80 + 110 = 290$$

$$y + z = 100 \dots (II)$$

$$x + z + 80 + 45 = 230$$

$$x + z = 105 \dots (III)$$

$$x = 40, y = 35, z = 65$$

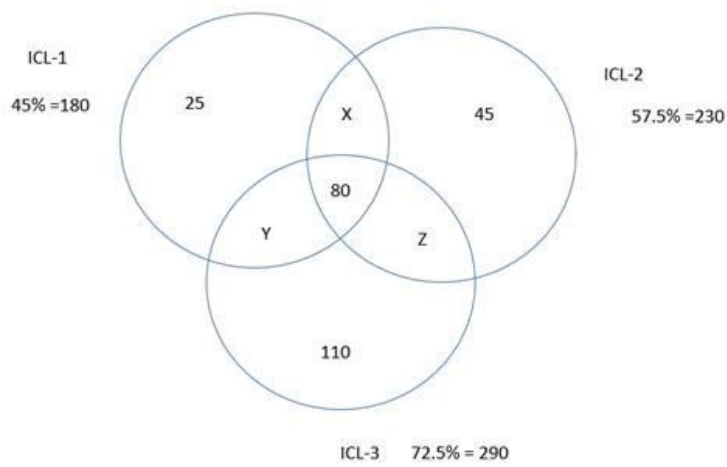
$$\text{आवश्यक प्रतिशत \%} = \frac{70}{80} \times 100 = 87.5\%$$

Q-80 The number of players who played in at most one ICL tournament is what percentage more/less than the number of players who played in at least one ICL?
eng/eng सबसे अधिक एक आईसीएल टूर्नामेंट में खेलने वाले खिलाड़ियों की संख्या कम से कम एक आईसीएल में खेलने वाले खिलाड़ियों की संख्या से कितने प्रतिशत अधिक / कम है?

- | | |
|---|-------------------------------|
| 01. 55% more
55% अधिक | 02. 55% less
55% कम |
| 03. 40% more
40% अधिक | 04. 40% less
40% कम |
| 05. None of these
इनमें से कोई नहीं | |

Q-80 The number of players who played in at most one ICL tournament is what percentage more/less than the number of players who played in at least one ICL?
eng/hin सबसे अधिक एक आईसीएल टूर्नामेंट में खेलने वाले खिलाड़ियों की संख्या कम से कम एक आईसीएल में खेलने वाले खिलाड़ियों की संख्या से कितने प्रतिशत अधिक / कम है?

- | | |
|---|-------------------------------|
| 01. 55% more
55% अधिक | 02. 55% less
55% कम |
| 03. 40% more
40% अधिक | 04. 40% less
40% कम |
| 05. None of these
इनमें से कोई नहीं | |



$$x + y + 80 + 25 = 180$$

$$x + y = 75 \dots (I)$$

$$y + z + 80 + 110 = 290$$

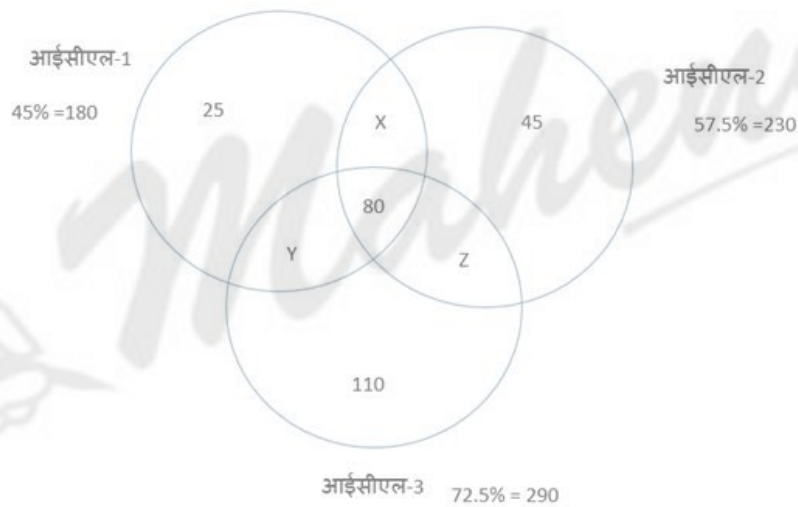
$$y + z = 100 \dots (II)$$

$$x + z + 80 + 45 = 230$$

$$x + z = 105 \dots (III)$$

$$x = 40, y = 35, z = 65$$

$$\text{req. \%} = \frac{400 - 180}{400} \times 100 = 55\%$$



$$x + y + 80 + 25 = 180$$

$$x + y = 75 \dots (I)$$

$$y + z + 80 + 110 = 290$$

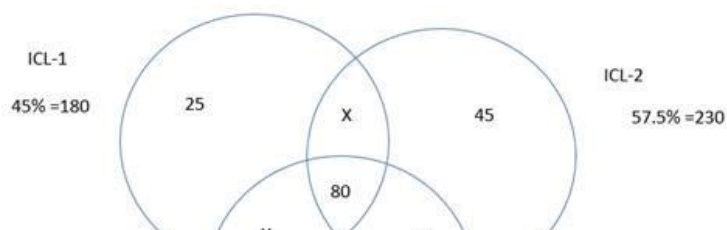
$$y + z = 100 \dots (II)$$

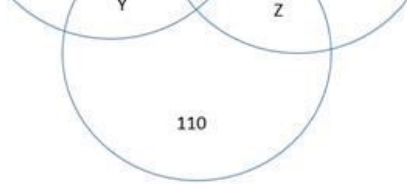
$$x + z + 80 + 45 = 230$$

$$x + z = 105 \dots (III)$$

$$x = 40, y = 35, z = 65$$

$$\text{आवश्यक प्रतिशत \%} = \frac{400 - 180}{400} \times 100 = 55\%$$





ICL-3 72.5% = 290

$$x + y + 80 + 25 = 180$$

$$x + y = 75 \dots (I)$$

$$y + z + 80 + 110 = 290$$

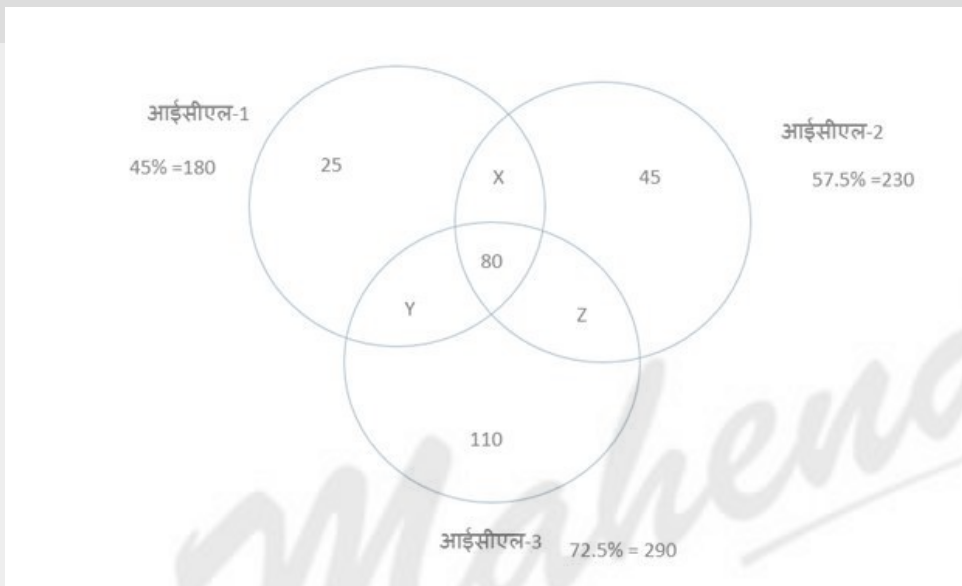
$$y + z = 100 \dots (II)$$

$$x + z + 80 + 45 = 230$$

$$x + z = 105 \dots (III)$$

$$x = 40, y = 35, z = 65$$

$$\text{req. \%} = \frac{400 - 180}{400} \times 100 = 55\%$$



$$x + y + 80 + 25 = 180$$

$$x + y = 75 \dots (I)$$

$$y + z + 80 + 110 = 290$$

$$y + z = 100 \dots (II)$$

$$x + z + 80 + 45 = 230$$

$$x + z = 105 \dots (III)$$

$$x = 40, y = 35, z = 65$$

$$\text{आवश्यक प्रतिशत \%} = \frac{400 - 180}{400} \times 100 = 55\%$$

Q-81

eng/eng

Which international cricketer recently announced his retirement from all forms of cricket?

अभी हाल ही में किस अंतर्राष्ट्रीय क्रिकेट खिलाड़ी ने क्रिकेट के सभी प्रारूपों से सन्यास लेने की घोषणा की?

01. Shane Watson

शेन वाटसन

02. Suresh Raina

सुरेश रैना

03. Mahendra Singh Dhoni

महेंद्र सिंह धोनी

04. Ravindra Jadeja

रविंद्र जडेजा

05. Lakshmipati Balaji

लक्ष्मीपती बालाजी

Q-81

eng hin

Which international cricketer recently announced his retirement from all forms of cricket?

अभी हाल ही में किस अंतर्राष्ट्रीय क्रिकेट खिलाड़ी ने क्रिकेट के सभी प्रारूपों से सन्यास लेने की घोषणा की?

01. Shane Watson

शेन वाटसन

02. Suresh Raina

सुरेश रैना

03. Mahendra Singh Dhoni
महेंद्र सिंह धोनी
05. Lakshmipati Balaji
लक्ष्मीपती बालाजी

04. Ravindra Jadeja
रविंद्र जडेजा

Solution for Question 81

Ans Key: 1

eng/eng Australian cricket player Shane Watson announced his retirement from all forms of cricket due to Chennai Super King not being able to reach the play-offs. चेन्नई सुपर किंग के प्ले आफ में न पहुँच पाने के कारण आस्ट्रेलियाई क्रिकेट खिलाड़ी शेन वाटसन ने क्रिकेट के सभी प्रारूपों से सन्यास लेने की घोषणा की.

eng hin Australian cricket player Shane Watson announced his retirement from all forms of cricket due to Chennai Super King not being able to reach the play-offs. चेन्नई सुपर किंग के प्ले आफ में न पहुँच पाने के कारण आस्ट्रेलियाई क्रिकेट खिलाड़ी शेन वाटसन ने क्रिकेट के सभी प्रारूपों से सन्यास लेने की घोषणा की.

Q-82 Which of the following players won the mixed martial arts title for the third consecutive time in November 2020?
eng/eng निम्न में से किस खिलाड़ी ने नवंबर, 2020 में लगातार तीसरी बार मिक्स्ड मार्शल आर्ट खिताब जीता?

- | | |
|--|----------------------------------|
| 01. Nu Surrey Pove
नू स्रे पोव | 02. Vinesh Phogat
विनेश फोगाट |
| 03. Ritu Phogat
रितु फोगाट | 04. Hee Kim
ही किम |
| 05. None of these
इनमें से कोई नहीं | |

Q-82 Which of the following players won the mixed martial arts title for the third consecutive time in November 2020?
eng hin निम्न में से किस खिलाड़ी ने नवंबर, 2020 में लगातार तीसरी बार मिक्स्ड मार्शल आर्ट खिताब जीता?

- | | |
|--|----------------------------------|
| 01. Nu Surrey Pove
नू स्रे पोव | 02. Vinesh Phogat
विनेश फोगाट |
| 03. Ritu Phogat
रितु फोगाट | 04. Hee Kim
ही किम |
| 05. None of these
इनमें से कोई नहीं | |

Solution for Question 82

Ans Key: 3

eng/eng 26-year-old Indian wrestler Ritu Phogat won the mixed martial arts title for the third time in November 2020, the first title was won in 2019. 26 वर्षीय भारतीय पहलवान रितु फोगाट ने नवंबर, 2020 में तीसरी बार मिक्स्ड मार्शल आर्ट खिताब जीता, पहला खिताब 2019 में जीता था.

eng hin 26-year-old Indian wrestler Ritu Phogat won the mixed martial arts title for the third time in November 2020, the first title was won in 2019. 26 वर्षीय भारतीय पहलवान रितु फोगाट ने नवंबर, 2020 में तीसरी बार मिक्स्ड मार्शल आर्ट खिताब जीता, पहला खिताब 2019 में जीता था.

Q-83 'Cochin Shipyard' signed an MoU with which Italian shipbuilding company for cooperation in the areas of design, shipbuilding, ship repair, marine equipment manufacturing, besides training and skills?
eng/eng 'कोचीन शिपयार्ड' ने 'इटली किस जहाज निर्माता कंपनी के साथ, प्रशिक्षण और कौशल के अलावा डिजाइन, जहाज निर्माण, जहाज की मरम्मत, समुद्री उपकरण निर्माण के क्षेत्रों में सहयोग के लिए एक समझौता ज्ञापन पर हस्ताक्षर किये?

- | | |
|--|---|
| 01. Fincentiary
फिनसेंटियरी | 02. Canteri del Mediterraneo
कंटेरि डेल मेडिटेरैनीयो |
| 03. Canteri San Marco
कंटेरि सेन मार्को | 04. Piomboni Yard
पियोमबोनी यार्ड |
| 05. San Vitale Shipyard
सेन विटाले शिपयार्ड | |

Q-83 'Cochin Shipyard' signed an MoU with which Italian shipbuilding company for cooperation in the areas of design, shipbuilding, ship repair, marine equipment manufacturing, besides training and skills?
eng hin 'कोचीन शिपयार्ड' ने 'इटली किस जहाज निर्माता कंपनी के साथ, प्रशिक्षण और कौशल के अलावा डिजाइन, जहाज निर्माण, जहाज की मरम्मत, समुद्री उपकरण निर्माण के क्षेत्रों में सहयोग के लिए एक समझौता ज्ञापन पर हस्ताक्षर किये?

- | | |
|--|---|
| 01. Fincentiary
फिनसेंटियरी | 02. Canteri del Mediterraneo
कंटेरि डेल मेडिटेरैनीयो |
| 03. Canteri San Marco
कंटेरि सेन मार्को | 04. Piomboni Yard
पियोमबोनी यार्ड |
| 05. San Vitale Shipyard
सेन विटाले शिपयार्ड | |

Solution for Question 83

Ans Key: 1

eng/eng - 'Cochin Shipyard' signed an MoU with 'Italy's Fincentiary Shipbuilding Company' for cooperation in the areas of design, shipbuilding, ship repair, marine equipment manufacturing, besides training and skills.
'कोचीन शिपयार्ड' ने 'इटली की फिनसेंटियरी जहाज निर्माता कंपनी' के साथ, प्रशिक्षण और कौशल के अलावा डिजाइन, जहाज निर्माण, जहाज की मरम्मत, समुद्री

उपकरण निर्माण के क्षेत्रों में सहयोग के लिए एक समझौता ज्ञापन पर हस्ताक्षर किये.

eng hin - 'Cochin Shipyard' signed an MoU with 'Italy's Fincentary Shipbuilding Company' for cooperation in the areas of design, shipbuilding, ship repair, marine equipment manufacturing, besides training and skills.
'कोचीन शिपयार्ड' ने 'इटली की फिनसेंटियरी जहाज निर्माता कंपनी' के साथ, प्रशिक्षण और कौशल के अलावा डिजाइन, जहाज निर्माण, जहाज की मरम्मत, समुद्री उपकरण निर्माण के क्षेत्रों में सहयोग के लिए एक समझौता ज्ञापन पर हस्ताक्षर किये.

Q-84 eng/eng The Renewable Energy Development Agency of India has signed an MoU with which of the following ministry to set the major targets for the year 2020-21?
भारतीय अक्षय ऊर्जा विकास एजेंसी ने वर्ष 2020-21 के लिए प्रमुख लक्ष्य निर्धारित करने के लिए निम्न में से किस मंत्रालय के साथ एक समझौता ज्ञापन पर हस्ताक्षर किये हैं?

- | | |
|---|---|
| 01. Ministry of Panchayati Raj
पंचायती राज मंत्रालय | 02. Ministry of New and Renewable Energy
नवीन एवं नवीकरणीय ऊर्जा मंत्रालय |
| 03. Ministry of AYUSH
आयुष मंत्रालय | 04. Ministry of Shipping
जहाजरानी मंत्रालय |
| 05. Ministry of Railways
रेल मंत्रालय | |

Q-84 eng/hin The Renewable Energy Development Agency of India has signed an MoU with which of the following ministry to set the major targets for the year 2020-21?
भारतीय अक्षय ऊर्जा विकास एजेंसी ने वर्ष 2020-21 के लिए प्रमुख लक्ष्य निर्धारित करने के लिए निम्न में से किस मंत्रालय के साथ एक समझौता ज्ञापन पर हस्ताक्षर किये हैं?

- | | |
|---|---|
| 01. Ministry of Panchayati Raj
पंचायती राज मंत्रालय | 02. Ministry of New and Renewable Energy
नवीन एवं नवीकरणीय ऊर्जा मंत्रालय |
| 03. Ministry of AYUSH
आयुष मंत्रालय | 04. Ministry of Shipping
जहाजरानी मंत्रालय |
| 05. Ministry of Railways
रेल मंत्रालय | |

Solution for Question 84

Ans Key: 2

eng/eng The Renewable Energy Development Agency of India has signed an MoU with the Ministry of New and Renewable Energy to set the major targets for the year 2020-21.
भारतीय अक्षय ऊर्जा विकास एजेंसी ने वर्ष 2020-21 के लिए प्रमुख लक्ष्य निर्धारित करने के लिए नवीन एवं नवीकरणीय ऊर्जा मंत्रालय के साथ एक समझौता ज्ञापन पर हस्ताक्षर किये हैं.

eng hin The Renewable Energy Development Agency of India has signed an MoU with the Ministry of New and Renewable Energy to set the major targets for the year 2020-21.
भारतीय अक्षय ऊर्जा विकास एजेंसी ने वर्ष 2020-21 के लिए प्रमुख लक्ष्य निर्धारित करने के लिए नवीन एवं नवीकरणीय ऊर्जा मंत्रालय के साथ एक समझौता ज्ञापन पर हस्ताक्षर किये हैं.

Q-85 eng/eng In which of the following months a summit meeting between the Prime Ministers of India and Bangladesh is organized?
भारत और बांग्लादेश के प्रधानमंत्रियों के बीच एक शिखर बैठक का आयोजन निम्न में से किस महीने में प्रस्तावित है?

- | | |
|---|--|
| 01. December, 2020
दिसंबर, 2020 | 02. November, 2020
नवंबर, 2020 |
| 03. January 3, 2021
जनवरी, 2021 | 04. February, 2021
फरवरी, 2021 |
| 05. None of these
इनमें से कोई नहीं | |

Q-85 eng/hin In which of the following months a summit meeting between the Prime Ministers of India and Bangladesh is organized?
भारत और बांग्लादेश के प्रधानमंत्रियों के बीच एक शिखर बैठक का आयोजन निम्न में से किस महीने में प्रस्तावित है?

- | | |
|---|--|
| 01. December, 2020
दिसंबर, 2020 | 02. November, 2020
नवंबर, 2020 |
| 03. January 3, 2021
जनवरी, 2021 | 04. February, 2021
फरवरी, 2021 |
| 05. None of these
इनमें से कोई नहीं | |

Solution for Question 85

Ans Key: 1

eng/eng A summit meeting between the Prime Ministers of India and Bangladesh is proposed in December 2020.
भारत और बांग्लादेश के प्रधानमंत्रियों के बीच एक शिखर बैठक का आयोजन दिसंबर, 2020 में प्रस्तावित है.

eng hin A summit meeting between the Prime Ministers of India and Bangladesh is proposed in December 2020.
भारत और बांग्लादेश के प्रधानमंत्रियों के बीच एक शिखर बैठक का आयोजन दिसंबर, 2020 में प्रस्तावित है.

Q-86 eng/eng	India organized a webinar with which country, on 25 September 2020, with the theme of cooperation for Indian Defense Industry Global Partnership? भारत ने 25 सितंबर, 2020 को किस देश के साथ एक वेबिनार का आयोजन किया, जिसकी विषयवस्तु भारतीय रक्षा उद्योग वैश्विक साझेदारी के लिए सहयोग विषयवस्तु के साथ ?
	<div>01. Vietnam विएतनाम</div> <div>02. Cambodia कम्बोडिया</div> <div>03. South Africa दक्षिण अफ्रीका</div> <div>04. Canada कनाडा</div> <div>05. Uganda युगांडा</div>
Q-86 eng hin	India organized a webinar with which country, on 25 September 2020, with the theme of cooperation for Indian Defense Industry Global Partnership? भारत ने 25 सितंबर, 2020 को किस देश के साथ एक वेबिनार का आयोजन किया, जिसकी विषयवस्तु भारतीय रक्षा उद्योग वैश्विक साझेदारी के लिए सहयोग विषयवस्तु के साथ ?
	<div>01. Vietnam विएतनाम</div> <div>02. Cambodia कम्बोडिया</div> <div>03. South Africa दक्षिण अफ्रीका</div> <div>04. Canada कनाडा</div> <div>05. Uganda युगांडा</div>

Solution for Question 86		Ans Key: 2
eng/eng	India organized a webinar with Cambodia on 25 September 2020. The webinar theme was cooperation for Indian defense industry global partnership. भारत ने 25 सितंबर, 2020 को कम्बोडिया के साथ एक वेबिनार का आयोजन किया. वेबिनार विषयवस्तु भारतीय रक्षा उद्योग वैश्विक साझेदारी के लिए सहयोग थी.	
eng hin	India organized a webinar with Cambodia on 25 September 2020. The webinar theme was cooperation for Indian defense industry global partnership. भारत ने 25 सितंबर, 2020 को कम्बोडिया के साथ एक वेबिनार का आयोजन किया. वेबिनार विषयवस्तु भारतीय रक्षा उद्योग वैश्विक साझेदारी के लिए सहयोग थी.	

Q-87 eng/eng	Who among the following has become the first South Asian woman to be elected to the New York State Legislative Assembly? निम्न में से कौन न्यूयार्क राज्य विधान सभा के लिए चुनी जाने वाली पहली दक्षिण एशियाई महिला बन गयी हैं?
	<div>01. Giovanni Perna जियोवानी पेरना</div> <div>02. Jennifer Rajkumar जेनिफर राजकुमार</div> <div>03. Svetlana स्वेटलाना</div> <div>04. Meera Nair मीरा नायर</div> <div>05. Sophia DeSilva सोफिया डिसिल्वा</div>
Q-87 eng hin	Who among the following has become the first South Asian woman to be elected to the New York State Legislative Assembly? निम्न में से कौन न्यूयार्क राज्य विधान सभा के लिए चुनी जाने वाली पहली दक्षिण एशियाई महिला बन गयी हैं?
	<div>01. Giovanni Perna जियोवानी पेरना</div> <div>02. Jennifer Rajkumar जेनिफर राजकुमार</div> <div>03. Svetlana स्वेटलाना</div> <div>04. Meera Nair मीरा नायर</div> <div>05. Sophia DeSilva सोफिया डिसिल्वा</div>

Solution for Question 87		Ans Key: 2
eng/eng	38-year-old Indian-American journalist Jennifer Rajkumar has become the first South Asian woman to be elected to the New York State Legislative Assembly. 38 वर्षीय भारतीय- अमेरिकी पत्रकार जेनिफर राजकुमार न्यूयार्क राज्य विधान सभा के लिए चुनी जाने वाली पहली दक्षिण एशियाई महिला बन गयी हैं.	
eng hin	38-year-old Indian-American journalist Jennifer Rajkumar has become the first South Asian woman to be elected to the New York State Legislative Assembly. 38 वर्षीय भारतीय- अमेरिकी पत्रकार जेनिफर राजकुमार न्यूयार्क राज्य विधान सभा के लिए चुनी जाने वाली पहली दक्षिण एशियाई महिला बन गयी हैं.	

Q-88 eng/eng	'Ashish Kakkar' who died recently is related to which of the following fields? 'आशीष कक्कर' जिनका हाल ही में निधन हो गया निम्न में से किस क्षेत्र से सम्बंधित हैं?
	<div>01. Film direction फिल्म निर्देशन</div> <div>02. Cricket Coach क्रिकेट कोच</div> <div>03. Financial Sector वित्तीय क्षेत्र</div> <div>04. Environment पर्यावरण</div>

05. Social service
समाज सेवा

Q-88 'Ashish Kakkar' who died recently is related to which of the following fields?
eng hin 'आशीष कक्कर' जिनका हाल ही में निधन हो गया निम्न में से किस क्षेत्र से सम्बंधित हैं?

- | | |
|---|----------------------------------|
| 01. Film direction
फिल्म निर्देशन | 02. Cricket Coach
क्रिकेट कोच |
| 03. Financial Sector
वित्तीय क्षेत्र | 04. Environment
पर्यावरण |
| 05. Social service
समाज सेवा | |

Solution for Question 88

Ans Key: 1

eng/eng Ashish Kakkar, who passed away recently, directed films like 'Better Half' and 'Mission Mami'.
'आशीष कक्कर' जिनका हाल ही में निधन हो गया, ने 'बेटर हाफ' और 'मिशन ममी' जैसी फिल्मों का निर्देशन किया.

eng hin Ashish Kakkar, who passed away recently, directed films like 'Better Half' and 'Mission Mami'.
'आशीष कक्कर' जिनका हाल ही में निधन हो गया, ने 'बेटर हाफ' और 'मिशन ममी' जैसी फिल्मों का निर्देशन किया.

Q-89 Duterte Pacheco of Portugal was elected the President of which of the following institution?
eng/eng पुर्तगाल के दुतेर्ते पचेको निम्न में से किस संस्था के अध्यक्ष चुने गए?

- | | |
|---|--|
| 01. World Bank
विश्व बैंक | 02. FIFA
फीफा |
| 03. Asian Development Bank
एशियाई विकास बैंक | 04. Inter-Parliamentary Union
अंतर संसदीय संघ |
| 05. ICC
आइ.सी.सी. | |

Q-89 Duterte Pacheco of Portugal was elected the President of which of the following institution?
eng hin पुर्तगाल के दुतेर्ते पचेको निम्न में से किस संस्था के अध्यक्ष चुने गए?

- | | |
|---|--|
| 01. World Bank
विश्व बैंक | 02. FIFA
फीफा |
| 03. Asian Development Bank
एशियाई विकास बैंक | 04. Inter-Parliamentary Union
अंतर संसदीय संघ |
| 05. ICC
आइ.सी.सी. | |

Solution for Question 89

Ans Key: 4

eng/eng Duterte Pacheco of Portugal has been elected as the President of the Inter-Parliamentary Union.
पुर्तगाल के दुतेर्ते पचेको को अंतर संसदीय संघ का अध्यक्ष चुना गया है.

eng hin Duterte Pacheco of Portugal has been elected as the President of the Inter-Parliamentary Union.
पुर्तगाल के दुतेर्ते पचेको को अंतर संसदीय संघ का अध्यक्ष चुना गया है.

Q-90 Which of the following company will be the new apparel sponsor of the Indian cricket team in place of Nike?
eng/eng निम्न में से कौन सी कंपनी नाइकी के स्थान पर भारतीय क्रिकेट टीम की नयी परिधान प्रायोजक होगी?

- | | |
|----------------------------------|--------------------------------|
| 01. Dream 11
ड्रीम11 | 02. MPL
एमपीएल |
| 03. Ashok Leyland
अशोक लीलैंड | 04. Tata Motors
टाटा मोटर्स |
| 05. Pepsi
पेप्सी | |

Q-90 Which of the following company will be the new apparel sponsor of the Indian cricket team in place of Nike?
eng hin निम्न में से कौन सी कंपनी नाइकी के स्थान पर भारतीय क्रिकेट टीम की नयी परिधान प्रायोजक होगी?

- | | |
|----------------------------------|--------------------------------|
| 01. Dream 11
ड्रीम11 | 02. MPL
एमपीएल |
| 03. Ashok Leyland
अशोक लीलैंड | 04. Tata Motors
टाटा मोटर्स |
| 05. Pepsi
पेप्सी | |

Solution for Question 90

Ans Key: 2

eng/eng	The MPL company will be the new apparel sponsor of the Indian cricket team in place of Nike. एमपीएल कंपनी नाइकी के स्थान पर भारतीय क्रिकेट टीम की नयी परिधान प्रायोजक होगी.
eng hin	The MPL company will be the new apparel sponsor of the Indian cricket team in place of Nike. एमपीएल कंपनी नाइकी के स्थान पर भारतीय क्रिकेट टीम की नयी परिधान प्रायोजक होगी.

Q-91 Who is the author of the book "Pandemonium: The Great Indian Banking Tragedy" released on 9 November?
eng/eng "पेंडैमोनियम:द ग्रेट इंडियन बैंकिंग ट्रेजडी" पुस्तक जिसका विमोचन 9 नवंबर को किया गया के लेखक कौन हैं?

- | | |
|--------------------------------------|--|
| 01. Raghuram Rajan
रघुराम राजन | 02. Tamal Bandopadhyay
तमाल बंदोपाध्याय |
| 03. Shaktikanta Das
शक्तिकांत दास | 04. Chetan Bhagat
चेतन भगत |
| 05. Manmohan Singh
मनमोहन सिंह | |

Q-91 Who is the author of the book "Pandemonium: The Great Indian Banking Tragedy" released on 9 November?
eng hin "पेंडैमोनियम:द ग्रेट इंडियन बैंकिंग ट्रेजडी" पुस्तक जिसका विमोचन 9 नवंबर को किया गया के लेखक कौन हैं?

- | | |
|--------------------------------------|--|
| 01. Raghuram Rajan
रघुराम राजन | 02. Tamal Bandopadhyay
तमाल बंदोपाध्याय |
| 03. Shaktikanta Das
शक्तिकांत दास | 04. Chetan Bhagat
चेतन भगत |
| 05. Manmohan Singh
मनमोहन सिंह | |

Solution for Question 91 Ans Key: 2

eng/eng Tamal Bandopadhyay is the author of the book "Pandemonium: The Great Indian Banking Tragedy" which will be released on 9 November.
"पेंडैमोनियम:द ग्रेट इंडियन बैंकिंग ट्रेजडी" पुस्तक जिसका विमोचन 9 नवंबर को किया जाएगा के लेखक तमाल बंदोपाध्याय हैं.

eng hin Tamal Bandopadhyay is the author of the book "Pandemonium: The Great Indian Banking Tragedy" which will be released on 9 November.
"पेंडैमोनियम:द ग्रेट इंडियन बैंकिंग ट्रेजडी" पुस्तक जिसका विमोचन 9 नवंबर को किया जाएगा के लेखक तमाल बंदोपाध्याय हैं.

Q-92 An improved version of the indigenously developed ----- rocket system was successfully tested from the Integrated Test Range at Chandipur in November 2020 by the Defense Research and Development Organization.
eng/eng नवंबर,2020 में रक्षा अनुसंधान एवं विकास संगठन द्वारा स्वदेशी रूप से विकसित -----राकेट प्रणाली के उन्नत संस्करण का चांदीपुर के एकीकृत परीक्षण रेंज से सफलतापूर्वक परीक्षण किया गया।

- | | |
|----------------------|-------------------------|
| 01. Pinaka
पिनाका | 02. BrahMos
ब्रह्मोस |
| 03. Agni
अग्नि | 04. Earth
पृथ्वी |
| 05. Snake
नाग | |

Q-92 An improved version of the indigenously developed ----- rocket system was successfully tested from the Integrated Test Range at Chandipur in November 2020 by the Defense Research and Development Organization.
eng hin नवंबर,2020 में रक्षा अनुसंधान एवं विकास संगठन द्वारा स्वदेशी रूप से विकसित -----राकेट प्रणाली के उन्नत संस्करण का चांदीपुर के एकीकृत परीक्षण रेंज से सफलतापूर्वक परीक्षण किया गया।

- | | |
|----------------------|-------------------------|
| 01. Pinaka
पिनाका | 02. BrahMos
ब्रह्मोस |
| 03. Agni
अग्नि | 04. Earth
पृथ्वी |
| 05. Snake
नाग | |

Solution for Question 92 Ans Key: 1

eng/eng an improved version of the indigenously developed Pinaka rocket system was successfully tested from the Integrated Test Range of Chandipur, Odisha In November 2020 by Defense Research and Development Organization.
नवंबर, 2020 में रक्षा अनुसंधान एवं विकास संगठन द्वारा स्वदेशी रूप से विकसित पिनाका राकेट प्रणाली के उन्नत संस्करण का चांदीपुर,ओडिशा के एकीकृत परीक्षण रेंज से सफलतापूर्वक परीक्षण किया गया.

eng hin an improved version of the indigenously developed Pinaka rocket system was successfully tested from the Integrated Test Range of Chandipur, Odisha In November 2020 by Defense Research and Development Organization.
नवंबर, 2020 में रक्षा अनुसंधान एवं विकास संगठन द्वारा स्वदेशी रूप से विकसित पिनाका राकेट प्रणाली के उन्नत संस्करण का चांदीपुर,ओडिशा के एकीकृत परीक्षण रेंज से सफलतापूर्वक परीक्षण किया गया.

Q-93 Which of the following Indian Institute of Technology has done 'IIT-M Covid Game'?
eng/eng निम्न में से किस भारतीय प्रौद्योगिकी संस्थान के द्वारा 'आईआईटी-एम कोविड गेम' किया गया है?

- | | |
|--|---|
| 01. Indian Institute of Technology Mumbai
भारतीय प्रौद्योगिकी संस्थान मुंबई | 02. Indian Institute of Technology Market
भारतीय प्रौद्योगिकी संस्थान मंडी |
| 03. Indian Institute of Technology Madras
भारतीय प्रौद्योगिकी संस्थान मद्रास | 04. Indian Institute of Technology Delhi
भारतीय प्रौद्योगिकी संस्थान दिल्ली |
| 05. Indian Institute of Technology Indore
भारतीय प्रौद्योगिकी संस्थान इंदौर | |

Q-93 Which of the following Indian Institute of Technology has done 'IIT-M Covid Game'?
eng hin निम्न में से किस भारतीय प्रौद्योगिकी संस्थान के द्वारा 'आईआईटी-एम कोविड गेम' किया गया है?

- | | |
|--|---|
| 01. Indian Institute of Technology Mumbai
भारतीय प्रौद्योगिकी संस्थान मुंबई | 02. Indian Institute of Technology Market
भारतीय प्रौद्योगिकी संस्थान मंडी |
| 03. Indian Institute of Technology Madras
भारतीय प्रौद्योगिकी संस्थान मद्रास | 04. Indian Institute of Technology Delhi
भारतीय प्रौद्योगिकी संस्थान दिल्ली |
| 05. Indian Institute of Technology Indore
भारतीय प्रौद्योगिकी संस्थान इंदौर | |

Solution for Question 93 Ans Key: 3

eng/eng	IIT-M Covid Game has been done by the students of Indian Institute of Technology Madras. It is a browser based game. भारतीय प्रौद्योगिकी संस्थान मद्रास के छात्रों के द्वारा आईआईटी-एम कोविड गेम' किया गया है. यह ब्राउज़र आधारित गेम है.
eng hin	IIT-M Covid Game has been done by the students of Indian Institute of Technology Madras. It is a browser based game. भारतीय प्रौद्योगिकी संस्थान मद्रास के छात्रों के द्वारा आईआईटी-एम कोविड गेम' किया गया है. यह ब्राउज़र आधारित गेम है.

Q-94 'Airports Authority of India headquarters' is located at which of the following places?
eng/eng 'भारतीय विमान पत्तन प्राधिकरण का मुख्यालय' निम्न में से किस स्थान पर स्थित है?

- | | |
|-----------------------------------|-------------------------------|
| 01. New Delhi
नई दिल्ली | 02. Kolkata
कोलकाता |
| 03. Mumbai
मुंबई | 04. Chennai
चेन्नई |
| 05. Guwahati
गुवाहाटी | |

Q-94 'Airports Authority of India headquarters' is located at which of the following places?
eng hin 'भारतीय विमान पत्तन प्राधिकरण का मुख्यालय' निम्न में से किस स्थान पर स्थित है?

- | | |
|-----------------------------------|-------------------------------|
| 01. New Delhi
नई दिल्ली | 02. Kolkata
कोलकाता |
| 03. Mumbai
मुंबई | 04. Chennai
चेन्नई |
| 05. Guwahati
गुवाहाटी | |

Solution for Question 94 Ans Key: 1

eng/eng	'Airports Authority of India headquarters' is located in New Delhi. 'भारतीय विमान पत्तन प्राधिकरण का मुख्यालय' नई दिल्ली में स्थित है.
eng hin	'Airports Authority of India headquarters' is located in New Delhi. 'भारतीय विमान पत्तन प्राधिकरण का मुख्यालय' नई दिल्ली में स्थित है.

Q-95 Where is the headquarters of Asia's safest bank 'DBS Bank' located?
eng/hin एशिया के सबसे सुरक्षित बैंक 'डीबीएस बैंक' का मुख्यालय कहाँ पर स्थित है?

- | | |
|----------------------------------|------------------------------|
| 01. Mumbai
मुंबई | 02. Chennai
चेन्नई |
| 03. Kolkata
कोलकाता | 04. Shanghai
शंघाई |
| 05. Singapore
सिंगापुर | |

Q-95 Where is the headquarters of Asia's safest bank 'DBS Bank' located?
eng hin एशिया के सबसे सुरक्षित बैंक 'डीबीएस बैंक' का मुख्यालय कहाँ पर स्थित है?

01. Mumbai
मुंबई
03. Kolkata
कोलकाता
05. Singapore
सिंगापुर

02. Chennai
चेन्नई
04. Shanghai
शंघाई

Solution for Question 95

Ans Key: 5

eng/eng	DBS Bank, Asia's safest bank, is headquartered in Singapore, headed by Peter Seah. एशिया के सबसे सुरक्षित बैंक 'डीबीएस बैंक' का मुख्यालय सिंगापुर में स्थित है जिसके चेयरमैन पीटर सीह हैं.
eng hin	DBS Bank, Asia's safest bank, is headquartered in Singapore, headed by Peter Seah. एशिया के सबसे सुरक्षित बैंक 'डीबीएस बैंक' का मुख्यालय सिंगापुर में स्थित है जिसके चेयरमैन पीटर सीह हैं.

Q-96 'Rupasi Airport', which started its commercial operation from January 2021, is located in which of the following states?
जनवरी, 2021 से अपना वाणिज्यिक संचालन शुरू करने वाला 'रूपसी हवाई अड्डा' निम्न में से किस राज्य में स्थित है?

- | | |
|-----------------------------------|-------------------------|
| 01. Assam
असम | 02. Meghalaya
मेघालय |
| 03. Mizoram
मिजोरम | 04. Kerala
केरल |
| 05. Madhya Pradesh
मध्य प्रदेश | |

Q-96 'Rupasi Airport', which started its commercial operation from January 2021, is located in which of the following states?
जनवरी, 2021 से अपना वाणिज्यिक संचालन शुरू करने वाला 'रूपसी हवाई अड्डा' निम्न में से किस राज्य में स्थित है?

- | | |
|-----------------------------------|-------------------------|
| 01. Assam
असम | 02. Meghalaya
मेघालय |
| 03. Mizoram
मिजोरम | 04. Kerala
केरल |
| 05. Madhya Pradesh
मध्य प्रदेश | |

Solution for Question 96

Ans Key: 1

eng/eng	'Rupasi Airport', which started its commercial operation from January 2021, is located in Kokrajhar district of Assam. जनवरी, 2021 से अपना वाणिज्यिक संचालन शुरू करने वाला 'रूपसी हवाई अड्डा' असम के कोकराझार जिले में स्थित है.
eng hin	'Rupasi Airport', which started its commercial operation from January 2021, is located in Kokrajhar district of Assam. जनवरी, 2021 से अपना वाणिज्यिक संचालन शुरू करने वाला 'रूपसी हवाई अड्डा' असम के कोकराझार जिले में स्थित है.

Q-97 'India's first mini train run by solar energy' was run at which of the following places?
'सौर ऊर्जा से चलने वाली भारत की पहली मिनी ट्रेन' निम्न में से किस स्थान पर चलायी गयी?

- | | |
|---|---------------------------|
| 01. Shimla
शिमला | 02. Siliguri
सिलीगुड़ी |
| 03. Guwahati
गुवाहाटी | 04. Chandigarh
चंडीगढ़ |
| 05. Velli Tourist Village,
वेल्ली टूरिस्ट विलेज, | |

Q-97 'India's first mini train run by solar energy' was run at which of the following places?
'सौर ऊर्जा से चलने वाली भारत की पहली मिनी ट्रेन' निम्न में से किस स्थान पर चलायी गयी?

- | | |
|---|---------------------------|
| 01. Shimla
शिमला | 02. Siliguri
सिलीगुड़ी |
| 03. Guwahati
गुवाहाटी | 04. Chandigarh
चंडीगढ़ |
| 05. Velli Tourist Village,
वेल्ली टूरिस्ट विलेज, | |

Solution for Question 97

Ans Key: 5

eng/eng	'India's first mini train run by solar power' was inaugurated by 'Kerala Chief Minister Pinarayi Vijayan' in 'Velli Tourist Village'. सौर ऊर्जा से चलने वाली भारत की पहली मिनी ट्रेन का उद्घाटन 'केरल के मुख्यमंत्री पिनाराई विजयन' ने 'वेल्ली टूरिस्ट विलेज' में किया।
eng hin	'India's first mini train run by solar power' was inaugurated by 'Kerala Chief Minister Pinarayi Vijayan' in 'Velli Tourist Village'. सौर ऊर्जा से चलने वाली भारत की पहली मिनी ट्रेन का उद्घाटन 'केरल के मुख्यमंत्री पिनाराई विजयन' ने 'वेल्ली टूरिस्ट विलेज' में किया।

Q-98 On which date is 'World Fisheries Day' celebrated every year?
eng/eng 'वर्ल्ड फिशरीज डे' प्रत्येक वर्ष किस तिथि को मनाया जाता है?

01. 1 October
1 अक्टूबर

03. 20 November
20 नवंबर

05. 17 December
02. 15 October
15 अक्टूबर

04. 21 November
21 नवंबर

Q-98 On which date is 'World Fisheries Day' celebrated every year?
eng/hin 'वर्ल्ड फिशरीज डे' प्रत्येक वर्ष किस तिथि को मनाया जाता है?

01. 1 October
1 अक्टूबर

03. 20 November
20 नवंबर

05. 17 December
02. 15 October
15 अक्टूबर

04. 21 November
21 नवंबर

Solution for Question 98 Ans Key: 4

eng/eng 'World Fisheries Day' is celebrated on 21 November every year.
'वर्ल्ड फिशरीज डे' प्रत्येक वर्ष 21 नवंबर को मनाया जाता है.

eng/hin 'World Fisheries Day' is celebrated on 21 November every year.
'वर्ल्ड फिशरीज डे' प्रत्येक वर्ष 21 नवंबर को मनाया जाता है.

Q-99 Which of the following National Park has been declared a UNESCO Biosphere Reserve in November 2020?
eng/eng निम्न में से किस राष्ट्रीय उद्यान को नवंबर,2020 में यूनेस्को बायोस्फियर रिज़र्व घोषित किया गया है?

01. Corbett National Park
कार्बेट राष्ट्रीय उद्यान

03. Dudhwa National Park
दुधवा राष्ट्रीय उद्यान

05. Panna National Park
पन्ना राष्ट्रीय उद्यान
02. Kanha National Park
कान्हा राष्ट्रीय उद्यान

04. Rajaji National Park
राजाजी राष्ट्रीय उद्यान

Q-99 Which of the following National Park has been declared a UNESCO Biosphere Reserve in November 2020?
eng/hin निम्न में से किस राष्ट्रीय उद्यान को नवंबर,2020 में यूनेस्को बायोस्फियर रिज़र्व घोषित किया गया है?

01. Corbett National Park
कार्बेट राष्ट्रीय उद्यान

03. Dudhwa National Park
दुधवा राष्ट्रीय उद्यान

05. Panna National Park
पन्ना राष्ट्रीय उद्यान
02. Kanha National Park
कान्हा राष्ट्रीय उद्यान

04. Rajaji National Park
राजाजी राष्ट्रीय उद्यान

Solution for Question 99 Ans Key: 5

eng/eng Panna National Park in Madhya Pradesh has been declared a UNESCO Biosphere Reserve in November 2020.
मध्य प्रदेश के पन्ना राष्ट्रीय उद्यान को नवंबर,2020 में यूनेस्को बायोस्फियर रिज़र्व घोषित किया गया है.

eng/hin Panna National Park in Madhya Pradesh has been declared a UNESCO Biosphere Reserve in November 2020.
मध्य प्रदेश के पन्ना राष्ट्रीय उद्यान को नवंबर,2020 में यूनेस्को बायोस्फियर रिज़र्व घोषित किया गया है.

Q-100 The capital of which of the following countries is Banjul, and the currency is Galasi?
eng/eng निम्न में से किस देश की राजधानी बांजुल,और मुद्रा गलासी है?

01. Hungary
हंगरी

03. Burundi
बुरुंडी

05. Gabon
गैबोन
02. Guyana
गुयाना

04. Gambia
गैम्बिया

Q-100 The capital of which of the following countries is Banjul, and the currency is Galasi?
eng/hin निम्न में से किस देश की राजधानी बांजुल,और मुद्रा गलासी है?

- | | |
|------------------------|------------------------|
| 01. Hungary
हंगरी | 02. Guyana
गुयाना |
| 03. Burundi
बुरुंडी | 04. Gambia
गैम्बिया |
| 05. Gabon
गैबोन | |

Solution for Question 100

Ans Key: 4

eng/eng The capital of Gambia - 'Banjul', and the currency - 'Gambian Galasi'.
गैम्बिया की राजधानी-'बांजुल',और मुद्रा-'गैम्बियन गलासी' है.

eng hin The capital of Gambia - 'Banjul', and the currency - 'Gambian Galasi'.
गैम्बिया की राजधानी-'बांजुल',और मुद्रा-'गैम्बियन गलासी' है.

Q-101 Which of the following country's capital is 'Sophia'?
eng/eng निम्न में से किस देश की राजधानी 'सोफिया' है?

- | | |
|--------------------------|----------------------------|
| 01. Haiti
हैती | 02. Bulgaria
बुल्गारिया |
| 03. Cyprus
साइप्रस | 04. Sweden
स्वीडन |
| 05. Austria
आस्ट्रिया | |

Q-101 Which of the following country's capital is 'Sophia'?
eng hin निम्न में से किस देश की राजधानी 'सोफिया' है?

- | | |
|--------------------------|----------------------------|
| 01. Haiti
हैती | 02. Bulgaria
बुल्गारिया |
| 03. Cyprus
साइप्रस | 04. Sweden
स्वीडन |
| 05. Austria
आस्ट्रिया | |

Solution for Question 101

Ans Key: 2

eng/eng The capital of Bulgaria is 'Sophia'.
बुल्गारिया की राजधानी 'सोफिया' है.

eng hin The capital of Bulgaria is 'Sophia'.
बुल्गारिया की राजधानी 'सोफिया' है.

Q-102 Somasila Dam is situated on which of the following rivers?
eng/eng सोमासिला बांध निम्न में से किस नदी पर स्थित है.

- | | |
|---------------------------------|-----------------------------------|
| 01. Pennar River
पेन्नार नदी | 02. Godavari River
गोदावरी नदी |
| 03. Krishna River
कृष्णा नदी | 04. Yamuna River
यमुना नदी |
| 05. Mahanadi
महानदी | |

Q-102 Somasila Dam is situated on which of the following rivers?
eng hin सोमासिला बांध निम्न में से किस नदी पर स्थित है.

- | | |
|---------------------------------|-----------------------------------|
| 01. Pennar River
पेन्नार नदी | 02. Godavari River
गोदावरी नदी |
| 03. Krishna River
कृष्णा नदी | 04. Yamuna River
यमुना नदी |
| 05. Mahanadi
महानदी | |

Solution for Question 102

Ans Key: 1

eng/eng 'Somasila Dam' is situated on the Pennar River in the state of Andhra Pradesh.
'सोमासिला बांध' आंध्रप्रदेश राज्य में पेन्नार नदी पर स्थित है.

eng hin 'Somasila Dam' is situated on the Pennar River in the state of Andhra Pradesh.
'सोमासिला बांध' आंध्रप्रदेश राज्य में पेन्नार नदी पर स्थित है.

Q-103 Who is the current Hydropower Minister of India?
eng/eng भारत के निवर्तमान जल शक्ति मंत्री कौन हैं?

01. Rajkumar Singh
राजकुमार सिंह

02. Amit Shah
अमित शाह

03. Gajendra Singh Shekhawat
गजेंद्र सिंह शेखावत

04. PL Punia
पी.एल.पुनिया

05. Kiran Rijju
किरण रिज्जु

Q-103 Who is the current Hydropower Minister of India?
eng hin भारत के निवर्तमान जल शक्ति मंत्री कौन हैं?

01. Rajkumar Singh
राजकुमार सिंह

02. Amit Shah
अमित शाह

03. Gajendra Singh Shekhawat
गजेंद्र सिंह शेखावत

04. PL Punia
पी.एल.पुनिया

05. Kiran Rijju
किरण रिज्जु

Solution for Question 103 Ans Key: 3

eng/eng	The outgoing hydro-power minister of India is Gajendra Singh Shekhawat. भारत के निवर्तमान जल शक्ति मंत्री गजेंद्र सिंह शेखावत हैं.
eng hin	The outgoing hydro-power minister of India is Gajendra Singh Shekhawat. भारत के निवर्तमान जल शक्ति मंत्री गजेंद्र सिंह शेखावत हैं.

Q-104 Which of the following is not the one to win the Gramodaya Bandhu Mitra Award announced on August 14, 2020, on the occasion of 150th birth anniversary of Mahatma Gandhi?
eng/eng महात्मा गाँधी की 150 वीं जयंती के अवसर पर 14 अगस्त, 2020 को घोषित किये गए ग्रामोदय बंधू मित्र पुरस्कार जीतने वाला निम्न में से कौन नहीं है?

01. Padma Bhushan Vijay Bhatkar
पद्म भूषण विजय भाटकर

02. Kosam Rajamouli
कोसम राजामौली

03. Shivkumar Surampudi
शिवकुमार सुरमपुदी

04. Sudha Murthy
सुधा मूर्ति

05. Dr. Ami Bera
डॉ. अमी बेरा

Q-104 Which of the following is not the one to win the Gramodaya Bandhu Mitra Award announced on August 14, 2020, on the occasion of 150th birth anniversary of Mahatma Gandhi?
eng hin महात्मा गाँधी की 150 वीं जयंती के अवसर पर 14 अगस्त, 2020 को घोषित किये गए ग्रामोदय बंधू मित्र पुरस्कार जीतने वाला निम्न में से कौन नहीं है?

01. Padma Bhushan Vijay Bhatkar
पद्म भूषण विजय भाटकर

02. Kosam Rajamouli
कोसम राजामौली

03. Shivkumar Surampudi
शिवकुमार सुरमपुदी

04. Sudha Murthy
सुधा मूर्ति

05. Dr. Ami Bera
डॉ. अमी बेरा

Solution for Question 104 Ans Key: 5

eng/eng	This award is given for outstanding service rendered by individuals and institutions to provide upliftment to the population dependent on activities for agriculture and allied livelihoods. यह पुरस्कार कृषि और संबद्ध आजीविका के लिए गतिविधियों पर निर्भर आबादी को उत्थान प्रदान करने के लिए व्यक्तियों और संस्थानों द्वारा प्रदान की गई उत्कृष्ट सेवा के लिए दिया जाता है।
eng hin	This award is given for outstanding service rendered by individuals and institutions to provide upliftment to the population dependent on activities for agriculture and allied livelihoods. यह पुरस्कार कृषि और संबद्ध आजीविका के लिए गतिविधियों पर निर्भर आबादी को उत्थान प्रदान करने के लिए व्यक्तियों और संस्थानों द्वारा प्रदान की गई उत्कृष्ट सेवा के लिए दिया जाता है।

Q-105 Which statement is not correct regarding the 62nd Grammy Awards?
eng/eng 62वें ग्रैमी अवार्ड के सम्बन्ध में कौन सा कथन सही नहीं है?

01. Awards Show held in Los Angeles on January 26, 2020
अवॉर्ड्स शो का आयोजन 26 जनवरी 2020 को

02. Hosted the show American Singer and Song Writer Alicia keys
इस शो को अमेरिकन सिंगर और सॉन्ग राइटर ऐलिसिया कीस होस्ट किया

लॉस एंजेलिस में हुआ

03. These awards are given by American Recording Academy
ये अवॉर्ड्स अमेरिकन रिकॉर्डिंग एकाडेमी की तरफ से दिए गए हैं
05. The award for Best Alternative Music has been conferred on 'Lijo-Jerome'.
बेस्ट अल्टरनेटिव म्यूजिक का अवार्ड 'लियो-जेरोम' को प्रदान किया गया है.

04. Best Rock Album Award 'Cage The Elephant - Social Cues'.
बेस्ट रॉक ऐल्बम का अवार्ड 'केज द एलिफेंट- सोशल क्यूज' को प्रदान किया गया है.

Q-105 Which statement is not correct regarding the 62nd Grammy Awards?
eng hin 62वें ग्रैमी अवार्ड के सम्बन्ध में कौन सा कथन सही नहीं है?

01. Awards Show held in Los Angeles on January 26, 2020
अवॉर्ड्स शो का आयोजन 26 जनवरी 2020 को लॉस एंजेलिस में हुआ
02. Hosted the show American Singer and Song Writer Alicia Keys
इस शो को अमेरिकन सिंगर और सॉन्ग राइटर ऐलिसिया कीस होस्ट किया
03. These awards are given by American Recording Academy
ये अवॉर्ड्स अमेरिकन रिकॉर्डिंग एकाडेमी की तरफ से दिए गए हैं
04. Best Rock Album Award 'Cage The Elephant - Social Cues'.
बेस्ट रॉक ऐल्बम का अवार्ड 'केज द एलिफेंट- सोशल क्यूज' को प्रदान किया गया है.
05. The award for Best Alternative Music has been conferred on 'Lijo-Jerome'.
बेस्ट अल्टरनेटिव म्यूजिक का अवार्ड 'लियो-जेरोम' को प्रदान किया गया है.

Solution for Question 105

Ans Key: 5

eng/eng 'Anderson' Award for Best Alternative Music under 62nd Grammy Award. Pak Featuring Andre 3000 - Come Home 'has been provided. 'Lijo-Jerome' has been awarded the Best Traditional R&B Album Award.
62वें ग्रैमी अवार्ड के अंतर्गत बेस्ट अल्टरनेटिव म्यूजिक का अवार्ड 'एंडरसन. पाक फीचरिंग ऐंड्रे 3000- कम होम' को प्रदान किया गया है. 'लियो- जेरोम' को बेस्ट ट्रिडिशनल आरएंडबी ऐल्बम अवार्ड प्रदान किया गया है.

eng hin 'Anderson' Award for Best Alternative Music under 62nd Grammy Award. Pak Featuring Andre 3000 - Come Home 'has been provided. 'Lijo-Jerome' has been awarded the Best Traditional R&B Album Award.
62वें ग्रैमी अवार्ड के अंतर्गत बेस्ट अल्टरनेटिव म्यूजिक का अवार्ड 'एंडरसन. पाक फीचरिंग ऐंड्रे 3000- कम होम' को प्रदान किया गया है. 'लियो- जेरोम' को बेस्ट ट्रिडिशनल आरएंडबी ऐल्बम अवार्ड प्रदान किया गया है.

Q-106 According to the fourth All India Tiger Census Report released on July 29, 2020, which tiger reserve is the highest tiger?
eng/eng 29जुलाई,2020 को जारी की गयी चतुर्थ अखिल भारतीय बाघ गणना रिपोर्ट अनुसार सबसे ज्यादा बाघ किस टाइगर रिज़र्व में हैं ?

01. Jim Corbett Tiger Reserve
जिम कॉर्बेट टाइगर रिज़र्व
02. Kanha Tiger Reserve
कान्हा टाइगर रिज़र्व
03. Panna Tiger Reserve
पन्ना टाइगर रिज़र्व
04. Dudhwa Tiger Reserve
दुधवा टाइगर रिज़र्व
05. None of these
इनमें से कोई नहीं

Q-106 According to the fourth All India Tiger Census Report released on July 29, 2020, which tiger reserve is the highest tiger?
eng hin 29जुलाई,2020 को जारी की गयी चतुर्थ अखिल भारतीय बाघ गणना रिपोर्ट अनुसार सबसे ज्यादा बाघ किस टाइगर रिज़र्व में हैं ?

01. Jim Corbett Tiger Reserve
जिम कॉर्बेट टाइगर रिज़र्व
02. Kanha Tiger Reserve
कान्हा टाइगर रिज़र्व
03. Panna Tiger Reserve
पन्ना टाइगर रिज़र्व
04. Dudhwa Tiger Reserve
दुधवा टाइगर रिज़र्व
05. None of these
इनमें से कोई नहीं

Solution for Question 106

Ans Key: 1

eng/eng According to the Fourth All India Tiger Census Report released on July 29, 2020, the largest tiger is in the Jim Corbett Tiger Reserve..

29जुलाई,2020 को जारी की गयी चतुर्थ अखिल भारतीय बाघ गणना रिपोर्ट
अनुसार सबसे ज्यादा बाघ जिम कॉर्बेट टाइगर रिज़र्व में हैं.

eng hin According to the Fourth All India Tiger Census Report released on July 29, 2020, the largest tiger is in the Jim Corbett Tiger Reserve..

Q-107 Which of the following countries is not a member of SCO?
eng/eng निम्नलिखित में से कौन सा देश शंघाई सहयोग संगठन का सदस्य नहीं है?

- | | |
|------------------------------|-------------------------------|
| 01. China
चीन | 02. Kyrgyzstan
किर्गिस्तान |
| 03. Tajikistan
तजिकिस्तान | 04. India
भारत |
| 05. Sri Lanka
श्रीलंका | |

Q-107 Which of the following countries is not a member of SCO?
eng hin निम्नलिखित में से कौन सा देश शंघाई सहयोग संगठन का सदस्य नहीं है?

- | | |
|------------------------------|-------------------------------|
| 01. China
चीन | 02. Kyrgyzstan
किर्गिस्तान |
| 03. Tajikistan
तजिकिस्तान | 04. India
भारत |
| 05. Sri Lanka
श्रीलंका | |

Solution for Question 107 Ans Key: 5

eng/eng Sri Lanka is not a member of SCO. Sri Lanka has the status of negotiating partner.
 श्रीलंका शंघाई सहयोग संगठन का सदस्य नहीं है. श्रीलंका को वार्ता भागीदार का दर्जा प्राप्त है.

eng hin Sri Lanka is not a member of SCO. Sri Lanka has the status of negotiating partner.
 श्रीलंका शंघाई सहयोग संगठन का सदस्य नहीं है. श्रीलंका को वार्ता भागीदार का दर्जा प्राप्त है.

Q-108 Which of the following cities ranked first among Indian cities included in '100 cities susceptible to water risk of the world', according to the report of Water Risk Filter?
eng/eng निम्न में से कौन सा शहर 'वाटर रिस्क फिल्टर की रिपोर्ट के अनुसार', 'विश्व के जल जोखिम के लिए अतिसंवेदनशील 100 शहरों' में शामिल भारतीय शहरों में प्रथम स्थान पर है?

- | | |
|------------------------|--------------------------|
| 01. Delhi
दिल्ली | 02. Ludhiana
लुधियाना |
| 03. Jaipur
जयपुर | 04. Indore
इंदौर |
| 05. Amritsar
अमृतसर | |

Q-108 Which of the following cities ranked first among Indian cities included in '100 cities susceptible to water risk of the world', according to the report of Water Risk Filter?
eng hin निम्न में से कौन सा शहर 'वाटर रिस्क फिल्टर की रिपोर्ट के अनुसार', 'विश्व के जल जोखिम के लिए अतिसंवेदनशील 100 शहरों' में शामिल भारतीय शहरों में प्रथम स्थान पर है?

- | | |
|------------------------|--------------------------|
| 01. Delhi
दिल्ली | 02. Ludhiana
लुधियाना |
| 03. Jaipur
जयपुर | 04. Indore
इंदौर |
| 05. Amritsar
अमृतसर | |

Solution for Question 108 Ans Key: 3

eng/eng According to Water Risk Filter Report Jaipur ranks first among Indian cities among 100 cities most susceptible to water risk in the world.
 वाटर रिस्क फिल्टर की रिपोर्ट के अनुसार विश्व के जल जोखिम के लिए अतिसंवेदनशील 100 शहरों में शामिल भारतीय शहरों में जयपुर प्रथम स्थान पर है.

eng hin According to Water Risk Filter Report Jaipur ranks first among Indian cities among 100 cities most susceptible to water risk in the world.
 वाटर रिस्क फिल्टर की रिपोर्ट के अनुसार विश्व के जल जोखिम के लिए अतिसंवेदनशील 100 शहरों में शामिल भारतीय शहरों में जयपुर प्रथम स्थान पर है.

Q-109 By which year, under 'Pradhan Mantri Gramin Awas Yojana', the target is to provide pucca houses to maximum number of families in rural areas?
eng/eng 'प्रधान मंत्री ग्रामीण आवास योजना' के तहत ग्रामीण क्षेत्रों में किस वर्ष तक ज्यादा से ज्यादा परिवारों को पक्का मकान उपलब्ध कराने का लक्ष्य है?

01. July, 2021
जुलाई, 2021

03. Year 2022
वर्ष 2022

05. Year 2024
वर्ष 2024

02. Year 2021
वर्ष 2021

04. Year 2023
वर्ष 2023

Q-109
eng hin

By which year, under 'Pradhan Mantri Gramin Awas Yojana', the target is to provide pucca houses to maximum number of families in rural areas?
'प्रधान मंत्री ग्रामीण आवास योजना' के तहत ग्रामीण क्षेत्रों में किस वर्ष तक ज्यादा से ज्यादा परिवारों को पक्का मकान उपलब्ध कराने का लक्ष्य है?

01. July, 2021
जुलाई, 2021

03. Year 2022
वर्ष 2022

05. Year 2024
वर्ष 2024

02. Year 2021
वर्ष 2021

04. Year 2023
वर्ष 2023

Solution for Question 109

Ans Key: 3

eng/eng

Under the 'Pradhan Mantri Gramin Awas Yojana' by the year 2022, the target is to provide pucca houses to maximum families in rural areas.
वर्ष 2022 तक 'प्रधान मंत्री ग्रामीण आवास योजना' के तहत ग्रामीण क्षेत्रों में ज्यादा से ज्यादा परिवारों को पक्का मकान उपलब्ध कराने का लक्ष्य है।

eng hin

Under the 'Pradhan Mantri Gramin Awas Yojana' by the year 2022, the target is to provide pucca houses to maximum families in rural areas.
वर्ष 2022 तक 'प्रधान मंत्री ग्रामीण आवास योजना' के तहत ग्रामीण क्षेत्रों में ज्यादा से ज्यादा परिवारों को पक्का मकान उपलब्ध कराने का लक्ष्य है।

Q-110

eng/eng

'Pradhan Mantri Kisan Samman Nidhi Yojana' includes those farmers who have ----- land.
'प्रधानमंत्री किसान सम्मान निधि योजना' में वे किसान शामिल हैं जिनके पास ----- भूमि है।

01. 'Less than 2 hectares'
'2 हेक्टेयर से कम'

03. 'Less than 1 hectare'
'1 हेक्टेयर से कम'

05. 1,2,3 all
1,2,3 सभी

02. 'Less than 4 acres'
'4 एकड़ से कम'

04. 'more than 2 hectares'
'2 हेक्टेयर से ज्यादा'

Q-110

eng hin

'Pradhan Mantri Kisan Samman Nidhi Yojana' includes those farmers who have ----- land.
'प्रधानमंत्री किसान सम्मान निधि योजना' में वे किसान शामिल हैं जिनके पास ----- भूमि है।

01. 'Less than 2 hectares'
'2 हेक्टेयर से कम'

03. 'Less than 1 hectare'
'1 हेक्टेयर से कम'

05. 1,2,3 all
1,2,3 सभी

02. 'Less than 4 acres'
'4 एकड़ से कम'

04. 'more than 2 hectares'
'2 हेक्टेयर से ज्यादा'

Solution for Question 110

Ans Key: 5

eng/eng

'Pradhan Mantri Kisan Samman Nidhi Yojana' includes those farmers who have less than 2 hectares (4.9 acres) of land.
'प्रधानमंत्री किसान सम्मान निधि योजना' में वे किसान शामिल हैं जिनके पास 2 हेक्टेयर (4.9 एकड़) से कम भूमि है।

eng hin

'Pradhan Mantri Kisan Samman Nidhi Yojana' includes those farmers who have less than 2 hectares (4.9 acres) of land.
'प्रधानमंत्री किसान सम्मान निधि योजना' में वे किसान शामिल हैं जिनके पास 2 हेक्टेयर (4.9 एकड़) से कम भूमि है।

Q-111

eng/eng

Which of the following types of banking is the provision of issuing notes to all banks and not to the monopoly of the central bank?
नोट जारी करने का एकाधिकार केंद्रीय बैंक के पास न होकर सभी बैंकों को प्राप्त हो यह प्रावधान निम्न में से किस प्रकार की बैंकिंग के अंतर्गत है?

01. Domestic Banking
देशी बैंकिंग

03. shadow banking
प्रतिच्छाया बैंकिंग

05. Free banking
फ्री बैंकिंग

02. Net Banking
नेट बैंकिंग

04. Core Banking
कोर बैंकिंग

Q-111

eng hin

Which of the following types of banking is the provision of issuing notes to all banks and not to the monopoly of the central bank?
नोट जारी करने का एकाधिकार केंद्रीय बैंक के पास न होकर सभी बैंकों को प्राप्त हो यह प्रावधान निम्न में से किस प्रकार की बैंकिंग के अंतर्गत है?

01. Domestic Banking
देशी बैंकिंग

03. shadow banking

02. Net Banking
नेट बैंकिंग

04. Core Banking

05. Free banking
फ्री बैंकिंग

Ans Key: 5

Solution for Question 111

eng/eng	All banks have the right to issue notes in free banking. Under this, the monopoly does not remain with the central bank. फ्री बैंकिंग में नोट जारी करने का अधिकार सभी बैंकों को प्राप्त होता है. इसके अंतर्गत यह एकाधिकार केंद्रीय बैंक के पास नहीं रहता.
eng hin	All banks have the right to issue notes in free banking. Under this, the monopoly does not remain with the central bank. फ्री बैंकिंग में नोट जारी करने का अधिकार सभी बैंकों को प्राप्त होता है. इसके अंतर्गत यह एकाधिकार केंद्रीय बैंक के पास नहीं रहता.

Q-112 Which of the following is equivalent to M4 designated as 'Currency Stock Measurement' in the concepts envisaged by the Reserve Bank of India in India?
रिजर्व बैंक आफ इण्डिया के द्वारा भारत में परिकल्पित अवधारणाओं में 'मुद्रा स्टॉक माप' के रूप में अभिहित M4 निम्न में से किसके समकक्ष है?

eng/eng

- | | |
|--|---|
| <p>01. 'Currency (currency notes and coins) with the public' + 'Demand deposits of banks' + 'Other deposits with the Reserve Bank'
'जनसाधारण के पास करेंसी(करेंसी नोट और सिक्के)' + 'बैंकों की मांग जमा' + 'रिज़र्व बैंक के पास अन्य जमा'</p> <p>03. 'M1 + Term deposits with the banks to the general public'
'M1 + बैंकों के साथ जनसाधारण को सावधि जमा'</p> <p>05. None of these
इनमें से कोई नहीं</p> | <p>02. 'M1 + savings deposit in post offices'
'M1+डाकखानों में बचत जमा'</p> <p>04. 'M3 + Total deposits in some post offices (plus savings deposits) Fixed deposits are also included in post offices'
'M3+कुछ डाकखानों में कुल जमा(बचत जमा अतिरिक्त)डाकखानों में सावधि जमा भी इसमें सम्मिलित है'</p> |
|--|---|

Q-112 Which of the following is equivalent to M4 designated as 'Currency Stock Measurement' in the concepts envisaged by the Reserve Bank of India in India?
रिजर्व बैंक आफ इण्डिया के द्वारा भारत में परिकल्पित अवधारणाओं में 'मुद्रा स्टॉक माप' के रूप में अभिहित M4 निम्न में से किसके समकक्ष है?

eng hin

- | | |
|--|---|
| <p>01. 'Currency (currency notes and coins) with the public' + 'Demand deposits of banks' + 'Other deposits with the Reserve Bank'
'जनसाधारण के पास करेंसी(करेंसी नोट और सिक्के)' + 'बैंकों की मांग जमा' + 'रिज़र्व बैंक के पास अन्य जमा'</p> <p>03. 'M1 + Term deposits with the banks to the general public'
'M1 + बैंकों के साथ जनसाधारण को सावधि जमा'</p> <p>05. None of these
इनमें से कोई नहीं</p> | <p>02. 'M1 + savings deposit in post offices'
'M1+डाकखानों में बचत जमा'</p> <p>04. 'M3 + Total deposits in some post offices (plus savings deposits) Fixed deposits are also included in post offices'
'M3+कुछ डाकखानों में कुल जमा(बचत जमा अतिरिक्त)डाकखानों में सावधि जमा भी इसमें सम्मिलित है'</p> |
|--|---|

Solution for Question 112

Ans Key: 4

eng/eng	M1 = 'Currency (currency notes and coins) with the public' + 'Demand deposits of banks' + 'Other deposits with the Reserve Bank' M2 = 'M1 + Savings Deposit in Post Offices' M3 = 'M1 + Fixed deposits to the general public with banks' M4 = 'M3 + Total deposits in some post offices (plus savings deposits) Fixed deposits are also included in post offices'. M1='जनसाधारण के पास करेंसी(करेंसी नोट और सिक्के)' + 'बैंकों की मांग जमा' + 'रिज़र्व बैंक के पास अन्य जमा' M2='M1+डाकखानों में बचत जमा' M3='M1 + बैंकों के साथ जनसाधारण को सावधि जमा' M4='M3+कुछ डाकखानों में कुल जमा(बचत जमा अतिरिक्त)डाकखानों में सावधि जमा भी इसमें सम्मिलित है'.
---------	---

eng hin	M1 = 'Currency (currency notes and coins) with the public' + 'Demand deposits of banks' + 'Other deposits with the Reserve Bank' M2 = 'M1 + Savings Deposit in Post Offices' M3 = 'M1 + Fixed deposits to the general public with banks' M4 = 'M3 + Total deposits in some post offices (plus savings deposits) Fixed deposits are also included in post offices'. M1='जनसाधारण के पास करेंसी(करेंसी नोट और सिक्के)' + 'बैंकों की मांग जमा' + 'रिज़र्व बैंक के पास अन्य जमा' M2='M1+डाकखानों में बचत जमा' M3='M1 + बैंकों के साथ जनसाधारण को सावधि जमा' M4='M3+कुछ डाकखानों में कुल जमा(बचत जमा अतिरिक्त)डाकखानों में सावधि जमा भी इसमें सम्मिलित है'.
---------	---

Q-113 What is the meaning of bank-currency?
बैंक-मुद्रा से क्या अभिप्राय है?

eng/eng

- | | |
|---|---|
| <p>01. Bank Deposits
बैंक जमाएं</p> <p>03. Bank ATM</p> | <p>02. Bank Cheque
बैंक चेक</p> <p>04. Bank Draft</p> |
|---|---|

बैंक एटीएम

बैंक ड्राफ्ट

05. Bank Challan
बैंक चालान

Q-113 What is the meaning of bank-currency?
eng hin बैंक-मुद्रा से क्या अभिप्राय है?

- | | |
|---------------------------------|--------------------------------|
| 01. Bank Deposits
बैंक जमाएं | 02. Bank Cheque
बैंक चेक |
| 03. Bank ATM
बैंक एटीएम | 04. Bank Draft
बैंक ड्राफ्ट |
| 05. Bank Challan
बैंक चालान | |

Solution for Question 113

Ans Key: 1

eng/eng Bank currency means 'bank deposits'.
बैंक-मुद्रा से अभिप्राय 'बैंक जमाओं' से है.

eng hin Bank currency means 'bank deposits'.
बैंक-मुद्रा से अभिप्राय 'बैंक जमाओं' से है.

Q-114 According to the estimated report 'New India @ 2022 document' released by NITI Aayog, 'By which year India has been imagined to be poverty free'?
eng/eng नीति आयोग द्वारा जारी अनुमानित रिपोर्ट 'न्यू इंडिया @2022 डॉक्यूमेंट' के अनुसार 'भारत के गरीबी मुक्त होने की कल्पना किस वर्ष तक की गयी है'?

- | | |
|-----------------------|-----------------------|
| 01. 2020 AD
2020ई. | 02. 2021 AD
2021ई. |
| 03. 2022 AD
2022ई. | 04. 2023 AD
2023ई. |
| 05. 2024 AD
2024ई. | |

Q-114 According to the estimated report 'New India @ 2022 document' released by NITI Aayog, 'By which year India has been imagined to be poverty free'?
eng hin नीति आयोग द्वारा जारी अनुमानित रिपोर्ट 'न्यू इंडिया @2022 डॉक्यूमेंट' के अनुसार 'भारत के गरीबी मुक्त होने की कल्पना किस वर्ष तक की गयी है'?

- | | |
|-----------------------|-----------------------|
| 01. 2020 AD
2020ई. | 02. 2021 AD
2021ई. |
| 03. 2022 AD
2022ई. | 04. 2023 AD
2023ई. |
| 05. 2024 AD
2024ई. | |

Solution for Question 114

Ans Key: 3

eng/eng According to the estimated report 'New India @ 2022 document' released by NITI Aayog, India has been imagined to be poverty free by the year 2020.
नीति आयोग द्वारा जारी अनुमानित रिपोर्ट 'न्यू इंडिया @2022 डॉक्यूमेंट' के अनुसार भारत के गरीबी मुक्त होने की कल्पना वर्ष 2020ई तक की गयी है.

eng hin According to the estimated report 'New India @ 2022 document' released by NITI Aayog, India has been imagined to be poverty free by the year 2020.
नीति आयोग द्वारा जारी अनुमानित रिपोर्ट 'न्यू इंडिया @2022 डॉक्यूमेंट' के अनुसार भारत के गरीबी मुक्त होने की कल्पना वर्ष 2020ई तक की गयी है.

Q-115 What is the full form of AIRCSC?

eng/eng AIRCSC का फुल फॉर्म क्या है?

- | | |
|---|---|
| 01. All India Rupees Credit Service Committee
आल इंडिया रुपये क्रेडिट सर्विस कमेटी | 02. All India Rural Credit Service Committee
आल इंडिया रूरल क्रेडिट सर्विस कमेटी |
| 03. All India Rural Credit Service Council
आल इंडिया रूरल क्रेडिट सर्विस काउन्सिल | 04. All India Rural Credit Sector Committee
आल इंडिया रूरल क्रेडिट सेक्टर कमेटी |
| 05. All India Rural Credit Service Company
आल इंडिया रूरल क्रेडिट सर्विस कंपनी | |

Q-115 What is the full form of AIRCSC?

eng hin AIRCSC का फुल फॉर्म क्या है?

- | | |
|---|---|
| 01. All India Rupees Credit Service Committee
आल इंडिया रुपये क्रेडिट सर्विस कमेटी | 02. All India Rural Credit Service Committee
आल इंडिया रूरल क्रेडिट सर्विस कमेटी |
| 03. All India Rural Credit Service Council
आल इंडिया रूरल क्रेडिट सर्विस काउन्सिल | 04. All India Rural Credit Sector Committee
आल इंडिया रूरल क्रेडिट सेक्टर कमेटी |
| 05. All India Rural Credit Service Company
आल इंडिया रूरल क्रेडिट सर्विस कंपनी | |

Solution for Question 115

Ans Key: 2

eng/eng	The full form of 'AIRCSC' is 'All India Rural Credit Service Committee'. 'AIRCSC' का फुल फॉर्म 'आल इंडिया रूरल क्रेडिट सर्विस कमेटी' है।
eng hin	The full form of 'AIRCSC' is 'All India Rural Credit Service Committee'. 'AIRCSC' का फुल फॉर्म 'आल इंडिया रूरल क्रेडिट सर्विस कमेटी' है।

Q-116 What is the meaning of R in IBRD?**eng/eng** IBRD में R का क्या अभिप्राय है?

- | | |
|--|-------------------------------|
| 01. Reconstruction
रिकंस्ट्रक्शन | 02. Receipt
रिसिप्ट |
| 03. Repayment
रीपेमेंट | 04. Research
रिसर्च |
| 05. Repository
रिपोजिटरी | |

Q-116 What is the meaning of R in IBRD?**eng hin** IBRD में R का क्या अभिप्राय है?

- | | |
|--|-------------------------------|
| 01. Reconstruction
रिकंस्ट्रक्शन | 02. Receipt
रिसिप्ट |
| 03. Repayment
रीपेमेंट | 04. Research
रिसर्च |
| 05. Repository
रिपोजिटरी | |

Solution for Question 116

Ans Key: 1

eng/eng	IBRD's full form is 'International Bank for Reconstruction and Development'. IBRD का फुल फॉर्म 'इंटरनेशनल बैंक फॉर रिकंस्ट्रक्शन एंड डेवलपमेंट' है।
eng hin	IBRD's full form is 'International Bank for Reconstruction and Development'. IBRD का फुल फॉर्म 'इंटरनेशनल बैंक फॉर रिकंस्ट्रक्शन एंड डेवलपमेंट' है।

Q-117 Who has been appointed as the new Chief Information Commissioner?**eng/eng** नए मुख्य सूचना आयुक्त के रूप में किसे नियुक्त किया गया है?

- | | |
|--|--|
| 01. Yashvardhan Kumar Sinha
यशवर्धन कुमार सिन्हा | 02. Gyanendro Ningmoben
ज्ञानेन्द्रो निंगमोबेन |
| 03. Narwane
नरवाने | 04. Shri Thanedar
श्री थानेदार |
| 05. Ramesh Laxminarayan
रमेश लक्ष्मीनारायण | |

Q-117 Who has been appointed as the new Chief Information Commissioner?**eng hin** नए मुख्य सूचना आयुक्त के रूप में किसे नियुक्त किया गया है?

- | | |
|--|--|
| 01. Yashvardhan Kumar Sinha
यशवर्धन कुमार सिन्हा | 02. Gyanendro Ningmoben
ज्ञानेन्द्रो निंगमोबेन |
| 03. Narwane
नरवाने | 04. Shri Thanedar
श्री थानेदार |
| 05. Ramesh Laxminarayan
रमेश लक्ष्मीनारायण | |

Solution for Question 117

Ans Key: 1

eng/eng	Yashvardhan Kumar Sinha has been appointed as the new Chief Information Commissioner. नए मुख्य सूचना आयुक्त के रूप में यशवर्धन कुमार सिन्हा नियुक्त किया गया है।
eng hin	Yashvardhan Kumar Sinha has been appointed as the new Chief Information Commissioner. नए मुख्य सूचना आयुक्त के रूप में यशवर्धन कुमार सिन्हा नियुक्त किया गया है।

Q-118 Recently which state government has banned the sale and use of firecrackers from November 10 to 30, 2020 under the status of Covid-19?
eng/eng अभी हाल ही किस राज्य सरकार ने कोविड-19 की स्थिति के तहत 10 से 30 नवंबर, 2020 के बीच पटाखों बिक्री और उपयोग पर प्रतिबन्ध लगा दिया है?

- | | |
|----------------------------|---|
| 01. Odisha
ओडिशा | 02. Himachal Pradesh
हिमांचल प्रदेश |
|----------------------------|---|

03. Uttar Pradesh
उत्तर प्रदेश

04. Punjab
पंजाब

05. Haryana
हरियाणा

Q-118
eng hin

Recently which state government has banned the sale and use of firecrackers from November 10 to 30, 2020 under the status of Covid-19?
अभी हाल ही किस राज्य सरकार ने कोविड-19 की स्थिति के तहत 10 से 30 नवंबर, 2020 के बीच पटाखों बिक्री और उपयोग पर प्रतिबन्ध लगा दिया है?

01. Odisha
ओडिशा

02. Himachal Pradesh
हिमाचल प्रदेश

03. Uttar Pradesh
उत्तर प्रदेश

04. Punjab
पंजाब

05. Haryana
हरियाणा

Solution for Question 118

Ans Key: 1

eng/eng

Odisha has banned the sale and use of firecrackers between November 10 and 30, 2020 under the status of Covid-19.
ओडिशा ने कोविड-19 की स्थिति के तहत 10 से 30 नवंबर, 2020 के बीच पटाखों बिक्री और उपयोग पर प्रतिबन्ध लगा दिया है.

eng hin

Odisha has banned the sale and use of firecrackers between November 10 and 30, 2020 under the status of Covid-19.
ओडिशा ने कोविड-19 की स्थिति के तहत 10 से 30 नवंबर, 2020 के बीच पटाखों बिक्री और उपयोग पर प्रतिबन्ध लगा दिया है.

Q-119
eng/eng

Who is the founder and CEO of CRED, the official partner company of BCCI of Indian Premier League for next three years?
अगले तीन साल तक इंडियन प्रीमियर लीग की बीसीसीआई के साथ अधिकारिक भागीदार कंपनी क्रेड के संस्थापक और सी.ई.ओ. कौन हैं?

01. Kunal Shah
कुनाल शाह

02. Vikram Seth
विक्रम सेठ

03. Jatin Das
जतिन दास

04. Rajiv Shukla
राजीव शुक्ला

05. None of these
इनमें से कोई नहीं

Q-119
eng hin

Who is the founder and CEO of CRED, the official partner company of BCCI of Indian Premier League for next three years?
अगले तीन साल तक इंडियन प्रीमियर लीग की बीसीसीआई के साथ अधिकारिक भागीदार कंपनी क्रेड के संस्थापक और सी.ई.ओ. कौन हैं?

01. Kunal Shah
कुनाल शाह

02. Vikram Seth
विक्रम सेठ

03. Jatin Das
जतिन दास

04. Rajiv Shukla
राजीव शुक्ला

05. None of these
इनमें से कोई नहीं

Solution for Question 119

Ans Key: 1

eng/eng

Kunal Shah is the founder and CEO of CRED, the official partner company of the Indian Premier League with BCCI for the next three years.
अगले तीन साल तक इंडियन प्रीमियर लीग की बीसीसीआई के साथ अधिकारिक भागीदार कंपनी क्रेड के संस्थापक और सी.ई.ओ. कुनाल शाह हैं.

eng hin

Kunal Shah is the founder and CEO of CRED, the official partner company of the Indian Premier League with BCCI for the next three years.
अगले तीन साल तक इंडियन प्रीमियर लीग की बीसीसीआई के साथ अधिकारिक भागीदार कंपनी क्रेड के संस्थापक और सी.ई.ओ. कुनाल शाह हैं.

Q-120
eng/eng

'Pomelo Dance Festival' is related to which of the following state?
'पोमेलो डांस फेस्टिवल' का संबंध निम्न में से किस राज्य से है?

01. Meghalaya
मेघालय

02. Mizoram
मिजोरम

03. Manipur
मणिपुर

04. Arunachal Pradesh
अरुणाचल प्रदेश

05. West Bengal
पश्चिम बंगाल

Q-120
eng hin

'Pomelo Dance Festival' is related to which of the following state?
'पोमेलो डांस फेस्टिवल' का संबंध निम्न में से किस राज्य से है?

01. Meghalaya
मेघालय

02. Mizoram
मिजोरम

03. Manipur
मणिपुर

04. Arunachal Pradesh
अरुणाचल प्रदेश

05. West Bengal

eng/eng 'Pomelo Dance Festival' is a popular dance festival of Meghalaya. It is also known as 'Chambil Mesra'.
'पोमेलो डांस फेस्टिवल' मेघालय का एक लोकप्रिय नृत्य समारोह है। इसे 'चंबिल मेसरा' के नाम से भी जानते हैं।

eng hin 'Pomelo Dance Festival' is a popular dance festival of Meghalaya. It is also known as 'Chambil Mesra'. 'पोमेलो डांस फेस्टिवल' मेघालय का एक लोकप्रिय नृत्य समारोह है। इसे 'चंबिल मेसरा' के नाम से भी जानते हैं।

Q-121 In the following question, a sentence with three words/phrases given in bold type is given. These are numbered as (A), (B) and (C). These three words/phrases given in bold may or may not be used at their correct place. Choose the option which shows the correct sequence of words according to their appropriate place and if these words are at their correct place, mark 'no change required' as your answer.

Deforestation results in raised air pollution **emitting (A)** as forests act as natural air filters – **cleaning (B)** the air by absorbing harmful gases and **level (C)** oxygen.

- 01.** CAB **02.** CBA
03. ACB **04.** BCA
05. No change required.

Q-121 नीचे दिये गये तीन वाक्यों में से किसी एक वाक्य में या दोनों में या तीनों में त्रुटि हो सकती है, अगर त्रुटि है तो उसका चयन करे नहीं तो विकल्प (5) का चयन करे।

विभा ने मिठास भरा गीत गाया(A)/ निरपराधी को नहीं सताना चाहिए(B) / राहों के अन्वेषी बड़ी बाधाएँ सहते हैं(C)

- 01.** B और C **02.** केवल B
03. A और B **04.** A और C
05. कोई व्रटि नहीं

Solution for Question 121

Ans Key: 2

eng/eng (B) is correctly placed, but (A) and (C) should be interchanged because 'raised air pollution emitting' is not giving any sense but 'raised air pollution level' will make the sentence grammatically and contextually correct.

eng hin निष्कर्ष- निरपराध को नहीं सताना चाहिए।

Q-122 In the following question, a sentence with three words/phrases given in bold type is given. These are numbered as (A), (B) and (C). These three words/phrases given in bold may or may not be used at their correct place. Choose the option which shows the correct sequence of words according to their appropriate place and if these words are at their correct place, mark 'no change required' as your answer.

Industries are usually **wash out (A)** in proximity of a water body and use fresh water to **set up (B)** industrial waste **into the (C)** water bodies.

- 01.** CAB
- 02.** CBA
- 03.** BAC
- 04.** BCA
- 05.** No change required

Q-122 नीचे दिये गये तीन वाक्यों में से किसी एक वाक्य में या दोनो में या तीनों में त्रुटि हो सकती है, अगर त्रुटि है तो उसका चयन करे नहीं तो विकल्प (5) का चयन करे।

मैनें आज बाजार नहीं जाना है(A)/ आप मुझ पर कृपा कीजिए(B) / मजदूरों में रोष था इसलिए मजदूरों ने घेराव किया(C)

- 01.** B और C **02.** A और B
03. A और C **04.** केवल B
05. कोई त्रुटि नहीं

Solution for Question 122

Ans Key: 3

eng/eng (C) is correctly placed, but (A) and (B) should be interchanged because 'industries are usually wash out in proximity of a water' is not giving the proper sense but 'fresh water to wash out industrial waste' will make the sentence grammatically and contextually correct.

eng hin निष्कर्ष- मुझे आज बाजार नहीं जाना, मजदूरों में रोष था इसलिए उन्होंने घेराव किया।

Q-123 In the following question, a sentence with three words/phrases given in bold type is given. These are numbered as (A), (B) and (C). These three words/phrases given in bold may or may not be used at their correct place. Choose the option which shows the correct sequence of words according to their appropriate place and if these words are at their correct place, mark 'no change required' as your answer.

Soil pollution is caused by the **introduction (A)** of human made chemicals and **pollutants (B)** into the soil, making it toxic and reducing **yield.(C)**

- 01. CAB**

04. BCA

03. ACB

05. No change required

Q-123 नीचे दिये गये तीन वाक्यों में से किसी एक वाक्य में या दोनो में या तीनों में त्रुटि हो सकती है, अगर त्रुटि है तो उसका चयन करे नहीं तो विकल्प (5) का चयन करे।

पिताजी तुम्हारी याद आती है(A)/ मैंने अति निकृष्ट भूल की(B) / रेखा अच्छे गुणों से युक्त है(C)

01. B और C

02. केवल B

03. कोई त्रुटि नहीं

04. A और C

05. A और B

Solution for Question 123

Ans Key: 5

eng hin निष्कर्ष- पिताजी आपकी याद आती है, मैंने भारी भूल की।

Q-124 In the following question, a sentence with three words/phrases given in bold type is given. These are numbered as (A), (B) and (C). These three words/phrases given in bold may or may not be used at their correct place. Choose the option which shows the correct sequence of words according to their appropriate place and if these words are at their correct place, mark 'no change required' as your answer.

Television could really be a great **education** (A) of **subscribed** (B) if only informative and knowledge based channels are viewed or **source**. (C)

01. BAC

02. CAB

03. ACB

04. BCA

05. No change required

Q-124 नीचे दिये गये तीन वाक्यों में से किसी एक वाक्य में या दोनो में या तीनों में त्रुटि हो सकती है, अगर त्रुटि है तो उसका चयन करे नहीं तो विकल्प (5) का चयन करे।

विवेक का कद मुझसे लम्बा है(A)/ सपना गुणवती स्त्री है(B) / गीता अच्छा ग्रन्थ है(C)

01. B और C

02. कोई त्रुटि नहीं

03. A और B

04. A और C

05. केवल B

Solution for Question 124

Ans Key: 2

eng/eng 'Television could really be a great education' is not correct as 'education' is not giving proper sense at (A) but 'television could really be a great source of education' will make the sentence grammatically and contextually correct. So, 'source' and 'education' should be placed at (A) and (B), which automatically sends 'subscribed' at place (C).

eng hin कोई त्रुटि नहीं

Q-125 In the following question, a sentence with three words/phrases given in bold type is given. These are numbered as (A), (B) and (C). These three words/phrases given in bold may or may not be used at their correct place. Choose the option which shows the correct sequence of words according to their appropriate place and if these words are at their correct place, mark 'no change required' as your answer.

Library is the best place to spend **wisely** (A) time **leisure** (B) that leads to the overall **development** (C) and well-being of an individual.

01. CAB

02. CBA

03. ACB

04. BAC

05. No change required.

Q-125 नीचे दिये गये तीन वाक्यों में से किसी एक वाक्य में या दोनो में या तीनों में त्रुटि हो सकती है, अगर त्रुटि है तो उसका चयन करे नहीं तो विकल्प (5) का चयन करे।

मैंने तीन कुर्सी खरीदीं(A)/ सभी वर्गों के लोगों को आमंत्रित किया गया था(B) / शोभित देश के संस्कृति का बहुत सम्मान करता है(C)

01. B और C

02. A और B

03. केवल B

04. A और C

05. कोई त्रुटि नहीं

Solution for Question 125

Ans Key: 4

eng/eng (C) is correctly placed, but (A) and (B) should be interchanged because 'best place to spend wisely time' is grammatically incorrect but 'spend time wisely' will make the sentence grammatically and contextually correct.

eng hin निष्कर्ष- मैंने तीन कुर्सीयाँ खरीदीं, शोभित देश की संस्कृति का बहुत सम्मान करता है।

Q-126 In the following question, a sentence with four words given in bold type is given. These are numbered (1), (2), (3) and (4). One of these four

eng/eng words given in bold may be either wrongly spelt or inappropriate in context of the sentence. Find out the word which is wrongly spelt or inappropriate if any. The number of that word is your answer. If all the words given in bold are correctly spelt & also appropriate in the context of the sentence, mark (5) "All correct" as your answer.

If the Central Government is **loath** to **extent** tax **benefits** to all post office schemes, it can **restrict** them to special-purpose schemes. **All Correct**

- | | |
|-----------------|--------------|
| 01. Loath | 02. Extent |
| 03. Benefits | 04. Restrict |
| 05. All correct | |

Q-126 नीचे दिये गये वाक्यों में चार शब्दों को बोल्ड(उभरे) किये गये हैं, ये शब्द व्याकरण की दृष्टि से गलत हो सकते हैं अगर गलत है तो उसका चयन करे नहीं तो विकल्प 5 का चयन करे।

eng hin

मैंने आपके लिए मेरठ के **अच्छी** होटल से **खाना** **मँगवाया** है।

- | | |
|----------------|-------------|
| 01. मैंने | 02. अच्छी |
| 03. खाना | 04. मँगवाया |
| 05. सभी सही है | |

Solution for Question 126

Ans Key: 2

eng/eng	‘Extend (v)’ should be used here which means ‘include’.
eng hin	निष्कर्ष- अच्छे

--	--

Q-127 In the following question, a sentence with four words given in bold type is given. These are numbered (1), (2), (3) and (4). One of these four words given in bold may be either wrongly spelt or inappropriate in context of the sentence. Find out the word which is wrongly spelt or inappropriate if any. The number of that word is your answer. If all the words given in bold are correctly spelt & also appropriate in the context of the sentence, mark (5) "All correct" as your answer.

eng/eng

The banking **lobby** is **bond** to be up in arms against high rates on small savings **impeding** **transmission**. **All Correct**

- | | |
|-----------------|------------------|
| 01. Lobby | 02. Bond |
| 03. Impeding | 04. Transmission |
| 05. All correct | |

Q-127 नीचे दिये गये वाक्यों में चार शब्दों को बोल्ड(उभरे) किये गये हैं, ये शब्द व्याकरण की दृष्टि से गलत हो सकते हैं अगर गलत है तो उसका चयन करे नहीं तो विकल्प 5 का चयन करे।

eng hin

सेठ लखमीचंद को **लाकडाउन** के दौरान **कंगालता** के **दुर्दिन** देखने पड़ गये।

- | | |
|----------------|-------------|
| 01. लाकडाउन | 02. कंगालता |
| 03. दौरान | 04. दुर्दिन |
| 05. सभी सही है | |

Solution for Question 127

Ans Key: 2

eng/eng	‘Bound’ should be used here which means ‘restrict’.
eng hin	निष्कर्ष- कंगाली

--	--

Q-128 In the following question, a sentence with four words given in bold type is given. These are numbered (1), (2), (3) and (4). One of these four words given in bold may be either wrongly spelt or inappropriate in context of the sentence. Find out the word which is wrongly spelt or inappropriate if any. The number of that word is your answer. If all the words given in bold are correctly spelt & also appropriate in the context of the sentence, mark (5) "All correct" as your answer.

eng/eng

The concept of **cages** has been gradually **phased out** and zoos **contains** open spaces with bordered ridge to **seperate** animal and visitors. **All Correct**

- | | |
|-----------------|----------------|
| 01. Cages | 02. Phased out |
| 03. Contains | 04. Seperate |
| 05. All correct | |

Q-128 नीचे दिये गये वाक्यों में चार शब्दों को बोल्ड(उभरे) किये गये हैं, ये शब्द व्याकरण की दृष्टि से गलत हो सकते हैं अगर गलत है तो उसका चयन करे नहीं तो विकल्प 5 का चयन करे।

eng hin

बहुत से पत्र **अथवा** **पत्रिकाओं** का **प्रकाशन** **बन्द** हो गया है।

- | | |
|-------------|---------------|
| 01. बहुत | 02. पत्रिकाओं |
| 03. प्रकाशन | 04. अथवा |

05. सभी सही है

Solution for Question 128

Ans Key: 4

eng/eng 'separate' is the correct spelling.

eng hin निष्कर्ष- अथवा के स्थान पर और होगा।

Q-129 In the following question, a sentence with four words given in bold type is given. These are numbered (1), (2), (3) and (4). One of these four words given in bold may be either wrongly spelt or inappropriate in context of the sentence. Find out the word which is wrongly spelt or inappropriate if any. The number of that word is your answer. If all the words given in bold are correctly spelt & also appropriate in the context of the sentence, mark (5) "All correct" as your answer.

eng/eng

Abolition of child trafficking, elimination of poverty, free and compulsory education, and basic standards of living can reduce the problem to a great extent. All Correct

01. Abolition

02. Elimination

03. Education

04. Reduce

05. All correct

Q-129 नीचे दिये गये वाक्यों में चार शब्दों को बोल्ड(उभरे) किये गये हैं, ये शब्द व्याकरण की दृष्टि से गलत हो सकते हैं अगर गलत है तो उसका चयन करे नहीं तो विकल्प 5 का चयन करे।

eng hin

आज भ्रष्टाचार हर क्षेत्र में शिष्टाचार के रूप में माना जाता है।

01. भ्रष्टाचार

02. क्षेत्र

03. शिष्टाचार

04. माना

05. सभी सही है

Solution for Question 129

Ans Key: 5

eng/eng All correct

eng hin सभी सही है

Q-130 In the following question, a sentence with four words given in bold type is given. These are numbered (1), (2), (3) and (4). One of these four words given in bold may be either wrongly spelt or inappropriate in context of the sentence. Find out the word which is wrongly spelt or inappropriate if any. The number of that word is your answer. If all the words given in bold are correctly spelt & also appropriate in the context of the sentence, mark (5) "All correct" as your answer.

eng/eng

Pollution has tremendous adverse effects on environment, resulting in its degradation and also in depletion of living species. All Correct

01. Adverse

02. Degradation

03. Depletion

04. Species

05. All correct

Q-130 नीचे दिये गये वाक्यों में चार शब्दों को बोल्ड(उभरे) किये गये हैं, ये शब्द व्याकरण की दृष्टि से गलत हो सकते हैं अगर गलत है तो उसका चयन करे नहीं तो विकल्प 5 का चयन करे।

eng hin

महात्माओं का वैराग भी समय के परिवर्तन की अपेक्षा नहीं रखता

01. समय

02. परिवर्तन

03. वैराग

04. अपेक्षा

05. सभी सही है

Solution for Question 130

Ans Key: 3

eng/eng 'Depletion' should be used here which means 'reduction in the number or quantity of something'.

eng hin निष्कर्ष- वैराग्य

Q-131 In the following question, four sentences have been given which may or may not be grammatically correct. Find out the incorrect sentence and mark your answer accordingly. If all the sentences are correct, mark your answer (5) i.e., All correct.

eng/eng

01. Organically grown crops use natural fertilizers like manure.

02. Vaccine hesitancy has been highlighted for the staggering spread in cases globally.

03. Everything was quiet, aside from the occasion sound of a car in the distance.

04. Thousands of years ago the surface was barren desert.

05. All correct

Q-131 नीचे दिये चार वाक्यों को ध्यान से पढ़िए और बताइए कि कौन सा वाक्य व्याकरण की दृष्टि से गलत है अगर कोई वाक्य गलत नहीं है तो विकल्प 5 का चयन करे।

01. उनको एक पुत्र है। 02. पिछले बुधवार को स्कूल बन्द था।
 03. तुलसी और सूर अवधी और ब्रजभाषा के श्रेष्ठ कवि हैं। 04. वह दण्ड के योग्य है।
 05. सभी सही हैं।

Solution for Question 131

Ans Key: 3

eng/eng Option (3) - 'occasional' should replace 'occasion' as an adjective is required here to qualify the noun (sound).

eng hin निष्कर्ष- तुलसी और सूर क्रमशः अवधी और ब्रजभाषा के श्रेष्ठ कवि हैं।

Q-132 In the following question, four sentences have been given which may or may not be grammatically correct. Find out the incorrect sentence and mark your answer accordingly. If all the sentences are correct, mark your answer (5) i.e., All correct.

eng/eng

01. Globalization is a process of integrating trade and commerce throughout the globe. 02. Mars is the fourth planet in the solar system and is positioned just next to Earth.
 03. I wish we do not harm the planet which is currently in its pure form. 04. A city fair has much to offer for the children as well as the elders.
 05. All correct.

Q-132 नीचे दिये चार वाक्यों को ध्यान से पढ़िए और बताइए कि कौन सा वाक्य व्याकरण की दृष्टि से गलत है अगर कोई वाक्य गलत नहीं है तो विकल्प 5 का चयन करें।

eng hin

01. कल पाठ पढ़कर आइए। 02. जीवन और साहित्य का घनिष्ठ सम्बन्ध है।
 03. राम और श्याम फुटबाल खेल रहे हैं। 04. आप कहाँ जा रहे हो?
 05. सभी सही हैं।

Solution for Question 132

Ans Key: 4

eng/eng Option (4) - 'offer to' should replace 'offer for' as offer takes 'to' with it.

eng hin निष्कर्ष- आप कहाँ जा रहे हैं?

Q-133 In the following question, four sentences have been given which may or may not be grammatically correct. Find out the incorrect sentence and mark your answer accordingly. If all the sentences are correct, mark your answer (5) i.e., All correct.

eng/eng

01. Without method, little can be done to any good purpose. 02. Newspaper is a powerful tool which enhances confidence and personality of the person.
 03. The role my school plays in my personality development is unprecedented. 04. Communication is also extremely important at personal level.
 05. All correct

Q-133 नीचे दिये चार वाक्यों को ध्यान से पढ़िए और बताइए कि कौन सा वाक्य व्याकरण की दृष्टि से गलत है अगर कोई वाक्य गलत नहीं है तो विकल्प 5 का चयन करें।

eng hin

- (a) स्वामी दयानन्द सरस्वती ने हिन्दी के द्वारा जनता को जगाया।
 (b) स्वामी दयानन्द सरस्वती ने हिन्दी द्वारा जनता को जगाया।
 (c) स्वामी दयानन्द सरस्वती हिन्दी द्वारा जनता को जगाया।

01. केवल A 02. A और B
 03. B और C 04. सभी सही हैं
 05. A और C

Solution for Question 133

Ans Key: 5

eng/eng All correct.

eng hin A और C

Q-134 In the following question, four sentences have been given which may or may not be grammatically correct. Find out the incorrect sentence and mark your answer accordingly. If all the sentences are correct, mark your answer (5) i.e., All correct.

eng/eng

01. The slowdown in domestic demand was offset by an increase in exports. 02. Attendance is mandatory at all meetings.
 03. In the modern era, the revolution of newspapers have been spread to the whole country. 04. We must assume him to be innocent until he is proved guilty.
 05. All correct

Q-134

नीचे दिये चार वाक्यों को ध्यान से पढ़िए और बताइए कि कौन सा वाक्य व्याकरण की दृष्टि से गलत है अगर कोई वाक्य गलत नहीं है तो विकल्प 5 का चयन करें।

eng hin

(a) आकाशवाणी से यह समाचार कहा गया।

(b) आकाशवाणी से यह समाचार सुनाया गया।

(c) आकाशवाणी से यह समाचार प्रसारित किया गया।

01. A और C

02. B और C

03. A और B

04. केवल C

05. सभी सही है

Solution for Question 134

Ans Key: 3

eng/eng

Option (3)- ‘has’ should replace ‘have’ as a singular helping verb is required for the singular subject (revolution).

eng hin

A और B

Q-135

In the following question, four sentences have been given which may or may not be grammatically correct. Find out the incorrect sentence and mark your answer accordingly. If all the sentences are correct, mark your answer (5) i.e., All correct.

eng/eng

01. Our mainly aim is to increase sales in Europe.

02. We should spare no effort to beautify our environment.

03. A good book can uplift our mood instantly and leave a deep impact on us.

04. A whole range of fruits and vegetables is available in the markets.

05. All correct

Q-135

नीचे दिये चार वाक्यों को ध्यान से पढ़िए और बताइए कि कौन सा वाक्य व्याकरण की दृष्टि से गलत है अगर कोई वाक्य गलत नहीं है तो विकल्प 5 का चयन करें।

eng hin

01. जैसा कि हमारा विचार तो यही हैं।

02. राम और सीता वन को गए।

03. यहाँ गाय का दूध मिलता है।

04. बन्दूक एक बहुत उपयोगी अस्त्र है।

05. सभी सही है।

Solution for Question 135

Ans Key: 1

eng/eng

Option (1) - ‘main’ should replace ‘mainly’ as an adjective is required here to qualify the noun (aim).

eng hin

जैसा कि हमारा विचार तो यही हैं।
निष्कर्ष- हमारा विचार तो यही है।

Passage for Question 136, 137, 138, 139, 140 (ST-2081 RRB CLERK MAINS E (16-20) 2020)

eng/eng Passage

Rearrange the following sentences (A), (B), (C), (D) and (E) in the proper sequence to form a meaningful paragraph and answer the given questions.

A. consequently resulting in raised ocean level and floods

B. results in reduction in the number of marine species like

C. galactic and polar ice is melting as a result of global warming

D. planktons, coral fish, seals, great barrier reef etc.

E. also, the rise in oceanic temperature and plastic pollution

eng hin Passage

नीचे दिए गए वाक्य के पहले और अंतिम भागों को क्रमशः (A) और (E) की संख्या दी गई है। ये उचित क्रम में नहीं हैं। उन्हें ध्यान से पढ़कर दिए गए विकल्पों में से उचित क्रम चुनिए, जिससे सही वाक्य का निर्माण हो।

(A) विवाह के बाद लड़की एक नए घर में जाती है, उसे नई गृहस्थी बसानी होती है।

(B) दहेज प्रथा का जन्म पुरानी सामाजिक प्रथाओं में ढूँढा जा सकता है।

(C) उपहार में उसे गृहस्थी में काम आने वाली वस्तुएँ स्वेच्छा से दी जाती थीं, कोई बाध्यता नहीं होती थी।

(D) अपना नया घोंसला बनाने में उसे अधिक असुविधा न हो इसलिए उसे कुछ उपहार देने का रिवाज था।

(E) पर धीरे-धीरे इसमें बुराईयाँ आती गई।

Q-136

Which of the following would be the **FOURTH** sentence after the rearrangement?

eng/eng

01. D

02. C

03. A

04. E

05. B
Q-136 दिये गये वाक्यों को क्रमबद्ध करने के बाद तीसरा वाक्य कौन सा होगा?
eng hin

01. A
02. C
03. B
04. E
05. D

Solution for Question 136		Ans Key: 5
eng/eng	The correct rearrangement is 'CAEBD'. The passage is about the 'adverse effects of Global Warming'.	
eng hin	D	

Q-137 Which of the following would be the **SECOND** sentence after the rearrangement?
eng/eng

01. D
02. A
03. E
04. C
05. B

Q-137 दिये गये वाक्यों को क्रमबद्ध करने के बाद पहला वाक्य कौन सा होगा?
eng hin

01. A
02. B
03. E
04. C
05. D

Solution for Question 137		Ans Key: 2
eng/eng	The correct rearrangement is 'CAEBD'. The passage is about the 'adverse effects of Global Warming'.	
eng hin	B	

Q-138 Which of the following would be the **LAST** sentence after the rearrangement?
eng/eng

01. E
02. A
03. C
04. B
05. D

Q-138 दिये गये वाक्यों को क्रमबद्ध करने के बाद चौथा वाक्य कौन सा होगा?
eng hin

01. A
02. E
03. D
04. B
05. C

Solution for Question 138		Ans Key: 5
eng/eng	The correct rearrangement is 'CAEBD'. The passage is about the 'adverse effects of Global Warming'.	
eng hin	D	

Q-139 Which of the following would be the **THIRD** sentence after the rearrangement?
eng/eng

01. B
02. D
03. C
04. E
05. A

Q-139 दिये गये वाक्यों को क्रमबद्ध करने के बाद पाँचवा वाक्य कौन सा होगा?
eng hin

01. B
02. D
03. C
04. E
05. A

Solution for Question 139		Ans Key: 4
eng/eng	The correct rearrangement is 'CAEBD'. The passage is about the 'adverse effects of Global Warming'.	

Q-140 Which of the following would be the **FIRST** sentence after the rearrangement?
eng/eng

01. C
02. E
03. A
04. D
05. B

Q-140 दिये गये वाक्यों को क्रमबद्ध करने के बाद दूसरा वाक्य कौन सा होगा?

eng hin

01. A
02. E
03. C
04. D
05. B

Solution for Question 140

Ans Key: 1

eng/eng The correct rearrangement is 'CAEBD'. The passage is about the 'adverse effects of Global Warming'.

Q-141 In the following question, two sentences with a blank in each followed by three options are given. Choose the most suitable option(s) to fill in the blanks to make the sentences meaningfully correct.

eng/eng

- I. I was sorely _____, and felt quite discouraged, and wasted much precious time, especially in Algebra.
II. The manifold of sense, which plays so important a part in the critical theory of knowledge, is left in an obscure and _____ position.

- A. manifested
B. perplexed
C. bereaved

01. Both A and B
02. Only B
03. Only C
04. Both B and C
05. All of the above

Q-141 नीचे दिए गए प्रत्येक प्रश्न में रिक्त स्थान छूटा हुआ है और उसके पांच विकल्प सुझाए गए हैं। इनमें से उचित शब्द का चयन कर देने से वह वाक्य एक अर्थपूर्ण वाक्य बन जाता है। सही शब्द ज्ञात कर उसके विकल्प को उत्तर के रूप में अंकित कीजिए, दिए गए शब्दों में से सर्वाधिक उपयुक्त शब्दों का चयन कीजिए।

eng hin

- (A) भारत कीरक्षा करना प्रत्येक भारतीय का कर्तव्य है।
(B) साम्प्रदायिकता का आग देश में.....हुई है।

01. अन्विता, समार्ई
02. अस्मिता, लगी
03. पनपी, सुस्मिता
04. विस्मिता, भड़की
05. इनमें से कोई नहीं

Solution for Question 141

Ans Key: 2

eng/eng Perplex (v) – make (someone) feel completely puzzled.

For other options–

Manifest (v) – show (a quality or feeling) by one's acts or appearance.

Bereaved (adj.) – deprived of a close relation or friend through their death.

eng hin अस्मिता, लगी

Q-142 In the following question, two sentences with a blank in each followed by three options are given. Choose the most suitable option(s) to fill in the blanks to make the sentences meaningfully correct.

eng/eng

- I. The new technology provides greater security against cloning and _____ than the traditional cellular, which uses analog signals.
II. Hackers can use electronic _____ to trap user names and unencrypted passwords sent over the network.

- A. apostatizing
B. stickybeaking
C. eavesdropping

01. Both A and B
02. Only B
03. Both B and C
04. Only C
05. All of the above.

Q-142 नीचे दिए गए प्रत्येक प्रश्न में रिक्त स्थान छूटा हुआ है और उसके पांच विकल्प सुझाए गए हैं। इनमें से उचित शब्द का चयन कर देने से वह वाक्य एक अर्थपूर्ण वाक्य बन जाता है। सही शब्द ज्ञात कर उसके विकल्प को उत्तर के रूप में अंकित कीजिए, दिए गए शब्दों में से सर्वाधिक उपयुक्त शब्दों का चयन कीजिए।

eng hin

- (A) उदयशंकर भट्ट हिन्दी साहित्य के प्रमुख.....हैं।
(B) युद्ध-प्रधान एवं राष्ट्र-चेतनापरक कविताओं में.....की प्रधानता होती है।

01. कहानीकार, सतोगुण
03. नाटककार, ओज गुण
05. इनमें से कोई नहीं
02. निबंधकार, रजोगुण
04. उपन्यासकार, तमोगुण

Solution for Question 142

Ans Key: 3

eng/eng	Eavesdrop (v) – secretly listen to a conversation. Stickybeak (v) – pry into other people's affairs. For other options– Apostatize (v) – renounce a religious or political belief or principle.
eng hin	नाटककार, ओज गुण

Q-143 In the following question, two sentences with a blank in each followed by three options are given. Choose the most suitable option(s) to fill in the blanks to make the sentences meaningfully correct.

- I. A system of _____ for seven years was established as a transitional preparation for liberty.
II. He watched for quite a while, until the model reached a level that had taken him years of _____ under his father to achieve.
- A. principalship
B. courtship
C. apprenticeship

01. Both A and B
03. Only C
05. All of the above.
02. Both C and D
04. Both B and C

Q-143 नीचे दिए गए प्रत्येक प्रश्न में रिक्त स्थान छोटा हुआ है और उसके पांच विकल्प सुझाए गए हैं। इनमें से उचित शब्द का चयन कर देने से वह वाक्य एक अर्थपूर्ण वाक्य बन जाता है। सही शब्द ज्ञात कर उसके विकल्प को उत्तर के रूप में अंकित कीजिए, दिए गए शब्दों में से सर्वाधिक उपयुक्त शब्दों का चयन कीजिए।

- (A)की तलाश में भटकती हुई महिला जैसे नियति के चक्रव्यूह में फँस गई है।
(B) प्रेमचन्द ने अपनेउपन्यासकारों को बहुत दूर तक प्रभावित किया है।

01. अस्मिता, पूर्ववर्ती
03. सुस्मिता, परवर्ती
05. इनमें से कोई नहीं
02. विस्मिता, परिवर्ती
04. स्मिता, अगवर्ती

Solution for Question 143

Ans Key: 3

eng/eng	Apprenticeship (n) – the position of a trainee. For other options– Principalship (n) – The condition, rank or office of a principal. Courtship (n) – keeping company.
eng hin	सुस्मिता, परवर्ती

Q-144 In the following question, two sentences with a blank in each followed by three options are given. Choose the most suitable option(s) to fill in the blanks to make the sentences meaningfully correct.

- I. Drain well in a _____ and divide them among individual bowls or put them in a large soup tureen.
II. Meanwhile, place the finely diced cucumber in a _____ and sprinkle with salt.
- A. meander
B. colander
C. zander

01. Both A and B
03. Only C
05. All of the above.
02. Only B
04. Both B and C

Q-144 नीचे दिए गए प्रत्येक प्रश्न में रिक्त स्थान छोटा हुआ है और उसके पांच विकल्प सुझाए गए हैं। इनमें से उचित शब्द का चयन कर देने से वह वाक्य एक अर्थपूर्ण वाक्य बन जाता है। सही शब्द ज्ञात कर उसके विकल्प को उत्तर के रूप में अंकित कीजिए, दिए गए शब्दों में से सर्वाधिक उपयुक्त शब्दों का चयन कीजिए।

कफरू लगने से सारे शहर में.....सन्नाटा छा गया।

01. निस्तब्ध
03. शाश्वत
05. भयानक
02. भयावह
04. प्रकम्पित

Solution for Question 144

eng/eng Colander (n) – a perforated bowl used to strain off liquid from food after washing or cooking.

For other options–

Meander (n) – a winding curve or bend of a river or road.

Zander (n) – a large predatory freshwater perch native.

eng hin भयावह

Q-145 In the following question, two sentences with a blank in each followed by three options are given. Choose the most suitable option(s) to fill in the blanks to make the sentences meaningfully correct.

eng/eng

I. Most of the _____ teams were eliminated from the competition in the first round.

II. Any _____ would be skinned alive competing against the world champion.

A. amateur

B. bungler

C. bohemian

01. Both A and B

02. Only B

03. Both B and C

04. Only C

05. All of the above.

Q-145 नीचे दिए गए प्रत्येक प्रश्न में रिक्त स्थान छूटा हुआ है और उसके पांच विकल्प सुझाए गए हैं। इनमें से उचित शब्द का चयन कर देने से वह वाक्य एक अर्थपूर्ण वाक्य बन जाता है। सही शब्द ज्ञात कर उसके विकल्प को उत्तर के रूप में अंकित कीजिए, दिए गए शब्दों में से सर्वाधिक उपयुक्त शब्दों का चयन कीजिए।

eng hin

ज्यों-ज्यों व्यक्ति के अनुभवों में विस्तार होता है, उसके समक्ष नए-नए.....खुलते हैं।

01. क्षितिज

02. अन्तरिक्ष

03. आवरण

04. ध्वान्त

05. विचार

Solution for Question 145

Ans Key: 1

eng/eng Amateur (n) – non-professional.
Bungler (n) - a person who make mistakes.
For other options–
Bohemian (n) - a socially unconventional person.

eng hin क्षितिज

Q-146 Which of the Phrases (1), (2) (3) and (4) given below the sentence should replace the phrase given in bold in the sentence to make it grammatically correct. If the sentence is correct as it is given and no correction is required, mark (5) as the answer.

eng/eng

The police said that some burglars were attempting to steal petrol from the bikes **park in the area**.

01. in the area parked

02. parked in the area

03. in the parked area

04. area in the park

05. No correction required

Q-146 गागर में सागर भरना का अर्थ है----

eng hin

01. सरस दोहों की रचना करना

02. थोड़े शब्दों में अधिक कहना

03. मूर्खतापूर्ण काम करना

04. असंभव काम करना

05. बातों से ही पेट भरना

Solution for Question 146

Ans Key: 2

eng/eng Bikes parked in the area means the bikes which were parked in the area, there is a sense of passive voice.

eng hin थोड़े शब्दों में अधिक कहना

Q-147 Which of the Phrases (1), (2) (3) and (4) given below the sentence should replace the phrase given in bold in the sentence to make it grammatically correct. If the sentence is correct as it is given and no correction is required, mark (5) as the answer.

eng/eng

If the consumers stop **purchasing onions at higher rates** then demand will automatically come down and prices will decline.

01. purchased onions at higher rates

02. onions at higher rates purchase

03. purchasing onions at high rated

04. purchases onions on higher rates

05. No correction required

Q-147 तलवार की धार पर चलना का अर्थ है----

eng hin

01. नुकीला होना

02. पराजित कर देना

03. ईर्ष्या करना

04. सीधी बात करना

05. कठिन कार्य करना

Solution for Question 147

Ans Key: 5

eng/eng purchasing ('stop' takes 'gerund' after it) onions at (for price, cost, rate 'at' is correct) higher rates (after the adjective, a noun is required)

Q-148 Which of the Phrases (1), (2) (3) and (4) given below the sentence should replace the phrase given in bold in the sentence to make it grammatically correct. If the sentence is correct as it is given and no correction is required, mark (5) as the answer.

eng/eng

The police commissioner urged protesters to hold peaceful demonstrations and **warned for stringent action** in case of violence.

01. warned upon stringent action

02. warned in stringent action

03. warned of stringent action

04. warned to stringent action

05. No correction required

Q-148 चिकना घड़ा होना का अर्थ है----

eng hin

01. चिकना होना

02. समृद्ध होना

03. निर्लज्ज होना

04. भयभीत होना

05. परिश्रमी होना

Solution for Question 148

Ans Key: 3

eng/eng 'Warned' has to be followed by 'of' which would come before the noun against which warning is being given.

Q-149 Which of the Phrases (1), (2) (3) and (4) given below the sentence should replace the phrase given in bold in the sentence to make it grammatically correct. If the sentence is correct as it is given and no correction is required, mark (5) as the answer.

eng/eng

The sweets are bound to collect dust since the sweet shops are **placed along the road**.

01. located along the road

02. located in the road

03. kept through the road

04. around the road

05. No correction required

Q-149 पेट में दाढ़ी होना का अर्थ है—

eng hin

01. छोटी उम्र में ही बुद्धिमान होना

02. भेद न लगने देना

03. वस्तु का सही स्थान पर न होना

04. अप्राकृतिक व्यवहार होना

05. इनमें से कोई नहीं

Solution for Question 149

Ans Key: 1

eng/eng Located (means situated) along (by the side of) the road

eng hin छोटी उम्र में ही बुद्धिमान होना

Q-150 Which of the Phrases (1), (2) (3) and (4) given below the sentence should replace the phrase given in bold in the sentence to make it grammatically correct. If the sentence is correct as it is given and no correction is required, mark (5) as the answer.

eng/eng

Traders say that sale of window shades, blinds and curtains has increased after the Supreme Court **ban use of** sun control film.

01. banning used

02. used ban of

03. banned the use of

04. ban uses by

05. No correction required

Q-150 वीरू और जय में चोली-दामन का साथ है। रेखांकित मुहावरे का अर्थ है---

eng hin

01. एक-दूसरे से शत्रुता

02. एक-दूसरे से मित्रता

03. एक-दूसरे पर निर्भरता

04. एक-दूसरे से स्पर्धा

05. इनमें से कोई नहीं

Solution for Question 150

Ans Key: 3

Passage for Question 151, 152, 153, 154, 155, 156 (ST-2081 RRB CLERK MAINS E (31-36) 2020)

eng/eng Passage

Read the following passage carefully and answer the questions given below it. Certain words have been given in bold to help you locate them while answering some questions.

Less than two months after asserting that “global growth appears to be bottoming out”, the pandemic induced ‘Great Lockdown’ has forced the IMF to junk all its previous projections for economic output in 2020. Faced with the stark reality of sweeping shutdowns of almost entire economies worldwide, the fund last week acknowledged that the current “crisis is like no other”. Forecasting the sharpest contraction in world output since the Great Depression of the 1930s, the IMF slashed its projection by 6.3 percentage points from its January forecast for 3.3% growth to a 3% decline. In contrast, the recession of 2009 saw world output contract by a mere 0.1%. That the IMF was blindsided by the comments from Chinese authorities and WHO is clear from the fact that as recently as February 22, the fund’s chief, Kristalina Georgieva, told G20 Finance Ministers that “global growth would be about 0.1 percentage points lower” than forecast in January. China’s GDP, she projected, would expand by 5.6% this year, 0.4 percentage points slower than assumed in January. Last week, the IMF slashed China’s forecast to a growth of 1.2%, citing data on industrial production, retail sales, and fixed asset investment that, it said, suggested a contraction of about 8% in the first quarter. China reported a 6.8% first- quarter contraction. Still, in projecting an annual expansion in Asia’s largest economy, the fund is rather optimistically foreseeing a sharp rebound in activity over the rest of the year.

On India, the IMF has cut its projection for growth in the fiscal year that started on April 1, from January’s 5.8%, to 1.9%. This again appears predicated on the fund’s baseline scenario that assumes that the pandemic would ‘fade in the second half of 2020’, allowing containment efforts to be unwound and economic activity to normalise. Another key assumption by the IMF’s economists is the availability of policy support to nurture the revival once activity restarts. Jettisoning its storied fiscal conservatism, the fund’s chief economist, Gita Gopinath, has advocated ramping up a broad-based and coordinated stimulus once the disease has been contained, a measure that would help avoid the errors of the Great Depression years when premature efforts to prune budget deficits prolonged the downturn. In this context, India’s fiscal measures pale in terms of scale when compared with what several other nations have undertaken. Given the size of the informal sector in India as well as the anticipated prolonged disruption in labour supply even in more formal parts of the economy, the Centre needs to proactively commit to a substantial stimulus package in order to ensure that once the economy reopens, it has the legs to run.

eng hin Passage

नीचे दिए गए गद्यांश को ध्यानपूर्वक पढ़िए और इस पर आधारित प्रश्नों के उत्तर दीजिए। गद्यांश के अनुसार, दिए गए विकल्पों में से सबसे उपयुक्त विकल्प का चयन कीजिए।

भारत में ही नहीं बल्कि विश्व के प्रायः सभी देशों में महिलाओं को विभिन्न प्रकार से शोषित किया जाता रहा है। लेकिन भारत में महिलाओं की स्थिति आज भी स्थिति दयनीय दिखाई पड़ती है। इसे बचपन में पिता, युवा अवस्था में पति तथा बुढ़ापे में पुत्र पर आश्रित या इनके अधीन समझा जाता है। वैसे तो भारतीय पवित्र ग्रन्थों में यह कहा गया है कि जहाँ नारी को सम्मान नहीं मिलता तथा इनकी पूजा नहीं की जाती वहाँ देवताओं का निवास नहीं होता है। लेकिन यह कहावत भारत में केवल पवित्र ग्रन्थों के पन्नों को ही सुशोभित कर रही है या उन्हीं पन्नों तक सिमट कर रह गई है। महिलाओं की स्थिति को आज के युवा पीढ़ी के समझना होगा और उनके लिए उचित वातावरण बनाना होगा, जिससे वो अपनी जिन्दगी को खुल कर जिये, और उनको किसी भी प्रकार की समस्या न हो। यदि वास्तविक स्थिति को देखा जाए तो देश में महिलाएँ आज भी अनेक प्रकार की समस्याओं से घिर कर जूझ रही हैं। कहीं इनका शारीरिक शोषण किया जा रहा है तथा पुरुषों से कम मजदूरी दी जा रही है तो कहीं निम्न सामाजिक पद स्थिति के कारण अस्तित्वविहीन दिखाई दे रही हैं। महिलाओं की समस्याओं को समाप्त कर इनके उत्थान के कार्य आवश्यक एवं अनिवार्य माने जाते हैं। धीरे-धीरे महिलाओं की समस्याओं को लेकर सरकार और समाज दोनों सजग हुए हैं, और इनको काफी सहूलियत भी दी जा रही है।

किसी भी देश की जनसंख्या में महिलाओं की संख्या लगभग आधी होती है। भारत में 2011 की जनगणना के अनुसार प्रति हजार पुरुषों पर 940 महिलाएँ हैं। साथ ही कोई भी सरकार महिलाओं की समस्या को बहुत अधिक समय तक नजर अन्दाज नहीं कर सकती है। भारत में स्वतन्त्रता के पहले भी महिलाओं की समस्याओं को दूर करने के लिए अनेक कदम उठाए गए थे। संगठित रूप से इस दिशा में स्वतन्त्रता के बाद भी कार्य किया गया तथा इनके उत्थान के क्षेत्र में विभिन्न प्रकार के कार्य सरकारी या ऐच्छिक आधार पर किए जाने लगे। किसी भी देश में महिलाओं की जो समस्याएँ उत्पन्न होती हैं, उन्हें सुलझाने के लिए उस देश की सरकार के द्वारा कुछ-न-कुछ अदम अवश्य उठाए जाते हैं। सरकार द्वारा 2005 में घरेलू हिंसा अधिनियम पारित किया गया। भारत में महिलाओं की समस्याएँ, अन्य देशों की महिलाओं की समस्याओं से कहीं अधिक पाई जाती हैं। इसका मुख्य कारण है—भारत की महिलाओं में अशिक्षा का होना, उनकी पुरुषों पर आर्थिक निर्भरता, उनके प्रति समाज का अलग दृष्टिकोण तथा हमारी सामाजिक मान्यताएँ एवं परम्पराएँ। महिलाओं की सुरक्षा के लिए पहले से ही काफी सारे कानून बनाये गये हैं, जैसे- कार्यरत महिलाओं की समस्याओं के समाधान के लिए शहरों में वर्किंग वूमन हॉस्टल स्थापित किए गये हैं।

भारत में महिला साक्षरता दर धीरे-धीरे बढ़ रही है लेकिन यह पुरुष साक्षरता दर से कम है। लड़कों की तुलना में बहुत ही कम लड़कियाँ स्कूलों में दाखिला लेती हैं और उनमें से कई बीच में ही अपनी पढ़ाई छोड़ देती हैं। नेशनल सैम्पल सर्वे डेटा के मुताबिक केवल केरल और मिजोरम राज्यों ने सार्वभौमिक महिला साक्षरता दर को हासिल किया है। ज्यादातर विद्वानों ने केरल में महिलाओं की बेहतर सामाजिक और आर्थिक स्थिति के पीछे प्रमुख कारक साक्षरता को माना है।

अनौपचारिक शिक्षा कार्यक्रम के तहत राज्यों में 40% केंद्र और केन्द्र शासित प्रदेशों में 10% केंद्र विशेष रूप से महिलाओं के लिए आरक्षित हैं। वर्ष 2000 तक लगभग तीन लाख एनएफई केंद्रों द्वारा तकरीबन 70 लाख 42 हजार बच्चों को सेवा दी जा रही थी जिनमें से लगभग 12 लाख विशेष रूप से लड़कियों के लिए थे। शहरी भारत में लड़कियाँ शिक्षा के मामले में लड़कों के लगभग साथ-साथ चल रही हैं। हालांकि ग्रामीण भारत में लड़कियों को आज भी लड़कों की तुलना में कम शिक्षित किया जाता है। महिलाओं को लिए पहले से बनाये गये कानून में सरकार अब संशोधन कर और सहूलियत दे रही है जो जरूरी भी है जैसे-मेटरनिटी बेनीफिट एक्ट 1961 में जो सुविधा मातृत्व लाभ की दी जाती थी उसको भी बढ़ा दिया गया। भारत में महिला कल्याण के क्षेत्र में अनेक तरह के कार्य किए जा रहे हैं। कहा जाता है कि यह इतना बड़ा बोझ है जिसे केवल सरकार नहीं उठा सकती है। इस बोझ को उठाने के लिए समाज के सभी वर्गों को आगे ना होगा। वैसे तो महिलाओं के कल्याण के लिए काफी कार्य किए गए हैं। लेकिन अभी भी इसे सन्तोषजनक नहीं कहा जा सकता है।

Q-151 According to the passage, what does the centre needs to do for the economy?

- eng/eng**
- A. The centre needs to provide the package of expense as compensation.
 - B. The centre needs to open the free packages to every citizen to escape itself from recession.
 - C. The centre needs to proactively pledge to a substantial inducement package.

01. Only A
03. Only C
05. Both A and C
- कार्यरत महिलाओं की समस्याओं के समाधान के लिए शहरों क्या स्थापित किये गये हैं?

02. Only B
04. Both A and B

Q-151
eng hin

01. नर्सिंग होम
03. वर्किंग वूमेन हॉस्टल
05. इनमें से कोई नहीं
02. हॉस्पिटल
04. टेलीफोन एक्सचेंज

Solution for Question 151

Ans Key: 3

eng/eng The answer lies at the last of the passage.

eng hin निष्कर्ष- उत्तर गद्यांश के दूसरे पैराग्राफ में है।

Q-152 Choose the word most **SIMILAR** in meaning to the word given in bold, as used in the passage.

eng/eng **Jettisoning**

01. accepting
03. projecting
05. affecting
02. abandoning
04. developing

Q-152 मेटरनिटी बेनीफिट एक्ट 1961 के द्वारा महिलाओं के क्या सुविधा प्रदान की जाती है?

eng hin

01. प्रशिक्षण
03. शिक्षा लाभ
05. समान अधिकार
02. मातृत्व लाभ
04. रोजगार

Solution for Question 152

Ans Key: 2

eng/eng Jettison (v)- abandon or discard (someone or something that is no longer wanted).
Abandon (v)- give up completely (a practice or a course of action).
For other options:
Project (v)- estimate or forecast (something) on the basis of present trends.
Eject (v)- force or throw (something) out in a violent or sudden way.

eng hin मातृत्व लाभ

Q-153 What has compelled the IMF to junk all its previous projections as per the given passage?

eng/eng

- A. The pandemic covid-19
B. The economy during the lockdown
C. The huge lockdown to curb the pandemic

01. Only A
03. Only C
05. Both A and C
02. Only B
04. Both A and B

Q-153 महिला कल्याण का मुख्य उद्देश्य क्या है?

eng hin

01. महिलाओं को जागरूक बनाना
03. इनमें से सभी
05. महिलाओं को आत्मनिर्भर बनाना
02. महिलाओं की शैक्षिक एवं आर्थिक उन्नति करना
04. महिलाओं को समाज में प्रतिष्ठित करना

Solution for Question 153

Ans Key: 3

eng/eng The answer can be inferred from the beginning of the passage.

eng hin इनमें से सभी

Q-154 Which of the following is/are the reason/s behind IMF's reduction in the projected growth rate by three percent ?

eng/eng

- A. The fund last week acknowledged that the current "crisis is like no other".
B. Sharpest shrink observed in world economy since the huge downturn of the 1930s.
C. The recession of 1930 which resulted in the contraction of world output.

01. Only A
03. Only C
05. Only B
02. Both A and C
04. Both A and B

Q-154 दिये गद्यांश में बोल्ड(उभरे) हुए शब्द का समानार्थी शब्द बताइए?

eng hin

दयनीय

01. उदास
03. दुखद
05. इनमे से सभी
02. शोचनीय
04. खस्ताहाल

Solution for Question 154

Ans Key: 5

eng/eng The answer is mentioned in the fifth line of the passage.

eng hin इनमे से सभी

Q-155 According to the passage, what does the fund's baseline scenario assert?

eng/eng

- A. It asserts that the IMF has reduced the projection of growth rate.
B. It asserts that the pandemic would be dim in the second half of 2020.
C. It asserts that any pandemic which makes stir in the world, affects enough the economy.

01. Only A
03. Only C
05. Both A and C
02. Only B
04. Both A and B

Q-155 दिये गद्यांश के अनुसार घरेलू हिंसा अधिनियम कब पारित किया गया?

eng hin

01. 2004
03. 2006
05. 2003
02. 2005
04. 2007

Solution for Question 155

Ans Key: 2

eng/eng The answer lies in the mid of the second paragraph.

eng hin 2005

Q-156 In which of the following sentence(s), the phrase 'ramp up' has been used correctly?

eng/eng

- A. The company announced plans to ramp up production to 10000 units per month.
B. Research on the station will ramp up slower than expected because of smaller crews and limited resources.
C. Announcement of the merger is expected to ramp up share prices over the next few days.

01. Only A
03. Only A and B
05. All of the above
02. Only B
04. Only A and C

Q-156 नेशनल सैम्पल सर्वे डेटा के मुताबिक कौन से दो राज्य महिला साक्षरता दर को हासिल किया है?

eng hin

01. पंजाब और गोवा
03. महाराष्ट्र और गुजरात
05. केरल और मिजोरम
02. पश्चिम बंगाल और उत्तरप्रदेश
04. हरियाणा, मध्यप्रदेश

Solution for Question 156

Ans Key: 5

eng/eng In A, B and C- 'Ramp up' means 'a large increase in activity or in the level of something'

Passage for Question 157, 158, 159, 160 (ST-2081 RRB CLERK MAINS E (37-40) 2020)

eng/eng Passage

Read the following passage carefully and answer the questions given below it. Certain words have been given in bold to help you locate them while answering some questions.

The upheaval caused by the novel coronavirus should inspire a review of past choices and policies. Some of these policies had gained so much acceptance that one felt there was no point left in questioning them. Public health and education are two areas in which India took a decisive turn in the 1990s. When several States decided to stop giving permanent appointment letters to doctors and teachers in the mid-1990s, they were guided by an ideological shift at the national level towards allowing health and education to be opened up for private enterprise. This was viewed as a major policy reform, a necessary part of the bigger package of

economic reforms. They were presented as a package, offering little choice for specific areas.

Acceptance of historical destiny implied that we could simply **sit back** and let history take its familiar course. The only thing the welfare state might do was to mitigate the misery of the masses. As they faced the decimation of the rural people's economy, safety nets could be thrown at them to provide subsistence-level provision of food, literacy and disease control. Special measures were designed to select the 'best' among rural children and make them competitive enough to survive in the urban world that was treated as mainstream.

This general framework justified discriminatory funding in every sphere, including health and education. No serious public investment could be made in villages. Even as medical education and teacher training became increasingly privatised, the availability of qualified doctors and teachers willing to work in villages dwindled. Ideologically-inspired pursuit of economic reforms swept State after State, leaving little room for dissent or longer term thinking. A veneer of welfarism was maintained. It allowed the expansion of essential facilities of a rudimentary kind in villages. They served as sites for special schemes for the poor and provided minimalist provisions. The goal was to keep the poor alive and occupied. Privately-run facilities burgeoned, creating an ethos that boosted commercial goals in health care and schooling. Stuck between state minimalism and commercial entrepreneurship, villages lost what capacity they had for regenerating their economy or intellectual resources.

Once upon a time, there were debates over the nature of India's rural society — on whether it was intrinsically good or bad. These debates are no longer relevant. The village is, however, still relevant, at least for the vast number of urban workers. Similarly, while the problem of defining a village in an academic sense has ceased to matter, its existential reality has asserted itself, and we need to recognise this assertion. If we do, we might agree to notice a problem in policies that do not acknowledge the right of villages to flourish as human habitations with their own distinctive future. They deserve to have new sites and forms of livelihood. They also deserve systems of health and education that are not designed as feeders to distant centres. Initiatives in this direction will make both cities and villages more sustainable and capable of coping with the kind of crisis we are currently facing.

eng hin Passage

नीचे दिए गए गद्यांश को ध्यानपूर्वक पढ़िए और इस पर आधारित प्रश्नों के उत्तर दीजिए। गद्यांश के अनुसार, दिए गए विकल्पों में से सबसे उपयुक्त विकल्प का चयन कीजिए।

शीलयुक्त व्यवहार मनुष्य की प्रकृति और व्यक्तित्व को उद्घाटित करता है। उत्तम, प्रशंसनीय और पवित्र आचरण ही शील है। शीलयुक्त व्यवहार प्रत्येक व्यक्ति के लिए हितकर है। इससे मनुष्य की ख्याति बढ़ती है। शीलवान् व्यक्ति सबका हृदय जीत लेता है। शील-युक्त व्यवहार से कटुता दूर भागती है। इससे शंका और सन्देह की स्थितियाँ कभी उत्पन्न नहीं होतीं। इससे ऐसा सुखद वातावरण सृजित होता है जिसमें सभी प्रसन्नता का अनुभव करते हैं। शीलवान् व्यक्ति अपने सम्पर्क में आने वाले सभी लोगों को सुप्रभावित करता है। शील इतना प्रभुत्वपूर्ण होता है कि किसी कार्य के बिगड़ने की नौबत ही नहीं आती।

आप जैसे व्यक्ति हैं वही आपका व्यक्तित्व है और वह आपके आचरण, संवेदनशीलता और विचारों से व्यक्त होता है। इसी प्रकार एक जगह लिखा गया है कि किसी व्यक्ति का पूरा स्वभाव और चरित्र ही व्यक्तित्व कहलाता है। आधुनिक मनोविज्ञान का बहुत ही महत्वपूर्ण और प्रमुख विषय है व्यक्तित्व है। कोई व्यक्ति कैसा आचरण करता है कैसा महसूस करता है और कैसा सोचता है किसी विशेष परिस्थिति में वह कैसा व्यवहार करता है यह काफी कुछ उसकी मानसिक संरचना पर निर्भर करता है। किसी व्यक्ति की केवल वाह्य आकृति या उसकी बातें या चाल-ढाल उसके व्यक्तित्व के केवल छोर भर हैं। ये उसके सच्चे व्यक्तित्व को प्रकट नहीं करते। व्यक्तित्व का विकास वस्तुतः व्यक्ति के गहन स्तरों से संबंधित है। इसलिए मन और उसकी क्रियाविधि के बारे में स्पष्ट समझ से ही हमारे व्यक्तित्व का अध्ययन प्रारंभ होना चाहिए।

अधिकारी-अधीनस्थ, शिक्षक-शिक्षार्थी, छोटों- बड़ों आदि सभी के लिए शीलयुक्त व्यवहार समान रूप से आवश्यक हैं। शिक्षार्थी में शील का अभाव है तो वह अपने शिक्षक से वाञ्छित शिक्षा प्राप्त नहीं कर सकता। शीलवान् अधिकारी या कर्मचारी में आत्मविश्वास की वृद्धि स्वतः ही होने लगती है और साथ-ही-साथ उसके व्यक्तित्व में शालीनता आ जाती है। इस अमूल्य गुण की उपस्थिति में अधिकारी वर्ग और अधीनस्थ कर्मचारियों के बीच, शिक्षकगण और विद्यार्थियों के बीच तथा शासक और शासित के बीच मधुर एवं प्रगाढ़ सम्बन्ध स्थापित होते हैं और प्रत्येक वर्ग की कार्यकुशलता में वृद्धि होती है। इस गुण के माध्यम से छोटे-से-छोटा व्यक्ति बड़ों की सहानुभूति अर्जित कर लेता है।

प्रत्येक व्यक्ति में कुछ विशेष गुण या विशेषताएं होती हैं जो दूसरे व्यक्ति में नहीं होतीं। इन्हीं गुणों और विशेषताओं के कारण ही प्रत्येक व्यक्ति एक दूसरे से भिन्न होता है। व्यक्ति के इन गुणों का समुच्चय ही व्यक्ति का व्यक्तित्व कहलाता है। व्यक्तित्व एक स्थिर अवस्था न होकर एक गतिशील स्थिति है, जिस पर परिवेश का प्रभाव पड़ता है। इसी कारण से उसमें बदलाव आ सकता है। एक व्यक्ति के आचार-विचार व्यवहार क्रियाएं और गतिविधियों में व्यक्ति का व्यक्तित्व झलकता है। व्यक्ति का समस्त व्यवहार उसके वातावरण या परिवेश में समायोजन करने के लिए होता है। जनसाधारण में व्यक्तित्व का अर्थ व्यक्ति के वाह्य रूप से लिया जाता है परंतु मनोविज्ञान में व्यक्तित्व का अर्थ व्यक्ति के गुणों से है। मनुष्य के व्यक्तित्व की पहचान उसके बातचीत करने के ढंग से होती है। भले ही कोई व्यक्ति कितना ही सुंदर हो, परंतु वाणी में कर्कशता या रूखापन हो तो वह कभी किसी को अपनी ओर आकर्षित नहीं कर सकता। इसके विपरीत सामान्य-सा दिखने वाला व्यक्ति यदि सौम्य है और उसकी वाणी में मिठास है तो वह सहज ही सबको अपनी ओर आकर्षित कर लेगा।

शील कोई दुर्लभ और दैवी गुण नहीं है। इस गुण को अर्जित किया जा सकता है। पारिवारिक संस्कार इस गुण को विकसित और विस्तारित करने में बड़ी भूमिका अदा करते हैं। मूल भूमिका तो व्यक्ति स्वयं अदा करता है। चिंतन, मनन, सत्संगति, स्वाध्याय और सतत अभ्यास से इस गुण की सुरक्षा और इसका विकास होता है। सुसंस्कृत मनुष्य के चरित्र का यह शील अभिन्न अंग है। यह गुण मनुष्य को सच्चे अर्थों में मानव बनाता है। इस अमूल्य गुण को अपने जीवन का अभिन्न अंग बनाना प्रत्येक मनुष्य का परम कर्तव्य है। इससे मनुष्य की गरिमा बढ़ती है और उससे व्यक्तित्व में चार चाँद लग जाते हैं।

Q-157 Why did villages lose the capacity that they had for recreating their economy?

eng/eng

- A. They have sites for special schemes for the poor and provided minimalist provisions.
- B. They are more sustainable and capable of coping with the crisis of this kind.
- C. They are being sandwiched between state minimalism and commercial entrepreneurship.

01. Only A

02. Only B

03. Only C

04. Both A and B

05. Both A and C

Q-157 शीलयुक्त व्यवहार प्रत्येक व्यक्ति के लिए क्यों हितकर है?

eng hin

01. बहुत अधिक सम्पत्ति मिलती है

02. पुण्य प्राप्त होता है

03. कटुता दूर होती है

04. दीर्घ आयु प्राप्त होती है

05. दूरी बन जाती है

Solution for Question 157

Ans Key: 3

eng/eng The answer lies at the end of the third paragraph.

eng hin निष्कर्ष- उत्तर गद्यांश के पहले पैराग्राफ में है।

Q-158 What happened when facilities given by private organizations started to flourish?

eng/eng

- A. Market dominion was established.
- B. An ethos was created.
- C. Commercial goals got a boost.

01. Only A

02. Only B

03. Only C

04. Both A and B

05. Both B and C

Q-158 शील-गुण के कारण अधिकारियों और कर्मचारियों में----

eng hin

01. स्नेह घटने लगता है।

02. परस्पर सन्देश बढ़ता है।

03. कटुता एवं वैमनस्य स्थापित होता है।

04. काम ज्यादा अच्छा होता है।

05. मधुर एवं प्रगाढ़ सम्बन्ध स्थापित होता है।

Solution for Question 158

Ans Key: 5

eng/eng The answer lies in the third paragraph of the passage.

eng hin निष्कर्ष- उत्तर गद्यांश के दूसरे पैराग्राफ में है।

Q-159 Which among the following is NOT TRUE according to the given passage?

eng/eng

01. The upheaval caused by the novel coronavirus shouldn't inspire a review of past policies.

02. Economic reforms were presented as a package, not offering little choice for specific areas.

03. Public transport and education are two areas in which India took a decisive turn in the 1990s.

04. Special measures were not designed to select the 'best' among rural children and make them competitive enough to survive in the urban world.

05. None of above

Q-159 शील-गुण किस प्रकार अर्जित किया जा सकता है?

eng hin

01. मित्रों के साथ समय बिताने से

02. स्वयं के चिन्तन, मनन, सत्संगति एवं सतत अभ्यास से

03. ख्याली पुलाव पकाने से

04. प्रतिदिन नियमित व्यायाम से

05. सबसे अच्छा व्यवहार रखने से

Solution for Question 159

Ans Key: 2

eng/eng The answer lies in the first paragraph of the passage.

eng hin निष्कर्ष- उत्तर गद्यांश के तीसरे पैराग्राफ में है।

Q-160 Choose the sentence/s in which the highlighted word is meaningfully used.

eng/eng

- A. Neither did Death **sit back** and wait to discover the information he needed to do his job.
- B. I cannot just **sit back** and let Liz get on with it.
- C. Only when he released her did she **sit back** on her heels and open her eyes.

01. Only A

02. Only B

03. Only C

04. Both A and B

05. All A, B and C

Q-160 शीलवान् व्यक्ति अपने सम्पर्क में आने वाले लोगों को कैसे प्रभावित करता है?

eng hin

01. सबको गर्मजोशी से स्वागत द्वारा प्रभावित करता है

02. लोगों की निःस्वार्थ सेवा द्वारा प्रभावित करता है

03. साधन सुलभ कराने के द्वारा प्रभावित करता है

04. इनमे से कोई नहीं

05. सुखद वातावरण के सृजन द्वारा प्रभावित करता है

Solution for Question 160

Ans Key: 5

eng/eng Sit back (phrase)- relax.

eng hin निष्कर्ष- उत्तर गद्यांश के चौथे पैराग्राफ में है।

Q-161 Usually, installation files have the extension _____
eng/eng आमतौर पर, इंस्टॉलेशन फ़ाइलों में एक्सटेंशन _____ होता है

- | | |
|-----------|----------|
| 01. .jpeg | 02. .gif |
| 03. .exe | 04. .doc |
| 05. .bng | |

Q-161 Usually, installation files have the extension _____
eng hin आमतौर पर, इंस्टॉलेशन फ़ाइलों में एक्सटेंशन _____ होता है

- | | |
|-----------|----------|
| 01. .jpeg | 02. .gif |
| 03. .exe | 04. .doc |
| 05. .bng | |

Solution for Question 161

Ans Key: 3

eng/eng Usually, installation files have the extension .exe
आमतौर पर, इंस्टॉलेशन फ़ाइलों में एक्सटेंशन .exe होता है

eng hin Usually, installation files have the extension .exe
आमतौर पर, इंस्टॉलेशन फ़ाइलों में एक्सटेंशन .exe होता है

Q-162 _____ tags on goods enable the tracking of the good electronically.
eng/eng सामान पर _____ टैग इलेक्ट्रॉनिक रूप से सामान ट्रैकिंग को सक्षम करते हैं।

- | | |
|----------|---------|
| 01. ASTM | 02. GPS |
| 03. RFID | 04. ISP |
| 05. IMB | |

Q-162 _____ tags on goods enable the tracking of the good electronically.
eng hin सामान पर _____ टैग इलेक्ट्रॉनिक रूप से सामान ट्रैकिंग को सक्षम करते हैं।

- | | |
|----------|---------|
| 01. ASTM | 02. GPS |
| 03. RFID | 04. ISP |
| 05. IMB | |

Solution for Question 162

Ans Key: 3

eng/eng RFID: Radio-frequency identification tags on goods enable the tracking of the good electronically.
सामान पर RFID टैग इलेक्ट्रॉनिक रूप से सामान ट्रैकिंग को सक्षम करते हैं।

eng hin RFID: Radio-frequency identification tags on goods enable the tracking of the good electronically.
सामान पर RFID टैग इलेक्ट्रॉनिक रूप से सामान ट्रैकिंग को सक्षम करते हैं।

Q-163 Devices, such as monitors and printers that are connected to the computer are called _____
eng/eng डिवाइस, जैसे मॉनिटर और प्रिंटर जो कंप्यूटर से जुड़े हैं, उन्हें _____ कहा जाता है

- | | |
|------------------------|------------------------|
| 01. processing devices | 02. system devices |
| 03. input devices | 04. peripheral devices |
| 05. attachment devices | |

Q-163 Devices, such as monitors and printers that are connected to the computer are called _____
eng hin डिवाइस, जैसे मॉनिटर और प्रिंटर जो कंप्यूटर से जुड़े हैं, उन्हें _____ कहा जाता है

- | | |
|------------------------|------------------------|
| 01. processing devices | 02. system devices |
| 03. input devices | 04. peripheral devices |
| 05. attachment devices | |

Solution for Question 163

Ans Key: 4

eng/eng	Devices, such as monitors and printers that are connected to the computer are called peripheral devices डिवाइस, जैसे मॉनिटर और प्रिंटर जो कंप्यूटर से जुड़े हैं, उन्हें पेरिफेरल डिवाइस कहा जाता है
eng hin	Devices, such as monitors and printers that are connected to the computer are called peripheral devices डिवाइस, जैसे मॉनिटर और प्रिंटर जो कंप्यूटर से जुड़े हैं, उन्हें पेरिफेरल डिवाइस कहा जाता है

Q-164 RAM is considered volatile storage, which means it is _____
eng/eng RAM को वोलाटाइल मेमोरी माना जाता है, जिसका अर्थ है कि यह _____ है

- | | |
|---------------|--------------|
| 01. random | 02. optional |
| 03. permanent | 04. read |
| 05. temporary | |

Q-164 RAM is considered volatile storage, which means it is _____
eng hin RAM को वोलाटाइल मेमोरी माना जाता है, जिसका अर्थ है कि यह _____ है

- | | |
|---------------|--------------|
| 01. random | 02. optional |
| 03. permanent | 04. read |
| 05. temporary | |

Solution for Question 164 Ans Key: 5

eng/eng	RAM is considered volatile storage, which means it is temporary. RAM को वोलाटाइल मेमोरी माना जाता है, जिसका अर्थ है कि यह अस्थायी है
eng hin	RAM is considered volatile storage, which means it is temporary. RAM को वोलाटाइल मेमोरी माना जाता है, जिसका अर्थ है कि यह अस्थायी है

Q-165 Which of the following refers to a technique for intercepting computer communications?
eng/eng निम्नलिखित में से कौन कंप्यूटर संचार को बाधित करने की तकनीक को संदर्भित करता है?

- | | |
|-------------------------|--------------|
| 01. Phishing Downloaded | 02. Spoofing |
| 03. Pretexting | 04. Hacking |
| 05. Sniffing | |

Q-165 Which of the following refers to a technique for intercepting computer communications?
eng hin निम्नलिखित में से कौन कंप्यूटर संचार को बाधित करने की तकनीक को संदर्भित करता है?

- | | |
|-------------------------|--------------|
| 01. Phishing Downloaded | 02. Spoofing |
| 03. Pretexting | 04. Hacking |
| 05. Sniffing | |

Solution for Question 165 Ans Key: 5

eng/eng	Sniffing is a process of monitoring and capturing all data packets passing through given network. Sniffing एक प्रक्रिया है जो दिए गए नेटवर्क से गुजरने वाले सभी डेटा पैकेटों की निगरानी और कब्जा करने की प्रक्रिया है।
eng hin	Sniffing is a process of monitoring and capturing all data packets passing through given network. Sniffing एक प्रक्रिया है जो दिए गए नेटवर्क से गुजरने वाले सभी डेटा पैकेटों की निगरानी और कब्जा करने की प्रक्रिया है।

Q-166 If you copy and paste a file _____
eng/eng यदि आप कॉपी करते हैं और एक फ़ाइल पेस्ट करते हैं

- | | |
|--|--|
| 01. The original file remains unchanged and a new file is not created. | 02. The original file remains unchanged and a new file is created. |
| 03. The original file is deleted and the new file is created. | 04. The original file is removed and a new file is not created. |
| 05. The file gets scanned. | |

Q-166 If you copy and paste a file _____
eng hin यदि आप कॉपी करते हैं और एक फ़ाइल पेस्ट करते हैं

- | | |
|--|--|
| 01. The original file remains unchanged and a new file is not created. | 02. The original file remains unchanged and a new file is created. |
| 03. The original file is deleted and the new file is created. | 04. The original file is removed and a new file is not created. |
| 05. The file gets scanned. | |

Solution for Question 166

eng/eng	If you copy and paste a file the original file remains unchanged and a new file is created. यदि आप किसी फ़ाइल को कॉपी और पेस्ट करते हैं तो मूल फ़ाइल अपरिवर्तित रहती है और एक नई फ़ाइल बन जाती है।
eng hin	If you copy and paste a file the original file remains unchanged and a new file is created. यदि आप किसी फ़ाइल को कॉपी और पेस्ट करते हैं तो मूल फ़ाइल अपरिवर्तित रहती है और एक नई फ़ाइल बन जाती है।

Q-167 An Internet technology environment that sends information to a user without an explicit request from the user is
eng/eng एक इंटरनेट प्रौद्योगिकी पर्यावरण जो उपयोगकर्ता से स्पष्ट अनुरोध के बिना उपयोगकर्ता को जानकारी भेजता है

- | | |
|----------------------|------------------|
| 01. Info ware | 02. Push |
| 03. Pull | 04. F202C |
| 05. Wild | |

Q-167 An Internet technology environment that sends information to a user without an explicit request from the user is
eng hin एक इंटरनेट प्रौद्योगिकी पर्यावरण जो उपयोगकर्ता से स्पष्ट अनुरोध के बिना उपयोगकर्ता को जानकारी भेजता है

- | | |
|----------------------|------------------|
| 01. Info ware | 02. Push |
| 03. Pull | 04. F202C |
| 05. Wild | |

Solution for Question 167

Ans Key: 2

eng/eng	An Internet technology environment that sends information to a user without an explicit request from the user is Push. एक इंटरनेट प्रौद्योगिकी पर्यावरण जो उपयोगकर्ता से स्पष्ट अनुरोध के बिना उपयोगकर्ता को जानकारी PUSH के द्वारा भेजता है
eng hin	An Internet technology environment that sends information to a user without an explicit request from the user is Push. एक इंटरनेट प्रौद्योगिकी पर्यावरण जो उपयोगकर्ता से स्पष्ट अनुरोध के बिना उपयोगकर्ता को जानकारी PUSH के द्वारा भेजता है

Q-168 Any _____ appearing on a web page opens another document when clicked.
eng/eng कोई भी _____ एक वेब पेज पर दिखाई देने पर क्लिक करने पर एक और दस्तावेज़ खोलता है।

- | | |
|--------------------|----------------------|
| 01. heading | 02. hyperlink |
| 03. URL | 04. reference |
| 05. anchor | |

Q-168 Any _____ appearing on a web page opens another document when clicked.
eng hin कोई भी _____ एक वेब पेज पर दिखाई देने पर क्लिक करने पर एक और दस्तावेज़ खोलता है।

- | | |
|--------------------|----------------------|
| 01. heading | 02. hyperlink |
| 03. URL | 04. reference |
| 05. anchor | |

Solution for Question 168

Ans Key: 2

eng/eng	Any Hyperlink appearing on a web page opens another document when clicked. कोई भी हाइपरलिंक एक वेब पेज पर दिखाई देने पर क्लिक करने पर एक और दस्तावेज़ खोलता है।
eng hin	Any Hyperlink appearing on a web page opens another document when clicked. कोई भी हाइपरलिंक एक वेब पेज पर दिखाई देने पर क्लिक करने पर एक और दस्तावेज़ खोलता है।

Q-169 Which of the following is the correct sequence, the unit of memory, smallest to largest?
eng/eng निम्नलिखित में से कौन सा सही क्रम है, मेमोरी यूनिट की इकाई का , सबसे छोटे से सबसे बड़े में ?

- | | |
|---|---|
| 01. kilobyte, gigabyte, megabyte, terabyte | 02. megabyte, terabyte, kilobyte, gigabyte |
| 03. kilobyte, megabyte, terabyte, gigabyte | 04. megabyte, kilobyte, gigabyte, terabyte |
| 05. kilobyte, megabyte, gigabyte, terabyte | |

Q-169 Which of the following is the correct sequence, the unit of memory, smallest to largest?
eng hin निम्नलिखित में से कौन सा सही क्रम है, मेमोरी यूनिट की इकाई का , सबसे छोटे से सबसे बड़े में ?

- | | |
|---|---|
| 01. kilobyte, gigabyte, megabyte, terabyte | 02. megabyte, terabyte, kilobyte, gigabyte |
| 03. kilobyte, megabyte, terabyte, gigabyte | 04. megabyte, kilobyte, gigabyte, terabyte |
| 05. kilobyte, megabyte, gigabyte, terabyte | |

Solution for Question 169

Ans Key: 5

eng/eng	Kilobyte, megabyte, gigabyte, terabyte is the smallest to largest memory unit.
----------------	--

किलोबाइट, मेगाबाइट, गीगाबाइट, टेराबाइट सबसे छोटी मेमोरी यूनिट से सबसे बड़ी मेमोरी यूनिट है।

eng hin Kilobyte, megabyte, gigabyte, terabyte is the smallest to largest memory unit.
किलोबाइट, मेगाबाइट, गीगाबाइट, टेराबाइट सबसे छोटी मेमोरी यूनिट से सबसे बड़ी मेमोरी यूनिट है।

Q-170 Which of the following will you consider as most secure?
eng/eng आप निम्न में से किसको सबसे अधिक सुरक्षित मानेंगे?

- | | |
|------------------------------|--------------------------|
| 01. Login phrase | 02. Login numeral |
| 03. Password | 04. Login ID |
| 05. One Time Password | |

Q-170 Which of the following will you consider as most secure?
eng hin आप निम्न में से किसको सबसे अधिक सुरक्षित मानेंगे?

- | | |
|------------------------------|--------------------------|
| 01. Login phrase | 02. Login numeral |
| 03. Password | 04. Login ID |
| 05. One Time Password | |

Solution for Question 170 Ans Key: 5

eng/eng One Time Password will you consider as most secure
OTP को आप सबसे अधिक सुरक्षित मानेंगे

eng hin One Time Password will you consider as most secure
OTP को आप सबसे अधिक सुरक्षित मानेंगे

Q-171 In a Word document, _____ bar gives the information about the page number, number of pages etc.
eng/eng किसी वर्ड डॉक्यूमेंट में, _____ बार पेज नंबर, पेजों की संख्या आदि की जानकारी देता है।

- | | |
|-------------------|------------------|
| 01. Tool | 02. Menu |
| 03. Task | 04. Title |
| 05. Status | |

Q-171 In a Word document, _____ bar gives the information about the page number, number of pages etc.
eng hin किसी वर्ड डॉक्यूमेंट में, _____ बार पेज नंबर, पेजों की संख्या आदि की जानकारी देता है।

- | | |
|-------------------|------------------|
| 01. Tool | 02. Menu |
| 03. Task | 04. Title |
| 05. Status | |

Solution for Question 171 Ans Key: 5

eng/eng In a Word document, Status bar gives the information about the page number, number of pages etc.
किसी वर्ड डॉक्यूमेंट में, स्टेटस बार पेज नंबर, पेजों की संख्या आदि की जानकारी देता है।

eng hin In a Word document, Status bar gives the information about the page number, number of pages etc.
किसी वर्ड डॉक्यूमेंट में, स्टेटस बार पेज नंबर, पेजों की संख्या आदि की जानकारी देता है।

Q-172 Which of the following refers to restarting the system when it is already powered on?
eng/eng निम्न में से कौन सा सिस्टम को फिर से शुरू करने के लिए संदर्भित करता है जब यह पहले से ही संचालित है?

- | | |
|--------------------------|------------------------|
| 01. a strong boot | 02. a warm boot |
| 03. a cold boot | 04. hibernation |
| 05. standby mode | |

Q-172 Which of the following refers to restarting the system when it is already powered on?
eng hin निम्न में से कौन सा सिस्टम को फिर से शुरू करने के लिए संदर्भित करता है जब यह पहले से ही संचालित है?

- | | |
|--------------------------|------------------------|
| 01. a strong boot | 02. a warm boot |
| 03. a cold boot | 04. hibernation |
| 05. standby mode | |

Solution for Question 172 Ans Key: 2

eng/eng A warm boot refers to restarting the system when it is already powered on.
एक वार्म बूट सिस्टम को पुनः आरंभ करने को संदर्भित करता है जब यह पहले से ही संचालित होता है।

eng hin A warm boot refers to restarting the system when it is already powered on.

Q-173 1 Billion byte = _____ Approx.
eng/eng 1 बिलियन बाइट = _____ लगभग।

- | | |
|------------------|-----------------|
| 01. 1 KB | 02. 1 MB |
| 03. 1 GB | 04. 1 TB |
| 05. N.O.T | |

Q-173 1 Billion byte = _____ Approx.
eng hin 1 बिलियन बाइट = _____ लगभग।

- | | |
|------------------|-----------------|
| 01. 1 KB | 02. 1 MB |
| 03. 1 GB | 04. 1 TB |
| 05. N.O.T | |

Solution for Question 173 Ans Key: 3

eng/eng 1 Billion byte = 1 GB Approx.
 1 बिलियन बाइट = 1 GB लगभग।

eng hin 1 Billion byte = 1 GB Approx.
 1 बिलियन बाइट = 1 GB लगभग।

Q-174 A computer has more than one processor then it is known as?
eng/eng कंप्यूटर में एक से अधिक प्रोसेसर हैं तो इसे किस नाम से जाना जाता है?

- | | |
|--------------------------|-----------------------------|
| 01. Uniprocess | 02. Multiprocessor |
| 03. Multithreaded | 04. Multiprogramming |
| 05. None of these | |

Q-174 A computer has more than one processor then it is known as?
eng hin कंप्यूटर में एक से अधिक प्रोसेसर हैं तो इसे किस नाम से जाना जाता है?

- | | |
|--------------------------|-----------------------------|
| 01. Uniprocess | 02. Multiprocessor |
| 03. Multithreaded | 04. Multiprogramming |
| 05. None of these | |

Solution for Question 174 Ans Key: 2

eng/eng A computer has more than one processor then it is known as multiprocessor.
 कंप्यूटर में एक से अधिक प्रोसेसर हैं तो इसे मल्टीप्रोसेसर नाम से जाना जाता है

eng hin A computer has more than one processor then it is known as multiprocessor.
 कंप्यूटर में एक से अधिक प्रोसेसर हैं तो इसे मल्टीप्रोसेसर नाम से जाना जाता है

Q-175 In a microcomputer system, the CPU is contained on a single chip called the _____.
eng/eng एक माइक्रो कंप्यूटर सिस्टम में, सीपीयू एक चिप पर निहित होता है जिसे _____ कहा जाता है

- | | |
|---------------------------|---------------------------|
| 01. ROM | 02. control unit |
| 03. ALU | 04. semiconductors |
| 05. microprocessor | |

Q-175 In a microcomputer system, the CPU is contained on a single chip called the _____.
eng hin एक माइक्रो कंप्यूटर सिस्टम में, सीपीयू एक चिप पर निहित होता है जिसे _____ कहा जाता है

- | | |
|---------------------------|---------------------------|
| 01. ROM | 02. control unit |
| 03. ALU | 04. semiconductors |
| 05. microprocessor | |

Solution for Question 175 Ans Key: 5

eng/eng In a microcomputer system, the CPU is contained on a single chip called the microprocessor
 एक माइक्रो कंप्यूटर सिस्टम में, सीपीयू एक चिप पर निहित होता है जिसे माइक्रोप्रोसेसर कहा जाता है

eng hin In a microcomputer system, the CPU is contained on a single chip called the microprocessor
 एक माइक्रो कंप्यूटर सिस्टम में, सीपीयू एक चिप पर निहित होता है जिसे माइक्रोप्रोसेसर कहा जाता है

Q-176

eng/eng

A EULA in computing stands for?
EULA का पूर्ण रूप क्या होता है

01.

End-Use License Arrangement

02.

Environmental Use censing Agreement

03.

End-User License Agreement

04.

Everyday-User Learning Assistance

05.

Employee Use Legal Arrangement

Q-176

eng hin

A EULA in computing stands for?
EULA का पूर्ण रूप क्या होता है

01.

End-Use License Arrangement

02.

Environmental Use censing Agreement

03.

End-User License Agreement

04.

Everyday-User Learning Assistance

05.

Employee Use Legal Arrangement

Solution for Question 176		Ans Key: 3
eng/eng	EULA: End-User License Agreement	
eng hin	EULA: End-User License Agreement	

Q-177

eng/eng

Storage that retains its data after the power is turned off is referred to as _____.
स्टोरेज जो बिजली बंद होने के बाद अपने डेटा को बरकरार रखता है, उसे _____ के रूप में संदर्भित किया जाता है।

01.

Sequential storage

02.

non-volatile storage

03.

volatile storage

04.

direct storage

05.

non-destructive storage

Q-177

eng hin

Storage that retains its data after the power is turned off is referred to as _____.
स्टोरेज जो बिजली बंद होने के बाद अपने डेटा को बरकरार रखता है, उसे _____ के रूप में संदर्भित किया जाता है।

01.

Sequential storage

02.

non-volatile storage

03.

volatile storage

04.

direct storage

05.

non-destructive storage

Solution for Question 177		Ans Key: 2
eng/eng	Storage that retains its data after the power is turned off is referred to as non-volatile storage. स्टोरेज जो बिजली बंद होने के बाद अपने डेटा को बरकरार रखता है, उसे नॉन वोलाटाइल के रूप में संदर्भित किया जाता है।	
eng hin	Storage that retains its data after the power is turned off is referred to as non-volatile storage. स्टोरेज जो बिजली बंद होने के बाद अपने डेटा को बरकरार रखता है, उसे नॉन वोलाटाइल के रूप में संदर्भित किया जाता है।	

Q-178

eng/eng

The individual dots that form the image on a monitor are called _____.
अलग से डॉट्स जो मॉनिटर पर छवि बनाते हैं, _____ कहलाते हैं

01.

bits

02.

bytes

03.

pixels

04.

picas

05.

pitens

Q-178

eng hin

The individual dots that form the image on a monitor are called _____.
अलग से डॉट्स जो मॉनिटर पर छवि बनाते हैं, _____ कहलाते हैं

01.

bits

02.

bytes

03.

pixels

04.

picas

05.

pitens

Solution for Question 178		Ans Key: 3
eng/eng	The individual dots that form the image on a monitor are called pixel अलग से डॉट्स जो मॉनिटर पर छवि बनाते हैं, पिक्सेल कहलाते हैं	
eng hin	The individual dots that form the image on a monitor are called pixel अलग से डॉट्स जो मॉनिटर पर छवि बनाते हैं, पिक्सेल कहलाते हैं	

Q-179

eng/eng

Example of non-numeric data is _____.
गैर-संख्यात्मक डेटा का उदाहरण _____ है।

01. Examination score
02. Bank balance
03. Employee Address
04. All of these
05. None of these

Q-179 Example of non-numeric data is _____.
eng hin गैर-संख्यात्मक डेटा का उदाहरण _____ है।

01. Examination score
02. Bank balance
03. Employee Address
04. All of these
05. None of these

Solution for Question 179 Ans Key: 3

eng/eng Example of non-numeric data is Employee Address.
गैर-संख्यात्मक डेटा का उदाहरण एम्प्लोयी का पता है।

eng hin Example of non-numeric data is Employee Address.
गैर-संख्यात्मक डेटा का उदाहरण एम्प्लोयी का पता है।

Q-180 What is included in an e-mail address?
eng/eng ई-मेल पते में क्या शामिल है?

01. Domain name followed by user's name
02. User's name followed by domain name
03. User's name followed by postal address
04. User's name followed by street address
05. None of these
इनमें से कोई नहीं

Q-180 What is included in an e-mail address?
eng hin ई-मेल पते में क्या शामिल है?

01. Domain name followed by user's name
02. User's name followed by domain name
03. User's name followed by postal address
04. User's name followed by street address
05. None of these
इनमें से कोई नहीं

Solution for Question 180 Ans Key: 2

eng/eng User's name followed by domain name included in an e-mail address
उपयोगकर्ता के नाम के बाद डोमेन का नाम ईमेल में शामिल होता है

eng hin User's name followed by domain name included in an e-mail address
उपयोगकर्ता के नाम के बाद डोमेन का नाम ईमेल में शामिल होता है

Q-181 Blaise Pascal has introduced _____.
eng/eng ब्लाइस पास्कल ने _____ पेश किया है।

01. Adding machine
02. Abacus
03. Calculator
04. Difference engine
05. None of these
इनमें से कोई नहीं

Q-181 Blaise Pascal has introduced _____.
eng hin ब्लाइस पास्कल ने _____ पेश किया है।

01. Adding machine
02. Abacus
03. Calculator
04. Difference engine
05. None of these
इनमें से कोई नहीं

Solution for Question 181 Ans Key: 1

eng hin Blaise Pascal has introduced adding machine
ब्लाइस पास्कल ने Adding Machine पेश किया है।

Q-182 _____ are symbols used to replace or represent one or more characters.
eng/eng _____ एक या अधिक वर्णों को बदलने या उनका प्रतिनिधित्व करने के लिए उपयोग किए जाने वाले प्रतीक होते हैं

How many generations of computers we have?
हमारे पास कितनी पीढ़ियों का कंप्यूटर है?

for Question 185

We have 5 generations of computers.
हमारे पास पाँच पीढ़ियों का कंप्यूटर है

for Question 186

1102 is not a binary number.
1102 बाइनरी संख्या नहीं है

for Question 187

02. Predicate

03. Boolean

05. None of these
इनमें से कोई नहीं

Q-188 To analyze an atomic statement, a logic called _____ logic is used.
eng hin अटॉमिक स्टेटमेंट का विश्लेषण करने के लिए, _____ लॉजिक नामक का उपयोग किया जाता है।

01. Propositional

02. Predicate

03. Boolean

04. All of these

05. None of these
इनमें से कोई नहीं

Solution for Question 188

Ans Key: 2

eng/eng To analyze an atomic statement, a logic called predicate logic is used.
अटॉमिक स्टेटमेंट के विश्लेषण करने के लिए, predicate नामक लॉजिक का उपयोग किया जाता है।

eng hin To analyze an atomic statement, a logic called predicate logic is used.
अटॉमिक स्टेटमेंट के विश्लेषण करने के लिए, predicate नामक लॉजिक का उपयोग किया जाता है।

Q-189 Computer read which type code?
eng/eng कंप्यूटर किस प्रकार का कोड पढ़ता है ?

01. Character

02. English letter

03. Binary code

04. Integer

05. None of these
इनमें से कोई नहीं

Q-189 Computer read which type code?
eng hin कंप्यूटर किस प्रकार का कोड पढ़ता है ?

01. Character

02. English letter

03. Binary code

04. Integer

05. None of these
इनमें से कोई नहीं

Solution for Question 189

Ans Key: 3

eng/eng Computer read Binary code
कंप्यूटर केवल बाइनरी कोड ही पढ़ता है

eng hin Computer read Binary code
कंप्यूटर केवल बाइनरी कोड ही पढ़ता है

Q-190 In recent years, people can approach government department or offices through internet the mechanism is known as _____.
eng/eng हाल के वर्षों में, लोग इंटरनेट के माध्यम से सरकारी विभाग या कार्यालयों से संपर्क कर सकते हैं, जिसे तंत्र _____ के रूप में जाना जाता है।

01. Internet Government

02. E-Governance

03. Web Government meeting

04. All of the above
उपरोक्त सभी

05. None of these
इनमें से कोई नहीं

Q-190 In recent years, people can approach government department or offices through internet the mechanism is known as _____.
eng hin हाल के वर्षों में, लोग इंटरनेट के माध्यम से सरकारी विभाग या कार्यालयों से संपर्क कर सकते हैं, जिसे तंत्र _____ के रूप में जाना जाता है।

01. Internet Government

02. E-Governance

03. Web Government meeting

04. All of the above
उपरोक्त सभी

05. None of these
इनमें से कोई नहीं

Solution for Question 190

Ans Key: 2

eng/eng In recent years, people can approach government department or offices through internet the mechanism is known as E Governance.
हाल के वर्षों में, लोग इंटरनेट के माध्यम से सरकारी विभाग या कार्यालयों से संपर्क कर सकते हैं, जिस तंत्र को ई गवर्नेंस के रूप में जाना जाता है।

eng hin In recent years, people can approach government department or offices through internet the mechanism is known as E Governance.
हाल के वर्षों में, लोग इंटरनेट के माध्यम से सरकारी विभाग या कार्यालयों से संपर्क कर सकते हैं, जिस तंत्र को ई गवर्नेंस के रूप में जाना जाता है।

Q-191 Bing is a (n) _____.
eng/eng बिंग एक _____ है।

01. Software

02. Search engine

03. Antivirus

04. Hardware

05. None of these
- इनमें से कोई नहीं

Q-191 Bing is a (n) _____.
eng hin बिंग एक _____ है।

01. Software

02. Search engine

03. Antivirus

04. Hardware

05. None of these
- इनमें से कोई नहीं

Solution for Question 191 Ans Key: 2

eng/eng	Bing is a(n) search engine. बिंग एक सर्च इंजन है।
eng hin	Bing is a(n) search engine. बिंग एक सर्च इंजन है।

Q-192 Charles Babbage designed the first mechanical computer named
eng/eng चार्ल्स बैबेज ने पहला मैकेनिकल कंप्यूटर नामित किया था

01. Analytical Engine

02. Processor

03. Comp Engine

04. Abacus

05. None of these
- इनमें से कोई नहीं

Q-192 Charles Babbage designed the first mechanical computer named
eng hin चार्ल्स बैबेज ने पहला मैकेनिकल कंप्यूटर नामित किया था

01. Analytical Engine

02. Processor

03. Comp Engine

04. Abacus

05. None of these
- इनमें से कोई नहीं

Solution for Question 192 Ans Key: 1

eng/eng	Charles Babbage designed the first mechanical computer named Analytical Engine. चार्ल्स बैबेज ने पहला मैकेनिकल कंप्यूटर Analytical Engine नामित किया था
eng hin	Charles Babbage designed the first mechanical computer named Analytical Engine. चार्ल्स बैबेज ने पहला मैकेनिकल कंप्यूटर Analytical Engine नामित किया था

Q-193 Which of the following places the common data elements in order from smallest to largest?
eng/eng निम्नलिखित में से कौन सा सबसे छोटे से सबसे बड़े तक सामान्य डेटा तत्वों को रखता है?

01. Character, field, record, file, database

02. Character, record, file, field, database

03. Character, record, file, database, field

04. Field, file, record, character, database

05. Field, record, file, character, database

Q-193 Which of the following places the common data elements in order from smallest to largest?
eng hin निम्नलिखित में से कौन सा सबसे छोटे से सबसे बड़े तक सामान्य डेटा तत्वों को रखता है?

01. Character, field, record, file, database

02. Character, record, file, field, database

03. Character, record, file, database, field

04. Field, file, record, character, database

05. Field, record, file, character, database

Solution for Question 193 Ans Key: 1

eng/eng	Common data elements in order from smallest to largest is Character, field, record, file, database सबसे छोटे से लेकर सबसे बड़े तक सामान्य डेटा तत्व कैरक्टर, फ़ील्ड, रिकॉर्ड, फ़ाइल, डेटाबेस होते हैं
eng hin	Common data elements in order from smallest to largest is Character, field, record, file, database सबसे छोटे से लेकर सबसे बड़े तक सामान्य डेटा तत्व कैरक्टर, फ़ील्ड, रिकॉर्ड, फ़ाइल, डेटाबेस होते हैं

Q-194 Normalization is a process of restructuring a relation to _____
eng/eng सामान्यीकरण एक संबंध के पुनर्गठन की एक प्रक्रिया है जिसमें _____

01. Maximize duplication of data to ensure reliability in

02. Minimize duplication of data in a database
03. Make it of uniform size

04. Allow addition of data
05. None of these
इनमें से कोई नहीं

Q-194 Normalization is a process of restructuring a relation to _____
eng hin सामान्यीकरण एक संबंध के पुनर्गठन की एक प्रक्रिया है जिसमें _____

01. Maximize duplication of data to ensure reliability in

02. Minimize duplication of data in a database
03. Make it of uniform size

04. Allow addition of data
05. None of these
इनमें से कोई नहीं

Solution for Question 194 Ans Key: 2

eng/eng	Normalization is a process of restructuring a relation to Minimize duplication of data in a database किसी डेटाबेस में डेटा का दोहराव कम से कम करना Normalization की प्रक्रिया कहलाती है
eng hin	Normalization is a process of restructuring a relation to Minimize duplication of data in a database किसी डेटाबेस में डेटा का दोहराव कम से कम करना Normalization की प्रक्रिया कहलाती है

Q-195 What is the Full Form of RPC?
eng/eng RPC का पूर्ण रूप क्या है?

01. Remotely Process Communication

02. Routine Procedure Call
03. Remote Processing Call

04. Remote Procedure Call
05. None of these
इनमें से कोई नहीं

Q-195 What is the Full Form of RPC?
eng hin RPC का पूर्ण रूप क्या है?

01. Remotely Process Communication

02. Routine Procedure Call
03. Remote Processing Call

04. Remote Procedure Call
05. None of these
इनमें से कोई नहीं

Solution for Question 195 Ans Key: 4

eng/eng	RPC: Remote Procedure Call
eng hin	RPC: Remote Procedure Call

Q-196 Which of the following is a language translation software?
eng/eng निम्नलिखित में से कौन सा एक भाषा अनुवाद सॉफ्टवेयर है?

01. Loader

02. Linker
03. Assembler

04. Windows
05. None of these
इनमें से कोई नहीं

Q-196 Which of the following is a language translation software?
eng hin निम्नलिखित में से कौन सा एक भाषा अनुवाद सॉफ्टवेयर है?

01. Loader

02. Linker
03. Assembler

04. Windows
05. None of these
इनमें से कोई नहीं

Solution for Question 196 Ans Key: 3

eng/eng	Assembler is a language translation software
----------------	--

असेंबलर एक भाषा अनुवाद सॉफ्टवेयर है

eng hin Assembler is a language translation software
असेंबलर एक भाषा अनुवाद सॉफ्टवेयर है

Q-197 What is the difference between a CD-ROM and a CD-RW?
eng/eng CD-ROM और CD-RW में क्या अंतर है?

01. A CD-ROM holds more information than a CD-RW
02. A CD-RW can be written to, but a CD-ROM can only be read from
03. A CD-ROM can be written to and a CD-RW cannot
04. They are the same -just two different terms used by different manufacturers
05. None of these
इनमें से कोई नहीं

Q-197 What is the difference between a CD-ROM and a CD-RW?
eng hin CD-ROM और CD-RW में क्या अंतर है?

01. A CD-ROM holds more information than a CD-RW
02. A CD-RW can be written to, but a CD-ROM can only be read from
03. A CD-ROM can be written to and a CD-RW cannot
04. They are the same -just two different terms used by different manufacturers
05. None of these
इनमें से कोई नहीं

Solution for Question 197

Ans Key: 2

eng/eng A CD-RW can be re written to, but a CD-ROM can only be read from
CD-RW से लिखा और पढ़ा जा सकता है, लेकिन CD-ROM से केवल पढ़ा जा सकता है

eng hin A CD-RW can be re written to, but a CD-ROM can only be read from
CD-RW से लिखा और पढ़ा जा सकता है, लेकिन CD-ROM से केवल पढ़ा जा सकता है

Q-198 Rahul has an e-card that he uses to access different parts of his company's R & D offices. What type of card is he using?
eng/eng राहुल के पास एक ई-कार्ड है जिसका उपयोग वह अपनी कंपनी के आरएंडडी कार्यालयों के विभिन्न हिस्सों में जाने के लिए उपयोग करता है वह किस प्रकार के कार्ड का उपयोग कर रहा है?

01. Credit card
02. Purchase card
03. Smart card
04. TV card
05. None of these
इनमें से कोई नहीं

Q-198 Rahul has an e-card that he uses to access different parts of his company's R & D offices. What type of card is he using?
eng hin राहुल के पास एक ई-कार्ड है जिसका उपयोग वह अपनी कंपनी के आरएंडडी कार्यालयों के विभिन्न हिस्सों में जाने के लिए उपयोग करता है वह किस प्रकार के कार्ड का उपयोग कर रहा है?

01. Credit card
02. Purchase card
03. Smart card
04. TV card
05. None of these
इनमें से कोई नहीं

Solution for Question 198

Ans Key: 3

eng/eng Rahul has an e-card that he uses to access different parts of his company's R & D offices. He is using a Smart card
राहुल के पास एक ई-कार्ड है जिसका उपयोग वह अपनी कंपनी के आरएंडडी कार्यालयों के विभिन्न हिस्सों का उपयोग करने के लिए करता है। वह स्मार्ट कार्ड का उपयोग करता है

eng hin Rahul has an e-card that he uses to access different parts of his company's R & D offices. He is using a Smart card
राहुल के पास एक ई-कार्ड है जिसका उपयोग वह अपनी कंपनी के आरएंडडी कार्यालयों के विभिन्न हिस्सों का उपयोग करने के लिए करता है। वह स्मार्ट कार्ड का उपयोग करता है

Q-199 Inventor of C++ is _____.
eng/eng C ++ का आविष्कारक _____ है।

01. Martin Cooper
03. Charles Babbage
05. None of these
इनमें से कोई नहीं

02. Vint Cerf
04. Bjarne Stroustrup

Q-199 Inventor of C++ is _____.
C ++ का आविष्कारक _____ है।

01. Martin Cooper
03. Charles Babbage
05. None of these
इनमें से कोई नहीं

02. Vint Cerf
04. Bjarne Stroustrup

Solution for Question 199

Ans Key: 4

eng/eng Inventor of C++ is Bjarne Stroustrup
C ++ का आविष्कारक Bjarne Stroustrup है।

eng hin Inventor of C++ is Bjarne Stroustrup
C ++ का आविष्कारक Bjarne Stroustrup है।

Q-200 The term CRM means _____.
eng/eng CRM का पूर्ण रूप क्या होता है

01. Channel Related Marketing
03. Customer Retention Manager
05. Channel Root Market

02. Customer's Relative Meet
04. Customer Relationship Management

Q-200 The term CRM means _____.
eng hin CRM का पूर्ण रूप क्या होता है

01. Channel Related Marketing
03. Customer Retention Manager
05. Channel Root Market

02. Customer's Relative Meet
04. Customer Relationship Management

Solution for Question 200

Ans Key: 4

eng/eng CRM: Customer Relationship Management

eng hin CRM: Customer Relationship Management